

2015 年下半年全国事业单位联考 A 类《职业能力倾向测验》真题

一、常识判断，根据题目要求，在四个选项中选出一个最恰当的答案。

1

关于我国民族区域自治，下列说法不正确的是：

- A、西藏自治区是最晚成立的民族自治区
- B、民族自治地方分为自治区、自治州、自治县三级
- C、一个民族自治的地方，可以以几个少数民族聚居区为基础建立
- D、民族自治地方的自治机关是自治地方的人民代表大会及常务委员会

2

对下列危害道路交通安全行为的处罚，符合相关法律规定的是：

- A、陆某和张某在马路上飙车，被判有期徒刑
- B、周女士饮酒后开汽车回家，驾照被暂扣三个月，并被处罚 2000 元
- C、出租车司机刘师傅酒醉后继续开车载客，被吊销驾照并追究刑事责任
- D、朱先生开车时造成重大交通事故，被吊销驾照，并终生不得取得新驾照

3

关于我国劳务派遣用工方式，下列说法错误的是：

- A、被派遣劳动者与实际用工单位之间不存在劳动关系
- B、经营劳务派遣业务，应当向劳动行政部门依法申请行政许可
- C、劳动派遣用工只能在临时性、辅助性、或者替代性的工作岗位上实施
- D、被派遣劳动者应在劳动派遣单位参加工会，不能在实际用工单位参加工会

4

下列哪种情形中，用人单位提前三十日以书面形式通知劳动者本人后，即可解除劳动合同？

- A、劳动者患病，医疗期满后，不能从事工作的
- B、劳动者不能胜任工作，经过培训和调整工作岗位后，仍不能胜任工作的
- C、劳动者在哺乳期内，不能从事原工作也不能从事由用人单位另行安排工作的
- D、劳动合同订立时所依据的客观情况发生重大变化，致使原劳动合同无法履行的

5

关于传统文化，下列对应错误的是：

- A、五音：宫、商、角、徵、羽
- B、六艺：礼、乐、射、御、书、数
- C、六书：象形、指事、会意、形声、转注、假借
- D、五经：《诗经》、《尚书》、《礼记》、《易经》、《论语》

6

下列诗句与节日对应有误的是：

- A、风雨梨花寒食过，几家坟上子孙来——清明节
- B、不效艾符趋习俗，但祈蒲酒话升平——端午节
- C、今日登高樽酒里，不知能有菊花无——中秋节
- D、风雨夜深人散尽，孤灯犹唤卖汤元——元宵节

7

以下哪个不是秦始皇执政期间发生的事件？

- A、罢黜百家
- B、焚书坑儒
- C、统一货币

D、修筑长城

8

下列哪项与中国古代四大名著无关？

A、的卢马

B、冷香丸

C、西窗烛

D、狮驼岭

9

关于我国著名的古都，下列说法不正确的是：

A、北京曾是金代的都城

B、南京是历史上已知最早的都城

C、隋唐时所说的“东郡”指的是洛阳

D、“直把杭州作汴州”中的“汴州”是指开封

10

俗话说“药补不如食补”，关于食品对于人体所需元素的补充，下列对应错误的是：

A、鸡蛋——硒

B、海带——碘

C、大豆——磷

D、菠菜——钙

11

根据形成原因，岩石可分为哪三大类？

A、碳酸盐岩、石灰岩、变质岩

B、白云岩、岩浆岩、沉积岩

C、岩浆岩、沉积岩、变质岩

D、石灰岩、白云岩、碳酸盐岩

12

关于中国的铁路，下列说法错误的是：

A、粤海铁路是跨海铁路

B、陇海铁路沿线多为沙漠

C、包兰铁路大致为东西走向

D、大秦铁路是西煤东运的主要通道

13

哥伦布在发现新大陆的航行中，可能做过下列哪件事？

A、使用指南针

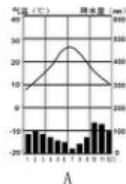
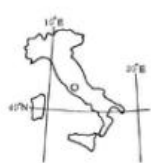
B、用瓦特改良的蒸汽机做动力

C、读莎士比亚的作品

D、用天文望远镜观测夜空

14

下列哪项与左图代表的国家没有直接关系？



$$E=mc^2$$

D

A、A

B、B

C、C

D、D

15

某南美国家与下列四个关键词都相关：①双人舞蹈探戈，②足球世界杯冠军，③马岛海战，④多党制，则该国是：

A、墨西哥

B、巴西

C、阿根廷

D、巴拉圭

16

领土面积居世界前四位的国家依次是：

A、俄罗斯、加拿大、中国、美国

B、俄罗斯、中国、美国、加拿大

C、美国、中国、俄罗斯、加拿大

D、加拿大、俄罗斯、中国、美国

17

下列哪种情况不属于外来物种入侵？

A、法国水族馆引进的绿藻通过释放孢子，成为当地海洋生态系统中的优势种群

B、被人们“做善事”放生的宠物巴西龟在当地野化后大量繁殖

C、我国南方作为猪饲料引种的空心莲子草在若干年后逸为野生

D、每年春夏之交成年湟鱼从青海湖洄游到淡水河中产卵

18

关于电影常识，下列说法错误的是：

A、“回归”三部曲是指《海上钢琴师》、《西西里的美丽传说》、《天堂电影院》

B、《摩登时代》是好莱坞由默片时代过渡到有声电影时代的经典影片

C、奥黛丽·赫本因《罗马假日》获得奥斯卡最佳女主角奖

D、斯皮尔伯格曾导演过《侏罗纪公园》

19

关于体育比赛，下列说法错误的是：

A、铁人三项包括铁饼、公路自行车和公路长跑

B、田径比赛是田赛、径赛和全能比赛的统称

C、某些竞走项目的比赛距离比马拉松赛长

D、径赛项目需要用计时器来记取比分

20

关于家用电器的电源插头，下列说法不正确的是：

A、电视机使用二桩头的电源插头，是因为电视机的功率比较小

B、如果强行去掉地线桩头，一旦电器漏电，接触者会受到电击

C、三桩头中地线桩头比较长，这样可以保证先接通地线，后接通电源

D、二桩头的电源插头在桩头附近没有任何标志，插入插座时无需区分方向

二、言语理解与表达，本部分包括表达与理解两方面的内容，请根据题目要求，在四个选项中选出一个最恰当的答案。

21

在我国，核工业为国民经济的发展做出了重要贡献，我们不能因为日本发生福岛核电事故而_____，停止对和平利用核能的探索。

- A、听天由命
- B、因噎废食
- C、患得患失
- D、杞人忧天

22

针对清王朝的人才禁锢政策，龚自珍提出了“不拘一格”选拔人才的观点。对当时腐朽黑暗的封建专制和_____的思想界而言，龚自珍的响亮呐喊，简直就是_____的狂言，它就像一声炸雷、一阵疾风，催人警醒，给人力量。

- A、枯燥 不可一世
- B、封闭 耸人听闻
- C、僵化 如雷贯耳
- D、沉闷 惊世骇俗

23

伴随着经济全球化的演进，越来越多的新兴国家加入了全球竞争。与欧洲国家相比，这些国家的劳动力价格相对便宜，_____因此吸引了大量的_____，很多欧洲国家的企业将工厂开到这些地区，这就无形中造成了欧洲国家失业状况的加剧。工人失业，创造财富的机会减少，进入社会经济体系，分享财富的人增加，使一些欧洲福利国家_____。

- A、投资 不堪负重
- B、人才 捉襟见肘
- C、企业 顾此失彼
- D、关注 黔驴技穷

24

坐在那里等条件，其实是懒惰思想在作怪，遇事推脱、消极怠工，工作_____；同时，也是畏难情绪在作怪，害怕失败，害怕承担责任。如果总以这样的心态面对人生，则可能_____。

- A、循规蹈矩 劳而无功
- B、推三阻四 一败涂地
- C、安于现状 一事无成
- D、按部就班 一蹶不振

25

对一个组织来说，各个组成部分往往是_____的，而劣质的部分往往决定了整个组织的水平，为了发挥组织的_____作用，释放它的潜力，就必须弥补薄弱环节，使组织能够在市场竞争中处于不败之地。

- A、参差不齐 整体
- B、优劣参半 积极
- C、休戚与共 核心
- D、一脉相承 凝聚

26

我们鼓励社会阶层自然分化，让不同阶层_____，我们也鼓励鲤鱼跳龙门，但也应该看到能跃过龙门的“鲤鱼”毕竟是少数，这就需要构建更加公平正义的社会选择机制、甄别机制，只要是锥子，就可以冒出头，当然你也可以_____，让自己冒出头。

- A、各得其所 毛遂自荐
- B、各行其是 脱颖而出
- C、各取所需 首当其冲

D、各司其职 锋芒毕露

27

做学问，“要大处着眼，小处下手”。由博入专，不可急功近利，能大处着眼，为学方不致流于_____，而有裨益于世；能小处下手，方不致流于_____，所以做学问千万不要求速效。

A、狭隘 口号

B、烦琐 空谈

C、表面 形式

D、平庸 俗套

28

当下，媒介发展一日千里，如何认识媒体，对待媒体，已成为执政者执政素养_____的部分，尤其随着互联网的崛起，跨入社交媒体时代，网络的去中心化、去权威化和参与性、互动性的增强，极大地_____了媒体环境，适应这样一个全新的媒体时代，理应成为必备的执政能力。

A、迫在眉睫 异化

B、至关重要 丰富

C、举足轻重 强化

D、不可或缺 改变

29

改革开放以来，文学创作成就不菲，但缺乏_____、影响深远的力作。今天的文坛不能说不繁荣，然而繁荣也_____不住其中的“虚荣”成分——虚假的繁荣。

A、千锤百炼 遮挡

B、入木三分 掩饰

C、力透纸背 掩盖

D、匠心独具 遮蔽

30

平日里你看一些人唱歌，那是为发自内心的热爱而唱歌，她的欢愉和陶醉写在脸上，融在歌声里，_____着听到的人，而另一些人，拿腔拿调，从技术上来说难以_____，可就是感觉那声音没有生命，因为唱歌的人自己没有感动，他只是想_____自己的嗓音和技巧而已。

A、感染 挑剔 炫耀

B、影响 超越 显示

C、打动 描述 展示

D、陶醉 评价 卖弄

31

做好科学传播，需要科学工作者具有一定的媒介素养，任何科学只要涉及到公共，就需要尊重公众的意见。当今世界，许多科学研究发现会被用来支持公共政策，这增加了公众的风险，关涉公共利益。科学工作者和相关部门就必须向公众做出解释，必须满足公众的知情权。而且，科学研究经费来源于公众纳税，科学工作者也有责任向公众进行科学传播，以获得后者的理解或支持。向公众解释科学研究，不是科学工作者可选的自由，而是一种必须承担的责任。

这段文字意在说明：

A、科学工作者的媒介素养有待进一步提高

B、科学工作者有向公众传播科学的义务

C、科学研究与公众的生活息息相关

D、合理的公共政策应建立在科学研究的基础上

32

知识岗位与工业岗位之间存在极大的不同，因为想象力的迸发需要时间，知识型的工作者在短期内很难取得成果，但他们的工作一旦取得突破，就能让生产力大幅度提高，所以以论文或者其他指标为考核标准的计件工资不适合这些人。因为思想不能像开关一样随意调控，知识型工作者也没有明确的上下班时间。因此低水平的计时工资也不适合这些人，但遗憾的是，这些问题还没有得到足够的重视，也没有得到有效解决。

这段文字主要说明了：

- A、知识型人才需要得到长期的经济支持
- B、高素养人才是创新型经济的重要依托
- C、对知识型工作者的考核方式并不合理
- D、知识型人才与其他人才有很大的不同

33

上海租界中石库门建筑的产生，缘于战争。战争迫使长江流域的富人乃至平民涌向上海租界，人数激增，使得租界中的筒屋应运而生，所谓筒屋，材料上用的全是木头，形式上采用了西方住宅的毗连形式。因木板结构容易着火，为了租界的长治久安，工部局将筒屋大量拆除，而在 1870 年前后，上海开始建造里弄住宅，第一代石库门由此出现。

根据这段文字，接下来最有可能讲述的是：

- A、里弄住宅的历史记载
- B、早期石库门的建筑特点
- C、战争与石库门产生的渊源
- D、石库门住户的社会地位

34

亚马逊公司推出一项新的版税规定，将对作家们的收入方式产生巨大影响。从 7 月开始，亚马逊旗下的电子图书作家将按照读者阅读的页数和时长领取版税。如果某本电子书无人问津，该作家的收入将受严重影响。亚马逊希望新的规定能更好地将读者的阅读兴趣和作家的创作动力关联起来。为了防止作弊，还将会考量读者在某一图书页面上的停留时间，如果是快速翻页，可能不会计算为有效阅读页数。

根据这段文字，可以推出：

- A、新规定将会加快图书行业的优胜劣汰
- B、新规定有可能带来读者量的大幅增长
- C、作家将对亚马逊公司产生更大的依赖性
- D、电子图书作家将更多地迎合读者的口味

35

当一种关注度热、期待性高、专业性强且被贴上全民利益标签的环境民事公益诉讼案件，日渐成为法院审判工作的新挑战之时，进行各种尝试及机制创新就成为应对复杂环境法治局面的必由之路，特别是如何逾越法官“隔行如隔山”的知识性短板实现裁判的准确高效，就是体制机制创新的核心。

这段文字告诉我们：

- A、环境诉讼案件的审判需要更高的专业素养
- B、法官必须不断完善其知识体系
- C、司法部门体制机制创新成效显著
- D、法院审判工作应通过创新应对挑战

36

在原始社会，人类不断受到野兽的侵袭和自然灾害的威胁，为了保护自己，都住在山洞里。原始人懂得，如果身处空旷的荒野中，就有被猛兽攻击的危险，而在较为狭窄的山洞里猛兽就不可能从四面八方来袭，使他们防不胜防。山洞成为原始人的天然“保护所”。这种“山洞安全感”随着人类的进化，一直隐伏在人的潜意识之中，并演化成了“狭窄空间”安全感。

下列说法与这段文字相符的是：

- A、原始人为求得生存会首先满足安全的需求
- B、“山洞”与“狭窄空间”给人相似的心里感受
- C、通过狭窄空间获得安全感是所有动物的本能
- D、现代人有许多行为方式和心理现象都源自古人类

37

当前，国际金融危机仍在持续蔓延，这场危机对全球实体经济的冲击日益明显，不少国家经济陷入衰退，社会稳定面临巨大挑战，世界经济秩序发生重大变化已成定局。_____，其始作俑者就是过去30多年以来被称为“新自由主义”、“经济自由主义”、“经济原教旨主义”、“撒切尔主义”或“华盛顿共识”的意识形态主导的资本主义发展的理论与政策。

填入画横线部分最恰当的一句是：

- A、这场危机其实来的并不偶然
- B、市场机制的确是一只“看不见的手”
- C、新自由主义的核心主张是最大程度自由化
- D、这也许要归咎于美国积极打造“美元强势”

38

- ①现在许多机关单位人事管理水平还停留在纸介质的基础上
- ②随着计算机技术、网络技术和信息技术的发展，现在办公系统更趋于系统化、科学化和网络化
- ③它的主要目的是实现信息交流和信息共享，提供协同工作的手段，提高办公的效率，让人们从繁琐的有纸办公中解脱出来

- ④这样的机制已经不能适应时代的发展，因为它浪费了许多的人力和物力
 - ⑤网络办公自动化系统是计算机技术和网络迅速发展的一个办公应用解决方案
 - ⑥在信息时代，这种传统的管理方式必然被计算机为基础的信息管理所取代
- 将以上6个句子重新排列，语序正确的是()。

- A、②⑤③①④⑥
- B、②⑤①③⑥④
- C、⑤③②⑥①④
- D、⑤①④⑥③②

39

- ①有人调侃，“互联网是个筐，什么都能往里装”
- ②从“云计算”到“物联网”，从“大数据”到“工业4.0”，一个个耳熟能详的流行热词背后，蕴藏着互联网给予人类的巨大能量与无穷的想象空间

- ③“网络改变生活”并非一句空洞的广告语，它是已发生且仍将继续发酵的生动现实
 - ④但如果仅仅是巧借互联网为概念或噱头，用互联网的“新瓶”去包装传统模式的“旧酒”
 - ⑤即便可能风光一时，也只会错失提升竞争力的难得机遇，最终被市场和消费者快速抛弃
- 将以上5个句子重新排列，语序正确的是：

- A、②①④③⑤
- B、③④①②⑤
- C、①③④⑤②
- D、①③②④⑤

40

业内人士指出，限定最大客流量的方式对于景区环境的保护和游客旅游体验的提升均有积极意义，然而，由于缺乏权威的指标体系和测算方法，当前多以历史最大安全接待量作为限定客流量的判断标准，科学性和有效性均有待提高。专家指出，应从制度上明确景区承载量和游客人数的计算标准，在分类研究的基础上，双向

构建景区最大承载量测算模型，其中，山岳型景区的最大承载量建议采用“线路容量法”进行核定，世界文化遗产地的最大承载量建议采用“面积容量法”进行核定，从而缓解当前这两类景区的游客超载压力。

这段文字意在强调：

- A、当前景区最大承载量的统计标准不科学
- B、限定最大客流量对景区保护有重要意义
- C、缓解景区超载压力需作最大承载量的分类研究
- D、需要从制度上明确限定最大客流量的计算标准

三、数量关系，在这部分试题中，每道题呈现一段表述数字关系的文字，要求你迅速，准确地计算出来答案。

41

某款服装降价促销后，每天销量翻倍，获得的总利润增加 50%，问每套服装降价的金额为：

- A、销售的 $\frac{1}{4}$
- B、销售价的 $\frac{1}{8}$
- C、利润额的 $\frac{1}{2}$
- D、利润的 $\frac{1}{4}$

42

甲、乙、丙、丁四个工厂共有 100 名高级技工。其中甲乙两个工厂的高级技工数量比为 12:25，丙工厂的高级技工人数比丁工厂少 4 人，问丁工厂的高级技工人数比甲工厂：

- A、多 6 人
- B、少 6 人
- C、多 9 人
- D、少 9 人

43

某公司有 38 名男员工，27 名女员工。现要参加集团组织的羽毛球比赛，如采取自由报名的形式，至少有多少名员工报名才能保证一定能从报名者中选出男女选手各 8 名参赛？

- A、65
- B、46
- C、35
- D、16

44

王大妈在市场承包了一个摊位卖水果，一天收摊后清点钱数时，王大妈发现手上有 100 元、50 元和 10 元的钞票共 48 张，合计 1760 元，其中 50 元比 10 元多两张，问 100 元有多少张？

- A、8
- B、6
- C、4
- D、2

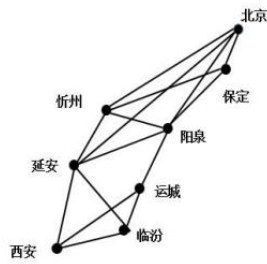
45

将白、蓝、红三种颜色的背包装到纸箱里，每个纸箱里放 5 个背包，颜色任意，质监部门需要对产品进行拆箱检查，问至少选多少个纸箱，才能保证一定有两个纸箱里三种颜色的背包数量都一致？

- A、20
- B、19
- C、22
- D、21

46

某人决定从西安到北京自驾游，可供他选择的道路如下图所示，如果他每次只能由西南到东北方向行驶，则他到北京有多少种不同的行驶路线？



- A、8
 - B、9
 - C、10
 - D、11
- 47

火车 A 过隧道，从车头进入隧道到车尾离开隧道共用时 60 秒，随后与迎面开来的另一辆火车 B 相遇，两车速度相同，火车 B 的长度是 A 的 1.5 倍，两车从车头相遇到车尾分开共用时 5 秒，问火车 B 从车尾进入隧道到车头离开隧道，要用时多少秒？

- A、50
 - B、52
 - C、54
 - D、55
- 48

专家对一批刚出土的古代钱币进行鉴定，星期一鉴定了总数的 35%，星期二和星期三分别鉴定了前一天剩下的 $\frac{5}{12}$ 和 $\frac{4}{7}$ ，星期四鉴定完了所有剩下的钱币，问这批钱币至少有多少个？

- A、240
 - B、420
 - C、840
 - D、1200
- 49

一场球赛共有 3 局，第一局结束后有 20% 的观众离场，第二局结束之后，剩下的观众中离场的比例比第一局结束时高出 5 个百分点，此时剩下的观众人数为 600 人，问球赛开始时有多少名观众？

- A、900
 - B、1000
 - C、1100
 - D、1200
- 50

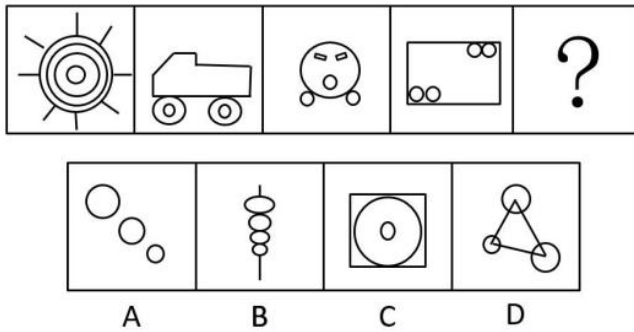
A 和 B 两家公司的年营业额相同，其中 A 公司的利润额为全年营业额的 $\frac{1}{10}$ ，B 公司每个月的支出比 A 公司高 100 万元，其当年的亏损额为 600 万元，问 A 公司全年的营业额为多少万元？

- A、6000
- B、5000
- C、4000
- D、3000

四、判断推理，本部分包括图形推理、定义判断、类比推理和逻辑判断四种类型的试题，在四个选项中选出一个最恰当的答案。

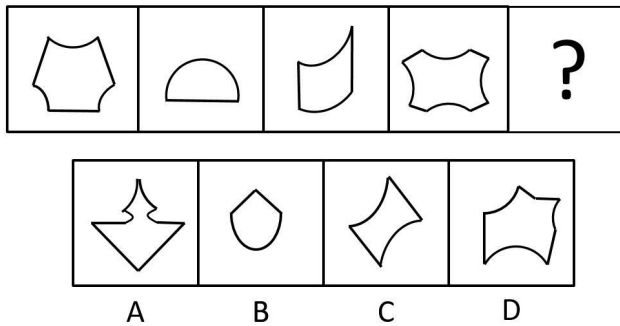
51

请从所给的四个选项中选择最合适的一个填入问号处，使之呈现一定的规律。




52

请从所给的四个选项中选择最合适的一个填入问号处，使之呈现一定的规律。



53


请从所给的四个选项中选择最合适的一个填入问号处，使之呈现一定的规律。



- A、A
B、B
C、C
D、D

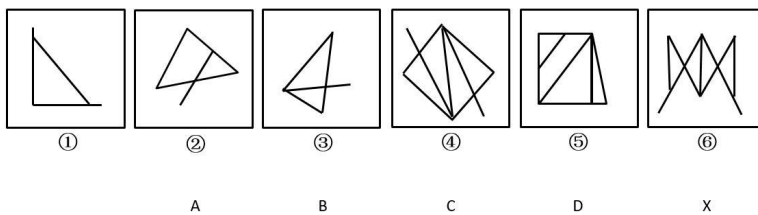
54

请从所给的四个选项中选择最合适的一个填入问号处，使之呈现一定的规律。



55

A、B、C、D 中哪个与 X 图形互换位置后，新的六个图形序列能形成一定得规律？



56

划分指的是把概念所反映的对象分为若干既不相交、也不遗漏的小类，来揭示这个概念所反映的对象，从而明确概念的方法。

根据上述定义，以下哪项中的划分是正确的？

- A、《诗经》中的作品包括“风”、“雅”和“颂”
B、颜色可分为赤、橙、黄、绿、青、蓝、紫
C、文学作品包括小说、诗歌、散文、戏剧、舞蹈和绘画等
D、大学专业包括文科专业、应用型专业和非应用型专业等

57

生物节律是一种生物内在的、复杂而精细的生理调节系统，它使动植物得以根据外界环境的周期性变化来协调自身新陈代谢及各种生理过程，从而与环境保持同步。

根据上述定义，下列哪项不属于生物节律的范畴？

- A、银汉鱼只在涨潮时在岸上产卵
B、蜜蜂通过比较太阳与自身的位置关系来辨别方向
C、蒲公英每天以半小时为周期绽放、凋落
D、散客乘飞机到国外需要休息一两天倒时差

58

亲社会行为泛指一切符合社会期望而对他人，群体或社会有益的行为，其特征表现为高社会赞许性、自利性、利他性和互惠性。亲社会行为不仅使个体能够获得来自社会的、他人的和自我的奖励，而且能够避免来自社会的他人的和自我的惩罚。

根据上述定义，以下不属于亲社会行为的是：

- A、小王为了得到朋友称赞，总是积极参加慈善团体的志愿者服务
- B、大雪之后，小张只扫除了自己家门外的车道和人行道上的积雪
- C、小张被老板克扣工资，同事小胡答应帮他拿公司的钢材去卖了弥补
- D、小李非常节俭，总是把废品分类，并把能够卖掉的拿去卖钱

59

纵向研究是指在很长一段时间内（可能是几十年）定期对被试者进行研究，通过长时间对被试者的研究，研究者可以调查到与某种异常的发生相关联的事件，并从中辨认出预测此种异常发展的相关因素。

根据上述定义，下列属于纵向研究的是：

- A、通过自 1962 年起追踪研究一群母亲患精神分裂的儿童发现，这些儿童患精神分裂症的风险比其他儿童大，从而认为，母亲患精神分裂症可以一定程度上预测孩子患此种疾病。
- B、通过大量观察经常去酒吧喝酒的人发现，他们比一般人更容易与人发生争执和冲突，从而认为，体内酒精含量在一定程度上可以预测供给性行为
- C、通过与抑郁症患者长期谈话发现，消极思维可能引起抑郁症，但也有可能刚好相反——抑郁导致了消极思维
- D、在对青少年酒精成瘾的众多相关因素（如家族史、学业成就、对饮酒的态度等）的大量调查分析者，研究者发现，对饮酒的态度与青少年酒精成瘾的相关性最高

60

职能治疗是指借助有目的性的活动来治疗或协助生理、心理或社会功能有障碍的人，使他们能够获得最大的生活独立性。

根据上述定义，下列属于职能治疗的是：

- A、机构养老越来越多地替代居家养老，可以使老年人充分参与社交活动，有利于身心健康
- B、某医院的老年病房除了常规的医学治疗外，还开展各种活动以增强患者的自理能力
- C、延长某些职业的退休年龄可以使部分老年人经济独立，在工作中延缓衰老
- D、某社区定期将空巢老人聚在一起举行各种活动，使这些老人逐步走出了空虚寂寞的阴影

61

业绩关系指的是人们由职业或行业活动需要而结成的人际关系，是人们在相同、相近或相关的职业、专业之间发生和建立的一种社会关系。

根据上述定义，以下哪项中涉及的主要是业绩关系？

- A、张大妈和杨大嫂在黑潭寺进香礼佛时经常相遇，渐渐她们之间无话不谈
- B、成敏和成佳是通过续家谱而认识的远亲，后来她们经常互相帮助
- C、在一个大学工作的老程和小夏在同乡会上认识之后关系越走越近
- D、王冰和李红是同事，因为共同竞争公司副总而关系紧张

62

彼得原理指的是在通常层级中，在一个岗位工作出色的职员往往会被提拔到上一层级的岗位上，直到他被提拔到一个不能胜任的岗位为止，即每一个职员都有可能晋升到不能胜任的层级。

根据上述定义，下列体现彼得原理的是：

- A、一个长期做不出科研成果的研究人员被安排到行政岗位上之后，做的有声有色
- B、神枪手小赵因屡立战功从战士一路被提拔为连长后，不知道怎么指挥队伍
- C、从知名商学院毕业后的小李进入家庭企业担任高层职务，因缺乏经验多次决策失误
- D、外企管理层老陈跳槽到某民企任高管，因做事风格独特无法得到下属的认可

63

预期社会化，是一种指向未来角色的社会学过程，人们要学习的不是现在要扮演的角色，而是将来要扮演的角色。

根据上述定义，下列属于预期社会化的是：

- A、为了能出国读大学，中学生小李努力学习英语准备托福考试
- B、初为人母的小张开始学习给婴儿喂奶、洗澡、换尿布等
- C、为了更好的适应今后的生活，退休后的老赵开始学习太极拳和书法
- D、小明的理想是当一名厨师，刚上初中就开始钻研菜谱

64

科学学又称“科学的科学”，是研究科学和科学活动的发展规律及其社会影响的一门综合性新学科。理论科学学指的是以科学的性质、结构、功能、方法、发展规律为研究对象的科学学。应用科学学指的是以科学和科学活动的经济效益、组织管理、心理现象、行为规范、语言符号等为研究对象的科学学。

根据上述定义，以下哪项属于应用科学学？

- A、科学哲学
- B、科学思想史
- C、科学理论学
- D、科学方法论

65

差异性市场营销指的是面对已经细分的市场，企业选择两个或两个以上的子市场作为市场目标，分别对每个子市场提供针对性的产品和服务以及相应的销售措施。企业根据子市场的特点，分别制定产品策略、价格策略、分销策略以及促销策略并予以实施。

根据上述定义，下列哪项属于差异性市场营销？

- A、某快捷酒店的休息阅览区既有双人座，也有单人座；既有单纯书刊阅读的座位，还有提供网络查询的座位
- B、某公司针对市场生产出 11 个品牌的洗衣粉，既有强力去污但价格较高的，也有去污较强但价格适中的，还有物美价廉的
- C、在北京某尾货市场，既有大量的服装摊位，也有不少办公用品摊位，甚至还有各种电器厂家在此直销
- D、现在的年轻人对于手提电脑有着不同的需求，有些人喜欢经典品牌，有些人喜欢高配置的，还有一部分人喜欢玩新潮

66

蚕蛹：飞蛾

- A、种子：果实
- B、小鸭：天鹅
- C、胎儿：婴儿
- D、蝌蚪：青蛙

67

铠甲：士兵

- A、专利：发明者
- B、图书馆：文献
- C、工会：员工
- D、卧底：睡眠

68

初试：复试：笔试

- A、体检：审查：考察

- B、招聘：应聘：录用
- C、口语：听力：阅读
- D、半决赛：决赛：淘汰赛

69

进步：变化：倒退

- A、恒星：星体：行星
- B、多云：天气：下雨
- C、打针：治疗：吃药
- D、真理：认识：谬误

70

橡胶：轮胎：汽车

- A、玻璃：水杯：容器
- B、塑料：键盘：电脑
- C、木材：纸笔：课本
- D、线丝：衣架：阳台

71

上午：下午：夜晚

- A、秒：分：时
- B、有理数：无理数：实数
- C、青年：中年：老年
- D、正常：非正常：状态

72

工作量：工作效率：工作时间

- A、速度：路程：时间
- B、质量：密度：体积
- C、利润：总收入：成本
- D、工人制造价值：工人工资：剩余价值

73

奏折：公文：官吏

- A、里弄：胡同：街道
- B、学堂：书院：教授
- C、绝句：诗歌：诗人
- D、庙宇：住宅：僧人

74

() 对于入学相当于驾照对于 ()

- A、学生 司机
- B、通知书 开车
- C、课堂 培训
- D、迟到 违章

75

() 对于蓝牙耳机相当于电话对于 ()

- A、手机 无线电话
- B、喇叭 移动电话
- C、耳机 手摇电话

D、听筒 电话话筒

76

生活中有一些人会去反复检查门窗确保安全，反复洗手以保持干净等。他们明知这是不合理的，但不得不做，重复这种无意义的动作并为此耗费大量时间，这种病症被称为强迫症。晓晓每天反复洗手的次数是一般人的 30 倍，可据此认为，晓晓患了强迫症。

以下哪项如果为真，最能质疑上述结论？

- A、晓晓的工作决定它需要保持双手清洁
- B、晓晓家人的洗手次数多于普通人
- C、晓晓洗手时并没有感到痛苦烦恼
- D、晓晓曾经忘记检查门窗，结果家中被盗

77

目前，是否应该提升水价成为人们热议的问题，有学者认为水价应该上涨，其原因有两个。一是提升水价有利于节约用水。价格提高了，人们自然会节约成本。二是有利于水质的提升，虽然价格上去了，但是如果水质相应提升，可以达到纯净水的水质，对于大家来说，相当于购买纯净水。水质提升是需要成本的，因此水价上涨是可以接受的。

以下哪项如果为真，不能反驳该学者的论证？

- A、基础资源提价的最终结果只能是百姓受损和通货膨胀
- B、节水观念深入人心才是实现节约用水的根本途径
- C、在现有的涨价幅度内还无法使水达到纯净水的水质
- D、提升的水价实际上只占人们生活支出的很小一部分

78

多年来，科学家通常认为，近视在很大程度上是源于基因。然而，最近一项针对视力正常的 8-9 岁儿童的追踪研究显示，5 年之后，唯一和儿童患近视呈显著相关的环境因素是儿童在户外待的时间，在户外时间较少的儿童患上近视的风险较高。由此研究者提出：在室内待的时间太长会增加儿童患近视的风险，多在室外活动有助于预防近视。

以下各项如果为真，哪项最能驳斥研究者的观点？

- A、在室内，眼球要努力将近距离图像聚焦在视网膜上，长期室内活动会影响眼球的生长，户外更远的视觉距离会防止近视的发生
- B、动物实验表明，和正常的室内光线相比，与户外光线相当的高照明度使实验导致的近视发生率减少了约 60%
- C、人们的估算通常无法与儿童在户外待的实际时间准确匹配
- D、随着年龄增长，儿童花在读书、学习或盯着电脑屏幕上的时间越来越多

79

有研究认为，赤潮是近岸海水受到有机物污染所致，当含有大量有机物的生活污水，工业废水和农业废水流入海洋后，赤潮生物便会急剧繁殖起来，从而形成赤潮。因此有人认为，只要限制有机物污染海水，就可以有效减少赤潮。

以下哪项如果为真，最能削弱上述论证？

- A、某些地区的海水从未出现过赤潮
- B、全球气候变暖也是引发赤潮的原因
- C、赤潮生物在海水中的密度呈动态变化
- D、有机物是生命产生的物质基础，所有生命体都含有有机化合物

80

某公司成立了篮球、足球和乒乓球三个业余活动小组，甲、乙、丙均报名参加。三人在不同的小组，且每人只参加了一组，对于他们参加业余活动小组的情况，有如下三种猜测：

- (1) 甲参加了篮球组，乙参加了足球组。
- (2) 丙没参加足球组，乙参加了篮球组。
- (3) 甲没参加篮球组，乙参加了乒乓球组。

如果上述三种猜测都只对了一半，则甲、乙、丙分别参加的是：

- A、乒乓球组、足球组和篮球组
- B、足球组、篮球组和乒乓球组
- C、篮球组、乒乓球组和足球组
- D、足球组、乒乓球组合篮球组

81

以往研究表明，喝咖啡会增加患骨质疏松症的风险，而一项最新的、更为可靠的研究得出的结论为：咖啡与骨质疏松的发病无关，估计这项研究成果公布之后，咖啡的消费量会显著上升。

上述推论基于以下哪项假设？

- A、老年人易患骨质疏松，而老年人并不爱喝咖啡
- B、爱喝咖啡的年轻人很少患有骨质疏松症
- C、咖啡搭配牛奶会大大减少骨质疏松症的患病风险
- D、许多人不喝咖啡是因为他们相信咖啡会导致骨质疏松

82

有了宽容之心，见人之长，容人之短；见人之功，容人之过。有了宽容之心，就可以心平气和，不居高临下，盛气凌人，不为蝇头小利斤斤计较，不为虚名耿耿于怀。有了宽容的胸怀，就不会以己之优势识人而漠视了贤才，以己之喜好遇人从而拒绝了知己，以己之度量度人而误解了朋友。有了宽容的美德，就具备了人格的魅力，只有宽容他人，才能成就自己。

由此不能推出：

- A、如果你赢得知己，那你一定没有以己之喜好遇人
- B、如果你没有成就自己，那一定是因为你没有宽容他人
- C、如果你为蝇头小利而斤斤计较，就说明你没有宽容之心
- D、如果你不具备人格的魅力，那一定是因为你缺乏宽容的美德

83

王某怀着期待的心情到某市旅游，刚出火车站自己的钱包就丢了。于是王某得出结论：这个城市的治安很差，犯罪率很高。

以下哪项如果为真，最能削弱上述结论？

- A、王某到达火车站的时间是深夜，丢钱包是偶然事件
- B、该市警力部署在市区，火车站巡警人数较少
- C、王某个性消极，常常做出负面评价
- D、王某经常丢三落四，没有收好钱包

84

通常情况下，人们都会觉得日照久了会有头晕目胀的感觉，会让机体血压升高，身体感觉不适，但最新研究发现，阳光中的紫外线其实有着不为人知的作用，不仅不会升高血压，还有助于降低血压。

以下哪项如果为真，不能支持上述结论？

- A、紫外线照射可以将人体中积存的氮释放到血液中去，这会引发皮肤细胞释放出一氧化氮，而这种化合物有助于舒缓血管
- B、持续日照时人们会感觉体温升高，心跳加快，如果没有适当补充水分，血压就会升高
- C、实验发现，不同波长的紫外线，对血压的影响差异极大，一般而言长波紫外线有益于降压，而短波则没有效果
- D、志愿者晒太阳 20 分钟后血压均有小幅下降，而未晒太阳的对照组志愿者血压没有明显变化

85

经济学理论认为，丰富的自然资源可能是经济发展的诅咒而不是祝福，大多数自然资源丰富的国家比那些资源稀缺的国家经济增长的更慢，历史表明，避免“资源诅咒”是十分困难的，而且并非如很多人所认为的，只有尼日利亚等欠发达国家才会受这一诅咒的困扰。

由此可以推出：

- A、发达国家比欠发达国家更能避免“资源诅咒”的困扰
- B、欠发达国家比发达国家更能避免“资源诅咒”的困扰
- C、资源稀缺的欠发达国家，也会受到“资源诅咒”的困扰
- D、不是欠发达国家的国家，也会受到“资源诅咒”的困扰

五、资料分析，所给出的图、表、文字或综合性质资料均有若干问题要你回答，你应根据资料提供的信息进行分析、比较、计算和判断处理。

(一)

一、根据所给资料，回答 86~90 题

2012 年全国电力工业统计数据一览表		
指标名称	当期数值	同比增长(%)
全社会用电量(亿千瓦时)	49591	5.5
其中：第一产业	1013	0.0
第二产业	36669	3.9
第三产业	5690	11.5
城乡居民生活	6219	10.7
发电新增设备容量(万千瓦)	8700	-3.2
其中：水电	1900	55.1
火电	5100	-13.4
核电	66	-39.4
风电	1537	-3.9
全口径发电装机容量(亿千瓦)	11.44	8.2
其中：水电	2.49	8.3
火电	8.19	6.6
核电	0.13	5.5
风电	0.62	32.7

86

与上年相比，2012 年全社会用电量增长了约多少亿千瓦时？

- A、2585
- B、2727
- C、2979
- D、3155

87

2011 年第二产业用电量占当年全社会用电量的比重约是多少？

- A、67.8%
- B、70.8%
- C、73.9%
- D、75.1%

88

按照 2011 年发电新增设备容量从高到低排序正确的是：

- A、水电 火电 核电 风电

- B、水电 火电 风电 核电
 - C、火电 风电 水电 核电
 - D、火电 水电 风电 核电
- 89

在水电、火电、核电和风电四种发电方式中，2012 年发电新增设备容量和全口径发电装机容量在全国总体数据中占比均高于上年的有几类？

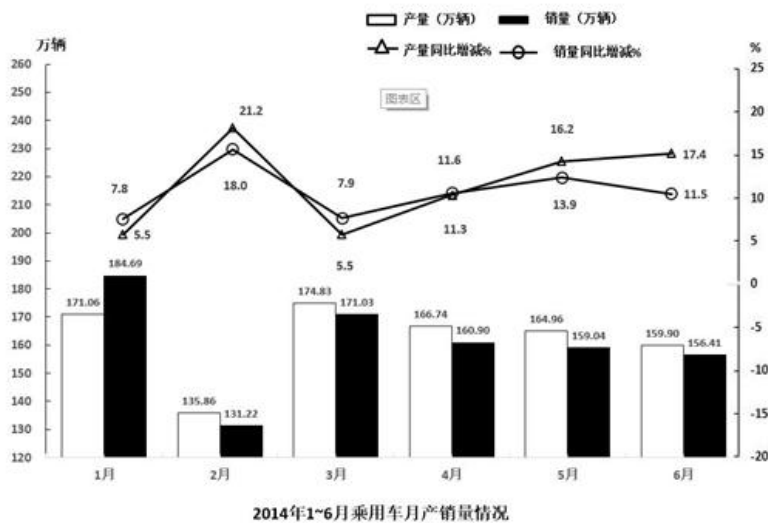
- A、0
 - B、1
 - C、2
 - D、3
- 90

以下说法正确的是：

- A、2011 年第三产业用电量不到 5000 亿千瓦时
- B、2011 年城乡居民生活用电量突破 6000 亿千瓦时
- C、2012 年发电设备容量增长主要由水电带动
- D、2011 年全口径发电装机容量超过 10 亿千瓦

(二)

2014 年上半年全国共生产汽车 1178 万辆，同比增长 9.6%，其中，乘用车 971 万辆，同比增长 12.1%；商用车 207 万辆，同比下降 0.6%，销售汽车 1168 万辆，同比增长 8.4%，其中乘用车 963 万辆，同比增长 11.2%；商用车 205 万辆，同比下降 3.2%。



91

与 2013 年同期相比，2014 年上半年乘用车产量占汽车产量比重：

- A、减少 1.8%
- B、减少 8%
- C、增加 1.8%
- D、增加 8%

92

2014 年上半年，乘用车产量超过上半年月均产量的月份有几个？

- A、2
- B、3

C、4

D、5

93

2014 年上半年乘用车月产量与月销售量绝对差最小的一个月，其产销率（销量÷产量）为：

A、96%

B、98%

C、99%

D、108%

94

以下各月中，哪个月的乘用车产量环比增速高于同比增速？

A、2014 年 3 月

B、2014 年 2 月

C、2014 年 5 月

D、2014 年 4 月

95

能够从上述资料中推出的是：

A、2014 年 2 季度乘用车销量同比上升 15%以上

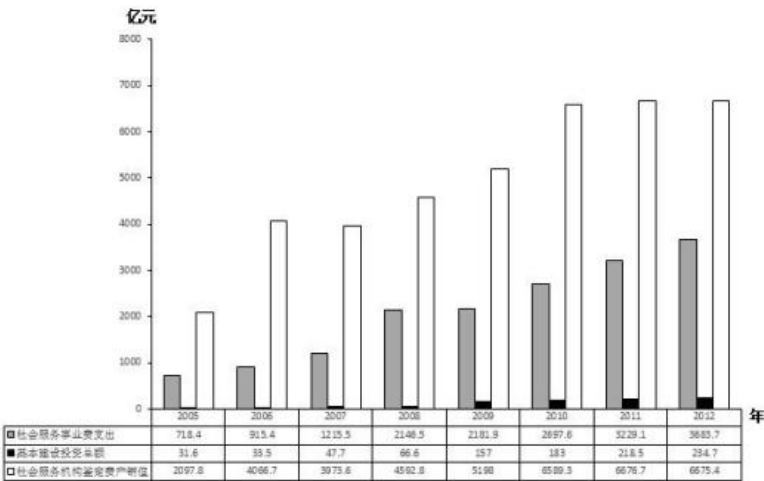
B、2014 年上半年汽车产销率高于上年同期水平

C、2013 年 2 月乘用车产量为 120 万辆

D、2013 年上半年商用车销量超过 200 万辆

(三)

截至 2012 年底，全国共有社会服务机构 136.7 万个，比上年增长 5.6%，职工总数 1144.7 万人，固定资产总值为 6675.4 亿元。2012 年全国社会服务事业费支出 3683.7 亿元，比上年增长 14.1%，占国家财政支出占比为 3%，与上年持平；中央财政共向各地转移支付社会服务事业费为 1794.6 亿元，比上年下降 0.7%，占社会服务事业费比重为 48.7%；社会服务事业基本建设施工项目 8958 个，比上年增长 32.7%。全年完成投资总额 234.7 亿元，比上年增长 7.6%。



2005~2012年我国社会服务基本情况

96

与上年相比，2012 社会服务机构增加了约多少万个？

A、10.15

B、8.23

C、7.25

D、5.60

97

“十一五”期间（2006-2010），社会服务事业基本建设投资累计完成多少亿元？

A、336.4

B、487.8

C、672.8

D、859.8

98

与上年相比，2012 年社会服务事业费中由中央财政向各地转移支付的比重：

A、下降了 7.3 个百分点

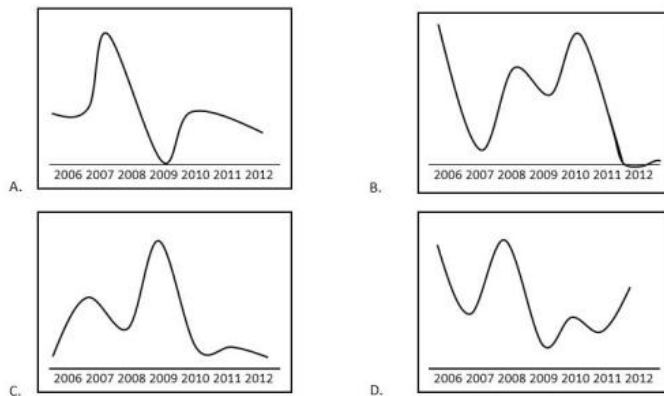
B、下降了 0.7 个百分点

C、上升了 0.7 个百分点

D、上升了 7.3 个百分点

99

下列哪项符合 2006-2012 年社会服务事业支出同比增长率的变化趋势？



100

能够从上述资料中指出的是：

A、2009 年社会服务事业基础建设投资总额比上年增长 2.4 倍

B、2009 年社会服务机构固定资产同比增长快于 2006 年水平

C、2012 年平均每个社会服务事业基本建设施工项目全年完成的投资额低于上年水平

D、2012 年平均每个社会服务机构拥有超过 10 名员工