

2015 年下半年全国事业单位联考 B 类《职业能力倾向测验》真题

一、常识判断，根据题目要求，在四个选项中选出一个最恰当的答案。

1

关于我国民族区域自治，下列说法不正确的是：

- A、西藏自治区是最晚成立的民族自治区
- B、民族自治地方分为自治区、自治州、自治县三级
- C、一个民族自治的地方，可以以几个少数民族聚居区为基础建立
- D、民族自治地方的自治机关是自治地方的人民代表大会及常务委员会

2

对下列危害道路交通安全行为的处罚，符合相关法律规定的是：

- A、陆某和张某在马路上飙车，被判有期徒刑
- B、周女士饮酒后开汽车回家，驾照被暂扣三个月，并被处罚 2000 元
- C、出租车司机刘师傅酒醉后继续开车载客，被吊销驾照并追究刑事责任
- D、朱先生开车时造成重大交通事故，被吊销驾照，并终生不得取得新驾照

(一)

根据以下材料回答 3~4 题：

轮台是一个具有军事象征意义的典故，当它早期出现在诗人笔下时，乃是__①__边地的代称。如梁简文帝诗：“贰师惜善马，楼兰贪汉财。前年出右地，今岁讨轮台。”唐宋以后，轮台的典故仍被沿用，如宋代大诗人陆游就有“__②__，尚思为国戍轮台”的名句。

3

①处应填入的是：

- A、西北
- B、东北
- C、西南
- D、东南

4

②处应填入的是：

- A、文吏何曾重刀笔
- B、僵卧孤村不自哀
- C、垂死病中惊坐起
- D、夜阑卧听风吹雨

5

下列诗歌与作者对应错误的是：

- A、《再别康桥》——徐志摩
- B、《雨巷》——戴望舒
- C、《致橡树》——席慕蓉
- D、《乡愁》——余光中

6

下列四个人是中国古代一个家庭中的四兄弟，按长幼顺序排列正确的是：

- ①伯云②叔泉③仲岩④季松
- A、①②③④
- B、①③②④
- C、①④②③

D、③①②④

7

以下哪句诗与其他三句产生时代相差最远？

- A、关关雎鸠，在河之洲
- B、蒹葭苍苍，白露为霜
- C、硕鼠硕鼠，无食我黍
- D、何以解忧，唯有杜康

8

家风是一个家庭或家族的传统风尚，下列家风格言与其出处对应错误的是：

- A、一粥一饭，当思来之不易——朱伯庐《朱子治家格言》
- B、非淡泊无以明志，非宁静无以致远——诸葛亮《诫子书》
- C、勿以恶小而为之，勿以善小而不为——郑燮《郑板桥家书》
- D、凡出言，信为先；诈与妄，奚可焉——李毓秀《弟子规》

9

度量衡是我国古代计量单位的统称，其中“量”计量的是：

- A、长度
- B、容积
- C、面积
- D、重量

10

下列有关“泰山”的说法错误的是：

- A、孔子“登泰山而小天下”
- B、泰山是“五岳”之首
- C、汉武帝是首位封禅泰山的皇帝
- D、“泰山”常作为对妻子父亲的称谓

11

关于《古诗十九首》，下列说法错误的是：

- A、一般以首句为标题
- B、创作于东汉时期
- C、多数为“三曹”所作
- D、被称为“五言古诗之祖”

12

许多音乐作品与文学作品息息相关，下列说法错误的是：

- A、古曲《胡笳十八拍》是根据蔡文姬的《悲愤诗》谱写的
- B、法国作曲家比才的歌剧《卡门》取材于梅里美的同名小说
- C、贝多芬的《欢乐颂》是为席勒的同名诗歌所谱的乐曲
- D、《阳关三叠》是根据王维的《送元二使安西》谱写的古曲

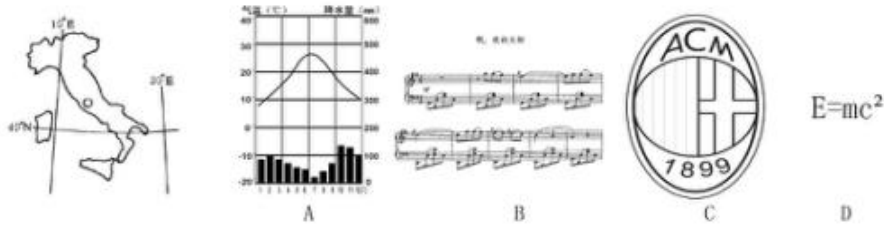
13

关于传统文化，下列对应错误的是：

- A、五音：宫、商、角、徵、羽
- B、六艺：礼、乐、射、御、书、数
- C、六书：象形、指事、会意、形声、转注、假借
- D、五经：《诗经》、《尚书》、《礼记》、《易经》、《论语》

14

下列哪项与左图代表的国家没有直接关系？



- A、A
- B、B
- C、C
- D、D

15

下列诗句与节日对应有误的是：

- A、风雨梨花寒食过，几家坟上子孙来——清明节
- B、不效艾符趋习俗，但祈蒲酒话升平——端午节
- C、今日登高樽酒里，不知能有菊花无——中秋节
- D、风雨夜深人散尽，孤灯犹唤卖汤元——元宵节

16

下列哪项与中国古代四大名著无关？

- A、的卢马
- B、冷香丸
- C、西窗烛
- D、狮驼岭

17

某南美国家与下列四个关键词都相关：①双人舞蹈探戈，②足球世界杯冠军，③马岛海战，④多党制，则该国是：

- A、墨西哥
- B、巴西
- C、阿根廷
- D、巴拉圭

18

关于我国著名的古都，下列说法不正确的是：

- A、北京曾是金代的都城
- B、南京是历史上已知最早的都城
- C、隋唐时所说的“东都”指的是洛阳
- D、“直把杭州作汴州”中的“汴州”是指开封

19

俗话说“药补不如食补”，关于食品对于人体所需元素的补充，下列对应错误的是：

- A、鸡蛋——硒
- B、海带——碘
- C、大豆——磷
- D、菠菜——钙

20

关于体育比赛，下列说法错误的是：

- A、铁人三项包括铁饼、公路自行车和公路长跑
- B、田径比赛是田赛、径赛和全能比赛的统称
- C、某些竞走项目的比赛距离比马拉松赛长
- D、径赛项目需要用计时器来记取比分

21

关于中国的铁路，下列说法错误的是：

- A、粤海铁路是跨海铁路
- B、陇海铁路沿线多为沙漠
- C、包兰铁路大致为东西走向
- D、大秦铁路是西煤东运的主要通道

22

下列哪种情况不属于外来物种入侵？

- A、法国水族馆引进的绿藻通过释放孢子，成为当地海洋生态系统中的优势种群
- B、被人们“做善事”放生的宠物巴西龟在当地野化后大量繁殖
- C、我国南方作为猪饲料引种的空心莲子草在若干年后逸为野生
- D、每年春夏之交成年湟鱼从青海湖洄游到淡水河中产卵

23

关于电影常识，下列说法错误的是：

- A、“回归”三部曲是指《海上钢琴师》、《西西里的美丽传说》、《天堂电影院》
- B、《摩登时代》是好莱坞由默片时代过渡到有声电影时代的经典影片
- C、奥黛丽·赫本因《罗马假日》获得奥斯卡最佳女主角奖
- D、斯皮尔伯格曾导演过《侏罗纪公园》

24

领土面积居世界前四位的国家依次是：

- A、俄罗斯、加拿大、中国、美国
- B、俄罗斯、中国、美国、加拿大
- C、美国、中国、俄罗斯、加拿大
- D、加拿大、俄罗斯、中国、美国

25

关于家用电器的电源插头，下列说法不正确的是：

- A、电视机使用二桩头的电源插头，是因为电视机的功率比较小
- B、如果强行去掉地线桩头，一旦电器漏电，接触者会受到电击
- C、三桩头中地线桩头比较长，这样可以保证先接通地线，后接通电源
- D、二桩头的电源插头在桩头附近没有任何标志，插入插座时无需区分方向

二、言语应用，本部分包括表达与理解两方面的内容。请根据题目要求，在四个选项中选出一个最恰当的答案。

26

在我国，核工业为国民经济的发展做出了重要贡献，我们不能因为日本发生福岛核电事故而_____，停止对和平利用核能的探索。

- A、听天由命
- B、因噎废食
- C、患得患失
- D、杞人忧天

27

针对清王朝的人才禁锢政策，龚自珍提出了“不拘一格”选拔人才的观点。对当时腐朽黑暗的封建专制和_____的思想界而言，龚自珍的响亮呐喊，简直就是_____的狂言，它就像一声炸雷、一阵疾风，催人警醒，给人力量。

- A、枯燥 不可一世
- B、封闭 耸人听闻
- C、僵化 如雷贯耳
- D、沉闷 惊世骇俗

28

伴随着经济全球化的演进，越来越多的新兴国家加入了全球竞争。与欧洲国家相比，这些国家的劳动力价格相对便宜，_____因此吸引了大量的_____，很多欧洲国家的企业将工厂开到这些地区，这就无形中造成了欧洲国家失业状况的加剧。工人失业，创造财富的机会减少，进入社会经济体系，分享财富的人增加，使一些欧洲福利国家_____。

- A、投资 不堪负重
- B、人才 捉襟见肘
- C、企业 顾此失彼
- D、关注 黔驴技穷

29

平日里你看一些人唱歌，那是为发自内心的热爱而唱歌，她的欢愉和陶醉写在脸上，融在歌声里，_____着听到的人，而另一些人，拿腔拿调，从技术上来说难以_____，可就是感觉那声音没有生命，因为唱歌的人自己没有感动，他只是想_____自己的嗓音和技巧而已。

- A、感染 挑剔 炫耀
- B、影响 超越 显示
- C、打动 描述 展示
- D、陶醉 评价 卖弄

30

坐在那里等条件，其实是懒惰思想在作怪，遇事推脱、消极怠工，工作_____；同时，也是畏难情绪在作怪，害怕失败，害怕承担责任。如果总以这样的心态面对人生，则可能_____。

- A、循规蹈矩 劳而无功
- B、推三阻四 一败涂地
- C、安于现状 一事无成
- D、按部就班 一蹶不振

31

对一个组织来说，各个组成部分往往是_____的，而劣质的部分往往决定了整个组织的水平，为了发挥组织的_____作用，释放它的潜力，就必须弥补薄弱环节，使组织能够在市场竞争中处于不败之地。

- A、参差不齐 整体
- B、优劣参半 积极
- C、休戚与共 核心
- D、一脉相承 凝聚

32

我们鼓励社会阶层自然分化，让不同阶层_____，我们也鼓励鲤鱼跳龙门，但也应该看到能跃过龙门的“鲤鱼”毕竟是少数，这就需要构建更加公平正义的社会选择机制、甄别机制，只要是锥子，就可以冒出头，当然你也可以_____，让自己冒出头。

- A、各得其所 毛遂自荐

- B、各行其是 脱颖而出
- C、各取所需 首当其冲
- D、各司其职 锋芒毕露

33

改革开放以来，文学创作成就不菲，但缺乏_____、影响深远的力作。今天的文坛不能说不繁荣，然而繁荣也_____不住其中的“虚荣”成分——虚假的繁荣。

- A、千锤百炼 遮挡
- B、入木三分 掩饰
- C、力透纸背 掩盖
- D、匠心独具 遮蔽

34

做学问，“要大处着眼，小处下手”。由博入专，不可急功近利，能大处着眼，为学方不致流于_____，而有裨益于世；能小处下手，方不致流于_____，所以做学问千万不要要求速效。

- A、狭隘 口号
- B、烦琐 空谈
- C、表面 形式
- D、平庸 俗套

35

当下，媒介发展一日千里，如何认识媒体，对待媒体，已成为执政者执政素养_____的部分，尤其随着互联网的崛起，跨入社交媒体时代，网络的去中心化、去权威化和参与性、互动性的增强，极大地_____了媒体环境，适应这样一个全新的媒体时代，理应成为必备的执政能力。

- A、迫在眉睫 异化
- B、至关重要 丰富
- C、举足轻重 强化
- D、不可或缺 改变

36

文化传统有大传统和小传统之分。人类学家一般把占据社会_____位置的文化形态及其传衍叫做大传统，把世代相传的民间文化和民间信仰叫做小传统，大传统被时代精英检讨、反思、添加、融合的_____比较多；而小传统是长期形成的，往往由一种集体无意识来维系，因此发展得就相当_____。

填入画横线部分最恰当的一项是：

- A、主要 机会 缓慢
- B、主体 方面 滞后
- C、主导 可能 全面
- D、主干 场合 迅猛

37

中华民族是由 56 个民族组成的大家庭，汉族人口最多，《百家姓》在_____之时选择的基本都是汉族姓氏。其实，大概在其诞生的宋朝，就已经找不出一个_____的汉族姓氏了，各个民族之间早就在文化上声气相通，在血缘上血脉交融了。真正读通了《百家姓》就可以明白，中华民族真是_____的民族大家庭，我们恐怕找不到哪个姓氏，只有汉族或其他民族的单一血统。

填入画横线部分最恰当的一项是：

- A、编撰 纯粹 名副其实
- B、编订 完整 表里如一
- C、编写 真正 其乐融融

D、编辑 独立 心心相印

38

虽然目前社会上流行的官场小说揭露了一定的社会现实问题，销售量令人惊叹，但它仍只是一种消费型文字，对于民主、廉政影响有限，也并无太多文学上的建树，不少官场小说作家对那些不为人知的官场潜规则_____时，往往忽略了人性关怀和对于真善美的追求，官场小说应当是敢于揭露丑恶，读来令人_____的社会批判作品。

填入画横线部分最恰当的一项是：

- A、穷形尽相 欲罢不能
- B、鞭辟入里 如饥似渴
- C、情有独钟 若有所思
- D、津津乐道 振聋发聩

39

如果作家作品产量高，质量也高，并非什么坏事，但是现在的问题是，高产作家的作品应了“萝卜快了不洗泥”的俗话，往往是粗制滥造。我们可以理直气壮的指责和批评这类作家_____，我们还可以指责和批评书商，他们为了利润，迫使畅销书作家“_____”地码出一部又一部粗制滥造之作。

填入画横线部分最恰当的一项是：

- A、唯利是图 只争朝夕
- B、敷衍塞责 汗牛充栋
- C、利令智昏 下笔千言
- D、玩忽职守 文思泉涌

40

法律的预防作用主要是通过法律的明示作用和_____的效力以及对违法行为进行惩治的力度来实现的。法律的明示作用可以使人们_____法律而明辨是非，即知道在日常生活中，什么是可以做的，什么是绝对禁止的，触犯了法律应受到的法律_____是什么。

- A、推行 了解 判决
- B、实施 清楚 制约
- C、触犯 明白 约束
- D、执法 知晓 制裁

41

①地方戏从来都不是以一种狭隘的地方性来吸引观众的，而是兼用浓郁的民族民间审美情趣，和合乎规律的独特形态的美来完成艺术表达

②这种表达应当是有趣、有味、有技的

③所以，在今天的剧种建设中，我们要把追求艺术个性、丰富形式、提升品质三者紧紧结合起来

④他们更希望看到经过历代艺人集体创造和筛选后，通过艺术形式表现出的经典品质

⑤把最深刻的东西，以最贴近民众情感的表达方式表现出来

⑥人们对一个剧种中经典唱腔的喜爱，并不仅仅因为乡音耳熟

将以上 6 个句子重新排列，语序正确的是：

- A、①⑤②⑥③④
- B、⑥④②①⑤③
- C、①⑥④⑤②③
- D、⑤⑥②①③④

42

①不同的书会给人不同的人生阅历与感受

②读儒家可以让人进取，读道家可以让人豁达，读佛经可以让人心平气和

③当然，并非开卷一定有益，得看读了什么样的书，但读书的确增加了打开人生另一扇门的可能。

④家教给人的好与坏都是有限的，而从读书中获取的教养则可以是无限的

⑤与家教不同，读书是可以选择的

⑥你无法选择自己的出身，无法掌控儿时受到的家教影响，却可以选择所读的书籍

将以上 6 个句子重新排列，语序正确的是：

A、①⑥②⑤③④

B、②③⑤①⑥④

C、⑤⑥①②④③

D、⑥⑤②①④③

43

①随后发生的第二次世界大战、冷战和德国的分裂，无不与之有着或多或少的关系

②面对并不十分光彩的过去，德国人没有回避，更没有为自己开脱，而是选择勇敢的直面历史，在反省中重新前行

③第一次世界大战被视为 20 世纪人类灾难的“原罪”

④两次世界大战，都是德国在崛起过程中欲夺取欧洲甚至世界统治地位的后果

⑤尽管硝烟早已散尽，但是两次世界大战和近半个世纪的分裂之殇已然深深烙在这个国度

⑥不仅给世界人民带来了巨大的灾难，也为日后德国的分裂埋下了伏笔

将以上 6 个句子重新排列，语序正确的是：

A、②④③①⑤⑥

B、③①④⑥⑤②

C、④③①②⑤⑥

D、⑤⑥③①④②

44

①现在许多机关单位人事管理水平还停留在纸介质的基础上

②随着计算机技术、网络技术和信息技术的发展，现在办公系统更趋于系统化、科学化和网络化

③它的主要目的是实现信息交流和信息共享，提供协同工作的手段，提高办公的效率，让人们从繁琐的有纸办公中解脱出来

④这样的机制已经不能适应时代的发展，因为它浪费了许多的人力和物力

⑤网络办公自动化系统是计算机技术和网络迅速发展的一个办公应用解决方案

⑥在信息时代，这种传统的管理方式必然被计算机为基础的信息管理所取代

将以上 6 个句子重新排列，语序正确的是（ ）。

A、②⑤③①④⑥

B、②⑤①③⑥④

C、⑤③②⑥①④

D、⑤①④⑥③②

45

①有人调侃，“互联网是个筐，什么都能往里装”

②从“云计算”到“物联网”，从“大数据”到“工业 4.0”，一个个耳熟能详的流行热词背后，蕴藏着互联网给予人类的巨大能量与无穷的想象空间

③“网络改变生活”并非一句空洞的广告语，它是已发生且仍将继续发酵的生动现实

④但如果仅仅是巧借互联网为概念或噱头，用互联网的“新瓶”去包装传统模式的“旧酒”

⑤即便可能风光一时，也只会错失提升竞争力的难得机遇，最终被市场和消费者快速抛弃

将以上 5 个句子重新排列，语序正确的是：

A、②①④③⑤

B、③④①②⑤

C、①③④⑤②

D、①③②④⑤

46

针对社会现象而提出的批评或评论是极其常见的，无论博主，论坛楼主，还是传统媒体作者，也无论其专业是什么，多多少少都会写一些，这类文章的观点正误当然可以争论，但只要所针对的社会现象确凿存在，作者的资格就不成问题。接下来要看的是各人对社会现象进行分析的能力，_____，而且未必是“术业有专攻”的文科或社科专业的作者最强，当然，这里会有例外，比如在涉及法律的问题上，专业作者具有特殊优势，因为除了分析能力，了解法律法规也很重要。

填入画横线部分最适当的一项是：

- A、这种能力是进行社会评论的基础
- B、这种能力往往是各专业作者都具有的
- C、分析能力可以通过持续的练习不断提高
- D、作者的专业并不会成为进行社会评论的限制

47

如今，新闻传播主体已经形成了“三元类型结构”——职业新闻，民众个体和非职业、非民众个体的组织（群体）的传播主体。三者相对独立，各有不同，在呈现各自认为有价值的新闻事实时，会有各自的观念与方式。原则上现实中的新闻真实图景，都是不同新闻传播主体“再现”与“建构”新闻事实的结果展示。因此，尽管新闻传播开启了共同主体时代，公共化新闻真实图景的塑造成为所有社会主体的共同责任，但我们离再现一个真实的，变动的新闻事实世界还任重道远，_____。

填入画横线部分最恰当的一项是：

- A、新闻真实实现的可能性变得更加复杂化
- B、人们依然不时迷惑于新闻图景的真真假假
- C、不同传播主体间存在互相“拆台”的矛盾冲突
- D、面对敏感的新闻事件时传播主体往往如履薄冰

48

科学精英往往承担着多重社会角色，但其角色的合理性不是永恒的、天然的。老一辈科学精英的多重角色是时代赋予的，在道德精神和高尚人格的支配下，合理而富有成效；但在现实中科学精英的角色出现异化，遭到了人民的抨击。由于受到名、利、权的诱惑，他们有可能成为垄断科学话语权、霸占科学资源的学阀；在制度缺位的情形下，存在滥用权威的倾向；在社会场域中，其权威也存在被泛化的可能性，甚至成为明星般的人物。因此，_____。

填入画横线部分最恰当的一项是：

- A、科学精英的社会角色不应多元化，更应该回归科研本身
- B、当前社会中，公众对科学精英的权威更多地持有怀疑态度
- C、规范科学精英的权威不仅需要道德的力量，更需要制度的补位
- D、“专家治国”应成为我国科学技术政策制定过程中的重要组成部分

49

李叔同曾在杭州虎跑进行了为期三周的断食，这个时期正是他书法风格转变的关键时段，从劲健绚烂、峥嵘圭角，归于雅逸恬淡、藏锋稚拙、枯寂孤清。李叔同把中国古代的书法艺术推向了又一高峰，“补拙圆满，浑若天成”，鲁迅、郭沫若等现代文化名人都以得到他的字为荣。_____。从在俗时的绚烂李叔同到出世后的平淡弘一，书法风格的变化是修心的结果，是大师心灵境界的升华。

填入画横线部分最恰当的一项是：

- A、书法是心灵的迹化
- B、人生的转折从心境开始

- C、字里行间闪烁着大师的智慧
D、这种推崇在他看来只不过是凡尘

50

当前，国际金融危机仍在持续蔓延，这场危机对全球实体经济的冲击日益明显，不少国家经济陷入衰退，社会稳定面临巨大挑战，世界经济秩序发生重大变化已成定局。_____，其始作俑者就是过去30多年以来被称为“新自由主义”、“经济自由主义”、“经济原教旨主义”、“撒切尔主义”或“华盛顿共识”的意识形态主导的资本主义发展的理论与政策。

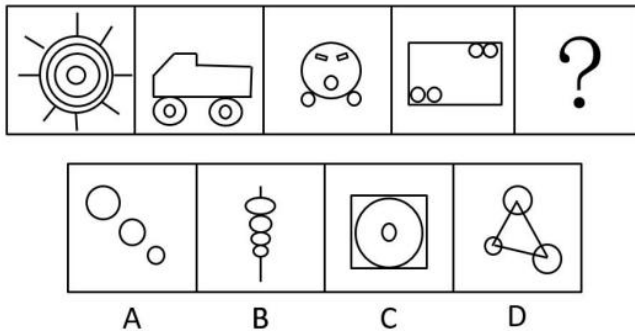
填入画横线部分最恰当的一句是：

- A、这场危机其实来的并不偶然
B、市场机制的确是一只“看不见的手”
C、新自由主义的核心主张是最大程度自由化
D、这也许要归咎于美国积极打造“美元强势”

三、判断推理，本部分包括图形推理、定义判断、类比推理与逻辑判断四种类型的试题，在四个选项中选出一个最恰当的答案。

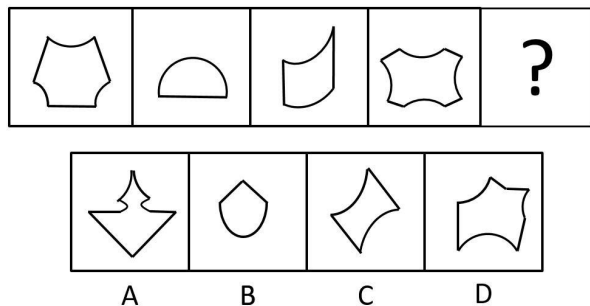
51

请从所给的四个选项中选择最合适的一个填入问号处，使之呈现一定的规律。




52

请从所给的四个选项中选择最合适的一个填入问号处，使之呈现一定的规律。




53

请从所给的四个选项中选择最合适的一个填入问号处，使之呈现一定的规律。



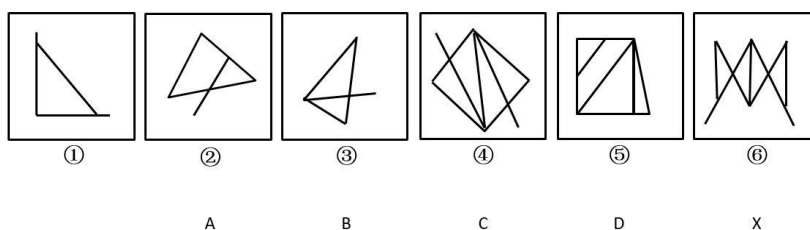
54

请从所给的四个选项中选择最合适的一个填入问号处，使之呈现一定的规律。



55

A、B、C、D 中哪个与 X 图形互换位置后，新的六个图形序列能形成一定得规律？



56

划分指的是把概念所反映的对象分为若干既不相交、也不遗漏的小类，来揭示这个概念所反映的对象，从而明确概念的方法。

根据上述定义，以下哪项中的划分是正确的？

A、《诗经》中的作品包括“风”、“雅”和“颂”

- B、颜色可分为赤、橙、黄、绿、青、蓝、紫
- C、文学作品包括小说、诗歌、散文、戏剧、舞蹈和绘画等
- D、大学专业包括文科专业、应用型专业和非应用型专业等

57

生物节律是一种生物内在的、复杂而精细的生理调节系统，它使动植物得以根据外界环境的周期性变化来协调自身新陈代谢及各种生理过程，从而与环境保持同步。

根据上述定义，下列哪项不属于生物节律的范畴？

- A、银汉鱼只在涨潮时在岸上产卵
- B、蜜蜂通过比较太阳与自身的位置关系来辨别方向
- C、蒲公英每天以半小时为周期绽放、凋落
- D、散客乘飞机到国外需要休息一两天倒时差

58

亲社会行为泛指一切符合社会期望而对他人，群体或社会有益的行为，其特征表现为高社会赞许性、自利性、利他性和互惠性。亲社会行为不仅使个体能够获得来自社会的、他人的和自我的奖励，而且能够避免来自社会的他人的和自我的惩罚。

根据上述定义，以下不属于亲社会行为的是：

- A、小王为了得到朋友称赞，总是积极参加慈善团体的志愿者服务
- B、大雪之后，小张只扫除了自己家门外的车道和人行道上的积雪
- C、小张被老板克扣工资，同事小胡答应帮他拿公司的钢材去卖了弥补
- D、小李非常节俭，总是把废品分类，并把能够卖掉的拿去卖钱

59

科学学又称“科学的科学”，是研究科学和科学活动的发展规律及其社会影响的一门综合性新学科。理论科学学指的是以科学的性质、结构、功能、方法、发展规律为研究对象的科学学。应用科学学指的是以科学和科学活动的经济效益、组织管理、心理现象、行为规范、语言符号等为研究对象的科学学。

根据上述定义，以下哪项属于应用科学学？

- A、科学哲学
- B、科学思想史
- C、科学理论学
- D、科学方法论

60

差异性市场营销指的是面对已经细分的市场，企业选择两个或两个以上的子市场作为市场目标，分别对每个子市场提供针对性的产品和服务以及相应的销售措施。企业根据子市场的特点，分别制定产品策略、价格策略、分销策略以及促销策略并予以实施。

根据上述定义，下列哪项属于差异性市场营销？

- A、某快捷酒店的休息阅览区既有双人座，也有单人座；既有单纯书刊阅读的座位，还有提供网络查询的座位
- B、某公司针对市场生产出 11 个品牌的洗衣粉，既有强力去污但价格较高的，也有去污较强但价格适中的，还有物美价廉的
- C、在北京某尾货市场，既有大量的服装摊位，也有不少办公用品摊位，甚至还有各种电器厂家在此直销
- D、现在的年轻人对于手提电脑有着不同的需求，有些人喜欢经典品牌，有些人喜欢高配置的，还有一部分人喜欢玩新潮

61

铠甲：士兵

- A、专利：发明者

B、图书馆：文献

C、工会：员工

D、卧底：睡眠

62

进步：变化：倒退

A、恒星：星体：行星

B、多云：天气：下雨

C、打针：治疗：吃药

D、真理：认识：谬误

63

橡胶：轮胎：汽车

A、玻璃：水杯：容器

B、塑料：键盘：电脑

C、木材：纸笔：课本

D、线丝：衣架：阳台

64

奏折：公文：官吏

A、里弄：胡同：街道

B、学堂：书院：教授

C、绝句：诗歌：诗人

D、庙宇：住宅：僧人

65

() 对于蓝牙耳机相当于电话对于 ()

A、手机 无线电话

B、喇叭 移动电话

C、耳机 手摇电话

D、听筒 电话话筒

66

生活中有一些人会去反复检查门窗确保安全，反复洗手以保持干净等。他们明知这是不合理的，但不得不做，重复这种无意义的动作并为此耗费大量时间，这种病症被称为强迫症。晓晓每天反复洗手的次数是一般人的 30 倍，可据此认为，晓晓患了强迫症。

以下哪项如果为真，最能质疑上述结论？

A、晓晓的工作决定它需要保持双手清洁

B、晓晓家人的洗手次数多于普通人

C、晓晓洗手时并没有感到痛苦烦恼

D、晓晓曾经忘记检查门窗，结果家中被盗

67

目前，是否应该提升水价成为人们热议的问题，有学者认为水价应该上涨，其原因有两个。一是提升水价有利于节约用水。价格提高了，人们自然会节约成本。二是有利于水质的提升，虽然价格上去了，但是如果水质相应提升，可以达到纯净水的水质，对于大家来说，相当于购买纯净水。水质提升是需要成本的，因此水价上涨是可以接受的。

以下哪项如果为真，不能反驳该学者的论证？

A、基础资源提价的最终结果只能是百姓受损和通货膨胀

B、节水观念深入人心才是实现节约用水的根本途径

- C、在现有的涨价幅度内还无法使水达到纯净水的水质
- D、提升的水价实际上只占人们生活支出的很小一部分

68

多年来，科学家通常认为，近视在很大程度上是源于基因。然而，最近一项针对视力正常的 8-9 岁儿童的追踪研究显示，5 年之后，唯一和儿童患近视呈显著相关的环境因素是儿童在户外待的时间，在户外时间较少的儿童患上近视的风险较高。由此研究者提出：在室内待的时间太长会增加儿童患近视的风险，多在室外活动有助于预防近视。

以下各项如果为真，哪项最能驳斥研究者的观点？

- A、在室内，眼球要努力将近距离图像聚焦在视网膜上，长期室内活动会影响眼球的生长，户外更远的视觉距离会防止近视的发生
- B、动物实验表明，和正常的室内光线相比，与户外光线相当的高照明度使实验导致的近视发生率减少了约 60%
- C、人们的估算通常无法与儿童在户外待的实际时间准确匹配
- D、随着年龄增长，儿童花在读书、学习或盯着电脑屏幕上的时间越来越多

69

有研究认为，赤潮是近岸海水受到有机物污染所致，当含有大量有机物的生活污水，工业废水和农业废水流入海洋后，赤潮生物便会急剧繁殖起来，从而形成赤潮。因此有人认为，只要限制有机物污染海水，就可以有效减少赤潮。

以下哪项如果为真，最能削弱上述论证？

- A、某些地区的海水从未出现过赤潮
- B、全球气候变暖也是引发赤潮的原因
- C、赤潮生物在海水中的密度呈动态变化
- D、有机物是生命产生的物质基础，所有生命体都含有有机化合物

70

某公司成立了篮球、足球和乒乓球三个业余活动小组，甲、乙、丙均报名参加。三人在不同的小组，且每人只参加了一组，对于他们参加业余活动小组的情况，有如下三种猜测：

- (1) 甲参加了篮球组，乙参加了足球组。
- (2) 丙没参加足球组，乙参加了篮球组。
- (3) 甲没参加篮球组，乙参加了乒乓球组。

如果上述三种猜测都只对了一半，则甲、乙、丙分别参加的是：

- A、乒乓球组、足球组和篮球组
- B、足球组、篮球组和乒乓球组
- C、篮球组、乒乓球组和足球组
- D、足球组、乒乓球组合篮球组

71

以往研究表明，喝咖啡会增加患骨质疏松症的风险，而一项最新的、更为可靠的研究得出的结论为：咖啡与骨质疏松的发病无关，估计这项研究成果公布之后，咖啡的消费量会显著上升。

上述推论基于以下哪项假设？

- A、老年人易患骨质疏松，而老年人并不爱喝咖啡
- B、爱喝咖啡的年轻人很少患有骨质疏松症
- C、咖啡搭配牛奶会大大减少骨质疏松症的患病风险
- D、许多人不喝咖啡是因为他们相信咖啡会导致骨质疏松

72

有了宽容之心，见人之长，容人之短；见人之功，容人之过。有了宽容之心，就可以心平气和，不居高临下，盛气凌人，不为蝇头小利斤斤计较，不为虚名耿耿于怀。有了宽容的胸怀，就不会以己之优势识人而漠视了贤才，以己之喜好遇人从而拒绝了知己，以己之度量度人而误解了朋友。有了宽容的美德，就具备了人格的魅力，只有宽容他人，才能成就自己。

由此不能推出：

- A、如果你赢得知己，那你一定没有以己之喜好遇人
- B、如果你没有成就自己，那一定是因为你没有宽容他人
- C、如果你为蝇头小利而斤斤计较，就说明你没有宽容之心
- D、如果你不具备人格的魅力，那一定是因为你缺乏宽容的美德

73

王某怀着期待的心情到某市旅游，刚出火车站自己的钱包就丢了。于是王某得出结论：这个城市的治安很差，犯罪率很高。

以下哪项如果为真，最能削弱上述结论？

- A、王某到达火车站的时间是深夜，丢钱包是偶然事件
- B、该市警力部署在市区，火车站巡警人数较少
- C、王某个性消极，常常做出负面评价
- D、王某经常丢三落四，没有收好钱包

74

通常情况下，人们都会觉得日照久了会有头晕目胀的感觉，会让机体血压升高，身体感觉不适，但最新研究发现，阳光中的紫外线其实有着不为人知的作用，不仅不会升高血压，还有助于降低血压。

以下哪项如果为真，不能支持上述结论？

- A、紫外线照射可以将人体中积存的氮释放到血液中去，这会引起皮肤细胞释放出一氧化氮，而这种化合物有助于舒缓血管
- B、持续日照时人们会感觉体温升高，心跳加快，如果没有适当补充水分，血压就会升高
- C、实验发现，不同波长的紫外线，对血压的影响差异极大，一般而言长波紫外线有益于降压，而短波则没有效果
- D、志愿者晒太阳 20 分钟后血压均有小幅下降，而未晒太阳的对照组志愿者血压没有明显变化

75

经济学理论认为，丰富的自然资源可能是经济发展的诅咒而不是祝福，大多数自然资源丰富的国家比那些资源稀缺的国家经济增长的更慢，历史表明，避免“资源诅咒”是十分困难的，而且并非如很多人所认为的，只有尼日利亚等欠发达国家才会受这一诅咒的困扰。

由此可以推出：

- A、发达国家比欠发达国家更能避免“资源诅咒”的困扰
- B、欠发达国家比发达国家更能避免“资源诅咒”的困扰
- C、资源稀缺的欠发达国家，也会受到“资源诅咒”的困扰
- D、不是欠发达国家的国家，也会受到“资源诅咒”的困扰

四、数量分析，本部分包括数学运算和资料分析两种类型，在四个选项中选出一个最恰当的答案。

76

某款服装降价促销后，每天销量翻倍，获得的总利润增加 50%，问每套服装降价的金额为：

- A、销售的 $\frac{1}{4}$
- B、销售价的 $\frac{1}{8}$
- C、利润额的 $\frac{1}{2}$
- D、利润的 $\frac{1}{4}$

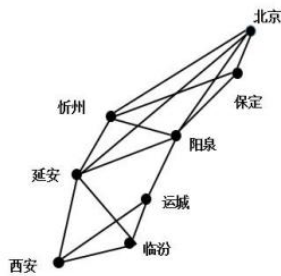
77

某公司有 38 名男员工，27 名女员工。现要参加集团组织的羽毛球比赛，如采取自由报名的形式，至少有多少名员工报名才能保证一定能从报名者中选出男女选手各 8 名参赛？

- A、65
- B、46
- C、35
- D、16

78

某人决定从西安到北京自驾游，可供他选择的道路如下图所示，如果他每次只能由西南到东北方向行驶，则他到北京有多少种不同的行驶路线？



- A、8
- B、9
- C、10
- D、11

79

专家对一批刚出土的古代钱币进行鉴定，星期一鉴定了总数的 35%，星期二和星期三分别鉴定了前一天剩下的 $\frac{5}{12}$ 和 $\frac{4}{7}$ ，星期四鉴定完了所有剩下的钱币，问这批钱币至少有多少个？

- A、240
- B、420
- C、840
- D、1200

80

一场球赛共有 3 局，第一局结束后有 20% 的观众离场，第二局结束之后，剩下的观众中离场的比例比第一局结束时高出 5 个百分点，此时剩下的观众人数为 600 人，问球赛开始时有多少名观众？

- A、900
- B、1000
- C、1100
- D、1200

(二)

一、根据所给资料，回答 86~90 题

2012 年全国电力工业统计数据一览表

指标名称	当期数值	同比增长 (%)
全社会用电量 (亿千瓦时)	49591	5.5
其中：第一产业	1013	0.0
第二产业	36669	3.9
第三产业	5690	11.5
城乡居民生活	6219	10.7
发电新增设备容量 (万千瓦)	8700	-3.2
其中：水电	1900	55.1
火电	5100	-13.4
核电	66	-39.4
风电	1537	-3.9
全口径发电装机容量 (亿千瓦)	11.44	8.2
其中：水电	2.49	8.3
火电	8.19	6.6
核电	0.13	5.5
风电	0.62	32.7

81

与上年相比，2012 年全社会用电量增长了约多少亿千瓦时？

- A、2585
- B、2727
- C、2979
- D、3155

82

2011 年第二产业用电量占当年全社会用电量的比重约是多少？

- A、67.8%
- B、70.8%
- C、73.9%
- D、75.1%

83

按照 2011 年发电新增设备容量从高到低排序正确的是：

- A、水电 火电 核电 风电
- B、水电 火电 风电 核电
- C、火电 风电 水电 核电
- D、火电 水电 风电 核电

84

在水电、火电、核电和风电四种发电方式中，2012 年发电新增设备容量和全口径发电装机容量在全国总体数据中占比均高于上年的有几类？

- A、0
- B、1
- C、2
- D、3

85

以下说法正确的是：

- A、2011 年第三产业用电量不到 5000 亿千瓦时
- B、2011 年城乡居民生活用电量突破 6000 亿千瓦时
- C、2012 年发电设备容量增长主要由水电带动
- D、2011 年全口径发电装机容量超过 10 亿千瓦

五、综合分析，所给出的文字资料均有若干问题要你回答。你应根据资料提供的信息进行分析、判断和处理。

(三)

(一)

过去 30 年，人口学是社会科学中比较活跃的领域。仅对生育意愿这个主题，学者们就做了数百次大范围的调查研究。最近的一次全面研究发现，中国人的生育意愿在过去的 30 年间有升有降，但总体趋势在下降。最大的变化是，80 年代大部分调查显示，多数中国人想生两个或两个以上孩子，到了 90 年代，这个结构就逆转了，六成以上调查显示，国人只想生两个以下孩子。21 世纪的头 10 年，这个趋势更加明显，七成以上调查都显示，中国人的生育意愿低于两孩。另外一个明显的趋势是，不同人群之间的生育意愿有趋同的趋势。改革开放早期，可能一部分人有非常强烈的生育意愿，另外一些人则倾向于少生，但到了新世纪，这两类人都减少了，大多数人的生育意愿更加接近。

有人认为，女性的生育意愿是依附于男性的，计划生育政策可以避免女性沦为“生育机器”。学者统计了各项单独针对男性和女性的调查，发现男女之间的生育意愿不存在显著差异，两性的生育意愿都逐年显著降低。现在一些未婚年轻人可能会向往“丁克家庭”，也就是一夫一妻而没有小孩的简单家庭。但是研究显示，生育意愿在婚前婚后会发生显著变化，婚前不想要小孩的人，很可能婚后又想要“爱情结晶”了。

值得注意的是，生育意愿并不等于实际生育水平。80 年代的生育意愿徘徊在二孩左右，生育率最高时则超过两个半孩子，但是进入 90 年代以后，实际生育率则日渐低于生育意愿，落后半个到一个小孩。这说明想生却因为各种原因生不了的人越来越多了。目前中国人的生育意愿只有 1.67，已经远远低于 2.1 的正常人口更替水平，而实际生育水平还大幅低于原本一路下滑的生育意愿，因此中国的人口更替压力将越来越大。

目前已经实施的“单独二孩”政策不在此研究的范围内，但是根据学者近期的研究，调查的 1 万多户符合“单独二孩”政策的家庭中，只有略高于两成左右的家庭明确表示要生二孩，而六成左右则明确表示不生二孩。实际生育水平远远低于生育意愿，而政策放开也无法有效提高生育意愿，这或许说明，计划生育政策的重点应该从早期的压抑生育意愿调整为帮助人们实现生育意愿，乃至提振生育意愿。

86

下列哪项如果为真，最能质疑第一段涉及的观点？

- A、与 80 后相比，90 后倾向于少生或晚生
- B、我国生育水平存在着巨大的城乡差异和地区差异
- C、越来越多的发展中国家成为低生育率甚至超低生育率国家
- D、生育率一旦下降到一定水平以下，就会继续不断下降，很难甚至不可逆转

87

下列哪项调查证明与画线部分的观点关联性最弱？

- A、丁克家庭在所有被调查家庭中的比例
- B、生育水平与女性生育意愿的相关性
- C、男性和女性的生育意愿在婚前和婚后的变化
- D、“单独”家庭的二孩生育意愿

88

关于当前生育状况的研究，文中未涉及的领域是：

- A、统计学
- B、心理学
- C、教育学

D、社会学

89

根据本文，作者最可能支持下列哪项举措？

- A、提高对独生子女家庭的补贴标准
- B、保证节育措施更加安全与人性化
- C、减少对计生部门的人力与财力投入
- D、为新生儿家庭提供津贴和婴儿保险

90

最适合做文章标题的是：

- A、在现实与政策间周旋
- B、推动摇篮的手，就是推动地球的手
- C、尽信数据不如没有数据
- D、生还是不生，这是个问题

（四）

（二）

过去几年里，智能设备、量化 app 和社交媒体等正逐渐将人类编织在一个机器思维的罗网里。在这个罗网里，人类的各种活动正被一一转化为数字。比如行走，戴一个腕带，你会发现自己每天行走 3000-4000 步、距离 2-3 公里，大约燃烧 100-150 卡路里。

当苹果手表推出时，“量化自我运动”的领袖人物宣称，这些最贴身的小设备以及它们所采集的数据对我们的生活一定会有积极意义——这些数字提供了一个关于我们自己的清晰、干净、容易消化的信息包，可以作为审视自己的一面镜子，揭示日常生活中的某些秘密规律，帮助我们看到平常意识不到的因果关联和相关性，从而更好地认识自己。

更重要的是，这些数字还会为我们的行动提供依据或指引，每当我们想做一些愚蠢的、不健康的或不好的事情时，这些数字会提醒我们，甚至直接进行干预。比如苹果手表内置了触感反馈，如果你坐得太久，手表会震动提醒你该站起来走走。也许以后 iwatch2 能测量你的血清素水平，iwatch3 会知道你完整的基因组图谱，会体贴地告诉你，“基于你的心脏状况，我已经取消了你的有线电视，给你报了一个六星期的健身课程，把你刚才预定的比萨改成了沙拉”。

当然，在健康管理这一实用目的之外，“量化自我运动”背后还有一个宏大的精神性假设：数字有可能最终发掘出有关“我们到底是什么人”、“我们真正想要什么”以及“我们真正应该去往何方”的真相。所以，他们特别喜欢引用苏格拉底的那句话——“未经审视的人生不值得过”。

在一个复杂、不确定的世界里，简捷的答案、简单的方向、准确的知识，往往更有吸引力。今天，我们以科学的名义，将命运托给数字——我们的真实自我，不再取决于内在的思考或感受能力，而是被外化为可处理的数据；我们在无休止的个人数据的生产中寻求独特性，并在不断的刷屏、转发、点赞、分享中获得存在感。这意味着我们的喜好、行为、思想、价值观都成为可计算、可预测的内容，并最终被用来决定我们应该知道什么、如何知道以及如何行动，甚至如何参与社会。

量化自我背后的动机绝非纯粹的认识自我，或者对健康的考量，否则就没有必要分享了。这场运动的深层动机，恐怕更多的是一种炫耀和虚荣，在这个人人都能出名 15 分钟的世界里确保自己不至于被湮没。

量化的尝试，往往也是简化的尝试，而人生的某些层面是无法通过数据来了解的。一百多年前，尼采就用他特有的方式对信息简约主义做出尖锐批评：“什么？难道我们真的希望把‘存在’贬低到只消数学家在室内用一台计算机就能‘运算’出来的地步？”

《福布斯》杂志的记者希尔针对“量化自我运动”及其无数应用程序写过许多文章，在一次自我跟踪实验中，她对该拿这些数据怎么办表达了自己的迷惘。多亏了一些聪明的软件，她发现，“我最幸福的时候是在酒吧喝酒；最不幸的时候是在飞机上、在工作中；星期天是我最开心的一天，其次是星期三；我跟前男友互动比

跟现男友互动更开心”。至于现在怎么做，她却并不知道——“该拿这些这些结果怎么办，我有点糊涂了。这意味着我应该工作时多去酒吧里待着，优化我的幸福感吗？还有，我应该重新考虑跟男朋友的关系吗？”

但凡新技术都要经历三个阶段。首先，它被视为愚蠢的新玩意儿，除了娱乐少数古怪分子外别无他用；然后，当它逐渐变得流行，人们开始指责它是文明的威胁，将人变成孤独的、没脑子的自恋狂。最终，人人都在使用它，我们开始怀疑当初为什么要那么大惊小怪、苹果手机正将“量化自我运动”推入第二阶段——如今，我们每个人都面临一个选择：加入这个游戏，意味着你允许数据定义你是谁；或者拒绝参加这场盛宴，则意味着你放弃了这场盛宴所承诺的美好未来——开放，进步，战胜疾病、衰老和死亡，甚至很可能为之付出高昂的社会成本。

91

下列哪一行为不属于文中所说的“量化自我运动”？

- A、借助网络社交工具分享自己的旅游见闻
- B、用谷歌眼镜分析表情得到个人情绪指标
- C、通过手机 app 计算自己每餐食物的热量
- D、戴睡眠监测器了解自己的睡眠质量

92

作者认为“人生的某些层面是无法通过数据来了解的”，下列哪项最接近这一层面？

- A、晚来天欲雪，能饮一杯无
- B、生命诚可贵，爱情价更高
- C、日啖荔枝三百颗，不辞长作岭南人
- D、不知筋力衰多少，但觉新来懒上楼

93

关于量化自我运动，作者没有提到的是：

- A、可以通过数字体现人类的喜好或行为
- B、在现阶段可能陷入了人们的指责之中
- C、人类的虚荣心是这一运动的深层动机
- D、成功与否将取决于苹果手表的销售量

94

作者最有可能认同下列哪一观点？

- A、量化自我纯粹是为了认识自己的人生
- B、最复杂的意义消解在最简单的数字里
- C、用数字来发掘自己是苏格拉底的追求
- D、少数古怪分子的念头推动了技术进步

95

这篇文章最有可能来源于：

- A、一篇关于哲学的研究论文
- B、一份苹果的销售报告
- C、一篇围绕技术的文化批评
- D、一份健康运动的宣传材料

（五）

（三）

①美国的六十年代，是变化迅疾又复杂多样的时期，那些丈夫死于越战的寡妇、因机器而失业后困苦委顿的青年、整日奔波于生计的市井穷人都认为，穿上高贵典雅的燕尾服或长裙去听一场复杂漫长的古典音乐会，大概是最不靠谱又无法企及的事情。此刻他们所需要的，只是能够在日常生活中弹奏演唱的、能听懂并且为之

感动的音乐。正是在这样的社会背景下，严肃文化与亚文化之间的界沟全线崩溃，自下而上的亚文化完成了对自上而下的正统文化的“逆袭”，茁壮地成长起来。

②下层阶级开始了反抗，中层阶级开始了迷惘。对于未经历过二战，在新一代中产家庭中出生的年轻人来说，他们不用劳动就轻而易举地实现了父辈辛劳一生所追求的“美国梦”：坐拥郊外别墅、汽车、立体声音响、电视和足够的零花钱。但是，丰富的物质生活却带来了精神生活的空虚。许多人在失望之余，试图追求一种比目前生活方式更美好的精神世界。数以万计的青少年们头戴花环在市中心与政府大厦前游行、弹唱、绘画、朗诵诗歌。这些艺术形式简单、大声、直率、平民主义、充满激情、生机勃勃……没有传统艺术家的雕饰与卓然不群，非常普通，亲近随和。

③从文化的建构功能上讲，亚文化已不自觉地上升到凌驾一切文化的高度，与波普艺术、后现代诗歌小说和摇滚乐一起汹涌袭来。其中，演绎手段无限可能的摇滚乐以其音乐文本、演奏方式、服饰、各种行为，还有音乐本身所展示的近乎宗教式的说服力和亲和力，对整整一代青年人的精神世界、处世态度造成了不可估量的影响。披头士、鲍勃·迪伦、吉姆·莫瑞森这些如雨后春笋一般迅速涌现的摇滚新秀，为摇滚乐奠定了最深层的基调。在一定意义上说，摇滚乐本身是一种象征，是这个亚文化兴起年代的缩影。

④亚文化兴起和反传统文化运动的精神核心实质是自由主义和个人主义，这与当时兴起的左翼思潮不无关系。“做你自己的事”（Do your own things）不仅意味着对现实权威、传统、道德、规则、文化的反叛，还意味着从自我的感受出发。反文化运动中不被上流阶层所接受的生活，体现的是个性：人生的目的不再是沿着社会阶级的阶梯向上爬，而是目标的自主选择 and 人的自我实现的过程，其最终目的是创造一个全新的、多样化的社会。

96

将下面这段话填入文章，最恰当的位置应该是：

这种亚文化的崛起源于现代生存方式、历史景况与社会结构下人群对文化本质上要求的转换：庞大的机器轰鸣着改变了生活的节奏，人成了工业生产中的“奴隶”。与此同时，经历了战后 50 年代的经济繁荣后，潜在的不安因素几乎全部爆发出来。黑人要求改变不平等现状，反对种族歧视，民权斗争轰轰烈烈；新“左派”青年走出校园、走向社会，青年造反风起云涌；妇女要求打破传统社会男尊女卑的社会理念，女权运动如火如荼……

- A、①②之间
- B、②③之间
- C、③④之间
- D、④之后

97

根据文章，下列哪组词汇均与亚文化有关？

- ①燕尾服 ②平民主义 ③摇滚乐 ④古典音乐 ⑤美国梦 ⑥迷惘
- A、①④⑤
- B、②③⑥
- C、①②③④
- D、③④⑤⑥

98

文中提到的亚文化，可能无法接受下列哪一观点？

- A、个人是社会的终极价值
- B、所有人都是平等的
- C、政府没有权力去决定什么样的生活才是好生活
- D、私利行为背叛了一个人应肩负起的责任及义务

99

关于亚文化兴起的原因，作者没有提及的是：

- A、战争遗留
- B、国际移民
- C、经济因素
- D、社会思潮

100

作者认为亚文化：

- A、是抚慰失落情绪的精神鸦片
- B、相对于正统文化稍显不体面
- C、应运而生并有利于社会多元
- D、离经叛道可能造成混乱局面