

2016 年上半年全国事业单位联考 B 类《职业能力倾向测验》真题

一、常识判断，根据题目要求，在四个选项中选出一个最恰当的答案。

1

根据我国刑法，下列情形构成犯罪的是：（ ）。

- A、甲将 1 岁多的女儿放到公园，被冻死了
- B、乙收留了孤儿未办理收养手续，将其抚养成人
- C、路人丙看到发生火灾不报警，火灾中 3 人死亡
- D、丁因工作中发生矛盾说要打同事，同事害怕而逃跑，在跑的过程中不小心死了

2

县级以上各级人民代表大会是县级以上地方国家权力机关，其职权不包括：（ ）。

- A、改变或撤销本级人大常委不适当的决定
- B、选举并有权罢免本级人民法院院长
- C、批准本行政区域内的预算执行情况报告
- D、决定并宣布下一级行政区域进入紧急状态

3

民事诉讼法规定了人民法院许可，证人可以通过书面证言、视听传输技术或者视听资料等方式作证的若干情形，下列不属于这些情形的是：（ ）。

- A、因健康原因不能出庭的
- B、因路途遥远、交通不便不能出庭的
- C、因经济困难不方便出庭的
- D、因自然灾害不能出庭的

4

下列哪个主体不能担任精神病的监护人：（ ）。

- A、所在单位
- B、住所的居民委员会
- C、精神病医院
- D、民政部门

5

下列诗句与涉及人物对应不正确的是：（ ）。

- A、天子呼来不上船，自称臣是酒中仙——张旭
- B、举世皆浊我独清，众人皆醉我独醒——屈原
- C、醉里挑灯看剑，梦回吹角连营——辛弃疾
- D、对酒当歌，人生几何，譬如朝露，去日苦多——曹操

6

对清朝边疆的管理不正确的是：（ ）。

- A、在西藏实行政教合一制度
- B、在新疆设置伊犁将军
- C、台湾在建省前归浙江省管
- D、在内蒙古族聚居区实行盟旗制度

7

战争按时间顺序排列错误的是：（ ）。

- A、牧野之战——官渡之战——淝水之战
- B、拿破仑战争——普法战争——美国南北战争

- C、抗美援朝战争——中苏珍宝岛战争——伊拉克战争
D、英阿马岛战役——海湾战争——伊拉克战争

8

四大名著，说法错误的是：（ ）。

- A、赵云是刘备麾下的“五虎上将”
B、“木石前盟”的木指的是绛珠仙草
C、“智取生辰纲”首领是“玉麒麟”卢俊义
D、孙悟空取经后被封为“斗战胜佛”

9

下列成语对应错误的是：（ ）。

- A、三下五除二——珠算
B、丢车保帅——象棋
C、丝丝入扣——纺织
D、严丝合缝——刺绣

10

古代典籍浩如烟海，古籍整理工作非常重要，关于古籍整理，下列说法错误的是（ ）

- A、古籍整理指对中国古代书籍进行校勘、注释等工作
B、经过整理的古籍，有影印本和节选本两种形式
C、古籍中的孤本一定是善本，善本未必是孤本
D、《永乐大典》和《四库全书》都是重要的古籍整理成果

11

关于中国古代文化现象，下列对应正确的是（ ）

- A、战国七雄：赵、魏、吴、齐、秦、楚、燕
B、隋唐六部：户部、吏部、乐部、兵部、刑部、工部
C、五等爵位：公爵、侯爵、伯爵、子爵、男爵
D、科考四级：院试、乡试、府试、殿试

12

关于杭州西湖风景区，下列说法错误的是（ ）

- A、灵隐寺创建于北宋时期
B、“西湖三堤”是指杨公堤、苏堤、白堤
C、西湖文化景观已列入世界遗产目录
D、“雷锋夕照”是西湖十景之一

13

下列关于茶的说法错误的是（ ）

- A、红茶属于全发酵茶
B、碧螺春和铁观音是绿茶的代表
C、茶和可可、咖啡并称世界三大无酒精饮料
D、“功夫茶”起源于广东潮汕地区

14

下列关于战争的诗词与作者对应错误的是（ ）

- A、醉卧沙场君莫笑，古来征战几人回——王翰
B、君不见沙场征战苦，至今犹忆李将军——高适
C、羌管悠悠霜满地，人不寐，将军白发征夫泪——范仲淹
D、四十三年，望中犹记，烽火扬州路——苏轼

15

下列哪一乐器是中国历史最悠久、文化地位最崇高的乐器（ ）

- A、箫
- B、古琴
- C、古筝
- D、琵琶

16

佛教产生于公元 6 世纪①的印度。当时印度是一个种姓制度特别严格的国家，有婆罗门、刹帝利、吠舍、首陀罗四种种姓②，实行的是瓦尔纳制度。佛教讲究众生平等，追求人生解脱③，这势必要触及到对种姓制度的否定。释迦牟尼曾在《增一阿含经》中将四个种姓制度比喻为四大河水，佛门喻为大海，只要出家学佛，就如河入大海，不再有本来的姓，一律称为沙门释子或释家弟子④。

文中画横线部分存在知识性错误的是（ ）

- A、①
- B、②
- C、③
- D、④

17

武侠小说中的一些绝技往往与经典著作有关。下列对应错误的是（ ）

- A、凌波微步——《洛神赋》
- B、北冥神功——《逍遥游》
- C、亢龙有悔——《道德经》
- D、落英神剑掌——《桃花源记》

18

下列哪项与西汉初年的统治政策无关（ ）

- A、黄老思想
- B、休养生息
- C、无为而治
- D、严刑峻法

19

关于《史记》的体例，下列说法错误的是（ ）

- A、经济、水利等专门史用了“书”的形式
- B、“世家”中有孔子的传记
- C、“表”按年月时间记述了帝王的言行政绩
- D、“列传”中正面记载了匈奴的发展历史

20

关于水资源，错误的是：（ ）。

- A、地球上淡水资源的主体是冰川
- B、水圈循环能够调节气温
- C、水圈循环的主要动力是月球引力
- D、湿地净水源具有“排毒”功能

21

关于月相说法错误的是：（ ）。

- A、上弦月——七夕
- B、新月——露似真珠月似弓

- C、渐亏凸月——重阳节
- D、满月——但愿人长久，千里共婵娟

22

关于三部曲，作者和作品错误的是：（ ）。

- A、巴金《幻灭》《动摇》《追求》
- B、王小波《黄金时代》《白银时代》《青铜时代》
- C、基耶斯洛夫斯基《蓝》《白》《红》
- D、凡尔纳《格兰特船长的女儿》《海底两万里》《神秘岛》

23

关于我国境内原始人，说法错误的是：（ ）。

- A、元谋人是我国最早的人类
- B、北京人已经能够使用天然火
- C、河姆渡居民能种植水稻
- D、半坡居民是父系氏族部落

24

关于天文学下列说法错误的是：（ ）。

- A、“七月流火”指火星
- B、北斗七星位于大熊座
- C、哈雷彗星环绕太阳一周需要 76 年
- D、太阳除了自转，还绕着银河系的中心运动

25

关于铁下列说法错误的是：（ ）。

- A、铁的导电性比铜弱
- B、铁器表面的锈可减缓其内部的锈蚀速度
- C、我国在战国时期已使用铁器农具
- D、铁可以从硫酸铜溶液中置换出单质铜

二、言语应用，本部分包括表达与理解两方面的内容。请根据题目要求，在四个选项中选出一个最恰当的答案。

26

我国目前 600 多座城市中，有 2/3 的城市缺水。有的城市由于过度使用地下水，已出现城区部分地段塌陷的严重后果，这些城市的可持续发展形势已十分严峻，提高城市水利用率已_____。

填入划横线部分最恰当的一项是：（ ）。

- A、迫在眉睫
- B、时不我待
- C、十万火急
- D、千钧一发

27

目前，我国不少城市已处于超载状态，“城市病”严重，而人口还在不断_____，许多中小城市和小城镇发展缓慢，甚至出现_____，对农民工失去吸引力。面对这一现状和城镇化所带来的巨大压力，城市群的发展被寄予厚望。

填入划横线部分最恰当的一项是：（ ）。

- A、增加 空置
- B、迁移 停滞
- C、涌入 萎缩

D、流动 退化

28

中国有句谚语：“月下看佳人，马上看壮士。”一定条件下，朦胧比清晰更富有美感，朦胧可以藏拙，趋于尽美，_____地赏美会有这种效果吗？

填入划横线部分最恰当的一项是：（ ）。

A、吹毛求疵

B、明察秋毫

C、洞若观火

D、目光如炬

29

尽管电子化阅读具有携带方便，容量较大，可选择范围广等优势，但是不少专家指出，利用_____时间进行的阅读，获得的是碎片化信息，令读者无须_____思考，容易形成思维“惰性”。

填入划横线部分最恰当的一项是：（ ）。

A、短暂 冷静

B、闲暇 独立

C、业余 深入

D、零散 严谨

30

当一个湮没个性、缺少选择的社会开始转向一个价值多元、选择多样的社会时，如果不能根据客观情况对法律法规进行适当的修正，只会将其推入_____之境。语言文字领域亦复如此。所以，此次异体、生僻字的“转正”值得_____。

填入划横线部分最恰当的一项是：（ ）。

A、被动 斟酌

B、两难 珍视

C、矛盾 反思

D、尴尬 喝彩

31

就形式而言，引注被历史赋予两种可能，即索引工具和道德标尺，引注以其标记技术直接显示所引内容的存在处所，方便人们_____，同时也有利于人们全面地掌握所引内容的准确意义。另外，直观地表明作者对事实和前人劳动的_____，显示自己道德的人格。

填入划横线部分最恰当的一项是：（ ）。

A、搜索 认同

B、核实 尊重

C、理解 敬畏

D、查阅 关注

32

公共场所的聚群，是群体现象的一种形态。聚群由个体构成，人们相互间虽不认识但却聚集在一起，可以共同行动但不能持续不散。聚群现象往往伴随着情绪非理性，可能群情高昂，也可能_____。例如，“组团式过马路”即体现出典型的不文明行为群聚性，闯红灯过程中大家各自匿名、互相壮胆，又互相依赖，以此来_____责任。

填入划横线部分最恰当的一项是：（ ）。

A、各行其是 躲避

B、溃不成军 承担

C、一哄而散 分散

D、偃旗息鼓 转移

33

先驱者们深厚的学养和科学的态度，对_____当下学界弥漫着的浮泛学风，有着深刻的现实意义。他们严谨扎实的作风和科学求实的态度，永远不会过时，仍然是当代比较文学研究者应当继承和学习的。但这决不意味着我们要重复前人的劳动，_____地走在前人已经走在的道路上。

填入划横线部分最恰当的一项是：（ ）。

A、改正 按部就班

B、矫正 如法炮制

C、纠正 心安理得

D、匡正 亦步亦趋

34

中国人占世界首位，但是大数据只是日本的 60%，北美的 7%，而且存下的数据很多未得到保护，部门间的数据很难共享，导致数据不_____，重复投资。另外，我们缺乏可控的大数据分析，要在保护隐私的前提下，保证大数据能够共享，而不是对其进行_____。

填入划横线部分最恰当的一项是：（ ）。

A、真实 改造

B、全面 封锁

C、完备 曝光

D、准确 掩盖

35

在我国逻辑哲学的研究刚刚起步时，人们致力于引进、学习西方逻辑哲学理论。因此，部分学者产生一种_____，似乎西方逻辑哲学的理论就是逻辑哲学的唯一真理。他们对待西方逻辑哲学理论，不是采取批判的态度，去其糟粕，取其精华，并以之作为构建我国逻辑哲学的素材，而是全盘照搬，_____。

填入划横线部分最恰当的一项是：（ ）。

A、错觉 奉为圭臬

B、误解 肃然起敬

C、倾向 人云亦云

D、认识 顶礼膜拜

36

皮影戏是我国民间工艺美术与戏曲巧妙结合的独特艺术品种，某种程度上可以说是我国动画最早的表现形态。有人说，对于现在的孩子，皮影戏这门古老的艺术已经太_____。其实，皮影戏并没有因为历史的久远而_____，相反，皮影戏的幽默诙谐、简约古朴完全可以转换为颇具时尚气息的中国式卡通形象。

填入划横线部分最恰当的一项是：（ ）。

A、幼稚 不适时宜

B、晦涩 一成不变

C、遥远 老气横秋

D、落伍 每况愈下

37

时尚快捷的 3D 打印技术余热未尽，更加让人_____的 4D 打印又将出现。除了拥有 3D 打印的“长宽高”立体三维结构，4D 打印新增了一个维度，叫做“时间”。这意味着，4D 打印出来的东西，不再只能以_____的形态存在，而是可以根据设定的时间，在一定条件的触发下，自动发生形状的改变。不过，4D 打印技术非常复杂，目前仍处在_____期，主要的应用场景还是在实验室里。

填入划横线部分最恰当的一项是：（ ）。

A、期待 稳定 探索

- B、惊叹 固定 概念
C、折服 相同 开发
D、意外 单一 构想

38

“不明飞行物”的消息之所以吸引眼球，是因为那可能是外星人访问地球的_____。如果能够证实，就有可能实现人类与外星人之间的_____，这对人类社会的影响会是极其巨大的。能够访问地球的外星生物，所掌握的科学技术一定远远超过人类的水平，地球人就有可能因此免去数百年甚至更长的_____过程，实现科学和技术的大飞跃。

填入划横线部分最恰当的一项是：（ ）。

- A、证据 接触 摸索
B、载体 交流 探索
C、途径 互动 实验
D、痕迹 共赢 试验

39

回首二十世纪，一代代学者以“学术者，天下之公器”的精神，为世纪立言，为中国文化立心。学者们_____，将中国文化放在世界文化大视野中去审视，放在现代化的总体进程中去对比；或关注中国文化原典精神，对中国原典精神进行现代阐释；或关注中国文化中的学统、道统、政统关系，期望在道德理想主义中由“内圣”开出新“外王”；或关注中国哲学的内在超越问题，致力于东西方哲学思想的汇合；或以高人逸士的_____，吞吐中西的胸襟，洞察心性灵魂，而_____，写出诗性感悟。

填入划横线部分最恰当的一项是：（ ）。

- A、殚精竭虑 风范 独出机杼
B、呕心沥血 风格 别出心裁
C、惨淡经营 风度 妙手偶得
D、煞费苦心 风采 灵光乍现

40

新发现的语言中，许多语言使用人数已不足万人，有的甚至更少，如木佬语，调查者在2000年调研时，仅有两位80多岁的老人会讲，是_____的濒危语言。中国境内的语言，尤其是少数民族语言是语言研究的“富矿”，由于这些新发现语言处于相对_____的环境，很多语言保留了古代语言的面貌，对构建语言演变的历史脉络和汉藏语学科研究具有重要意义，其研究价值之高是_____的。

填入划横线部分最恰当的一项是：（ ）。

- A、危在旦夕 原始 有目共睹
B、屈指可数 遥远 众所周知
C、名副其实 封闭 不言而喻
D、毋庸置疑 偏僻 不可思议

41

- ①而在直接融资的领域，改革的真正难题则在于这个市场的定位
②但受金融管制，特别是利率管制的大环境影响，新主体的生存都很成问题
③实际上，主体的多元化必须和利率市场化相配套才能达到效果
④目前，改革的中心主要放在了主体多元化上
⑤对于间接融资领域金融改革的目标而言，利率市场化和主体多元化是改革方向
⑥即以民营银行或者联网银行的崛起倒逼原有银行体系的改革

将以上6个句子重新排列，语序正确的是：（ ）。

- A、⑤④⑥②③①
B、⑤①③④⑥②

C、④⑥③⑤②①

D、④⑥②③⑤①

42

①但在浸满水的土壤或湖底沉淀物中，氧气是稀缺的，在这种情况下有机物发生厌氧分解，并释放甲烷

②就和我们打开冰箱门一段时间后，食物解冻并且开始变质的过程一样

③湖下的甲烷分子随着水中气泡的逸出，冲破湖面，进入大气

④氧气促进细菌和真菌耗氧分解有机物，产生二氧化碳

⑤但当冰层融化，以前被固定起来的碳在微生物的作用下迅速分解，产生气体

⑥占地球面积 20%的冻土带在地表下几十米内储存了约 9500 亿吨碳，这种由动植物遗骸经过上万年形成的碳，冻结在冰层下的众多冰湖之中，与空气隔绝

将以上 6 个句子重新排列，语序正确的是：（ ）。

A、②④①③⑥⑤

B、③④⑤②⑥①

C、④①⑥②③⑤

D、⑥⑤②④①③

43

①当家长们开始注意到这些网吧存在的时候，他们的孩子早已是里面的常客

②孩子的内心，恰恰是问题的症结所在

③网络时代，不让孩子上网几乎是不可能的，一些家长却乐此不疲地进行着这种尝试

④这些家长们往往忽视了隐藏在大街小巷的网吧

⑤他们不让孩子玩电脑、玩手机，试图将孩子屏蔽在网络之外

⑥其实，这些家长只是太过于在意外部的因素，反而忽视了孩子的内心世界

将以上 6 个句子重新排列，排序正确的是：（ ）。

A、①③⑤⑥④②

B、②⑥⑤④①③

C、③⑤④①⑥②

D、④①⑥②⑤③

44

①我喜欢拍摄普通人的生活

②遇到大事件也没有机会靠近去拍，只能去拍场景或环境

③我后来发现这样拍也有好处，就是可以帮助你更冷静地观察

④这种民间视角，最开始其实是因为受到现实条件的限制

⑤以前我一直不在主流的报纸工作

⑥这样片子就不会就事论事，而是会把这个事件放在一个大环境中去看，去展示它的环境和周边关系

将以上 6 个句子重新排列，排序正确的是：（ ）。

A、①④⑤②③⑥

B、①③②⑥⑤④

C、⑤④①③②⑥

D、⑤②①⑥③④

45

①13 世纪，马可·波罗向传说中的东方行进，来到中国、印度等国

②马可·波罗是个商人，不是匠人，他把闪光的琉璃看成闪光的金子

③1298 年前后，描述了东方各种奇异风物的《马可·波罗游记》成书，马上在欧洲广泛流传

④这本书激起欧洲人对东方黄金的觊觎，最终引起了新航路和新大陆的发现

⑤东方古国的富饶让他双眼迷离：黄金屋顶、琉璃地面、华贵行人，触目所及皆是神奇的造物

⑥传说给了他心理暗示，使他相信“黄金国”确实存在于东方

将以上6个句子重新排列，排序正确的是：（ ）。

- A、①⑤②⑥③④
- B、②⑤⑥③④①
- C、③④②⑥①⑤
- D、④①②⑥⑤③

46

戏曲在宋代形成之后，许多类型都以“杂剧”命名，如宋杂剧、元杂剧等，它们虽然是纯粹的戏剧，但是表现手法依然是“杂”的，戏曲可以让观众听到悦耳的歌声、诙谐滑稽的笑话、声情并茂的说白，看到让人欣怡的舞蹈身段、高难度的武打杂技和神似于生活动作的表演，只不过是将多种表演形式高度融合在一起罢了。由此可见，_____，可以说，这是戏曲发展的重要规律。

填入划横线部分最恰当的一句是：（ ）。

- A、戏曲一定要是民族的、传统的、多元的
- B、戏曲在形成和发展过程中融合了众多表演技艺的精华
- C、对待戏曲艺术，最好的态度就是允许其以多元化形态存在
- D、要使戏曲跟上历史前进的步伐，必须使之保持特性

47

唐朝经过种种波澜起伏，并最终由于安史之乱而出现一个很大断层，可是它并没有因此分崩离析，而是一直持续了三百年之久。仅从这一点来看，唐代的历史实际在不断地告诫我们：对于唐代，是不能用简单方法来加以解释的。那么，_____？

填入划横线部分最恰当的一句是：（ ）。

- A、唐王朝的国家权力体制是如何运作的呢
- B、唐王朝的历史会带给我们怎样的启示呢
- C、唐王朝的向心力究竟表现在哪些方面呢
- D、唐王朝的政治格局经历了怎样的变化呢

48

对于大部分大陆公民而言，房产作为不动产是其个人财产中最大的组成部分，也是投资的主要途径。_____，灰色财产、隐形富豪为数众多，加上近年来屡有个人隐私外泄新闻传出，“不动产统一登记”势必会遭到很多人的强烈抵制。

填入划横线部分最恰当的一句是：（ ）。

- A、虽然在技术层面上早已经不存在难题
- B、由于“财不外露”一直是中国人的财产观
- C、既然购置不动产是中国人的一种传统理念
- D、因为不动产登记涉及的信息种类复杂繁多

49

“以图像证史”近年来在史学界已渐成风气，这扩大了史料来源，_____。南宋史学界郑樵在其著作《通志》中指出“图谱之学，学术之大者”、“图，经也；文，纬也。一经一纬，相错而成文”，说明图像可以用生动具体的形象，补充文字难以传递的信息。

填入划横线部分最恰当的一句是：（ ）。

- A、不仅有一般图片，还包括“形象史学”倡导者所说的“一切实物”
- B、不仅用来证史，还以图像为主体，开辟新的研究领域
- C、但需要耗费大量精力建立图像资料库，相关理论研究也有些滞后
- D、也继承了我国自古就有的“左图右史”、图史互证的传统

50

不论是出于文化成绩欠佳的无奈，还是因为有着坚定的艺术理想，海外艺术留学无疑给中国学子提供了新的人生选择。_____。无论行走在国际舞台，还是师从中国老师，最重要的是适合自己。


填入划横线部分最恰当的一句是：（ ）。

- A、没有一条路适合所有人走
- B、一样的艺术有着不一样的人生
- C、留学的主要目的是提高自己
- D、艺术类职业能够给人较高的社会认同感

三、判断推理，本部分包括图形推理、定义判断、类比推理与逻辑判断四种类型的试题，在四个选项中选出一个最恰当的答案。

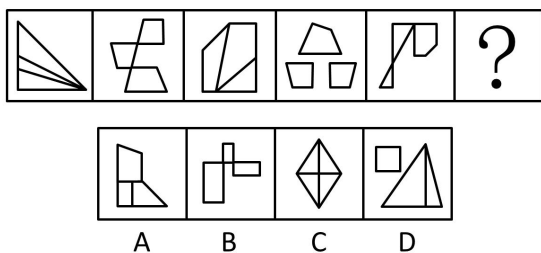
51

从所给的四个选项中选择最合适的一个填入问号处，使之呈现一定的规律（ ）。




52

从所给的四个选项中选择最合适的一个填入问号处，使之呈现一定的规律（ ）。



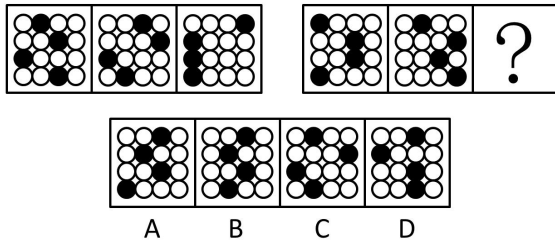
53

从所给的四个选项中选择最合适的一个填入问号处，使之呈现一定的规律（ ）。



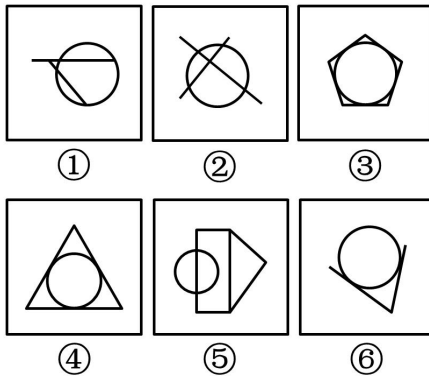
54

从所给的四个选项中选择最合适的一个填入问号处，使之呈现一定的规律（ ）。



55

把下面的六个图形分成两类，使每一类图形都有各自的共同特征或规律，分类正确的一项是（ ）。



- A ①②④,③⑤⑥ B ①③⑥,②④⑤
C ①②⑤,③④⑥ D ①③④,②⑤⑥

- A、A
B、B
C、C
D、D

56

派出机关是指由县级以上地方人民政府经有权机关批准，在特定行政区划内设立的行使相当于某一级人民政府管理职权的行政机关。根据上述定义，下面哪项属于派出机关的范畴？（ ）

- A、北京市丰台区洋桥派出所
B、北京市海淀区紫竹院街道办事处
C、山西省太原市小店区工商所
D、山西省清徐县税务局

57

市场区隔是指将消费者依不同的需求、特征区分成若干个不同的群体，引导消费者认知并使用相关产品或服务，进而获得消费者的回馈信息，旨在确定目标群体并制定营销策略。根据上述定义，下列选项中不涉及市场区隔的是（ ）。

- A、某公司对天津地区的企业办公市场调研，发现在写字楼办公、居家办公、酒店办公三类市场中消费者对酒店办公的需求在逐年上升
B、某方便面生产厂家对不同年龄段消费者进行分析，发现 20-30 年龄段的人是消费主体，他们大多数人更中意“大块面饼、双料包”的方便面
C、某日用品公司针对欧美和亚洲人群的肤质特点设计了不同的润肤霜，数据显示不管在欧美地区，还是在亚洲，适合中性肤质的润肤霜最受欢迎
D、某手机制造商 2 年推出一款新手机，并限量发售 2 万部，因此产品上市很快就被抢空

58

X型人才是按知识结构划分出来的一种新型人才类型。它用字母X形象地反映出这类人才的知识结构特点。其一，X型人才必须系统的掌握两门专业知识；其二，两门专业知识必须具有明显的交叉点、结合部。X型人才比较适合做两种专业交叉结合的工作。根据上述定义，下列各项中属于X型人才的是（ ）。

- A、美国著名投资家查理·芒格有儿童一样的好奇心，又有一流科学家所具备的研究素质和科学研究方法，他的一生有强烈的求知欲，几乎对所有问题都感兴趣
- B、除绘画之外，达芬奇在天文、物理、医学、建筑、军事、水利、地质等领域都有不朽的成就
- C、福克斯新闻频道的当家主持 Gerado Rinera，毕业于布鲁克林法学院，他认为他的成功与在法学院学习期间获得的与人高效沟通的技巧，以及迅速找到问题核心的思维方法不无关系
- D、刘晓明上了一所军医大学学习临床医学，本科毕业后考取本校医学心理学专业硕士研究生，参加工作后，在临床做慢性病人的心理干预

59

居民纳税人是指在中国境内有住所或无住所而在境内居住满一年的人，这里所说的在中国境内有住所的个人是指因户籍、家庭经济利益关系而在中国境内习惯性居住的个人，这里所说的在境内居住满一年指在一个纳税年度中（指1月1日到12月31日）在中国境内居住365日，临时离境的，不扣减日数。这里所说的临时离境是指在一个纳税年度中一次不超过30日或者多次累计不超过90日的离境。根据上述定义，下列人员在中国境内期间属于居民纳税人的是（ ）。

- A、甲：美国人，自2012年4月1日至2013年6月1日期间一直在中国境内居住并工作
- B、乙：日本人，2012年1月1日来中国，2013年2月1日离境，2012年期间一次回国工作1个半月
- C、丙：新西兰人，2011年5月20日入境旅游，至2012年8月期间两次临时离境，期间两次临时离境各25天
- D、丁：生长在中国，2001年1月1日至2003年1月1日期间曾在德国留学，此后随父母在上海生活和工作

60

森林效应是指一棵树如果孤零零地生长于荒郊，即使成活也多半是干枯矮小的；如果生长于森林之中，则枝枝争抢雨露，叶叶竞取阳光，从而可能形成参天耸立、郁郁葱葱的景象。根据上述定义，下列没有反映“森林效应”的是（ ）。

- A、狼常到牧场叼羊，牧场主请猎手围猎狼群，但不久，羊群体质下降，疫病流行，牧场主请来专家会诊，结论却是请几只狼来，使羊群重焕活力
- B、东风街只有一家饭店，饭菜很一般，后来街对面开了另一家饭店，为了争夺客户，两家店都使出浑身解数，翻新菜品并降低价格来吸引消费者
- C、羽毛球锦标赛，球队会分析对方球员的打法，找到他们的优势和劣势，试图在比赛中扬长避短，击败对手
- D、某房产中介决定根据员工绩效排名发放年终奖，因此每个员工的业绩都有了很大提高

61

鹅：羽毛球（ ）。

- A、大象：象牙
- B、鸡：鸡尾酒
- C、狐狸：皮草
- D、狼：狼图腾

62

考古：文物（ ）。

- A、旅游：风景
- B、医学：人体
- C、数学：数字

D、化学：实验

63

春：秋：春秋（ ）。

A、铁：锈：铁锈

B、绿：地：绿地

C、江：湖：江湖

D、明：月：明月

64

西游记：孙悟空：吴承恩（ ）。

A、三国志：曹操：刘备

B、红与黑：于连：司汤达

C、竞选州长：黑人小孩：马克吐温

D、希腊神话：宙斯：荷马

65

棕熊 对于（ ）相当于（ ）对于 迁徙。

A、本能 鸟类

B、繁殖 鱼类

C、动物 习性

D、冬眠 候鸟

66

今年1月至6月，某品牌轿车在全国的销售量为1万台，仅占去年全年该品牌国内销售量的40%，由此可推测，今年该品牌轿车全年的销售量一定少于去年。以下哪项如果成真，最能削弱上述结论？（ ）

A、该品牌轿车今年的售价低于去年

B、该品牌轿车去年销售量的70%是在上半年完成的

C、通常来说，轿车全年销售量的70%是在9月至12月之间完成的

D、该品牌轿车去年的销售量比前年少

67

未剥皮的文玩核桃价格从两年前的20元/斤涨到了今天的120元/斤，可见文玩核桃的种植者们正在哄抬物价，相关部门应出台措施规范市场，控制因炒作所致的价格上升。以下哪项如果为真，最能削弱上述结论？（ ）

A、由于病虫害和过度采摘，文玩核桃的产量较前两年明显减少

B、文玩核桃的产区距离城市主要消费地较远，运输费用高

C、由于价格的上升，更多人进入到文玩核桃种植业，希望获利

D、近两年来文玩核桃市场已经形成了一个相对固定的买家群体

68

有研究者对喝葡萄酒以及滴酒不沾的人进行了调查发现，与滴酒不沾的人相比，喝葡萄酒的人患抑郁症的几率低32%。因而研究者认为，葡萄酒可降低抑郁症患病率。以下哪项如果为真，最能质疑上述结论？（ ）

A、与滴酒不沾的人相比，喝白酒的人患抑郁症的几率低50%

B、全世界抑郁症患病率最高的地区，恰巧是几乎所有成年人都饮用葡萄酒的地区

C、葡萄酒中含有刺激大脑活性，提高神经兴奋性的成分

D、患有抑郁症的人常会借酒消愁，葡萄酒饮用量显著增多

69

正常人体内的酸碱度（PH值）稳定在7.3-7.45之间，是偏碱性的。之所以这么稳定，其原因在于人体内有三大调节系统，分别为体内缓冲系统调节，肺调节和肾脏调节。如果体内的PH值低于7.35，就属“酸中毒”。

有一种理论认为，癌症患者几乎都是酸性体质，因此酸性体质会诱发癌症。以下哪项如果为真，最能质疑这一理论？（ ）

- A、. 现代医学研究证实，癌症是由多种因素导致的
- B、健康人体内的 PH 值一般不会受摄入食物的影响而改变
- C、人的身体处于“酸中毒”状态，若未得到及时治疗，不出几天就会死亡
- D、没有证据表明癌症患者的人体调节系统失常，“酸性体质”难以界定

70

熔岩管道形成于火山喷发边缘的岩浆冷却过程，在熔岩周围形成一个坚硬外壳。当火山喷射的岩浆逐渐冷却，坚硬的火山管道变空，形成一种巨大的隧道结构。有科学家发现月球表面下也存在这种“熔岩管道”，其内部中空，可供居住，因此他们认为这些“管道”可作为未来的人类月球基地，抵御月球恶劣的气候状况。以下哪项如果为真，不能削弱上述结论？（ ）

A、火山管道普遍存在于地球，一般其内部需要数十万年才能逐渐冷却下来，目前在月球尚未发现已冷却的“管道”

B、月球的大气层较稀薄，不具备地球厚密大气层形成的保护层，因此太阳辐射将直接影响月球表面存在的任何物体

C、迄今发现的月球“熔岩管道”是通过月球管道探测器拍摄的，其稳定性只能通过计算机模拟来测试，无法实测

D、一般来说，熔岩管道宽度在 1 公里以上会相对稳定。据测算，绝大多数月球熔岩管道宽度尚不足 1 公里

71

费米悖论提出，银河系大约有 2500 亿 (2.5×10^{11}) 颗恒星，可观测宇宙内则有 700 垓 (7×10^{22}) 颗，即使智慧生命以很小的概率出现在围绕这些恒星的行星中，则在银河系内就应有相当大数量的地外文明存在；考虑到智慧生命克服资源稀缺的能力和对外扩张的倾向性，任何高等文明都应会寻找新的资源和开拓其所在的恒星系统而涉足邻近的星系。因此，宇宙中存在且可探测到地外文明。以下哪项如果为真，不能削弱以上结论？（ ）

- A、智慧生命是很稀少的，人类对智慧生命一般行为的理解是有误的
- B、目前人类没有在可观测的宇宙范围内发现其他智慧生命的存在
- C、地球拥有满足生命维持生存和演化的条件，才演化出高等智慧生命
- D、迄今为止，没有任何先进的地外文明访问地球

72

近年来，人们对网络高等教育的品质信任度越来越高。据一项民意调查显示，某国 37% 的公民称他们同意网络高等教育能提高教育的质量。相比 2012 年的 33% 和 2011 年的 30%，这个数字有所提高。这表明，攻读大学学位的方式将出现一波新的重大变化。以下哪项如果为真，最能反驳上述结论？（ ）

- A、该国近一半的商界领袖说他们会雇佣在网络高等教育获得学位的人到自己的公司工作
- B、私营企业对网络高等教育的毕业生的信任度越来越高
- C、目前，网络高等教育注册人数的增长速度比以往有所放缓
- D、该国 77% 的公民称传统高等教育能提供最高质量的教育

73

春节期间，朋友用手机互发电子红包成为新时尚。已知，小明给他手机通讯录上年龄比自己小的每一位好友都发了电子红包；小张收到了比小明年龄还大的好友发来的电子红包；小红是小明和小张的共同好友，但没有收到任何电子红包。根据以上信息，可以得出以下哪项？（ ）

- A、如果小张在小明的手机通讯录中，则小张比小红年龄大
- B、如果小红在小明的手机通讯录中，则小红不比小明年龄小
- C、小红不在小张的手机通讯录好友中

D、小张是小红和小明的共同好友

74

在某私营公司的一次董事会上，大家就研发部门展开了讨论。

副董事长说：我们是私营企业，就应该以盈利为目的。为了节约开支，我建议撤销研发部门，因为公司为研发而支付的费用太高。

总经理对此反驳说：我不同意这样做，研发部门集中了我公司最好的技术人员，他们可以研发出高质量的新产品。

以下哪项如果为真，最能支持总经理的观点。（ ）

- A、高收益的公司都有自己的研发部门
- B、优秀的技术人员是公司盈利的根本保证
- C、高质量的新产品可以很快占据市场
- D、高质量的新产品可以使公司获得高额利润

75

在某私营公司的一次董事会上，大家就研发部门展开了讨论。

副董事长说：我们是私营企业，就应该以盈利为目的。为了节约开支，我建议撤销研发部门，因为公司为研发而支付的费用太高。

总经理对此反驳说：我不同意这样做，研发部门集中了我公司最好的技术人员，他们可以研发出高质量的新产品。

以下哪项如果为真，最能质疑总经理的观点。（ ）

- A、研发部门已经开发的产品没有受到市场的欢迎
- B、研发新产品需要较多的前期投入
- C、好的技术人员可以为公司树立人才济济的形象
- D、私营公司既要考虑经济效益，也要考虑社会效益

四、数量分析，本部分包括数学运算和资料分析两种类型，在四个选项中选出一个最恰当的答案。

76

一个长方形菜地长为 X 米，宽为 Y 米，面积为 Z 平方米， $Z=X+Y+3$ ，问 $X+Y$ 的值

- A、1
- B、3
- C、5
- D、7

77

汽车以每小时 54 千米的速度笔直地开向峭壁，驾驶员按一声喇叭，6 秒后听到回声，已知声音的速度是每秒 340 米，问听到回声时，汽车离峭壁的距离是多少米？

- A、975
- B、1020
- C、1065
- D、1155

78

甲和乙两名水平相当的选手打羽毛球，每局每人的胜率都是 50%，如果两个人打五场，甲至少连胜三场的概率为（ ）。

- A、 $1/4$
- B、 $1/8$
- C、 $1/16$
- D、 $3/16$

79

将一张足够大的正方形纸，横竖各对折两次之后，用剪刀沿着直线剪一刀，问最多可能把这张纸剪成多少个部分？

- A、9
- B、10
- C、15
- D、16

80

某公司销售的一种设备有一代和二代两种型号，二代设备比一代设备每台贵 5000 元。已知本月一代设备和二代设备的销售额分别为 30 万元和 15 万元，问一代设备最少比二代设备多卖了多少台？

- A、3
- B、7
- C、9
- D、20

(一)

2014 年，中国电子商务市场交易规模达 13.4 万亿元，同比增长 31.4%，其中，B2B 电子商务市场交易额达 10.0 万亿元，电子商务市场细分行业结构中，B2B 电子商务市场份额占比约为 74.6%，网络零售市场份额占比为 21.0%，O2O 市场份额占比为 44%。

2010-2014 年中国电子商务发展情况

| | 2010 年 | 2011 年 | 2012 年 | 2013 年 | 2014 年 |
|--------------------------|--------|--------|--------|--------|--------|
| 电子商务市场交易规模 (万亿元) | 4.5 | 6 | 7.9 | 10.2 | 13.4 |
| B2B 电子商务交易规模 (万亿元) | 3.8 | 4.9 | 6.3 | 8.2 | 10.0 |
| B2B 电子商务营业收入 (亿元) | 96 | 130 | 160 | 205 | 255 |
| B2B 企业规模 (家) | 9200 | 10500 | 11350 | 12000 | 11200 |
| 网络零售交易规模 (亿元) | 5141 | 8019 | 13205 | 18851 | 28211 |
| 网络零售占社会消费品 零售总额比重 (%) | 3.5 | 4.4 | 6.3 | 8.0 | 10.6 |
| 网络零售购物用户数 (亿人) | 1.58 | 2.03 | 2.47 | 3.12 | 3.80 |

81

2013 年，平均每个网络零售购物用户通过网络零售渠道产生的交易额约为（ ）。

- A、4 千多元
- B、5 千多元
- C、6 千多元
- D、7 千多元

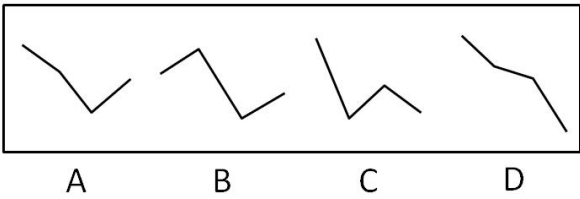
82

2013 年，B2B 电子商务交易规模占电子商务市场交易规模的比重约为（ ）。

- A、70%
- B、75%
- C、80%
- D、85%

83

以下哪项最能反映 2011-2014 年网络零售交易规模的增速变化趋势？



- A、A
- B、B
- C、C
- D、D

84

若 2015 年电子商务市场交易规模增速比 2014 年高 3 个百分点，则 2015 年的电子商务市场交易规模约多少万亿元？

- A、18
- B、15
- C、24
- D、21

85

能够从上述材料推出的是（ ）。

- A、2011 年社会消费品零售总额超过 20 万亿元
- B、2014 年网络零售购物用户数比三年前翻了一番
- C、2014 年平均每家 B2B 企业实现了 200 多万元的营业收入
- D、2012 年 B2B 企业数同比增速快于网络零售购物用户数同比增速

五、综合分析，所给出的文字资料均有若干问题要你回答。你应根据资料提供的信息进行分析、判断和处理。

（二）

（一）

从“超女”、“快男”到“中国好歌曲”。作为音乐和电视工业结合产物的音乐选秀，在制造音像奇观的同时，更在今日演变成为承载工作与劳动这一“元叙事”的平台。从“老子明天不上班，不用见客户装孙子，明天不上班可以活出一点真实”（《老子明天不上班》）到“她妈妈不喜欢我，因为我是唱歌的，没有固定工资，不想她嫁给我”（《她妈妈不喜欢我》），敏锐的人们会感觉到，这是新自由主义时代劳动不稳定化带来的普遍神话和焦虑。音乐、工作与美好生活，这样的叙事被不断地吟唱。

仔细考察中国流行音乐史，正统的唱片发行作为固定盈利模式的黄金时代本就极其短暂。上世纪 80 年代末到 90 年代初，在双轨制和市场化大潮下，被砸了铁饭碗的大量音乐人才从一开始就是以青歌赛、晚会、走穴、歌舞厅等方式谋生，再加上独特的版权制度，可以说港台和欧美流行乐那种比较稳固的唱片工业形态从来就没有在大陆确立过。如今音乐选秀的大行其道就部分源于这笔奇特的“遗产”。在这种背景下，流水线标准化唱片工业，还未被中国人完全接受，就被抛弃了。一个连带的结果就是，那些独立音乐人梦寐以求的高端细分市场也不容易形成。

选秀音乐工业的悖谬之处就在于此。这样一笔“遗产”催生一种新的生产方式：在这样一个人人渴求劳动价值、稳定就业的国家，却因处在劳动关系转型的时期，不管是曾经属于体制内的文艺工作者，还是各种职业歌手，都处在一种不稳定状态，甚至被看成没有固定收入的“天桥艺人”。我们需要在这个劳动关系变迁的意义上理解“她妈妈”为什么“不喜欢我”，因为“我没有固定工作”。

（二）

不管是“她妈妈”还是“我爸爸”，所有的父母基本上都以反对甚至贬低孩子搞音乐的“守旧”家长形象出现，与追求梦想和自由的孩子之间构成对立关系。但是这些模糊了面目的同质家长的出现，遮蔽的正是作为经历了传统体制历史的一代人对于稳定劳动关系仍然强烈的诉求，和对劳动生产性的朴素认知。而子女们通过选秀胜出，证明自己是对的、家长是错的，以此完成反叛，从而为一种新的、自负盈亏式的、不稳定的、临时的工作伦理提供充分的正当性。

这种新的工作伦理得以顺畅运转的奥秘在于，它把唤寻出的理想主体安置在了工业时代异化劳动的对立面上，即逃离劳动控制，“老子明天不上班，不用见客户装孙子，明天不上班可以活出一点真实”。“老子”们并不是不想要固定工作，而恰恰是他们，真切地体验到，在这个时代，固定工作往往不再意味着福利与尊严。

要在这个意义上来理解那些参加选秀的青少年和不想上班的音乐人。在他们破釜沉舟的“奋斗”背后，依然是从必然王国向自由王国跃迁的向往。因此，将他们的诉求转化为带有公共表达性的行动和主张，不再只是反抗“她妈妈”和“我爸爸”，而是打造了一个人人有份稳定收入、想唱就唱的自由世界，才是真正的解放之路。

86

下列哪项属于第2段中所提到的“遗产”？

- A、独特的版权制度
- B、标准化的唱片工业
- C、工业时代的异化劳动
- D、高端细分的音乐市场

87

根据这篇文章，在当今时代：

- A、稳定的工作被追求纯粹梦想的人所鄙视
- B、追求自由的音乐人仍然渴望福利与尊严
- C、音乐工业回归以唱片发行为主的盈利模式
- D、市场化使音乐工作者逐渐沦为社会的底层

88

这篇文章主要说的是：

- A、时下音乐选秀节目的浮躁与虚伪
- B、中国音乐工业的先天不足与畸形发展
- C、选秀音乐工业折射出青年人对自由的诉求
- D、工业时代新的伦理秩序造成个体劳动的异化

89

根据这段文字，作者对选秀节目参赛者的态度是：

- A、质疑，认为他们虽追求理想但难以摆脱商业泥沼
- B、担忧，认为他们摆脱体制的努力有可能误入歧途
- C、欣赏，认为他们有可能创造出新的音乐发展模式
- D、理解，认为他们追求自由的举动是对时代的响应

90

下列最适合做文章标题的是：

- A、音乐工业管窥
- B、歌声见证的变迁
- C、让理想照进现实
- D、歌唱里的劳动与逃离

(三)

过去，拉丁美洲、东欧和亚洲大部分地区都被看作制造业低成本地区，而美国、西欧和日本则被看作高成本地区。但这种看法现在似乎已经过时了。多重因素年复一年的细微变化，悄悄地但也极大地影响了“全球制造业成本竞争力”图谱。新图谱呈现出低成本经济体、高成本经济体和大量处于两者之前的经济体错综复杂的特点。

为了了解全球制造业的经济转移，波士顿咨询公司对全球前 25 位领先出口经济体从四个重要方面做出分析：_____、_____、_____和_____。这 25 个出口经济体占了全球工业制成品出口接近 90% 的份额。

波士顿咨询公司关于全球制造业成本竞争力的最新指数显示，这些经济体的制造业相对成本发生了变化，这促使很多企业重新考虑那些存在十余年之久的观念，重新制定采购战略，选择建厂地址，为了辨别和比较相对成本的变化，它们分析了 2004 年和 2014 年的数据，这项评估是他们持续研究全球制造经济转移的系列成果之一。

在制定指数的过程中，他们观察到成本竞争力在多个经济体有所提高，而在另一些经济体则相对下降。通过这个指数，他们发现了制造业成本竞争力变化的四个显著模式：

一、_____ 压力型。过去一直被认为是低成本制造业基地的几个经济体由于多项因素结合，自 2004 年以来面临着成本优势大幅减弱的压力。例如：据估计，中国相对美国的工厂制造业成本优势已经减弱到 5% 以下；波兰、捷克和俄罗斯的成本竞争力也相对减弱，目前它们的制造业成本水平与美国相当，仅仅比美国和西班牙低几个百分点。

二、_____ 削弱型。几个过去十年制造业成本就已经相对较高的经济体竞争力继续削弱，它们的制造业成本高于美国 16%~30%，主要原因是生产率的低增长和能源成本提高。竞争力继续削弱的经济体包括澳大利亚、比利时、法国、意大利、瑞典和瑞士。

三、_____ 稳定型。从 2004 年到 2014 年，很多经济体相对美国的制造业成本竞争力保持稳定。在印度和印度尼西亚等经济体，虽然工资大幅增长，但生产率快速提高和货币贬值对成本起到抑制作用。相对印度和印度尼西亚的动态平衡，波士顿咨询公司分析的所有成本驱动因素在荷兰和英国都没有太大变动。这四个经济体的成本竞争力，使它们未来可能成为所在地区的制造业领先者。

四、_____ 上升型。相比其他全球前 25 位出口经济体，墨西哥和美国的制造业成本结构有更多的改善。由于工资增长率低、生产率持续提高、汇率稳定和拥有巨大的能源成本优势，这两个经济体现在成为全球制造业的新星。据估计，目前墨西哥按单位成本计算的平均制造成本低于中国。全球前 10 位商品出口国中，除了中国和韩国，其他经济体的制造业成本都高于美国。

制造业相对成本的这些动态变化，将促使企业重新评估他们的制造业选址，从而导致全球经济发生巨大转移，这意味着全球制造业可能更加分散在各大地区。鉴于上述这些趋势，政府领导者越来越意识到稳定发展的制造业对经济的重要性。发达经济体和发展中经济体的政策制定者都应明确自身的优势和劣势，并且采取行动提高制造业竞争力。

91

波士顿咨询公司主要采用了哪种研究方法？

- A、文献调查
- B、实验研究
- C、概念分析
- D、定量分析

92

填入第二段画横线处最恰当的一项是：

- ①能源成本 ②地理环境 ③劳动力生产率
- ④物流成本 ⑤工资 ⑥汇率 ⑦政策

- A、①③④⑦
- B、①③⑤⑥
- C、②④⑥⑦

D、②③④⑥

93

“巴西现在已成为制造业成本最高的经济体之一，甚至高于西欧”，这个经济体最可能属于文中提到的哪种模式？

- A、压力型
- B、削弱型
- C、稳定型
- D、上升型

94

根据原文，下列制造业成本竞争力变化模式与经济体代表对应正确的是：

- A、稳定型：印度、墨西哥
- B、上升型：美国、法国
- C、压力型：中国、捷克
- D、削弱型：澳大利亚、俄罗斯

95

对于“全球制造业可能更加分散在各个地区”的原因，文中未提及：

- A、制造业的投资和采购决策正在发生变化
- B、全球各地区都有较低成本的制造业中心
- C、全球劳动力的跨国流动更为便捷和频繁
- D、多个经济体的制造业相对成本发生变化

（四）

人类对于猫的态度经历过许多变化。埃及人首先发现了猫的价值，之后，包括印度在内的亚洲许多地区也纷纷开始驯养猫。这些地区的人们对猫的看法十分相似：他们重视猫，因为猫能消灭啮齿类动物；他们崇拜猫，因为认为猫能带来好运，甚至直到现在，“招财猫”仍被当做幸运的标识；他们让猫居住在寺庙和宫殿里，有时会举行纪念仪式，祭奠逝去的猫的灵魂。

在整个中世纪，人们对猫的评价十分复杂。人们或是把猫当作捕鼠器，或是当作神顶膜拜，或是对其十分轻蔑，这都取决于猫栖息的地方和它们的主人。

信奉伊斯兰教的人们赞美猫，很多可能是因为先知默罕默德十分喜欢猫。有一个流传很广的故事：一只猫在穆罕默德的衣袖上睡着了，默罕默德想要起身离开时，为了不吵醒它，就将那截衣袖割断了，有人据此认为，虎斑猫前额上的 M 标记代表的就是穆罕默德。但是在欧洲，黑猫却与恶魔联系在一起，因为猫是夜行动物，人们认为它是女巫具有超自然能力的奴仆，甚至本身即是女巫。尽管这种看法最初只是针对黑猫，但是后来所有的猫都因此变得不受欢迎了。

对猫而言，中世纪的确是一段黑暗的历史。①猫被人们谴责，猎捕甚至杀掉，但对老鼠而言，这确实是一段最好的时光。②随着猫被大规模消灭，啮齿类动物失去天敌，数量大幅增长。自然界微妙的平衡被人类打破，自然不会有什么好结果。当时没有人意识到，数量极度膨胀的啮齿类动物，③加上当时城镇里普遍较差的卫生条件，使人们经历一个更加黑暗的时期。④他们遭遇了鼠疫，也就是黑死病。

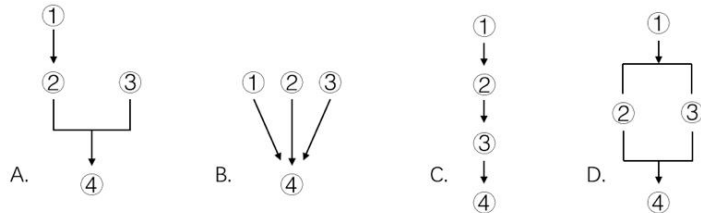
当人们全神贯注地预防黑死病，照顾病人，埋葬死者，并为自己的损失哀痛之时，他们顾不上捕杀猫了。猫在数量上得到恢复后，便开始灭杀那些传播黑死病的鼠类。人们因此发现了老鼠、跳蚤与黑死病之间的联系，对猫有了新的认识。猫作为首要的鼠类控制器，重新获得人们的认同。一个带走那么多人生命的悲剧，却拯救了猫，而猫在某种程度上又拯救了人类，恢复了自身的形象，这是多么讽刺的事！

无论猫是起源于埃及还是中东，最终，他们通过帆船抵达了新大陆。在船上，他们是捕鼠者，在漫长的航程中，保护海员的食物。在完成航海任务后，人们让猫生活在田野牧场里，继续在新的定居点捕杀老鼠。许多年后，猫被当作家养动物，保护储存的食物免受老鼠和其他啮齿类动物的侵害。在美国的许多地方，人们仍会饲养看仓猫来控制啮齿类动物，允许猫自由繁殖。

18 世纪中叶，越来越多的英格兰和西欧人把猫看作珍贵的宠物，养猫俱乐部应运而生。20 世纪前半叶，虽然猫咪爱好者给自己的纯种猫喂食过多，但普通民众养的猫仍主要是户外动物，执行捕鼠任务。但随着农场逐渐被城镇所取代，城市化规模逐渐扩大，越来越多的人将看管仓库的猫带回家中，猫几乎完全成为人类的宠物。20 世纪后半叶，猫咪爱好者甚至开始将猫当作家族中的一员。

96

下列哪一图示最恰当地呈现了文中画线句子之间的逻辑关系？



A、A

B、B

C、C

D、D

97

作者认为哪一方面的变化是促使猫普遍成为人类宠物的直接原因？

A、思想观念

B、文化传统

C、生产方式

D、心理需求

98

关于人类对猫的看法，文章没有提到下列哪些选项？

A、具有消灭有害动物的工具价值

B、可以为仿生菌的发展提供灵感

C、与恶魔存在着某种神秘的联系

D、有助于维持自然界的生态平衡

99

文献记载了一次规模盛大的“宠物猫咪选美大赛”，这次大赛最有可能在哪里举办？

A、中世纪的意大利地区

B、十世纪的阿拉伯地区

C、十六世纪的北美地区

D、二十世纪的西欧地区

100

最适合这段文字的标题是？

A、猫与黑死病

B、猫，从古代到现代

C、败也猫咪，成也猫咪

D、猫，人类历史的见证者