

2017 年上半年全国事业单位联考 B 类《职业能力倾向测验》真题

一、常识判断，根据题目要求，在四个选项中选出一个最恰当的答案。

1

下列关于我国法治建设的事件，按时间先后排序正确的是：

- ①把国家尊重和保障人权载入宪法
- ②提出依法治国的基本治国方略
- ③形成中国特色社会主义法律体系
- ④提出走中国特色社会主义法治道路的命题

- A、①②③④
- B、②①③④
- C、③①④②
- D、④②①③

2

某座山上有“色如渥丹，灿若明霞”的红色山体景观，又有著名的道教文人景观，则这座山可能是：

- A、福建武夷山
- B、湖北武当山
- C、安徽黄山
- D、山西恒山

3

耶稣会士于明代末年来到中国，在他们敬献给皇帝的礼物中，不可能出现下列哪一种器物？

- A、地球仪
- B、钟表
- C、望远镜
- D、发电机

4

小王攻读佛学专业硕士学位，导师最可能建议他学习下列哪一种语言？

- A、波斯文
- B、土耳其文
- C、梵文
- D、阿拉伯文

5

酒令是一种具有中国特色的酒文化，有一组酒令要求参与者用一个词牌名、一句古文和一句唐诗组合为一句话。下列符合该酒令要求的一项是：

- A、将进酒 群贤毕至 一曲新词酒一杯
- B、忆王孙 东临碣石 斜晖脉脉水悠悠
- C、定风波 白露横江 孤帆远影碧空尽
- D、点绛唇 窈窕淑女 鬓云欲度香腮雪

6

智利诗人聂鲁达在《马克丘·毕克丘之巅》写道：“你是层层石块垒成的高城……永恒的紫色玫瑰，就是这道冰冷殖民地的安第斯山大堤。”作为秘鲁最重要的考古发掘中心，马克丘·毕克丘（马丘比丘）是下列哪个文明的重要遗迹？

- A、印加文明
- B、古印度文明

- C、两河文明
- D、古埃及文明

7

下列哪一句诗句描写的是边塞风光：

- A、忽如一夜春风来，千树万树梨花开
- B、小楼一夜听春雨，深巷明朝卖杏花
- C、好雨知时节，当春乃发生
- D、竹外桃花三两枝，春江水暖鸭先知

8

下列成语源自儒家典籍的是：

- A、刻舟求剑
- B、过犹不及
- C、望洋兴叹
- D、游刃有余

9

下列有关法律文件的说法**错误**的是：

- A、《汉谟拉比法典》是迄今最早最完整的成文法典
- B、《拿破仑法典》是资产阶级国家第一部民法典
- C、《查士丁尼法典》是罗马法集大成者
- D、《大宪章》是美国的根本大法

10

刘某拾得一部手机。关于该手机的所有权，下列说法符合法律规定的是：

- A、失主赵某知道手机在张某手中三年后，仍然有权向张某追回手机
- B、若张某明知手机系刘某拾得，但支付了合理价款，便可取得手机所有权
- C、若张某通过拍卖购得该手机，失主赵某为追回手机应向张某支付费用
- D、若张某获得手机系刘某无偿赠与，但因其误以为手机系刘某购买所得，故而张某可以取得手机所有权

11

关于民事诉讼中的回避制度，下列说法正确的是：

- A、被申请回避的人员在人民法院作出是否回避的决定前，应继续案件的工作
- B、院长担任审判长时的回避，由审判委员会决定
- C、审判人员的回避由审判长决定
- D、人民法院对当事人提出的回避申请，应以书面方式作出决定

12

关于离婚案件，下列说法**错误**的是：

- A、离婚案件的当事人可以委托诉讼代理人进行诉讼，本人非必要的情况下无需出庭
- B、判决不准离婚和调解和好的离婚案件，没有新情况、新理由的，原告六个月内又起诉的，不予受理
- C、当事人对已发生法律效力解除婚姻关系的判决、调解书，不得申请再审
- D、对调解和好的离婚案件，人民法院可以不制作调解书

13

下列有关艺术的说法**错误**的是：

- A、歌剧《图兰朵》中使用了中国民歌《茉莉花》的旋律
- B、古代“七音”是在“五音”基础上增加变宫、变徵
- C、《念奴娇·赤壁怀古》的作者是著名书法家
- D、顾恺之、吴道子和郑板桥都以人物画著称

14

下列情形**不可能**发生在明朝的是：

- A、王阳明讲解“致良知”学说
- B、汤显祖的《牡丹亭》广泛演出
- C、《四库全书》编纂完成
- D、章回体小说《西游记》成书

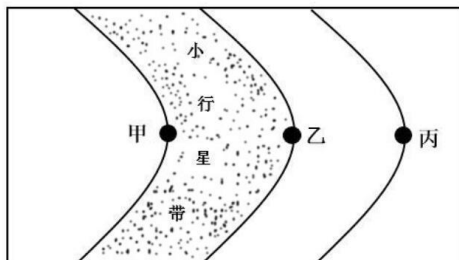
15

下列关于运动的说法错误的是：

- A、蝶泳在所有泳姿中最能锻炼腿部肌肉
- B、杠铃卧推训练到的部位包括胸大肌
- C、俯卧撑能锻炼到腰部及腹部肌肉
- D、游泳对膝关节的损伤比长跑小

16

关于太阳系局部图，下列说法**错误**的是：



- A、甲行星是“好奇号”探测器的目的地
- B、乙行星拥有的卫星数量最多
- C、丙行星有光环
- D、启明星位于丙行星的外围

17

关于我国著名水系，下列说法正确的是：

- A、黄河最终注入黄海
- B、长江流经安徽和江西
- C、澜沧江为东西走向
- D、珠江发源于青藏高原

18

关于我国古代货币，下列说法**错误**的是：

- A、宋代铸造货币的机构称为钱监
- B、西汉曾经允许民间私人铸造货币
- C、唐代以前的货币文字不可能采用“瘦金体”
- D、我国古代各类政权铸币的文字均采用汉文

19

下列历史事件与发生朝代对应**错误**的是：

- A、澶渊之盟——北宋
- B、马邑之谋——西汉
- C、白登之围——唐朝

D、土木之变——明朝

20

关于洋流，下列说法**错误**的是：

- A、寒流对所流经的海岸有降温增湿的作用
- B、从低纬度流向高纬度的洋流是暖流
- C、寒暖流交汇是形成大型渔场的重要条件
- D、洋流有助于海水净化，也会扩大污染范围

21

硬水是指含有较多钙、镁、铁、锰等的可溶性盐类的水。关于硬水，下列说法正确的是：

- A、活性炭或石英砂可以软化硬水
- B、用硬水洗衣服会增强洗涤效果
- C、硬水的 pH 值一般小于 6
- D、井水、泉水一般都属于硬水

22

下列观点与所属流派对应正确的是：

- A、不患寡而患不均，不患贫而患不安——儒家
- B、得道者多助，失道者寡助——兵家
- C、窃钩者诛，窃国者为诸侯——法家
- D、明主之国，无书简之文，以法为教；无先王之语，以吏为师——墨家

23

下列环境污染中，与燃煤没有直接关系的是：

- A、酸雨
- B、臭氧层破坏
- C、温室效应
- D、可吸入颗粒物增加

24

根据通信传输的介质不同，可以对其进行分类，其中一类称为红外通信，因红外波波长较短，对障碍物的衍射能力较差，只适合短距离“点对点”直线传输。下列不属于红外通信的是：

- A、蓝牙耳机
- B、自动冲水感应器
- C、空调遥控器
- D、自动感应门

25

下列有关维生素说法错误的是：

- A、维生素 A 宜饭后服用，才能较完全地被人体吸收
- B、干眼病者宜补充维生素 A，多吃动物肝脏、蛋类等食物
- C、经常精神不振，暴躁不安者宜补充 B 族维生素
- D、维生素 C 没有害处，可长期大量服用，以增强体质

二、言语应用，本部分包括表达与理解两方面的内容。请根据题目要求，在四个选项中选出一个最恰当的答案。

26

胡适和鲁迅都属于中国第一代现代知识分子、新文化运动的发起者、坚定的西化论者，“五四”之后，两人却_____，各自深深地卷入现实政治斗争。无论是思想还是性格，他们都形成鲜明对照。在后人眼里，一个被视作自由知识分子的代表，一个被视作激进知识分子的代表。

- A、分庭抗礼
- B、各行其是
- C、不欢而散
- D、分道扬镳

27

除藏书外，藏书楼的另一个重要功能，就是作为藏书家及文人学者校勘书籍、读书研究的主要场所。为了使藏书内容准确，没有舛误，他们将多种刊本进行比对，通过勘订，改正原书中的错处，以免_____。

- A、以讹传讹
- B、误人子弟
- C、谬以千里
- D、混淆是非

28

从符号化到数字化，信息在人类进化和文明发展中的重要性毋庸置疑。如果说符号化产生了知识的“宝库”，那么作为数字化的产物，大数据将成为人类的“超级矿藏”，其资源性、基础性与战略性的价值已经_____。为应对大数据时代的到来，国际竞争正在悄然展开。

- A、略胜一筹
- B、初露峥嵘
- C、不可胜数
- D、今非昔比

29

品鉴国学不易，品鉴国学经典更难。然而此书却自出机杼，采英撝华，从浩如烟海的史料中选取了_____的国学经典，上起《管子·牧民》，下迄《曾国藩家书》，_____了思想上的大智、心灵上的大真、伦理上的大善、心性上的大爱、行为上的大义、为人上的大诚、做事上的大信以及艺术上的大美。

- A、贯通古今 蕴含
- B、汗牛充栋 融合
- C、包罗万象 汲取
- D、车载斗量 荟萃

30

有些“非遗”项目的核心要素恰恰在于它的视觉形式，将之时尚化或许并不合适，它们自古以来的视觉形式哪怕在今天看来_____，却是需要保存和传承的。比如苗族刺绣，可能略显土气，但是正因其图案、色彩记载的是整个民族的历史，形式本身就是“非遗”的核心，故不能对其盲目_____。

- A、俗不可耐 更新
- B、不合时宜 改变
- C、不可思议 批判
- D、格格不入 修改

31

德国诗人海涅将塞万提斯与莎士比亚、歌德相提并论，称他们是“三头统治”，在小说、戏剧和诗歌这三类文学创作中_____。此外，浪漫主义、现实主义等各种流派的作家无不受到塞万提斯的影响；滑稽模仿、多重叙事视角、套盒结构……所有这些小说家们_____的写作手法，都曾出现在《堂吉珂德》之中。

- A、齐头并进 信手拈来
- B、独当一面 习以为常
- C、独占鳌头 如数家珍
- D、各领风骚 津津乐道

32

科幻文学从来都是一种伴随西方知识话语而兴起的文学样式，大多数人把科幻文学当成_____和不切实际的想象。但是，所有享誉世界的科幻文学作品，所探讨的都是与现实_____的两难问题，反映了人类所面临的现实苦难与伦理困境。

- A、遥不可及 一脉相承
- B、天马行空 息息相关
- C、咫尺千里 密不可分
- D、虚无缥缈 表里相依

33

手在甲骨上雕刻和在帛纸上书写的_____肯定不一样，前者只能一刀一刀费力刻画，后者却可以运笔如飞，书写自如，但甲骨文和纸上文字最大的区别却非省力或费力，亦非字形，而是内容；前者秉笔直书，_____；后者却时时曲笔讳饰，遮遮掩掩。

- A、方式 龙飞凤舞
- B、力度 力透纸背
- C、感觉 直言不讳
- D、速度 言之凿凿

34

在今天的全球化浪潮中，中国社会的对外开放程度与对外交流密度前所未有。与此同时，互联网及数字化媒介的普及，使知识与信息进一步覆盖到更广大的群体，阅读的_____进一步降低。一块块移动电子屏，让书籍_____，极大地拓展了阅读的时间与空间。

- A、标杆 俯拾即是
- B、条件 一目了然
- C、成本 改头换面
- D、门槛 触手可及

35

声音由听觉加工，图像识别则由视觉分管。音乐和绘画是不同感官的艺术形式，应该没有相互_____的可能。不过，有人却能“看到”身边的音乐，并且将旋律凝固到画板上。许多研究机构也正在进行“声音视觉化”的尝试，在不久的将来，人们也许就能从真正意义上_____音乐的“色彩”。

- A、转化 表达
- B、代替 展现
- C、替换 感受
- D、转换 观赏

36

新诗发展的一个重要艺术趋势，是作者越来越追求复杂和多元的表达方式，这使得读者对诗歌的阅读与接受，也越来越多了一些_____和障碍。就这一类表现方法复杂的新诗而言，诗的创造者与接受者在理解上出现了_____。

- A、隔膜 鸿沟
- B、阻力 分歧
- C、迷惑 误会
- D、干扰 偏见

37

人工智能听起来很遥远，其实已经_____到我们的日常工作和生活中了。人工智能的应用，让生活更便捷、更有趣，节约时间、解放体力，甚至未来机器将_____人类进行一些基础性的劳作，这个场景令人憧憬。

- A、渗透 替代

- B、融入 协助
- C、深入 取代
- D、运用 辅助

38

农产品市场几乎每隔几年就会来个“姜你军”“蒜你狠”，媒体似乎也_____地年年跟进，说法也经年不变，无非是有人像炒房一样“炒菜”，哄抬物价，但每次都是_____，带大家云里雾里走一趟了事。

- A、追根究底 含糊其辞
- B、乐此不疲 语焉不详
- C、趋之若鹜 浅尝辄止
- D、连篇累牍 轻描淡写

39

台风形成于赤道地区的温暖水域。当潮湿、温暖的空气开始上升的时候，会产生一个低压区，进而_____周围更多的暖湿空气。温暖的空气在上升的过程中开始旋转，温度开始_____，冷凝生成云团，释放出热量，进一步_____上升运动。在这种正反馈机理的促进下，气旋不断加强，最终形成巨大的台风。

- A、释放 变化 促进
- B、吸引 下降 加快
- C、凝聚 稳定 抑制
- D、汇集 提升 配合

40

近代科学的成功表现于，它不仅把意图完全从自然现象中剥离，而且明智地意识到，意图是_____的，剥离了意图的自然现象有一种方法可以刻画：数学语言。从此以后，经典科学一路高歌猛进，而以意识、意图为研究对象的心理学则_____。多亏有了磁共振扫描技术，大脑活动才可以被记录下来，于是对思维的研究可以成为一门_____学科。

- A、模棱两可 踟蹰不前 基础性
- B、变幻无常 如履薄冰 实验性
- C、捉摸不定 步履蹒跚 实证性
- D、高深莫测 抱残守缺 理论性

41

①作为新兴的农村商业中心，市镇并不以政治中心为依托，而是基于商业和市场活动兴起，又以商品经济体的形式发展，因而具有鲜明的经济中心的特征

②就发展趋向而言，由于较少地受到政治因素的控制和干扰，市镇有着较州县城市更大的自主发展空间

③相对于传统州县城市的转型，两宋时期各种形式的市镇大量涌现，在某种程度上有着更值得关注的文明意义

④可以说，市镇的广泛兴起和发展，既是城市文明向广大农村扩散的反映，也是乡村社会自我调整与变革的结果

⑤从起初简单的商品交易和流通活动到较为完整的商品经济体系，从聚散不定的村落交易点到初具专业化的商贸聚合地，从形式单一的乡村聚落到结构复杂的商业社区，市镇立足于乡村社会而又逐渐超越乡村文明，成为一种正在形成中的新兴经济都市形态

⑥据不完全统计，两宋时期各地先后兴起的市镇，迄今尚有史可考的就超过了 3600 处

将以上 6 个句子重新排列，语序正确的是：

- A、③⑥①②⑤④
- B、①④②⑥③⑤
- C、⑤⑥①②④③
- D、④③⑤⑥①②

42

①18 世纪，人们在哥伦比亚玛雅文明遗产中发现了一个极像现代飞机的黄金制品

②航空专家认真辨认和研究，得出了完全不同于前人的结论

③在 900 年前，玛雅文明突然神秘消失，为后人留下了许多未解之谜

④当时的考古学家认为，这是一种以鸟或鱼为原型制作的饰物，并没有给予其更多的关注

⑤他们认为，那是一种飞机模型，与现代飞机模型极为相似

⑥到了 20 世纪末，人们在厄瓜多尔南部的一个地下隧道中，又先后发现了两个用黄金制成的类似物品

将以上 6 个句子重新排列，语序正确的是：

A、①⑤⑥④②③

B、③⑥⑤①②④

C、③①④⑥②⑤

D、①④③②⑤⑥

43

①所以，现在除了传统哲学，教育、法律等学科也纷纷从哲学层面进行研究思考，显示了哲学揭示本质、认识规律的巨大魅力

②无论什么事物，一经哲学思维的过滤，就能呈现出本质性和深刻性

③哲学总是从历史和现实两个视角不断拷问事物的必然性和合理性，其对事物的肯定理解中总是包含否定理解，包含对事物必然灭亡的理解

④这种反思和批判让哲学披上了一件永不生锈的铠甲，哲学也因此具有前瞻性、创新性和生机勃勃的魅力

⑤哲学发端于人类对事物本质永不停歇的探求和追问，既不满足于表象的感知，也不停留在经验层面，总是追问现象之后的本质、偶然之中的必然

⑥哲学魅力还表现在它的反思和批判功能上

将以上 6 个句子重新排列，语序正确的是：

A、⑤②①⑥③④

B、⑤③⑥④②①

C、②⑤③①⑥④

D、②③⑤⑥④①

44

①畲族民歌是畲族文化的“活化石”

②畲族民歌有叙事歌、论古歌、婚嫁歌、劳动歌、伦理歌、仪式歌、祭祀歌等类别，几乎涵盖了畲族人民的全部生活

③从丽水畲族古老民歌《柄歌》中，我们知道早期畲族人如何生存和生活，男人和女人如何分工协作

④胡适说：“过去种种，上至思想学术之大，下至一个字，一支山歌之细，都是历史，都属于国学研究的范围。”

⑤我们可以从畲族古老民歌《高皇歌》《盘古歌》中找到畲族的起源，古老的畲族人从“盘”“蓝”“雷”“钟”四大姓氏开始繁衍发展

⑥此外，我们还能从畲族诸多歌会中知道畲族人的恋爱、交际和其他生活情况

将以上 6 个句子重新排列，语序正确的是：

A、①②④⑥⑤③

B、②⑤⑥③①④

C、③①②⑤⑥④

D、④①⑤③⑥②

45

①由此，很多人认为，保护方言有分化语言和阻碍交流的负面效果，没有必要保护方言

②如果把民族小语种也作为方言的话，那么方言保护所面临的问题则更为严峻

③在普通话作为通用语言的情况下，方言的地域限制确实影响人际间的交流，也并不受外地人的欢迎

④同时，在资源有限的情况下，或许有比方言更为重要的保护对象

⑤方言有无必要保护，似乎并未形成统一认识

⑥中国有五十五个少数民族，多数少数民族没有自己的文字，结果很少数民族的语言由于保护不善而逐步消亡

将以上 6 个句子重新排列，语序正确的是：

A、⑥⑤③①②④

B、⑤③①④②⑥

C、⑤②⑥④③①

D、⑥②①④⑤③

46

宝石颜色有三个影响要素，即光源、宝石和观察者。不同的光源具有不同的光谱能量分布，因而照射到宝石上会使宝石呈现出不同的颜色；宝石由于自身内部的致色离子对光源光波的选择性吸收、反射、透射而呈现出不同的颜色；对于观察者而言，虽然人眼具有对可见光的灵敏分辨力，但对具体波长可见光的感知是因人而异的。也就是说，对同一宝石品种与观察者来说，_____。

填入画横线部分最恰当的一句是：

A、宝石颜色会随照明光源的不同而发生改变

B、标准光源的选定对宝石颜色评价尤为关键

C、提高观察者对可见光的灵敏分辨力十分必要

D、选择透光性好的宝石能获得更高的市场利润

47

中国人历来重视人伦礼俗。中国很早就进入农业社会，农业社会的特点是人固着在土地上。因此，世代生长于斯的农民，非常强调伦理秩序，强调上下尊卑，家族文化非常发达。而依岁时而定的传统节日，基本上都是家庭性节日，如中秋、重阳、除夕等，都强调家人的回归团聚，强调亲人之间的情感交流，所以，_____，这与西方的宗教性节日是很不一样的。

填入画横线部分最恰当的一句是：

A、复兴传统的礼俗文化是当前亟待解决的问题

B、传统节日是中华民族价值体系的集中表达

C、中国传统节日里人伦特性体现得非常充分

D、国民传统节日的意识有待进一步加强

48

怀疑论者称读书疗法是江湖郎中的吹嘘之辞，但 20 多年来相当多的支持性研究表明，_____。一项研究证明，辅以读书疗法比单纯服药更能降低抑郁症复发的概率，甚至对心血管病也有正向作用。老年病学教授塔利斯虽然对此持谨慎态度，说：“我做过多年临床医生，所以不会夸大文学在医疗中的作用。也不会有医生送重病号一首诗。”即使如此，他也承认他的上司在临终前最后几周要靠镇静剂来镇痛，但是阅读《战争与和平》也起到了巨大的临终安慰作用。

填入画横线部分最恰当的一句是：

A、医学界对读书疗法尚未达成共识

B、读书疗法的作用效果会因人而异

C、文学能对疾病针对性地产生影响

D、治疗效果取决于文学篇目的选择

49

纵观历史进程，没有任何机构和技术能够阻挡信息和知识的传播。人类文明的行程固然十分艰难，但终究是“_____”。

填入画横线部分最恰当的一句是：

- A、野火烧不尽，春风吹又生
- B、青山遮不住，毕竟东流去
- C、欲穷千里目，更上一层楼
- D、蚍蜉撼大树，可笑不自量

50

语言学家研究了 3700 多种语言，结果发现，_____。例如，撒哈拉沙漠以南的热带地区使用的数百种语言中，半数以上都具有音调丰富的特点，而撒哈拉沙漠地区使用的 24 种语言中，却没有一种具有音调丰富的特点。总体而言，只有 1/30 的复杂声调语言活跃于干旱地区，同时这些干旱地区的语言中有 1/3 都是非声调语言。

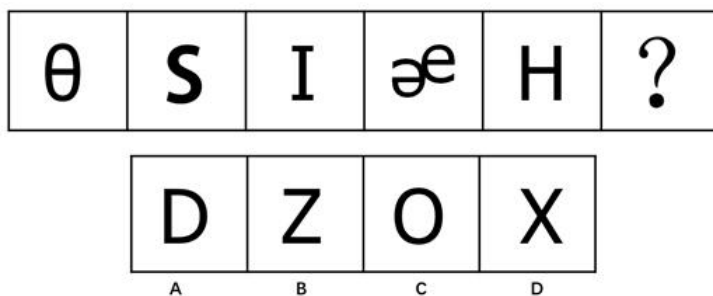
填入画横线部分最恰当的一句是：

- A、干旱地区使用音调丰富语言的比率低于湿润地区
- B、运用声调丰富的语言更需要精密地掌控音调
- C、赤道附近地区的语言比其他地区声调更丰富
- D、一种语言的结构与其所在的环境没有太大的关系

三、判断推理，本部分包括图形推理、定义判断、类比推理与逻辑判断四种类型的试题，在四个选项中选出一个最恰当的答案。

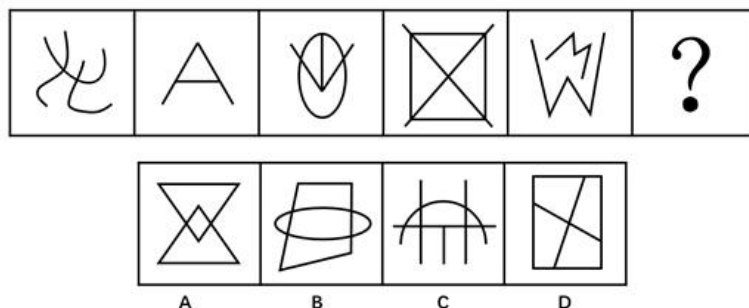
51

从所给的四个选项中选择最合适的一个填入问号处，使之呈现一定的规律。



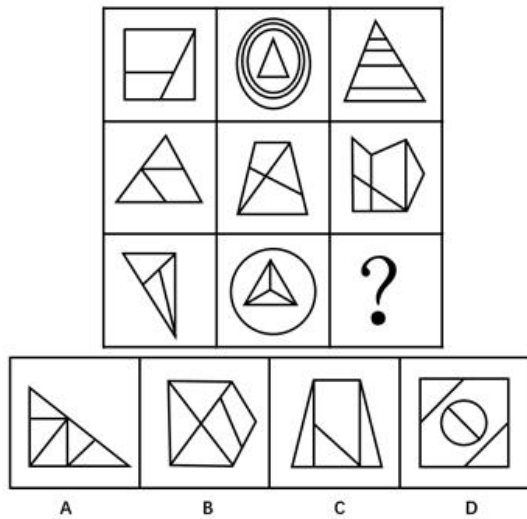
52

从所给的四个选项中选择最合适的一个填入问号处，使之呈现一定的规律。



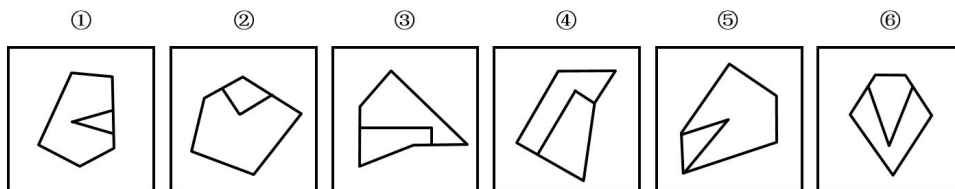
53

从所给的四个选项中选择最合适的一个填入问号处，使之呈现一定的规律。



54

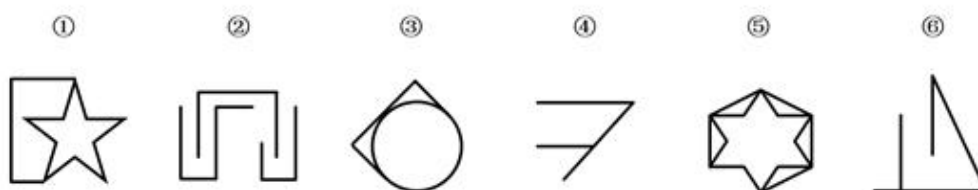
把下面的六个图形分成两类，使每一类图形都有各自的共同特征或规律，分类正确的一项是：



- A、①②③，④⑤⑥
- B、①⑤⑥，②③④
- C、①④⑥，②③⑤
- D、①③⑥，②④⑤

55

把下面的六个图形分成两类，使每一类图形都有各自的共同特征或规律，分类正确的一项是：



- A、①③⑤，②④⑥
- B、①④⑤，②③⑥
- C、①④⑥，②③⑤
- D、①②③，④⑤⑥

56

社会角色可以分为先赋角色和自致角色两种。先赋角色是指建立在血缘、遗传等先天的或生理的因素基础上的社会角色。自致角色是指通过个人的活动与努力而获得的社会角色。

根据上述定义，下列属于先赋角色的是：

- A、妻子
- B、世袭贵族

- C、男同学
- D、少数民族人大代表

57

拈连是一种修辞手法，是指在叙述甲乙两个关联的事物时，把适用于甲事物的词语临时用于乙事物的一种修辞格。它使语言生动形象、寓意深刻、富于表现力。同时又巧妙地连接上下文，完成语义跳跃，具有简洁、明快、使语句连贯的功效。

根据上述定义，下列使用了拈连这一修辞手法的是：

- A、赶超，关键是时间，时间就是生命，时间就是速度，时间就是力量
- B、春风杨柳万千条，六亿神州尽舜尧
- C、你别看我耳朵聋，可我的心不聋
- D、花白胡子坐在墙角里吸旱烟

58

群体决策冒险是指群体比个体更富于冒险精神，相对于个人决策而言，群体倾向于选择获利大但成功率小的行为。当人们集合在一起时，比他们单独活动更富于冒险性。

根据上述定义，下列属于群体决策冒险的是：

- A、在选择容易考但名气小，还是难考但名气大的学校的问题上，小赵犹豫不决。家庭会议讨论后，大家选择了后者
- B、老王遭遇车祸，重伤昏迷。医生集体会诊，商讨出手术救治方案，并进行了全力抢救
- C、某国会经投票表决后，正式出台了失业救济法案，该法案遭到在野党的强烈反对
- D、在一份创业时是否应当具有冒险精神的调查问卷上，80%以上的被调查者选择了“是”

59

场合道德指的是人们在特定的公共社会关系中应遵循的道德准则和应具备的道德品质，是社会公共生活准则在特定场合的表现；职业道德指的是人们在一定职业生活中应遵循的道德规范，以及应具有的道德观念、情操品德等。

根据上述定义，以下哪项涉及职业道德？

- A、银行自助服务空间不允许抽烟
- B、阅览室不得大声喧哗
- C、出租车司机不允许闯红灯
- D、男教师不允许蓄长发

60

国际贸易按商品形式的不同，可分为有形贸易和无形贸易。有形贸易指的是买卖那些看得见、摸得着的物质性商品的活动；无形贸易指的是因劳务或其他非实物商品进出口而发生的收入与支出。

根据上述定义，以下哪项一定属于有形贸易？

- A、2011 年，中国某国际货运集团营业收入 1031.13 亿元
- B、2014 年上半年，中国液化天然气进口量 992.56 万吨，同比增长 19.06%
- C、据统计，2014 年我国出境游破 1 亿人次，逆差超千亿美元
- D、某公司《2010 年年度报告》显示，2010 年实现海外投资净利润 515.6 亿美元，全年全球投资收益率达到 11.7%

61

昼：夜

- A、男：女
- B、分：秒
- C、老：少
- D、矛：盾

62

沸腾：沸点

- A、取暖：点火
- B、航行：动力
- C、加热：融化
- D、联络：书信

63

失眠：睡眠：嗜睡

- A、失忆：记忆：回忆
- B、苗条：体重：肥胖
- C、厌食：食物：贪食
- D、抑郁：情绪：躁狂

64

血缘：亲属：关系

- A、子女：夫妻：家庭
- B、雇佣：企业：员工
- C、公民：政府：国家
- D、地域：民族：共同体

65

诈骗罪 对于（ ）相当于（ ）对于 司法工作人员

- A、法官 法院
- B、盗窃罪 证人
- C、罪名 检察官
- D、证据 被害人

66

有研究者认为，儿童缺钙会导致脾气暴躁，因此对于脾气暴躁的儿童应当补钙。但是，有反对者认为，儿童焦虑不安是导致脾气暴躁的原因。家长的溺爱、家庭教育缺乏一致性、父母对孩子要求过于严格以及遗传等因素都会导致儿童焦虑不安。因此心理因素才是导致儿童脾气暴躁的原因。

以下哪项如果为真，最能削弱反对者的观点？

- A、有些脾气暴躁的儿童经检查并不缺钙
- B、儿童缺钙会导致焦虑不安等心理现象
- C、家长对孩子溺爱或要求过严是社会普遍现象
- D、有些先天缺钙的儿童并没有表现出脾气暴躁

67

有人认为，改革开放以来，我国城镇化水平大幅提升，城镇人口由 1978 年的 1.72 亿增加到了 2011 年的近 7 亿，城镇化率由 1978 年的 17.92% 上升到 2011 年的 51.27%。城镇化快速发展的同时，也是我国经济飞速增长的时期，因此城镇化的发展是我国经济增长的原因。

以下哪项如果为真，最能削弱这一论证？

- A、实际上，我国经济增长带来了城镇人口的增多和城镇化率的提高
- B、我国农村的生产方式、生活方式在逐步与城市接轨，逐渐实现城乡一体化
- C、相较于东南沿海地区，我国西部地区城镇化水平低，因此经济相对欠发达
- D、改革开放以来的城镇化进程，为我国经济长期高速增长提供了丰富的人力资源

68

有人认为，青少年犯罪是由家庭教育缺失导致的，青少年犯罪严重危害社会，而法律可以有效纠正家庭教育的缺失，因此法律可有效解决青少年犯罪问题。

以下哪项如果为真，最能削弱这一论证？

- A、除纠正家庭教育缺失外，法律还有助于为被害人伸张正义
- B、对于较为轻微的危害社会行为，法律也有纠正作用
- C、家庭教育缺失并非是导致青少年犯罪的唯一原因
- D、青少年犯罪是全世界所有国家都存在的问题

69

一项研究认为，海洋在类地行星演化以及气候调节中发挥着重要作用。研究人员表示，我们知道许多太阳系外行星都无法居住，它们的轨道或者太靠近恒星，或者距离恒星非常遥远，只有适当的轨道半径才有可能形成稳定的液态水。全球性海洋的存在对行星气候有较大的帮助，它使得行星表面温度的变化缓慢，这对生命的诞生有着积极意义。同时海洋还可以将热量导向行星上的各个区域，使得该行星有一个较大面积的可居住区域，适合生命演化。

以下哪项如果为真，最能支持研究人员的上述论证？

- A、不同行星的自转速率会影响该行星上的海洋环流模式，从而影响全球性的热传输
- B、火星距太阳轨道半径适中，但是火星上没有海洋，其表面温度变化范围较大，也没有生命存在
- C、土卫六是太阳系中除地球外，唯一表面拥有稳定液态物质的天体，土卫六上的液体是甲烷和乙烷等碳氢化合物，可以作为生命起源的基础
- D、地球上的生命需要水并不代表其他行星上的生命也需要水才能生存

70

某公司要招聘近千名新员工，有 1600 人通过初试。为了保证所聘用的员工能够胜任公司的相关工作，公司组织了一个庞大的胜任力考核委员会对这些通过初试的应聘人员进行考核。由于考核的严苛性，这些人中将有 40%被淘汰。即使如此，实际能力无法胜任工作的人中还是会有五分之一将通过这项考核而被公司录用。因此，通过胜任力考核的员工中有占通过初试者总数 10%的不胜任者。

上述论证最可能基于以下哪项假设？

- A、在新录用的员工中超过 90%的人是能够胜任该公司工作的
- B、通过胜任力考核的应聘人员在愿意到该公司工作的
- C、被淘汰的那 40%人员确实是不胜任者
- D、公司的初试环节不是非常严苛

71

某县支行在对其储户进行统计分析时发现，在该行存款 10 万元以上的大额储户中，有 55%的储户是城镇居民，该行某负责人由此向县领导建议：为了增加大额储户的比例，县政府应该鼓励农村居民向城镇转移。

以下哪项如果为真，最能质疑该负责人的建议？

- A、有很多农村居民更愿意将钱存入银行
- B、城镇居民由于消费水平高，通常会更积极努力工作
- C、该县农村居民平均存款额只有城镇居民的 70%
- D、该县城镇居民的比例超过 60%

72

人的寿命长短与心率之间有很大关系。研究发现在正常范围内，心率越慢人越长寿。而高血压患者往往忽视对心率的监测，当高血压患者心率大于每分钟 84 次时，会比心率低于每分钟 65 次的患者增加一倍罹患冠心病的风险；而心率每分钟大于 79 次的高血压患者其死亡风险相对于小于这个数值的患者而言会增加 89%。因此，高血压患者控制血压的同时，也要做到心率控制。

由此可以推出：

- A、高血压患者往往只注意到了从血糖、血脂等方面全面管理血压，却忽视了对心率的管理

- B、正常范围内心率较快的高血压患者，继发其他疾病的风险更高
- C、对于高血压患者来说，当静息心率大于每分钟 84 次时就应当进行心率管理了
- D、同时患高血压和冠心病的患者其对目标心率的要求会比单方面的高血压患者更高

73

办张健身卡，请一名私人教练，这不再仅是成年人的时尚。“儿童健身”训练也悄然兴起。时尚的爸妈为孩子请个“私人健身教练”，量身定制健身方案。但是儿童私人健身教练并没有专业从业资格，大都从成人教练“转岗”，教学内容没有统一标准。有些教练使用不成熟的教学方法，反而使得儿童的健康受到危害，所以为儿童请私人教练弊大于利。

以下哪一事例最能支持上述论证？

- A、小红的父母为孩子选择了一对一的私人教练小王，这使得小红心理压力过大，对运动产生了恐惧
- B、3—6 岁的孩子不适合做力量训练，所以教练小李选择了更适合儿童的柔韧性、灵敏性的训练
- C、教练小张向孩子解释萝卜跳是直腿跳，兔子跳是屈腿跳，引导孩子顺利完成了下肢爆发力的训练
- D、教练小强使用成人的健身理念和方法去训练儿童，超强运动量使得儿童健康受到影响

74

在一项实验中，研究人员要求 12 名男性志愿者每晚只睡 4 小时，持续两周。研究者检测了志愿者血液内的饥饿激素的含量，结果发现该激素的水平跃升了 28%。与此同时，另一种叫瘦素的激素则减少了 18%。瘦素的作用是向大脑发出不需要进食的信号从而抑制饥饿。研究者发现志愿者的饥饿程度平均提高了 23%。研究人员认为，睡眠不足可能会导致肥胖。

以下哪项如果为真，最能支持上述结论？

- A、6—9 岁儿童每晚睡眠时间少于 10 小时，肥胖可能性会提高 1.5—2 倍
- B、研究表明，肥胖的人群平均睡眠时间比体重正常的人群要高出许多
- C、这 12 名男性志愿者在实验期间食欲没有表现出明显的变化
- D、12 名志愿者在实验之前的若干天睡眠质量都不太好

75

谈到大数据时，有一则故事经常被引用：一位男顾客到一家连锁店投诉，因为该店竟然给他读高中的女儿邮寄婴儿服装和孕妇服装的优惠券。后来，这位父亲与女儿进一步沟通发现，女儿真的已经怀孕了，于是致电道歉。该店解释说，他们发现女孩的购买记录中包括无味湿纸巾和补镁药品，而以往记录显示，孕妇购买这两种商品的比例高于一般人群，因此推测这位女性顾客可能怀孕了。引用者认为，这个故事可以说明，“数据比人更了解人”。

以下哪项如果为真，最能反驳引用者的观点？

- A、无味湿纸巾和补镁药品跟怀孕没有因果关系，根据它们预测怀孕没有理论依据
- B、该店把孕妇优惠券寄到女孩家，揭露了她的隐私，并不了解她的真实需求
- C、女孩的妈妈其实早已察觉女儿的变化，但为了保护女儿，暂时没有告知父亲
- D、该店给很多客户都邮寄了孕妇优惠券，这些人绝大多数并不是孕妇

四、数量分析，本部分包括数学运算和资料分析两种类型，在四个选项中选出一个最恰当的答案。

76

9 个人参加知识竞赛，前五名和后五名平均分相差 16 分，除第五名外其余 8 人的分数成等差数列。问前两名得分之差为多少？

- A、1
- B、2
- C、4
- D、5

77

甲和乙进行 9 局 5 胜制的台球比赛，结果甲只用了 7 局就战胜了乙，问在两人所有可能的比赛结果中，甲至少连胜三局的概率为：

- A、 $\frac{4}{5}$
- B、 $\frac{6}{7}$
- C、 $\frac{13}{15}$
- D、 $\frac{16}{21}$

78

水果店要把 256 个苹果装进纸箱，现有能装 12 个苹果和能装 18 个苹果的两种纸箱，问最少要补充多少个苹果才能正好将一定数量的纸箱装满？

- A、0
- B、2
- C、4
- D、6

79

某蛋糕房销售 A、B 两种糕点，其单价均为 8 元，单个净利润分别为 3 元和 4 元。推广期两种糕点均六折出售。如某天出售 X 个糕点，问其中至少要有多少个 B 糕点才能够保证不亏本？

- A、 $0.2X$
- B、 $0.25X$
- C、 $0.75X$
- D、 $0.8X$

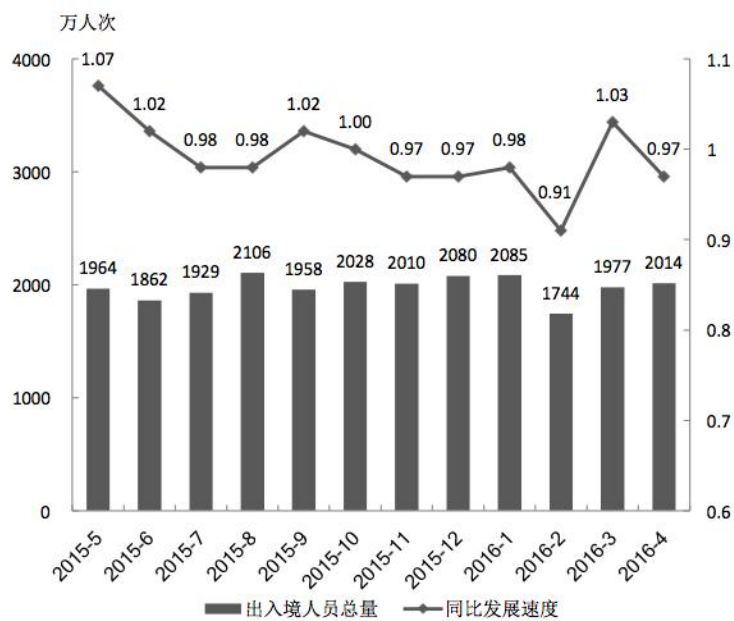
80

某车间有 50 名工人装配零件，男工每人装配 4 个，女工每人装配 2 个，最终男工装配的零件数比女工多 20 个。车间准备从男工和女工中各任意选择 1 名参加技能比赛，问共有多少种不同的组合？

- A、400
- B、500
- C、600
- D、800

(一)

2016 年 S 市口岸通关情况为：4 月份口岸出入境车辆 131.2 万辆次，机场空港口岸出入境旅客 24 万人次；1~4 月，S 市口岸累计出入境车辆 495 万辆次，机场空港口岸出入境旅客累计 90.2 万人次。



2015 年 5 月~2016 年 4 月经 S 市口岸出入境人员月度统计

注：同比发展速度指当期数值与上年同期数值之比

- 81
- 2016 年 1 季度，平均每天约有多少车辆经 S 市口岸出入境？
- A、1.0 万辆次
- B、1.5 万辆次
- C、4.0 万辆次
- D、5.5 万辆次
- 82
- 2014 年 9~12 月间，哪个月经 S 市口岸出入境人次数最高？
- A、9 月
- B、10 月
- C、11 月
- D、12 月
- 83
- 2015 年下半年，有几个月经 S 市口岸出入境人次数同时低于上月和上年同期水平？
- A、3
- B、2
- C、1
- D、0
- 84
- 2016 年 1 季度，经 S 市口岸出入境总人次较上一季度约：
- A、增长了 0.9%
- B、增长了 1.7%
- C、降低了 2.3%
- D、降低了 5.1%
- 85
- 下列关于 S 市的说法，能够从上述资料中推出的是：

- A、2016 年 4 月机场空港口岸出入境旅客入次数约占当月全部经口岸出入境入次数的一成
- B、2015 年四季度经口岸出入境入次数低于上年同期水平
- C、2014 年 7 月经口岸出入境入次数低于上月水平
- D、图中经口岸出入境入次数最多和最少的月份在同一个自然年

五、综合分析，所给出的文字资料均有若干问题要你回答。你应根据资料提供的信息进行分析、判断和处理。

（二）

在书籍的整个近代历史中，新的制作方式、新的发行方式和新的读者携手成长，但是，旧秩序的代表一直向它们投去怀疑的目光。这可能是新事物的成长往往十分艰难、煞费时日的原因。例如，在抄本出现后，卷轴仍被继续沿用数百年；为了减少新形式的冲击，早期的印刷书籍看起来类似手写文稿；电子书迄今为止还在模仿印刷书。

但是随着印刷厂野心膨胀，他们实验各种方式，让新型“书”为旧书所不能为，他们能便捷廉价地大批量生产小册子，一种名为“飞单”的宣传册由此诞生，比如马丁·路德书写的那种，那些买不起书的人有能力购买这种小册子。印刷机逐渐挺进到一个个新领域，比如预测天气模式的年历、包含民间故事的文艺小册子等。

十九世纪，铅版印刷可以一次排印整张纸，出版商得以通过报刊覆盖新的读者群，扩大了买书人的队伍。他们最初做的是旧书的平价重印版，比如英国出版商推出的“黄背书”、美国出版商推出的廉价小说，这主要是因为无需向作者支付版税。但一段时间后，出版商开始尝试迎合不同兴趣和人群的新型内容，比如西部小说和实用知识指南。二十世纪中叶曾出现过一个与之类似的模式，推出了平价便携的平装书。

对书籍形式的实验伴随着对商业模式的探索。十七、十八世纪的出版社常常用“订阅”模式售书（消费者在游览内容简介后同意预购一本书），其作用是探测市。如果感兴趣的人不够多，项目可能取消。

十八世纪英国出现了另一种新模式，为一个文化阶层“量体裁衣”，这个阶层读的书比想买的书更多。这个新模式就是“流通图书馆”，通过出售会员年卡，让读者永远都有书看。哈佛大学英语文学教授利娅·普赖斯说，“流通图书馆”中最强大的是穆迪图书馆，它就是那个时代的亚马逊。一本书的一半印数可能都穆迪图书馆采购，如果穆迪先生选择不买某个作者的书，这本书可能即刻成为“哑弹”。“流通图书馆”的商业模式促使出版商以三卷模式出版图书，这样可以三个人同时阅读某一套书；小说家也会针对这一形式进行写作，充实自己的文章，以支撑“三层”模式。报刊连载进一步鼓励一些小说家往更长的篇幅写，创造特有的节奏感，并在每期连载的文末设置悬念。

但是，人们往往倾向于认为新体裁比不上旧形式。让英国诗人柯勒律治颇为懊恼的是，小说比诗歌在“流通图书馆”的老主顾中更为流行，他嗤之以鼻地说自己“不敢以阅读之名恭维这种消遣，或者更确切地说，是打发时间”。然而，事实却是，司各特的三卷本和大仲马厚如砖块的长篇连载更为经久不衰，普鲁斯特自费出版的奇书《在斯万家那边》亦是如此。

出版技术新旧更替，商业模式浮浮沉沉，但一路出现的各种形式的书却几乎全部留存下来，一如那些最伟大的文字本身。

86

古代图书史上的哪一现象与第一段所说的意思最接近？

- A、古代纸质书的文字排列形式接近简牍
- B、石印技术在清代逐渐取代了雕版印刷
- C、古代印度人经常用贝叶抄写佛经
- D、编纂《四库全书》时制作了多个副本

87

文中提到的书籍形式按时间先后排序正确的是：

- A、抄本→卷轴→飞单→平装书
- B、卷轴→平装书→黄背书→电子书
- C、抄本→黄背书→平装书→电子书

D、卷轴→抄本→平装书→黄背书

88

穆迪图书馆被比作“那个时代的亚马逊”，主要是因为它的：

A、售卖方式

B、动作流程

C、市场影响

D、经营理念

89

下列说法不能从原文中得到支持的是：

A、伟大的作品受到了商业动作的干扰

B、有些小说家会顺应图书出版模式而写作

C、出版商采用平价重印版是出于经济考虑

D、电子书仍会模仿纸质书的阅读体验

90

作者通过这篇文章最想：

A、质疑过度商业化对文学发展的影响

B、倡导出版技术与读者需求无缝衔接

C、批评历史上顽固坚持旧秩序的倾向

D、肯定图书出版史上各种探索的价值

（三）

过去十年里，中国电影在制片、投资、设备和上座率等方面经历了独一无二的发展扩张，这一巨大发展和国家整体经济崛起相连，也紧跟了自上个世纪 80 年代开始的艺术发展。中国电影的这些发展，尤其是在各大国际电影节上获得的大奖，使其在世界艺术电影版图上扮演了一个重要角色。

遗憾的是，到目前为止，这两方面的发展并没有互为支持。更进一步的是，如果说作为商业的和娱乐的电影与作为艺术的电影不存在竞争，那么它们就被普遍认为是分离的。这一观点得到大多数电影工业人士、电影工作者和艺术家的认可，甚至主管经济和文化事务的政府部门也有这种看法。

这是一个非常局限的视野，相对于商业电影，这种分离对所谓“艺术电影”显然是更大的威胁，因为剥夺了它的重要经济支持，但从长远来看，这实际上是剥夺了电影的价值意义、文化含义和自我创新的能力。最终也会削弱所谓的“商业电影”，因为艺术电影领域应该被看作是电影工业“人才的摇篮”，而这个部门是需要获得经济支持和认可的，中国电影所有组成部门的利益，正来源于最有雄心的创作和巨大的经济力量之间的持续互动。

尽管电视、DVD、VOD 等其他电影发行方式非常重要，但是，只有在影院的大型银幕前，面对众多观众，一些音像制品才能成为真正意义上的电影，否则就算不上电影，因此，电影院为多样性的电影提供入口非常重要（这一点对外国电影也同样适用），它开启人们的心灵，丰富了电影工作者和观众的层次。

目前，中国电影在制作上还没有显著问题，这可以得到证实：无论从数量还是质量来看，中国电影制片都是非常卓越的。不过，在发行和放映的多样性上，中国电影确实存在问题。只有有充足的放映场地，才会有针对多样性电影的需求，而不仅仅是多功能影厅放映的那些商业大片。在法国，有像“艺术和实验”那样的电影院线系统，作为特殊院线，会根据放映影片的质量和多样性，获得资金支持，以此放开机会，促使整个行业的扩大和强化；有独立协会，根据明确的规则，实施多层次的管理，通过数以百计的场地，促进电影的百花齐放成为可能。也是在那里，许多年轻导演首次被发现，其中一些成为获得世界声誉的艺术家，另一些成为最赚钱的电影制作者，甚至一小部分成为艺术创新和商业成功的双赢者。

今天，院线发行是中国电影总体扩张中最壮观的一面，但却仅仅专注于商业，这意味着它是“一条腿在走路”。只有建立一个完善的艺术电影院线体系，才能展示中国电影的所有丰富存在。没有艺术院线，艺术层面就是残缺的，整个电影工业也会被削弱。

91

第二段中“这两方面”指的是：

- A、艺术和经济
- B、文化和政治
- C、技术和思想
- D、继承和创新

92

电影院计划采取措施促进电影的多样性发展，以下哪一措施效果可能最不明显？

- A、定期放映国内外不同时期的优秀艺术电影
- B、提供艺术电影创作者和观众的互动空间
- C、放映针对不同年龄层次的艺术电影
- D、改造硬件设备以提高艺术电影的观赏效果

93

下列哪一描述最接近中国艺术电影目前所面临的处境？

- A、进退维谷
- B、怀才不遇
- C、柳暗花明又一村
- D、屋漏偏逢连夜雨

94

作者认为艺术电影对整个电影行业最重要的价值是：

- A、满足观众多层次需求
- B、促进盈利模式多元化
- C、丰富电影的表现领域
- D、培养电影的创作队伍

95

最适合做本文标题的是：

- A、中国电影十年
- B、艺术院线的中国
- C、小众电影的崛起
- D、艺术与商业的博弈

（四）

无论你是否相信，纵观历史长河，暴力呈现下降趋势。我知道，此论必定遭到质疑、责备，甚至激起愤怒。人们往往倾向于认为我们生活的时代仍然充满暴力，特别是在这个时代，更有媒体推波助澜，有的媒体甚至把“见血的消息放上头版”奉为信条。人类的头脑在估算事件概率时，总是避难就易地从回想案例和图像开始。与老人安然辞世的画面相比，残暴杀戮的场景更易令人产生如临其境的感觉而刻骨铭心。不论暴力死亡的比重有多小，它的绝对数都足以填满媒体的晚间新闻，让人们对于暴力的印象与其实际分量完全脱节。

放大镜危险感也符合道德心理学。从来没有人会为了宣扬世界已经变得更美好而去招募志愿者，传播好消息的人总是被告诫闭上嘴巴，以免诱发人们的自满情绪。传统上知识分子把批判社会中的不正义视为当仁不让的责任，受这种传统影响，知识界的大部分人不愿意承认，在文明、现代性和西方社会里还有些积极的好东西。也许，正是某种最初谴责暴力、推动暴力下降的道德力量，在暴力行为事实上已经减少的今天，反而制造了暴力永存的假象。暴力行为的下降，与对暴力容忍度的降低并行一致，人们态度的变化通常起着先导作用，按照人类历史上大规模暴行的标准，美国德克萨斯州的注射死刑，偶发的流氓挑衅少数族裔的种族仇恨罪，都只能算是些小打小闹，但是，站在当代的道德制高点上俯视，我们看到的是人类竟然可以如此沉沦，却意识不到其实是我们的道德标准提高了。

面对这些先入为主的观念，我只能用数字、用收集的数据资料以及制成的图表来说服你们。我希望能让人们相信，当很多不同形式的暴力都呈现出减少的趋势，很难说这是一种偶然，因此需要我们给出解释。暴力消减的历史很自然地可以演绎成一个首先的传奇——一场正义反抗邪恶的英勇奋战，但这不是我的出发点。我的方法是对历史的因缘进行广义的科学解释。我们可能会发现，道德领袖（主流道德的制定者和捍卫者）以及他们的活动对和平有着特殊的贡献。我们也可能发现一些更直接的原因，比如技术、政府、商业或知识等方面的变化对和平的作用。暴力下降不能被看作一个不可阻挡的、能将人类带往完美和平这一最终目标的进步，它只是基于不同历史阶段、不同人类群体行为的一组统计趋势。对此，它需要我们给出心理学和历史学的解释：人类心智是如何应对情势之变的。

96

这篇文章最有可能出自：

- A、一篇新闻报道
- B、一本学术著作的前言
- C、一次人物访谈
- D、一次志愿者招募宣传单

97

根据本文，人们认为自己生活在暴力时代的原因不包括：

- A、媒体的渲染
- B、对暴力容忍的下降
- C、放大危险的心理
- D、人类的嗜血本能

98

根据本文，作者最可能同意下列哪句话？

- A、人类具有一种内在的侵犯性
- B、科技在进步，而人性并未进化
- C、我们生活在历史上最和平的时代
- D、在绝对正确的革命之上，还有绝对正确的人道主义

99

关于家庭、部族及国家间的暴力，其总体趋势大致符合作者论断的是：

选项	A	B	C	D
家庭	↘	↘	↗	↘
部族	↘	↗	↗	↘
国家	↘	↗	↘	↗

- A、A
- B、B
- C、C
- D、D

100

作者接下来最可能（ ）

- A、援引关于人类心智理论的研究成果
- B、批驳道德领袖的偏狭观点
- C、阐释实现和平之不可能
- D、描述不同文明进程中暴力行径