

2015 年上海公务员考试《行测》真题（B 卷）答案及解析

1、正确答案：B，全站正确率：4%，易错项：A。

解析

第一步，本题考查时政。

第二步，十八届四中全会通过的《中共中央关于全面推进依法治国若干重大问题的决定》指出，明确立法权力边界，从体制机制和工作程序上有效防止部门利益和地方保护主义法律化；对部门间争议较大的重要立法事项，由决策机关引入第三方评估，充分听取各方意见，协调决定，不能久拖不决；加强法律解释工作，及时明确法律规定含义和适用法律依据；明确地方立法权限和范围，依法赋予设区的市地方立法权。

因此，选择 B 选项。

拓展

正确认识“防止部门利益和地方保护主义法律化”，首先应正确理解十八届四中全会提出的“有效防止部门利益和地方保护主义法律化”中的“部门利益”和“地方保护主义”的含义。根据《立法法》的规定，我国采取一元多层立法体制，即除全国人大及其常委会有立法权之外，国务院各部门、地方政府也享有相应的立法权，而我国政府所属部门是没有自己独立的利益的。要防止部门利益和地方保护主义法律化，是因为部门利益和地方保护主义行为损害了其他部门、其他地方的利益，并对社会整体利益造成了损害，即产生了负外部效应。目前，我国的《立法法》《行政法规制定程序条例》《行政规章制定程序条例》等对立法程序都有较明确、具体的规定，对防止部门利益法律化发挥着重要的作用。然而，这些法律规范只能约束行政法规、行政规章的制定程序，对现实生活中发挥重要作用的政府内部文件的制定难以发挥有效的约束力。因此，在法律层面上对政府内部文件的效力做出限制性规定是非常重要的。正因如此，十八届四中全会指出：“行政机关不得法外设定权力，没有法律法规依据不得作出减损公民、法人和其他组织合法权益或者增加其义务的决定”“对部门间争议较大的重要立法事项，由决策机关引入第三方评估”“探索委托第三方起草法律法规草案”等。

2、正确答案：ABCD，全站正确率：13%，易错项：A。

解析

第一步，本题考查时政。

第二步，混合所有制是指允许更多国有经济和其他所有制经济发展成为混合所有制经济。国有资本投资项目允许非国有资本参股。允许混合所有制经济实行企业员工持股，形成资本所有者和劳动者利益共同体。故混合所有制改革，通过在国有资本中引入非国有资本，可以降低管理成本，并减少政府对市场的干预。故 A 项正确。

十八届三中全会提出，全面深化改革，要发挥经济体制改革牵引作用。而在布局经济体制改革时，首先是坚持和完善基本经济制度，还特别提出，混合所有制经济是基本经济制度的重要实现形式。故 B 项正确。

发展混合所有制改革，有利于提高国有资本配置和运行效率，激发国有经济活力，增强国有经济控制力和主体地位。故 C 项正确。

混合所有制改革有助于各种所有制资本取长补短、相互促进，推动国有产业产权流通和重组，改善企业产业结构。故 D 项正确。

因此，选择 ABCD 选项。

拓展

我国的基本经济制度是以公有制为主体，多种所有制经济共同发展。①公有制经济，是指国有经济、集体经济以及混合所有制经济中的国有成分和集体成分。公有制的主体地位主要体现在：公有资产在社会总资产中占优势，国有经济控制国民经济命脉，对经济发展起主导作用。②非公有制经济，是社会主义市场经济的重要组成部分，主要包括个体经济、私营经济、外资经济等。③混合所有制经济，是指财产权分属于不同性质所有者的经济形式。从宏观层次来讲，混合所有制经济是指一个国家或地区所有制结构的非单一性，即在所有制结构中，既有国有、集体等公有制经济，也有个体、私营、外资等非公有制经济，还包括拥有国有和集体成分的合资、合作经济；而作为微观层次的混合所有制经济，是指不同所有制性质的投资主体共同出资组建的企业。

3、正确答案：ABD，全站正确率：23%，易错项：C。

解析

第一步，本题考查征信业管理条例。

第二步，根据《条例》第 16 条规定，征信机构对个人不良信息的保存期限，自不良行为或者事件终止之日起为 5 年；超过 5 年的，应当予以删除。在不良信息保存期限内，信息主体可以对不良信息作出说明，征信机构应当予以记载。因此，对个人不良信用信息的保存期限设定为 5 年，C 项错误。

A 项：严格规范个人征信业务规则。根据《条例》第 16 条规定，除依法公开的个人信息外，采集个人信息应当经信息主体本人同意，未经同意不得采集；向征信机构提供个人不良信息的，应当事先告知信息主体本人；征信机构对个人不良信息的保存期限不得超过 5 年，超过的应予删除；除法律另有规定外，他人向征信机构查询个人信息的，应当取得信息主体本人的书面同意并约定用途，征信机构不得违反规定提供个人信息，A 项正确。

B 项：明确规定禁止和限制征信机构采集的个人信息。根据《条例》第 14 条规定，禁止采集个人的宗教信仰、基因、指纹、血型、疾病和病史信息以及法律、行政法规规定禁止采集的其他个人信息；征信机构不得采集个人的

收入、存款、有价证券、不动产的信息和纳税数额信息，但征信机构明确告知信息主体提供该信息可能产生的不利后果，并取得其书面同意采集的除外，B项正确。

D项：明确规定个人对本人信息享有查询、异议和投诉等权利。根据《条例》第四章内容规定，个人可以每年免费两次向征信机构查询自己的信用报告；个人认为信息错误、遗漏的，可以向征信机构或信息提供者提出异议，异议受理部门应当在规定时限内处理；个人认为合法权益受到侵害的，可以向征信业监督管理部门投诉，征信业监督管理部门应当及时核查处理并限期答复。个人对违反《条例》规定，侵犯自己合法权益的行为，还可以依法直接向人民法院提起诉讼，D项正确。

因此，选择ABD选项。

4、正确答案：BD，全站正确率：1%，易错项：A。

解析

第一步，本题考查公务员奖励制度并选错误项。

第二步，根据《公务员法》第48条规定，对工作表现突出，有显著成绩和贡献，或者有其他突出事迹的公务员或者公务员集体，给予奖励。奖励坚持精神奖励与物质奖励相结合、以精神奖励为主的原则。公务员集体的奖励适用于按照编制序列设置的机构或者为完成专项任务组成的工作集体。A项正确，排除，B项错误，当选。

根据《公务员法》第50条规定，奖励分为：嘉奖、记三等功、记二等功、记一等功、授予荣誉称号。C项正确，排除。

《公务员奖励规定（试行）》第7条，授予荣誉称号，由省级以上党委、政府或者中央公务员主管部门批准。由市（地）级以上机关审批的奖励，事先应当将奖励实施方案报同级公务员主管部门审核，D项错误，当选。

因此，选择BD选项。

注：2018年12月29日，第十三届全国人民代表大会常务委员会第七次会议修订，自2019年6月1日起施行。

根据新修订的《公务员法》，A选项的法条由第48条更新为第51条，C选项的法条由第50条更新为第53条，本题答案不变。

拓展

《中华人民共和国公务员法》是为了规范公务员的管理，保障公务员的合法权益，加强对公务员的监督，促进公务员正确履职尽责，建设信念坚定、为民服务、勤政务实、敢于担当、清正廉洁的高素质专业化公务员队伍，根据宪法，制定的法律。

《公务员奖励规定（试行）》于2008年1月4日颁布，2008年1月4日开始实施。

6、正确答案：AC，全站正确率：25%，易错项：B。

解析

第一步，本题考查上海市查处车辆非法客运办法。

第二步，根据《上海市查处车辆非法客运办法》第11条规定，交通行政执法机构和公安机关依法收集的录音、录像等视听资料、证人证言以及检查笔录等，可以作为认定车辆非法客运的证据。由此可知，以视频监控依法取证，获得的视听资料，可以作为认定车辆非法客运的证据，其采集主体可以是交通行政执法机构和公安机关。

因此，选择AC选项。

7、正确答案：B，全站正确率：12%，易错项：A。

解析

第一步，本题考查宏观经济。

第二步，国家宏观调控的手段分为：经济手段、行政手段和法律手段。经济手段是国家运用经济政策和计划，通过对经济利益的调整而影响和调节社会经济活动的措施。行政手段是国家通过行政机构，采取带有强制性的行政命令、指示、规定等措施，来调节和管理经济的手段。行政手段在现实生活中很常见，比如工商局的检查，税务机关的查税，政府的命令等。法律手段是指国家依靠法律的强制力量来规范经济活动，保障经济政策目标的手段。法律手段是国家通过立法和司法，调节和规范经济活动。新《环境保护法》中的“对拒不改正的排污企业实施按日计罚”“对严重的违法行为采取行政拘留”“政府的主要负责人在应对政府的违法行为造成严重后果时要引咎辞职”都属于法律手段。AD选项中都包含“经济手段”，C项中“财政政策和货币政策”都属于经济手段。但题干中未涉及国家采用经济手段来进行调控，因此都不当选。

因此，选择B选项。

拓展

经济手段具有战略性、宏观性、指导性和间接性的特点。这表现在它确定的是国民经济和社会发展的战略目标，总量调控、重大结构调整和生产力的布局，综合运用各种经济杠杆，通过调整市场主体的经济利益来影响和调节各种经济活动。

法律手段对经济主体具有普遍的约束力和严格的强制性，对经济运行的调节具有相对的稳定性和明确的规定性。

行政手段具有直接、快速和强制性的特点，它的作用方向是自上而下的，呈垂直性。

行政手段是国家直接向企业下达指令性计划或规范企业行为的指令，它通过行政系统上下级隶属关系的强制力量进行。在严重通货膨胀、经济结构失衡等非常时期，间接的经济手段难以产生快速强烈的效应，此时动用严厉的行政手段往往能立竿见影。

8、正确答案：B，全站正确率：17%，易错项：D。

解析

第一步，本题考查行政赔偿。

第二步，行政赔偿是指行政主体违法实施行政行为，侵犯相对人合法权益造成损害时由国家承担的一种赔偿责任。根据《中华人民共和国国家赔偿法》第4条规定，行政机关及其工作人员在行使行政职权时有下列侵犯财产权情形之一的，受害人有取得赔偿的权利：（一）违法实施罚款、吊销许可证和执照、责令停产停业、没收财物等行政处罚的；（二）违法对财产采取查封、扣押、冻结等行政强制措施的；（三）违法征收、征用财产的；（四）造成财产损害的其他违法行为。交通警察甲与货运车司机已有矛盾，甲诬陷乙违反交通规则，并吊销其驾驶证属于违法实施罚款、吊销许可证和执照、责令停产停业、没收财物等行政处罚的行为，因此属于应该给予行政赔偿的情形。

因此，选择B选项。

拓展

A项：国家工作人员基于行政职务关系，以行政主体名义实施的行政行为称为公务行为，而“某事业单位工作人员甲在办事途中顺路买菜”的行为，不属于公务行为，而属于其个人行为，因此，乙菜摊的损失由甲个人承担。

C项：“某市食药监局发现某公司涉嫌销售假冒伪劣药品而将其扣押”为食药监局依法执行公务的行为，并未对相对人的合法权益造成损害，不构成国家赔偿。

D项：“某市检验检疫局扣留了甲公司从海外订购的一批植物种子”为检验检疫局依法执行公务的行为，并未对相对人的合法权益造成损害，不构成国家赔偿。

9、正确答案：B，全站正确率：26%，易错项：C。

解析

第一步，本题考查居民身份证并选错误项。

第二步，根据《中华人民共和国居民身份证法》第3条规定，公民身份号码是每个公民唯一的、终身不变的身份代码，由公安机关按照公民身份号码国家标准编制。因此A项“公民身份证号码编码对象是具有中华人民共和国国籍的公民”是正确的。

根据《中华人民共和国居民身份证法》第5条规定，十六周岁以上公民的居民身份证的有效期为十年、二十年、长期。十六周岁至二十五周岁的，发给有效期十年的居民身份证；二十六周岁至四十五周岁的，发给有效期二十年的居民身份证；四十六周岁以上的，发给长期有效的居民身份证。B项错误，C项正确。

根据《中华人民共和国居民身份证法》第7条规定，公民应当自年满十六周岁之日起三个月内，向常住户口所在地的公安机关申请领取居民身份证。未满十六周岁的公民，由监护人代为申请领取居民身份证。D项正确。

因此，选择B选项。

拓展

背景：《中华人民共和国居民身份证法》经2003年6月28日第十届全国人大常委会第3次会议通过，2003年6月28日主席令第4号公布；根据2011年10月29日第十一届全国人大常委会第23次会议《关于修改〈中华人民共和国居民身份证法〉的决定》修正。《居民身份证法》分总则、申领和发放、使用和查验、法律责任、附则5章23条，自2004年1月1日起施行，《中华人民共和国居民身份证条例》同时废止。依照《中华人民共和国居民身份证条例》领取的居民身份证，自2013年1月1日起停止使用。依照本法在2012年1月1日前领取的居民身份证，在其有效期内，继续有效。

12、正确答案：AC，全站正确率：8%，易错项：D。

解析

第一步，本题考查行政法相关知识。

第二步，根据《行政处罚法》第31条规定，行政机关在作出行政处罚决定之前，应当告知当事人作出行政处罚决定的事实、理由及依据，并告知当事人依法享有的权利。A项正确。

根据《行政处罚法》第4条规定，行政处罚遵循公正、公开的原则。设定和实施行政处罚必须以事实为依据，与违法行为的事实、性质、情节以及社会危害程度相当。C项正确。

因此，选择AC选项。

注：2017年6月27日全国人民代表大会常务委员会做出关于修改《中华人民共和国行政诉讼法》的决定，自2017年7月1日起施行。根据新修正的《行政诉讼法》，原第5条对应为第6条，本题答案不变。

拓展

B项：根据《行政诉讼法》第5条规定，人民法院审理行政案件，对具体行政行为是否合法进行审查。行政处罚显失公正的，意味着该具体行政行为不合理，不能进行诉讼，行政诉讼只审查合法性，不审查合理性。题干中环境保护部“可以处五万元以上三十万元以下的罚款”而最终决定“罚款二十万元”，是合法的，所以“当事人可以以行政处罚显失公正为理由提起行政诉讼”是不恰当的，故B项错误。

D项：根据《行政强制法》第53条规定，当事人在法定期限内不申请行政复议或者提起行政诉讼，又不履行行政决定的，没有行政强制执行权的行政机关可以自期限届满之日起三个月内，依照本章规定申请人民法院强制执行。针对停止建设的情况，环境保护部属于没有行政强制执行权的行政机关，需要申请人民法院强制执行，故D项错误。

14、正确答案：ABC，全站正确率：8%，易错项：D。

解析

第一步，本题考查时政。

第二步，在 2014 年 2 月 24 日的上海市行政审批制度改革工作电视电话会议上，杨雄强调，要把深化行政审额批制度改革作为全面贯彻落实十八届三中全会精神的重要抓手，突出先行先试，突出制度突破，突出务实高效，进一步取消调整审批事项，进一步推行审批标准化管理，进一步加强事中事后监管，在放开、放手、放活上下功夫，确保审改工作年年有突破，集小胜为大胜，充分激发企业和社会活力，真正发挥市场配置资源的决定性作用。

因此，选择 ABC 选项。

拓展

“负面清单管理模式”是指政府规定哪些经济领域不开放，除了清单上的禁区，其他行业、领域和经济活动都许可。凡是与外资的国民待遇、最惠国待遇不符的管理措施，或业绩要求、高管要求等方面的管理措施均以清单方式列明。这是负面清单管理模式在外商投资领域的运用。

16、正确答案：ABCD，全站正确率：28%，易错项：A。

解析

第一步，本题考查水土保持法。

第二步，《水土保持法》第 39 条规定，国家鼓励和支持在山区、丘陵区、风沙区以及容易发生水土流失的其他区域，采取下列有利于水土保持的措施：

- （一）免耕、等高耕作、轮耕轮作、草田轮作、间作套种等；
- （二）封禁抚育、轮封轮牧、舍饲圈养；
- （三）发展沼气、节柴灶，利用太阳能、风能和水电，以煤、电、气代替薪柴等；
- （四）从生态脆弱地区向外移民；
- （五）其他有利于水土保持的措施。

因此，选择 ABCD 选项。

拓展

①水土保持工作实行预防为主、保护优先、全面规划、综合治理、因地制宜、突出重点、科学管理、注重效益的方针。

②县级以上地方人民政府水行政主管部门主管本行政区域的水土保持工作。县级以上人民政府林业、农业、国土资源等有关部门按照各自职责，做好有关的水土流失预防和治理工作。

③任何单位和个人都有保护水土资源、预防和治理水土流失的义务，并有权对破坏水土资源、造成水土流失的行为进行举报。

17、正确答案：D，全站正确率：15%，易错项：B。

解析

第一步，本题考查水源污染。

第二步，青草沙，是中国长江河口的一个冲积沙洲，位于长兴岛的西北方，属上海崇明县管辖。在长江口两岸，有南通、常熟、嘉定、宝山等数个工业城区，这些地方的化工企业每天都向长江排入工业废水，使得长江口及其邻近海域总氮和总磷的通量持续增大，已经属于富营养化区域，从而让位于下游的青草沙面临威胁，存在富营养化、并产生蓝藻水华的可能。重金属的污染主要来源工业污染，其次是交通污染和生活垃圾污染。但本题考查从地理位置的角度出发来判断最大隐患，所以排入工业废水和垃圾污染等不属于地理位置因素，ABC 不当选。咸潮是由太阳和月球（主要是月球）对地表海水的吸引力引起的。当淡水河流量不足，令海水倒灌，咸淡水混合造成上游河道水体变咸，即形成咸潮。咸潮一般发生于冬季或干旱的季节，即每年十月至翌年三月之间出现在河海交汇处，例如长三角、珠三角周边地区。青草沙水源地位于长江流域最末端的河口江心区域，淡水河流不足的情况下容易发生海水倒灌。可见，就地理位置而言，对青草沙水源地位可能造成最大影响是最大隐患是咸潮入侵。

因此，选择 D 选项。

18、正确答案：BC，全站正确率：8%，易错项：A。

解析

第一步，本题考查人民币防伪。

第二步，第五套人民币采用了磁性微文字安全线防伪技术。钞票纸中的安全线，迎光观察，可见“RMB100”微小文字，同时第五套人民币可以用特定的检测仪检测，100 元、50 元的黑色横号码；20 元、10 元、5 元的双色横号码的黑色部分、以及各面额人民币的安全线附有磁性，可供机读。可见第五套人民币首次采用了磁性标记和机读技术相结合的方式提高了防伪性能。AD 选项的防伪特征前面四套人民币也具备。

因此，选择 BC 选项。

拓展

A 项：所谓安全线技术，是指钞票发行机构在印制钞票时，在纸张中埋入了一根金属线，材质为合成材料，以熟料为主，用以作为判断人民币真伪的依据之一。

D 项：水印是钞票纸的一个重要组成部分，是钞票的主要防伪措施之一，水印是在造纸过程中形成的，“夹”在纸中而不是在纸的表面，迎光透视时可以清晰看到有明暗纹理的图形、人像或文字。将纸币迎光观察，纸币上一般都会有与水印相同的图案，可以据此作为判断钞票真伪的标准之一。

19、正确答案：ACD，全站正确率：18%，易错项：B。

解析

第一步，本题考查海洋观测。

第二步，海洋观测是指应用高科技手段全面、深入地观测和了解海洋的变化过程。海洋观测是在一定的时空内对海洋进行立体观测（海面之上、海面、海底）。海面之上的空间观测是利用各类遥感新技术，如高分辨率光谱卫星图像技术、雷达卫星技术等，对海面及海面下一定深度范围内的海洋特性进行全面地观测，所以 C 项正确。海面观测是由岸基海洋观测站、高频地波雷达、各型浮标、科学考察船等组成的海面观测网，对海洋动力、大气、环境、突发事件等实行全天候观测，所以 A 项正确。海底观测是由海底工作平台、海底数据、水下滑翔器、海底机器人等智能终端组成的海底观测网，对海洋深处动力、生物、化学、地球物理要素等数据进行精确而持续的采集，所以 D 项正确。

因此，选择 ACD 选项。

拓展

A 项：科学考察船，是指用于调查研究海洋水文、地质、气象、生物等特殊任务的船舶。雪龙 2 号极地考察船(H2560)是中国第一艘自主建造的极地科学考察破冰船，是全球第一艘采用船艏、船艉双向破冰技术的极地科考破冰船。它能够在 1.5 米厚冰环境中连续破冰航行，交付使用后将填补我国在极地科考重大装备领域的空白。2018 年 9 月 10 日，雪龙 2 号极地考察船下水，标志着我国极地考察现场保障和支撑能力取得新的突破。

B 项：海底光缆又称海底通讯电缆，是用绝缘材料包裹的导线，铺设在海底，用以设立国家之间的电信传输，不属于海洋观测技术。

C 项：卫星遥感技术是一门综合性的科学技术，集中了空间、电子、光学、计算机通信和地学等学科的成就，卫星遥感以人造卫星为平台，遥感主要指从远距离、高空，以至外层空间的平台上，利用可见光、红外、微波等探测仪器，通过摄影或扫描、信息感应、传输和处理，从而识别地面物质的性质和运动状态的现代化技术系统。

D 项：2017 年 5 月，中国国家海底科学观测网正式被批复建立，项目总投资超 20 亿元，建设周期五年。

注：此题需要注意题干中虽然介绍了“我国在东海建立了第一个海底综合观测试验与示范系统”，但题干问题是针对海洋观测的内容，因此 A 项、C 项、D 项全都要选。

21、正确答案：BCD，全站正确率：100%，易错项：A。

解析

第一步，本题考查金属疲劳。

第二步，在金属材料中添加各种“维生素”是增强金属抗疲劳的有效办法。例如，在钢铁和有色金属里，加进万分之几或千万分之几的稀土元素，就可以大大提高这些金属抗疲劳的本领，延长使用寿命。B 项正确。随着科学技术的发展，现已出现“金属免疫疗法”新技术，通过事先引入的办法来增强金属的疲劳强度，以抵抗疲劳损坏。此外，在金属构件上，应尽量减少薄弱环节，还可以用一些辅助性工艺增加表面光洁度，定期清洁金属表面，以免发生锈蚀。D 项正确。对产生震动的机械设备要采取防震措施，以减少金属疲劳的可能性。C 项正确。

因此，选择 BCD 选项。

拓展

A 项：连接件和紧固件应该拧得适度即可，拧得过紧会对金属一处或几处逐渐产生局部永久性累积损伤，影响金属寿命。故 A 项不选。

26、正确答案：ABCD，全站正确率：35%，易错项：A。

解析

第一步，本题考查外来生物入侵。

第二步，外来生物入侵的途径：大多数外来种的传入与人类活动有关。在对外交往中，人们有或无意将外来种引入了我国。但也有一些入侵种类属于自然传入，与人类活动无关或没有明显关联。主要分为：人为有意传入、人为无意传入、自然传入。人为有意传入，如人为有意主动引入物种进国内或种植或售卖。人为无意传入指入侵生物是随人类活动而无意传入的。尤其是近年来，随着国际贸易的不断增加、对外交流的不断扩大、国际旅游业的迅速升温，外来入侵物种借助多种途径越来越多地传入我国。自然传入，外来入侵种还可通过风力、水流自然传入，海洋生物漂流、鸟类等动物还可传播杂草的种子，例如紫茎泽兰是从中缅、中越边境自然扩散入我国的。薇甘菊可能是通过气流从东南亚传入广东；稻水象甲也可能是借助气流迁飞到中国大陆。可见主动引入物种、海洋生物漂流、旅游、国际贸易的货物吞吐都属于外来生物入侵的途径。

因此，选择 ABCD 选项。

27、正确答案：A，全站正确率：40%，易错项：B。

解析

第一步，本题考查文学。

第二步，《永遇乐·京口北固亭怀古》由南宋词人辛弃疾怀着深重的忧虑和一腔悲愤于 1205 年所做，赞扬在京口建立霸业的孙权和率军北伐、气吞胡虏的刘裕，表明要像他们一样金戈铁马为国立功。也即题干中所说的“孙仲谋”和“寄奴”。孙仲谋是指孙权，吴太祖大皇帝孙权字仲谋，是三国时代东吴的建立者。父亲孙坚和兄长孙策，在东汉末年群雄割据中打下了江东基业。建安五年（200 年），孙策遇刺身亡，孙权继之掌事，成为一方诸侯。

“寄奴”是指刘裕，是东晋至南北朝时期杰出的政治家、改革家、军事家，也是南朝刘宋开国皇帝。

因此，选择 A 选项。

拓展

B 项：班固是东汉著名史学家、文学家。作为史学家，班固所著《汉书》是继《史记》之后中国古代又一部重要史书，“前四史”之一，同时班固是“汉赋四大家”之一。

C项：廉颇是战国时赵国名将，与白起、王翦、李牧并称“战国四大名将”。唐德宗时将廉颇等历史上六十四位武功卓著的名将，供奉于武成王庙内，被称为武成王庙六十四将。宋徽宗时追尊廉颇为临城伯，位列宋武庙七十二将之一。

D项：拓跋珪即北魏道武帝，鲜卑族，是北魏开国皇帝。正式建立北魏之后，从盛乐城迁都平城。前期任用贤能，励精图治，积极开疆扩土，统一北方部落，对抗后燕和前秦。晚年则好酒色，刚愎自用，导致在北魏天赐六年的宫廷政变中被儿子拓跋绍刺杀，终年三十九岁，在位二十四年。

28、正确答案：A，全站正确率：36%，易错项：D。

解析

第一步，本题考查龙的九子。

第二步，李东阳《怀麓堂集》中记载：“龙生九子不成龙，各有所好。囚牛，平生好音乐，今胡琴头上刻兽是其遗像；睚眦（yá zì），平生好杀，今刀柄上龙吞口是其遗像；嘲风，平生好险，今殿角走兽是其遗像；蒲牢，平生好鸣，今钟上兽钮是其遗像；狻猊（suān ní），平生好坐，今佛座狮子是其遗像；赑屃又名霸下，平生好负重，今碑座兽是其遗像；狴犴（音：毕案），平生好讼，今狱门上狮子头是其遗像；负屃（fù xì），身似龙，雅好斯文，盘绕在石碑头顶；鸱吻（chī wěn），平生好吞，今殿脊兽头是其遗像。所以在剑柄等兵器之上的应该是睚眦，

因此，选择A选项。

拓展

另也有关于龙之九子说法为：老大赑屃（bì xì）、老二螭吻/鸱尾（chī wěn/chī wěi）、老三蒲牢（pú láo）、老四狴犴（bì àn）、老五饕餮（tāo tiè）、老六螭虬（gōng fù）、老七睚眦（yá zì）、老八狻猊（suān ní）、老九椒图（jiāo tú）。有的说法还把螭首、朝天吼（狻）也列入龙子之一。

29、正确答案：B，全站正确率：23%，易错项：C。

解析

第一步，本题考查三十六计。

第二步，三十六计包括：金蝉脱壳、抛砖引玉、借刀杀人、以逸待劳、指桑骂槐、趁火打劫、擒贼擒王、关门捉贼、打草惊蛇、浑水摸鱼、瞒天过海、反间计、笑里藏刀、调虎离山、顺手牵羊、李代桃僵、无中生有、声东击西、树上开花、暗渡陈仓、假痴不癫、欲擒故纵、走为上、釜底抽薪、空城计、苦肉计、远交近攻、反客为主、上屋抽梯、偷梁换柱、连环计、美人计、借尸还魂、隔岸观火、围魏救赵、假道伐虢。所以B选项正确。其中选项④攻心为上出自于《孙子兵法》，意思是从思想上瓦解敌人的斗志方为上策。但并非三十六计中的一计。⑤反戈一击，出自《尚书·武成》，意思是调转矛头，向自己原来的营垒进攻。比喻掉转方向，对自己阵营的坏人坏事进行斗争。

因此，选择B选项。

拓展

①上屋抽梯又称“过河拆桥”。军事战略上比喻诱敌人向前而断其后路，使其束手就缚。②暗渡陈仓，意思是采取正面佯攻，当敌军被我牵制而集结固守时，我军悄悄派出一支部队迂回到敌后，乘虚而入，进行决定性的突袭。③浑水摸鱼在军事战略上是指趁着敌人内部发生混乱，一些弱小的力量左右摇摆不定，没有主导的情况下，设法使这些弱小势力归顺我方，被我方利用，就像天黑了就要准备睡觉休息一样自然。⑥借尸还魂用在军事上，是指利用、支配那些没有作为的势力来达到我方目的的策略。⑦指桑骂槐在军事战略上的意思是指当我们凭借着强大的实力已经控制了比较弱小的一方之后，还是不够的，我们还需要用一种警惕告诫的方法对弱小的一方进行诱导。适当的运用一些特殊的办法，可以让敌人归顺，然后获得胜利。⑧反客为主比喻要化被动为主动，掌握主动权。此计在军事战略方面，往往反映在同盟军中，起主导地位的主盟者，反被颇费心思的从盟方所支配、戏弄，从而达到从盟者所设计的圈套之中。

30、正确答案：A，全站正确率：35%，易错项：D。

解析

第一步，本题考查文学。

第二步，A项分别是曹操和曹植，二者是父子关系。B项分别是杜甫和杜牧，杜甫生活在盛唐转中唐的时期，杜牧生活在唐晚期。C项分别是苏轼和苏辙，二者是兄弟关系。D项分布是晏几道和李煜。

因此，选择A选项。

拓展

A项：“月明星希，乌鹊南飞”出自曹操的《短歌行》，“本是同根生，相煎何太急”出自曹植的《七步诗》。

B项：“无边落木萧萧下，不尽长江滚滚来”出自杜甫的《登高》，“一骑红尘妃子笑，无人知是荔枝来”出自杜牧的《过华清宫》。

C项：“但愿人长久，千里共婵娟”出自苏轼的《水调歌头》，“幽居一室少尘缘，妻子相看意自闲”出自苏辙的《南斋竹》。

D项：“落花人独立，微雨燕双飞”出自晏几道的《临江仙·梦后楼台高锁》，“春花秋月何时了，往事知多少”出自李煜的《虞美人》。

、上海综合分析能力阶段测评第12题

32、正确答案：ABD，全站正确率：15%，易错项：C。

解析

第一步，本题考查司法体制机制。

第二步，我国司法制度总体上是适应我国国情和发展要求的。同时要看到，在司法活动中还存在一些突出问题。出现这些问题，原因是多方面的，其中司法体制和工作机制不合理是一个重要原因，这种不合理主要包括：（1）司法人财物受制于地方。我国的行政机关掌握着整个国家的财权，各级司法机关的经费必须由同级政府决定。（2）司法行政化问题突出，例如法院级别行政化、上下级法院关系由“监督与被监督”异化为“领导与被领导”、法院内部审判管理的行政化等。（3）司法不公开不透明，尽管审判公开是我国诉讼制度的一项基本原则，但由于我国长期以来实行传统的纠问式诉讼模式，庭审功能弱化，审判公开原则无法得到真正贯彻落实。选项 ABD 所表述的内容都属于我国司法体制机制方面存在的主要问题。

因此，选择 ABD 选项。

拓展

C 项：集体负责制是合议制机关在决定问题时候，全体组成人员集体讨论，按照少数服从多数的原则做出决定的制度，该制度下集体组织中每位成员的地位和权利平等，任何人没有特殊权利，由集体承担责任。该制度本身没有问题，故不符合题意。

、上海综合分析能力阶段测评第 14 题

34、正确答案：ABD，全站正确率：43%，易错项：C。

解析

第一步，本题考查时政。

第二步，《中共中央关于全面推进依法治国若干重大问题的决定》中提到了要强化诉讼过程中当事人和其他诉讼参与人的知情权、陈述权、辩护辩论权、申请权、申诉权的制度保障。健全落实罪刑法定、疑罪从无、非法证据排除等法律原则的法律制度。同时要完善对限制人身自由司法措施和侦查手段的司法监督，加强对刑讯逼供和非法取证的源头预防，健全冤假错案有效防范、及时纠正机制，因此 A、B 项正确。须落实终审和诉讼终结制度，实行诉访分离，保障当事人依法行使申诉权利。对不服司法机关生效裁判、决定的申诉，逐步实行由律师代理制度。对聘不起律师的申诉人，纳入法律援助范围。并未逐步实行强制结案制度。C 项错误。要切实解决执行难，制定强制执行法，规范查封、扣押、冻结、处理涉案财物的司法程序。加快建立失信被执行人信用监督、威慑和惩戒法律制度。依法保障胜诉当事人及时实现权益，D 项正确。

因此，选择 ABD 选项。

35、正确答案：ACD，全站正确率：26%，易错项：B。

解析

第一步，本题考查高考新方案。

第二步，A 项与材料原文“高考不再分文理科，语文、数学和外语 3 门实行统一考试，考生再选 3 门科目参加等级性考试”表述一致，故 A 项符合题意。

根据材料“思想政治、历史、地理、物理、化学、生命科学 6 门科目除合格性考试外，还增设等级性考试，学生可根据自身特长和兴趣选择学习其中 3 门并参加考试”，可判断 C 项正确。

材料“高校可以根据专业要求和办学特色提出不超过 3 门的科目要求，考生只要满足其中 1 门即符合报考条件”体现高校招生方式更加具有自主权，D 项符合题意。

因此，选择 ACD 选项。

拓展

B 项：根据材料信息可知，上海高考新方案规定，6 门考试科目将分散进行。其中语文、数学、外语为统一考试，安排在每年 6 月；外语将率先实行一年两次考试，另一次安排在 1 月，故 B 项“新方案把原先的分散考试变为统一考试”说法错误。

、上海综合分析能力阶段测评第 39 题

44、正确答案：ABC，全站正确率：25%，易错项：D。

解析

第一步，本题考查上海轻工业。

第二步，上海永久股份有限公司从事自行车的历史最早可追溯到 1940 年，它是中国最早的自行车整车制造厂家之一。上海永久牌自行车就成为了那一代人抹不去的记忆，同时也成为上世纪八十年代老百姓心中衡量生活水平的标准之一。上海牌手表是手表中的一个品牌。时髦的世界品牌衣着，配上一只上海牌的老式手表，这样一种时空产生距离美的统一，在香港乃至欧美地区，成为一种新的时尚。上海蝴蝶牌缝纫机是早期的缝纫机品牌，1970 年代开始，蝴蝶牌缝纫机热销全国。它是那个时代的“三大件”之一。可见“永久牌自行车”“上海牌手表”“蝴蝶牌缝纫机”都是上海轻工业的著名品牌代表。ABC 项正确，飞鸽牌自行车是天津的中华老字号，不属于上海的自行车品牌，可见 D 项不当选。

因此，选择 ABC 选项。

、上海综合分析能力阶段测评第 40 题

45、正确答案：ACD，全站正确率：8%，易错项：B。

解析

第一步，本题考查上海的发展历程。

第二步，1956年5月，毛泽东作出“上海有前途、要发展”的战略决策。这对上海产生了重大影响，到20世纪60年代中期，上海就由一个旧中国的消费型轻纺工业城市，发展成为共和国的“两个基地”——综合性的工业基地和科研基地。其所奠定的坚实基础使上海在20世纪90年代一跃而成为共和国的特大型中心城市，并根据党的十四大确定的“一个龙头（以浦东开发开放为龙头）、三个中心”（后来扩展为“四个中心”，即把上海建设成为国际经济中心、国际金融中心、国际贸易中心、国际航运中心）的跨世纪发展战略，正阔步迈向社会主义现代化国际大都市。20世纪80年代改革开放的前锋是经济特区和港口城市，而上海在1992年浦东开发之后才成为改革的前锋。

因此，选择ACD选项。

拓展

20世纪80年代成为中国改革开放的“前锋”是经济特区和港口城市：1979年，党中央、国务院批准广东、福建在对外经济活动中实行“特殊政策、灵活措施”，并决定在深圳、珠海、厦门、汕头试办经济特区，福建省和广东省成为全国最早实行对外开放的省份之一。1984年4月，党中央和国务院决定又进一步开放大连、秦皇岛、天津、烟台、青岛、连云港、南通、上海、宁波、温州、福州、广州、湛江、北海这14个港口城市。逐步兴办经济技术开发区。1988年4月13日在第七届全国人民代表大会上通过关于建立海南省经济特区的决议，建立了海南经济特区。

、上海综合分析能力阶段测评第41题

46、正确答案：ABD，全站正确率：50%，易错项：C。

解析

第一步，本题考查上海发展。

第二步，2010年，国家发改委副主任徐宪平在“国际航运上海论坛2010”上探讨加快推进上海国际航运中心建设这一重大议题时提出，要充分发挥上海建设国际航运中心的综合优势和引领作用。第一、建设上海国际航运中心，要与推进上海加快发展现代服务业和先进制造业、加快建设国际金融中心和现代国际大都市紧密结合起来，整合资源，优化结构，多轮驱动，互促共进，推动上海率先实现产业结构优化升级，率先实现经济发展方式转变。第二、建设上海国际航运中心，要更加注重软实力建设，完善现代航运服务体系，提高航运服务业的国际竞争力。第三、建设上海国际航运中心，要着力构建长三角地区综合运输体系，进一步扩大长三角地区对外开放的广度和深度。第四、建设上海国际航运中心，要扩大长江流域腹地货物集散服务，带动长江沿线经济贸易发展。第五、建设上海国际航运中心，不仅要积极参与国际航运市场竞争，而且要积极参与国际航运规则制定，以提高在国际航运发展事务中的话语权和影响力。可见ABD项说法正确，C项中“而非参与国际航运规则制定”的说法错误。

因此，选择ABD选项。

47、正确答案：AD，全站正确率：18%，易错项：C。

解析

第一步，本题考查调研方法。

第二步，归纳论证是一种由个别到一般的论证方法。它通过许多个别的事例或分论点，然后归纳出它们所共有的特性，从而得出一个一般性的结论。分类就是按照事物的性质、特点、用途等作为区分的标准，将符合同一标准的事物聚类，不同的则分开的一种认识事物的方法。题干中的对各个地点车位的数据方面的总结，属于归纳法和分类法，故AD项正确。所谓演绎法或称演绎推理是指人们以一定的反映客观规律的理论认识为依据，从服从该认识的已知部分推知事物的未知部分思维方法。比较法是通过观察，分析，找出研究对象的相同点和不同点，它是认识事物的一种基本方法，材料中没有体现。

因此，选择AD选项。

48、正确答案：ABCD，全站正确率：39%，易错项：A。

解析

第一步，本题考查立法听证会。

第二步，立法听证会由法案的起草单位主持，由代表不同利益的双方或多方参加，对立法草案内容的必要性、合理性等进行辩论，起草单位根据辩论结果，确定草案内容。代表应该包括市民代表、停车场（库）经营者（管理者）代表、停车行业协会代表、专家学者和专业人士代表和市律师协会代表。

因此，选择ABCD选项。

拓展

第九届全国人大三次会议通过的《立法法》，规定各立法主体在立法过程中，应当采取座谈会、论证会、听证会等多种形式听取社会各方面的意见，由此确立了立法听证制度在我国的法律地位。与其他传统的立法民主形式相比，立法听证会有着较为明显的优点，如它能使利益表达制度化、利益冲突理性化、立法决策公开化及立法程序正当化、民主化，其辐射作用影响了立法者、立法过程、立法结果以及社会公众等不同方面。全面分析和衡量听证会的辐射作用，对于我们进一步认识这一民主制度的价值，从而更为积极地实践这一民主制度具有一定的意义。

、上海综合分析能力阶段测评第29题

49、正确答案：C，全站正确率：16%，易错项：A。

解析

第一步，本题考查听证会。

第二步，听证会的特点是尽量使政策民主化，所以桌椅的摆放应该也是能够最大限度的让参与听证会的人感受到民主氛围的，C项中的中空的位置，符合参与人员自由发言，畅所欲言的民主氛围。

因此，选择C选项。

、上海综合分析能力阶段测评第30题

50、正确答案：A，全站正确率：21%，易错项：C。

解析

第一步，本题考查简报。

第二步，简报一般都有固定的报头，包括简报的名称、期号、编发单位和发行日期。

因此，选择A选项。

拓展

简报是由组织（企业）内部编发的用来反映情况、沟通信息、交流经验、促进了解的书面报道。简报有一定的发送范围，起着“报告”的作用。也可以说，简报就是简要的调查报告，简要的情况报告，简要的工作报告，简要的消息报道等。它具有简、精、快、新、实、活和连续性等特点。常见的简报有三种：一是会议简报，主要反映会议交流、进展情况；二是情况简报，反映人们关注的问题，供机关领导参考；三是工作简报，报告重大问题的处理情况以及工作动态、经验或问题等。简报的格式主要包括三部分：报头、正文和报尾。报头部分包括：简报名称、期数、编写单位、印发日期。正文部分包括：标题、前言、主要内容和结尾。报尾部分包括：抄报抄送单位、发送范围、印数等。

、上海综合分析能力阶段测评第31题

51、正确答案：D，全站正确率：81%，易错项：B。

解析

第一步，突破口在第三空。根据“要愉悦，就别_____身边人给予的态度”可知，该句要表达的意思是要愉悦就不要过于在乎身边人给予的态度和评价。A项和D项“计较”指计算比较得失，“计较态度”符合文意。B项和C项“获得”指得到，后面多搭配积极的对象，不符合文意，排除B项和C项。

第二步，分析第四空。该空与“地方”搭配。A项“牺牲”指放弃或损害一方的利益，与“地方”搭配不当，排除A项。D项“离开”指跟人、物或地方分开，与“地方”搭配恰当。答案锁定D选项。

第三步，验证第一空和第二空。“牺牲”和“安全”搭配恰当；“获得”与“成就”搭配恰当。二者均符合语境。因此，选择D选项。

拓展

放弃：丢掉（原有的权利、主张、意见等）。

52、正确答案：C，全站正确率：78%，易错项：B。

解析

第一步，分析第一空。根据文段提示，前面说的是“……并非平坦顺畅”，后面说的是“……明显快于欧美发达国家与众多发展中国家”，前后文意发生转变，两句话形成了转折关系，转折词前面直接搭配的关联词是“虽然”，保留B项、C项和D项。A项“鉴于”指“考虑到”，与文意逻辑不符，排除A项。

第二步，分析第三空。前文说“明显快于”，后文说“不是越快越好”，前后文意发生转变，两句话形成了转折关系，C项“然而”表示转折，符合文意。B项“因而”和D项“所以”均表示因果关系，不符合文意，排除B项和D项。答案锁定C选项。

第三步，验证第二空、第四空和第五空。“但”与“虽然”搭配构成一组转折关联词；“倘若……则……”表示假设及可能带来的负面结果。符合文意。

因此，选择C选项。

55、正确答案：B，全站正确率：58%，易错项：C。

解析

第一步，分析第一空。“以身作则”是做榜样的意思，根据“以身作则、_____”可知，该空要填入“以身作则”的近义词。A项“身先士卒”比喻领导带头，走在群众前面；B项“率先垂范”指率先，带头；垂范，示范。二者均与“以身作则”的语义相近，符合语境。C项“严于律己”指严格地约束自己；D项“公平正直”指公道平等，不偏袒，不营私。二者与“以身作则”语义不相近，不符合语境，排除C项和D项。

第二步，分析第二空。“如临深渊”形容小心谨慎，根据“以_____、如临深渊的小心和谨慎”可知，该空要填入“如临深渊”的近义词。A项“如箭在弦”比喻势在必行，不符合语境，排除A项。B项“如履薄冰”形容做事小心谨慎，不敢马虎大意，符合语境。答案锁定B选项。

第三步，验证第三空。“求真务实”指追求真理，讲求实际，符合语境。

因此，选择B选项。

拓展

如临大敌：形容把本来不是很紧迫的形势看得十分严重。小心翼翼：形容谨慎小心，一点不敢疏忽。

56、正确答案：C，全站正确率：37%，易错项：D。

解析

第一步，分析题干，找出句式特点与其他三项不同的一项。

第二步，辨析选项。A项“不能容于远近”意为：不能被远近之人所容（收留）；B项是“为……所”作标志词

的被动句，句意为：现在如果不赶快去，恐怕被曹操抢了先；D项意为：被大方之家（有智慧、有学识的人）嘲笑。三者都是被动句式。C项意为：游玩山水的乐趣，领会在心里，寄托在喝酒上，明显不是被动句式。

因此，选择C选项。

57、正确答案：C，全站正确率：24%，易错项：A。

解析

第一步，审题干，找出句子表达上有问题的一项。

第二步，辨析选项。C项偷换主语，老人编选《今古奇观》这本书，书是小说选本。A项、B项和D项表达均没有问题。

因此，选择C选项。

59、正确答案：B，全站正确率：44%，易错项：C。

解析

第一步，审题干，找出表达最连贯、最通顺的一项。分析句子之间的逻辑关系，“越往古代追溯，历史学家亲历历史事件的可能性就越小”与“在通常的情况下，历史学家是借助历史资料进行自己的研究活动的”二者属于因果关系。

第二步，辨析选项。A项“在通常的情况下，历史学家是借助历史资料进行自己的研究活动的，因而越往古代追溯，历史学家亲历历史事件的可能性就越小”因果颠倒，排除A项。B项前文的因果关系符合逻辑，后面通过转折关联词“然而”指出“在长时间的流传过程中，历史资料的可靠性进一步降低了”，与前文转折关系也成立，B项正确。C项中“越往古代追溯，历史学家亲历历史事件的可能性就越小”与“在长时间的流传过程中，历史资料的可靠性进一步降低了”转折关系不成立，排除C项。D项中“虽然越往古代追溯，历史学家亲历历史事件的可能性就越小，然而在通常的情况下，历史学家是借助于历史资料进行自己的研究活动的”逻辑错误，二者是因果关系，构不成转折关系，排除D项。

因此，选项B选项。

61、正确答案：A，全站正确率：46%，易错项：D。

解析

第一步，分析文段，将选项与原文一一对应。

第二步，辨析选项。四个选项均对应文段的第二句话，通过文中对“增长”和“发展”的定义进行判断。即“‘增长’通常指经济增长，是指一个国家和地区生产的物质产品和服务的增加，即社会财富的增长、生产或产出的增长；‘发展’则是指以经济增长为核心的社会进步，包括投入产出、产业形态、收入分配、消费方式、社会福利、文化教育、生态环境等各方面的改善”。A项理解错误，“增长”虽然是“发展”的核心，但没有“增长”也可能有“发展”，该项表述过于绝对。B项、C项和D项通过文段第二句话均可得到。

因此，选择A选项。

62、正确答案：D，全站正确率：73%，易错项：A。

解析

第一步，分析文段，将选项与文段一一对应。

第二步，辨析选项。A项对应“因为当山上的土石被冲下山来，山脉失去了重量，因而就漂得高一点，补充了一点失去的高度”，故可知水土流失对山的高度有影响，排除A项。B项对应“而海底接受了河流冲来的大量泥沙而变得重了，于是就会下降，从而部分地抵消了因大量泥沙的沉积而增加的高度”，故可知泥沙淤积并不会使海洋变得更深，排除B项。C项属于无中生有，排除C项。D项对应文段第一句“地壳均衡论表明，总的高度至少能部分地互相弥补”，符合原文。

因此，选择D选项。

64、正确答案：B，全站正确率：16%，易错项：C。

解析

第一步，分析文段。文段首先介绍在之前电调模式下乘客打车的缺点，“每次只能与一家公司联系……在这中间乘客要耗费更多的时间和金钱”。接着介绍现在的打车软件，“打车软件则不分出租车公司，你只要在客户端上提交了叫车请求，那么该软件就会向周边装有该App的出租车发送请求”。通过前后对比，文段重点强调了“打车软件”的出现提高了乘客打车成功的可能性。

第二步，对比选项。B项“打车软件增加了交易的可能性”是要证明的观点。

因此，选择B选项。

拓展

A项和D项：“打车软件使用范围广”“信息不对称状况”均属于无中生有。C项：对应原先电调模式下，乘客要打车“每次只能与一家公司联系”的弊端，偏离重点。

66、正确答案：B，全站正确率：47%，易错项：D。

解析

第一步，分析文段。孔子的话大致意思是：笃信（自己的主张），喜好学习，死死地守住这善行。危险的国家不去，混乱的国家不居住，天下有道义就出（来做官），没有道义就隐居起来。国家有道义，贫穷且卑贱，这是耻辱。国家没有道义，富贵而且尊贵，这也是耻辱。孟子的话大意为：金钱和地位不能使自己迷惑腐化，贫苦穷困、地位低下不能改变自己的志向，权势武力不能让自己屈服变节，这说的就是真正的大丈夫。荀子说的话大意为：

当你地位高贵时，不奢侈过度；得到君主信任时，不忘记避嫌疑；担负重任时，不敢独断专行。财物利益来临时，而自己的善行还够不上得到它，就一定要尽到了推让的礼节后再接受。幸福之事来临时就安和地对待它，灾祸之事来临时就冷静地去处理它。富裕了就广泛施舍，贫穷了就节约费用。能上、能下，可富、可贫，可以杀身成仁却不可以被驱使去做奸邪的事。

第二步，辨析选项。A项理解错误，三段话均在强调“为人处世必须坚守道德”，但道德的“重要性”并未做论述，排除A项。B项理解正确，孔子讲述在“天下有道和无道”的情况下如何保持道德操守；孟子讲述在“富贵和贫贱”下如何坚守道德；荀子讲述在“贵、信、任重、财利、福事、祸事”等情况下如何坚守原则。C项理解错误，孟子并未表述“守信”，排除C项。D项理解错误，“做有骨气的人”仅涉及孟子和荀子表述的个别方面，两者的共性在于无论环境如何变化，都要坚守原则，排除D项。

因此，选择B选项。

67、正确答案：C，全站正确率：72%，易错项：B。

解析

第一步，分析文段。“科举制度”出现在文章第一段。第一段首先指出在启蒙思想家眼中中国的科举制度是当时世界上最公平最理性的创制。接下来指出用考试去决定社会的上升流动要公平和理性得多。尾句指出从历史角度来看，中国是个考试的国度，并不完全是种贬称。也就是，第一段的主旨句在第三句，强调的是通过考试选拔人才的很公平、很理性。列举“科举制度”恰是为了证明这一观点。

第二步，对比选项。C项“通过考试选拔人才有其合理性”是第一段的主旨，是“科举制度”主要为了说明的内容。

因此，选择C选项。

拓展

A项、B项和D项：三项均没有体现出考试的合理性，且都是围绕“中国”展开，偏离主旨。

72、正确答案：C，全站正确率：69%，易错项：D。

解析

第一步，分析文段，将选项与原文一一对应。

第二步，辨析选项。A项对应第三段“《集异璧》探讨了庞杂的主题”和第四段“《集异璧》被归为人工智能的经典著作”，可知A项正确，排除A项。B项对应第三段尾句“它写到了所有的一切！很多人觉得不可能找到这本书的重点”和第四段首句“但这本书还是有重点的”，可知B项正确，排除B项。C项，文中没有提及“《集异璧》建构了技术路线”，该项属于无中生有。D项对应第四段“他在《集异璧》中对计算机、程序、思考和大脑的描绘，开启了整整一代年轻人对人工智能的探索”，可知D项正确，排除D项。

因此，选择C选项。

73、正确答案：D，全站正确率：82%，易错项：B。

解析

第一步，定位原文，“灵活类比研究小组”出现在第五段第三句。根据第五段“我们只是在努力地理解人类概念的本质和人类思考的根本机制。我们更像是哲学家或试图探究人类心智奥秘的心理学家，而非旨在制造聪明的计算机或机灵程序的工程师”可知，“灵活类比研究小组”的主要研究目的是理解人类思考的机制。

第二步，对比选项。D项符合上述信息。

因此，选择D选项。

拓展

A项和B项：根据“在FARG我们没有致力于开发实际的应用，诸如翻译引擎”可知，不符合文意。C项：根据“而非旨在制造聪明的计算机或机灵程序的工程师”可知，不符合文意。

74、正确答案：C，全站正确率：80%，易错项：B。

解析

第一步，定位原文，“侯世达领导的小组开发的程序经常失败，但他却很开心”出现在第六段。根据“要是我们的任何系统真的在其微领域中获得了与人类相颉颃的智力，我们将痛心至极，因为那将是很可怕的：这意味着人的智力并非如我们所想的那样复杂或深奥。这意味着短短几十年的研究就足够人类解开人类思维的奥秘”可知，“他”对失败感到开心的原因是：失败能够证明人的智力是复杂或深奥的。

第二步，对比选项。C项符合上述信息。

因此，选择C选项。

拓展

A项、B项和D项：无中生有。

75、正确答案：D，全站正确率：45%，易错项：B。

解析

第一步，分析文段。文章首先介绍侯世达的名字，接着介绍他的作品《集异璧》和侯世达极其团队对人工智能的研究，最后表述侯世达本人自己研究的看法。综上可知，本文是专门围绕“侯世达”而写作的。

第二步，对比选项。D项“侯世达专访”是对文段的主要内容的全面概括。

因此，选择D选项。

拓展

A 项：“《集异壁》书评”偏离文段核心话题“侯世达”，且是文章的部分内容。B 项：“侯世达介绍”表述片面，侯世达极其团队对人工智能的研究和侯世达对研究的看法不属于“侯世达介绍”。C 项：偏离文段核心话题“侯世达”。

76、正确答案：B，全站正确率：64%，易错项：A。

解析

第一步，本题考查工程问题，属于效率类。

第二步，赋值每个人的效率为 1，设原计划需要 x 天完成， $10 \times (x-5) = (10+4) \times (x-5-10)$ ，解得 $x=40$ 。

因此，选择 B 选项。

78、正确答案：D，全站正确率：66%，易错项：B。

解析

第一步，本题考查行程问题，属于相遇追及类。

第二步，由题意可知狗跑的时间和甲、乙两人走的时间相等，设甲、乙两人走过的时间为 t ， $(55+45) \times t = 2000$ ，解得 $t=20$ 。则狗跑过的距离为 $120 \times 20 = 2400$ （米）。

因此，选择 D 选项。

81、正确答案：D，全站正确率：83%，易错项：C。

解析

第一步，本题考查星期日期问题。

第二步，2 月 28 天只有 4 个星期日，所以这个 2 月必定有 29 号，并且 29 号就是星期日，反推可得 2 月 1 日也是星期日。

因此，选择 D 选项。

82、正确答案：B，全站正确率：44%，易错项：C。

解析

第一步，本题考查基础应用题。

第二步，第一排 16 人，按照要求只能坐 8 人，第二排 17 人按照要求能坐 9 人，第三排 18 人按要能坐 9 人；从第四排开始依次类推能坐的人数分别为 10、10、11、11、12、12、13、13、14、14、15、15、16。

第三步，考场最多能容纳 $8+9+9+10+10+11+11+12+12+13+13+14+14+15+15+16=192$ （人）。

因此，选择 B 选项。

84、正确答案：C，全站正确率：77%，易错项：B。

解析

第一步，本题考查工程问题，属于时间类。

第二步，赋值游泳池总体积为 40，则进水管每分钟注水量为 2，进水管每分钟出水量为 1；未关闭出水口状态下 2 分钟纯注水量为 $2 \times (2-1) = 2$ 。还需时间为 $(40-2) \div 2 = 19$ （分钟）。

因此，选择 C 选项。

86、正确答案：B，全站正确率：53%，易错项：A。

解析

第一步，确定题型。

本题考查物理学中的气体压强问题。

第二步，分析选项。

根据理想气体状态方程 $pV=nRT$ （其中， p 表示理想气体的压强， V 表示理想气体的体积， n 表示理想气体物质的量， T 表示理想气体的热力学温度， R 为理想气体常数），可知气体压强与热力学温度成正比，与体积成反比。

题中火罐被紧压在皮肤上时，火罐内的气体体积是一定的，当火熄灭时温度降低，内部的气体压强也随之降低，此时外部大气压强大于火罐内的气体压强，从而使火罐吸附在皮肤上。

因此，选择 B 选项。

87、正确答案：A，全站正确率：40%，易错项：C。

解析

第一步，确定题型。

本题考查物理学问题。

第二步，分析比较选项。

翻越雪地时，为了加强排雪和压雪的能力，应选择排水槽更多、更深的轮胎；此外，为了提升轮胎的吸水能力以及抓地力，应选择有细缝花纹的轮胎。结合选项进行分析比较，可知，A 选项中的轮胎更适合翻越雪地。

因此，选择 A 选项。

88、正确答案：A，全站正确率：53%，易错项：C。

解析

第一步，确定题型。

本题考查物理学中的杠杆知识。

第二步，分析选项。

根据杠杆平衡原理“阻力×阻力臂=动力×动力臂”可知，当施加的拉力竖直向下时，此时阻力臂=动力臂，则拉力F等于左边三个砝码的重力，此时动力臂最长，拉力F最小。当拉力在竖直平面内从左向右沿逆时针旋转时，“阻力×阻力臂”恒定不变，动力臂先变大后变小，因此拉力F就先变小后变大，只有A项符合。

因此，选择A选项。

89、正确答案：C，全站正确率：30%，易错项：A。

解析

第一步，确定题型。

本题考查物理学中的电路知识。

第二步，结合题干信息进行分析。

灯泡甲和乙的规格分别为“220V，60W”和“220V，30W”，由“当导体两端电压不变时，电功率与电阻成反比”，可知灯泡甲和乙的电阻比为1：2。将灯泡甲和乙串联入电路中，则通过两个灯泡的电流相同，由“当通过导体的电流不变时，电功率与导体电阻成正比”，可知两个灯泡的实际功率比为1：2。灯泡乙的实际功率较高，所以灯泡乙更亮。

因此，选择C选项。

91、正确答案：C，全站正确率：44%，易错项：A。

解析

第一步，确定题型。

本题考查物理学中波长、波速和频率的关系。

第二步，辨析选项。

本题考查波长 λ 、波速 v 和频率 f 的关系。频率和周期的关系是 $f=1/T$ ，波长、波速和周期的关系是 $\lambda=vT$ ，可得出 $\lambda=v/f$ 。甲图中，波长 $\lambda_{甲}=25\text{mm}$ ，心率 $f_{甲}=60\text{次/分}=1\text{次/秒}=1\text{Hz}$ ，所以心电图仪的周期 $T=1\text{s}$ ，心电图仪图纸移动的速率 $v=\lambda/T=25\text{mm/s}$ 。由于甲、乙两人在同一台心电图仪上作出心电图，所以图纸移动的速率相同，由乙图可知 $\lambda_{乙}=20\text{mm}$ ，则可得乙的心率 $f_{乙}=v/\lambda_{乙}=25/20\text{Hz}=75\text{次/分}$ 。

因此，选择C选项。

94、正确答案：D，全站正确率：59%，易错项：C。

解析

第一步，确定题型。

本题考查物理学中的摩擦力。

第二步，分析选项。

由图可知，乙端对手的压力较大，且摩擦系数相同，所以乙的手对凳子向右的最大静摩擦力大于甲手对凳子向左的最大静摩擦力。由于甲受到的最大静摩擦力小，因此甲相对长凳容易滑动，即甲手容易被从长凳上拉离，因此凳子将向右移动，即乙容易将凳子拉向自己。故A、B两项错误，D项正确。C项，在拔河过程中，若甲发生相对滑动，甲受到的是滑动摩擦力，而乙受到的是静摩擦力，此时两个摩擦力大小不等。

因此，选择D选项。

96、正确答案：C，全站正确率：52%，易错项：D。

解析

第一步，看提问方式，本题属于选非题。

第二步，找关键信息。

①经过两次否定；

②重新达到了原来的出发点，但这是在更高阶段上达到了。

第三步，辨析选项。

A项：并不是否定已有的事物，而是对旧事物的扬弃，说明达到更高的阶段，说法正确；

B项：事物螺旋式上升说明达到了更高的阶段，说法正确；

C项：两者共同强调的是要把握住事物发展过程中对立的统一性，但并没有对于两者进行否定，说法错误；

D项：学习后实践，再从实践中去进一步改进学习之前的不足之处，每次的学习和实践都比原来达到了更高的阶段，说法正确。

因此，选择C选项。

97、正确答案：C，全站正确率：68%，易错项：A。

解析

第一步，看提问方式，本题属于选是题。

第二步，找关键信息。

单个语音组合成连续的语音流时，连在一起的几个音由于说话时语速快慢、音量高低、语气强弱的不同，相互影响、相互适应，由此而产生的语音的变化。

第三步，辨析选项。

A项：加儿化音，是当地人的说话习惯，并非“由于说话时语速快慢、音量高低、语气强弱的不同，相互影响、相互适应，由此而产生的语音的变化”不符合定义；

B项：“n”、“l”不分，是因为当地人普遍的发音环境造成的影响，并非“由于说话时语速快慢、音量高低、

语气强弱不同，相互影响、相互适应，由此而产生的语音的变化”不符合定义；

C项：复数词尾-s本来读清音[s]，后一个词受前一个词影响，属于“相互影响、相互适应，由此而产生的语音的变化”，符合定义；

D项：英语国家的学习者受到母语的影响，并非“由于说话时语速快慢、音量高低、语气强弱的不同，相互影响、相互适应，由此而产生的语音的变化”，不符合定义。

因此，选择C选项。

98、正确答案：C，全站正确率：35%，易错项：A。

解析

第一步，看提问方式，本题属于选非题。

第二步，找关键信息。

需要经济供养的少年与老年人口之和与劳动年龄人口数量之比。

第三步，辨析选项。

A项：会增加少年人口比例，从而增加抚养比，符合定义；

B项：人均寿命提高会增加老年人口比例，从而增加抚养比，符合定义；

C项：失业率增加不影响劳动年龄人口的数量，不会增加抚养比，不符合定义；

D项：退休年龄提前会减少劳动年龄人口数量，从而增加抚养比，符合定义。

因此，选择C选项。

100、正确答案：C，全站正确率：66%，易错项：D。

解析

第一步，看提问方式，本题属于选非题。

第二步，找关键信息。

由爱好者对漫画、动画、游戏、小说、影视等作品进行衍生创作而形成的文章及相关图片、影音、游戏等。

第三步，辨析选项。

A项：粉丝即为对于专一事物产生兴趣的爱好者，属于“由爱好者创作的衍生品”，说法正确；

B项：二次创作即是在原作品的基础上进行再一次创作，属于“衍生创作”，说法正确；

C项：同人作品是与原作品有关的图片、影音，并不能保证不侵犯版权，说法错误；

D项：将原作品根据个人的倾向喜好，再一次进行创作，可能会与原作品的展现形式不同，出现对原作品的艺术形式的改变，说法正确。

因此，选择C选项。

101、正确答案：A，全站正确率：89%，易错项：B。

解析

第一步，看提问方式，本题属于选是题。

第二步，找关键信息。

无论商品的价格如何变化，都会有特定的需求量存在而不会发生变化。

第三步，辨析选项。

A项：抗癌药品是癌症患者的必需品，无论价格如何变化，也都保持着稳定的销量，符合定义；

B项：没有体现“都会有特定的需求量存在而不会发生变化”，不能说明需求量无变化，不符合定义；

C项：没有体现“都会有特定的需求量存在而不会发生变化”，不能说明需求量无变化，不符合定义；

D项：水果随着价格的变化，需求量也发生了变化，不符合定义。

因此，选择A选项。

103、正确答案：C，全站正确率：33%，易错项：D。

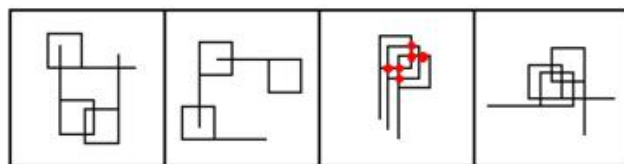
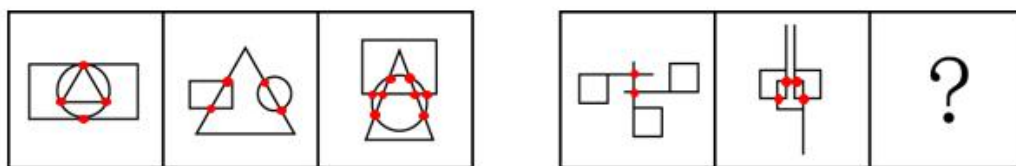
解析

第一步，观察特征。

组成元素不同，优先考虑数量类或属性类。图形出现“十”字型交点，考虑数点。

第二步，两段式，第一段找规律，第二段应用规律。

第一段：图形与图形的交点数为4、4、8， $4+4=8$ ，即前两个图形交点之和等于第三幅图；第二段应用规律：图形与图形的交点为：2、4、？，问号处图形与图形的交点数应为6，如下图所示，只有C项符合。



A

B

C

D

因此，选择 C 选项。

104、正确答案：B，全站正确率：28%，易错项：C。

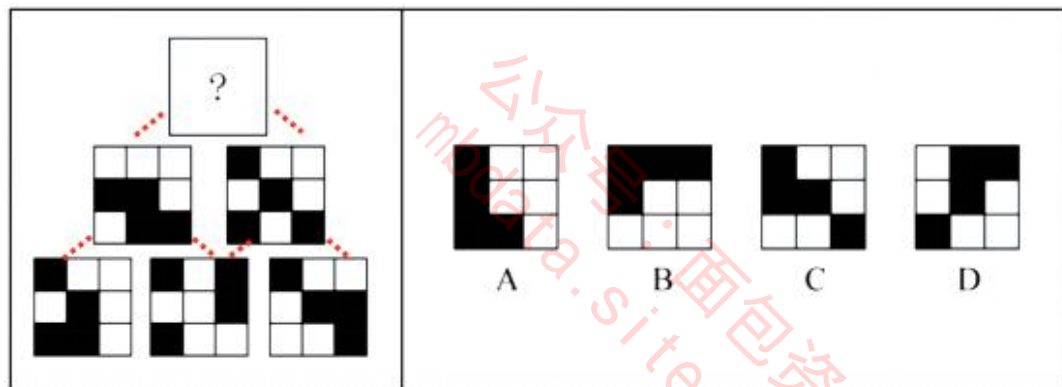
解析

第一步，观察特征。

组成元素相似，优先考虑样式类运算。

第二步，金字塔型，从下往上观察较常见。

下一层中相邻的两个图形中的黑色方块进行求异运算，之后整体顺时针旋转 90° 得到上一层的图形。应用规律，如下图所示，只有 B 项符合。



因此，选择 B 选项。

105、正确答案：D，全站正确率：74%，易错项：C。

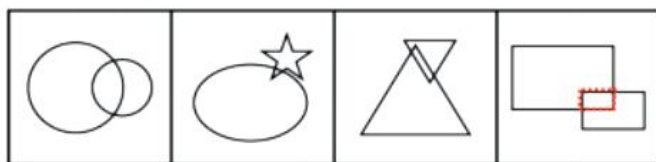
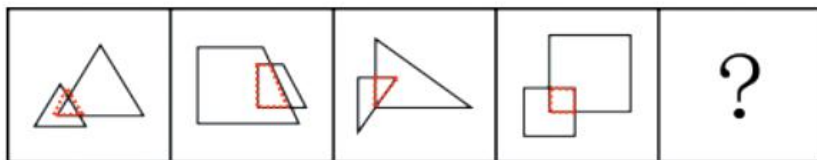
解析

第一步，观察特征。

组成元素相似，优先考虑样式类运算。

第二步，一条式，从左到右找规律。

每幅图形均由两个相似的图形相交组成，且相交部分与两个图形均相似，问号处应用规律，只有 D 项符合。



A

B

C

D

因此，选择 D 选项。

106、正确答案：B，全站正确率：77%，易错项：C。

解析

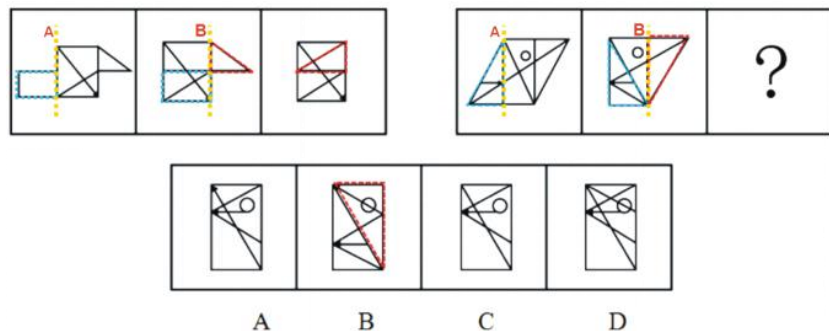
第一步，观察特征。

组成元素相似，优先考虑样式类运算。

第二步，两段式，第一段找规律，第二段应用规律。

观察发现样式类无规律。继续观察，第一段：图形以垂线为轴，图 1 左边突出的部分沿垂线 A 向右翻转得到图 2，

图 2 右边突出的部分沿垂线 B 向左翻转得到图 3；第二段应用规律：图 1 左边的三角形沿垂线 A 向右翻转得到图 2，图 2 右边的三角形垂线 B 向左翻转得到问号处的图形，如下图所示，只有 B 项符合。



因此，选择 B 选项。

107、正确答案：C，全站正确率：91%，易错项：B。

解析

第一步，观察特征。

图形轮廓且组成元素种类均相同，但黑白块位置不同，考虑平移。三角形直角方向不同，考虑旋转和翻转。

第二步，两段式，第一段找规律，第二段应用规律。

第一段，内部图形每次向左移动一定距离，同时每次逆时针旋转 90° ；第二段应用规律，内部图形向左移动一定距离，同时逆时针旋转 90° 得到问号处图形，只有 C 项符合。

因此，选择 C 选项。

110、正确答案：A，全站正确率：55%，易错项：D。

解析

第一步，观察特征。

组成元素相同，但每一幅图中两种有黑点标记的长方形发生明显位置变化，考虑平移。

第二步，一条式，从左到右找规律。

题干给出的 4 幅图的变化规律为：第一幅图的中间两个图形，左边图形向右平移，右边图形向左平移，每次移动半格得到下一个图形。应用规律，只有 A 项符合。

因此，选择 A 选项。

114、正确答案：B，全站正确率：91%，易错项：C。

解析

第一步，确定题型。

根据提问方式中的“前提”，确定为加强论证。

第二步，找论点和论据。

论点：该药物能治疗人类哮喘。

论据：该药物能治疗小鼠哮喘。

第三步，辨析选项。

A 项：不明确项。不知道选项中所说的是“人的哮喘”，还是“小鼠的哮喘”，且会不会造成副作用也不知道，不具有加强作用。

B 项：建立联系。在小鼠和人之间建立联系，因此才能拿小鼠的情况来类比人，具有加强作用。

C 项：不明确项。即使所用的激素药物剂量相当，也不能保证对人就有效且不会造成副作用，不具有加强作用。

D 项：增加反向论据。说明人使用后可能会产生副作用，故不可以在临床上用来治疗人类哮喘，具有削弱作用。

因此，选择 B 选项。

116、正确答案：B，全站正确率：52%，易错项：D。

解析

第一步，确定题型。

根据提问方式中的“加强”，确定为加强论证。

第二步，找论点和论据。

论点：图书馆藏书利用率不一定递减。

论据：借出的书数量递减。

第三步，辨析选项。

A 项：无关选项。说图书馆藏书的利用率很难统计与论点无关，论题不一致，排除。

B 项：增加论据。指出进入图书馆的人数增加，由此可知，在图书馆阅览的人增加，故利用率不一定递减，具有加强作用。

C 项：无关选项。讲座与题干无关，论题不一致，排除。

D 项：无关选项。电子书与题干无关，论题不一致，排除。

因此，选择 B 选项。

117、正确答案：D，全站正确率：63%，易错项：C。

解析

第一步，确定题型。

根据提问方式，确定为平行结构。

第二步，分析题干推理形式。

分别设“学生成绩不及格”为a，“老师没有教好”为b，则题干的推理形式为：a由于b， $\neg a$ 因此 $\neg b$ 。

第三步，辨析选项。

A项：分别设“队员们的体重增加”为a，“暴饮暴食”为b，则其推理形式为：a由于b， $\neg b$ 因此 $\neg a$ ，与题干推理形式不同，排除；

B项：分别设“体重增加”为a，“队友们的想象”为b，“发放了过去三个月的体重变化表”为c，“体重增加的投诉减少了”为d，则其推理形式为：a由于b，c因此d，与题干推理形式不同，排除；

C项：分别设“工人投诉”为a，“工作任务太复杂”为b，“工作环境得到了改善”为c，则其推理形式为：a由于b， $\neg b$ 则 $\neg a$ ，因此c，与题干推理形式不同，排除；

D项：分别设“工人提出投诉”为a，“工作量不饱和”为b，则其推理形式为：a由于b， $\neg a$ 因此 $\neg b$ ，与题干推理形式相同，符合。

因此，选择D选项。

118、正确答案：C，全站正确率：81%，易错项：A。

解析

第一步，确定题型。

根据提问方式中的“削弱”，确定为削弱论证。

第二步，找论点和论据。

论点：“优化调整停车场差别化收费方案”可以缓解中心城区的交通拥堵状况。

论据：无

第三步，辨析选项。

A项：无关选项。G市公车占比及其是造成中心城区交通拥堵的主要原因之一，与题干通过“优化调整停车场差别化收费方案”缓解中心城区交通拥堵状况无关，论题不一致，排除。

B项：无关选项。市民仍然会乘坐出租车前往这些医院，与题干通过“优化调整停车场差别化收费方案”缓解中心城区交通拥堵状况无关，论题不一致，排除。

C项：增加反向论据。指出开私家车去中心城区的多数车主属于高收入阶层，停车费上涨对他们几乎没有影响，因此“优化调整停车场差别化收费方案”不能缓解中心城区的交通拥堵状况，具有削弱作用。

D项：无关选项。题干并未涉及“加剧公交车的拥挤程度，降低公交出行的舒适度”，论题不一致，排除。

因此，选择C选项。

121、正确答案：D，全站正确率：26%，易错项：C。

解析

第一步，确定题型。

题干有信息匹配，确定为分析推理。

第二步，分析条件，进行推理。

题干已知条件为：张、马、李至少有一人参加；

I可翻译为：获得邀请函 \rightarrow 提交英文论文且通过评审，其逆否命题为： \neg 提交英文论文或 \neg 通过评审 \rightarrow \neg 获得邀请函；

II可翻译为：张参加 \rightarrow 马参加，其逆否命题为： \neg 马参加 \rightarrow \neg 张参加；

III可翻译为：李提交了德语论文；

由III可知，李没有提交英文论文，结合I的逆否命题，根据“或关系”的特性：“一真即真”，可得：李没获得邀请函，因此李没参加，排除A项。由II的逆否命题可得，如果马没参加，那么张也没参加，三个人都没参加，与题干“至少有一人参加”矛盾，所以马一定参加了，而张是否参加不确定。

因此，选择D选项。

122、正确答案：C，全站正确率：65%，易错项：B。

解析

第一步，确定题型。

依据题干和提问方式，确定为归纳推理。

第二步，分析题干和选项。

A项：题干中并未对新手司机和三到五年驾龄司机的驾驶技术进行比较，属于无中生有，排除；

B项：题干中未涉及对驾驶技术没有自信的司机会怎么样，属于无中生有，排除；

C项：题干中说三到五年驾龄司机出车祸概率高是因为忽略对路况的仔细观察，就说明没有仔细观察路况是导致车祸的一个主要原因，可以推出；

D项：题干中没有提到驾驶技术与出车祸之间的关系，属于无中生有，排除。

因此，选择C选项。

123、正确答案：C，全站正确率：40%，易错项：B。

解析

第一步，确定题型。

根据题干关联词“如果……则”等，确定为翻译推理。

第二步，翻译题干。

①张：¬陈→¬张

②王：（王且刘且陈）或（¬王且¬刘且¬陈）

③李：李→王

由题干可知，三个人的预测都是错的，即求①②③的否定。

①的否定：④¬陈且张

②的否定：⑤王、刘、陈不是都优秀，也不是都不优秀

③的否定：⑥李且¬王

由④⑥可知：张、李优秀，陈、王不优秀；又由⑤：王、刘、陈不是都优秀，也不是都不优秀，可知：刘优秀。则优秀的有三人，分别为张、李、刘。

因此，选择C选项。

126、正确答案：C，全站正确率：65%，易错项：A。

解析

第一步，本题考查混合增长率计算。

第二步，定位第一段“2013年全国社会物流总额197.8万亿元，同比增长9.5%，增幅比上年回落0.3个百分点。分季度看，一季度增长9.4%，上半年增长9.1%，前三季度增长9.5%”。

第三步，根据混合增长率口诀：整体增长率介于各个部分增长率之间，且偏向于基数较大的部分的增长率。一季度增长率（9.4%）>上半年（一季度+二季度）增长率（9.1%），故二季度增长率<9.1%；上半年增长率（9.1%）<前三季度（上半年+第三季度）增长率（9.5%），故第三季度增长率>9.5%；前三季度增长率（9.5%）=全年（前三季度+第四季度）增长率（9.5%），故第四季度增长率=9.5%，故增长率最高的季度是第三季度。

因此，选择C选项。

132、正确答案：B，全站正确率：86%，易错项：C。

解析

第一步，本题考查现期比重计算中求比重。

第二步，定位表格材料“规模以上工业合计销售产值7622.27亿元，六个重点发展工业销售合计为5087.19亿元”。

第三步，根据公式比重=部分量/整体量，选项首位相同但第二位不同，对分母从左向右截取前三位，分子简单取

5087

整，则占比约为 $\frac{5087}{762}$ ，直除首两位商66，与B选项最接近。

因此，选择B选项。

133、正确答案：A，全站正确率：41%，易错项：C。

解析

第一步，本题考查两期比重比较。

第二步，定位表格中六个重点发展工业的“总产值增长率”和“销售产值增长率”。

第三步，根据两期比重比较口诀：部分增长率a>整体增长率b，比重上升，反之，下降。求产销率上升，即求销售产值增长率>总产值增长率的行业个数，观察表格发现六个重点行业的销售增长率均小于总产值增长率，即没有产销率上升的。

因此，选择A选项。

134、正确答案：B，全站正确率：51%，易错项：A。

解析

第一步，本题考查两期比重计算。

第二步，定位文字材料“2014年一季度生产汽车67.33万辆，增长15.9%。其中运动型多用途乘用车7.96万辆，增长44.1%”。

第二步，根据两期比重计算口诀：部分增长率a>整体增长率b，比重上升，反之，比重下降，且变动幅度<增长率之差的绝对值，即比重上升的幅度<|44.1%-15.9%|=28.2%，即28.2个百分点，四个选项都符合，再根

据公式 $\frac{A}{B} \times \frac{a-b}{1+a}$ ，复杂计算，对数据进行截位舍相同处理，即 $\frac{8}{67} \times \frac{28.2\%}{1.4} \approx \frac{160\%}{67} \approx 2.4\%$ ，即2.4个百分点，与B选项最接近。

因此，选择B选项。

135、正确答案：B，全站正确率：74%，易错项：C。

解析

第一步，本题考查综合分析问题，且需选出其中正确的一项。

第二步，A选项，读数比较，定位表格数据六个行业的产销率和总产值增长率，产销率最低的是生物医药制造业（93.5%），但其总产值增长率（14.6%）<汽车制造业（15%），并非最高，错误。

B 选项，增长量公式比较，定位表格数据“成套设备制造业的产值为 825.65 亿元，增长率为 7.5%；精品钢材制造业的产值为 376.28 亿元，增长率为 5.6%”，根据增长量比较口诀：大大则大，一大一小看乘积，成套设备的现期量与增长率均大，故其增长量也大，正确。

C 选项，材料只给了排量在 1 升到 1.6 升之间的轿车产量及增长率数据，并未给出该排量的整体汽车行业相关数据，无法得出，错误。

D 选项，求单平均数，定位文字材料，根据平均数=总数/总个数，数据简单取整即 $\frac{1372}{67} > 20$ （万元），错误。因此，选择 B 选项。

136、正确答案：C，全站正确率：69%，易错项：A。

解析

第一步，本题考查综合分析，且需选出错误的一项。

第二步，A 选项，增长率计算比较，定位表格“股票总发行股本”一行，根据公式增长率=增长量/基期量，数据简单取整，计算得 2008—2012 年增长量依次是 1900、1706、6378、9112、和 2299，因为 2009 年增长量下降基期量上升，根据分数性质（分子大分母小的分数值较大），可得 2009 年增长率 < 2008 年增长率，排除；同理可

排除 2012 年。对分母从左往右截取前三位，则剩余三年增长率 2008 年为 $\frac{1900}{170} = 11^+$ 、2010 年为 $\frac{6378}{206} \approx 31$ ，

2011 年为 $\frac{9112}{270} \approx 34$ ，增长率最大的年份是 2011 年，正确。

B 选项，读数比较，定位表格“A、B 股”“B 股”和“H 股”三行，读数发现“H 股”数量逐年上升；“A 股”=“A、B 股”-“B 股”，“A、B 股”逐年上升，“B 股”较上年持平或下降，故“A 股”逐年上升，正确。

C 选项，读数比较，定位图 2，由国债发行额（灰色柱子）走势可知，国债发行额先下降后上升最后再下降，错误。

D 选项，读数比较，定位表格“债券投资基金只数”一行，观察表格，其只数是逐年增加的，正确。

因此，选择 C 选项。

137、正确答案：C，全站正确率：63%，易错项：D。

解析

第一步，本题考查综合分析问题，且需选出其中正确的一项。

第二步，A 选项，读数比较，定位表格数据最后两行，2010 年—2011 年总成交量（下降）与总成交额（上升）变化方向不一致，错误。

B 选项，读数比较，定位表格“上证综合指数”、“深证综合指数”两行，2009—2010 年上证综合指数（下降）与深证综合指数（上升）变化方向不一致，错误。

C 选项，读数比较，定位表格“上海平均市盈率”、“深圳平均市盈率”两行，读数比较可知上海平均市盈率比深圳平均市盈率相对波动小，正确。

D 选项，和差比较，定位表格“债券成交额”一行，根据增长量=现期量-基期量，数据较长进行截位舍相同处理，则 2008—2012 年增长量大约是 8200 亿元、11700 亿元、35600 亿元、14000 亿元和 187100 亿元，最大的是 2011—2012 年，错误。

因此，选择 C 选项。

138、正确答案：C，全站正确率：75%，易错项：B。

解析

第一步，本题考查综合分析问题，且需选出其中正确的一项。

第二步，A 选项，读数比较，定位图 1，2009—2010 年股票成交额是上升的，而股票成交量是下降的，方向不一致，错误。

B 选项，分数比较，定位表格“股票成交量”和“股票成交金额”两行，根据平均数=总数/总个数，分数比较对分母从左向右截取前三位，分子将单位亿元化成千亿元并简单取整，则几年的均将分别是

$\frac{461}{364}$ 、 $\frac{267}{241}$ 、 $\frac{536}{511}$ 、 $\frac{546}{422}$ 、 $\frac{422}{340}$ 、 $\frac{315}{329}$ ，根据数量级进行判断， $\frac{315}{329}$ 小于其他几个分数，故最小的是 2012 年，错误。

C 选项，分数比较，由 B 选项知 2012 年是最小的排除，2007—2011 年依次是 $\frac{461}{364} \approx 1.27$ 、 $\frac{267}{241} \approx 1.1$ 、

$\frac{536}{511} \approx 1.05$ 、 $\frac{546}{422} \approx 1.29$ 、 $\frac{422}{340} \approx 1.24$ ，均价最高是 2010 年，正确。

D 选项，读数比较，定位图 1“股票成交量”（菱形折线），可知股票成交量并不是逐年上升的，错误。

因此，选择 C 选项。

139、正确答案：D，全站正确率：77%，易错项：A。

解析

第一步，本题考查综合分析问题，且需选出错误的一项。

第二步，A 选项，读数比较，定位图 2 “2008 年”数据，可知国债（灰色）与企业债券（黑色）发行额非常近似，其比值接近于 1：1，正确。

B 选项，读数比较，定位图 2 中“企业债券发行额”（黑色），最高的是 2012 年，正确。

C 选项，读数比较，定位图 2，可知企业债券发行额（黑色）在 2011 年首次超过国债（灰色）发行额，正确。

D 选项，现期倍数计算，定位表格“国债发行额”和“企业债券发行额”2007 年数据，倍数 $\frac{23139.1}{5058.5} > 4$ ，错误。
因此，选择 D 选项。

140、正确答案：B，我的选择：D。回答错误

统计

答题时间：129 秒，全站正确率：55%，易错项：D。

解析

第一步，本题考查综合分析，且需选出其中正确的一项。

A 选项，和差类，定位表格中“A、B 股”和“B 股”中 2011 年和 2012 年数据，2012 年 A 股数量=2494—107=2387（家），2011 年 A 股数量=2342—108=2234（家），增长量=2387—2234=153（家），错误。

B 选项，和差类，定位表格中“A、B 股”和“B 股”中 2010 年和 2011 年数据，由 A 选项知，2011 年 A 股数量为 2234 家，2010 年为 2063—108=1955（家），增长量为 2234—1955=279（家），正确。

C 选项，读数比较，定位表格中“B 股”一行，观察可知，B 股数量并非逐年增加，错误。

D 选项，增长率计算比较，定位表格中“A、B 股”一行，根据公式增长率=增长量/基期量，2008—2012 年增长量分别是 75、93、345、279、152，2011 年增长量小于 2010 年，但是基期量大于 2010 年，故其增长率应小于 2010 年，并非最大的，错误。

因此，选择 B 选项。