

2008 年吉林省公务员录用考试《行政职业能力测验》试卷（甲级）

第一部分 数量关系 (共 10 题, 参考时限 10 分钟)

本部分包括两种类型的题目:

一、数字推理: 共 5 题。给你一组数字, 但其中缺少一项, 要求你仔细观察这组数字的排列规律, 然后从四个选项选出你认为最合理的一项来填补空缺项。

1、0, 0, 3, 20, 115, ()

A、710 B、712 C、714 D、716

2、2008, 2006, 2003, 1998, 1991, 1980, ()

A、1982 B、1965 C、1967 D、1969

3、

-2	3	4
3	-4	6
4	6	()

A、-2 B、-3 C、-4 D、-5

4、

4	7	14
9	16	()
18	33	64

A、30 B、31 C、32 D、33

5.0, 3, 2, 5, 4, 7, ()

A、6 B、7 C、8 D、9

二、数学运算: 共 5 题。请你充分利用所给条件, 寻找解决问题的捷径。

6、中国现代电子计算机二进制的发源地, 二进制中只有“0”和“1”两个数码, 因“二”没有单独数码代表, 因此“逢二进一”这样便可以表示一切自然数。请选出下列十进制数中, 用二进制表示不正确的一项是:

A、1 为 1, 2 为 10 B、3 为 11, 5 为 110 C、4 为 100, 7 为 111 D、8 为 1000, 10 为 1010

7、四点半钟后, 时针与分针第一次成直线的时刻为:

A、4 点 40 分 B、4 点 45 又 $\frac{4}{11}$ 分 C、4 点 54 又 $\frac{6}{11}$ 分 D、4 点 57 分

8、有个人发现图书馆的那本《大英百科全书》的第 21、42、64、65、121、137、138、190 页对他有用, 便把这几页偷偷的撕下带走了, 那他一共撕去了:

A、4 页 B、6 页 C、7 页 D、8 页

9、一个四边形去掉一个角, 还剩几角? 下列不可能的是:

A、3 B、4 C、5 D、6

10、某日人民币的外汇牌价如下表(货币单位: 人民币元)按照这一汇率, 100 元人民币可以兑换:

货币名称	中间价
100 美元	786. 97
100 欧元	1003. 53
100 日元	6. 6704
100 港币	101. 102

A、10. 07 欧元 B、1490. 16 日元 C、12. 71 美元 D、99. 98 港币

第二部分 言语理解 (共 30 题, 参考时限 35 分钟)

一、言语理解与表达

11、中国艺术市场又让经验丰富的专业人士螳目结舌, 美国一家主流媒体认为, 无论以何种标准来衡量, 目前在克里斯蒂拍卖行取得的 2630 万美元总拍卖额也属非比寻常的巨大成功。《国际先驱论坛报》就此刊发文章说: 中国艺术品热拉动了纽约拍卖市场, 出席拍卖会的人士似乎有一种疯狂的购买热情。一般的出席者来自中国大陆、香港和台湾, 114 只鼻烟壶最终以 428 万美元的总价被拍出, 这股购买热潮因此平添了几分传奇色彩。题中运用

的说明方法有:

- A、举例子、列数字、引资料 B、作诠释、列数字、作比较
C、打比方、作比较、举例子 D、下定义、列数字、作诠释

12、以下句子中没有语病的一项是:

- A、三年当中,这个县粮食总产量,以平均每年递增百分之二十的速度,大踏步地向前发展
B、我市各单位首批赴北京参观的代表均由先进生产者组成
C、老师问清了原因,沉思了少许,慢慢的走到我身边
D、为争取高速度,我们必须狠抓科学技术的现代化,用先进的科学技术把国民经济搞上去

13、下列关联词使用恰当的一项是:

- A、有些炎症,中药西药都能治。不但中药能与一般抗菌素媲美,而且副作用小、成本也低。
B、尽管你的帮助多么微薄,但在他的心上,却像千斤重的砝码。
C、新加坡的竹节虫,不仅体色几乎和竹子一样,而且体形在安静时完全像一根树枝。
D、如要能掌握各种类型的调查报告的特点,有助于调查研究过程中抓住中心,突出重点。

14、下列句子没歧义的一项是:

- A、他的哥哥和妹妹的三个朋友一起出去郊游 B、两个报社的记者和编辑出席了高考听证会
C、这是一部现代战争小说 D、售货员的意见我们已经开会讨论了

15、下列句子中分句间逻辑关系相同的一组是:

- ①不是鱼死,就是网破
②学习可以增长知识,又能提升气质
③天气虽然冷,但是外面仍然有人晨练
④团结既是工作需要,又是中华美德
A、①② B、②③ C、①③ D、②④

16、下列句子中有升迁之意的是:

- A、予除右丞相兼枢密使 B、滕子京滴守巴陵郡 C、迁客骚人,多会于此 D、公将黜太子申生

17、目前,首家“自助图书馆”现身深圳,由深圳研制出的“城市街区 24 小时自助图书馆系统”样机问世,摆放在深圳图书馆门前接受市民检阅与试用,标志着深圳图书馆之城与公共文化服务体系建设迈向新台阶。题中标志的主语是:

- A、样机 B、样机问世 C、首家“自助图书馆”现身深圳 D、接受市民检阅与试用

18、《中国青年报》载文指出,数十名经济学家认为我国城市贫困问题明显加重。专家们认为,这样一个庞大的贫困群体可能来自于:国有企业改革和调整导致失业群体,资源枯竭型城市里大量具有正常劳动能力的城市居民,退休较早、仅依靠退休金的老年人,流入城市、成为城市新贫困阶层的大量农村人口。同时,社会保险、教育培训、医疗保障等制度上的缺位与失效,也在随时随地制造和产生着新的城市贫困人群。关于这段话,下列说法正确的是:

- A、我国城市贫困群体由多种原因形成 B、流入城市的大量农村人口不能算作城市新贫困阶层
C、资源枯竭型城市里具有劳动能力的市民不会贫困 D、退休较早、仅依靠退休金的老年人生活有保障不会贫困

19、中国的专利申请平均每年以 48% 的速度增长。中国的专利实施只占专利总量的 20%~30%,与国外达 80% 的实施率相比,专利差距很大。在中国专利申报总量中只有 15% 来自于企业,而发达国家的专利申请 80% 来自于企业。这段话支持了这样一种观点,即:

- A、中国科技创新进步势头迅猛 B、中国的科技创新不仅要注重开发研究,更要加强推广和实施科技成果
C、中国科技创新水平与国外相比差距很大 D、中国企业不像科研院所和高校那样重视科技创新活动

20、一位哲人这样解释乐观与悲观:譬如面对着桌子上的半杯水,乐观主义者说这个杯子的一半是满的,悲观主义者说这个杯子的一半是空的。显然,使我们在任何时候、任何条件下都不会失去信心和追求。一旦遇到困难,我们黯淡的心情也能够很快豁然开朗,从种种苦恼中自我解脱。填入划线上最恰当的是:

- A、观察事物时善于选择生活中积极的一面 B、人与人的观察角度和思维方式是不同的
C、乐观主义比悲观主义更有利于人类进步 D、这两种理解有其合理性,也有一些片面性

21、随着石油的不断涨价,一些国家利用微生物将甘蔗、甜菜、木薯发酵成酒精,替代石油,这种酒精具有燃烧完全、效率高、无污染等特点,用其稀释汽油可得到“乙醇汽油”。比如,巴西已经将几十辆汽车改装为使用“乙醇汽油”或酒精作为燃料,大大减轻了大气污染。根据本文,理解正确的是:

- A、燃油涨价影响汽车业 B、酒精完全可替代汽油
C、可以将植物制成酒精 D、巴西的污染非常严重

22、森林与水血脉相依,森林作为陆地生态系统的主体和自然界功能最完善的资源库,具有调节气候、涵养水源、保持水土、防风固沙、改良土壤、减少污染等多种功能,对保护人类生态环境起着决定性和不可替代的作用。森林可以涵养水源。据专家研究,森林对降雨有着重新分配的作用,25% 的降雨量可为植被蓄存吸收。一般认为,5 万亩的林木就相当于一座 100 万立方米的水库。

这段话主要谈论的是:

- A、保护森林的重要性 B、保护水源的重要性 C、人类生存的生态环境 D、水与森林的依存关系

23、纠风工作要按照“为民、务实、清廉”的要求抓好抓实,要坚持“谁主管谁负责”、“管行业必须管行风”的

原则,着力构建长效机制,建立和完善齐抓共管的责任机制、纠建并举的预防机制、群众广泛参与的监督机制、着眼治本的创新机制,不断铲除源头上滋生不正之风的土壤和条件。最能准确复述这段话的是:

- A、纠风工作要多管齐下、标本兼治
- B、纠风工作要建立和完善齐抓共管的责任机制
- C、纠风工作要依靠广大群众参与监督
- D、纠风工作要从源头治理,做到长治久安

24、人们谈到要培养儿童成才,首先考虑的是如何提高他们的智力、如何提高他们的学习成绩。似乎成绩好的孩子将来就有出息。其实,这种看法是不全面的。不少研究资料表明世界上有名的科学家、企业家、社会活动家,其成功的因素中,智力因素才占了三分之二。

这段话主要支持的观点是:

- A、考虑如何提高孩子的智力是错误的
- B、应当关注儿童成才培养过程中智力和非智力的全面发展
- C、科学家的成功归根结底取决于非智力因素
- D、只有提高儿童智力,才能提高他们的学习成绩

25、中国资源价格主要存在两大方面的问题,一是资源价格基本上是政府定价或政府指导价,只反映了资源开发成本,没有全面覆盖环境破坏成本和安全生产成本,资源税也很低,更重要的是没能真实反映市场供求关系资源稀缺程度,致使资源价格偏低;二是资源性产品之间比价关系不合理。最能准确复述这段话的主要意思的是:

- A、中国资源价格没有真实反映市场供求关系和资源稀缺程度
- B、中国资源性产品之间比价关系不合理
- C、中国资源价格基本上是政府定价或政府指导价
- D、中国资源价格存在着盲目定价和比价关系不合理的问题

26、大多数传译人员都认为,最不好办的就是讲话人用难以翻译的文字游戏开玩笑。人们讲话时最注意的恐怕莫过于自己说的笑话所引起的反应了。如果讲话人由于自己的幽默而忍俊不禁,听众却一个个莫名其妙,那么谁都不会感到舒服了。关于这段话,下列说法正确的是:

- A、大多数传译人员对翻译讲话人用文字游戏开的玩笑多少力不从心
- B、对外国人说话不应该搞文字游戏
- C、讲话人喜欢用文字游戏讲笑话
- D、即使听众听了莫名其妙,讲话人讲笑话也会忍俊不禁

27、森林是人类文明的摇篮,是最直接影响人类能否生存下去的生态因子。森林吸收二氧化碳,释放氧气,以此平衡着大气二氧化碳的比例,据估计,世界上的森林和植物每年产 4000 亿氧气。森林是造雨者,不但影响降水量,且减缓山坡上的土壤侵蚀。

这段话主要支持了这样一种论点,即森林:

- A、是造雨者
- B、是“天然氧吧”
- C、是人类文明的摇篮
- D、是人类生存环境的重要组成部分

28、电子游戏为我们展现了一个不同于现实生活的新世界,人们在游戏里取得的成功是可以清晰定义的而且是可以实现的,玩家可以在游戏中控制整个世界,从而摆脱现实生活的焦虑感,使自己的行为在虚拟世界中变得举足轻重,成为一名英雄,游戏结束,他并没有真的输掉或赢得什么东西。这段话直接支持这样一种观点,即:

- A、电子游戏完全是虚拟的东西,所以没有必要去浪费时间
- B、人们可以通过电子游戏在真实世界和欲望世界中寻求心理平衡
- C、人们在电子游戏中的成功是实在的,而且可以用来赚钱
- D、游戏让人们不付出代价,轻松地满足成就感

29、瑞士汽车的普及率很高,平均两人就有一辆,对富有的瑞士人来说,买辆豪华的“奔驰”或“林肯”轿车根本不在话下。然而,瑞士公路上行驶的大多数是“本田”、“大众”等普及型轿车以及一些叫不出名的甲壳虫车。瑞士是“手表王国”,所产的“劳力士”、“雷达”和“欧米茄”等品牌手表名扬世界。以瑞士人的收入,花儿千元买块“劳力士”只是很小的开支,但瑞士人大都戴普通手表,有的年轻人戴的甚至是塑胶电子表。最适合做本段文字标题的是:

- A、手表王国
- B、汽车乐园
- C、富裕的瑞士人
- D、瑞士人的时尚

30、环境问题一旦发生,再来治理,非但费事劳神,而且难以转变,甚至不可逆转。因而,“先发展,后治理”的观点不仅是片面的,而且是非常危险的。这段话主要支持了这样的观点,即:

- A、环境问题是一个复杂的问题
- B、对环境问题必须防治结合,以防为主
- C、对重大工程必须先进行环境综合评价
- D、治理环境问题费事劳神

31、肤色是人体美的重要特征。面部皮肤是最引人注目的地方,健美的面部皮肤可以增添人的姿色,反映人的健康状况和精神面貌。中国人大多是黄肤色人种,光洁柔润、白里透红的颜面,往往被人们称道和羡慕。这段话,下列说法正确的是:

- A、中国人肤色最美丽
- B、世界各地的人们都喜欢中国人
- C、面部皮肤是肤色美的集中体现
- D、观察面部肤色就可以透视人的内心

32、多年以来,医生和家属对待癌症患者大多采用这样的态度:即向患者隐瞒已得癌症的实情,这种做法在医学上叫做“保护性医疗”,其目的在于减少患者的心理负担。但是,某肿瘤医院新设立的康复科的张主任却主张实行“公开性治疗”。由此可推知下文将要论述的是:

- A、医生和家属在实行“公开性治疗”过程中如何具体分配
- B、“保护性医疗”的弊端
- C、“公开性治疗”将使病情得到控制和好转
- D、“公开性治疗”的含义和形式

33、在社会生活中，人的角色支配了我们的感知，我们的注意力常常被人们日常的活动所吸引，往往缺乏对角色之外人的内心深处的了解，因而在一些看似深刻的关于人的认识中不免存在着基于表面化或主观化的观点。这段话直接支持的观点是：

- A、在社会生活中，人们都要充当各式各样的角色
- B、我们在社会中的认识是建立在对各种角色的理解之上的
- C、缺乏对角色之外人的了解，就会产生主观化或表面化认识
- D、避免角色的影响，才能对社会中的人有更客观深刻的了解

34、目前，研究人员尚不能确定，是先有抑郁症，还是先有沉溺网络，但有一点是肯定的，即两者之间是一种恶性循环。抑郁症可以便青少年更加沉溺于网络，有抑郁症状的青少年基本没有生活目标，网络游戏中获得的虚拟奖励对他们来讲很有吸引力，虽然网络世界四通八达，但沉溺其中的青少年的内心却异常孤独。这段话支持了这样一种观点，即：

- A、抑郁症和沉溺网络两者之间存在一种恶性循环，对青少年的负面影响极大
- B、网络世界四通八达，但沉溺其中的青少年内心却是异常的孤独
- C、抑郁症可以便青少年更加沉溺于网络世界
- D、有抑郁症状的青少年基本没有生活目标，网络游戏中获得的虚拟奖励对他们来讲很有吸引力

35、尼龙的强度，比棉花高两三倍，比羊毛高四五倍。一般直径为1毫米的尼龙丝，可以吊起100公斤的东西，一根手指粗细的尼龙绳，可以吊起一辆满载的卡车！这段话主要讲的是：

- A、尼龙的强度
- B、尼龙的用途
- C、尼龙的神奇
- D、尼龙、棉花和羊毛的比较

36、如果我们要更深一层地研究梦思和梦内容的关系，最好的方法便是把梦作为起点，然后研究梦表现方法中的正统特征究竟和底下的思想有什么关系。最显著的是，梦里面各种梦的影像会激发起不同的感觉强度，而梦的各段或者是不同的梦都具有不同约清楚度。

文中“梦思”的意思为。

- A、梦的表现方法
- B、梦的正统特征
- C、梦的思想
- D、梦的思维过程

37、古往今来，没有一场真正的根本性变革，不是大大推动社会生产力发展的。“真正的根本性变革”对“社会生产力发展”是否有推动作用？

- A、怎能会有
- B、怎能没有
- C、可能会有
- D、可能没有

38、俄罗斯首都莫斯科计划斥资20亿英镑兴建全球最大型建筑物，起名“水晶岛”。“水晶岛”外层均采用玻璃材质。水晶岛的总占地面积是直径365米的伦敦“千年弯顶”的近2倍，高度为457.2米，仅次于世界第一高楼台北101大厦。它的建筑面积是美国国防部五角大楼建筑面积的4倍多，堪称世界之最。该建筑物内还设立了一家可容纳500名学生的国际学校、一个电影院、一个博物馆、一个剧院、一个综合体育馆和数十家商店。该建筑物离地面980英尺处还设立了一个观景台，可全方位眺望莫斯科全景。建筑物四周冬季还将开辟越野滑雪场和溜冰场。根据上文，“水晶岛”被称为“世界上最雄心勃勃的建筑物”的原因是：

- A、它的高度和宽度
- B、它是世界上最大的建筑物
- C、它的面积广阔和独特的设计
- D、它是俄罗斯大国地位的象征

39、工作并不是一种必要的痛苦，相反，它是愉悦和价值的内在来源。工作并不只是实现目的的手段，而有大量的内在价值。这段话的主要意思是：

- A、如果没有认识到工作的深刻意义，那么工作就变成了一种痛苦；如果认识到工作的深刻意义，那么工作就变成了一种快乐。
- B、如果没有认识到工作的深刻意义，那么工作就失去了它真正的价值；如果认识到工作的深刻意义，那么工作就会让你实现自身的价值
- C、只有认真端正工作的态度，才能体会工作的价值，才能实现自身的价值
- D、只有深刻理解工作的态度，才能快乐的工作，才能最大限度地实现自身价值

40、在公路发展的早期，它们的走势还能顺从地貌，即沿河流或森林的边缘发展。可如今，公路已无所不在，狼、熊等原本可以自由游荡的动物种群被分割得七零八落。与大型动物的种群相比，较小动物的种群在数量上具有更大的被动性，更容易发生杂居的现象。

- A、公路的发展造成了动物生存状态的改变。
- B、公路越发展，对动物越不利。
- C、公路发展的程度不同，动物所受影响的程度也不同。
- D、公路的发展应考虑到对动物的影响。

第三部分 判断推理 (共50题，参考时限35分钟)

本部分包括四种类型的题目：

一、定义判断：共10题。每道题先给出一个概念的定义，然后分别列出四种情况，要求你严格依据定义，从中选出一个最符合或最不符合该定义的答案。注意：假设这个定义是正确的，不容置疑的。

41、绿色消费是指消费者选购产品时，考虑到产品对生态环境的影响，而选择对环境危害较少，甚至是有利的产品。主要包括三层含义：一是倡导消费者在消费时选择未被污染或有助于公众健康的绿色产品；二是在消费过程中注重对垃圾的处置，不造成环境污染；三是引导消费者转变消费观念，崇尚自然，追求健康，在追求生活舒适的同时，注重环保，节约资源和能源，实现可持续消费。根据上述定义，下列各项中属于绿色消费的是：

- A、某餐馆推出以野生动物为主的菜式,因其主要材料来自非人工饲养的纯天然的野生动物,甚至包括某些珍稀动物,吸引了一部分消费者。
- B、小高热衷于购买本地生产的商品,他认为本地商品虽然价格高、样式陈旧、质地较差,但是由于减少了运输过程的资源消耗和包装浪费,也是对环境的一种支持
- C、小王出于对健康的考虑,喜欢食用无农药污染的绿色蔬菜,为了保持蔬菜的新鲜,他用塑料保鲜膜将蔬菜分类储藏
- D、小张是一个注重生活品质的人,所以在装修新居时,不惜花费大价钱,全部使用价格比较昂贵的绿色环保建材

42、生物性需要是指与保持个体生命安全和种族延续相联系的需要,是人所共有的,人的这种需要如果在相当长的时间里得不到满足,人就会死亡或者不能繁殖后代。

根据上述定义,下列各项中属于生物性需要的是:

- A、王某大学毕业后努力找工作,最终在一家公司找到了技术员的工作,他对这个工作很满意
- B、赵某在一家公司从事管理工作,常常事事亲历亲为,他感觉很疲惫,想要放假休息一下
- C、张某退休后觉得无事可做,于是报读了老年大学,学习园艺
- D、李某在工作中吃苦耐劳,积极肯干,他希望自己的工作得到领导和同志们的肯定

43、再造想象是指根据语言的描述或根据图样、图解、符号记录等在头脑中产生新的形象的过程。

根据上述定义,下列各项中不属于再造想象的是:

- A、鲁迅先生根据辛亥革命前后中国社会和中国人的真实面貌,创造了阿Q这一形象
- B、当我们读到唐代诗人张维的《枫桥夜泊》时,头脑中会出现一幅深秋夜晚旅客寄宿城外舟中的图景
- C、在幼儿园中,从一个简单的圆圈,孩子们可以想象出许多千奇百怪的事物
- D、古文字学家从甲骨文是象形文字这一特点出发,在四千六百多个甲骨文单字中,已经辨识出一千七百多个

44、社会认识是指个体在与他人的交往过程中,观察、了解他人并形成判断的一种心理活动。

根据上述定义,下列各项中不属于社会认识的是:

- A、中医通过望、闻、问、切来诊断病情
- B、父母可以从孩子的面部表情和身体动作中得知孩子的喜、怒、哀、乐
- C、科学研究证实,一个人更愿意和自己性格相似的人接近,一个人在选择交往对象时,颇为注意对方与自己是否相似
- D、突然降温,人们感觉外面很冷

45、非对称性相倚是指在人际沟通过程中,沟通的一方只按照自己预定计划进行沟通,而另一方则根据对方的行为反馈来调节自己的言行。

根据上述定义,下列各项中属于非对称性相倚的是:

- A、求职者在求职的过程中常常会遇到这样的情况,即用人单位只是按照事先准备好的问题发问,有些问题根本没有顾及到求职者的感觉,甚至有些问题涉及到了求职者的隐私,而求职者根本无法获得向用人单位发问或展示自己能力的空间
- B、小王准备到商场购买一台电视机,结果发现售货员态度冷漠而大发脾气,售货员则以更加强硬的态度对待小王,于是双方互不相让,甚至恶言相向,小王最终放弃了购买电视机的计划,售货员也因对顾客态度不好而受到了商场的纪律处分
- C、研究人员发现,学前儿童与异龄伙伴的社会交往中,年长儿童对于年幼儿童有更大的权利和更高的社会地位,年长儿童做出榜样、展现出更高的技能、教授新的游戏玩法、提供解决问题的线索或策略等;年幼儿童主要模仿年长儿童的行为,他们在模仿过程中挑战自己的动作和意志,同时锻炼了社会交往能力
- D、小刘因工作中出错而受到领导批评,同事小张见状准备劝慰小刘一番,结果他发现小姑的情绪并未因此而受到影响,于是放弃了劝慰小刘的打算

46、晕轮效应亦称光环效应,是指利用一种一致的突出的特殊特性作为评价一个人的其他方面特性根据的一种倾向。

根据上述定义,下列各项中属于晕轮效应的是:

- A、我们通常认为,世界上任何一位杰出的科学家之所以取得令人瞩目的成就,均来自其百分之一的灵感,及百分之九十九的努力
- B、老师在面对学生时,容易产生这样的心理,即学习成绩好的学生往往会被认为是智高、聪明、热情、有创造性的学生;成绩不好的学生或调皮捣蛋的学生往往就被认为是有什么事都做不到、一无是处的学生
- C、中国有一句老话,叫“情人眼里出西施”,意思是说如果男女双方产生了爱慕之情,即一方的容貌不是那么美丽漂亮,在另一方眼里也会被认为美丽得如同西施一般;或者尽管一方有诸多缺点,也会被另一方看做是无与伦比的优点
- D、王某因涉嫌盗窃机动车辆被公安机关逮捕,但王某的同村人都认为他平时很热心,独自出钱帮助村里修筑公路,并经常出钱帮助孤寡老人看病买药,是村里有名的“大善人”,因而不可能是盗窃机动车辆的盗贼

47、表现者——观察者效应是指人们倾向于把他人的行为解释为由他们自身原因所起,而自己的行为解释为由外部因素引起。

根据上述定义,下列各项中符合表现者——观察者效应的是:

- A、小王与小张出差时将公司的笔记本电脑丢失，小张认为这是由于他们两个人粗心所致
- B、小王与小张出差时将公司的笔记本电脑丢失，小王认为自己还要保管公司的其他重文件，无暇顾及该电脑，这是由于小张粗心大意所致
- C、小王与小张出差时将公司的笔记本电脑丢失，小王认为自己还要保管公司的其他重文件，无暇顾及该电脑，而小张认为这是由于消防的房间安全设施较差，以致被盗
- D、小正与小张出差时将公司的笔记本电脑丢失，小王认为自己还要保管公司的其他重文件，这是由于自己粗心大意所致

48、首因效应是指人们根据最初获得的信息所形成的印象不易改变，甚至会左右对后来得的新信息的解释。

根据上述定义，下列各项中属于首因效应的是：

- A、小王一直认为同事小张是一个冷漠、不喜欢帮助别人的人，直到最近小张在工作上结小王很大帮助，小王对小张的印象才有所改变
- B、新学期开始的时候，小李的勤奋、踏实给赵老师留下了深刻的印象，果然小李不负师的期望，在学习过程中，非常勤奋刻苦，期末的时候小李还因学习成绩突出获得了一等奖学金
- C、在某公司招聘员工的面试中，小黄因过于紧张在回答考官提出的前面几个问题时有口吃，尽管小黄及时调整了自己的状态，完整流利地回答了考官随后提出的几个问题，但给小黄的评价仍然是思维缺乏敏捷性、不善于表达自己
- D、科学家做过这样的测试，要求被测试者分别描述“热情”和“冷淡”的人的个性特征，90%以上的被测试者认为热情的人同时也是慷慨的、富有幽默感的、勤奋的和有礼貌的，而大多数被测试者认为冷淡的人是粗鲁的
- 49、马太效应是指任何个体、群体或地区，一旦在某一方面(如金钱、名誉、地位等)获得成功和进步，就会产生一种积累优势，就会有更多的机会取得更大的成功和进步。

下列各项中不属于马太效应的是：

- A、我国在“十一五”期间，要着力提高低收入者收入水平，逐步扩大中等收入者比重，调节过高收入，规范个人收入分配秩序，努力缓解地区之间和部分社会成员之间收入分配差距扩大的趋势
- B、美国科学史研究者罗伯特·莫顿说：“对已有相当声誉的科学家做出的科学贡献给予的荣誉越来越多，而对那些不出名的科学家则不承认他们的成绩。”
- C、同普通商品市场相反，股票市场的价格机制对需求和供给都具有一种正反馈性的激励功能。这种价格正反馈机制总是强化着供给与需求的逆向变动趋势，从而拉大或维持着供求不平衡关系。因此，在股票市场上，价格的上升会推动价格的上升；相反，价格的下跌则会导致价格的进一步下跌
- D、在有些行业中，人员的流动是单向的，只能升迁不能降格，一旦升迁后，即意味着可以扶摇直上，而不能升迁者只能在原地踏步

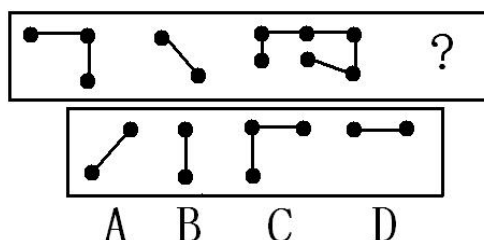
50、公共关系危机管理是指社会组织有组织、有计划和有措施地预防公共关系危机和在公共关系危机来临时有效化解危机的活动。公共关系危机管理有四个基本要素：预防第一、公众第一、公开第一、实践第一。

根据上述定义，下列各项中属于成功的公共关系危机管理的是：

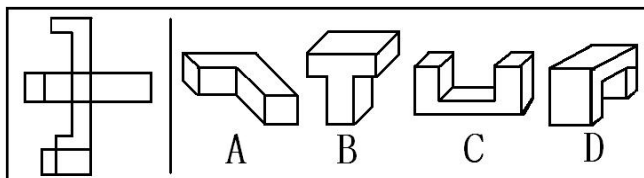
- A、11月下旬，某国外知名运动品牌的广告在全国各地电视台播出后，涉嫌侮辱中国人的形象，引起全国观众的强烈反对。11月30日，该公司发表声明，称该广告无意伤害中国消费者的感情。该广告被禁播后，该公司正式向中国观众道歉，但全球其他地方的播出计划照旧进行
- B、国庆节期间，某商场举行“满200，送300”促销活动，但当消费者以返券消费时发现，91个品牌商品专柜拒收返券，而可凭返券购买的商品中疑有大量库存商品，消费者不满致使事态扩大，引来众多媒体采访，该商场为保持企业形象，拒绝记者进入商场采访，尽量缩小该事件的曝光率
- C、6月，在一次会议上，一台笔记本电脑突然着火。后经调查发现，某公司生产的笔记本电脑电池是引起多宗火灾发生的原因。10月24日，该公司执行副总裁在新闻发布会上向消费者道歉，并开始召回所生产的电池，至10月止，该公司为大约1000万块笔记本电脑电池支付了4.11亿美元
- D、11月30日，某数码控股公司董事局主席及执行董事因涉嫌盗取公司4800万元资金而被起诉，该公司股票也被停牌。第二天，该公司董事局七名董事召开媒体见面会通报事件情况，声明公司运转正常；同日，四家家电连锁企业以及所有供应商及国内七家银行的分支机构发出声明表示支持该公司。不久之后，该公司在证券交易所获得发布公告的机会，这被业内人士看作是能够复牌的关键一步

二、图形推理：共10题。每道题包含问题图形和可供选择的四个图形。请选出最合适的一项。

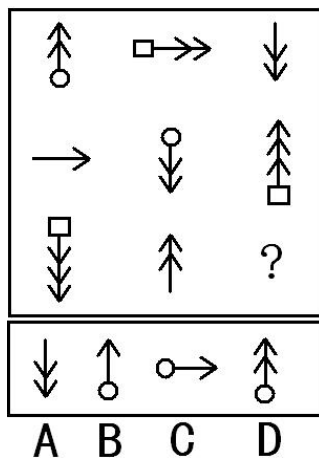
51、



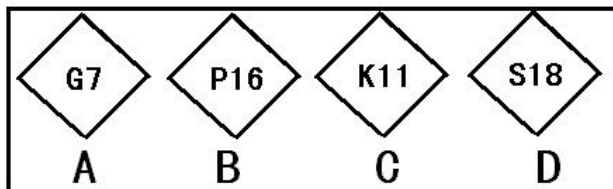
52、下面左部的图形折叠后将成为右部四个图形中的一个。请选出折叠后的正确图案。



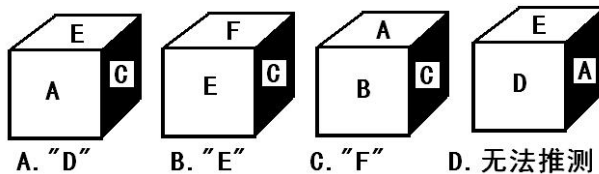
53、



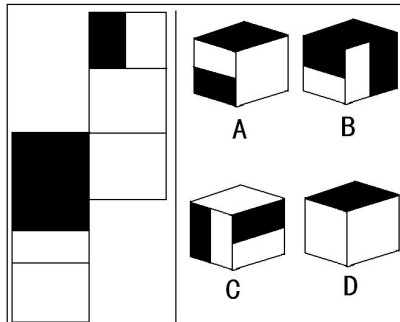
54、以下的四边形中，每个都包括一个大写字母和一个数字，请选出与其他三个差别最大的图形。



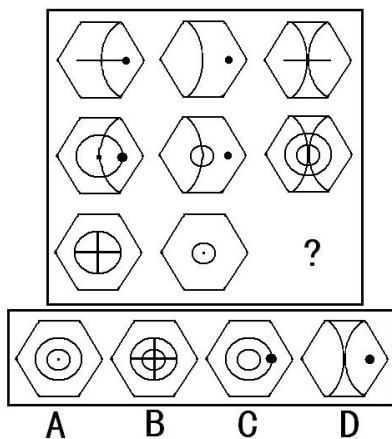
55、一个立方体的六个面分别写着 A、B、C、D、E、F，根据以下四张图推测 B 对面的字母。



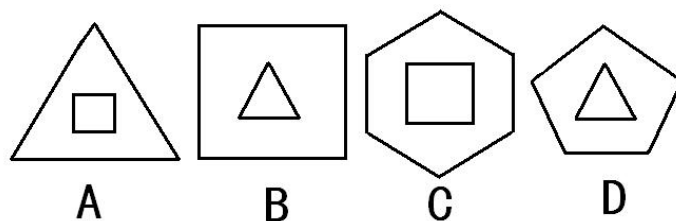
56、下图左部的图形折叠后将成为右部四个图形中的一个，请选出折叠后的正确图案。



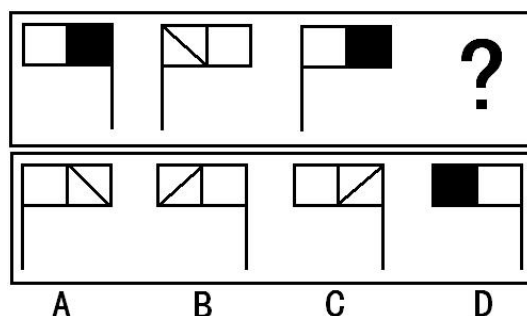
57、



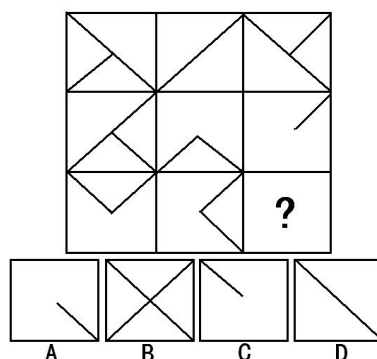
58、请从下面的四个图形中选出与其他三个不同的一个图形。



59、



60、



三、逻辑推理：共 20 题。这种题型考察学生基于文字的基本逻辑思维能力，这些基本逻辑思维能力包括演绎思维、归纳思维、类比思维等。

61、固若金汤：不堪一击

A、指鹿为马：实事求是 B、雪中送炭：锦上添花 C、安居乐业：丰衣足食 D、废寝忘食：发愤图强

62、清明节：扫墓

A、中秋节：月饼 B、庆祝胜利：开香槟

C、传达上级精神：下发文件 D、年终：财务结算

63、投资：股票

A、房地产：中介 B、银行：利润 C、上市公司：证券公司 D、资产：负债

64、汽车：倒车雷达：备用轮胎

A、显示器：打印机：复印机 B、手枪：消声器：枪套 C、手表：表盘：指针 D、手机：电池：耳机

65、东北虎：熊猫：哺乳动物

A、绘画：国画：才能 B、普高：音色：音乐

C、销售：销售人员：销售渠道 D、老挝语：阿尔及利亚语：语言

66、在一起食物中毒事件的调查过程中，医生经过询问发现，同一天就诊的中毒者吃的食物各有不同，但是所有人都吃了某农贸市场出售的一种蘑菇，据此断定，中毒可能是由这种蘑菇有毒引起的。

下列推论的方式与题干相似的是：

A、科学家经过研究发现，健康人的头发中钙的含量平均高于患有心肌梗塞的人的头发的钙的含量，因此，根据头发含钙量的变化，就能推断心肌梗塞的程度

B、人们发现，夏天过夜的食物如馒头、米饭、肉制品都会变质，他们的质地各不相同，但由于都是在高温季节，易于细菌繁殖，因此，高温条件是食物变质的原因

C、搓手可以发热，撞击石头可以发热，摩擦可以发热，这些都是摩擦，没有相反事例发所以，摩擦可以发热

D、人们通过观察企鹅滑雪姿势，设计了一种极地越野车，时速可达 50 公里，速度超过企鹅

67、韩国传统医学有“天人合一”的理论，也就是人体内的小环境要与自然界的大环境相协调，才能使人更顺应自然的变化，增加人体对外界不利影响的抵抗力。

根据这一理论，以炎炎夏日里，韩国人更倾向于食用：

A、冷的食物，以降低人体的温度，适应外界环境的需要

B、热的食物，以“热补”的方式补充人体因大量排汗而流失的热量和营养

C、冷、热食物的合理搭配，以保持人体温度和营养的均衡

D、不冷不热的食物，以避免因人体与外界环境温度相差过大和营养流失

68、日本北海道大学进化生物研究小组对三个分别由 30 只蚂蚁组成的蚂蚁群的活动进行了观察。结果发现：大部分蚂蚁都很勤快地寻找、搬运食物，少数蚂蚁却整日无所事事、东张西望。有趣的是，当生物学家在这些“懒蚂蚁”身上做上标记，并且断绝蚁群的食物来源时，那些早时工作很勤快的蚂蚁表现的一筹莫展，而“懒蚂蚁”们则“挺身而出”，带领众蚂蚁向他们早已侦察到的新的食物源转移。

如果我们把一个分工协调的组织视为一个“蚂蚁群”的话，那么，一个组织在面临生存和发展危机时，更需要的是：

- A、善于根据人才的类型和特点加以分工和配置的领导者
- B、无所事事、不求上进的懒惰者
- C、勤勤恳恳、脚踏实地的勤奋者
- D、怠于具体事务，专心于组织创新、发展大局方向的顾全大局者

69、美国管理学家提出了著名的“木桶原理”，这一原理告诉我们，由多块木板构成的木桶，其价值在于其盛水量的多少，但决定木桶盛水量多少的关键因素不是其最长的木板，而是其最短的板块。

如果我们把一个企业看作是一个木桶的话，那么决定企业整体能力的是：

- A、企业在产品质量、技术开发、品牌建设等方面的综合实力
- B、企业建设和发展中的薄弱环节
- C、企业在竞争中表现出的核心优势
- D、企业构成中各环节的协调与配合

70、某市瑞奇商场服装部在今年第三季度的销售中，大打“节日牌”，充分利用节日开展促销活动，使第三季度的营业额连续增长。据统计，7 月份的销售增长 8%，8 月份增长 10%，9 月份增长 13%，该商场的管理层希望在今年的第四季度向整个商场推广这种节日促销策略，力争全商场所有销售部门的营业额有跨越式的增长。

以下哪项如果为真，能够最有效地说明该商场管理层的这种希望可能会落空：

- A、节日期间逛街买衣服已经成为人们的一种消费习惯，但对于在节日期间购买其他商品，人们似乎并不热衷
- B、辛苦工作了一年，很多人在年底腰包鼓起来，希望为自己、亲人或朋友购买称心的商品，以表示对自己的犒劳，以及对亲人和朋友的慰问
- C、瑞奇商场服装部在第三季度打开发消费者在中国传统节日的消费潜力，并针对不同的节日将宣传对象的重点放在不同的消费者身上
- D、该市打“节日牌”的商场不止瑞奇商场一家，但这些商场多年来已经形成了各自比较固定的消费者群体

71、根据官方公布的数据显示，2008 年全国共有 64 万人参加国家公务员考试，考生人数较上一年增加 12%，今年公务员各职位平均竞争比例为 60：1，远远超出 2007 年的 42：1。竞争最激烈的中央党群机关参照公务员管理的事业单位，竞争比例平均高达 162：1。从某种角度来说，国家公务员考试已经成了当今中国竞争最激烈的考试之一。众多大学生对公务员职业的追捧，特别是对公务员职业的不正确认识，造成了“公务员报考热”的出现。

最能削弱上述论断的一项是：

- A、在巨大的就业压力下，众多高校毕业生将报考公务员作为重要的就业机会和出路
- B、公务员考试录用制度的公正性吸引大学生参与到这种公平竞争中来
- C、相对于其他职业，公务员不仅职业较为稳定，同时具有相对完备、良好的待遇和保障体系
- D、近年来，在职人员报考公务员的人数呈逐年上升趋势

72、根据对 2005 年全国出版社申报的引进国外图书的选题分析，总计引进选题 6737 种，其中自然科学类占 13.65%，经济类占 14.36%。从这段文字可以推出：

- A、那些虽有学术价值但会有市场风险的国外图书，往往受到国内出版者的冷遇
- B、对国外先进科技书引进的比例明显偏低，人文社会科学引进数量不仅偏大，而且偏重某一类
- C、外国文学古典名著，因为无需买版权，市场一直有稳定的读者群，因而被大量重复出版
- D、自然科学类图书的引进，翻译质量要求比较高、周期比较长，致使翻译出版的比例比较低

73、据世界卫生组织估计，目前全球患抑郁症的人多达 1.2 亿，几乎每 4 人中便有 1 人会。在一生中某个阶段出现精神或行为问题。到 2020 年，抑郁症将位居全球疾病排行榜第二位，仅次于心脏病。中国目前约有 2600 万人患有不同程度的抑郁症，不过，与抑郁症的高发病率形成鲜明对比的是，90% 的抑郁症患者因没有意识到自己可能患有抑郁症而未能及时就医。根据这段文字，可以知道：

- A、全球患抑郁症的人多达总人口的 1/4
- B、目前心脏病居全球疾病排行榜第一位
- C、不能及时就医是造成抑郁症发病率高的原因
- D、中国抑郁症患者中及时就医者不超过 300 万

74、要治服坏人，有时候要以坏治坏，以小坏对付大坏，以假坏对付真坏，坏人也会做好事，但好人只要做过坏事就变成了坏人，由此可以推出：

- A、好人不可能治服坏人
- B、世界上不可能有坏人
- C、做过好事的人未必是好人
- D、做过坏事的人未必是坏人

75、美国著名的经济学家阿瑟·奥肯发现了周期波动中经济增长率和失业率之间的经验关系，即当实际 GDP 增长相对于潜在 GDP 增长(美国一般将之定义为 3%)下降 2%时，失业率上升大约 1%；这条经验法则以其发现者为名，称为奥肯定律。潜在 GDP 这个概念是奥肯首先提出的，它是指在保持价格相对稳定情况下，一国经济所产生的最大产值。潜在 GDP 也称充分就业 GDP。下列和上述的分析方法相同的是：

- A、青蛙的双腿对水面的蹬力很大，水给青蛙的反作用力也很大，人们从中受到启示，模仿青蛙发明了蛙泳的游泳方式
- B、齿轮的转速和齿数成反比，即齿轮的齿数越多，齿轮转速越慢
- C、蝙蝠在夜间能够快速飞行，可以躲避障碍物，这是因为它的耳朵能听到超声波遇到障碍物时产生的回声。如果把蝙蝠的耳朵堵上，它就会撞到障碍物；如果把蝙蝠的眼睛蒙上，它却不会撞到障碍物

D、天上有了扫帚云，不出三天大雨淋

76、经过实验室实验和临床试用观察表明，现在有些常用的抗菌类药物，应该空腹服用。因为饭后服用，食物可能影响药物的吸收，或使药物利用率明显降低。下列最能支持上述论断的是：

- A、抗菌类药，对胃肠的刺激性不大，可以空腹服用
- B、空腹服用的抗菌类药物只是所有抗菌类药物中的一小部分
- C、人们服用药物时都想增加药物的疗效
- D、以往人们对抗菌类药物的使用存在明显不合理

77、近年来，立氏化妆品的销量有了明显的增长，同时，该品牌用于广告的费用也有同样明显的增长。业内人士认为，立氏化妆品销量的增长，得益于其广告的促销作用。以下哪项如果为真，最能削弱上述结论？

- A、立氏化妆品的广告费用，并不多于其他化妆品
- B、立氏化妆品的购买者中，很少有人注意到该品牌的广告
- C、注意到立氏化妆品广告的人中，很少有人购买该产品
- D、近年来，化妆品的销售总量有明显增长

78、根据美国人口普查报告，扣除通货膨胀因素后，1983 年中等家庭收入比 1982 年增加了 1.6%。通常情况下，随着家庭收入上升，贫困人数就会减少，然而 1983 年全国贫困率是 18 年来的最高水平。人口普查司提供了两种可能的原因：影响深、持续时间长的 1981-1982 年经济衰退的持续影响；由妇女赡养的家庭人口数量和不与亲戚同住的成年人数量的增多，这两种人都比整体人口更加贫困。这个报告能得出以下哪个结论？

- A、全国贫困率在 18 年里一直稳步增长
- B、如早期的经济衰退仍带来持续的影响，那么全国贫困率会升高
- C、即使人口中有些家庭收入下降或未增加，中等家庭收入依然可能增加
- D、中等家庭收入受家庭形式变化的影响比受国民经济扩张或衰退程度的影响更大

79、美国前总统林肯说过：“最高明的骗子，可能在某个时刻欺骗所有的人，也可能所有的时刻欺骗某些人，但不可能在所有的时刻欺骗所有的人。”如果上述断定是真的，那么下述哪项断定必定是假的？

- A、林肯可能在某个时刻受骗
- B、林肯可能在任何时候都不受骗
- C、不存在某一时刻有人可能不受骗
- D、不存在某一时刻所有的人都必然不受骗

80、如果丽丽参加同学聚会，那么小强、大壮和李铁也将一起参加同学聚会，如果上述断定是真的，则以下哪项也一定是真的？

- A、如果丽丽不参加同学聚会，那么小强也不参加
- B、如果小张、大壮和李铁在一起参加同学聚会，那么丽丽也参加
- C、如果丽丽和小强参加同学聚会，那么大壮和李铁不会参加
- D、如果李铁不参加同学聚会，那么丽丽也不参加

四、经验知识（共 10 题）

81、国家体育场“鸟巢”是 2008 年北京奥运会主体育场，将美轮美奂的“鸟巢”设计成东西两头高，南北两头低是因为：

- A、从运动赛场具有方向性的缘故
- B、体现太阳东升西落的理念
- C、受中国地理位置影响，为了减少东西风干扰
- D、取鸟向东方迎着太阳飞的意向

82、福娃设计组的韩美林说：“我要设计出一种形象，表现出源远流长的中国文化，表达出中国人民的热情，在这个千载难逢的机会里，我要让福娃的每一个细胞里都揉进‘中国’这两个字”。从哲学上看，设计师的灵感和创意：

- A、是不受客观存在的制约的，是可遇不可求的
- B、来源于善于思辨，富于创造的头脑
- C、是发挥能动性，对中国文化的能动反映
- D、说明设计师善于捕捉稍纵即逝的意识

83、在全国人民为即将举行的奥运会而欢欣时，藏独分子和 CNN 的不实报道在祖国人民的心口上撒上了一把盐。面对这些，下列做法最合适的是：

- A、小孙用不去“家乐福”等法国超市的实际行动来表示不满和抗议
- B、小李呼吁游行、示威来表示中国人民的不满
- C、小王认为我们应该集中精力做好本职工作
- D、小赵通过 QQ、因特网等现代信息渠道来表明不满和抗议

84、2008 年初，我国南方各省连续发生多次降雪，形成了新中国成立以来最严重的一场雪灾。面对灾情，政府制定了一系列措施。

下列依据哲学原理解释有误的一项是：

- A、雪灾造成道路、交通、通讯等设施严重受损，群众生活和工农业生产受到极大影响，这说明自然的规律不可战胜
- B、用抗洪的精神抗击雪灾，全力以赴开展抗灾工作，体现了人的主观能动性，是人类重视精神力量的体现
- C、紧紧依靠广大军民，把抗雪灾作为最紧迫的任务，体现了人民群众是实践的主体，是历史创造者的观点，是坚持群众路线的表现。
- D、针对低温冰冻雪灾的特点，千方百计保畅通、保供电、保民生、保稳定，体现了具体问题具体分析，集中主要力量抓主要矛盾的观点

- 85、2007 年老百姓衣、食、住、行、学的价格和费用有涨有落，牵动着民生优喜，针对物价上涨我国政府采取了多种措施，下列有利于抑制物价上涨的措施是：
- A、增加财政支出 B、扩大消费需求 C、提高工资水平 D、提高存贷款利率
- 86、在雪地说话声音不那么响的原因是：
- A、因为雪地疏松多孔，它们起到了消声的作用。 B、与说话人心理有关。
- C、因为雪地空旷、不扰音。 D、因为下雪后空气稀薄，声音传导受限制。
- 87、有关 6 岁儿童的行为描述不正确的一项：
- A、6 岁的儿童可以练长跑。
- B、6 岁的儿童用石头把人打伤，应该由父母承担责任。
- C、6 岁的儿童认知水平具有相对具体和刻板性特点。
- D、《关于开展全民义务植树运动的实施办法》中 11 岁以上的儿童在责任人协助下，每人每年植树造林 1-3 棵。
- 88、下列关于杨利伟的宇航服是白色的原因，正确的一项是：
- A、由宇航员的工作性质决定的，像医生一样，白色符合他的职业特点。
- B、什么颜色的衣服都可以，杨利伟喜欢白色衣服，因为白色圣洁。
- C、其他颜色的衣服会分散宇航员的注意力，影响飞行操作。
- D、白色宇航服反射光和热，可以阻隔太阳的热量，以保护宇航员身体。
- 89、“宁可终身不饮酒，不可三餐无饮茶”茶文化在中国源远流长，下面对茶的解释有误的一项是：
- A、绿茶利于清热利尿，因此凉性体质的人不宜多喝，红茶提神醒目，降血脂的功能转强。
- B、空腹饮浓茶或者素食充饥后饮浓茶，以及不常喝茶的人忽然喝了浓茶，都可能物极必反引起醉茶。
- C、喝茶也要挑时间，饭前、晚睡前饮茶有助于消化和睡眠，茶冲出来不应放置时间过长。
- D、花茶对理气解郁有帮助，适宜心情郁抑时饮用。乌龙茶能起消脂减肥的功效。
- 90、对盐的作用，下列解说不正确的是：
- A、盐是烹调时必不可少的调味料，它能去掉鱼的腥味
- B、盐有助于健康和美容，牙膏、洗面奶、浴液、按摩剂、枕头等都可以加入盐
- C、盐有抑制氧化酶的作用，可以使绿色的蔬菜耐煮，也可以防止削了皮的苹果变成棕色
- D、盐能促进蛋白质的分解，所以烤鱼和烤肉时用盐浸泡时间越长，肉质越鲜美多汁

第四部分 资料分析

(共 20 题，参考时限 20 分钟)

针对下列文字、表或图回答问题，共 20 题。你应根据资料提供的信息进行分析、比较、计算、处理。

请开始答题：

根据统计资料回答问题。

某县2005年三次产业统计表

	产业活动单位点数		从业人数		实收资本		增加值	
	绝对值	比重%	绝对值	比重%	绝对值	比重%	绝对值	比重%
总计	2949	100	70702	100	1297539	100	337043	100
第一产业	147	4.98	1236	1.75	1570	0.12	97788	29.01
第二产业	478	16.21	45199	63.93	983893	75.83	122397	36.32
工业	444	15.06	32172	45.50	731726	56.39	89970	26.70
建筑业	34	1.15	13027	18.43	252167	19.43	32427	9.62
第三产业	2324	78.81	24267	34.32	312076	24.05	116858	34.67
交通运输业	50	1.70	2729	3.86	89726	6.92	18788	5.57
批零餐饮业	232	7.87	2075	2.93	82543	6.36	38201	11.33
社会服务业	61	2.07	391	0.55	22096	1.70	11035	3.27

91、从从业人数上

看，工业企业在该县第二产业中的比重为()。

A、15.06% B、45.50% C、71.18% D、92.89%

92、2004 年，该县的第三产业的实收资本是()。

A、96049.6 万元 B、19521.8 万元 C、86149.6 万元 D、96.05 亿元

93、该县 2005 年第三产业实收资本增长率约为()。

A、21% B、37% C、46% D、60%

94、从实收资本的角度，下列选项中，表述正确的一项是()。

A、2005 年，交通运输业是该县第三产业中的优势产业

B、2005 年，交通运输业在该县第三产业中所占比例比 2004 年有所上升

C、2005 年，批零餐饮业在该县第三产业中所占比例比 2004 年有所上升

D、2005 年，社会服务业在该县第三产业中所占比例比 2004 年有所下降

95、下列选项中，表达错误的是()。

- A、2005 年，该县三次产业中人均实收资本最多的是第二产业
- B、与第三产业中的其他两个行业相比，交通运输业的人均实收资本最多
- C、交通运输业单位的平均规模大于社会服务业
- D、社会服务业人均资本增长额最大、

二、根据统计资料回答问题。

某市国外主要客源国游客人数统计表

客源国名称	2005年招待人次	所占国外总游客比例%	2004年招待人次	所占国外总游客比例%
日本	26159	31.78	20938	30
美国	9021	10.96	10650	15.26
新加坡	4247	5.16	2631	3.77
英国	3589	4.36	2150	3.08
马来西亚	3564	4.33	2031	2.91
加拿大	2774	3.37	1703	2.44
德国	2362	2.87	2010	2.88
俄罗斯	2041	2.48	1277	1.83
韩国	1729	2.1	1368	1.96
澳大利亚	1622	1.97	1298	1.86
法国	1523	1.85	1389	1.99
瑞士	1432	1.74	1577	2.26
合计	60063	72.97	49022	70.24

96、2005 年与 2004 年相比，该市主要客源国游客人数上升了()。

- A、2.73% B、18.4% C、22.5% D、81.6%

97、2005 年与 2004 年相比，该市的国外游客总人次比 2004 年增加了()。

- A、11041 B、12520 C、15703 D、18520

98、下列选项中说法正确的一项是()。

- A、2005 年与 2004 年相比，各国到该市旅游人数均有所上升
- B、2005 年与 2004 年相比，各国游客在国外总游客中所占比例均有所上升
- C、2005 年与 2004 年相比，该市主要客源国中亚洲的游客比例有所增加
- D、2005 年与 2004 年相比，该市国内游客所占比例有所增加

99、下列选项中，说法不正确的一项是()。

- A、亚洲国家游客是该市国外游客的主要来源
- B、主要客源国中，三个国家的游客人次增长幅度小于该市国外游客总人次的增长幅度
- C、在主要客源国中，除出现游客负增长的国家外，新加坡游客增长幅度最小
- D、若各国游客的增长幅度不变，则 2006 年德国游客人数将少于俄罗斯游客人数

100、到该市旅游的主要客源国中，2005 年游客人次增长幅度最大的是()。

- A、马来西亚 B、英国 C、俄罗斯 D、日本

三、根据下列文字材料回答问题。

2005 年在城镇投资中，国有及国有控股投资 40047 亿元，比上年增长 17.5%。第一产业投资 823 亿元，增长 27.5%；第二产业投资 31598 亿元，增长 38.4%。第三产业投资 42675 亿元，增长 20.0%。分行业看，煤炭开采及洗选业投资比上年增长 65.6%；电力、热力的生产与供应业投资增长 33.7%；石油和天然气开采业投资增长 29.7%；铁路运输业投资增长 45.7%；交通运输设备制造业投资增长 51.1%；纺织业投资增长 38.0%。教育投资增长 8.4%；卫生投资增长 28.9%。

2005 年全年研究与开发经费支出 2367 亿元，比上年增长 20.4%，占国内生产总值的 1.30%，其中基础研究经费 135 亿。2005 年末国有企事业单位共有各类专业技术人员 2720 万人，全年国家安排了 288 项科技攻关计划课题和 911 项“863”计划课题，新建国家工程研究中心 19 个。新安排国家重点实验室改造项目 16 项，累计达到 143 项，国家认定企业技术中心达到 361 家。全年共取得省部级以上科技成果 3.6 万项。全年受理国内外专利申请 47.6 万件，其中国内申请 383 万件，占 80.5%；受理国内外发明专利申请 17.3 万件，其中国内申请 9.3 万件，占 53.8%。全年共签订技术合同 26.5 万项，技术合同成交金额 1510 亿元，比上年增长 13.2%。

101、下列各行业，2005 年投资增长最大的是：

- A、纺织业 B、铁路运输业 C、电力、热力的生产与供应业 D、交通运输设备制造业

102、根据材料中的数据，2005 年第三产业投资占三大产业投资总额比重约为：

- A、40% B、50% C、60% D、70%

103、2005 年基础研究经费占全年研究与开发经费总额的：

- A、5.7% B、6.8% C、7.3% D、9.9%

104、2005 年受理国外发明专利申请:

A、8 万件 B、9.3 万件 C、23.4 万件 D、38.3 万件

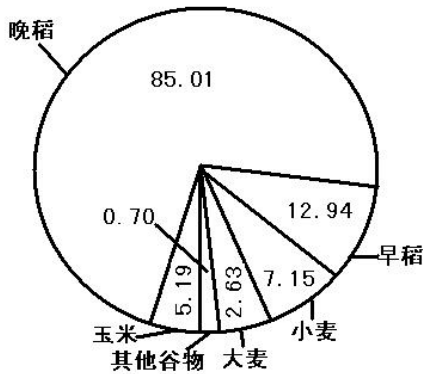
105、根据上述资料,以下说法正确的是:

- A、2005 年所签订的技术合同每项平均成交额约为 57 万
 B、2005 年,城镇投资增加的总额中大部分来自国有及国有控股投资
 C、与上年相比,2005 年第二产业投资增加的总、额低于第三产业
 D、2005 年全年受理的国内专利申请中,绝大部分为发明专利申请

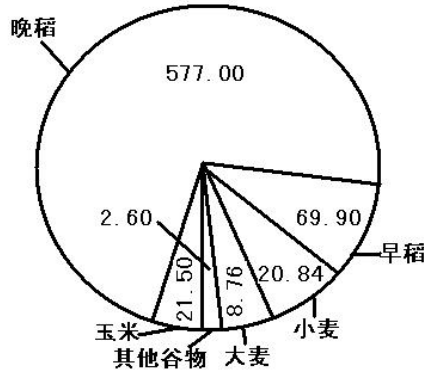
四、根据下列资料回答问题。

2003 年,浙江省谷物类粮食种植面积为 113.62 万公顷(注:1 公顷=15 亩),比上年减少 22.79 万公顷;谷物类粮食的总产量达 700.60 万吨。比上年减少 141.68 万吨。

2003 年谷物类粮食种植面积结构图
单位:万公顷



2003 年谷物类粮食总产量结构图
单位:万吨



106、2003 年浙江省谷物类粮食的总产量约比上年减少

A、16.82% B、20.22% C、23.27% D、25.35%

107、2003 年浙江省谷物类粮食的平均亩产量约是多少

A、411 公斤 B、424 公斤 C、432 公斤 D、446 公斤

108、以下粮食作物中,2 叨 3 年的亩产量最高的是:

A、早稻 B、晚稻 C、小麦 D、玉米

109、2003 年亩产量最低的谷物类粮食的种植面积是:

A、2.31%- B、4.57% C、6.29% D、74.82%

110、以下关于 2 叨 3 年谷物类粮食的生产情况的说法

- A、晚稻的产量大于谷物类粮食总产量的 4 巧
 B、产量最接近的两种粮食作物的种植总面积约为 185
 C、“其他谷物”的种植面积和产量都是最小的
 D、大麦的亩产量不足 210 公斤