

2010年吉林省公务员考试《行测》乙级试卷

第一部分 数量关系

(共10题,参考时限10分钟)

本部分包括两种类型的题目:

一、数字推理:共5题。给你一组数字,但其中缺少一项或两项,要求你仔细观察这组数字的排列规律,然后从四个供选择的选项中选出你认为最合理的一项,来填补空缺项。

请开始答题:

1. 0, 1, 1, 2, 4, 7, 13, ()。
 - A. 22
 - B. 23
 - C. 25
 - D. 24
2. -2, -3, -6, -15, ()。
 - A. -42
 - B. -18
 - C. -24
 - D. -36
3. 5, 4, 10, 8, 15, 16, (), ()。
 - A. 2018
 - B. 1832
 - C. 2032
 - D. 1832
4. 3, 3, 6, 18, 72, ()。
 - A. 90
 - B. 360
 - C. 180
 - D. 630
5. 3, 4, 6, 12, 36, ()。
 - A. 72
 - B. 108
 - C. 216
 - D. 180

二、数学运算:共5题。请你充分利用所给条件,寻找解决问题的捷径。

请开始答题:

6. 毛毛骑在牛背上过河,他共有甲、乙、丙、丁4头牛,甲过河要20分钟,乙过河要30分钟,丙过河要40分钟,丁过河要50分钟。毛毛每次只能赶2头牛过河,要把4头牛都赶到对岸去,最少要多少分钟?()
 - A. 190
 - B. 170
 - C. 180
 - D. 160
7. 一个旅游团租车出游,平均每人应付车费40元。后来又增加了7人,这样每人应付的车费是35元,租车费是()。
 - A. 2000元
 - B. 1960元
 - C. 1900元
 - D. 1850元
8. 甲、乙两人的年龄和正好是80岁,甲对乙说:“我像你这么大时,你的年龄正好是我年龄的一半。”甲今年()。
 - A. 32岁
 - B. 40岁
 - C. 48岁
 - D. 45岁
9. 某班一次期末数学考试成绩,平均分为95.5分,后来发现小林的成绩是97分,被误写成79分。再次计算后,该班平均成绩是95.95分。则该班人数是()。
 - A. 30人
 - B. 40人
 - C. 50人
 - D. 60人
10. 一个书架共有图书245本,分别存放在4层。第一层本数的2倍是第二层本数的一半,第一层比第三层少2本,比第四层多2本,书架的第二层存入图书的数量为()。
 - A. 140本
 - B. 130本
 - C. 120本
 - D. 110本

第二部分 言语理解与表达

(共25题,参考时限25分钟)

本部分包括两种类型的题目:

一、选词填空:共5题。根据题意,从所给的词语中选出最恰当的词语填入空格内,从而使句子的意思表达得最准确。

请开始答题:

11. 不同历史发展阶段,不同地域的人们,由于生活经验的范围和性质不同,所_____而形成的思维框架、思维模式也就不同。
 - A. 沉淀
 - B. 积淀
 - C. 积累
 - D. 发展
12. 专家们认为,传统的教学方式必须_____,才能适应当前形势发展的需要。
 - A. 变革
 - B. 改变
 - C. 改革
 - D. 变动
13. 现代逻辑是以19世纪中期出现的数理逻辑为起点的,它使用特别符号和形式系统的方法来研究演绎推理及逻辑规律,是传统形式逻辑的直接延续和_____。
 - A. 延伸
 - B. 发展
 - C. 变革
 - D. 变化
14. 我国古塔的建造,其规模之大,分布之广,数量之多,在古代建筑中是_____的。
 - A. 首屈一指
 - B. 屈指可数
 - C. 空前绝后
 - D. 沧海一粟
15. 在通往目标的历程中遭遇挫折并不可怕,可怕的是因挫折而产生的对自己能力的_____。
 - A. 质疑
 - B. 狐疑
 - C. 疑心
 - D. 怀疑

二、阅读理解:共20题。每道题包含一段短文,短文后面是一个不完整的陈述,要求你从四个选项中选出一项来完成这一陈述。注意:供选择的答案有时可能是对短文内容的一个复述,有时则满足了陈述中其他方面的要求,你的选择应与所提要求最相符合。

请开始答题:

16. 借助现代化科学手段,信息1秒钟可以到达月球,可以绕地球七圈半,等发现了错误再纠正,收到信息者可能已经关闭了收音机。

作者强调的意思是()。

- A. 高速多向的信息传播将会造成信息的创造和质量的不平等
- B. 在高速多向的信息时代,信息及时准确地判断和传播十分重要
- C. 充分肯定了“信息高速公路”给人类带来的好处,但要注意纠错
- D. 信息的快速传播将给人类带来许多无法及时纠正的错误信息

17. 咖啡馆真是一个惹人喜爱的地方,让你的心沉静又沉静,没有多余的声音也没有多余的事情,咖啡宽解了一切,把你保护在它的领地。

对上文理解较适当的一项是()。

- A. 咖啡馆让你的心沉静下来,似乎没有任何的杂音杂事
- B. 咖啡馆不宜多去
- C. 咖啡解愁,多喝有益健康
- D. 咖啡可以保护你

18. 所谓“供养”,通常是指亲属之间有经济能力、生活能够自立的人,对那些无经济能力、生活不能自立的人,予以经济上的供给和生活上的照料。供养关系把那些由婚姻纽带联系起来的人,又用经济纽带联结在一起,使家庭成为一个社会实体。

这段话支持了这样一种观点()。

- A. “供养”是指对丧失经济能力、生活自立能力的亲属给予经济上的供给和生活上的照料
- B. “供养”就是指家庭中幼辈对长辈的赡养
- C. 是供养关系把亲属用经济纽带联系起来
- D. “供养”就是指家庭中年轻者为年老者提供经济供给和生活照料的义务

19. 文学最基本的特征是对自由心灵的表达,是伟大思想与丰富想象力的结合。而“网络文学”的特质正是“表达的高度自由”、强烈的“个性化”和非功利性。网络作家在现实生活中有着各种各样的身份与职业,而且绝大多数与文学无关,他们的知识结构与身份背景千差万别,他们的创作也因此有着别样的风情与广阔的视野。网络文学往往以颠覆经典文本的面貌出现,在写作中以轻松、嘲讽的气氛取胜,与传统文学正儿八经的叙事、抒情相比,神与貌皆相去甚远。这就要求我们以全新认知面对这一文学形态。有学者提出,网络文学最鲜明的特征是“写作”与“生存”的共生状态,这与目前主流文坛的写作方式有很大不同,他们是“在生存中写作”,而职业性作家文学则在很大的意义上是“在写作中生存”。

下面叙述中,不属于网络文学特征的是()。

- A. 具有“表达的高度自由”、强烈的“个性化”和非功利性
- B. 网络作家有着与文学无关的身份与职业,因而创作有着别样的风情与广阔的视野
- C. 以颠覆经典文本的面貌出现,在写作中以轻松、嘲讽的气氛取胜
- D. “写作”与“生存”的共生状态,作家是“在生存中写作”

20. 对于环境与建筑的保护,我们一直局限在那些大家都认为有高度历史或文化价值的部分,而对于那些历史不算久远,或者根本就不被认为有特殊意义的环境与建筑,对于那些相对只是绿叶角色的城市建筑环境都非常漠视。我们虽然可以拆掉这些旧工业文明的老建筑,建造一大批摩天大楼,但是十年,二十年之后,下一代就要开始批评我们曾经的鲁莽了,我们要世代居住的这座城市已经失去了一段记忆,而那是上世纪中国城市最骄傲的工业文明具象的记忆。所以我认为应该保护她,尽可能留下她美丽或者被人认为不很美丽的有形的载体。文中“有形的载体”指的是()。

- A. 有特殊意义的环境与建筑
- B. 最骄傲的工业文明
- C. 世代居住的这座城市
- D. 旧工业文明的老建筑

21. 偶尔想起曾经听人说过,在中国,人人具有三种博士资格:拿筷子博士、吹煤头博士、嗑瓜子博士。至于吹煤头纸,现在早已销声匿迹了。半个多世纪前,丰子恺先生曾犀利地调侃国人嗑瓜子之劣迹,说把光阴耗费在“咯嘞”声中,这不是民族性的衰退吗?难怪老先生要痛心疾首地感慨自己一见瓜子就害怕,历史写到今天,这种悠闲的生活态度已被埋没在高效率快节奏的时代旋律里。唯有筷子,风风雨雨了两千多年,还是经久不衰,“民以食为天”,对于国人,筷子是进食的工具,少不得。对本段文字的概括,准确的一项是()。

- A. 时代的发展进行,“吹煤头”已不复存在
- B. 丰子恺先生痛恨“嗑瓜子”,因为他认为这是民族性的衰退
- C. 用“吹煤头、嗑瓜子”的消失,衬托筷子在生活中经久不衰,不可或缺
- D. 悠闲的生活态度被高效率快节奏的时代旋律取代是历史必然

22. 在树叶茂密的布鲁克林学院的校园里,一栋墙面爬满常春藤的大楼的地下室里有着更令人吃惊的东西:在300加仑的玻璃缸制作的鱼缸里,塞满了罗非鱼。看上去比地铁车厢还要拥挤。管理这个潮湿区域的是这个学院水产研究和环境评估中心主任、退休教授马丁·施赖布曼。几年前,罗非鱼在这里还很少见,但是现在它在 美国越来越常见,几乎所有的罗非鱼都是在中国、中美洲和南美洲养殖并从这些地方进口的。施赖布曼希望改变这种状况。他认为城市水产养殖——在像纽约这样的城市用大鱼缸养鱼——可以解决对野生鱼的过度捕捞问题,并为美国人提供就业机会和健康的食品。划线句中“这种状况”指的是()。

- A. 现在罗非鱼在美国越来越常见
- B. 美国几乎所有的罗非鱼都是进口的
- C. 发展城市水产养殖业
- D. 应该在城市养鱼方面创造就业机会

23. 教育部日前就《通用规范汉字表(征求意见稿)》公示征求意见,拟对“琴”、“亲”、“魅”等44个汉字的字形进行调整,公示在社会各界引起强烈反响。《通用规范汉字表》专家委员会副主任委员王宁教授在新华网与网民在线交流。他们认为,调整这44个字的字形只是调整印刷宋体字,不是另搞一套,根据调查数据显示,67%的公众表示赞成,约6%的公众表示反对。可新浪网的网上调查得到的结果却完全相反,九成以上的网友持反对意见,认为是“穷折腾”。王宁教授强调,一个字改还是不改并不是以多数投票为主,而要看它合理不合理,要看它有没有道理。既然“一个字改还是不改并不是以多数投票为主”,那么,为何专家们还主动提供调查数据,以示多数公众支持呢?对文段的理解分析,正确的一项是()。

- A. “琴”、“亲”、“魅”等44个汉字的字形调整,引起了社会各界的强烈反响
- B. 规范汉字不能是少数几个专家说了算,而要看它合理不合理
- C. 新浪网的网上调查结果不能作为专家决策的依据
- D. 官方和民间完全相左的“民调”,使得专家难以自圆其说

24. 历史走向大众,国学受到热捧,是我们继承优良传统的良好契机。但那些靠耸人听闻来扬名、谋私的手段,那些将严肃历史肆意娱乐化解读的做法,其结果只能败坏学风,误导受众,把方兴未艾的传统文化热引向歧路。历史和典籍当然要走向大众,但人文精神和道德底线必须坚守。任何媚俗化、低俗化、恶俗化地娱乐历史的行 为都是要不得的,以钓名谋利为宗旨的商业炒作更应刹车。面对商品时代复杂多变的大众文化消费,真正有使命感的文化,理应义不容辞地担当起历史的职责。对“历史娱乐化”的解说不恰当的一项是()。

- A. “娱乐化”是指那些靠耸人听闻来扬名、谋私,将严肃历史肆意娱乐化解读的做法
- B. “历史娱乐化”只能败坏学风,误导受众,把方兴未艾的传统文化热引向歧路
- C. 历史走向大众,国学受到热捧是我们继承优良传统的良好契机,任何娱乐历史的做法和大众文化消费,都是要不得的
- D. 真正有使命感的文化人,要坚守人文精神和道德底线,杜绝将历史肆意娱乐化,义不容辞地担当起历史的职责

25. 网络驱使我们进入了一个进行生死之争的世界,我们中的许多人发现这一世界是毁灭的,网络强加的文化和经济张力令我们感到无力抗拒。作为网络赖以生存的机器和方案的创造者,我们有能力理解网络,也有能力影响它们的功能。我们有责任让网络服务于社会公正和人类自由的利益。以下对文段的解释不恰当的一项是()。

- A. 网络驱使我们进入生死之争的世界,对此,我们感到无力抗拒
- B. 网络带来的文化和经济张力给人类带来巨大的冲击和威胁
- C. 人类有能力让网络与人类以一种创造性共生的状态一起进化
- D. 人类有责任让网络服务于社会公正和人类自由的利益

26. 《阿凡达》是卡梅隆花了12年才完成的一部片子,这12年里,他除了拍过几部跟海洋有关的纪录片之外,几乎都在为《阿凡达》折腾,同时消失于媒体和公众视线之外。结果影片上映才两周,全球票房就直奔10亿美元,离他那部创下14亿美元票房纪录的《泰坦尼克号》,距离也并不遥远。而中国导演呢,谁会花12年的时间,去做一部完全不知道前景的影片?中国电影另外一个很堕落的地方是,贴片广告已经多到令人发指的地步,铜臭气十足。冯小刚在《非诚勿扰》受到批评后还说,这是国际通行做法。对,《变形金刚》里的确有雪佛兰,但是好莱坞是每部影片都会尽可能地往里拉赞助塞商标么?我真的不是苛刻,但事实就是这样,很多中国导演不是为观众在拍电影,甚至也不是为自己拍电影,他们只是在为钱拍电影。相比之下,《阿凡达》是多么的纯洁,可为什么这份纯洁,反而是远比我们商业的美国人实现的呢?对划横线的语句理解不恰当的一项是()。

- A. 卡梅隆用了12年精心制作,其间,他几乎消失于媒体和公众视线之外
- B. 卡梅隆用12年的时间,去做了一部完全不知道前景的影片
- C. 《阿凡达》是导演卡梅隆为观众为自己而创作的一部电影
- D. 《阿凡达》是一部没有商业广告的纯洁电影

27. 中华民族很早发现了宇宙旋律及生命节奏的秘密,因而以平和的音乐的心境爱护现实,美化现实,但是却轻视了科学工艺征服自然的权力,这使我们无法摆脱贫弱的处境。在生存竞争剧烈的时代,我们受人侵略,受人欺侮,文化的美丽精神也不能长保了,灵魂里粗野了,卑鄙了,怯懦了,我们也现实得不近情理了。我们丧失了生活里旋律的美(盲目而无秩序)、音乐的境界(人与人之间充满了猜忌、斗争)。一个最尊重乐教、最了解音乐价值的民族没有了音乐。这就是说没有了国魂,没有了构成生命意义、文化意义的高等价值。中国精神应该往哪里去?对“宇宙旋律及生命节奏的秘密”分析不恰当的一项是()。

- A. 这一秘密,创造了中华民族平和的心境,我们用它来爱护现实、美化现实
- B. 这一秘密的发现,并不能使我们摆脱贫弱的处境
- C. 这一秘密的发现并不能使我们保护住“文化的美丽精神”
- D. 这一秘密,构成了我们的国魂、生命意义和文化意义的高等价值

28. “粉丝”来自英文的fan,源出fanatic,乃其缩写,但经瘦身之后,脱胎换骨,变得轻灵多了。更可爱的是,当初把它译成“粉丝”的人,福至心灵,神来之笔竟把复数一并带了过来,好用多了。单用“粉”字,不但突兀,而且表现不出那种从者如云纷至沓来的声势。“粉丝”当然是多数,只有三五人甚至三五十人,怎能叫做fans?对偶像当然是说,“我是你的粉丝”,怎么能说,“我是你的粉”呢?粉,极言其细而轻,积少成多,飘忽无定。丝,极言其虽细却长,纠缠而善攀附,所以欲理还乱。作者对“粉丝”一词的翻译极为赞赏,不属于其中理由的一项是()。

- A. 音译瘦身之后,脱胎换骨,变得轻灵多了 B. 把复数一并带了过来,好用多了
C. 能表现出从者如云纷至沓来的声势 D. 能表现出积少成多欲理还乱的情味
29. “和合”思想对中国历代对外交往方式都产生了重要影响。中华文化对其他文化并没有去排斥,而是一直保持一种开放和包容的心态。中国绝大多数王朝在建立之后,都注意止戈息武,强调“协和万邦”,实现“万国咸宁”、“天下太平”。特别是鼎盛时期的唐代“贞观之治”、清代“康乾盛世”,中央政府也多实行睦邻友好的政策,而不是向外侵略扩张,谋求霸权。中华文化的发展是不断吸收外来文化以丰富自己的过程,并最终实现与众多外来文化和睦共处、和谐发展。以下不属于“和合”思想在中国历代对外交往上的表现的一项是()。
- A. 中华文化对其他文化一直保持一种开放和包容的心态
B. 历代王朝在建立之后,都注意止戈息武,强调“协和万邦”
C. 鼎盛时期的中央政府也多实行睦邻友好的政策
D. 中华文化的发展是不断吸收外来文化以丰富自己的过程
30. 发挥创造性,离不开求异思维。所谓求异思维,就是指注重已知与未知之间的矛盾,提示现象与本质间的差别。它要求对公认完美无缺的定论持怀疑和批评态度,富于挑战性地对待传统和习惯的思维模式。正如李四光所说:“不怀疑不能见真理。”
- 这段话主要支持了这样一个论点,即求异思维()。
- A. 是富有怀疑和批评态度的思维模式 B. 是对已知的矛盾进行提示
C. 是李四光所用过的思维方式 D. 是一种传统习惯思维方式
31. 鉴赏评价性的题目不太好出,对一篇文章思想内容的高低、表达技巧的优劣往往见仁见智,难以统一。但考试题目却不能公说公有理,婆说婆有理,它必须有符合科学道理的唯一答案。上文不可以理解为()。
- A. 鉴赏评价性的题目用于标准化考试不太好统一答案
B. 一篇文章内容的高低、表达技巧的优劣往往出现在考试题目中
C. 考试答案是科学合理的,所以可以见仁见智
D. 评价鉴赏性的题目不鼓励学生发挥创见

阅读下列短文,回答 32—35 题:

30 年来,青年的奋斗实践始终与改革开放紧密相连。在波澜壮阔的改革开放进程中,一代又一代青年积极响应党的号召,满怀豪情地投身建设祖国的火热实践,为推进中国特色社会主义事业作出了重要贡献。改革开放的征程,留下了青年一代奋斗的足迹。所有亲身经历了这 30 年伟大变革并贡献了自己力量的中国青年,都有理由为我国改革开放的历史性伟大成就感到欢欣鼓舞。

胡锦涛总书记在讲话中指出,我们的事业是面向未来的事业,实现全面建设小康社会的目标还需要继续奋斗十几年,基本实现现代化还需要继续奋斗几十年,巩固和发展社会主义制度则需要几代人、十几代人甚至几十代人坚持不懈地努力奋斗。夺取全面建设小康社会新胜利、实现中华民族伟大复兴的光荣使命历史性地落到了当代青年的身上。当代青年要肩负起历史的责任,自觉地把个人成长与党和人民的事业紧密地结合起来,在全面建设小康社会的伟大实践中建功立业。

广大青年投身全面建设小康社会的伟大实践,就要充分发挥创新热情和创造活力,努力走在解放思想、锐意改革的前列,在各行各业中勇开风气之先;就要积极推动科学发展、促进社会和谐,广泛参与社会主义经济建设、政治建设、文化建设、社会建设和生态文明建设,立足本职,争创一流业绩,在推动经济社会又好又快发展中充分发挥生力军作用;就要进一步增强大局意识,倍加珍惜、努力维护我国长期发展所需要的安定团结的良好局面;就要勤奋学习,努力提高自身素质和能力,练就适应时代发展要求的过硬本领,为服务祖国和人民打下坚实的基础。当前,我们要在党和政府的领导下,努力克服国际金融危机对我国经济带来的不利影响,在保持我国经济平稳较快发展的过程中,认清形势,坚定信心,克服困难,多作贡献。

在改革开放新的征程中,共青团、青联、学联和少先队组织要按照党的要求,不断提高()青年、()青年、()青年和()青少年合法权益的能力和水平,不断加强自身建设,特别是要加强与普通青年的联系,心里装着普通青年,充分发挥好联系青少年的桥梁纽带作用,更好地完成党交给我们的光荣任务,不辜负广大青年的期待。

同志们,回首过去,改革开放的辉煌成就令我们备受鼓舞;展望未来,光荣的使命和责任激励着我们奋勇前行。让我们紧密团结在以胡锦涛同志为总书记的党中央周围,全面贯彻党的十七大精神,高举中国特色社会主义伟大旗帜,坚持以邓小平理论和“三个代表”重要思想为指导,深入贯彻落实科学发展观,团结带领广大青年为夺取全面建设小康社会新胜利、实现中华民族伟大复兴而共同奋斗!

32. 根据文意,下面表述有误的一项是()。
- A. 广大青年要紧密团结在以胡锦涛同志为总书记的党中央周围,为实现中华民族伟大复兴而共同奋斗
B. 当代青年要自觉地把个人成长与党和人民的事业紧密地结合起来,在全面建设小康社会的伟大实践中建功立业
C. 各级青年组织要充分发挥好桥梁纽带作用,更好地完成党交给我们的光荣任务,不辜负广大青年的期待
D. 我国改革开放的历史性伟大成就令所有亲身经历了这一变革的中国青年欢欣鼓舞
33. 文中说“当代青年要肩负起历史的责任”,其中“历史的责任”是指()。
- A. 实现全面建设小康社会的目标 B. 基本实现现代化
C. 巩固和发展社会主义制度 D. 夺取全面建设小康社会新胜利、实现中华民族伟大复兴

34. 文中对广大青年投身全面建设小康社会的伟大实践提出了几点要求,以下不恰当的一项是()。

- A. 要充分发挥创新热情和创造活力,解放思想、锐意改革,勇开风气之先
- B. 要立足本职,争创一流,充分发挥生力军作用
- C. 要增强大局意识,珍惜和维护当今难得的安定团结的良好局面
- D. 要勤奋学习,提高素质,练就本领,为服务祖国和人民打下坚实的基础

35. 依次填入括号处的词语,恰当的一项是()。

- A. 宣传、组织、引领、保护
- B. 组织、引导、服务、维护
- C. 服务、组织、引领、维护
- D. 动员、组织、服务、保护

第三部分 判断推理

(共 50 题,参考时限 40 分钟)

本部分包括五种类型的题目:

一、定义判断:共 10 题。每道题先给出一个概念的定义,然后分别列出四种情况,要求你严格依据定义,从中选出一个最符合或最不符合该定义的答案。注意:假设这个定义是正确的,不容置疑的。

请开始答题:

36. 命令链是指一种不间断的权力路线,从组织最高层扩展到最基层,澄清“谁向谁报告工作”。它能够回答员工提出的这种问题:“我有问题时,去找谁?”“我对谁负责?”

以下组织设计不属于命令链的是()。

- A. 在某商场购买的物品若有质量问题,商场一律准予退货,再由商场向商品生产厂家索赔
- B. 某公司每个职员的工作内容和职务权限都非常明确,因此该公司员工很少出现角色模糊的现象,工作效率也较同行企业高出许多
- C. 住院病人如果夜间有什么不舒服要先告知护士,护士问明情况之后若不知如何处理要请示一线值班大夫,一线大夫若处理不了需要交二线值班大夫处理
- D. 某饮料厂,在其生产线上设立层层关口,每一关口都派负责任的员工严把质量关,保证每瓶饮料的质量安全可靠

37. T 型管理是指在一个组织内部自由地分享知识(T 的水平部分),同时注重单个业务单元业绩(T 的垂直部分)的提升。T 型管理通过跨业务单元学习,共享资源,沟通思想,来创造横向价值(T 的水平部分),同时通过各业务单元的密切合作,使单个业务单元的业绩(T 的垂直部分)得到良好发展。

根据上述定义,下列各项中没有运用 T 型管理方法或运用错误的是()。

- A. 某电视机生产企业经常将企业管理者派出学习先进的管理经验,管理者的管理水平得到很大提高,直接促进了企业经济效益的提高
- B. 张某是某大型连锁超市的分店经理,他虚心向其他分店学习进货和存货布置等方面的经验,使得他所管理的分店存货减少 20%,销量增加了 10%
- C. 王某新任某粮食生产企业部门主管时,由于他对粮食保管方面的业务所知甚少,所以他特意从其他部门借调来几名同事帮助他制定出完善的粮食保管方面的规章制度
- D. 某企业经常召集销售人员开经验交流会,在交流会上,大家纷纷介绍自己成功的销售经验和方法。每次交流会后,所有人的销售业绩都会得到提升

38. 激励约束,即组织根据期望目标、人的行为规律,通过各种方式,去激发人的动力,使人有一股内在的动力和要求,迸发出积极性、主动性和创造性,同时规范人的行为,朝着组织所期望的目标前进的过程。

根据上述定义,下列各项中属于激励约束的是()。

- A. 小王上班经常迟到,最近公司作出新规定,迟到者将被扣发整月奖金,小王不得不每天早起半个小时,果然一个月内再没有迟到过
- B. 某学校组织青年教师讲课比赛,获胜者将被授予青年讲课标兵称号,尽管学校规定自愿报名,但青年教师仍然纷纷报名参加
- C. 某公司鼓励员工自我增值,并向员工提供外出培训的机会,员工们响应的热情竟使得一时间公司人手有些紧张
- D. 某公司新上任的李经理业务能力强,而且待人亲和有礼,很快获得了员工们的一致认可和好评

39. 同心多角化经营战略是指企业以一种主要产品为圆心,充分利用该产品在技术、市场上的优势和特长,不断向外扩散,生产多种产品,充实产品系列结构的战略,它是企业利用原有的生产技术条件,制造与原产品用途不同的新产品。根据上述定义,下列企业使用了同心多角化经营战略的是()。

- A. 某汽车生产企业通过兼并和控股等方式开拓和扩大市场,斥巨资收购了国外知名汽车生产企业,并把自己原来的高端产品并归于该知名品牌下
- B. 某石油勘探开发公司对自己开采的石油进行炼化,生产各种石化产品,并自行组织这些产品的销售
- C. 某服装生产企业以其独特新颖的设计驰名全国,获得成功后,又投资建筑、商品零售等多个行业,发展成为综合性的集团公司
- D. 某企业所生产的电冰箱制冷效果好,销量在国内同类产品中居于领先地位,后来该企业又生产空调,产品

也深受消费者喜爱

40. 谎言是指一句或者一些话,说话人将其认为真实的事件(他可能自己都不清楚事情的真实性)说成不真实的给听者,使听者相信“不存在”的事物“存在”;或者将真实存在的事物说成“不存在”。以下属于谎言的是()。

A. 小张被确诊得了癌症,他没有告诉家人。在积极自我调整作息和生活后,身体恢复,病灶消失,这时他告知家人自己已经远离了癌症

B. 家境贫困的小李一直课余打工赚取生活费。他大四时想报考研究生,学习很紧,没有时间打工,仍对父母说自己靠打工挣得的钱生活没有问题

C. 杨某告诉小钱,可以为她和她的同学小陈在外地找到工作,小钱欣喜地告诉小陈。后杨某让两人在某地的工厂工作,工资很低没有休息日,小陈认为小钱欺骗了她

D. 老刘故地重游时见到老同学,问起一位老熟人,老同学告诉他这位老熟人得了病走了

41. 直销是指直销企业招募直销员,由直销员在固定营业场所之外直接向最终消费者推销产品的经营方式。以下属于直销的是()。

A. 某奶制品生产厂家甄选业务员后,在市内设立了一百个销售点以统一的价格销售奶制品

B. 某书店采取网上销售方式,顾客下订单后,由快递员将产品送至指定场所并收取费用

C. 某化妆品品牌招聘的一些业务员在道路旁设摊点发放产品说明并以较低价格向顾客推销

D. 开学时,新生小贺到批发市场购买了五盏台灯,自用一盏,其他四盏卖给同学

42. 体育旅游是指个人暂时离开常住地或工作地,参加体育活动、观看体育活动,或者观赏与体育活动有关的吸引物,以休闲为基础的旅游活动。以下不属于体育旅游的是()。

A. 球迷小李赶到大连市观看中超联赛

B. 自行车俱乐部的成员小张骑车到上海后,找了一份在快递公司的工作

C. 2008年北京奥运会结束后,很多外地游客到北京参观鸟巢和水立方

D. 广州某集团公司的小李是游泳健将,他被单位推选到青岛市参加游泳比赛

43. 传统逻辑把排中律当作事物的基本规律之一,意为任一事物在同一时间里具有某属性或不具有某属性,而没有其他可能。排中律也是思维的规律,是指在同一思维过程中,一个命题不可能既不是真的,又不是假的,即两个互相矛盾的思想不可能同时为假。

据此定义,以下违反排中律的一项是()。

A. 小陆踢完足球回到宿舍,小陈问他:“赢了吗?”小陆说:“没有。”小陈问:“那么,输了?”小陆说:“也没有。”

B. 小周在回答招聘单位面试问题时说:“我的专业不是社会学,也不是教育学。”

C. 甲、乙二人下完棋后,一位观棋者笑着说:“看来你俩是谁也赢不了谁。”

D. 这场战争,既不能说它是正义的,也不能说它是非正义的

44. 职业倦怠,是指从业者因不能有效缓解由各种因素所造成的工作压力、深感付出与回报不对等、对所从事的工作没有兴趣或缺乏动机却又不得不为之时,产生厌倦情绪,身心陷入疲惫状态,工作绩效明显降低,从而表现出对所从事职业的消极态度和行为。

根据以上定义,下列不能有效应对职业倦怠的一项是()。

A. 将生产线上负担过重的工作适当减轻,由多人分担

B. 学校组织教师进行的心理学、教育学和职业道德等培训

C. 某公司对连续三次月度绩效考核不合格的员工实行处罚制度

D. 监狱邀请心理专家定期为警员做心理辅导和咨询

45. 情感敲诈是强有力的感情操纵手段,即在生活中用畏惧、责任和内疚来控制他人。情感敲诈者分为四种。第一种为“惩罚者”,这样的人说:“除非你依照我的意思去做,否则我要惩罚你”;第二种为“自我惩罚者”,这样的人说:“除非你按照我的意思去做,否则我要惩罚自己”;第三种为“受害者”,这样的人说:“如果你不满足我的要求,那么我受害了,这是你引起的”;第四种为“挑逗者”,采取“胡萝卜”策略,但是从不让满足他要求的人真正吃到“胡萝卜”。根据以上定义,下列属于情感敲诈的是()。

A. 某男大学生失恋之后,冲着苦苦爱慕的女孩的宿舍楼大声呼喊,并爬上宿舍区的一棵大树,扬言如果某某再不出来,他就跳下去自杀,这时,女孩宿舍的窗户突然打开,她哭着对这个男孩说出“我爱你”,随即两人会合紧紧拥抱在一起

B. 小张为了鼓励儿子学习英语,儿子每学会5个单词,就奖励给他一枚小五角星,集够5枚就可以兑换一块大巧克力,如果集够100枚还可以获得一个他最喜欢的机器人模型,这个方法果然提高了孩子学习英语的积极性

C. 某男子苦苦央求过去的恋人再回到他的身边,遭到拒绝之后,竟然走进了他过去恋人的三口之家,引爆了炸药,将过去恋人及其3岁的女儿炸死,自己当场身亡

D. 某单位职工的考勤制度非常严格,该单位领导在大会上说:有事必须事先请假,如果员工迟到两小时,就扣除该员工全天的薪酬,如果员工无故旷工一天,就会扣除该员工一周的薪酬

二、逻辑推理:共10题。这种题型考查考生基于文字的基本逻辑思维能力,这些基本逻辑思维能力可能包括演绎思维、归纳思维等。

请开始答题:

46. 目前我国最具有经济价值的新猪品种,名为“渝荣1号”。它是重庆市自主培育的、第一个通过国家审定的

畜禽品种,研发历时9年。虽然其瘦肉率高于普通猪,肉质更鲜嫩,口感更好,其售价与普通猪肉基本相当,但参与研发和市场转化的有关专家分析认为,“渝荣1号”猪适应性强、繁殖性能好、产崽率高、生长快,这些因素无疑会增加其市场竞争力。

如果下列各项为真,最能够支持上述推断的是()。

- A. 目前市场上猪肉供大于求
- B. 有相当一部分人不愿意吃瘦肉
- C. 除了“渝荣1号”,市场上还出现了其他新猪品种
- D. 猪肉售价由其生产成本决定

47. 一项研究报告指出,某地区25岁至64岁居民中,12.1%的人患有心脏病。报告还指出,不良的饮食习惯是造成该地区居民心脏病高发的主要原因。调查表明,该地区18.7%的成年人胆固醇偏高,主要原因是他们吃的牛肉等高胆固醇食品太多,而鱼类食品的摄入量太少。为改善这一状况,当地居民大力改善自己的饮食习惯。随后的一项调查指出,成年人中胆固醇偏高者的人数下降了5.4%,但是,令人费解的是,该地区居民患心脏病的人数却上升了6.7%。以下最能解释这一现象的是()。

- A. 尽管吃牛肉的居民减少了,但是吃其他高胆固醇食物的人数并没有改变
- B. 该地区由于气候宜人,风景优美,每年都吸引大量的外来人口居住
- C. 虽然该地区成年人中胆固醇偏高的人数下降了,但要经过一段时间才能显现出效果
- D. 该地区烟民大量增加,而吸烟等不良生活方式也是导致心脏病的重要原因

48. 目前存在一种观点,认为2009年是“国进民退”的一年,也就是说,大量信贷资金向国有企业倾斜,国有企业的发展挤占了民企的生存空间。以下各项中,最有力地反驳了这一观点的是()。

- A. 这一观点没有给出确定的论据作为依据,因而是站不住脚的
- B. 2009年私营企业的总利润同比增长了17.4%,而国有企业的总利润负4.5%
- C. 改革开放30年,民营经济在GDP中的比重一直在增加
- D. 2009年东南沿海地区民营企业总资产仍然在继续增长

49. M市市政府下大气力建设该市的中小企业园区,使M市的中小企业数量有了很大增长,并使M市的经济水平较上一年度有了较大的提高。该市所在的S省有关部门决定向全省推广这种中小企业园区,推动S省各地区经济迈上一个新台阶。

以下哪项如果正确,能够最好地说明S省有关部门的这种希望可能会落空?()

- A. 中小企业虽然形式灵活多变,转型快,适应能力强,但其规模小,而且融资困难,很难应对大规模的经济衰退或全球性的金融危机
- B. S省政府没有建立起对中小企业的财政支持政策体系,增大财政对中小企业资金融通的支持力度,也没有在税收方面给予照顾
- C. M市市政府为保障中小企业的发展,为中小企业打造健康的经济发展软环境,而S省有关部门并没有将此措施推广到该省其他地区
- D. 全国建立中小企业园区的城市不只是M市一家,但只有M市采取措施鼓励中小企业进行技术创新,建立面向中小企业的技术创新服务机构

50. 一项调查显示,50%的人在25岁前就出现失眠现象,在30岁前失眠的比例达74%。专家表示,竞争激烈的生存环境、频率过快的生活节奏、工作和学习上的巨大压力,是导致失眠年轻化的主要因素。但是,即使让失眠的人多参加休闲类体育活动,缓解精神压力,并且合理安排作息时间,养成良好的生活习惯,他们失眠的现象也没有改善。因此,显然存在其他引起失眠的原因。以下哪项如果正确,最能削弱上述结论?()

- A. 通过缓解精神压力来改善青年失眠现象是需要经过一段时间的调养的,因此,不容易反映出精神压力大与失眠之间的关系
- B. 许多没有失眠现象的人同样存在着生活节奏快、工作和学习压力大的问题
- C. 精神压力大很少会引起严重的失眠现象,更何况还是出现在身体状况本应很好的青年身上
- D. 许多人都有熬夜、吸烟、喝酒的不良习惯,并且喜好油腻和辛辣的食物,这样的生活习惯也是导致失眠的原因

51. 定窑白瓷是继唐代的邢窑白瓷之后兴起的一大瓷窑体系。主要产地在今河北省曲阳县的涧磁村及东燕川村、西燕川村一带。定窑所烧制的白瓷,其胎、釉呈现出精、白、薄的特征,有些器物的白度甚至超过了邢窑的细白瓷器。定窑白瓷花纹千姿百态,有用刀刻成的划花,用针剔成的绣花,特技制成的“竹丝刷纹”、“泪痕纹”等等。在出土的定窑瓷片中,发现刻有“官”、“尚食局”等字样,这说明定窑中一部分产品专为官府和宫廷烧造,但更多的是为民间需求而生产的。为使上述论证成立,以下假设必须为真的一项是()。

- A. 在当时的历史条下,只有官府和宫廷用品,才会刻有“官”、“尚食局”等字样
- B. 刻有“官”、“尚食局”等字样的定窑瓷片,只占出土瓷片的一少部分
- C. 史料中关于定窑原为民窑,自宋中后期开始烧造官府和宫廷用瓷的记载是真实的
- D. 官府和宫廷对定窑白瓷的需求量远远小于民间

52. 一位水利专家在调查各国水资源利用率时发现:各国的农业水资源利用率与降雨量之间存在明显的负相关关系,他由此得出结论:干旱迫使这些国家的政府更加注重节水。下列最能质疑上述结论的是()。

- A. 降雨量少不等于水资源少
- B. 一些干旱的国家有大量地下水资源
- C. 有些干旱的国家浪费水的现象严重
- D. 水资源利用率取决于农民长期形成的农业用水生产方式

53. ①所有与甲型H1N1流感患者接触的人都被隔离了。②所有被隔离的人都与小王接触过。若上述两个命题

为真，以下命题为真的是（ ）。

- A. 小王是甲型 H1N1 流感患者 B. 小王不是甲型 H1N1 流感患者
C. 可能有人没有接触过甲型 H1N1 流感患者但接触过小王
D. 所有甲型 H1N1 流感患者都接触过小王

54. 从石器时代开始的许多工具，就已经是为右手定制的了。从人类有史可考的时候开始，右手就一直被优先使用。最近 100 年来左撇子增加了两倍。左撇子已经占了 人口的 1/4，在某些地区甚至达到 1/3。左撇子在一些行业也取得了辉煌的成就。在美国，三个人里面差不多就有一个是左撇子，美国最近的五任总统有三个是 左撇子——罗纳德·里根、乔治·布什、比尔·克林顿。

根据以上信息，现有三个命题：

- I 左撇子多的原因在于世界人口的迅猛增长。
II 左撇子在右撇子的天下具有更强的适应能力，这有助于左撇子成功。
III 左撇子有越来越多的趋势。

以下选项中，一定为真的是（ ）。

- A. I、II 和 III B. 只有 II 和 III C. 只有 I 和 II D. 只有 III

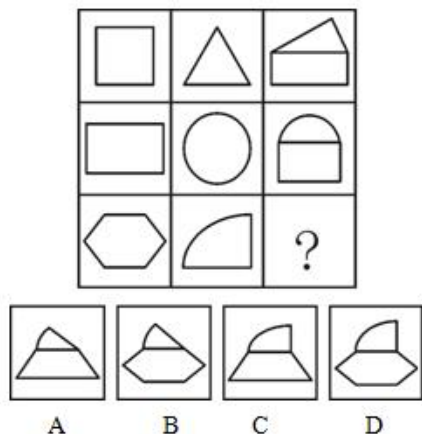
55. 游乐场实行对儿童购票半价优惠，这实际上是吸引游客的一种经营策略，游乐场并没有实际让利，因为当游乐场的入场率超过 90%时，就停售当场的儿童优惠票，而在目前经济不景气的情况下，游乐场的入场率很少超过 90%。有游乐设施空着，何不以优惠价吸引游客呢？

以下哪项如果是真的，将最有力地削弱上述论证？（ ）

- A. 绝大多数儿童并不是因为票价优惠才选择到游乐场玩的
B. 游乐场实行儿童优惠价的 7 月份，营业额比未实行优惠价的 2 月份增加了 30%
C. 实施儿童优惠票价是表示对未成年人的一种重视，不应从功利角度评价它
D. 游乐场在实施儿童优惠价的同时，还应该实施家长优惠价

三、图形推理：共 5 题。每道题包含问题图形和可供选择的四个图形。请选出最合适的一项。请开始答题：


56.



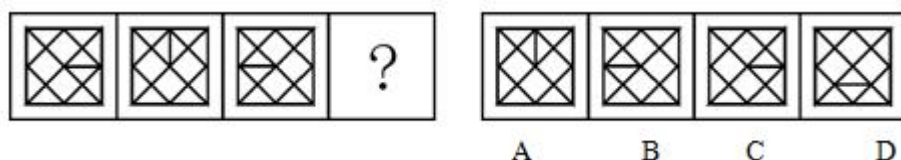
57.



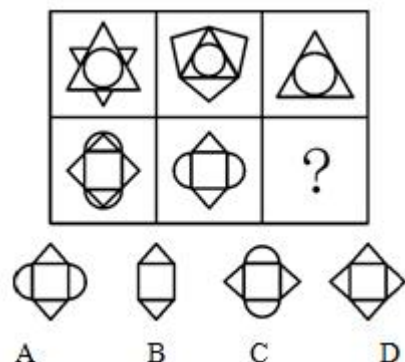
58.



59.



60.



四、类比推理：共 5 题。类比推理考察的是考生的一种推理能力，先给考生一对相关的词，然后要求考生在备选答案中找出一对与之在逻辑关系上最为贴近或相似的词。

请开始答题：

61. 青霉素：细菌

- A. 伪劣产品：信誉 B. 维生素：营养 C. 国策：人口 D. 经济措施：危机

62. 油彩：画布

- A. 墨汁：宣纸 B. 粉笔：黑板 C. 铅笔：白纸 D. 油漆：墙壁

63. 窗户：玻璃

- A. 衣服：纽扣 B. 盆架：脸盆 C. 戒指：宝石 D. 照片：相册

64. 电话：会面

- A. 微波炉：加热 B. 打字机：手写 C. 电视机：娱乐 D. 打印机：绘画

65. 西施：东施

- A. 鸟：飞机 B. 正版：盗版 C. 碑刻：拓片 D. 明治维新：戊戌变法

五、常识经验判断：共 20 题。常识经验判断部分主要考查考生依据基本常识和基本经验，对常见现象或事物产生的原因以及某一现象发生、引起的后果进行分析、归纳等。

请开始答题：

66. 机关工作人员在涉外交往中应遵守一些社交礼仪。其中在国际交往中有主次先后排列的，应遵循的原则和礼俗是（ ）。

- A. 以右为尊，男士优先 B. 以左为尊，女士优先 C. 以右为尊，女士优先 D. 以左为尊，年长者优先

67. 当潮湿的气团前进时，遇到高山阻挡，气流被迫缓慢上升，引起绝热降温，发生凝结，这样形成的降雨，称为（ ）。

- A. 对流雨 B. 地形雨 C. 气旋雨 D. 台风雨

68. 绿色食品是指经专门机构认定，许可使用绿色食品标志的无污染的安全、优质、营养食品。绿色食品标志是由中国绿色食品发展中心在国家工商行政管理总局正式注册的质量证明商标。绿色食品标志由三部分组成，即上方的太阳、下方的叶片和中心的蓓蕾，标志为（ ）。

- A. 正圆形，意为保护 B. 椭圆形，意为安全 C. 正方形，意为安全 D. 长方形，意为保护

69. 绿色 GDP，指用以衡量各国扣除自然资产损失后新创造的真实国民财富的总量核算指标。简单地讲，就是从现行统计的 GDP 中，扣除由于环境污染、自然资源退化、教育低下、人口数量失控、管理不善等因素引起的经济损失成本，从而得出真实的国民财富总量。关于绿色 GDP，下列说法不正确的是（ ）。

- A. 能反映经济增长水平 B. 能够体现经济增长与自然保护和谐统一的程度
C. 能够显示人口增长与自然保护和谐统一的程度 D. 可以很好地表达和反映可持续发展的思想和要求

70. 突发公共事件按照性质、严重程度、可控性和影响范围等因素分为特别重大、重大、较大、一般四个等级；预警级别分为四级，依次（ ）。

- A. 用红色、橙色、黄色、蓝色表示 B. 用黄色、蓝色、橙色、红色表示
C. 用黄色、橙色、蓝色、红色表示 D. 用蓝色、橙色、红色、黄色表示

71. 有狼、鼬、鼠等动物的某一温带森林生态系统，造成其生态不平衡的原因可能是（ ）。

- A. 老鼠大量繁殖 B. 鼬大量繁殖 C. 大量捕杀鼬 D. 大量捕杀狼

72. 世界博览会，是一项由主办国政府组织或政府委托有关部门举办的有较大影响和悠久历史的国际性博览活动。参展者向世界各国展示当代的文化、科技和产业上正面影响各种生活范畴的成果。它已经历了百余年的历史，逐渐成为荟萃科学技术与产业技术的展览会，成为产业人才培育和一般市民启蒙教育不可多得的场所。但它最初

是()。

- A. 以纺织工业品展示为主 B. 以生活日用品展示为主
C. 以美术品和传统工艺品的展示为主 D. 以建筑成果展示为主
73. 人们在剧烈的体育运动后,会感到腰腿或全身肌肉酸痛,疲惫不堪,有的还感到饥渴难耐,这主要是因为体内的酸碱平衡不能正常维持,体液偏酸而使疲劳症状加重。此时应该多食用()。
A. 鸡、鱼、肉 B. 牛奶、豆制品、蔬菜水果 C. 巧克力 D. 可乐
74. 中国古代木构建筑的屋顶都有挑出的屋檐,它的目的是()。
A. 突出房屋建筑的美感 B. 使屋顶线条成曲线,减轻沉重感
C. 有利于排水 D. 保护檐口下的木构架及夯土墙少受雨淋
75. “六亲不认”是形容一个人不顾亲情做事决绝,这里面的“六亲”是指()。
A. 父、母、兄、弟、妻、子 B. 祖父、祖母、父、母、兄、弟
C. 父、母、兄、弟、子、孙 D. 父、母、兄、弟、姐、妹
76. 清明既是二十四节气之一,又是一个历史悠久的传统节日。清明的前一天称寒食节。两节恰逢阳春三月,春光明媚,桃红柳绿,一派欣欣向荣的气象。寒食节的设立是为了纪念()。
A. 屈原 B. 伍子胥 C. 范蠡 D. 介子推
77. 小王和某家公司签约时,约定的月薪为2500元,签订了三年的劳动合同。工作一年后,他发现其他同行业公司相应职位的员工工资比他高,因此他提出辞职,想找一份薪水更丰厚的工作。在三个月的时间里,他都没有找到合适的工作。在这种情况下,小王()。
A. 属于自愿失业,不具备领取失业保险金的条件
B. 非因本人意愿而中断就业,具备领取失业保险金的条件
C. 已工作满一年,可以领取失业保险金
D. 虽属于自愿失业,但仍可领取失业保险金
78. 要制成松软酥香的丹麦面包,需往面粉中加入大量起酥油,这样才能形成面包里特殊的层状结构。而起酥油不光让身体发胖,还会影响女性荷尔蒙分泌。由于人体激素水平在一天中是不平衡的,因此吃丹麦面包最佳时间是()。
A. 早上 B. 中午 C. 晚上 D. 午夜
79. 运输危险品货物的列车发生泄漏、火灾、爆炸时,车上人员应()。
A. 迅速向下风方向或高坡地段转移 B. 迅速向上风方向或低坡地段转移
C. 迅速向上风方向或高坡地段转移 D. 迅速向下风方向或低坡地段转移
80. 电梯作为一种垂直交通工具,一旦出现故障,可能会发生乘客被困、坠落等危险事故。电梯发生故障时,下列应急措施不正确的是()。
A. 电梯突然停运时,不要试图扒门爬山,以防电梯突然开动
B. 如果电梯运行中发生火灾,应将电梯停在就近楼层,并迅速利用楼梯逃生
C. 电梯下降速度突然加快或失去控制时,乘客应两腿微弯,上身向前倾斜,以减少电梯坠落受到的冲击
D. 运行中的电梯进水,应将电梯开到底层,并通知维修人员
81. 改变农业以太阳光为直接能源,利用绿色植物通过光合作用生产人类食物、动物饲料的传统方式,应用高科技进行开发,依靠人工能源不受气象和季节的限制,可常年在工厂进行大规模生产,节土、节水、不污染环境,资源可循环利用的微生物工业型的农业叫做()。
A. 绿色农业 B. 白色农业 C. 生态农业 D. 生物农业
82. 鳄鱼为什么流眼泪?这是因为鳄鱼体内长有特殊的排泄腺,其排出管正好分布在眼睛四周,从而排出体内多余的成分,鳄鱼所流的“眼泪”实际上是一种溶液。这种溶液是()。
A. 水 B. 碘溶液 C. 钠溶液 D. 盐溶液
83. 在现代市场竞争中,厂商总用各种手段把竞争对手的顾客争取过来,使其购买本企业的产品,这种做法是()。
A. 市场渗透 B. 市场掠夺 C. 市场控制 D. 市场调节
84. 望向大海,很多时候我们会发现海水呈现蓝、绿色,这是因为()。
A. 海水本身就是绿色和蓝色的 B. 只有绿光才能被海水吸收并反射
C. 只有蓝光才能被海水吸收并反射 D. 蓝光和绿光都不能被海水吸收
85. 在草原、森林、湿地、海洋和沙漠中,被列为地球三大生态系统的是()。
A. 森林、海洋、湿地 B. 森林、沙漠、海洋 C. 森林、湿地、沙漠 D. 森林、草原、海洋

第四部分 资料分析

(共15题,参考时限15分钟)

针对下列给定资料回答问题,共15题。你应根据资料提供的信息进行分析、比较、计算、处理。

请开始答题:

一、根据下列图表回答第86—90题:

图1 2004—2008年居民消费价格涨跌幅度

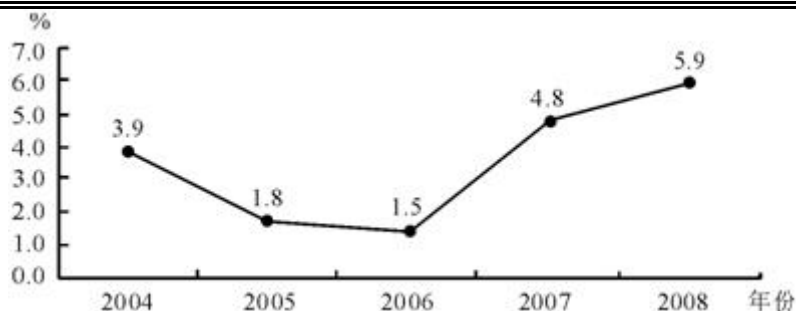
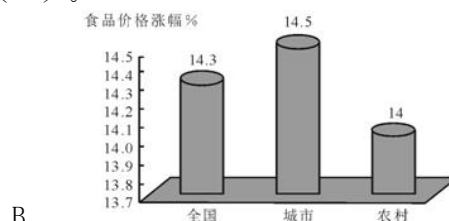
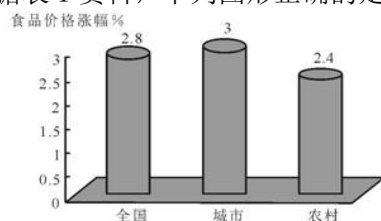


表1 2008年居民消费价格比上年涨跌幅度单位：%

指标	全国	城市	农村
居民消费价格	5.9	5.6	6.5
食品	14.3	14.5	14.0
其中：粮食	7.0	7.2	6.7
肉禽及其制品	21.7	22.6	20.0
油脂	25.4	24.9	25.9
鲜蛋	3.7	3.8	3.6
鲜菜	10.7	10.5	11.3
鲜果	9.0	8.9	9.3
烟酒及用品	2.9	3.1	2.6
衣着	-1.5	-1.8	-0.6
家庭设备用品及服务	2.8	3.0	2.4
医疗保健及个人用品	2.9	2.8	3.2
交通和通信	-0.9	-1.6	0.7
娱乐教育文化用品及服务	-0.7	-0.9	-0.1
居住	5.5	4.3	8.2

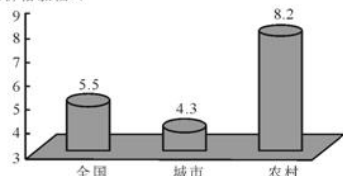
86. 2005年居民消费价格涨跌幅度为()。
- A. 3.6% B. 1.8% C. 6.5% D. 5.9%
87. 下列说法正确的是()。
- A. 2008年农村居民消费价格涨跌幅度为5.6%
- B. 2008年城市居民消费价格涨跌幅度为6.5%
- C. 2008年居民消费价格涨跌幅度为14.0%
- D. 2008年城市居民食品消费价格涨跌幅度为14.5%
88. 2008年农村消费价格涨幅第一和跌幅第一的类别分别是()。
- A. 粮食类和鲜果类 B. 粮食类和衣着类
- C. 油脂类和衣着类 D. 油脂类和鲜果类
89. 下列说法正确的是()。
- A. 2008年城市消费品价格涨幅前两位的类别分别是油脂类和肉禽及其制品类
- B. 2008年城市和农村的交通和通信类消费品价格都上涨了
- C. 2008年城市和农村的交通和通信类消费品价格都下跌了
- D. 以上说法都不正确
90. 根据表1资料,下列图形正确的是()。



A.

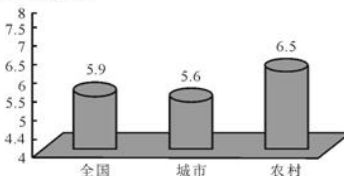
B.

食品价格涨幅%



C.

食品价格涨幅%



D.

二、根据下面资料回答 91-95 题:

2005 年我国滨海旅游业继续保持强劲的增长态势, 全年滨海旅游收入 5052 亿元; 增加值 2031 亿元, 比上年增长 32.4%。全国滨海国内旅游收入 3887 亿元, 比上年增长 1391 亿元。

海洋交通运输业继续保持良好的发展态势, 2005 年营运收入达 2940 亿元, 占全国主要海洋产业总产值的 12.6%, 增加值 1145 亿元, 比上年增长 5.0%, 完成港口吞吐量 49 亿吨。

2005 年我国海洋电力生产逐步形成规模, 全年总产值 1090 亿元, 占全国主要海洋产业总产值的 6.4%, 增加值 606 亿元, 比上年增长 6.7%。

2005 年海洋造船完工量首次突破 1000 万综合吨, 海洋船舶工业总产值 817 亿元, 海洋船舶工业增加值 176 亿元, 比上年增长 11.8%。

2005 年, 海洋原油产量 3000 万吨, 比上年增长 11.5%; 海洋天然气产量达 627721 万立方米, 比上年增长 2.3%。海洋油气业总产值 739 亿元, 增加值 467 亿元, 比上年增长 17.9%。

91. 2004 年, 全年滨海国内旅游收入 ()。

- A. 1421 亿元 B. 3367 亿元 C. 3256 亿元 D. 2496 亿元

92. 2004 年, 海洋交通运输业增加值约为 ()。

- A. 1255.66 亿元 B. 1348.65 亿元 C. 1090.48 亿元 D. 1146.89 亿元

93. 2004 年, 我国海洋电力业增加值约为 ()。

- A. 687.28 亿元 B. 567.95 亿元 C. 427.45 亿元 D. 656.55 亿元

94. 2004 年, 我国海洋原油产量约为 ()。

- A. 1256.54 万吨 B. 2690.58 万吨 C. 3691.68 万吨 D. 4112.54 万吨

95. 下列说法正确的是 ()。

- A. 2005 年全年滨海国内旅游收入占全年滨海旅游收入的比重超过 60%
B. 2005 年海洋船舶工业增加值是海洋电力增加值的二分之一
C. 2005 年海洋交通运输业增加值是海洋电力业增加值的二倍
D. 以上选项都不正确

三、根据下面资料回答 96-100 题:

某省 1997—2004 年 GDP 及房地产业增加值

年份	GDP (亿元)	GDP 增长速度 (%)	房地产增加值 (亿元)	房地产业增加值增长速度 (%)	房地产业增加值占 GDP 的比重 (%)
1997	1446.91	8.2	23.82	2.2	1.9
1998	1557.78	7.7	29.12	22.3	1.9
1999	1660.91	6.6	34.08	17.0	2.1
2000	1864.84	12.3	45.83	34.5	2.5
2001	2032.48	9.0	49.62	8.3	2.4
2002	2246.12	10.5	60.02	21.0	2.7
2003	2522.62	12.3	66.09	10.1	2.6
2004	2958.21	12.2	70.79	7.1	2.4

96. 该省 1997—2004 年房地产业增加值增长速度高于 GDP 增长速度的年份共有 ()。

- A. 3 年 B. 4 年 C. 5 年 D. 6 年

97. 该省 1997—2004 年房地产业增加值与 GDP 总量的发展变化是 ()。

- A. 均为增加 B. 均为下降 C. 前者增加, 后者下降 D. 前者下降, 后者增加

98. 该省 1997—2004 年房地产业增加值增长速度与 GDP 增长速度均最高的年份为 ()。

- A. 2004 年 B. 2003 年 C. 2000 年 D. 1998 年

99. 按表中数据计算可知, 1996 年该省房地产业增加值为 ()。

- A. 20.3 亿元 B. 21.3 亿元 C. 22.3 亿元 D. 23.3 亿元

100. 按表中数据计算可知, 2004 年该省 GDP 总量比 1997 年增长了 ()。

- A. 204.45% B. 210.45% C. 104.45% D. 110.45%