

2014 年吉林公务员考试《行测》政法干警卷

一、常识判断，共 20 题，根据题目要求，在选项中选出答案。

1、中国古代农业耕作方式演变的趋势是：

- A、刀耕火种—石器锄耕—铁犁牛耕 B、石器锄耕—刀耕火种—铁犁牛耕
C、铁犁牛耕—刀耕火种—石器锄耕 D、石器锄耕—铁犁牛耕—刀耕火种

2、马克思指出，“扩大再生产过程中的追加成本是资本化的剩余价值。它一开始就没有一个价值原子不是由别人的无酬劳动产生的”。这句话表明：

- A、追加资本来源于资本家的长期积累 B、资本积累是扩大再生产的重要源泉
C、资本主义生产实质是剩余价值生产 D、剩余价值是资本积累的唯一源泉

3、某工作单位组织职员观看反腐败题材的电影，并在观后进行讨论。这种管理方式属于：

- A、现场控制 B、反馈控制 C、预先控制 D、环境控制

4、在有核武器的国家中，第一个宣布不首先使用核武器的国家是：

- A、法国 B、美国 C、中国 D、英国

5、“天上一日，人间一年”蕴含的理论是：

- A、进化论 B、牛顿力学 C、相对论 D、混沌理论

6、古代中国人发明了指南车，该车之所以能指示方向，正确的说法是：

- A、地球引力的作用 B、地球重力的作用 C、地球磁场的作用 D、太阳引力的作用

7、中共中央总书记习近平在讲话中多次提到“人民”，他承诺：“我们要始终与人民心心相印、与人民同甘共苦、与人民团结奋斗，夙夜在公，勤勉工作，努力向历史向人民交一份合格的答卷。”这一承诺的根本原因在于：

- A、我国人权高于国家主权 B、以人为本是社会主义现代化建设的第一要素
C、我国是人民民主专政的社会主义国家 D、我国国家机关的组成人员都是由人民直接选举产生的

8、下面哪些行为在我国法律上适用免责事由：

- ①医疗手术
②器官捐献
③竞技体育比赛
④医生为病人实施安乐死

- A、①③④ B、①②③ C、②③④ D、①②④

9、感冒，在医学课本里的称呼是急性上呼吸道感染，我们感冒时常会流鼻涕、打喷嚏，打喷嚏所起的作用是：

- A、促进鼻腔分泌粘液，杀死病毒 B、促进支气管分泌粘液，喷出有害物质
C、帮助清洁和排除鼻腔异物 D、缓解鼻腔对冷气的过敏症状

10、18 世纪末 19 世纪初西方某文学流派“以艺术的方式描摹了这一特定时代人的激荡，亢奋而敏感、纤弱的心灵世界，展现了有着强烈个性夸张欲望的自我”。其创作风格是：

- A、浪漫主义 B、现实主义 C、古典主义 D、理性主义

11、《诗经·小雅·大东》：“东有启明，西有长庚。”一直到今天，只要天气晴朗，我们都能看到耀眼的金星悬挂在：

- A、黎明前的西方天空 B、黄昏时的东方天空 C、黄昏时的西方天空 D、午夜时的北方天空

12、国家在餐饮行业推行刮奖发票，消费者就餐后索要发票就有中奖可能，若餐馆拒绝开具发票，可向税务机关举报。关于刮奖发票，正确的是：

- A、推行刮奖发票的主要目的是促进消费 B、对无需报账的就餐者可以不开具发票
C、提供刮奖发票可显著增强餐馆竞争力 D、索要和提供餐饮发票有利于减少税收流失

13、2014 年 3 月 11 日，《中国文字博物馆藏文物展》在吉林省博物馆开展，其中的商代卜骨、卜甲为国家一级文物。卜骨和卜甲是古代占卜器具，用来推测凶吉的主要依据是：

- A、甲骨上面钻出孔洞的形状 B、甲骨被水浸泡后的表面条纹形状
C、甲骨被敲碎后的碎片形状 D、甲骨上面灼烧出的裂纹形状

14、王安石《元旦》：“爆竹声中一岁除，东风送暖入屠苏。千门万户曈曈日，争插新桃换旧符。”该诗隐含的哲理是：

- A、人类社会历史具有规律性 B、社会存在决定社会意识
C、人民群众是历史的创造者 D、新事物总要取代旧事物

15、以下关于历史纪念日表述错误的一项是：

- A、9 月 3 日是中国人民抗日战争胜利纪念日 B、12 月 13 日是南京大屠杀死难者国家公祭日
C、7 月 1 日是中国共产党诞生纪念日 D、9 月 18 日是中国法定国耻日

16、当乌贼遇到敌害时，黑囊里的墨汁会迅速喷射出来，这是为了：

- A、更好的攻击 B、毒昏敌害 C、掩护逃脱 D、毒死敌害

17、有一首歌曾这样唱道：“一九七九年，那是一个春天，有一位老人在中国的南海边画了一个圈。神话般崛起座城市，奇迹般聚起座座金山……”歌词中老人在南海边画了“一个圈”，这指的是：

- A、在广东、福建沿海设立经济特区 B、划南海省为经济特区
C、促进深圳与香港经贸关系的发展 D、商业发展冲击传统观念

18、《窦娥冤》揭露封建统治的黑暗，《水浒传》颂扬农民起义英雄杀富济贫，这反映了：

- A、封建社会的腐朽没落 B、“异端”思想影响广泛 C、普通民众的理想与愿望 D、商业发展冲击传统观念

19、截至 2014 年 3 月，韩剧《来自星星的你》在中国视频网站上的累计点播近 13 亿次。新的“韩剧热”源于韩剧在旧三宝“车祸、失忆、治不了”过时之后，与时俱进地发展出了新三宝“长腿、养眼、真土豪”，从哲学角度看，这种现象体现了：

- A、社会意识具有能动性 B、社会意识具有客观性 C、社会意识具有实践性 D、社会意识具有随意性

20、某单位发生了一起重大失窃事件，为了通过这个典型事件教育干部，该单位的上级单位决定把这一情况告知本部门全体人员，并提出贯彻要求。在这种情况下，一般应该使用的文件是：

- A、通知 B、通报 C、通告 D、公告

二、言语理解，共 30 题，本部分包括表达与理解两方面的内容，请根据题目要求选出答案。

21、填入横线中的词语，最恰当的一项是：

如果制定政策时，先有广泛的民意调查，并在第一时间得出符合大多数人利益的结论，就可以少很多周折，更可以免于给公众决策随意性太强的感觉。毕竟，一个命令，出台 9 天就收回，给人的感觉太“_____”了一点。

- A、三脚猫 B、拍脑袋 C、乱弹琴 D、一言堂

22、依次填入下列横线处的词语，最恰当的一组是：

（1）饮用水标准更新滞后、_____，不仅容易引发公众质疑，更容易让行业和企业无所适从，造成不必要的损失。

（2）我们察觉到，我们熟知的观念常出现_____。

（3）今夜，我看到的是_____的苹果树影和满天星斗。

- A、交叉不一 谬误 斑驳 B、重复混乱 错误 稀疏 C、交叉不一 错误 斑驳 D、重复混乱 谬误 稀疏

23、填入横线处的词语，最恰当的一组是：

不管哪一家富豪相亲，少女带着青春和秀美入场，中介平台上有人像选货物一样评头品足，而相亲男方缴纳数万甚至数十万元会员费、入场费，退可以深藏不露、随意选择，进可以在相亲现场手执二女、左右逢源。此情此景不是_____活报剧、金钱万能活广告又是什么？

- A、拜金主义 B、功利主义 C、享乐主义 D、实用主义

24、填入横线处的成语，最恰当的一句是：

回顾网络文学近十余年的发展，尤其是在引入一些商业模式之后，一度_____的文学网站，人气陡增，颇有进入西部牛仔时代的味道，虽然极为混乱，但也不乏生机。

- A、门可罗雀 B、门庭若市 C、孤芳自赏 D、车水马龙

25、我们急需讨论一下“改革是什么”，可能有人会觉得这样的动议_____。中国已经进入全面而深入的改革阶段，“改革是什么”的问题不是已经得到解决了吗？

填入画横线部分最恰当的一项是：

- A、哗众取宠 B、莫名其妙 C、兴师动众 D、小题大做

26、填入横线处的词语，最恰当的一句是：

“铁打的营盘流水的兵”，描述的是兵营与士兵的关系。这句俗话同样可以用于阐述大学与师生之间的关系。大学作为相对_____的机构，师生的驻留和流动促进了大学气质与个性的形成和保存。对师生来说，他们既是大学氛围的建设者，也是感受者；对大学来说，它既是已有气质和个性的保存者，又在不断接受教师和学生每日对大学气质与个性的_____。

- A、特殊 影响 B、独立 改变 C、固定 塑造 D、成熟 渗透

27、下列各句中没有语病的一项是：

A、以生态环境的恶化来换取经济发展，这是发达国家曾经走过的老路。正如周生贤所说，这不是我们期待的现代化。

B、重典方能治乱，立制才能长效。只要实行最严格的制度、最严密的法治，才能为生态文明建设提供可靠保障。

C、虽然不能简单地以地方政府大楼的奢华来衡量其形象的好坏，但判别政府执政能力高低的标

准却无外乎不折腾、不浪费、不自私。

D、大楼的建设和装修耗费巨大，不受约束、不被监督，甚至烂尾之后仍由政府兜底，无需任何人承担浪费公款的责任，还给予择地新建的“奖励”，这将是一个可怕的恶例。

28、两个水桶一同被吊在井口上。其中一个对另一个说：“你看起来似乎闷闷不乐，有什么不愉快的事情吗？”另一个回答：“哎，我常在想，这真是一场徒劳，好没意思。常常是这样，才重新装满，随即又空着下来。”“啊，原来是这样。”第一个水桶说：“我倒不觉得如此。我一直是这样想：我们空空地来，装得满满地回去！”

这个故事告诉我们：

- A、知足才能常乐 B、看问题的角度不同，看到的结果也不同

- C、乐观的人生总能发现生活中的乐趣 D、换位思考，乐观待人

29、一个社会总是在各种声音的交错中前行——“网络批评”已经向我们走来。但是众生的喧哗中，总有一些杂芜之音，通过公共或是个人的媒介，给社会和文化的

络批评”，则因缺位而显得更加弥足珍贵。

这段文字不支持的观点：

A、我们已经进入“网络批评”

B、现在的“网络批评”缺少文化含量

C、现在的“网络批评”不应该给社会和文化的发展带来困扰

D、人们对理智型的“网络批评”已经司空见惯

30、客观上讲，我国器官捐献制度的不健全，在一定程度上阻塞了正规的捐献渠道。目前，受限于技术短板等因素，卫生部只准许少部分医院进行器官移植手术。同时，个别医院与非法买卖器官行为的挂钩，以及再分配捐献器官时不公平、不透明的做法，很大程度上挫伤了捐献者的积极性。

这段文字表达的主要观点是：

A、我国器官捐献渠道不畅的原因

B、我国存在许多非正规的器官捐献渠道

C、我国器官捐献制度需要完善

D、捐献器官必须是在卫生部准许的医院

31、“我现在不‘扫活儿’了，常常停在一个地方等客。‘扫活儿’耗油、费力，赔不起。”一位的哥对我说。一线实践者趋利避害的策略值得管理者再三思索，很可能个体的聪明选择可以变为整体的制度设计。怎样才能返程不空车，即不“空载”，从来都是交通上的一大难题，西方经济学家说，这是计划经济解决不了的问题。现在的物流在克服空载上已有较大改进，但城市出租车至今还在走“扫活儿”的路子。日子不好过了正是彻底改变思路的时候。

这段文字的主旨是：

A、“扫活儿”的成本过高

B、出租车“扫活儿”从来都是交通上的一大难题

C、出租车“扫活儿”问题应以市场经济来解决

D、应以制度设计解决出租车“扫活儿”问题

32、空穴来风原本是指事情不是没有根据的，比喻消息和谣言的传播不是完全没有原因的，所谓“无风不起浪，空穴才来风”，从俗语中也可以看到这个成语的_____。

填入划横线部分最恰当的一项是：

A、演变

B、本义

C、历史

D、原貌

33、微博进入中文上网主流人群视野之后，由于其易于复制和传播，并具有明显的时代性，微博文学随之_____，此前，手机阅读已相当普及，这无疑为微博文学的迅猛发展奠定了坚实的基础，尽管短小，微博文学仍属于网络文学的_____，可以运用文学审美标准来衡量优劣，分析创作特点。

依次填入划横线部分最恰当的一项是：

A、接踵而至 成员

B、应运而生 范畴

C、登堂入室 分支

D、水到渠成 范围

34、殡葬之事看似简单，但在历史悠久的中国，操持此事绝不像人们想的那样将遗体入殓后下葬这样简单，它涉及民族习俗、宗教信仰、文化礼仪、伦理观念、人格尊严、人身权利。例如，“久丧厚葬”观念的形成在中国已有数千年的历史，守灵、吊唁、头七、二七、三七治丧过程极其复杂、漫长，越是高官权贵其丧礼之繁文缛节越多。现代考古学家不仅能从出土的古代墓穴葬品中考证死者属于哪个朝代，而且还能分析出死者属于哪个阶段。

文中划横线一句的作用是：

A、说明“久丧厚葬”的习俗

B、说明“久丧”的习俗

C、说明“厚葬”的习俗

D、说明古代随葬品是时代和身份的象征

35、70年代一本练习题，一碗绿豆汤，高考花费5毛钱；80年代考前买套好文具，花费10元钱；90年代买复习资料，喝妈妈熬的鸡汤，花费350元；00年代请家教，花费5000元；10年代请一对一补课、订营养餐，租学区房花费4万元……

这段文字最能说明的是：

A、高考消费的日益多样化

B、三十多年间高考成本的变迁

C、三十多年间物价上涨的脉络

D、三十多年间高考消费结构的变迁

36、从产品安全的角度看，给苹果带药套增加了果实农药超标的风险；从市场角度来说，问题苹果一旦被曝光，结果便是销售不畅甚至是最后腐烂扔掉。因此，必须反思“危险的苹果”诞生的原因，并进行针对性治理，因为无论是果农还是消费者都“伤不起”，中国的产品市场同样“伤不起”。

以上文字主要想告诉我们：

A、有毒苹果的市场风险很大

B、中国农产品市场不安全

C、必须探究“危险的苹果产生的原因”

D、苹果之险在于农药残留对产品的危害和产品的滞销

37、这些年来我们一直在说“大学教育高中化，研究生教育本科化”，如今的研究生教育，比本科耗费了更多的时间和成本，但在教育成效上，可能连社会实践教育都不如。在一些学校，由于研究生规模膨胀，一个导师甚至要带上几十个上百个研究生，导师制形同虚设。这种情况下，要做到一对一的认真指导，除非导师们打通了“任督二脉”，否则恐怕要么就只有在教育上敷衍学生，要么就只能高抬贵手，让学生们蜂拥着通往毕业的闸门。

“这种情况”是指：

A、研究生教育比本科教育耗费更多的时间和成本

B、“大学教育高中化，研究生教育本科化”

C、如今的研究生教育，可能连社会实践教育都不如

D、一个导师甚至要带上几十个上百个研究生

38、有圈内人士分析，国产儿童电影经常被批评为“弱智”，其根本原因除了人才，还有理念问题。国外早就把儿童电影当作全家族的家庭电影，作为一个高效益的产业程序来制作。国外的家长买儿童票和孩子一起看电影，是为了和孩子分享交流，释疑解惑；而国内的家长，只是为了安全。《喜羊羊》孩子看着高兴，家长在一旁呼呼大睡，难道不值得我们国内的电影人思考吗？

根据文意,“《喜羊羊》孩子看着高兴,家长在一旁呼呼大睡”的现象说明:

- A、国内家长对《喜羊羊》没有安全方面的担心
- B、国内家长缺乏《喜羊羊》“合家欢的家庭电影”的理念
- C、《喜羊羊》的制作方和国内的家长都缺乏“合家欢的电影”的理念
- D、《喜羊羊》的制作方缺乏“合家欢的家庭电影”的理念

39、李商隐说“美酒成都堪送老”,雍陶说“自到成都烧酒熟,不思身更入长安”,点名直夸成都酒好。客观来看,成都确实深受酒神的青睐。独有的弱酸性黄粘土,粘性强、保水性好,含铁、钙等金属离子少,是酿酒筑窖的最佳土壤。地下水和冰川融水形成的优质水源,浸润了美酒的灵魂,而盆地中湿润的气候,格外有利于酒窖里微生物的繁衍,为酿酒提供了得天独厚的外部环境。悠长历史,堆叠的不仅是酒窖的深,酒糟的浓、酒浆的冽,也是酿酒、沽酒、饮酒之人悠然享受生活的心态,这才使成都的酒,酝酿出至醇的香和韵。

对这段文字概括最恰当的一项是:

- A、独特的地理文化条件造就了成都美酒
- B、成都美酒从唐朝开始就已经闻名天下
- C、气候形成了成都市井文化中慢的特质
- D、产地的生活哲学塑造了酒文化的灵魂

40、保险是有限保险,不是无限保险,是有条件保险,不是无条件保险。保险不是万能的。没有哪一家保险公司号称自己是无限责任公司。但一些年来,在保险的宣传、广告等方面造成了很多误解。保险似乎成了无限保险,无条件保险。现在必须要以正视听,要把这个概念,把这种理念原原本本地告知社会,告知全体职工。在宣传上,在用词上一定要摆正承诺与兑现的关系,中国有句成语叫“一诺千金”,承诺了就必须兑现,否则就不要忽悠。这段文字强调的是:

- A、保险宣传不能为了招揽生意而忽悠公众
- B、保险是有限保险,有条件保险
- C、保险不是万能的
- D、保险公司应该做到“一诺千金”,及时兑现承诺

41、在过去几年里,中国的社交媒体一直被类似于“推特”网站的新浪微博统治,它创造了一个可以无拘无束公开辩论、催生社会变革,有时甚至还可以追究官员责任的网上空间。但是最近一段时期,微博已经被类似于“脸谱”交友网站的微信比下去了,微信允许用户在自行挑选的朋友圈内发送即时消息。从公开通信到半私密通信的转变,从根本上改变了中国6亿网民使用社交媒体的图景。

上段文字:

- A、强调中国社交媒体变化迅速
- B、说明微信对中国社交媒体的改变
- C、分析微博对公共生活的建设
- D、论述社交媒体对个人隐私的侵犯

42、①上佛来山,敬香不是主题,大多数游客至此,是来赏花的

②每年春天,围绕于佛来山山腰的梨花便千树万树了

③其道场是普贤菩萨,再加山势陡峭险峻,于是有了“与峨眉姐妹耳”

④清末,佛来山的黄皮梨就已经闻名

⑤唐时,佛来山就建庙礼佛

⑥佛来山的乡民,种梨已经有了几百年的历史

将以上6个句子重新排列,语序正确的是:

- A、⑤⑥②③④①
- B、⑤③①⑥④②
- C、⑥①⑤②③④
- D、①②⑥③④⑤

43、下列加下划线的成语,使用恰当的一项是:

- A、如何**扬长避短**利用新媒体特征引导大学生正确价值观的形成无疑是教育者的责任。
- B、我们不能因为近几年中国电影票房的节节攀升,就**妄自菲薄**地认为,我国的电影制作水平足以与美国好莱坞相抗衡了。
- C、在科技人员的共同努力下,产品的研发得到了长足的发展,产品的销量占据了全国的**半壁江山**,令同行刮目相看。
- D、南湖公园里,我们或坐在树下**谈笑自若**,或沿着湖边散步,对未来充满了美好的憧憬。

44、当前天气特热,持续大热,人人喊热。这种天气状况是否正常,其成因有多复杂?这些恐怕并非我等非专业人士所能说清道明的。作为非专业人士,人们最爱拿生活中熟悉的事情来打比方。在马路煎蛋、烤鱼景象,近几日已不是奇闻。热中作乐的人们甚至说:人和烤肉之间,只差一撮孜然;和扇贝之间,只差一头大蒜。

以上说法虽然都很夸张,但比较形象地说明了:

- A、今年夏天太阳的火辣程度
- B、人们的某种饮食习惯
- C、人们面对酷暑的乐观心态
- D、人们丰富的想象能力

45、以往的研究表明,精子或卵子向胚胎传递的DNA被认为是父母的遗传物质向子女传递的唯一途径。最近,美国科学家指出,父母给孩子的生物遗传不仅仅是DNA序列——我们的儿女、孙辈甚至重孙辈都可能遗传一种表观遗传信息。但与DNA序列不同,它是对环境做出反应。特定污染物——包括农药、飞机燃料甚至一些普通塑料都会引发可导致疾病或生殖问题的表观遗传信息的修饰,他们会明显地固定下来,并与可能带来的健康风险一起传递给下一代。

这段文字意在说明:

- A、以往研究表明,人类的遗传基因是稳定的
- B、表观遗传信息的变化具有偶然性
- C、DNA序列与表观遗传信息的差别
- D、环境污染可改变遗传基因

今日,有报道说,有些颜色极为亮丽的服装中含有荧光增白剂,会对人体健康存在危害。同时,国际食品包装协

会公布的调查报告显示，部分纸质餐具仍存在有荧光增白剂，多家知名方便品牌外包装仍然含有荧光增白剂。荧光增白剂到底是一种什么样的物质？它是一种具有亮白增艳作用的色彩调理剂。其作用原理是吸收不可见的紫外光，转换为波长较长的蓝色或紫色可见光，蓝色的光释放出来后，与物品发出的黄光进行叠加，互补形成白光，使物品发出的白光增强，人们肉眼可感觉到白色物品明显变得更白、更亮、更鲜艳。在纺织服装行业，纤维自身的白度往往达不到人们的要求，尤其是天然纤维如羊毛、蚕丝、棉花、麻等。由于环境与生长周期的差异，会轻微吸收可见光中的蓝光，从而造成蓝色不足，使白色的纤维看起来稍带黄色，给人以陈旧之感。为此，人们在洗涤剂中或纺织品整理过程中加入荧光增白剂，从而起到使衣服颜色更亮丽的目的。那么，荧光增白剂对人体到底有什么隐患呢？医学临床试验已经证明：荧光增白剂一旦进入人体，就不容易分解，毒性会在肝脏或其他主要脏器中积累，构成潜在的生物酶的致癌突变作用：最明显一点就是与伤口处的蛋白结合，不利于伤口愈合。值得欣慰的是，中华环保联合会环保技术标准研究专业委员会联合北京服装学院，目前正就荧光增白剂的安全隐患问题，开展相关标准的申请与制定，并提出建立生态环保体系标准，这将从根本上解决荧光增白剂的安全隐患问题。

回答 46-50 题：

46、根据文意，对第一段的解说不恰当的一项是：

- A、荧光增白剂制品在生活中应用广泛，人们有必要了解它的作用
- B、用具体事例说明荧光增白剂在生活中的危害，引起人们警醒
- C、为解除人们对荧光增白剂的疑惑，有必要用文章说明
- D、此选项缺失。

47、根据第二段的语意，下列判断不成立的一项是：

- A、不可见的紫外光可以通过转换波长，而变成蓝色或紫色的可见光
- B、蓝色的可见光与物品的黄色可见光叠加，会互补形成白光
- C、荧光增白剂是通过转换光波的长度而使物品亮白增艳的
- D、荧光增白剂并不能真正改变物品的颜色，只是肉眼的错觉而已

48、生活中，人们使用荧光增白剂的原因是：

- A、用于纺织服装行业的白纤维，自身的白度达不到人们的要求
- B、环境与纤维生长周期的差异，使天然白纤维有很大色差
- C、白色纤维吸收蓝光，使衣物看起来发黄，给人陈旧之感
- D、荧光增白剂能补充纤维中的可见光，使衣服颜色更加亮丽

49、荧光增白剂的危害是：

- A、进入人体内的荧光增白剂不易分解，储存下来有致癌风险
- B、紫外线会增强增白剂中致癌物质的形成
- C、荧光增白剂不会引起真核生物酶的变化
- D、荧光增白剂与伤口处的蛋白结合，无法使伤口愈合

50、为本文拟个题目，使之符合科普短文的特征：

- A、荧光增白剂的增白原理
- B、荧光增白剂的是与非
- C、我们身边的荧光增白剂
- D、荧光增白剂的安全问题初探

三、数量关系，共 10 题，本部分包括数字推理、数理计算。

51、1、2、2、4、8、32、（ ）。

- A、240
- B、248
- C、252
- D、256

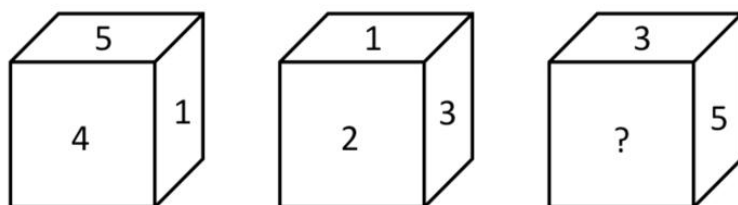
52、8、22、43、71、（ ）。

- A、105
- B、106
- C、109
- D、110

53、1、9、36、100、225、（ ）。

- A、360
- B、400
- C、441
- D、484

54、一个正方六面体上标有数字 1、2、3、4、5、6，根据下图，“？”处的数字为：



- A、1
- B、2
- C、4
- D、6

55、10 个连续偶数之和为 2030，则第一个偶数为：

- A、190
- B、192
- C、194
- D、196

56、某校有 58 名同学参加数学竞赛，已知将参赛人任意分成四组，则必有一组的女生多于 3 人，又知参赛者中任意 14 人中必有男生，则参赛男生的人数为：

- A、45
- B、46
- C、47
- D、48

57、哥哥 3 年后的年龄与弟弟 2 年前的年龄和是 29 岁，弟弟现在的年龄是两人年龄差的 3 倍。哥哥今年：

- A、13 岁
- B、14 岁
- C、15 岁
- D、16 岁

58、等边三角形边长减少为原来的 50%，面积减少了：

- A、75% B、60% C、55% D、50%

59、李老师是一个刻苦钻研业务的优秀数学老师，他经常引导学生要快乐地学习，善于融知识、乐趣于一体，启发学生思维。有一天他给全班同学出了这样一道题目：李老师在 1994 年的年龄比他出生那一年的年份的各位数字之和 6，请同学们算一下李老师在 1994 年是：

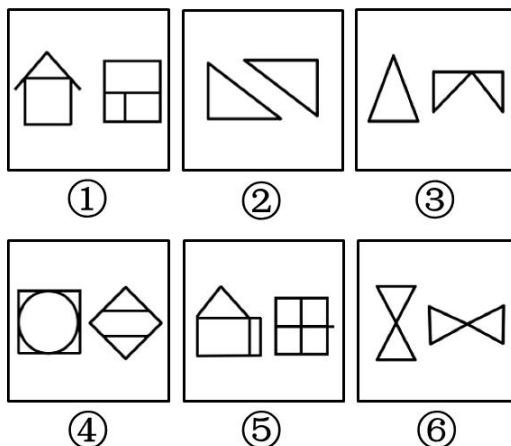
- A、29 岁 B、28 岁 C、27 岁 D、26 岁

60、某班期中考试和期末考试有四个人两次成绩都排前 4 名，已知有一名同学两次排名都一样，则这四个人期末排名有几种可能：

- A、4 B、6 C、8 D、10


四、判断推理，共 35 题，本部分包括图形推理、定义判断、类比推理、逻辑判断。

61、把下面的六个图形分为两类，使每一类图形都有各自的共同特征或规律，分类正确的一项是：



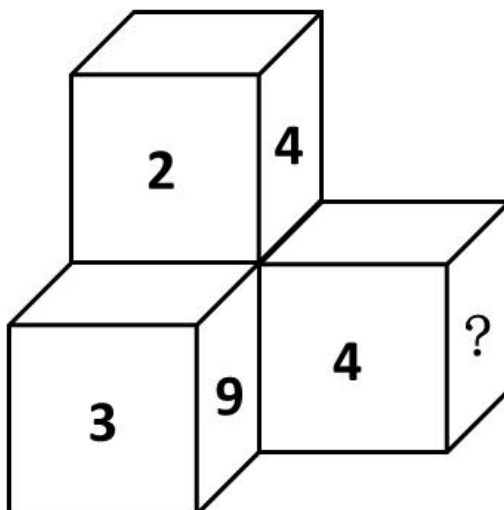
- A、①②⑤, ③④⑥ B、①④⑥, ②③⑤ C、①③④, ②⑤⑥ D、①④⑤, ②③⑥

62、把下面的六个图形分为两类，使每一类图形都有各自的共同特征或规律，分类正确的一项是：



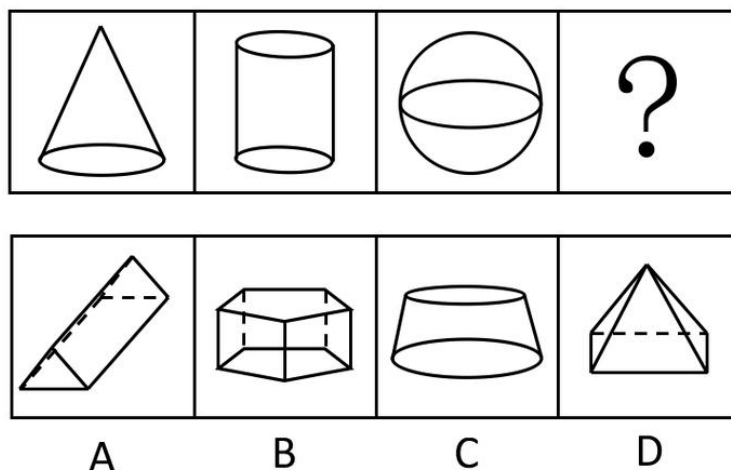
- A、①②④, ③⑤⑥ B、①②⑤, ③④⑥ C、①④⑥, ②③⑤ D、①③④, ②⑤⑥

63、从所给的四个选项中，选择最合适的一个填入问号处，使之呈现一定的规律性：

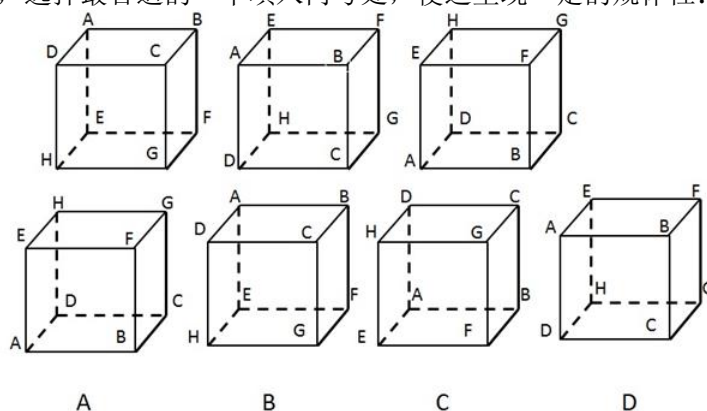


- A、4 B、6 C、8 D、16

64、从所给的四个选项中，选择最合适的一个填入问号处，使之呈现一定的规律性：



65、从所给的四个选项中，选择最合适的一个填入问号处，使之呈现一定的规律性：



66、硬盘：计算机

A、学院：大学 B、白马：马 C、打印纸：办公室 D、矿泉水：水

67、自然科学：社会科学：经济学

A、韩剧：美剧：国产剧 B、股票：基金：理财产品

C、民营银行：国有银行：建设银行 D、丝绸之路：海上丝绸之路：陆上丝绸之路

68、签订合同：一方违约：赔偿损失

A、受寒：感冒：吃药 B、看病难：医疗改革：城乡居民

C、宏观调控：通货膨胀：物价下跌 D、人口老龄化：单独二胎：计划生育

69、访问对于（ ），相当于（ ）对于房价调控

A、学者 股市 B、外交 限购 C、领导人 合作 D、交谈 征税

70、抄袭对于（ ），相当于（ ）对于诚信

A、复制 善良 B、创新 欺诈 C、临摹 腐败 D、创造 智慧

71、（1）与房主见面

（2）去中介了解房源

（3）要求支付违约金

（4）发现房主欺诈

（5）签订合同

A、（5）—（2）—（4）—（1）—（3） B、（5）—（1）—（2）—（4）—（3）

C、（2）—（1）—（4）—（5）—（3） D、（2）—（1）—（5）—（4）—（3）

72、将以下句子进行排序：

（1）变单一种植为多种经营

（2）农户喜建新居

（3）大白菜卖不掉

（4）出口创汇

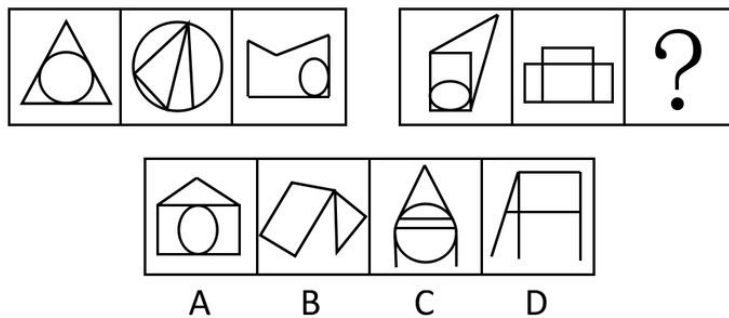
（5）改变投资方向

最为恰当的是：

A、（3）—（5）—（1）—（4）—（2） B、（3）—（1）—（5）—（2）—（4）

C、（5）—（3）—（1）—（4）—（2） D、（5）—（3）—（4）—（1）—（2）

73、从所给的四个选项中，选择最合适的一个填入问号处，使之呈现一定的规律性：

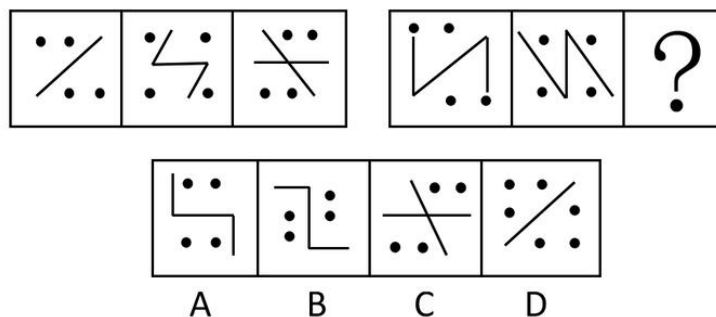


74、按时间先后将以下事件进行排序：

- (1) 发明指南针
- (2) 发现磁石可以吸起铁钉
- (3) 发现悬挂着的棍型磁铁总是朝向一个方向
- (4) 发明了电动机
- (5) 发现通电铁丝的周围可以产生磁场

- A、(4) — (1) — (2) — (3) — (5) B、(2) — (3) — (1) — (5) — (4)
C、(4) — (1) — (3) — (2) — (5) D、(2) — (3) — (5) — (1) — (4)

75、从所给的四个选项中，选择最合适的一个填入问号处，使之呈现一定的规律性：



76、适应，是指同一刺激物持续作用于感觉器官，引起该感觉器官对于这种刺激的感觉能力发生改变。根据上述定义，下列情形中不符合适应的概念是：

- A、把手放在热水中，起初觉得很热，不久热的感觉就减弱了
- B、身体某一部分疼痛时，咬紧嘴唇或者握紧拳头，会感到疼痛减轻一些
- C、在伸手不见五指的房间里，站一会就可以看见周围的实物
- D、走进一座花园，花香扑鼻，可很快就没什么感觉

77、社会救助，是指国家对于无生活收入来源的寡残孤独、遭受天灾人祸而使生活一时变得困难的家庭和个人、生活在国家规定最低贫困线以下的社会成员提供的生存保障制度。

根据上述定义，下列情形中属于社会救助的是：

- A、“希望工程”为上不起学的青少年提供帮助
- B、单位为从事危险工作的职工提供工伤保险
- C、为伤残军人提供抚恤金
- D、供养“五保”人员

78、不可抗力，是指非人力所能抗拒的力量，在当时条件下无法预见，或预见了但无法避免其发生。

根据上述定义，下列情形中属于不可抗力的是：

- A、王某和李某签订了服装加工合同，但王某没能按期交货，理由是因为搬迁厂房而耽误了，王某认为这是无法避免的
- B、一远洋货轮在航行中突遇海啸，货轮严重倾斜，船舱大量进水，许多货物被海水浸泡，造成了很大损失
- C、孙某因急事要过江，艄公开始怕雾大触礁，但又想自己在此多年行船，技术熟练，不会出事，于是同意了，结果船触礁沉没
- D、甲与乙签订收割机生产合同，乙私下转包给了丙，结果丙延期六个月交货，甲起诉乙违约，乙辩称不知丙技术不熟练

79、晕轮效应，是指对人的某些品质、特征形成了清晰鲜明的印象，掩盖了对其余品质、特征的知觉。

根据上述定义，下列情形中属于晕轮效应的是：

- A、当知名教授与学生争执不下时，人们总是相信教授是正确的
- B、社会对已经成名的科学家，不断地加给他们各种头衔和名誉
- C、人们认为广东人会做生意
- D、人们认为好学生在各方面都好

80、技术商品化，是指把技术转化为商品，技术作为一种特殊商品已进入贸易市场，同其他的商品一样，具有使用价值和价值。

根据上述定义，下列情形中不属于技术商品化的是：

- A、某公司研制的“傻瓜”汉字输入软件投入市场后,销售十分火爆
- B、五粮液集团最新调制的低度酒配方投产后,取得了极好的市场回报
- C、用美国的一项高新技术制造的手机,已使购买者在地球的任何一个角落都能收发信息
- D、某研究机构正在研究一种新的互联网技术,预计投产后将刷新同类产品的最高销售记录

81、道德绑架,是指以行善的名义,通过舆论压力胁迫他人履行一定行为或中止一定行为。

根据上述定义,下列情形中属于道德绑架的是:

- A、某主持人号召大家一起谴责在地震中没有捐款的大企业,直到他们答应捐款为止
- B、妈妈劝说自己的小女儿让座,劝了半天也没用,最后气得打了女儿一巴掌
- C、某乞丐谎称自己有一个病重却无钱医治的孩子,骗取了一位老太太的捐款
- D、甲经常打骂妻子,后来听到周围朋友说这是违法的,遂不情愿地停止了打骂行为

82、代理,是指代理人依据被代理人的委托,或根据法律规定、人民法院或有关单位的指定,以被代理人的名义,在代理权限内所实施的民事法律行为,这种行为所产生的法律后果直接由被代理人承担。

根据上述定义,下列情形中不属于代理的是:

- A、张荣与邻居对簿公堂,考虑到自己对于法律不太了解,张荣花钱请了一位律师,请他全权代表自己出庭打这场官司
- B、六年级的小学生明明在偷东西时被人发现,物主下手过重,导致其双腿骨折,明明父母立刻向法院起诉,要求对方给予赔偿
- C、某无业人员以为国内某名牌大学的分校招生为名,欺骗了许多学生家长,他在拿到大笔学费之后,卷起皮包溜了
- D、张某在服刑期间,其妻子由于受到同村人李某的辱骂而上吊自杀,张某十分气愤,要向法院起诉李某。于是地方法院指定了一名律师代他打这场官司。

83、激励过敏倾向,是指人们对激励做出反应,而不是对激励背后的目的做出反应。

根据上述定义,下列情形中不属于激励过敏倾向的是:

- A、在古罗马,当一座桥竣工通行时,工程师必须站在桥拱下,用以检验建得是否足够稳固
- B、河内的法国殖民政府曾经颁发过一条法令:人们每交出一只死老鼠,政府就给他们发钱。政府这样做本想消灭鼠患,但这条法令却导致人们养殖老鼠
- C、1947年,当死海的卷轴被发现时,考古学家们悬赏收集每一张新发现的羊皮纸手稿。结果,为了增加手稿数量,那些羊皮纸被撕碎了
- D、一家企业的董事会向管理层承诺,一旦实现一个目标就颁发一份特殊津贴。结果,经理们将更多的精力用来商定尽量多的目标,而不是思考如何让企业赚钱

84、单方允诺,是指表意人单方向向不特定的相对人作出的为自己设定某种义务,使相对人取得某种权利的意思表示。

根据上述定义,下列情形中属于单方允诺的是:

- A、公交公司承诺:六一儿童节,儿童可以免费乘车
- B、爸爸和儿子约定:如果下次考试进前五名,就给他买电脑
- C、某保险公司规定:保险条款一律由公司统一制定,参保人无权改动
- D、某照相馆承诺:造成顾客未冲洗的胶卷丢失的,按照同等胶卷价格进行赔偿

85、公共信息腐败,是指利用公权力左右公共信息的发布和公开,从而为私人或小团体获得利益的行为。

根据上述定义,下列情形中属于公共信息腐败的是:

- A、某黑客解密政府公共信息后在网络上贩卖盈利
- B、某民警利用工作之便调阅了仇人的所有户籍信息
- C、某法官把同事的私人照片发到网络上从而获利
- D、某网警受贿后删除了某企业在政府网站上的不良记录

86、从“阿拉伯之春”到“冰桶挑战”,互联网在许多事件中都是活动人士和组织者的有效工具。但最新数据显示,从总体上看,互联网却削弱而不是提高了人们的政治参与度。

以下哪项如果为真,最能支持上述结论:

- A、互联网让人们很容易只阅读自己认同的人发布的消息和观点
- B、每天多次登录社交媒体网站的人,在现实里与朋友交谈中,愿意就政治问题发表意见的概率与其他人相比会低一半
- C、研究人员调查了人们对斯诺登揭露政府监控项目一事的看法,结果持赞成和反对立场的美国人数量相当
- D、受教育程度较低的人,更有可能在网络上畅所欲言;而受教育程度较高的人,则更倾向于在网络上保持沉默,同时在家人或朋友中表达自己的观点

87、当前我国中小企业普遍面临着严重的生存困境,企业倒闭、企业主跑路的消息屡见于报端。与此同时,中小企业也开始了自救转型之路。要想自救转型成功,必须解决两个关键问题:一是进军电子商务,二是保护知识产权。不切实解决这两个问题,即使在创造自主品牌方面取得成功,中小企业也不可能自救转型成功。

由此可以推出:

- A、除非进军电子商务和保护知识产权,否则中小企业自救转型不能成功
- B、只要进军电子商务和保护知识产权,中小企业自救转型就能成功
- C、如果进军电子商务和保护知识产权,并且在创造自主品牌方面取得成功,中小企业自救转型就能成功

D、如果中小企业自救转型没有成功，说明既没有进军电子商务，也没有保护知识产权

88、每个人都有自主的时刻，也许转瞬即逝。但是一个成功者能在相当长的时间内继续这种自主性。他偶尔也会让步，甚至失败，但即使往后退却，他仍能坚持着自己最基本的信念。

如果上述陈述为真，则下列选项中一定为真的是：

- A、失败者从来都不会自主 B、成功者并非从未失败过
C、凡真正失败过的人都能获得成功 D、成功者永远都不会失去自主性

89、在一项实验中，实验对象的一半作为实验组，食用了大量的某种辣椒。而作为对照组的另一半没有吃这种辣椒。结果，实验组的认知能力比对照组差得多，这一结果是由于这种辣椒的一种成分——维生素 E 造成的。

以下哪项如果为真，最能支持上述结论：

- A、维生素 E 在所有蔬菜中都有，为了保证营养必须摄入一定量的维生素 E
B、实验组中人们所食用的辣椒数量是在政府食品条例规定的安全用量之内的
C、第二次实验时，只设实验组，而不设不食用辣椒的对照组
D、实验前两组实验对象是按认知能力均等划分的

90、人们在购买名牌产品时，实际上是花钱买身份。他们希望通过购买名牌产品“拉大旗作虎皮”抬高自己。所以，名牌产品的销售不应采取薄利多销的策略。

下列选项中最能支持上述结论的是：

- A、如今出手阔绰的购买者越来越少 B、保持名牌产品的销售额靠的是其“独一无二”的魅力
C、名牌产品的购买者对产品的质量要求更高 D、扩大市场范围有助于提高盈利

91、甲：“你不能再抽烟了，抽烟确实对你的健康非常不利。”

乙：“你错了，我这样抽烟已经 15 年了，但并没有患肺癌，上个月我才做的体检。”

有关上述对话，以下哪项如果为真，最能支持甲的意见：

- A、对健康的危害不仅指患肺癌或者其他明显疾病还包括潜在的影响
B、如果不断抽烟，那么烟瘾将越来越大，以后更难以戒除了
C、抽烟不仅影响自己的健康，而且还污染周围的环境
D、与名牌的优质烟相比，冒牌劣质烟对健康的危害更甚

92、哥白尼的“日心说”与当时的宗教思想、占据统治地位的亚里士多德物理学以及人们的“常识”均相抵触，一开始遭到许多人的反对，直到牛顿发现万有引力定律之后，才逐步被天文学家们承认。

由此不能推出的是：

- A、亚里士多德的物理学并不“科学” B、牛顿的发现支持哥白尼的观点
C、当时的宗教思想将太阳看得神圣无比 D、人们曾经认为“太阳围着地球转”

93、甲说“国产电影的春天来了。”乙说：“不一定。”

以下选项中最符合乙的原意的是：

- A、国产电影的春天可能来了 B、国产电影的春天可能没来
C、国产电影的春天必然来了 D、国产电影的春天必然没来

94、笔迹，广义上讲，是运用各种工具在已定界面上书写的带有文字规范限制的痕迹。狭义上讲，就是指在自然状态下由书写人留在纸张上的带有文字规范限制的书写痕迹。因为书写者的性格和心理特性是不同的，由此可以推测，研究人的笔迹可以分析书写者的性格特点和心理状态。

以下哪项如果为真，最能支持上述推测：

- A、不同笔迹的连笔程度和笔画结构是不同的
B、近代以来，很多先进的理论和仪器被用来进行笔迹鉴定
C、据调查，现在很多公司在招聘员工时加入笔迹分析这一项
D、书写的压力、笔画结构和字体大小等能反映出人的自我意识和对外部世界的态度

95、某单位提出节能减排的 A B C 三种方案，其中开车上班的员工都选择了 C 方案，坐地铁上班的员工都选择了 B 方案，坐公交车上班的员工没人选择了 C 方案，坐地铁的员工都还没有驾照，王先生坐公交上班同时也没有驾照。

由此可以推出：

- A、王先生选择了 B 方案 B、选择了 B 方案的员工都没有驾照
C、坐公交车上班且选择了 A 方案的都有驾照 D、坐公交车上班的员工有可能都选了 A 方案

五、资料分析，共 15 题，所给出的材料均有多个问题，根据资料所提供的信息进行分析、比较、计算和判断处理。

（一）

根据下面资料回答 96~100 题：

截至到 2012 年底，中国电子商务市场交易规模达 7.85 万亿，同比增长 30.83%。其中，B2B 电子商务交易额达到 6.25 万亿，同比增长 27%，相较 2011 年下滑两个百分点，网络零售市场交易规模达 13205 亿元，同比增长 64.7%，占社会消费品零售总额的 6.3%。中国电子商务市场交易规模按地区排在前十的省份（含直辖市）依次为：浙江省、广东省、上海市、北京市、江苏省、山东省、四川省、河北省、河南省、福建省。2012 年中国电子商务城市十强榜单发布，北京以总分最高分位居第一，接下来前十名的城市依次为上海、杭州、广州、深圳、

南京、重庆、成都、厦门、宁波。排在前十名的行业依次为：服装鞋帽、纺织化纤、农林畜牧、数码家电、机械设备、化工塑料、食品糖酒、建筑建材、五金工具、医疗医药。

截至到 2012 年 12 月，我国 B2B 电子商务服务企业达 11350 家，同比增长 8%，相较 2011 年下降了 6 个百分点。2012 年中国 B2B 电子商务服务商的营业收入为 160 亿元，同比增长 23%，其中阿里巴巴营业收入继续排名首位，占 B2B 电子商务服务商的营业收入的 45%。而环球资源，我的钢铁网、慧聪网、中国制造网、环球市场网、网盛生意宝分别位列二至七位。

截至 2012 年 12 月，B2C 网络零售市场交易排名第一的依旧是天猫商城，占了 52.1%，京东商城名列第二，占 22.3%；位于第三位的是苏宁易购达到 3.6%，排名 4~10 位的依次为：腾讯 B2C (3.3%)、凡客诚品 (2.7%)、亚马逊中国 (2.3%)、库巴网 (1.4%)、当当网 (1.2%)、易迅网 (0.6%)、新蛋中国 (0.3%)。

根据上述资料回答下列问题：

96、2011 年底，B2B 电子商务交易额与上年同期相比：

A、增长 25% B、增长 27% C、增长 29% D、增长 65%

97、电子商务市场交易规模排在第二位的省份，2012 年进入电子商务十强的城市有：

A、1 个 B、2 个 C、3 个 D、4 个

98、与上年相比，2012 年底每家 B2B 企业交易额：

A、增长 5.6% B、增长 17.6% C、减少 117.6% D、减少 5.6%

99、2012 年 12 月，B2C 网络零售市场交易排名前三的合计占 B2C 网络零售市场交易的比重为：

A、3.6% B、22.3% C、52.1% D、78%

100、有关 2012 年数据，以下说法正确的是：

A、占 B2B 电子商务服务商的营业收入比重第二位的是我国的钢铁网

B、电子商务市场交易规模按行业分排在第三位的是数码家电

C、B2C 网络零售市场交易排名第五位的是亚马逊中国

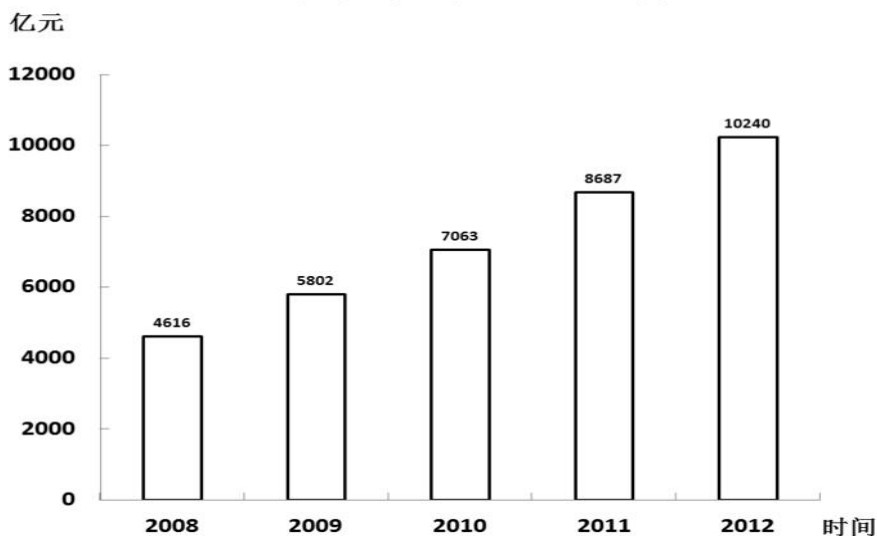
D、中国电子商务城市十强榜单单排在第六位的是南京

(二)

根据下面资料回答 101~105 题：

2012 年全国国内生产总值 519322 亿元，比上年增长 7.8%，研究与试验发展 (R&D) 经费支出 10240 亿元，比上年增长 17.9%，占国内生产总值的 1.9%，其中基础研究经费 498 亿元。全年受理境内外专利申请 205.1 万件，其中境内申请 188.6 万件，占 91.9%。受理境内外发明专利申请 65.3 万件，其中境内申请 52.3 万件，占 80.1%。全年授予专利权 125.5 万件，其中境内授权 114.4 万件，占 91.1%。授予发明专利权 21.7 万件，其中境内授权 13.7 万件，占 63.2%。截至年底，有效专利 350.9 万件，其中境内有效专利 289.9 万件，占 82.6%；有效发明专利 87.5 万件，其中境内有效发明专利 43.5 万件，占 49.7%。全年共签订技术合同 28.2 万项，技术合同成交金额 6437.1 亿元，比上年增长 35.1%。全年成功发射卫星 19 次，神舟九号载人飞船与天宫一号目标飞行器顺利实现首次空间交会对接，北斗二号卫星导航系统完成区域组网并正式运行服务，蛟龙号载人深潜器海试成功突破 7000 米。

2008—2012 年研究与实验发展 (R&D) 经费支出



101、资料显示，2012 年研究与试验发展 (R&D) 经费支出增长率比国内生产总值增长率高：

A、10 个百分点 B、10.1 个百分点 C、11 个百分点 D、11.1 个百分点

102、2012 年与 2008 年相比，研究与试验发展 (R&D) 经费支出增加：

A、5264 亿元 B、5462 亿元 C、5624 亿元 D、6254 亿元

103、截至 2012 年底，在有效专利 350.9 万件中境内与境外有效专利相比：

A、前者比例大于后者 B、前者比例小于后者 C、前者与后者比例相同 D、前者比例与后者相差很小

104、2012 年全年成功发射卫星：

A、10 次 B、13 次 C、16 次 D、19 次

105、上述资料表明：

- A、2012 年授予发明专利权 13.7 万件
 B、2008—2012 年间研究与试验发展（R&D）经费支出呈递增趋势
 C、2012 年有效发明专利中境内有效发明专利占绝大比例
 D、蛟龙号载人深潜器海试成功突破 8000 米

（三）

根据下面资料回答 106~110 题：

2011 年的数据显示，我国 65 周岁及以上人口 12288 万人，占总人口的 9.1%，比上年提高 0.2 个百分点，而 15~59 周岁劳动年龄人口 100283 万人，占总人口的 74.7%，比上年末下降 0.1 个百分点，老年人口抚养比达到 12.3%，较 2001 年提高 2.2 个百分点。

从地方数据看，2011 年全国共计有 24 个地区已经达到老龄化社会的标准（65 周岁及以上的人口占总人口比重超过 7%），重庆、四川、江苏等 8 个地区 65 周岁及以上的老年人占总人口比重超过 10%，其中重庆老年人占比最高达 12.42%，其抚养权比达到 17.36%，相当于近 6 个劳动力养一位老人。

2011 年全国各地老年人口抚养比情况

地区	老年人口抚养比(%)	地区	老年人口抚养比(%)
北京	10.70	湖北	13.38
天津	12.27	湖南	14.63
河北	11.00	广东	8.60
山西	10.21	广西	13.93
内蒙古	8.67	海南	9.40
辽宁	13.84	重庆	17.36
吉林	11.07	四川	16.77
黑龙江	9.96	贵州	13.64
上海	9.39	云南	10.56
江苏	14.20	西藏	6.71
浙江	19.87	陕西	11.10
安徽	14.65	甘肃	12.00
福建	10.02	青海	8.06
江西	10.75	宁夏	7.44
山东	14.59	新疆	9.00
河南	12.49		

注：此表中的老年人口指 65 周岁及 65 周岁以上的人口

106、2001 年我国老年人口抚养比达到：

- A、2.2% B、10.1% C、10.2% D、12.3%

107、2011 年福建省抚养一位老人需要近：

- A、10 个劳动力 B、12 个劳动力 C、14 个劳动力 D、16 个劳动力

108、2011 年全国各地区中，老年人口抚养比最低的是：

- A、宁夏 B、新疆 C、青海 D、西藏

109、2010 年，我国老年人占总人口的比重为：

- A、9.1% B、9.0% C、8.9% D、8.8%

110、下列表述正确的是：

- A、2011 年，全国各地区中重庆老年人口占总人口比重最低
 B、2001 年，四川 65 周岁及以上老年人口占总人口的比重不到 10%
 C、老年人口抚养比提高意味着抚养一个老年人的劳动力在不断减少
 D、2011 年，15~59 周岁劳动年龄人口占总人口的比重较 2010 年有所提高

微信扫一扫二维码，关注“公务员考试网”，获取更多公考经验。分享公考经验，还可获得现金奖励哈

手淘扫描淘宝店铺，可以购买省考、国考历年真题哦



微信公众号



淘宝店铺