

2003 年下半年广东省公务员考试《行测》真题

第一部分数量关系

(共 15 题，参考时限 15 分钟)

本部分包括两种类型的试题：

一、**数字推理**：共 5 题，每题给你一个数列，但其中缺少一项，要求你仔细观察数列的排列规律，然后从四个供选择的选项中选出你认为最合理的一项来填补空缺项。

[例题]1 2 4 8 16 ()

A. 32 B. 24 C. 64 D. 20

解答：正确答案是 A，原数列是一个等比数列，公比为 2，故应选 A。

请开始答题：

1. 2 6 13 24 41 ()

A. 68 B. 54 C. 47 D. 58

2. 2 1 5 11 111 ()

A. 1982 B. 1678 C. 1111 D. 2443

3. 3 10 21 35 51 ()

A. 59 B. 66 C. 68 D. 72

4. $1/4$ $2/5$ $5/7$ 1 $17/14$ ()

A. $25/17$ B. $26/17$ C. $25/19$ D. $26/19$

5. 1. 01 1. 02 2. 03 3. 05 5. 08 ()

A. 8. 13 B. 8. 013 C. 7. 12 D. 7. 012

二、**数学运算**：共 10 题，你可以在草稿纸上运算。遇到难题，可以跳过暂时不做，待有时间再返回来解决它。

[例题] $88 \times 87 - 89 \times 86 = ?$

A. 1 B. 2 C. 3 D. 4

解答：正确答案为 B。实际上你只要用最后一位运算一下，就会发现最后一位数是 2，只有 B 符合要求。就是说你应当动脑筋想出解题的捷径。

6. 何老师带领一班学生去种树，学生恰好被平分为 4 个小组，总共种树 667 棵，如果师生每人种数的棵数一样多，那么这个班共有学生多少人？

A. 28 B. 36 C. 22 D. 24

7. A 车时速为 20 公里，B 车的时速比 A 车时速的 1.8 倍少 5 公里，B 车时速是多少？

A. 34 B. 31 C. 29 D. 30

8. 绝对值为 5 的数减去 10 的值为：

A. -5, -15 B. 5, -15 C. -5, 15 D. 5, 10

9. 从装满 100 克浓度为 80% 的盐水中倒出 40 克盐水再倒入清水将杯倒满，这样反复三次后，杯中盐水的浓度是：

A. 17. 28% B. 28. 8% C. 11. 52% D. 48%

10. 一部影片在 4 个单位轮映，每一单位放映一场，有几种轮映次序？

A. 6 B. 12 C. 24 D. 48

11. 某运动员跳高成绩为 2.3 米，跳远成绩是其跳高成绩 2.5 倍的 80%，则跳远成绩是：

A. 4. 2 米 B. 4. 5 米 C. 4. 6 米 D. 4. 8 米

12. 办一次聚会准备邀请 130 个客人，平均每个 3 个要花 100 块钱，则至少要有多少经费？

A. 4000 B. 4230 C. 4300 D. 4400

13. 一列快车和一列慢车相向而行，其中快车的车长 200 米，慢车的车长 250 米，坐在慢车上的旅客看到快车驶过其所在窗口的时间是 6 秒钟，坐在快车上的旅客看到慢车驶过其所在窗口的时间是几秒？

- A. 7.5 秒钟 B. 7 秒钟 C. 6.5 秒钟 D. 6 秒钟

14. 一个学校在新学年招收了 120 名学生而使在校生总数增加了 15%，新学年在校生总数为多少？

- A. 1 058 B. 920 C. 800 D. 782

15. 小平在骑旋转木马时说：“在我前面骑木马的人数的 $\frac{1}{3}$ 加上在我后面骑木马的人数的 $\frac{3}{4}$ ，正好是所有骑木马的小朋友的总人数。”请问一共有多少小朋友在骑旋转木马？

- A. 11 B. 12 C. 13 D. 14

第二部分 言语理解与表达

(共 30 题，参考时限 25 分钟)

本部分包括三种类型的题目：

一、选词填空：共 10 题，要求你从所给的四个选项中选出一个填空，使句子的意思表达得最准确。

【例题】天山绵延几千里，无论高山、深谷，无论草原、森林，无论溪流、湖泊，处处有丰饶的物产，处处有——的美景。

- A. 美丽 B. 绮丽 C. 艳丽 D. 绚丽

解答：用“绮丽”使句子的意思表达的最连贯、最准确，故正确答案为 B。

请开始答题：

16. 正式报刊所持有的国内统一刊号，是国家赋予出版单位专有出版权的()。

- A. 标志 B. 号码 C. 代号 D. 象征

17. 改革开放以来，广东农村突破了()的农业生产结构，为劳动力转向创造了条件。

- A. 单调 B. 单一 C. 唯一 D. 单独

18. 我们必须高度重视外贸工作，在()国内市场新的增长点的同时，重视出口带动经济增长的作用。

- A. 罐加 B. 培养 C. 培育 D. 培植

19. 如果你能()地替小芳想一想，就不会对他这样求全责备了。

- A. 身临其境 B. 设身处地 C. 心甘情愿 D. 认认真真

20. 社会主义应当吸收人类文明发展的一切()成果。

- A. 先进 B. 优异 C. 优良 D. 优秀

21. ()一个人，首先要看他的思想道德水平，其次要看他的文化和其他各方面的素质。

- A. 评价 B. 评论 C. 估计 D. 评估

22. 把基于“国际规则”作为判别不公平贸易的标准，其意义是非常重大的。凡是()国际规则的行为均属于不公平贸易行为。

- A. 违反 B. 违犯 C. 触犯 D. 背离

23. 一名受“法轮功”邪教毒害的()者，亲手杀害了深爱着他的父亲和妻子，将养育他成人的母亲砍成重伤，其手段之()，令人发指。

- A. 痴迷 残忍 B. 执迷 残忍 C. 痴迷 暴虐 D. 执迷 暴虐

24. 这几天我()接到一些莫名其妙的电子邮件。

- A. 常常 B. 往往 C. 突然 D. 及时

25. 这篇小说的构思既精巧又严密，真是()。

- A. 无可非议 B. 无懈可击 C. 回味无穷 D. 不可思议

二、语言表达：共 10 题，要求你从语气、词序、语法结构等方面对有关语句做出判断。

【例题】下列句子没有语病的一句是：()

- A. 阅读与理解，是衡量阅读能力好坏的重要标志。
B. 阅读理解与否，是衡量阅读能力好坏的重要标志。
C. 阅读是否理解，是衡量阅读能力的重要标志。

D. 阅读能力好坏的标志是理解。

解答：该题的正确答案是 B。

请开始答题：

26. 下列有语病的一句是：

- A. 这一方案已经在请专家评审通过。
- B. 一般的公文处理需要十余道程序。
- C. 加快民族地区的经济发展应提到重要议事日程上来。
- D. 无论天晴还是天阴，他都要习惯性地穿上那件旧衬衫。

27. 下列没有语病的一句是：

- A. 地震所产生的冲击波影响到附近很远的地方。
- B. 我们北部山区蕴藏的这种矿产确实是十分丰富的，但如今都在睡眠着。
- C. 他对别的事不太了解，对学生却很有理解。
- D. 坚持原则是对每个政府工作人员的基本要求。

28. 下面有语病的句子是：

- A. 造成环境污染的事实深刻教育了人们。
- B. 电影《地雷战》是一部反映抗战时期中的故事片。
- C. 疾病折磨不倒英雄坚强的意志。
- D. 经不起考验的往往是平时表现最坚强的。

29. 下面没有语病的句子是：

- A. 怎么？他到现在还没拿定主意学历史或者学地理。
- B. 他在工作中犯了这么大的错误不是偶然的。
- C. 广东农村正在掀起了科学种田的新高潮。
- D. 我国向太平洋预定海域发射的首枚运载火箭圆满成功。

30. 下面没有语病的句子是：

- A. 医药必须遵守和发扬中医的优良传统。
- B. 我们应该继承和发扬中华民族的传统美德。
- C. 我们是否取得胜利的关键在于了解对方的实力。
- D. 在世界上正面临着自 20 世纪 50 年代以来出现的第二次环境浪潮。

31. 下面没有语病的句子是：

- A. 同时要守住两个路口，对他来说是不可能的。
- B. 当他进屋打开灯时，外面渐渐下起了小雨。
- C. 平心而论，谁都无法完全克制自己的缺点。
- D. 在判断一个事物的发展过程时，要学会一分为二。

32. 下列没有歧义的一句是：

- A. 通过刻苦努力，小宋这次考试五门功课平均都在 90 分以上。
- B. 老王对老李说，他的儿子发表了一篇文章。
- C. 这位英雄的父亲所作的报告很精彩。
- D. 咱们俩初次见面的光景，至今我都还记得。

33. 下列没有歧义的一句是：

- A. 姐姐借了我三百元钱。
- B. 老孙告诉她，她的孩子住院了。
- C. 成功和失败是处于矛盾对立地位的，并且可以互相转化。
- D. 父亲告诉儿子，他的工作受到了表扬。

34. 下列新闻标题中语意明确的一句是：

- A. 政府有关部门明令禁止取缔药品交易市场。
- B. 真正优秀的教师无一不是道德修养的模范。
- C. 独联体国家看不上 2002 年世界杯足球赛。

D. 警方对报案人称围观者坐视不管表示愤慨。

35. 下面有歧义的句子是：

A. 中国国际广播电台是我国对外广播事业的一块阵地。

B. 海水淡化是多年来人们一直十分关注的问题。

C. 只有充分发动人民群众，才能搞好工作。

D. 伟伟和玲玲的爸爸到学校里来了。

三、阅读理解：共 10 题，每道题包含一段短文，短文后面是一个不完整的陈述，要求你从四个选项中选出一项来完成这一陈述。注意：供选择的答案有时可能是对短文内容的一个，复述，有时则满足了陈述中其他方面的要求，你的选择应与所提要求最相符合。

【例题】板块的边界并不就是海陆的边界，大部分板块既有陆地又有海洋。作为板块边界的活动构造带，有裂谷、俯冲带、碰撞带这三种类型。大洋中绵延数万千米的大洋中脊，中间就是裂谷，地幔物质从这里流出，形成新的洋底岩石并把两边的板块不断推向两侧，裂谷是洋底的诞生地。某些陆上裂谷(如东非裂谷)可能会产生新的海洋。与裂谷相反，位于大洋边缘的海沟是海洋板块的消亡带。洋底岩石圈在这里俯冲到大陆岩石圈之下，并潜入软流圈而消失。

另外，如果边界两边都是陆地，这就成为碰撞带。随着碰撞角度的不同，这里或因挤压而隆起成高山，或因剪切而形成断层，或者兼而有之。

板块构造说是大陆漂移说和海底扩张说的合理引申。大陆的漂移是板块移动的表现之一。板块运动是地震、火山等事件及岛弧、陆缘山、海沟等地形特征的形成原因。

①大陆漂移是板块移动的表现之一，从全文看，这句话是说()。

A. 板块移动是大陆漂移的动力

B. 板块移动表现为大陆漂移

C. 板块移动和大陆漂移的本质是相同的

D. 板块移动造成了大陆漂移

②下列判断与文意相符合的一项是()。

A. 板块运动的形式有三种：碰撞、俯冲和裂谷

B. 板块边界的碰撞或俯冲，和裂谷的情形相反

C. 裂谷位于海洋中或海洋与陆地的交接处

D. 碰撞带和俯冲带位于大洋边缘或陆地之上

解答：题①的答案是 D；题②的答案是 B。

请开始答题：

36. 发出“通知”整治不正之风很有必要。但关键是令出法随，“通知”算数。算数的通知，有一道就够了。现在之所以发了一道又一道，有事物不断发展，条文需要不断完善的因素，有体制不顺，机制不合理的因素，但最根本的是执行时不够“硬”。所以，落实“通知”必须严格，谁违反就坚决追究，毫不手软。“硬”得不够势必会有“三令五申”，而三令五申毕竟不是理想的办法。

这段话主要支持的观点是：

A. 不抓“通知”的落实等于没有通知。

B. 要减少不必要的通知。

C. 通知能否落实关键看通知内容是否合理。

D. 通知不能很好落实的原因有很多。

37. 中西方历史文化不同，在取名和用名上有很大差异性。就数量来说，西方人名总的来说比中国人少。现在英美国家可供选择的字只有 1 000 多条，中国人普遍采用的名字有 4 000 多个。在名字的选择上，西方人比中国人受到更大的限制。

这段话直接支持了这样一种观点，即：

A. 由于历史不同，中西方在取名和用名上有很大差异。

B. 由于名字数量的差异，在名字的选择上，西方人比中国人更受限制。

C. 就名字数量来说西方人比中国人少。

D. 中西方在取名和用名上的差异主要表现在名字的数量上。

38. 无论是发达国家，还是发展中国家，其幼稚工业或成熟工业一旦被政府所“保护”，就会形成新的既得利益团体，从而对政府产生新的压力，迫使其进一步实施“保护”，使暂时的保护演变为永久的保护。

对上面这段话的理解不正确的一项是：

- A. 受政府“保护”的既可能是幼稚工业，也可能是成熟工业。
- B. 受政府“保护”的结果是形成了新的既得利益集团。
- C. 政府的“保护”会由暂时演变为永久。
- D. 政府的“保护”能对工业发展产生促进作用。

39. 农村工业化和城市化的同步发展，将从根本上解决不发达地区农村剩余劳动力转移问题。近十多年的经济发展进程表明，农业发展和流入城市的农民所积累的资金，是乡镇企业启动资金的主要来源。乡镇企业的发展使位置优越、交通便利的城镇规模不断扩大，从而使农村的小镇逐步发展成为小城市，进而发展成为中等城市。城市化步伐的加快又进一步促进乡镇企业的发展。如此相辅相成，为我国农村工业化、乡村城镇化铺平了道路。

最能准确复述这段短文内容的是：

- A. 乡镇企业的发展带动了乡村城镇化。
- B. 农村工业化和城市化是解决农村问题的重要举措。
- C. 城市化步伐的加快将促进乡镇企业的进一步发展。
- D. 应当坚持农村工业化和城市化的同步发展。

40. 调查报告，不是单纯写的问题，调查研究工作没有做好，用什么样的办法也写不出好的调查报告。

这段话支持了这样一种观点：

- A. 调查研究工作比写调查报告更重要。
- B. 调查研究工作是写好调查报告的前提。
- C. 调查报告不是一个单纯的写作问题。
- D. 调查报告写不好的人，调查研究工作也做不好。

41. 一位领导者的影响作用是整体性的。也就是说，职权影响力和个人影响力在领导过程中，总是相互联系相互交织地发挥作用的。对领导者来说，为了实现领导，必须有一定的职位权力，才能借以推进他所负责的工作。但是，如果领导者只凭职位权力去推进工作，甚至滥用权力，以权压人，事情肯定是办不好的。

这段话主要支持了这样一种论点，即：

- A. 对领导者来说，做好领导工作靠的不是职权影响力，而是个人影响力。
- B. 对领导者来说，发号施令，滥用权力，以权压人，往往做不好领导工作。
- C. 对领导者来说，为了实现领导，有一定的职位权力是最重要的。
- D. 对领导者来说，将职权影响力和个人影响力综合起来加以运用，才能提高领导效能。

阅读下面的文字，完成 42—45 题。

提高国民的科学素质的关键在于加强公众对科学的理解，公众理解科学，包括对科学知识的理解，对科学活动的理解，对科学与社会关系的理解，其核心是对科学精神的理解。把科学精神注入民族文化是当代科普工作者的神圣使命。

表面上看，科学精神难以像科学知识那样容易普及。的确，能够把归纳出来的科学精神分成条目背下来，并不等于已经具备了科学精神，而恰恰是违背科学精神的。科学精神只能通过科学活动来体现。弘扬科学精神与全面促进公众对科学的理解是统一的。

一般情况下，人们常常把科学与技术联系起来，这使得人们更多地从实用的角度理解科学，认为科学的意义只在于孕育新的技术，从而忽略了科学的文化意义和精神价值。这是对科学的误解。

同样，我们也把科普理解为具体的科学知识的普及，而较少谈及科学方法和科学精神。有些人认为，掌握了科学知识就会获得科学的方法，也就具备了科学的精神。然而，掌握了具体的科学知识并不意味着能够运用科学方法，更不等同于具有了科学精神。甚至有些科学家也没

有科学精神。科学家可能是本专业的专家，但是对于科学活动的整体，对于科学与社会的关系，未必了解。因此，全面提高公众的科学素质，也包括科学家的科学素质。这个命题并不矛盾。许多高级科学技术专家不能识别伪科学，就是科学素质不高的表现。也有些科学家，比如纳粹的毒气专家，他们的专业能力也许是一流的，但是他们的所作所为却是科学精神所不容的。

科学知识的普及不仅不能等同于科学精神的传播，相反，不恰当的科学普及反而会损害科学精神，使公众加深对科学的误解。比如传统科普常常把科学神化，盲目认为科学技术所导致的社会后果必然是好的，对科学技术所产生的负面效应避而不谈，或者把它当作偶然的技术上的失误。科学精神的一个重要部分是怀疑精神，科学本身也可以是怀疑的对象。科学知识之所以值得信赖，并不是因为它是绝对真理，而是因为它是每个人都可以亲自验证的。对科学本身提出质疑正是科学自身的要求。只有正视科学所带来的种种负面效应，才能更好地用科学建设人类的未来。

42. 对文意的理解，正确的一项是：

- A. 这里所说的“科学”包括自然科学、社会科学和作为对二者总结的哲学。
- B. 科学素质的高低取决于科学知识的多少和理解的深浅。
- C. 这里所说的“国民”就是指“公众”，他们是相对于“科学家”而言的人民大众。
- D. “提高国民的科学素质”就是要让公众理解科学，树立科学精神。

43. 对“科学精神”的理解，正确的一项是：

- A. 科学精神与科学知识存在着难与易的关系，树立科学精神是科学学习的最高要求。
- B. 科学精神不能用归纳的方法分成若干条目，它体现在科学知识和科学普及之中。
- C. 科学精神是指掌握了科学知识并能够运用科学方法。
- D. 科学精神中包含着社会正义和良知，纳粹毒气专家不具备科学精神。

44. 下列理解符合文意的一项是：

- A. 把科学和技术联系起来，就是人们所说的科技，它缩小了科学的内涵和意义。
- B. 科学知识、科学方法和科学精神相互沟通，相互依存。
- C. 科学愈发达，带来的负面效应也就愈多。
- D. 科学普及不仅不能等同于科学精神的传播，而且还会损害科学精神。

45. 根据本文提供的信息，以下推断正确的一项是：

- A. 任何人，包括高级科学技术专家都必须不断提高科学素质，树立科学精神。
- B. 一度时期伪科学流行，要识别伪科学，就要努力学习和掌握真正的科学知识。
- C. 科学家的专业能力与科学精神可能存在矛盾，今后必须打破学科界限，淡化专业分工。
- D. 现代科学普及应在传统科学普及的基础上，进一步把弘扬科学精神作为科普工作的核心任务。

第三部分判断推理

(共 40 题，参考时限 30 分钟)

本部分包括四种类型的题目：

一、**类比推题**：共 10 题，每题选择一对词语，这对词语的关系与给定的一对词语间的关系最相似。

【例题】义工：职员

- A. 球迷：球员
- B. 学生：老师
- C. 志愿者：雇员
- D. 初学者：生手

解答：此题的正确答案为 C。

请开始答题：

46. 电子：原子

- A. 电影：明星
- B. 气流：冰箱
- C. 地球：宇宙
- D. 瑶池：玉液

47. 贫穷：富裕

- A. 着急：刚硬
- B. 决策：拍板
- C. 敏捷：迟钝
- D. 革命：改良

48. 手枪：死亡

- A. 枪柄：扳机 B. 书：作者 C. 雨伞：雨 D. 太阳：热度
49. 生命：年轻()
- A. 出生：死亡 B. 足球：半决赛 C. 日出：日落 D. 书页：书
50. 驾驶员：交通标志()
- A. 词汇：信件 B. 灯塔：信号 C. 语言：外国的 D. 读者：标点符号
51. 码尺：度量()
- A. 深度：宽度 B. 画家：画笔 C. 照相机：放大机 D. 铅笔：书写
52. 食物：饥饿()
- A. 衣服：暴露 B. 问题：回答 C. 学生：学校 D. 门：门扭
53. 暖和：炎热()
- A. 贵的：昂贵的 B. 不规则：规则 C. 简单：平凡 D. 僻静的：偏僻的
54. 丰富：贫乏()
- A. 增殖：复数 B. 冗余：两倍 C. 假日：节日 D. 充足：稀少
55. 身体：放松()
- A. 睡觉：催眠 B. 奔跑者：疲劳 C. 绳子：松弛 D. 关节：肌肉

二、常识判断：共 10 题，回答问题时要依据常识做出判断。请注意，似乎合理的答案可能有多种，但你应选择最为合理的一个。

【例题】尽管我们关于太阳能的研究和议论已经相当多，但今天对太阳能的利用还是非常有限的。其主要原因是：

- A. 尚未开发出有效的收集和储存太阳能的系统 B. 难以将阳光有效的聚焦
- C. 核能仍然更为有效 D. 太阳能系统尚不安全

解答：关于太阳能的利用可能很多人没有系统的知识，但是仔细考察四个选项，你可依据常识看出 B、C、D 三个理由都过分具体且不应成为不能充分利用太阳能的足够理由，只有 A 选项所说的原因概括性高、更为全面，故正确答案为 A。

请开始答题：

56. 尽管白天阳光有时不能照到房间里，但房间里仍然很亮，其主要原因是：

- A. 光的衍射 B. 光的反射 C. 光的折射 D. 光的散射

57. 在一些嘈杂的场所，经常看到一些用玻璃制作的电话间，其隔音效果很好，这是因为：

- A. 声音在玻璃中不能传播
- B. 电话间内的声音传播介质——空气太少了
- C. 电话间内打电话者与电话间外人群的声音被玻璃反射了
- D. 电话间内打电话者与电话间外人群的声音被玻璃吸收了

58. 农业科技人员向农民建议，在利用温室生产时，可向温室里施放适量的二氧化碳

(C O 2)，这是因为：

- A. CO₂ 可使害虫窒息死亡，从而有效防止植物的病虫害
- B. 植物的光合作用需要 CO₂，使用 CO₂ 可促进光合作用
- C. CO₂ 可产生温室气体，使温室里的温度升高
- D. CO₂ 可灭火，施用 CO₂ 可避免火灾

59. 最近我国在一些小学积极推广使用废旧报纸制作的铅笔，此举的根本目的是：

- A. 减少污染 B. 节约木材
- C. 减轻小学生的负担 D. 更好的进行素质教育

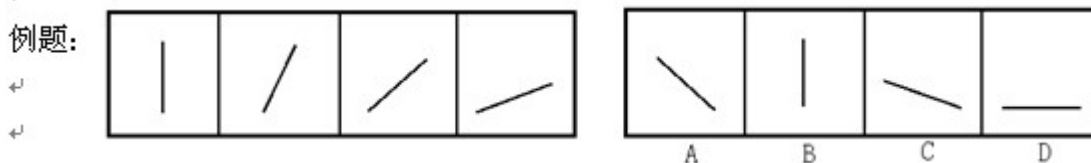
60. 以下各项中不属于电子商务范围的是：

- A. 春兰集团通过在因特网上建立网站，赢得了大量的海外订单
- B. 小王在电子市场以低于正常 30% 的价格买到了一台家用电脑
- C. 刘先生通过“温馨”网上花店为在上海的女朋友买了一束鲜花
- D. 李军今天没去图书馆，在网上书店订了几本好书

61. 飞机与火箭飞行原理的区别是：
- A. 飞机有机翼，火箭没有机翼
 - B. 飞机只能在大气层中飞行，火箭可以在大气层以外飞行
 - C. 飞机使用航空汽油作燃料，火箭用液态氢和液态氧作燃料
 - D. 飞机靠机翼上下气流的压差产生的升力飞行，火箭靠向后喷射高温高压气体产生的反作用力飞行
62. 农村费改税，之所以能减轻农民负担，是因为：
- A. 费改税可以降低农业生产成本，提高农业经济效益
 - B. 政府征收的各种费用改为税收可以拓宽国家财政来源
 - C. 税收的强制性可以减少征费产生的各种矛盾和问题
 - D. 税收的固定性可以防止对农民的各种乱收费
63. 三次科技革命对人类社会的历史进程产生了极其深远的影响。三次科技革命发生的共同社会根源是：
- A. 科学理论的重大突破
 - B. 统治者的政策
 - C. 战争的推动
 - D. 社会发展的需要
64. 纳米技术开辟了研究纳米尺度内原子、分子或离子的运动和变化的科学，各国科学家都致力于发展纳米技术，这表明：
- A. 纳米技术的竞争是当前国际竞争的核心
 - B. 发展纳米技术是各国发展经济的基本目标
 - C. 科学技术的竞争是国际竞争的重要内容
 - D. 各国的根本利益是一致的
65. 验钞机上发出的光能使钞票上的荧光物质发光，电视机的遥控器发出的光可控制电视机，对于它们发出的光，下列说法正确的是：
- A. 它们发出的都是红外线
 - B. 它们发出的都是紫外线
 - C. 验钞机发出的是红外线，电视机遥控器发出的是紫外线
 - D. 验钞机发出的是紫外线，电视机遥控器发出的是红外线

三、图形推理：共 10 题，每道题包含两套图形和可供选择的 4 个图形。这两套图形具有某种相似性，也存在某种差异。要求你从四个选项中选择你认为最适合取代问号的一个。正确的答案应不仅使两套图形表现出最大的相似性，而且使第二套图形也表现出自己的特征。

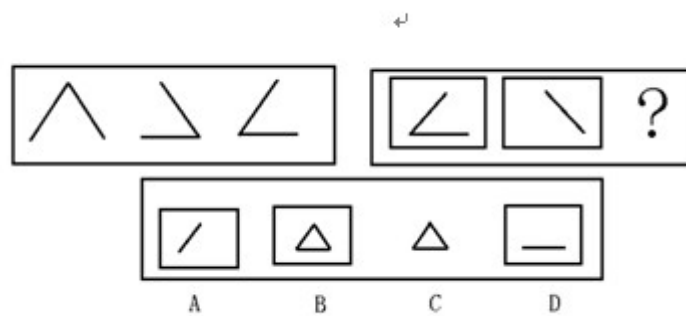
【例题】




解答：最左边的图形中直线是向上直立的，其后的图形中的直线逐渐倾斜向右倒下，第五个图中的直线应该恰好倒下。因此，正确的答案是 D。

请开始答题

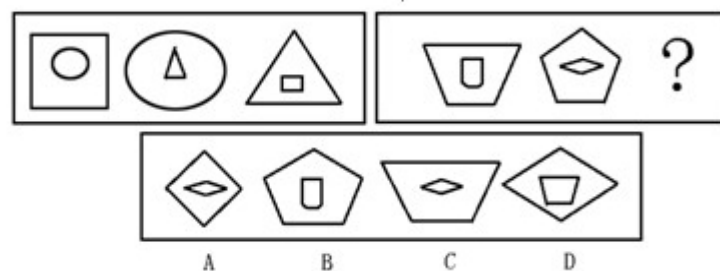
66. ↵



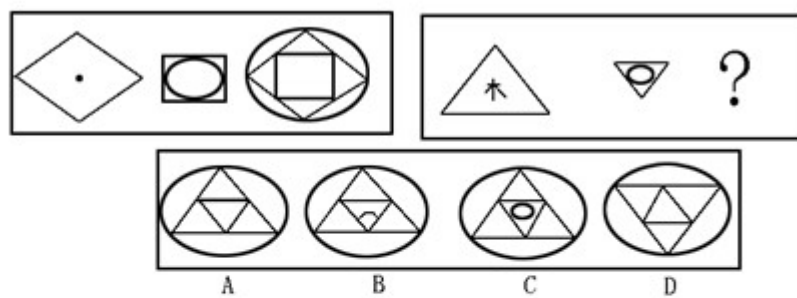
67. ↵



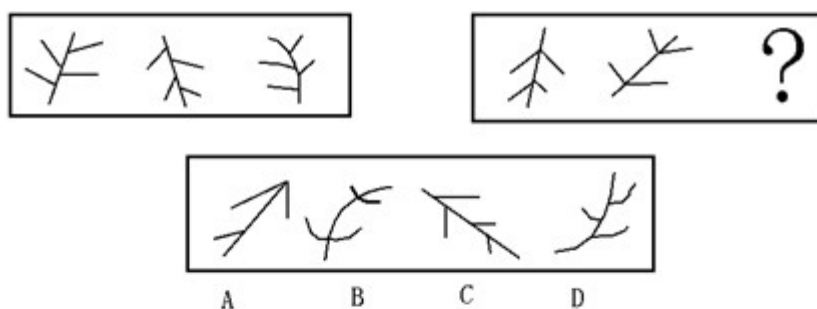
68. ↵



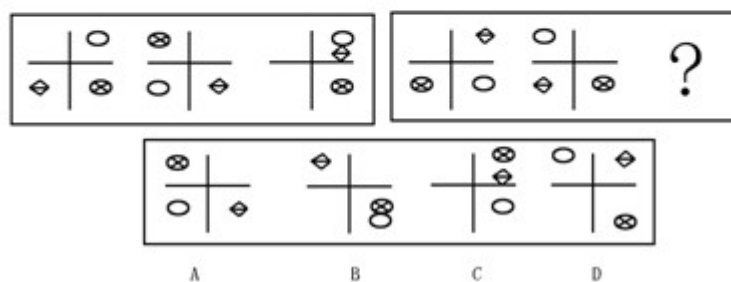
69. ↵



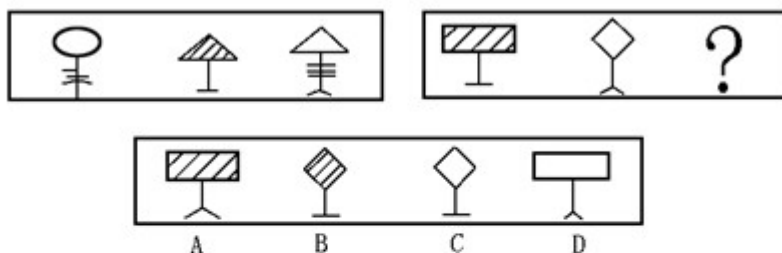
70. ↵



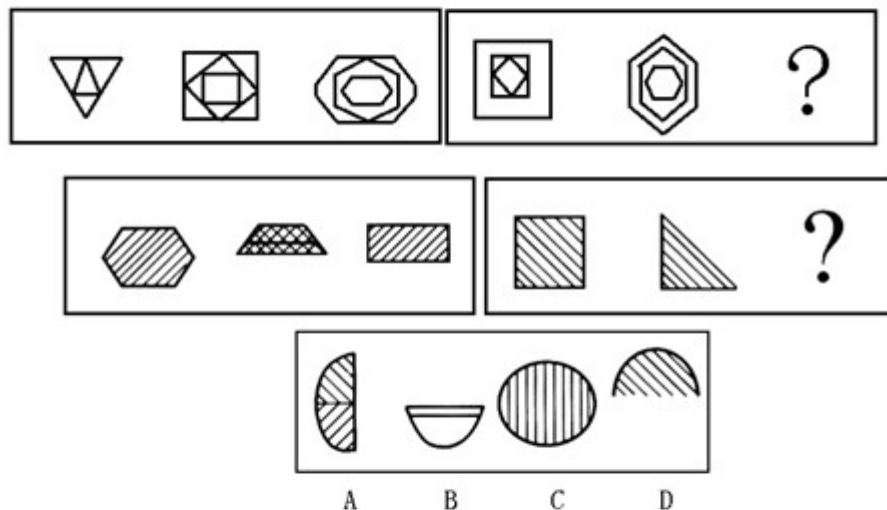
71. ↵



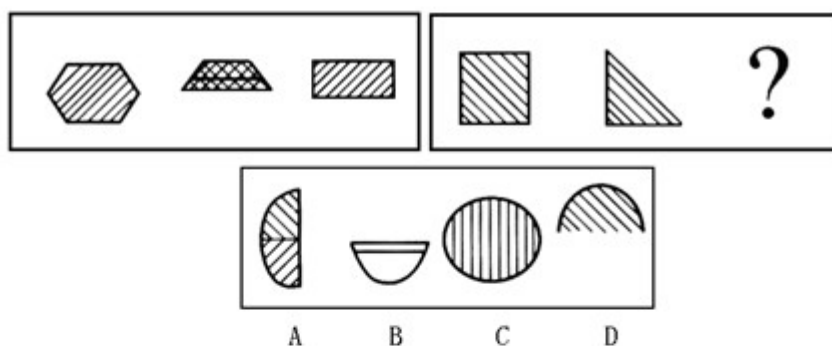
72. ↵



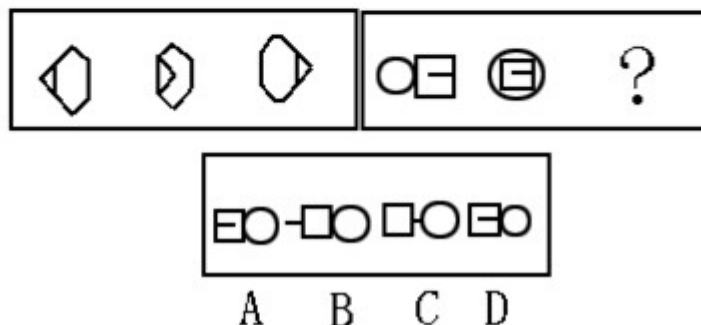
73. ↵



74. ↵



75. ↵



四、演绎推理：共 10 题，每题给出一段陈述被假设是正确的，不容置疑的。要求你根据这段陈述，选择一个答案。注意，正确的答案应与所给的陈述相符合，不需要任何附加说明即可以从陈述中直接推出。

【例题】对于穿鞋来说，正合脚的鞋子比过大的鞋子好。不过，在寒冷的天气，尺寸稍大点的毛衣与一件正合身的毛衣的差别并不大。这意味着：

- A. 不合脚的鞋不能在冷天穿
- B. 毛衣的大小只不过是式样的问题，与其功能无关
- C. 不合身的衣服有时仍然有穿用价值
- D. 在买礼物时，尺寸不如用途那样重要

解答：只有 C 是可以从陈述中直接推出的，应选 C。

请开始答题：

76. 小平忘记了今天是星期几，于是他去问 O、P、Q 三人。O 回答：“我也忘记今天是星期几了，但你可以去问 P、Q 两人。” P 回答：“昨天是我说谎的日子。” Q 的回答和 P 一样。已知：

- ①O 从来不说谎；
- ②P 在星期一、星期二、星期三这三天说谎，其余时间都讲真话；
- ③Q 在星期四、星期五、星期六这三天说谎，其余时间都讲真话。

根据以上条件，今天是星期几？

- A. 星期一 B. 星期二 C. 星期四 D. 星期天

77. 有甲、乙、丙、丁四个小组进行拔河比赛，比赛结果是：

- ①当甲、乙两组联合为一方，丙组和丁组为一方时，双方势均力敌；
- ②当甲组与丙组对调后，甲、丁两组联合战胜了乙、丙两组；
- ③甲、丙两组联合却被乙组单独一方战胜。

下列关于甲、乙、丙、丁四个组由强到弱的排序正确的是：

- A. 甲、乙、丙、丁 B. 丙、乙、丁、甲 C. 乙、甲、丙、丁 D. 丁、乙、甲、丙

78. 张三是一个计算机编程专家，李四是一位数学家。其实，所有的计算机编程专家都是数学家。我们知道，今天国内大多数综合性大学都在培养计算机编程专家。据此，我们可以认为：

- A. 张三是由综合性大学所培养的
- B. 大多数计算机编程专家是由综合性大学所培养的
- C. 李四不是毕业于综合性大学
- D. 有些数学家是计算机编程专家

79. 大物理学家牛顿小时候在班上学习成绩倒数第一名，因而曾被老师和同学称作“笨蛋”。生物学家达尔文的日记里记载：教师和家长都曾认为他智力低下。世界著名的伟大作家高尔基只读过小学三年级。陶行知先生曾

提醒老师们说：“你的教鞭下有瓦特，你的冷眼里有牛顿，你的讥笑中有爱迪生。”因此，

- A. 小时候学习成绩越差，长大后的成就越大
- B. 人的才能表现有早晚之别
- C. 一个人的成就与他所受教育的多少无关
- D. 名人们小时候的学习成绩都不好

80. 去年引进的外国大片《马语者》，仅仅在山市放映了一周，各影院的总票房收入就达到 800 万。这一次山市又引进了《空军一号》，准备连续放映 9 天，1000 万元的票房收入应该能够突破。

根据以上文字包含的信息，分析以上推断最可能隐含了以下哪项假设？

- A. 山市很多人因为映期时间短都没看上《马语者》，这一次可以补偿一下了。
- B. 有《马语者》作铺垫，《空军一号》的票房应该会更火爆。
- C. 这两部片子的上座率、票价等将非常类似。
- D. 以美国总统为题材的影片的影响力和票房号召力是巨大的。

81. 过度工作和压力不可避免导致失眠症。森达公司的所有管理人员都有压力。尽管医生已经提出警告，但大多数的管理人员每周工作仍然超过 60 小时，而其余的管理人员每周仅仅工作 40 小时。只有每周工作超过 40 小时的员工才能得到一定的奖金。

以上的陈述最能支持下面哪项结论？

- A. 大多数得到一定奖金的森达公司管理人员患有失眠症。
- B. 森达公司员工的大部分奖金给了管理人员。
- C. 每周工作 40 小时的管理人员工作没有过度。
- D. 森达公司管理人员比任何别的员工组更易患失眠症。

82. 甲：“从举办奥运会的巨额耗费来看，观看现场奥运会比赛的票额应该要高得多。是奥运会主办者的广告收入降低了每份票额的单价，因此，奥运会的现场观众从奥运会拉的广告中获得了经济利益。”

乙：“你的说法不能成立。谁来支付那些看来导致奥运会票额降价的广告费用？到头来仍是消费者，包括作为奥运会现场观众的消费者。因为厂家通过提高商品的价格把广告费用分摊到了消费者的身上。”

以下哪项如果为真，则能够有力地削弱乙对甲的反驳？

- A. 奥运会的票价一般要远高于普通体育比赛的票价。
- B. 近年来，利用世界性体育比赛做广告的厂家越来越多，广告费用也越来越高。
- C. 奥运会的举办带有越来越浓的商业色彩，引起了普遍的不满。
- D. 总体上说，各厂家的广告支出是一个常量，有选择地采取广播、电视、报纸、杂志、广告牌、邮递印刷品等各种形式。

83. 小平、小伟和小刚三个同学参加完期末考试后，三人一起议论。小平说：“我是肯定考不了 90 分以上。”小伟说：“90 分我是达不到了。”小刚说：“60 分以上没有问题。”等到公布成绩时，三人中 90 分以上、60~90 分之间和 60 分以下各一人，并且他们三人中只有一人？对了。最可能的结果是：

- A. 小平的分数在 60~90 之间，小伟的分数在 60 以下，小刚的分数在 90 以上。
- B. 小平的分数在 90 以上，小伟的分数在 60~90 之间，小刚的分数在 60 以下。
- C. 小平的分数在 60 以下，小伟的分数在 60—90 之间，小刚的分数在 90 以上。
- D. 小平的分数在 60 以下，小伟的分数在 90 以上，小刚的分数在 60~90 之间。

84. 市场经济的内在规律倡导公平竞争和质量取胜，只有符合人们需要的优质产品才能在市场上站稳脚跟。研究表明，在市场经济发展过程中，假冒伪劣产品的出现是与之呈负相关变化的。由此可知：

- A. 随着市场经济体制的完善，假冒伪劣产品将会得到有效制止。
- B. 随着市场经济体制的完善，假冒伪劣产品将会消失。
- C. 实行市场经济以前，没有假冒伪劣产品。
- D. 实行市场经济，假冒伪劣产品就会大量出现。

85. 一位社会学家对两组青少年作了研究。第一组成员每周看暴力内容的影视时间平均不少于 10 小时；第二组则不多于 2 小时。结果发现第一组成员中举止粗鲁者所占的比例要远高于第二组。因此，此项研究认为，多看暴力内容的影视容易导致青少年举止粗鲁。

以下哪项，如果为真，将对上述研究的结论提出质疑？

- A. 第一组中有的成员的行为并不粗鲁。
- B. 第一组中很多成员的粗鲁举止是从小养成的，这使得他们特别爱看暴力影视。
- C. 第二组中有的成员的文明行为是父母从小教育的结果，这使得他们能抵制暴力影视的不良影响。
- D. 第二组中有的成员的行为比第一组更粗鲁。

第四部分资料分析

(共 15 题，参考时限 20 分钟)

一个图、表或一段文字均有 5 个问题要你回答。你应根据资料提供的信息进行分析、比较、计算、处理。

[例题]根据下表，回答①~②题。

博物馆四个入口处自动计数器的读数

自动计数器在不 时间的读数 (人数)					
入口 (时间)	7: 00	8: 00	9: 00	10: 00	11: 00

1	7111	7905	8342	8451	8485
2	8432	9013	9152	9237	9306
3	5555	5921	5989	6143	6233
4	954	1063	1121	1242	1299

①从早上 7: 00 到 11: 00 通过. Nt~1 进入博物馆的参观人数是()。

A. 580 B. 94 C. 1374 D. 1594

②在早上 7: 00~8: 00 之间, 通过人数最多的入口是()。

A. 1 B. 2 C. 3 D. 4

解答: 题①应为 8485-7111=1374, 答案是 C; 题②比较两数之间的差, 差值最大的是 入口 1 的两个数, 故答案是 A。

根据下面资料回答 86~90 题:

据国家统计局数据显示, 2002 年我国国内生产总值达到 102 398 亿元, 比 2001 年增长 8%。与 2001 年相比, 第一产业达 14 883 亿元, 增长 2. 9%; 第二产业增长 9. 9%, 达到 52 982 亿元, 第三产业增长率达到 7. 3%。据统计, 去年工业增加值 45 935 亿元, 增长 10. 2%; 固定资产投资 43 202 亿元, 增长 16. 1%; 社会消费品零售总额 40 911 亿元, 增长 8. 8%。2002 年, 城乡居民收入持续增长, 城镇居民人均可支配收入 7 703 元, 农村居民人均纯收入 2 476 元, 分别增长 13. 4%和 4. 8%。

86. 2001 年我国国内生产总值为多少?

A. 94 206 亿元 B. 94 813 亿元 C. 98 917 亿元 D. 102 398 亿元

87. 2002 年我国第三产业在国内生产总值中的比重为多少?

A. 14. 5% B. 51. 7% C. 33. 7% D. 46. 4%

88. 2001 年我国第三产业在国内生产总值中的比重为多少?

A. 33. 9% B. 33. 7% C. 31. 4% D. 30. 8%

89. 2001 年我国农村居民人均纯收入为多少元?

A. 2183 B. 2357 C. 2476 D. 2363

90. 2001 年我国城镇居民人均可支配收入是农村人均纯收入的多少倍?

A. 3. 1 倍 B. 2. 1 倍 C. 2. 9 倍 D. 1. 9 倍

根据下面给出的某市上网资费表, 回答 91~95 题:

		开户 费	基本费	网络使用费		通讯费
				163	169	
拨号注册	A 类业务	100	0	3 元/小时	1.8 元小时	每分 0.02 元
	B 类业务	0	50 元/月 100 元/月	2.5 元/小时 2 元/小时	1.5 元/小时 1 元/小时	
上网(储值卡)		0	0	0.05 元/分钟	0.03 元/分钟	

91. 拨号注册 B 类业务中, 每月缴 50 元基本费的 169 用户每小时网络使用费是:

A. 2. 7 元 B. 2 元 C. 1. 5 元 D. 1 元

92. 以表中各种方式上网, 在缴纳网络使用费时还需同时缴纳通讯费。请问上网一小时的通讯费是:

A. 1. 2 元 B. 1. 6 元 C. 3. 6 元 D. 4. 8 元

93. 使用上网卡以 163 接入, 每分钟应支付网络使用费和通讯费共计:

A. 0. 05 元 B. 0. 07 元 C. 0. 08 元 D. 0. 10 元

94. 同属拨号注册 A 类业务，使用 169 接入比使用 163 接入每分钟少付：

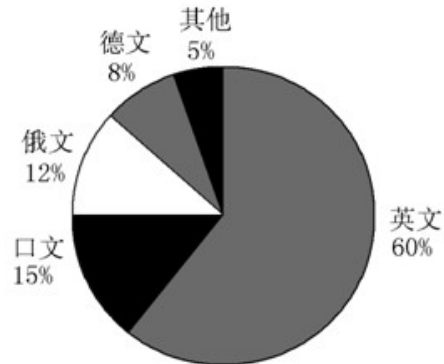
- A. 0. 01 元 B. 0. 02 元 C. 0. 03 元 D. 0. 05 元

95. 同属使用上网卡业务，使用 169 接入每分钟缴纳的总费用是使用 163 接入的百分之几？

- A. 40% B. 56% C. 60% D. 71%

根据下图回答 96—100 题：

某图书馆外文图书共有 8000 册，其文种构成如下图：



96. 俄文图书共有多少册？

- A. 1 200 B. 960 C. 640 D. 400

97. 英文图书是日文图书的几倍？

- A. 2 B. 4 C. 5 D. 12

98. “其他”图书与日文图书的比例是多少？

- A. 1: 2 B. 1: 3 C. 1: 4 D. 2: 3

99. 德文图书与俄文图书共有多少册？

- A. 640 B. 960 C. 1200 D. 1600

100. 若日文图书再增加 2000 册，则俄文图书在外文图书中所占的比例为：

- A. 9. 6% B. 10% C. 12% D. 15%