

2006 年广州市公务员录用考试《行政职业能力测验》试卷

来源: w

)

第一部分 言语理解与表达

(共 30 题, 参考时限 25 分钟)

本部分包含两种类型的试题:

一、言语表达。请你从用词、语气、语法等方面对下列各题作出判断, 选出最符合题目要求的一个选项(共 15 题, 每题 1 分, 共 15 分)。

【例题】“三国”是我国民间流传最广、老百姓最为()的一段历史。

A. 喜爱 B. 难忘 C. 熟悉 D. 熟知

解答: 用“熟知”填空使句子的意思表达得最准确, 所以正确答案为 D。

1. 依次填入下列各句横线处的词句, 最恰当的一组是()。

①中国古代先贤以其强烈的人文关怀写下的大量精彩深刻的策论警语, 体现了丰富的民族智慧, _____了伟大的民族精神。

②杨柳青木版年画里, 孩童个个健硕丰腴, 人人新衣新裤, 所有器物_____, 这都象征着生活的富足和吉祥。

A. 积淀 精妙绝伦 B. 积淀 完美无缺 C. 积聚 完美无缺 D. 积聚 精妙绝伦

2. 下列句子中, 没有语病的一句是()。

A. 青藏铁路纵贯青海、西藏两省区, 跨越青藏高原, 是连接西藏与内地的一条具有重要战略意义的铁路干线

B. 这家老字号食品厂规模不大, 但从选料到加工制作都非常讲究, 生产的食品一直都是新老顾客倍受信赖的

C. 天安门广场等七个红色旅游景点是否收门票的问题, 国家旅游局新闻发言人已在记者招待会上予以否认

D. 中央财政将逐年扩大向义务教育阶段家庭经济困难的学生免费提供教科书, 地方财政也将设立助学专项资金

3. 下列句子中, 没有语病的一句是()。

A. 美国一本杂志编的《野性大地》, 摄影质量令人惊异, 打开扉页那七八幅跨页图片, 如同名角亮相, 开场便一鸣惊人

B. 鲸的“歌声”能表达很复杂的意思, 但远不能与人的语言相提并论, 因为鲸的“歌声”里没有能够代表具体的或抽象的事物的名词

C. 漫步桃园, 那一排排、一行行、一树树的桃林让人流连忘返; 中餐后还可去自费采摘, 那柔软多汁的大桃便让你大快朵颐

D. 某些商家违背商业道德, 利用中小学生的的好奇心理和在考试作弊并不鲜见的情况下, 为“隐形笔”大做广告

4. 下列句子中, 没有语病的一句是()。

A. 由于计算机应用技术的提高和普及, 为各级各类学校的媒体教学工作提供了良好的条件

B. 采取各种办法, 大力提高和培养工人的现代技术水平, 是加快制造业发展的一件迫在眉睫的大事

C. 这家乒乓球馆设施齐全, 可为乒乓球爱好者提供不同档次的球台、球拍、球衣、球鞋等乒乓器材

D. 政治体制与日益市场化的经济体制相适应, 是当今中国实现社会和谐的关键

5. 下列句子中, 有语病的一句是()。

A. 经过艰难跋涉, 我们发现, 如果没有科学发展观作指导, 任何理顺国家、市场、社会关系的举措, 都将事倍功半

B. 人们认为, 团队有效性的关键因素不只是个体贡献的简单相加, 而是能使队员行动一致、互相配合的团队协作技能

C. 自然界中存在着一种共生现象, 如燕千鸟从鳄鱼牙中啄取水蛭, 为鳄鱼提供口腔卫生服务, 同时它自己也得到了所需的食物

D. 世界各地的人们都把当地的主要河流称为母亲河, 是因为这些河流不仅是他们赖以生存的基础, 而且是区域文化的摇篮

6. 下列句子中,划线的词语使用不恰当的一句是()。

A. 地球既不像水星、金星那样遭太阳 炙烤 ,也不像外行星那样遭太阳冷落,它吸收阳光适度,因而成为孕育生命、繁衍生命的天然温室

B. 迎接这位伟大航海家 疲惫 风帆的是一堆堆熊熊大火——为了防止再有人出海,兵部官员焚烧了郑和经营多年的船只和航海资料

C. 作民族识别时,有一条标准是“他们有一种共同的具有历史渊源的地域意识”,这一标准值得我们地理学的角度仔细 捉摸

D. 近年来,有学者提出,行为艺术已经将艺术与生活的边界拆除,艺术从高于生活的塔尖走了下来,义无反顾地 融入 了生活

7. 下列句子中,划线的成语使用不恰当的一句是()。

A. 大英博物馆近来因财力吃紧,裁减工作人员,与中国文物有关的职位 首当其冲 ,这样,中国文物的巡展活动自然难以开展

B. 有的国家靠“采购”外籍运动员提高在国际赛事中的名次,使本土选手减少了在更高舞上历练的机会,这真是 买椟还珠

C. 有些地方的球迷,对主队的平庸表现绝不谩骂,而是将大家 耳熟能详 的老歌即兴换上新词,齐声高唱,委婉地表达不满

D. 有的专家认为,能 无所顾忌 地发表自己的想法而且面对困难不胆怯的孩子,往往具有领导者的潜质

8. 下列句子中,标点符号使用正确的一句是()。

A. 家是什么?家不只是房子,不只是丈夫、妻子、孩子,家是一份惦念,家是一份牵挂。

B. 《教师口语》一书的《序言》说:“《教师口语》是为强化教师的口语表达能力而增设的专业课程。”

C. 诈骗犯有一种特长,讲究“适销对路”:你迷信鬼神,他就以鬼神为饵,你迷信权力,他就以权力设诱。

D. 这种白内障冷冻摘除器,具有制冷,解冻迅速、操作方便、安全性能显著等特点。

阅读以下短文,回答 9-15 题。

张中行老人辞世已有好多天了,一直想写点什么纪念一下,可是又不知道如何下笔。不是我不知道写什么,而是老人给我们留下的需要我们思索的东西太多了。翻看老人留下的文章, I 老人坎坷的一生,不能不掩卷叹息,原来人生就是这个样子。

张中行,身后给予他的评价,已经至高至上:国学大师、哲学家、散文家、思想家。如此大的帽子,老人未必能看中。其实张中行就是一个好老头,一个 II 中恪守自己心灵宁静的一个真正的男人。

1998 年夏,一个很偶然的因素,我在书店买到一本《流年碎影》,书中的语言、典故,让我喜欢得不得了。我喜欢看人物传记,但还是第一次看到这样的以散文形式写的自传。从此我在书中认识了张中行。

小时候看《封神演义》,总以为姜子牙八十岁拜相是神话故事。看了张中行的书才知道,原来大器果真就是晚成。一本《流年碎影》在我所在的小城 III 。我觉得是《流年碎影》、《顺生论》、《禅外说禅》这三本书奠定了张中行在文化史上的地位。正像老人自己所认为的那样,他的文章更多的是思考人生。

说到爱,就不能不说说张中行和杨沫的那段感情生活。很多人因为张中行是《青春之歌》里面余永泽的 IV 而知道了他。关于这段真实的生活经历,张中行在《流年碎影》里留下一些文字。老鬼《我的母亲杨沫》一书中也多有记载。在那个火红的年代,杨沫和张中行都有权选择他们各自所走的道路,我们无可厚非。但是由于众所周知的原因,余永泽被刻画成了一个不可饶恕的形象。陈怀皑不愧是老一代著名导演,他和于是之合作,把余永泽 V 得让人看了牙根发痒。电影里的余永泽睨视的眼神,堪称经典。老一代的作品在人物刻画上确实有过人之处,这一点陈凯歌的《霸王别姬》确实有乃父之风。由于这样的环境,当年张中行老人的处境可想而知。但是,年轻时候和和分分的感情恩怨,十几年的不公正的待遇,都没有扭曲张中行对那段感情的珍视。一个人的心地是否善良,往往就在人生关键的时刻体现出来。“文革”时杨沫单位的人来外调,张中行写了一个材料,说杨沫直爽、热情,有济世救民的理想,并能够去努力实践。丝毫没有落井下石。可见张中行在任何时候,都保守了自己感情上的那份真诚。

张中行与朋友交往守信,自己做人也遵守自己的信条。他认为:有些事不让写的时候就不写,让写了就一定要说真话。 VI

张中行留给我们的 VII 是 400 万字的著作, _____ 温良恭让的儒家传统美德。

张中行走了, _____ 我们记着这个好老头。

——佚名《纪念张中行先生》,有删改

9. 填入 I 处最恰当的词是()。

- A. 翻阅 B. 检索 C. 回忆 D. 缅怀

10. 填入 II 处最恰当的词是()。

- A. 茫茫人海 B. 如梦浮生 C. 芸芸众生 D. 平常世界

11. 填入 III 处最恰当的词是()。

- A. 洛阳纸贵 B. 沉渣泛起 C. 一掷千金 D. 风靡万千

12. 填入 IV 处最恰当的词是()。

- A. 原形 B. 化身 C. 原型 D. 造型

13. 填入 V 处最恰当的词是()。

- A. 表演 B. 演绎 C. 演艺 D. 展现

14. 以下语句填入 VI 处最适合的是()。

- A. 古人说君子义以为质，信以成之，张中行也可谓君子了。
B. 一句简单的话，隐含了多少坎坷岁月，多少人生的无奈和心酸。
C. 这对那个时代阿谀献媚、混淆是非的人是多大的鞭挞！
D. 有话不能说，让说了也不见得敢说真话，这是怎样的悲哀呵！

15. 以下组合最适合依次填入 VII 处横线位置的是()。

- A. 除了，还包括；如今，但是 B. 不仅仅，还包括；虽然，依然
C. 除了，还有；如今，依然 D. 不仅仅，还有；虽然，但是

二、阅读理解。阅读短文，然后回答问题（共 15 题，每题 1 分，共 15 分）。

【例题】本世纪 30 年代，人们开始使用瑞士化学家缪勒发明的滴滴涕。正当人们庆幸自己找到置害虫于死地的高效农药时，害虫的天敌也近乎绝迹了。同时，由于滴滴涕的残毒可以长期累积，已经引起遗祸无穷的世界性公害。

上面一段话说明的道理是()。

- A. 如果使用不当，高效农药的应用也会带来世界性公害
B. 滴滴涕已经被证明是一种对人类有害无益的农药
C. 滥施高效农药对害虫的天敌也会造成毁灭性灾难
D. 某些科学成果是把“双刃剑”，对其利用需持谨慎态度

解答：该题的正确答案是 D。

16. 现行《中华人民共和国刑法》规定：“中华人民共和国刑法的任务，是用刑罚同一切犯罪行为作斗争，以保卫国家安全，保卫人民民主专政的政权和社会主义制度，保护国有财产和劳动群众集体所有的财产，保护公民私人所有的财产，保护公民的人身权利、民主权利和其他权利，维护社会秩序、经济秩序，保障社会主义建设事业的顺利进行。”

对以上这段话理解最正确的一项是()。

- A. 我国刑法的目的是打击违法犯罪行为 B. 我国刑法的目的是维护国家和人民的权利
C. 刑法是社会主义建设事业顺利进行的保障 D. 刑法不保障犯罪分子的权利

17. 有一种假说认为，冬眠是一种高度发达的机能。冬眠的哺乳动物虽然与人类一样都是温血动物，但是它们在更宽范围的调节性上获得了进化，例如，在体温调节上，冬眠动物就比非冬眠动物要强。

对于这一假说，理解正确的一项是()。

- A. 对哺乳动物来说，冬眠比非冬眠更加有利
B. 比较起人类来，冬眠的哺乳动物在更宽的范围里发生了变化
C. 冬眠的哺乳动物比非冬眠的哺乳动物具有更强的体温调节机制
D. 冬眠和非冬眠的哺乳动物之间的区别在于体温是否可以调节

18. 把下面几个句子组成语意连贯的一段话，排序正确的一组是()。

- ①战后的世界并不是一个和谐、安宁的世界。
②不公正、不合理的国际政治经济秩序没有得到改变，发展中国家仍有亿万人民处于贫困状态。
③领土、民族、宗教、资源等因素引发的武装冲突和局部战争连绵出现。
④世界人民仍然生活在动荡不安和核武器威胁的阴影之中。
⑤东西冷战对峙，南北矛盾加深，地区冲突不断，核军备竞赛轮番升级。
⑥冷战结束后，虽然总的说来国际局势趋于缓和，但霸权主义和强权政治依然存在。

⑦人类的生存与发展面临着一系列严峻的挑战。

A. ⑦②③⑤④⑥① B. ④⑤④⑥③②⑦ C. ⑦⑤④⑥②③① D. ①②③⑤④⑥⑦

19.把下面几个句子组成语意连贯的一段话,排序正确的一组是()。

①“四书”是新儒家哲学最重要的课本。

②旧时候,一个人只要受教育,就是用哲学启蒙。

③哲学在中国文化中所占的地位,历来可以与宗教在其他文化中的地位相比。

④《三字经》实际上是个识字课本,就是它,开头两句也是“人之初,性本善”。

⑤在中国,哲学与知识分子人人有关。

⑥儿童入学,首先教他们读“四书”,即《论语》、《孟子》、《大学》、《中庸》。

⑦这是孟子哲学的基本观念之一。

⑧有时候,儿童刚刚开始识字,读的就是《三字经》,每句三个字,偶句押韵,朗诵起来便于记忆。

A. ③②⑤⑥①④⑦⑧ B. ⑤③②①⑥⑧④⑦ C. ③⑤②⑥①⑧④⑦ D. ⑤②①⑥⑧④⑦③

阅读以下短文,回答 20-23 题。

生物体的衰老和寿命由许多因素决定。一般认为,生物体的代谢能力、抗逆境能力起着重要作用,但近年来对一些模式生物如线虫、果蝇的研究表明,基因控制着衰老过程。在果蝇群体中,通过系统地选择晚生育的个体,成功地获得了寿命长的品系,这些果蝇的代谢能力明显提高。此外,有的体内抗氧化酶活力增加,有的对饥饿、干燥、高温的耐受能力提高。但这种寿命的延长是在发育长期停滞于幼虫阶段,且幼虫密度很高、食物受到极大限制的环境条件下被选择出来的。也就是说,与延长寿命有关的基因要在这种逆境条件下才会表达,才能发挥其功能。同时,这些抗逆境的能力分属不同的代谢途径。因此衰老有多种机制,延长寿命的途径决不止一种。果蝇研究的结果表明,衰老和寿命是多基因控制的。

线虫在完成发育以后,主要在生殖以后开始出现衰老。与线虫的衰老和寿命有关的基因突变之后可使寿命延长 6 倍或更多倍,这表明生物体存在着与寿命长短相关的单个基因,在果蝇身上也发现了与寿限有关的基因。

人类有一种早衰综合征,患者儿童期情况很正常,在青春期间生长延缓,以后很快就出现衰老。这种疾病的基因已被克隆,基因编码的 1432 个氨基酸的序列,同 DNA 螺旋酶这种蛋白质的氨基酸的序列有很高的相似性。这种结构的相似性又表明这两种蛋白质也许有相似的功能。DNA 螺旋酶参与 DNA 的代谢,因此,推测 DNA 代谢发生缺陷可能是病人出现早衰的一个因素。这个例子说明,单基因突变可能也是人类衰老的机制之一。

总之,衰老和寿限都是由遗传和环境相互作用决定的,环境因子的作用是随机的,而对环境作出反应的能力则是遗传的。与衰老有关的基因或是参与细胞的生存和损伤修复,或是参与对老年性疾病的易感性。因此,可从单基因遗传和多基因遗传两种研究策略来探究衰老和寿限的遗传机制,提示相关基因的功能,尽可能消除寿限的限制因子。最近有人说,把人的基因组图谱弄清楚了,人可以活上 500 岁甚至 1200 岁。依据无非是上面提到的果蝇和线虫的实验结果,并以此来推算人类的寿限。但这种说法忘记了上文中一个很重要的事实。如果人能活到 1200 岁,那么要到 400 岁、500 岁才会长大成人、结婚生子。此外,有些基因改变后将导致代谢活动缓慢,活力降低,试想一个人如果反应迟钝、生机索然地活上几百岁,那还有什么意思?让人类减少疾患,健康而长寿地生活,才是遗传学家在 21 世纪追求的目标。

20.不能说明“生物体的衰老和寿命由许多因素决定”的是()。

- A. 一般认为,生物体的代谢能力、抗逆境能力起着重要作用
- B. 果蝇寿命的延长是以相关基因在一定条件下的表达为前提的
- C. 除遗传外,环境因子对生物体的寿命也产生影响
- D. 生物体的衰老和寿命是由其基因组图谱所决定的

21.下列说法与原文意思相符的是()。

- A. 科学家们在逆境条件下成功地在果蝇中选出了寿命长的品系
- B. 人或其他生物体的活动缓慢、活力降低将导致其基因的改变
- C. 线虫的与寿命有关的基因一旦发生突变,其寿命将延长 6 倍或更多
- D. 目前还不能断定 DNA 代谢发生缺陷是导致早衰综合征的因素

22.“但这种说法忘记了上文中一个很重要的事实”所指的是()。

- A. 果蝇的发育长期停滞于幼虫阶段
- B. 果蝇的幼虫密度很高
- C. 果蝇的食物受到极大限制
- D. 果蝇的寿命受多基因控制

23.根据原文内容,下列推断正确的一项是()。

- A. 人们之所以不能确定单基因突变与人类衰老的关系,是因为只采取单基因遗传研究的策略,而没有把单基因遗传研究与多基因研究结合起来
- B. 尽管引起人类早衰综合征的基因已被研究者克隆,但并不表明人们已经找到治疗该病的有效方法。基因研究要造福人类,依然任重而道远
- C. 既然线虫的某些基因的突变可使其寿命延长,那么人类也只需基因突变的方式,就能消除寿限的限制因子,以达到延长寿命的目的
- D. 从某些生物体到人类,研究者在基因方面作了比较广泛和深入的探索,科学的日新月异使我们相信,在不远的将来,长生不老不再是神话而是现实

阅读以下短文,回答 24-26 题。

和谐原本是指一种事物之间搭配合理与匀称的关系。社会和谐则是指一定时期各种社会因素之间的协调状态。而所谓法律上的和谐,则是指构成社会的所有主体在法律框架下为了共同利益和各自利益所构建的一种平等、互助、互惠的稳定关系以及在关系变动时的相安无事。而要建构这样一种社会和谐必须处理好政府与个体、个体与个体以及个体与自然三种关系。

首先,社会主体必须是平等和自由的。社会主体之间客观上存在着各种差异,如性别、职业、种族、贫富等等,但其人格上又都是平等的,意志上都是自由的,因而不存在高下之分。没有主体之间的平等,任何关系的建构不可能出于自愿、出于理性,也都无法维系长久。

其次,法律上的和谐必须以实现权利为主要内容。法律意义上的社会和谐不是通过对权利的压抑,而是通过义务方式来实现的,相反它为所有主体权利的实现提供了最大的空间。重视权益,甚至是重视大多数人的权益,对于一个社会来说并非难事;但如果忽略了对少数人和社会困难群体权益的关注,公平就会丧失,社会主体之间的和睦与互助同样无法实现。

再次,尊重他人的价值,尊重他人的权利,才能保证自己的尊严和权利。也就是说只有互惠才能带来互助,才能带来主体之间相互依存关系的长久。而互惠需要妥协和理性。反之,任何情绪化的东西,任何单向度的思维模式都容易使人际关系走向极端和对立。

此外,诚实与信用是社会的黏合剂,正是在诚实与信用的前提下,人们才对人际关系、对未来充满了预期;反之,离开了信用,人与人之间就无法和睦相处,维系社会安全的成本就会成倍加大。

实现社会的公平和正义,法治是必然要求。法治作为一种社会治理模式,具有普遍性、被民众事先所知晓、可预见性、可行性、权威性、稳定性等特点。现代法治也已经找到平衡各种权益、实现社会公平正义的有效手段。而现代法治注重通过国家的公共服务对那些公开破坏公平正义、破坏社会和谐的违法犯罪者给予惩罚,加大对受到损害的社会主体权益的及时补偿使紧张的社会关系及时得以恢复,不仅可以消除彼此的对立,还可以帮助受到伤害的社会主体得以维系生存。

总之,由法治而构建的和谐社会是民主、公平、正义,稳定、有序而又充满活力的;由法治而实现的社会和谐才能长久地被维持。

——侯欣一《法治与和谐社会的构建》,有删节,载 2006 年 4 月 15 日《光明日报》

24.以下有关社会主体平等和自由的说法,正确的一项是()。

- A. 保障人格、意志与智力在法律上的平等是实现社会主体平等的前提
- B. 部分社会主体率先实现平等与自由是实现全部社会主体平等与自由的重要前提
- C. 由教育差异造成的社会主体职业差异不影响社会主体的平等与自由
- D. 社会主体的平等与自由是有前提的,是自愿而理性的

25.法治是实现社会和谐的重要保障机制。以下各项不能说明这一点的是()。

- A. 法治作为一种社会治理模式决定了法治是实现社会和谐的重要保障机制
- B. 现代法治已经找到平衡各种权益、实现社会公平正义的有效手段
- C. 现代法治实现了社会主体的平等和自由
- D. 现代法治通过国家的公共服务不仅可以消除彼此的对立,还可以帮助受到伤害的社会主体得以维系生存

存

26.以下推理,不正确的一项是()。

- A. 现代法治的特点决定了民众能够事先知道国家提倡什么、允许什么、禁止什么
- B. 重视大多数人的权益,同时不忽略对少数人和社会困难群体权益的关注,才能实现社会主体之间的和睦与社会公平

- C. 妥协和理性能保证自身的尊严和权利,实现人际的互惠
D. 注重惩罚破坏社会和谐的违法犯罪者是现代法治作为社会治理模式的实现

阅读以下短文,回答 27-30 题。

“清议”,《辞海》的解释是“公正的评论。古时指乡里或学校中对官吏的批评”。清议不只是一种发牢骚的民间舆论,实际上它对中国古代官场的政治运作具有不可小觑的影响。被清议褒扬的人往往为万民传颂,而遭受清议批评的人则往往仕途蹇滞,难得升迁。因此,古人对清议非常在意。《南史·宋武帝记》曰:“其犯乡论清议,赃污淫盗,一皆荡涤。”顾炎武也说:“两汉以来,犹循此制,乡举里选,必先考其生平,一玷清议,终身不齿。”

在晚明内忧外患日剧、一片扰攘动荡的政治文化景象中,清议也扮演了空前绝后的重要角色,而掀起明末清议高潮的则是东林党。黄宗羲《明儒学案》说:“天下君子以清议归于东林,庙堂亦有畏忌。”检读明史列传,因“得罪清议”、“为清议不齿”、“为清议所弃”等缘由遭贬谪或丢官者达数十位之多;“不顾清议”、“清议不畏”也成为攻击政敌的常用辞令。

顾炎武对清议的作用评价很高,他说:“天下风俗最坏之地清议尚存,犹足以维持一二,至于清议亡,而干戈至矣。”晚明清议主要通过议论朝政得失与朝臣品性,对朝廷政事发挥一定的监督和影响,而士大夫又通过这种舆论工具与宦官集团作斗争,应该说,这是有积极作用的。

但明代士大夫还有一种风俗,即争意气而不争是非。明代君臣尤喜意气用事,君臣之间一再意气相争。如明神宗因为立储一事与大臣反复较量,最终不得不屈服于众意,但失意后的皇帝竟然置江山社稷于不顾,深居后官不问国事,创下皇帝不上朝的纪录。不仅君臣之间争意气,臣僚之间也互相以意气用事。景帝时,甚至有廷臣群殴,当场捶杀政敌。这就是所谓“士大夫峻门户而重意气”。

当清议风气与这种意气之争结合到一起时,清议往往沦为党争的工具,对政局产生诸多消极影响。正如首辅叶向高所云:“今日世道,得清议之力,亦受清议之苦。”尽管东林党以正人君子自居,但就连最敬佩东林人士的黄宗羲也承认,“东林中亦多败类,及攻东林者,亦间有清操之人。”他们过分严于君子小人之辨,以自我为中心,只要有人与自己意见相左,即视为小人。

由于“居官有所执争,则清议寓然归之”,因而在晚明愈演愈烈的清议风气还直接影响到朝廷政令和朝廷决策,经常是一个建议或措施尚未出台,就招致众多清流之士的抨击议论。他们引经据典、海阔天空地大加反对,使得不少救国良策泡汤;廷议国事不以大局为重,对方说是,我必说非,互相扯皮,争论不休,“上与下异心,朝与野异议”,使朝政难于达成一致。史称:“比者不容于清议,而争则名高。故其时端揆之地,遂为抨击之从,而国是淆矣。”

晚明清议影响之大,在朝廷用人问题上也多有反映。其时,对官员任免甚至是边关将帅的选用,往往不论真才实干,先论人品如何;考量官员功过也不计国计民生,而一味穷究他们的只言片语:“今之国语乡评,皆绳人以细行,细行一亏,若不可容于清议,至于大节都脱略废坠,浑不说起。”

所谓众口铄金,积毁销骨。在晚明政治中,不少人就是因为无意中触动这张清议大网,最后稀里糊涂丢了乌纱帽甚至身家性命。熊廷弼、孙承宗、袁崇焕等一批叱咤沙场的名将都未能逃脱这张巨网。

在那个社会动荡、经济混乱、烽烟四起、亡国之祸迫在眉睫、救亡图存刻不容缓的时代,“东林之持论高,而于筹敌制寇卒无实着”。更有一批褊狭、迂腐的所谓清议君子以舌为枪、唇为剑,在政争中党同伐异、混淆是非,而明朝江山也在这喋喋不休、重意气而轻是非的清议声中走到尽头。

——户华为《重意气轻是非的晚明清议》,有删改,载 2006 年 4 月 16 日《光明日报》

27. 以下对“清议”的理解,正确的一项是()。

- A. 清议起源于明朝,以民间舆论为主
B. 明朝风俗最坏的地方也尚存清议
C. 清议主要是对官员道德的品评
D. 清议沦为党争工具的主要原因在于争意气而轻是非

28. 有关“清议”积极意义的说法,错误的一项是()。

- A. 清议对古代官场的政治运作具有积极作用
B. 清议能在一定程度上维持纯正的社会风俗
C. 在免于意气之争的年代,清议能够产生救亡图存的良策
D. 清议的作用最大地体现为对政事的监督

29. 有关晚明清议重意气而轻是非的说法,错误的一项是()。

- A. 晚明清议重意气而轻是非在朝在野都有所表现
B. 晚明士大夫峻门户而重意气即是以清议相区别
C. 为清议所忽视的常常是事物矛盾的主要方面与具体可实施的问题解决办法

D. 晚明清议囿于君子小人之争,并以争辩为高明而不论是非

30.以下说法,错误的一项是()。

A. 东林党人“家事、国事、天下事、事事关心”,但过于以自我为中心,终成为以清议误国之祸首

B. 孔子说:“君子矜而不争,群而不党。”如果士大夫坚持这样的原则,或许可使清议免于沦为党争的工具

C. 重意气而轻是非的清议是袁崇焕等名将之死和明朝灭亡的原因之一

D. 科学评价清议的作用对正确引导当今舆论也具有积极意义

第一部分结束,请继续做第二部分!

第二部分 数量关系

(共 15 题,参考时限 15 分钟)

本部分包含两种类型的试题:

一、数字推理。下面的数列都缺少其中一项,请仔细观察数列的排列规律,然后从四个供选择的选项中选出你认为最合理的一项来填补空缺项(共 7 小题,每小题 1.2 分,共 8.4 分)。

【例题 11, 3, 5, 7, 9, ()。

A. 7 B. 8 C. 11 D. 未给出

解答:正确答案是 11,原数列是一个等差数列,故应选 C。

31.59, 33, 18, 8, 5, ()。

A. 0 B. 1 C. 2 D. 3

32.18, 13.5, 12, 11.25, ()。

A. 9.75 B. 10.5 C. 10.8 D. 11

33.2, 1, 5, 11, 111, ()。

A. 1982 B. 1678 C. 1111 D. 2443

34.2, 10, 6, (), 3, 15。

A. 5 B. 4 C. 2 D. 0

35.60, 90, 108, 120, ()。

A. 147 B. 138.42 C. 128.57 D. 125.36

36.2, 12, (), 56, 90。

A. 54 B. 30 C. 22 D. 18

37.36, 8, 20, -32, 84, ()。

A. 54 B. -200 C. 223 D. -98

二、数学运算。请根据以下题干中提供的信息计算出正确答案(共 8 小题,每小题 1.2 分,共 9.6 分)。

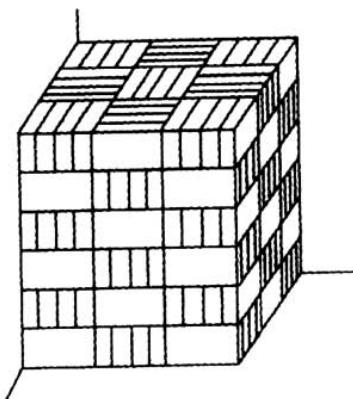
【例题】有 1 分、2 分、5 分三种同样个数硬币共 10 元,那么三种硬币共有()个。

A. 340 B. 355 C. 360 D. 375

解答:正确答案是 D。

38.墙角有一个两面靠墙的砖堆(如下图),共 216 块砖。现在把这个砖堆的表面涂满石灰,则被涂上石灰的砖共有()块。

A. 106 B. 98 C. 135 D. 90



39.有两家服饰店,第二家店服饰的平均价格比第一家店高出 15%,而第一家店每月的营业额却要高出第二家店 20%。则第一家店的商品销售量要比第二家高出约()。

A. 21% B. 32% C. 38% D. 53%

40.某活动安排如下：8：30 开始，两位主要领导发言各 5 分钟；之后专家讲座 80 分钟；自由提问 30 分钟；讲座中间中场休息 15 分钟。由于堵车，专家于 9 点到达讲座现场。如果压缩内容为 70 分钟，其他不变，则这一会议最早几点结束？()

A. 10:55 B. 11:00 C. 11:05 D. 11:15

41.某大学生在一餐馆兼职，每天 1 小时。开始的 4 周他一共挣了 280 元。接下来几周，由于生意火爆，餐馆老板宣布将周六周日两天的小时工资提高 50%，并要求他将这两天的打工时间延长到每天 2 小时。如果该大学生是从星期三开始打工，则他可以比预计时间提前()天挣足 500 元。

A. 5 B. 6 C. 7 D. 8

42.小林在一家网上书店购买了四本书，全都为原价打 8 折。付款时，由于小王使用的是该书店的 VIP 账号，该书店又给这批书的总价打了 9.5 折。如果这些书的原价全都为整数，则小王最终的书款最不可能是()元。

A. 32.68 B. 41.04 C. 43.58 D. 47.12

43.科学家进行一项实验，每隔五小时做一次记录。已知做第十二次记录时，挂钟的时针恰好指向 9，那么第一次记录时，时针指向()。

A. 0 B. 1 C. 2 D. 3

44.小王购进同一规格的玻璃 1000 块，但在运输途中碰裂了一些。卖出完整的玻璃可以获得 40%的利润，而碰裂的玻璃只能降价出售，亏损 30%。最后结算时小王发现此次生意共获得利润 28.8%，那么碰裂了的玻璃共有()块。

A. 150 B. 160 C. 280 D. 300

45.某公司规定，员工薪酬总额（基本工资+奖金）为公司利润总额的 30%。其中，基本工资额每年固定。如果该公司去年人均收入 30000 元。其中基本工资每月 1200 元。今年该公司利润总额同比下降 20%，则该公司的人均奖金同比下降约()。（假设该公司人员并没有增加）

A. 20% B. 28.90% C. 33.2% D. 38.5%

第二部分结束，请继续做第三部分！

第三部分 判断推理

(共 40 题，参考时限 35 分钟)

本部分包含四种类型的试题：

一、演绎推理。下列每道题给出一段陈述，这段陈述被假设是正确的，不容置疑的。请你根据这段陈述，选择一个答案。注意：正确的答案应与所给的陈述相符合，不需要任何附加说明即可从陈述中直接推出（共 10 小题，每小题 1 分，共 10 分）。

【例题】某厂有五种产品：甲、乙、丙、丁、戊。他们的年销售额之间的关系为：丙没有丁高，甲没有乙高，戊没有丁高，而乙不如丙高。

哪种产品的年销售额最高？()

A. 甲 B. 乙 C. 丙 D. 丁

解答：该题正确的答案是 D。

46.某单位要从 100 名报名者中挑选 20 名献血者进行体检。最不可能被挑选上的是 2000 年以来已经献过血，或是 2002 年以来在献血体检中不合格的人。

如果上述断定是真的，则以下()最有可能被选上。

A. 小张 2002 年献过血，他的血型是 O 型，医用价值最高

B. 小刘 2003 年报名献血，因“澳抗”阳性体检不合格，这次出具了“澳抗”转阴的证明，并坚决要求献血

C. 大陈最近一次献血时间是在 1999 年，他因公伤截肢，血管中流动着义务献血者的血。他说，我比任何人都更有理由献血

D. 老孙 2000 年因体检不合格未能献血，2002 年体检合格献血

47.为了祛除脸上的黄褐斑，李小姐在今年夏秋之交开始严格按使用说明使用美雅祛斑霜。但经过整个秋季三个月的疗程，她脸上的黄褐斑毫不见少。由此可见，美雅祛斑霜是完全无效的。

以下()如果是真的，最能削弱上述结论。

A. 美雅祛斑霜获得了国家专利

- B. 美雅祛斑霜有技术合格证书
- C. 美雅祛斑霜是中外合资生产的, 生产质量是信得过的
- D. 如果不使用美雅祛斑霜, 李小姐脸上的黄褐斑会更多

48. 万家服务公司为推进“净菜进万家”这一活动, 请市场分析人员分析了这一活动在当地两所大学的市场前景。市场分析人员的报告认为这两所大学汇聚了众多国家级的高级知识分子, 提供洗净包好的净菜能够为他们节省大量的家务时间, 更好地做好教学科研工作, 因此会受到他们的欢迎。

以下()如果是真的, 最能削弱上述结论。

- A. 净菜的价格只比一般市场上卖的蔬菜略高
- B. 这两所大学的大部分家庭都雇佣了钟点工做各种家务, 付给钟点工的报酬比买净菜所增加的开支还少一些
- C. 净菜的花样品种比一般市场卖的蔬菜要少一些, 恐怕不能满足这两所大学这么多老师的口味
- D. 买净菜对这两所大学大部分的老师来说还是一件新鲜事, 恐怕要有一个适应过程

49. 很多自称是职业足球运动员的人, 尽管日常生活中的很多时间都在进行足球训练和比赛, 但其实他们并不真正属于这个行业, 因为足球的比赛和训练并不是他们主要的经济来源。

上面这段话在推理过程中做了以下()假设。

- A. 职业足球运动员的技术水准和收入水平都比业余足球运动员要高得多
- B. 经常进行足球训练和比赛是成为职业球员的必由之路
- C. 一个运动员除非他的大部分收入来自比赛和训练, 否则不能称为职业运动员
- D. 有一些经常进行足球训练和比赛的人们并不真正属于职业运动员行业

50. 某学校最近进行了一项关于奖学金对学习效率促进作用的调查, 结果表明, 获得奖学金的学生比那些没有获得奖学金的学生的学习效率平均要高出 25%。这充分说明, 奖学金对帮助学生提高学习效率的作用是很明显的。

以下()如果为真, 最能削弱以上的论证。

- A. 获得奖学金通常是因为那些同学有好的学习习惯和高的学习效率
- B. 获得奖学金的同学可以更容易改善学习环境来提高学习效率
- C. 学习效率低的同学通常学习时间长而缺少正常的休息
- D. 学习效率的高低与奖学金的多少的研究应当采用定量方法进行

51. 某家私人公交公司通过增加班次、降低票价、开辟新线路等方式, 吸引了顾客, 增加了利润。为了继续这一经营方向, 该公司决定更换旧型汽车, 换上新型大客车, 包括双层客车。

以下()最不可能是该公司做出这一计划的原因。

- A. 在该公司经营的区域内, 客流量将有增加
- B. 更换汽车的投入费用将在预期的利润中得到补偿
- C. 新汽车在质量、效能等方面足以保证公司获得预期的利润
- D. 驾驶新汽车将不比驾驶旧汽车更复杂、更困难

52. 在美国, 癌症病人的平均生存年限, 即从确诊为癌症到死亡的年限是 7 年, 而在亚洲癌症病人的平均生存年限只有 4 年, 因此美国在延长癌症病人生命方面的医疗水平要高于亚洲。

以下()如果为真, 最能削弱上述论证。

- A. 美国人自我保健意识总体上高于亚洲人, 因此美国癌症患者的早期确诊率要高于亚洲
- B. 美国人的平均寿命要高于亚洲人
- C. 在亚洲日本的癌症患者的平均生存年限是 8 年
- D. 在各种癌症中患者生存年限最短的肺癌的发病率美国要高于亚洲

53. 今年上半年, 即从 1 月到 6 月间, 全国大约有 300 万台录像机售出。这个数字仅是去年全部录像机销售量的 35%, 由此可知, 今年的录像机销售量一定会比去年少。

以下()如果为真, 最能削弱以上的结论。

- A. 去年的录像机销售量比前年要少
- B. 大多数对录像机感兴趣的家庭都已至少备有一台
- C. 录像机的销售价格今年比去年便宜
- D. 一般说来, 录像机的全年销售量 70%以上是在年末两个月中完成的

54. 某对外营业游泳池更衣室的入口处贴着一张启事, 称“凡穿拖鞋进入泳池者, 罚款五至十元”。某顾客

问：“根据有关法规，罚款规定的制定和实施，必须由专门机构进行，你们怎么可以随便罚款呢？”工作人员回答：“罚款本身不是目的。目的是通过罚款，来教育那些缺乏公德意识的人，保证泳池的卫生。”

上述对话中工作人员所犯的逻辑错误，与以下哪项中出现的最为类似？()

A. 管理员：“每个进入泳池的同志必须带上泳帽，没有泳帽的到售票处购买。”

某顾客：“泳池中那两位同志怎么没戴泳帽？”

管理员：“那是本池的工作人员。”

B. 市民：“专家同志，你们制定的市民文明公约共 15 条 60 款，内容太多，不易记忆，可否精简，以便直接起到警示的作用。”

专家：“这次市民文明公约，是在市政府的直接领导下，组织专家组，在广泛听取市民意见的基础上制定的，是领导、专家、群众三结合的产物。”

C. 甲：“什么是战争？”

乙：“战争是两次和平之间的间歇。”

甲：“什么是和平？”

乙：“和平是两次战争之间的间歇。”

D. 甲：“一样东西，如果你没有失去，就意味着你仍然拥有。是这样吗？”

乙：“是的。”

甲：“你并没有失去尾巴。是这样吗？”

乙：“是的。”

甲：“因此，你必须承认，你仍然有尾巴。”

55.某地电话公司目前开始为消费者提供电子接线员系统服务，然而在近期内，该公司的人工接线员并不会因此减少。

下列()不能帮助解释上述现象。

A. 需要人工接线员帮助的电话数量剧增

B. 尽管已经过测试，新的电子接线员系统要全面发挥功能还需进一步调整

C. 如果在目前的合同期内解雇人工接线员，有关方面将负法律责任

D. 新的电子接线员系统与人工接线员接拨电话的效率相差无几

二、类比推理。以下题目会先给出一对有着内在联系的词，请你找出这对词的内部逻辑，并在选项中找到逻辑与之最为贴近的一对（共 10 题，每题 0.8 分，共 8 分）。

【例题】义工：职员

A. 球迷：球员 B. 学生：老师 C. 志愿者：雇员 D. 新手：生手

解答：此题正确答案为 C。

56.流言可畏：积毁销骨

A. 得寸：进尺 B. 学富五车：才高八斗 C. 辞旧：迎新 D. 千手千眼：百口莫辩

57.初生牛犊不怕虎：事非经过不知难

A. 韶华难再：青春易老 B. 为人师表：垂宪万世
C. 认知：实践 D. 儿童相见不相识：笑问客从何处来

58.曾国藩：太平天国

A. 李鸿章：甲午战争 B. 项羽：楚汉之争 C. 曹操：黄巾起义 D. 唐玄宗：安史之乱

59.广东：福建

A. 山西：湖北 B. 甘肃：青海 C. 上海：天津 D. 云南：海南

60.老舍：曹禺

A. 李白：王安石 B. 张衡：曹操 C. 陶渊明：岳飞 D. 华罗庚：陈景润

61.无为而治：济世经邦

A. 义无反顾：自强不息 B. 花开富贵：龙凤呈祥 C. 博晓今古：学贯中西 D. 和而不同：优胜劣汰

62.美国：墨西哥

A. 中国：法国 B. 德国：意大利 C. 韩国：加拿大 D. 英国：澳大利亚

63.知：行

A. 难：易 B. 唯物：唯心 C. 吾心：宇宙 D. 质：量

64.祖冲之：孙行者

A. 陶然亭：张之洞 B. 瑞士：荷兰 C. 玉容寂寞泪阑干：梨花一枝春带雨 D. 柳下惠：李东阳


65. 红豆：相思

A. 冬雷：夏雪 B. 柳絮：闲愁 C. 海棠：骨气 D. 孤寂：大漠

三、图形推理。下列共包含两种题型，请依据每种题型前的说明选择最适合填入问号的一个选项（共 10 小题，每小题 0.9 分，共 9 分）。

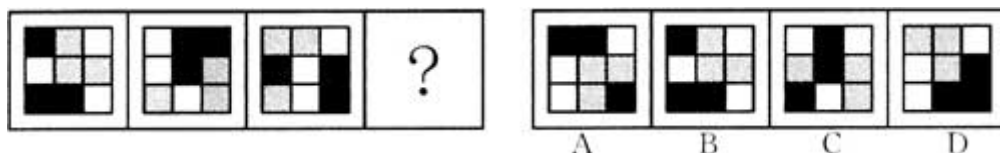
题型一：以下每道题包含一组存在一定变换规律的图形和可供选择的四个图形。要求你从四个选项中选择你认为是最适合取代问号的一个。正确的答案将符合原来图形的变换规律（共 6 题）。

【例题】

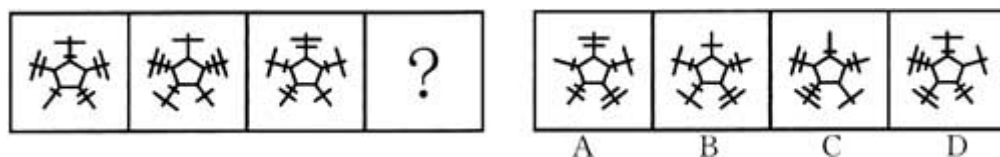


解答：该题正确的答案是 D。

66.



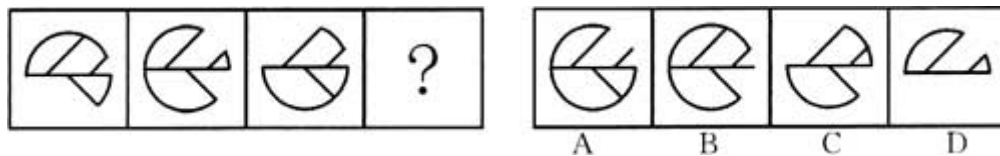
67.



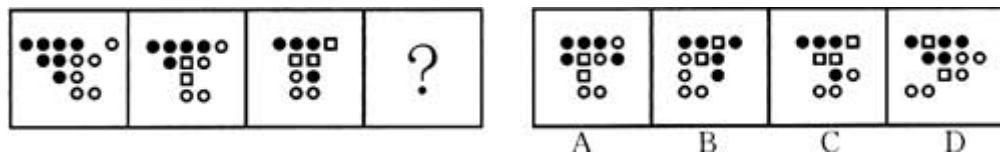
68.



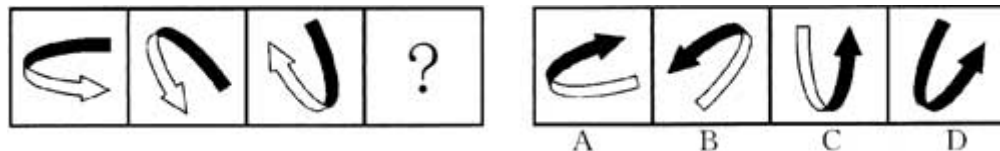
69.



70.

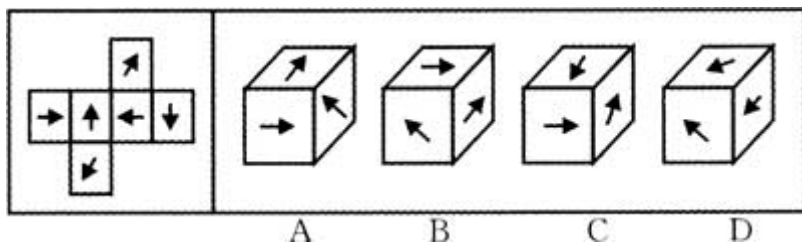


71.



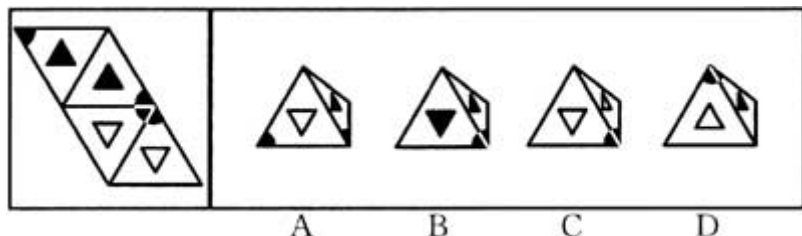
题型二：要求你从以下每道题的四个选项中选择出依据题干折叠或旋转而成的图形。正确的答案将可以由题干折叠或旋转而成（共 4 题）。

【例题】下图左为一展开的平面图形，所给的四个选项中，不能由该平面图形折叠而成的是()。

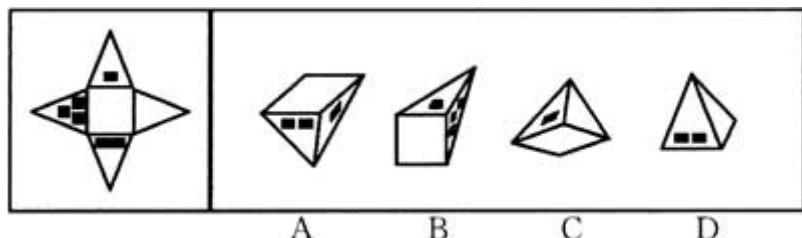


解答：该题正确的答案是 D。

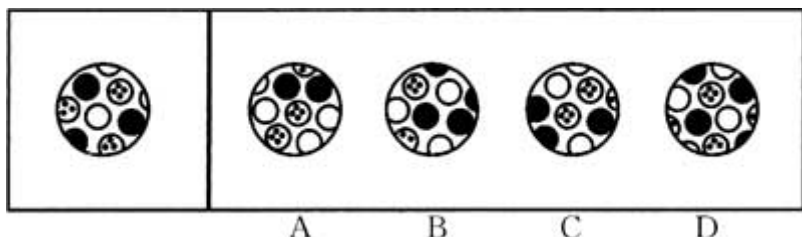
72. 题干可以转换成()。



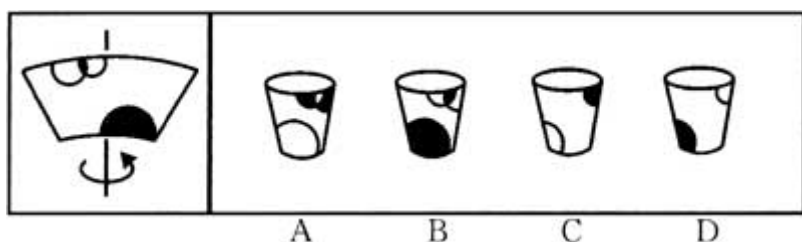
73. 题干可以转换成()。



74. 题干可以转换成()。



75. 题干可以转换成()。(其中箭头方向为图形弯曲方向)



四、常识判断。请你依据常识作出判断。注意：似乎合理的答案可能有多种，你应选择最为合理的一个（共 10 题，每小题 1 分，共 10 分）。

【例题】随着世界经济发展的需要，一些国际经济组织应运而生，而今天最广泛也最具有权威性的国际经济组织是()。

A. 国际货币基金组织 B. 世界银行 C. 世界贸易组织 D. 欧洲经济共同体

解答：A、B、D 都不及世界贸易组织的影响广泛和具有权威性，因此正确答案选 C。

76. 从人类历史的发展经验来看，建立一个持久和平、共同繁荣的和谐世界，必须致力于()。

- A. 实现经济社会和谐发展、实现人类共同价值观形成、实现人与自然和谐相处
- B. 促进经济全球化、促进各国相互依赖、促进不同文明整合
- C. 实现各国和谐共处、实现全球经济和谐发展、实现不同文明和谐进步
- D. 促进区域协调发展、促进人与自然和谐发展、促进不同文明和谐统一

77. 以下说法不正确的一项是()。

- A. “八荣八耻”涵盖了爱国主义、集体主义、社会主义思想,反映了社会主义世界观、人生观、价值观
- B. 西部大开发实施六年多以来,西部地区 GDP 2005 年比 2000 年翻了一番,与东部发达地区的差距也在缩小
- C. 生产发展、生活宽裕、乡风文明、村容整洁、管理民主是社会主义新农村建设的根本要求
- D. 2006 年上海合作组织元首会议确定,打击恐怖主义、分裂主义、极端主义的威胁和非法贩运毒品,仍是该组织的优先工作
- 78.以下说法不正确的一项是()。
- A. 脱离了现代科技革命,马克思主义哲学的发展就失去了动力
- B. 世界无限的发展过程是通过具体事物的有限的过程集合而成的
- C. 没有真理就没有谬误,没有谬误也就没有真理
- D. 生产关系体现着人与自然界的关系,生产力体现着人和人之间的关系
- 79.以下说法正确的一项是()。
- A. 陈后主迷恋后宫,终于在“王睿楼船下益州”后,“一片降幡出石头”
- B. 程朱理学是宋以后(含两宋)道学主流
- C. 柳宗元“文起八代之衰,而道济天下之溺”,发起并推动了历经唐宋的古文运动
- D. 姜夔说:“淮左名都,竹西佳处……自胡马窥江去后,废池乔木,犹厌言兵。”反映了在金兵洗劫之后,扬州的萧条景象
- 80.以下说法不正确的一项是()。
- A. 世界上最早的纸币是我国四川地区的“交子”,它出现在北宋时期
- B. 晚清洋务派兴办洋务的根本目的是发展民族资本主义
- C. 15、16 世纪西欧宗教改革的实质是新兴资产阶级反封建的斗争
- D. 第三世界作为反帝国主义反殖民主义和反霸权主义的主要力量,是促进世界向多极化发展的最积极最活跃的因素
- 81.以下说法不正确的一项是()。
- A. 小磁针在磁场中它的北极所受磁力的方向为该点的磁场方向
- B. 同一个体内的红细胞与肌肉细胞有相同的基因
- C. 当植物在较弱光照条件下生长时,提高二氧化碳浓度,植物光合作用的速率并不会随之增加
- D. 胰岛、肝脏、肾小管对血糖含量相对稳定都能起到一定的作用
- 82.以下说法不正确的一项是()。
- A. 大气对太阳辐射的反射作用使地面得以保温
- B. 在不同的情境中,人们对同一事件的回忆可能是不同的
- C. 心理学认为,在儿童早期,动作是儿童思维的方式,动作停止思维也随之停止
- D. “早睡早起,与鸡俱兴,使志安宁,收敛神气”是人在秋天重要的养生方法
- 83.以下说法正确的一项是()。
- A. 历史与现实相矛盾时以现实为主的原则是法律解释的基本原则之一
- B. 司法审查中被告负举证责任
- C. 法能够确认、协调利益,但不能实现利益
- D. 马克思主义认为法的内容是由统治阶级的精神生活条件决定的
84. 以下说法不正确的一项是()。
- A. 行政许可的实施和结果,除涉及国家秘密、商业秘密、个人隐私外,应当公开
- B. 盗窃信用卡并使用的,构成侵占罪
- C. 法人的民事权利能力和民事行为能力,从法人成立时产生
- D. 公务员的培训情况、学习成绩是公务员考核的内容和任职、晋升的依据之一
- 85.以下说法不正确的一项是()。
- A. 公有制的实现形式可以而且应当多样化,一切反映社会化大生产规律的经营方式和组织形式都可以大胆利用
- B. 在社会主义初级阶段,劳动者的劳动还不能直接地表现为社会劳动,按劳分配还必须通过商品货币形式来表现
- C. 在市场经济中,价格的调节可以使资源配置达到最优状态

D. 在完全垄断市场上, 不论商品的产量如何, 厂商的平均收益总等于边际收益

第三部分结束, 请继续做第四部分!

第四部分 资料分析

(共 15 题, 参考时限 15 分钟)

请根据以下给出的图表、文字资料进行分析。选出符合题目要求的正确答案(共 15 题, 每题 1 分, 共 15 分)。

根据下表, 回答 86-90 题(答案精确到小数点后 1 位):

浙江、福建、广东三省单位数与个体经营户数

	浙江		福建		广东	
	单位数 (万个)	比重 (%)	单位数 (万个)	比重 (%)	单位数 (万个)	比重 (%)
一、法人单位	40.38	100	16.61	100	43.5	100
企业法人	30.93	76.6	10.53	63.4		77.5
机关、事业法人		7.9	3.02	18.2	5.05	11.6
社会团体及其他法人		15.5				
二、产业活动单位	47.72	100	21.77	100	55.16	100
第二产业	20.29	42.5	5.93			30.0
第三产业	27.43	57.5			38.63	
三、个体经营户		100	133.56	100	269.77	100
第二产业	68.54	24.8	21.37	16		
第三产业	207.72	75.2	112.19	84		88.8

——资料来源:国家统计局

86.浙江省机关、事业法人单位数量约为()。

- A. 3.9 万个 B. 24.7 万个 C. 3.2 万个 D. 6.2 万个

87.福建省第三产业的产业活动单位数量占该省产业活动单位数量的比重约为()。

- A. 15.8% B. 72.8% C. 27.20% D. 57.5%

88.广东省第二产业个体经营的数量约为()万个。

- A. 30.2 B. 207.7 C. 239.5 D. 133.6

89.浙江省的社会团体及其他法人比广东省的约多()万个。

- A. 1.5 B. 4.6 C. 3.0 D. -3.1

90.根据表格, 以下说法正确的一项是()。

- A. 福建省的第二、第三产业在上述三省中发展最不均衡
B. 上述三省中从事第三产业的个体经营户总人数均超过从事该产业的产业活动单位的职工总数
C. 广东省在上述三省中拥有数量最为庞大的机关、事业单位
D. 由产业活动单位数量可以推知, 浙江省的第二、第三产业经济总量低于广东省的 7.44%

根据以下材料, 回答 91-95 题:

2005 年, 广东最大的 50 家企业实现营业收入 15050.66 亿元, 利润总额 1032.51 亿元。5 年时间, 营业收入增加到原来的 2.7 倍, 利润总额增加到原来的 1.8 倍。2005 年这 50 家企业中营业收入最高的为 1928.6 亿元, 是 2000 年的 3.1 倍; 户均营业收入为 301 亿元, 户均利润 20.7 亿元, 比 2000 年分别高出 187 亿元和 9.14 亿元。

2000 年, 50 强中制造业企业有 22 家, 未超过半数。2005 年, 制造业企业则占到总体的六成。尤其是通信设备、计算机及其他电子设备制造业, 入围 50 强的企业从 2000 年的 10 家企业增加到 2005 年的 16 家企业。到 2005 年, 通信设备、计算机及其他电子设备制造业的营业收入增加到 4423 亿元, 利润达到 125 亿元。5 年时间,

营业收入增加到原来的 5.3 倍,利润总额增加到原来的 1.8 倍。

2005 年,入围 50 强的国有企业 16 家,营业收入 5199 亿元,占总体的 34.5%。5 年间,国有企业的数量减少了 12 家,营业收入在整体中的比重下降了 28.5 个百分点。2005 年,50 强中股份有限公司的数量增加到 12 家,营业收入增加到 3955.7 亿元。营业收入占总体的比重从 2000 年的 12%增加到 26.3%。2000 年到 2005 年,入围 50 强的港澳台及外商投资企业由 8 家增加到 15 家,经营收入也由 748.4 亿元增加到 3997.6 亿元,占总体的比重由 13%上升到 25.6%。

——资料来源:国家统计局

91.2000 年,广东最大 50 家企业的利润总额约为()亿元。

A. 5706.6 B. 573.6 C. 15050.66 D. 1032.51

92.2000 年至 2005 年 50 强中通信设备、计算机及其他电子设备制造业的营业收入的年增长率大约为()。

A. 20% B. 30% C. 40% D. 50%

93.2000 年,50 强中国有企业的营业收入在整体中的比重是()。

A. 6.1% B. 28.5% C. 63% D. 53%

94.2005 年,入围 50 强的港澳台及外商投资企业同入围 50 强的国有企业相比,营业收入约少()亿元。

A. 800 B. 1800 C. 1600 D. 1200

95.由材料可以推断()。

A. 2000 年的 50 强中,营业收入最高的为 615.8 亿元

B. 从一定程度上讲,制造业优势地位的确立,与通信设备、计算机及其他电子设备制造业的迅速发展密不可分

C. 从总体上来看,国有企业在总体中的比重呈下降趋势,而其他经济类型企业在总体中的比重是否有上升趋势则不能确定

D. 2005 年,50 家企业的营业收入全部超过 100 亿元

阅读以下研究简介,回答 96-100 题:

为了验证“人们会从与自己相似的人那里获得行动线索”的假设,心理学家做了一个实验。

在纽约曼哈顿中心区,有超过 100 名的行人看到并拾起路上一个写着地址却没有贴邮票的信封。信封里有一个遗失的钱包和一封写给钱包主人的信。钱包里有两美元现金,一张签给 E. M.H 公司(研究项目成员名字的首字母组合)的支票,一张写着某人电话号码的纸片,一张钱包主人的身份信息卡(上面有钱包主人的姓名、电话号码和地址),以及其他一些东西。钱包主人名叫迈克尔·欧文——这个名字是研究者经过仔细挑选的,以避免含有种族或宗教的暗示。

在所有情况下,钱包和里面的东西都是一样的,有变化的是写给钱包主人的信。在一种实验条件下,写信者是这些与路人相似的人(即一个能流利使用英语、像本地人的写信者);而在另一种实验条件下,写信者则是一个与路人不同的人(即一个几乎完全不懂英语的外国人)。

另一个实验条件是不同的写信语气。在 1/3 的情况下,写信者用一种非常客气的语气(正性语气)写这封信,在另外 1/3 的情况下用一种中性的语气写信,在剩下 1/3 的情况下则是用一种不太客气的语气(负性语气)写信。

例如,一位操流利英语的人(“相似的人”)用不太客气的语气写的信是这样的:

欧文先生:

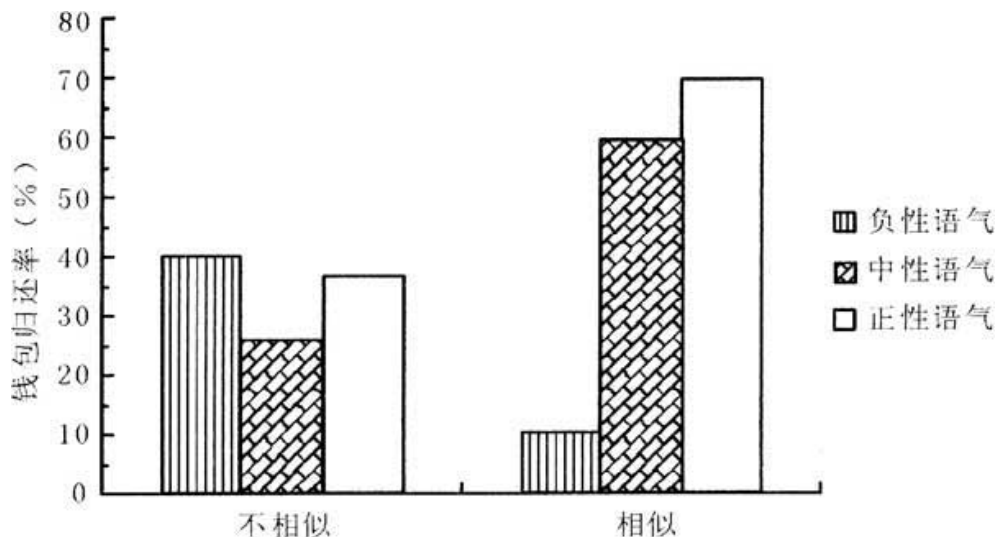
我找到了你的钱包,如今物归原主。所有的东西都在里面。照看和归还这个钱包的整个过程实在是很麻烦,我觉得相当厌烦。希望你能够对我有所感激。

而一位不相似的人用不太客气的语气写的信是这样的:

欧文先生:

我正在你们国家旅行,并不熟悉你们的行为方式。但是我发现了你的钱包,东西都在里面了。对这个钱包负责并将它物归原主很费劲。其中的过程实在是烦琐,希望你能够对我有所感激。

行人们是否会归还钱包?对这些行人归还钱包情况的统计结果如下图所示。所谓钱包归还率就是指将钱包寄往失主地址的行人人数占该种实验条件下拾起钱包者的比重。



写信者与自己的相似性

各种实验条件下行人归还丢失钱包的人数百分比

96.从所有参加实验者来看,当写信者与自己相似的时候,人们归还钱包的比率大约为()。

- A. 25% B. 35% C. 45% D. 60%

97.从所有参加实验者来看,当写信者使用中性语气时,人们归还钱包的比率大约为()。

- A. 25% B. 40% C. 55% D. 60%

98.从参加实验的这 100 多个人所在的整个社会群体来看,当写信者与自己不相似的时候,信的正性语气与负性语气所引起的归还钱包的比率差异最可能为()。

- A. 0 B. 10% C. 20% D. 30%

99.从参加实验的这 100 多个人所在的整个社会群体来看,当写信者使用正性语气时,写信者与参加实验者的相似性所引起的归还钱包的比率差异最可能为()。

- A. 10% B. 20% C. 30% D. 40%

100. 以下推断不正确的是()。

- A. 研究者精心挑选钱包主人的名字,是为了避免其他因素对实验结果产生干扰
B. 写信的语气以及写信者与参加实验者的相似性对钱包归还比率产生交互影响
C. 在写信者与参加实验者不相似的情况下,信件中性语气比信件不太客气语气所导致的钱包归还率低。从这一结果来看,该研究的人群抽样有很大漏洞
D. 实验的结果支持了“人们会从与自己相似的人那里获得行动线索”这一假设

全部测验到此结束!

👉 微信扫描二维码,关注“公务员考试挺简单”微信公众号,可获取更多公考经验。分享公考经验,还可获得现金奖励哈

👉 手淘扫描淘宝店铺,可以购买省考、国考历年真题哦



微信公众号



淘宝店铺