

2008 年广州市公务员录用考试《行测》真题

来源: W)

第一部分 言语理解与表达

(共 25 题, 参考时限 20 分钟)

本部分包含两种类型的试题:

一、言语表达: 请你从用词、语气、语法、辞章等方面对下列各题作出判断, 选出最符合题目要求的一个选项 (共 10 题, 每题 1 分, 共 10 分)。

1. 有报道称, 微软将以 200 亿美元收购雅虎搜索业务。但据《华尔街日报》报道, 该消息纯属_____。报道称, 包括莱文索恩在内的多个可靠消息均对此给予了否认。雅虎和微软的高层也否认了该消息, 同时表示, 近期不会有类似的交易谈判。

最适合填到划线处的词是()。

A. 子虚乌有 B. 人云亦云 C. 捕风捉影 D. 欲加之辞

2. 会上, 各地媒体_____, 很大原因是相信“老茂”——他一直被认为是影响中国网络发展进程的关键人物之一, 网上对他的评价是“用行动_____着纯粹的网络理想”。

最适合填到划线处的词依次是()。

A. 接踵而来, 实施 B. 议论纷纷, 体现 C. 纷至沓来, 实践 D. 络绎不绝, 代表

3. 时至今日, 以于丹等讲述传统经典的学者的_____, 奥运会开幕式的传统文化的_____, 中韩民间对于传统文化符号的_____等为标识, 知识分子的文化民族主义无论是在草根民间, 还是在国家意志层面, 似乎都得到了强有力的回应。

最适合填到划线处的词依次是()。

A. 备受争议, 异军突起, 认识 B. 时时无两, 琳琅满目, 比较
C. 风头正劲, 洋洋洒洒, 分歧 D. 风靡一时, 全面展示, 争夺

4. 有媒体报道称: 从明年开始, ACT 考试像托福考试一样可以接受社会报名, 在大陆考试。此消息立即_____各界震动。然而, 国家教育部却在次日发出_____声明, 称此报道不实。

最适合填到划线处的词依次是()。

A. 引起, 严正 B. 造成, 严正 C. 引起, 严重 D. 造成, 严重

5. 以下四个句子中, 不存在歧义的是()。

A. 他对有个关心自己的孩子深感自豪。
B. 深圳人真多。
C. 就在那一年, 我首次领教了令华人闻风色变的黑人区。
D. 取得硕士及以上学位以及外语专业大专及以上学历者外语免考。

6. 以下四个新闻标题中, 存在歧义的是()。

A. 中欧峰会推迟引发欧洲媒体关注 B. 百国将签署禁用集束炸弹条约
C. 绿色中国杂志社否认收取封口费要求减轻处罚 D. 北京公交集团否认李素丽贪污被抓

7. 以下四个句子中, 存在语病的是()。

A. 联合国安理会决定延长各国打击索马里海盗的授权, 同时呼吁联合国为打击海盗发挥协调作用。
B. 由于环境污染, 常继发厌氧细菌的严重感染, 极易发破伤风, 致使在当地或运送外地途中救治不及时而死亡。

C. 这是一个正在从农业社会向工业社会转化的国家, 如果用托夫勒的归类方法, 那就是正处在“第一次浪潮”与“第二次浪潮”之间的阶段。

D. 在已届耄耋之年的托夫勒和夫人海蒂的记忆中, 二十多年前他们第一次访问中国的情景, 清晰得仿佛就发生在昨天。

8. 以下句子中, 加点的成语使用不恰当的是()。

A. 环境专家试图用向湖里放鱼的方法治理湖水污染, 因为这里的渔业资源已经到了竭泽而渔的地步。
B. 有的父母习惯在饭桌上表扬或批评孩子, 一边吃饭, 一边轻描淡写地说几句, 既显得不够重视, 孩子也没听进去, 效果自然会差一些。

C. 作为记者, 我们必须尽快深入灾区, 第一时间报道真实灾情, 在这点上我们责无旁贷……

D. 把不同读者的不同要求烂熟于心, 在“配菜”时分门别类, 对编辑来说并不难。

9. 填入下面这段文字横线处的语句,衔接最恰当的一组是()。

我对学生们说,中国人的非凡之处,正在于他们永远是深邃的生命本体论者,他们

——, ——, ——, ——, ——, ——有何意义?

①出儒人道 ②那上下的求索

③以人生的认识终 ④从历史的追问起

⑤乃真历史主义者也 ⑥否则那追寻的叩问

A. ①④②⑤③⑥ B. ⑥①②④③⑤ c. ④③①⑤⑥② D. ⑤③④①②⑥

10. 把下面几个句子组成语意连贯的一段文字,排序正确的一项是()。

①从现在数据看,煤在我国的可开采量及供应年限远远大于石油。

②随着我国经济的快速发展,国内能源消费需求量越来越大。

③基于这样一些认识,人们开始研究各种转化方式,间接液化技术就是其中较为有效的方法之一。

④我国对石油进口的依存度较大。

⑤国际油价上涨、中东政局变化等因素,都会对我国石油能源安全构成潜在威胁。

⑥虽然“煤变石油”需要有足够的投入,但从经济效益来看,这种考虑还是可行的。

⑦有人考虑将煤转化为石油,以满足国内市场对石油的需求。

A. ②④⑤①⑦⑥③ B. ②⑤③④⑥①⑦ c. ②④⑤③⑦⑥① D. ⑤⑥⑦②①③④

二、阅读短文,然后回答问题(共15题,每题1分,共15分)。

11. 中国以世界上9.6%的自然资源,9.4%的资本资源,1.85%的知识技术资源,要为占世界人口26%的劳动力提供就业机会,毫不夸张地说,这本来就是一场就业战争。眼下,国际金融危机日显,摆在中国面前的这场仗,到底该怎么打?

本文中“这场仗”指的是()。

A. 如何在竞争激烈的就业战争中获胜

B. 如何摆脱国际金融危机对国内经济的影响

C. 如何在资源更加受限的状况下解决国内劳动力就业问题

D. 如何在世界劳动力市场上占据优势

12. 美国的“救市”政策,是在次贷金融泡沫破裂后为维持经济正常运转而采取的补救措施。而中国房地产市场的短期不景气,实质是在房地产泡沫的制造过程中的阶段性受阻。此时如果政府在金融、信贷等方面放手进行所谓的“救助”,那就意味着支持房地产业可以继续吹大泡沫。

这段话意在说明()。

A. 中国房地产泡沫和美国有着本质的区别 B. 中国政府的“救市”措施不当从金融、信贷方面入手

C. 中国的房地产泡沫最终将破裂

D. 中国政府不应在此时出手“救市”

13. 美国食品安全与应用营养学中心主任斯蒂芬·森德洛夫说:“我们从奶制品中检测出的三聚氰胺含量极低,从公众健康或婴儿健康的角度看,我们认为微量三聚氰胺完全没问题。如果父母先前给婴儿食用某种产品,那么应该继续这样做。这样对婴儿最为有利。”

这段话中,斯蒂芬主要想告诉大家()。

A. 奶制品中的三聚氰胺含量极低

B. 婴儿应该继续食用奶制品

C. 微量三聚氰胺对人体没有危害

D. 维持婴儿良好的饮食习惯对婴儿的成长非常重要

14. 各级“社情民意中心”近几年以相对符合学术规范的手段调查,并形成完整的数据报告,已经确立了一定的权威性。不过,这些“民意中心”,要么脱胎于政府部门,要么直接就是政府部门下属机构,半官方性质,决定了其根本价值取向。

这段文字主要表达的意思是()。

A. 政府社情民意中心具有规范的调查手段和权威的数据,其调查的结果值得肯定

B. 各级社情民意中心的调查结果受到其机构性质的影响

C. 应重新审视“民意调查”的作用及其可信度

D. 政府不应干预“民意调查”

15. 假若还有人在怀疑美国是否真是一个一切皆有可能的国度,假如还有人在质疑我们的奠基者的梦想是否依然存活于我们这个时代,假如还有人对我们民主制度的力量半信半疑,那么今晚你得到了一个答案。

这段话主要说明了()。

- A. 民众应该对美国民主制度与活力保有绝对信心
- B. 今晚将发生一件能够证明美国的民主与活力的事情
- C. 美国的变革时刻即将来临
- D. 美国需要的是对传统政治文化的坚持

16.人类曾为自己远离自然界的进化而荣耀，更为自己以理性的铁蹄征服自然而豪情万丈。然而翻阅一下人类那充满金戈铁马的史籍，想一想那足以把地球毁灭几十遍的核武库，数一数由于生态恶化而每天都在灭绝的物种，我们人类作为一个种类的存在，作为地球生物圈一个链环的存在，究竟比自然界的其它生物高明多少？

作者写这段文字的本意是()。

- A. 指出人类对自然所造成的破坏
- B. 指出人类的价值理念使人类忽视对自然界的尊重
- C. 指出人类在自然界面前应该感到汗颜和羞愧
- D. 指出人类认为自己凌驾于其它生物之上这一认识的错误

17.如果说农业就地产业化意味着农村就地城市化，那么与农民流动到城市、在城市实现城市化两个加在一起，是否就能结合共举、实现城乡统筹呢？湖南长沙市郊区的长沙县，它的统筹经历，似乎已经告白了一个国家有可能实现的城乡统筹机会。

本文接下来的内容最可能是()。

- A. 分析农业就地产业化与农民城市化的共同联系与影响因素
- B. 长沙县实例说明农业就地产业化不等于农村就地城市化
- C. 分析说明怎样才是结合共举、城乡统筹
- D. 介绍长沙县在实现城乡统筹过程中的实践与经验

18.公选干部是传统的干部组织考察提拔制度与现代的公职人员考录任用制度的一种结合。公选干部，一是强调“公”字，公开推荐与公开选拔打破了传统的干部提拔任用上的封闭性、模糊性、人为操作性，至少让公众对提拔的领导干部有一份信任。这是亮点之一。

这段文字指出，公选干部的亮点之一是()。

- A. 真才实学者能够突破资历、身份的限制，脱颖而出
- B. 基层和民间的饱学之士走到台前，发挥治理才能，开辟一条坦途
- C. 公开推荐和公开选拔
- D. 任用的公开公正，赢得公众认可

19.在专业主义盛行的今天，记者的采访工作日益成为流水作业，按部就班的新闻制作框架掩盖了很多原则的必要性和重要性。而这场地震，却在很大程度上重新唤醒了新闻报道中的道德要求——这里的道德，绝不仅仅是简单的是非善恶的判断和专业操守的遵守，更包括广博而浓重的人文关怀，以及关怀背后的承担勇气。

对以上这段话概括最准确的是()。

- A. 这场地震再次唤醒了早已被忽略了的新闻报道中的道德的要求
- B. 新闻报道需要有道德要求
- C. 新闻报道的道德要求不仅包括职业操守，还包括人文关怀和勇气
- D. 新闻工作者应当按照新闻道德要求报道这场地震

20.庄学精神，就是“想得开”的精神。在庄子看来，人生中有许多人为的门和壁障，如机巧、智识、功名、利禄等，封闭了我们自由的心灵。人生的真实意义，必须打破这些壁障才能获得，《庄子》讲的就是勘破富贵功名、声色犬马，引领人们由一个自我封闭的心灵空间，进入无限自由的精神境界，抵达自由人生的境界。

下列对“庄学精神”内涵的解说，最准确的是()。

- A. 就是“想得开”的精神
- B. 能引领人们由一个自我封闭的心灵空间，进入无限自由的精神空间
- C. 是一种借精神空间的拓阔，来实现人的个体自由感的哲学精神
- D. 是一种视界开放、空间体验伸展的自由精神

依据下列短文回答 21-22 题：

这两种对待传统文化的不同态度，其实共享着相同的历史前提，那就是无论反传统，还是高扬传统，都是发生在一个曾经强大而今落后挨打的弱国之中。因此，对于传统文化的反叛或者回归，其根本的落脚点，往往

并不在文化，而是在国家，准确地说就是曾作为“东亚病夫”的中国人如何铸就一个现代化的民族国家。正因为这个原因，中国的文化民族主义，从一产生以来，就是一种政治性的文化民族主义，承载文化民族主义的主体不是文化，而是国家。

21. “这个原因”最可能是()。

- A. 对待传统文化的不同态度，都是为了铸就现代化的民族国家
- B. 反传统与高扬传统都有着相同的历史前提
- C. 反传统与高扬传统是对待传统文化的不同态度
- D. 传统文化的落脚点在于国家，而非文化

22.从本文可以看出，作者认为()。

- A. 落后挨打的弱国背景造就了两种对传统文化的不同态度
- B. 当代中国的文化民族主义运动将降低
- C. 文化与政治是相互影响的
- D. 两种对待传统文化的不同态度对中国发展起着同样的作用

依据下列短文回答 23-25 题：

千百年来，“偏见”一词一直是带贬义的。在人们心目中，偏见就意味着错误，因此，人人都不应当有偏见。

进入现代社会，传统的偏见观开始动摇。美国哲学家桑塔亚那指出：人的见解是受利益驱动的，而利益上的差异必然会导致偏见的产生。德国存在主义哲学家海德格尔认为，理解是有条件的，人对事物的理解必然要受社会文化背景、传统观念等等因素的影响，这些因素在理解活动中起着先入为主的作用。德国哲学家伽达默尔明确指出：“_____”

伽达默尔认为，偏见是人的历史存在状态，是一切理解得以进行的先决条件；偏见是人的视界，真正的理解过程是视界融合的过程，即解释者的偏见与被解释者的内容相融合并产生意义的过程。特别值得一提的是，伽达默尔将偏见分成两大类，一类是“合理的偏见”，另一类是“盲目的偏见”。合理的偏见是每个人都不可避免的，它是由历史传统造成的，我们每个人都生活在传统中，传统是无法超越的东西，而接受了传统也就意味着看问题有了自身的视角，意味着看问题的偏见性，因此合理的偏见是无法避免也不应该避免的。而盲目的偏见则是由于认识上的主观错误，如盲目崇拜权威，轻率下结论等原因造成的，这种偏见是应当克服而且是可以克服的。

23.最适合填入文中划线处的一句是()。

- A. ‘偏见’不应当是贬义词。
- B. 现在该是为偏见平反昭雪的时候了。
- C. 偏见蒙受了千百年不白之冤。
- D. 即使是科学理论也都带有片面性或偏见性。

24.本文指出，偏见产生的主要原因是()。

- A. 人是受利益驱动的，而利益上的差异必然会导致偏见的产生
- B. 偏见是无法避免也不应该避免的
- C. 盲目崇拜权威，轻率下结论等认识上的主观错误
- D. 个人无法逾越的社会文化背景、传统观念等等因素的作用与影响

25.伽达默尔认为()。

- A. 理解是建立在偏见之上的
- B. 理解是合理偏见与不合理偏见的融合
- C. 我们应当将不合理的偏见转化为合理的偏见
- D. 只有集合众人观点才能消除偏见

第二部分 数量关系

(共 15 题，参考时限 15 分钟)

本部分包含两种类型的试题：

三、数字推理：下面的数列都缺少其中一项，请仔细观察数列规律，然后从四个供选择的选项中选出你认为最合理的一项来填补空缺项（共 5 题，每题 1 分，共 5 分）。

26. 99, 83, 26, 14, ()

- A. 12
- B. 10
- C. 8
- D. 6

27. 3, 16, (), 96, 175, 288

- A. 40
- B. 45
- C. 48
- D. 54

28. 2, 8, 4, 64, 8, 512, 6, ()

- A. 4096
- B. 384
- C. 216
- D. 842

29.3, 4, 12, 39, ()

A.79 B. 99 C. 100 D. 103

30.0, 1, 3, 10, 6, 7, ()

A. 101 B. 102 C. 103 D. 104

四、数学运算：请根据以下题干中提供的信息计算出正确答案（共 10 题，每题 1 分，共 10 分）。

31.某旅游团共有男士 49 人，女士 47 人，住在一个旅馆里。旅馆里共有可住 13 人、7 人、5 人的三种房间。要做到男女分住，且每个房间都住满，服务员最少要动用()个房间。

A.14 B.10 C.9 D.8

32.某原料供应商对其顾客实行如下优惠措施：①一次购买金额不超过 1 万元，不予优惠；②一次购买金额超过 1.1 万元，但不超过 3 万元，给九折优惠；③一次购买金额超过 3 万元，其中 3 万元九折优惠，超过 3 万元的部分八折优惠。某厂因库容原因，第一次在该供应商处购买原料付款 8800 元，第二次购买原料付款 25200 元。如果该厂一次购买同样数量的原料，可以少付()。

A.1560 元 B.1920 元 C.3800 元 D.4360 元

33.有一本故事书，每 2 页文字之间一定有 5 页插图，连续的 5 页插图前后一定各有 1 页文字。假如这本书共有 113 页，第一页是插图，则这本书共有插图()页。

A. 95 B.80 C.81 D. 94

34.现在有 6 把钥匙 6 把锁，一把钥匙只能开一把锁，但不知哪把钥匙开哪把锁，则最多要试()次就能配好全部的钥匙和锁。

A.15 B.16 C.21 D. 18

35. 甲乙两个公司，甲公司原有员工 300 人。在经济大萧条时期，甲公司的员工被辞退 1/3，乙公司的员工被辞退 3/8。一个月后，乙公司剩下员工中又有 10%跳槽到甲公司。这时，甲乙两个公司的员工一样多。那么乙公司原有员工()人。

A.480 B.432 C.400 D.336

36.某包子店的包子每个卖 0.5 元，包子的制作成本为 0.35 元。今早，当包子店的包子卖剩 20 个时，包子店已经获利 17 元。则包子店今早共制作了()个包子。

A.150 B.160 C.180 D.200

37.乘火车从甲城到乙城，1998 年初需要 19.8 小时，1998 年火车第一次提速 25%，2000 年第二次提速 10%，2004 年提速 200/0。三次提速后，从甲城到乙城需要()小时。

A.10 B.12 C.13.2 D.15

38.某商品共 80 件，出售给 44 位顾客，每位顾客最多买 3 件。买 1 件按原定价，买 2 件则总价降 100/0，买 3 件则总价降 200/0。最后结算，平均每件恰好按原价的 88%出售，则买 3 件的顾客有()人。

A.12 B.10 C.9 D.6

39.某剧院有 33 排座位，后一排比前一排多 3 个座位，最后一排有 135 个座位。这个剧院一共有()个座位。

A.2784 B.2871 C.2820 D.2697

40.画展 9 点开门，但 8 点 15 分就有第一个观众提前到来排队等候入场。假设观众不停地来，且每分钟来的观众一样多。如果开 5 个入场口，9 点 5 分就没有人排队。那么如果开 3 个入场口，不再有人排队的时间是()。

A. 9 点 10 分 B.9 点 8 分 C.9 点 7 分 D.9 点 9 分

第三部分 逻辑推理

(共 30 题，参考时限 25 分钟)

本部分包含四种类型的试题：

五、逻辑判断：下列每道题都给出了一段陈述，这段陈述被假设是正确的，不容置疑的。请你根据这段陈述，从备选项中选择一答案。注意，正确的答案应与所给的陈述相符合，不需要任何附加说明即可从陈述中直接推出（共 7 题，每题 1 分，共 7 分）。

41.贪污犯罪是故意犯罪。甲不是故意犯罪，因此甲不是贪污犯罪。

以下哪项推理的逻辑与上述逻辑最为类似？

A. 如果被告属于伤害罪，则应有显著的危害结果。被告的行为造成了显著的危害结果，因此构成伤害罪

B. 雌雄同体植物都是自体繁殖。陆地蜗牛雌雄同体，却是异体繁殖，因此陆地蜗牛不是植物

C. 追看韩国电视剧的观众,都是已婚女性。小韩不喜欢追看韩国电视剧,因此她不是已婚女性

D. 在金龙大厦工作的白领都穿西服。李先生穿着休闲服,因此他不在金龙大厦工作

42. 研究显示,一般人随着年龄的增长,用于运动的时间将逐渐减少,而用于看电视的时间将逐渐增多。

而且在今后 20 年,城市人口中老年人比例将有明显的增长。因此本公司应当及时售出“腾达运动鞋”公司的股份,并增加对电视公司的投资。

以下哪项不是作出以上推理所必要的前提?

A. 看电视人群的增加能提升电视公司的收益

B. 一般人减少运动时间,其对运动鞋的需求也将降低

C. 一般人所参与的绝大部分运动都必须穿着运动鞋

D. 一般人的运动、休闲习惯的这一发展趋势在 20 年内不会有明显的改变

43. 当代知名的服装设计大师们,绝大部分还没从服装设计学校毕业就已经离开学校,开始自己的服装设计生涯。因此,服装设计的专业学习对学生们今后的职业发展并没能提供有力的帮助。

以下哪项能够最好地反驳上述推论?

A. 服装设计大师们都承认,他们都学习了服装设计学校的基础课程

B. 由服装设计学校毕业的服装设计人员的平均年收入,要显著高于没有经过完整服装设计培训的服装设计人员

C. 知名服装品牌在招聘服装设计师时,更看重的是应聘人员的设计作品而非他们的毕业院校

D. 比起正规的服装设计学校的毕业生,那些没有经过专业训练,但是有美术特长而且工资要求低的毕业生更容易在服装厂找到工作

44. 以往的观点认为,衰老是由人体内自由基引起的,而抗氧化剂可以消灭这些自由基,从而抗衰老。然而近期某项研究对比了经过基因改造后能够“消灭”自由基的线虫与正常线虫,发现两者的衰老和寿命并没有区别。因此可以认为抗氧化剂对人体健康并没有作用。

以下哪项无法削弱这一结论?

A. 线虫的衰老机制与人类的衰老机制存在本质区别

B. 线虫拥有很多与人类同样的基因

C. 基因改造本身对线虫寿命的影响抵消了“消灭”过剩自由基对线虫寿命的影响

D. 另有研究发现,抗氧化剂虽然无法抵御衰老,却能够使受损细胞加快恢复

45. 中国、俄罗斯等国被空中客车公司邀请参与 A350 飞机的研发与生产过程。其中,中国将承担 A350 飞机 5% 的设计与制造。这意味着未来空中客车公司每销售 100 架 A350 飞机,就将有 5 架由中国制造。

上述推理中的逻辑漏洞在于()。

A. 中国目前还没有独立制造飞机的能力

B. 中国所承担项目的 5% 很可能只是零部件制造,而并非是整机的制造

C. 中国必须与俄罗斯等国合作,才能够完成这 5 架飞机的制造

D. 中国、俄罗斯等国只是被邀请参与研发,但实际制造过程还未开始

46. 国家发展改革委员会基础产业司司长王庆云说,只要今后几年我国持续加大对交通基础设施建设的投入,到 2015 年前后,我国可望消除交通基础设施不足对经济社会发展的制约,彻底解决节假日期间火车票一票难求的问题。

由这段文字无法推出的是()。

A. 我国将继续加大对交通基础设施建设的投入

B. 我国当前节假日期间火车票紧张

C. 交通基础设施的不足是节假日期间车票紧张的原因之一

D. 我国交通基础设施建设的改善需要一段时间

47. 维生素对维持人体机能非常重要,某保健品公司以此为卖点宣传其生产的营养品。该公司称其产品每份的维生素含量是人体日常需求的 1.5 倍,可以充分满足人体对各种维生素的需求。然而,_____。因此,该公司进行了虚假的宣传。

以下哪个选项放到上文划线处最合适?

A. 人们日常生活饮食中补充的维生素已经足够人体日常所需

B. 某些维生素只有在人体和阳光接触下才能合成,无法直接从外部摄取

C. 大部分身体健康人士都不主动补充维生素

D. 超过人体日常所需份量的维生素会被人体自然排出,无法吸收

六、定义判断：下列每道题给出一个或几个概念的定义，这些定义被假设是正确的，不容置疑的。请你根据定义，从备选项选择一个最为符合或最不符合该定义的典型事物或行为（共 7 题，每题 1 分，共 7 分）。

48.帕累托定律：该定律发现，企业 80%的收入来源于 20%的客户，全世界也只有 20%的人影响着时代进程。因此以一个关键的小的诱因、投入和努力，通常可以产生大的结果、产出或酬劳。

以下做法不属于对帕累托定律的运用的是()。

- A. 选择性寻找，而非巨细无遗的观察
- B. 鼓励特殊表现，而非赞美全面的平均努力
- C. 在几件事情上追求卓越，不必事事都有好表现
- D. 反复锻炼自己的弱势项目以实现全面发展

49.监护：指法律规定的公民或单位对无民事行为能力人或限制民事行为能力人的人身、财产和其他合法权益的监管和保护的一种制度。

以下做法属于合理的监护要求的是()。

- A. 王方以需要静养为由禁止亲友探望他病重的父亲
- B. 赵大婶阻止邻居家精神病患者出门
- C. 小刘禁止她上小学的女儿晚上 8 点后离家
- D. 李妈要求儿子参加工作后将所有收入交由她保管

50.定金：当事人书面约定由一方向对方给付的，作为债权担保的一定数额的货币。给付定金一方如果不履行约定，无权要求另一方返还定金；接受定金的一方如果不履行约定，需向另一方双倍返还定金。

以下属于定金的是()。

- A. 甲急需现金，欲将其房产出售。甲的朋友乙得知后，便先借给甲 1 万元应急，甲立下字据，承诺会以低于市价的价格将房子卖给乙
- B. 乙有意购买甲的一套房产，甲收取乙 2 万元，并书面保证，若因甲原因交易不成，则 2 万元返还乙，并赔偿乙 2 万元；若因乙原因而交易不成，则甲不退还这 2 万元
- C. 经中介介绍，甲对乙的一套房产有购买意向，但还需要考虑。中介向甲收取 1 万元诚意金，并声明如果最终甲放弃购买，该 1 万元可以退回
- D. 某房地产公司在其楼盘正式开售前向有意购买的客户收取每人 2 万元，并承诺这些客户购买该楼盘时将可以获得比原价便宜 4 万元的优惠

51.博弈：依据一定的规则，在直接相互作用的环境条件下，各参与人依靠所掌握的信息，选择各自行动，以实现利益最大化和风险成本最小化的过程。其中，合作性博弈是指参与者从自己的利益出发与其他参与者谈判达成协议或形成联盟，其结果对联盟双方均有利；而非合作性博弈是指参与者在行动选择时无法达成约束性的协议。

以下属于合作性博弈的是()。

- A. 飞机零件制造商在激烈的市场竞争后，通过谈判达成协议，分别选择生产不同的零件，避免再次出现直接竞争
- B. 附近几个养殖狐狸的村镇为提高自己的销量，纷纷派村民在各大客运站争夺客源，该地区的狐狸养殖因此大大出名
- C. 当双方参与拔河的人越多，参与拔河的每个人实际所出的力气越小
- D. 虽然犯罪团伙成员都知道，如果彼此都保守犯罪秘密，则全体成员都可能无罪获释，但还是有人担心其他人会坦白，于是干脆自己先坦白以求减刑

52.大规模定制：根据客户的个性化需求，以大批量生产的低成本、高质量和效率等特点提供定制产品和服务的生产方式。

根据定义，以下属于大规模定制的是()。

- A. 某办公设备制造商大量生产各种标准化的复印机功能组件，并由销售人员根据客户需求选择不同的组件组合成功能各异的复印机
- B. 某电脑厂商将市场调查所获得的客户需求分为几种类型，并大规模制造这几种类型的电脑
- C. 某航空公司委托一知名服装品牌为其近 300 名员工设计多套新一季的制服
- D. 某旅行社推出“半自助游”，只安排游客旅行中一半的行程，剩余时间游客可以自由选择活动内容

53.有价无市：价格高，但交易的不多。一般指行情很高，但销售形势并不好。有市无价：市场上交易频繁，但价格不高。一般指供应量大导致价格上不去。

根据以上定义，以下说法正确的是()。

- A. 在经济危机的影响下，欧洲足坛有价无市，各大俱乐部纷纷减缩购买新人的资金预算

- B. 藏品市场价格混乱,有市无价,一些“奇石”的拍卖价格时高时低,完全看买家的眼缘
- C. 楼市形势出现反弹,有价无市,炒楼人士纷纷惜售,买家出价即使提高一成也难以买到原来看中的楼盘
- D. 国家虽然发行了大量的奥运纪念币,但是在奥运会后收藏价值能显著提升的预期下,纪念币的价格被越炒越高,大家纷纷抢购,有市无价

54.弹劾:由法律设定的,当享有特别权利的政府高级官员或者法官等有特定的违法行为时,对其进行刑事追诉的一种程序。弹劾的结果是免去被认定有罪者的职务。

以下属于弹劾的是()。

- A. 某市政协委员在代表会上公开表达了他对该市某局领导的批评和意见
- B. 法院宣判某公安局局长受贿罪名成立,判处有期徒刑5年
- C. 某省出现严重安全事故,国家多个相关部门介入调查,该项目主要领导人被撤职
- D. 某国立法院指控现任行政长官犯有严重贪污舞弊行为

七、类比推理:请选择合适的选项填入括号中,使前后两组词具有最为近似的内部逻辑(共8题,每题1分,共8分)。

55.残害:损害相当于()

- A. 怀疑:反对 B. 鼓舞:支持 C. 结实:坚定 D. 畏惧:害怕

56.酬劳:服务相当于()

- A. 报复:伤害 B. 接受:欢乐 C. 文化:知识 D. 狂妄:打击

57.降税:低迷相当于()

- A. 拍卖:资金 B. 限行:污染 C. 盈利:亏损 D. 高企:调控

58.蒸馏水:加热相当于()

- A. 钢板:锻造 B. 模具:使用 C. 大衣:化纤 D. 工业:电力

59.协同办公:效率相当于()

- A. 基层普选:民主 B. 联合执法:宣传 C. 服务社会:法制 D. 宏观调控:经济

60.():谬误相当于理解:()

- A. 澄清共识 B. 正确认同 C. 分歧认同 D. 逻辑分歧

61.征兆:():治理相当于规划:():评估

- A. 现象更改 B. 发现计划 C. 爆发实施 D. 管理改革

62.法制:():稳定相当于():打破:公平

- A. 漏洞弊端 B. 改革平衡 C. 健全垄断 D. 社会发展

八、图形推理:请依据每道题目目前的说明选择最合适的选项(共8题,每题1分。)

63.下面图形的变化存在一定规律,依据这一规律,符合问号所在位置的一项是()。



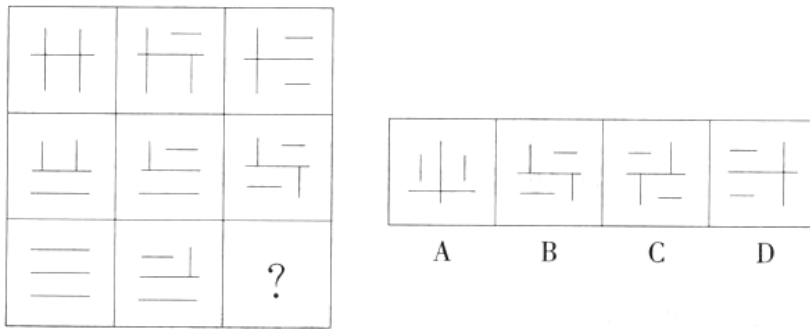
64.下面图形的变化存在一定规律,依据这一规律,符合问号所在位置的一项是()。



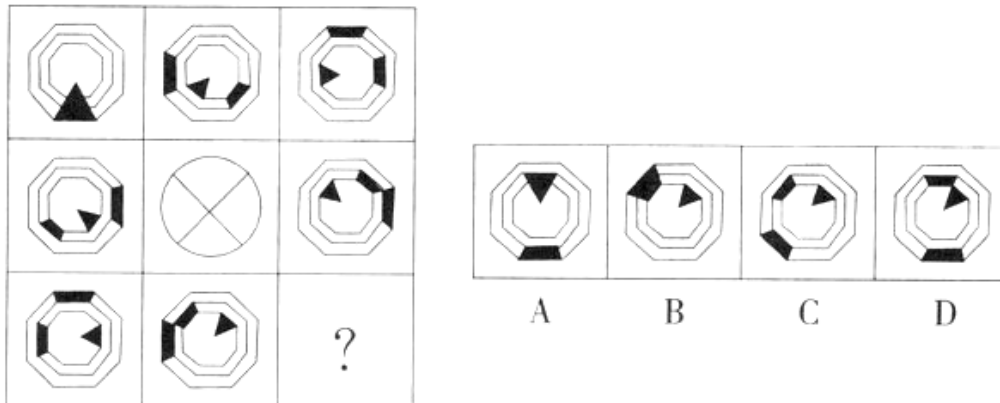
65.下面图形的变化存在一定规律,依据这一规律,符合问号所在位置的一项是()。



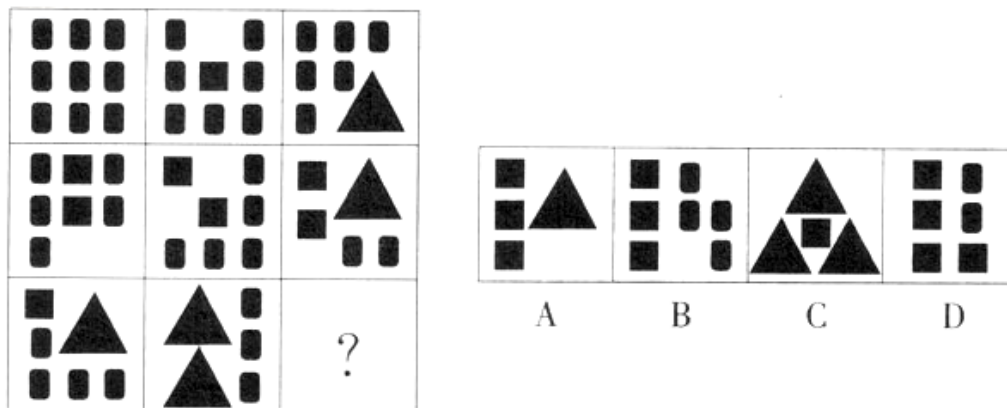
66.下面图形的变化存在一定规律,依据这一规律,符合问号所在位置的一项是()。



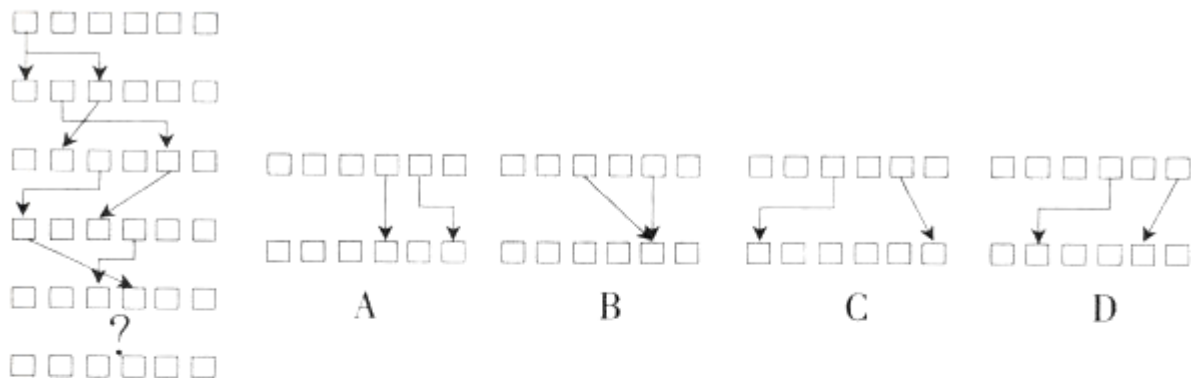
67.下面图形的变化存在一定规律,依据这一规律,符合问号所在位置的一项是()。



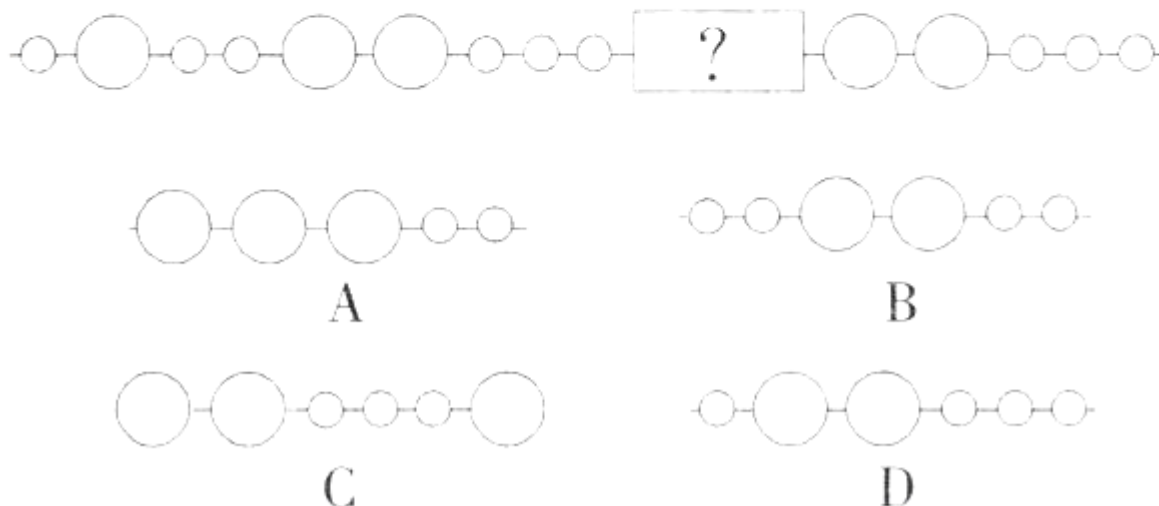
68.下面图形的变化存在一定规律,依据这一规律,符合问号所在位置的一项是()。



69.下面图形的变化存在一定规律,依据这一规律,符合问号所在位置的一项是()。



70.下面图形的变化存在一定规律,依据这一规律,符合问号所在位置的一项是()。



第四部分 常识判断

(共 15 题, 参考时限 15 分钟)

九、请你依据常识作出判断。注意: 似乎合理的答案可能有多种, 你应选择最为合理的一个(共 15 题, 每题 1 分, 共 15 分)。

71.2008 年 3 月 15 日, 十一届全国人大表决通过了国务院机构改革方案。国务院新组建工业和信息化部、交通运输部、人力资源和社会保障部、环境保护部、住房和城乡建设部五个大部。大部制即为大部门体制, 是为推动政府事务综合管理与协调, 按政府综合管理职能, 将政府部门合并组成超级大部的政府组织体制。目的是提高效能, 打造服务型政府。这说明()。

- A. 事物的整体功能必定大于部分功能之和
- B. 量变必然引起质变
- C. 事物的质变必须依靠发挥主观能动性
- D. 构成事物的成分在结构和排列顺序上不同会引起质变

72.“和谐世界”的理念是新一代领导集体对新时期我国外交政策目标的新概括, 是指导我国对外工作和处理国际关系的新方针。它继承了新中国外交的传统, 并结合国际形势和我国的国际地位及影响的变化, 进行了重大理论性创新。这表明()。

- ①事物是普遍联系和变化发展的
- ②认识的根本任务是由感性认识上升到理性认识
- ③事物的发展是在不断地否定中进行的
- ④认识在实践的基础上不断深化

- A. ①③
- B. ②③
- C. ①④
- D. ②④

73.2007 年 12 月 29 日, 十届全国人大常委会通过了《关于修改个人所得税法的决定》, 将个人所得税起征点从 1600 元提高到 2000 元, 从 2008 年 3 月 1 日起实行。我国个人所得税起征标准的上调, 从收入分配的角度看有利于()。

- ①增加中央和地方财政收入
- ②抑制收入差距拉大, 促进社会公平
- ③保护了中低收入者的利益
- ④促进生产的专业化, 体现公平竞争

- A. ①③
- B. ②③
- C. ③④
- D. ②④

74. 以下属于政府有关部门错误履行职能的是()。

- A. 某县假冒伪劣现象严重,县政府推动该县各行业协会积极开展工作,加强行业自律,使得假冒伪劣商品大为减少
- B. 某地区政府作出一系列重大决策和部署。对少数民族地区有关宗教的文物、古迹和寺庙实施保护,保证了各种宗教活动正常举行,满足群众宗教信仰的需要
- C. 某地的民族宗教事务局为拓展宗教信仰人数,开办了一批企业,尽可能多地吸纳少数民族困难群众就业,解决了当地的少数民族就业问题
- D. 某区街道办事处对某居民委员会的工作给予指导、支持和帮助

75.突发事件包括自然灾害、事故灾难、公共卫生事件和社会安全事件。《突发事件应对法》规定,突发公共事件发生时行政机关应当采取行政应急措施。下列事件中,不属于突发公共事件的是()。

- A.2008 年中国南方特大雪灾
- B. 年末,超载泥头车事故频发
- C. “5-12”汶川大地震
- D. 肯德基“苏丹红”事件

76.以下陈述正确的是()。

- A. 在我国,准噶尔盆地自古就有“天府之国”的美誉
- B. “黄鹤楼送孟浩然之广陵”中的“广陵”和“烟花三月下扬州”中的“扬州”是指同一个地方,
- C. 春秋时期的齐国和鲁国分别位于现在的山西省和山东省
- D. “西出阳关无故人”中的“阳关”指的是山海关

77.以下陈述正确的是(),

- A. 在建立“日不落”殖民帝国过程中,英国的主要对手是美国
- B. 轮船和电话都是第二次工业革命时期的发明
- C. 最早发现行星运动规律的天文学家是哥白尼
- D. 首次规定司法权与行政权、立法权分离的宪法是美国 1787 年宪法

78.心理危机干预,是汶川大地震救援工作面临的新问题。以下对于心理危机干预的论述,不正确的是()。

- A. 目的是及时地疏导、矫正幸存者的心理问题
- B. 针对的人群不仅包括灾民,还包括参与救援的人员
- C. 心理危机干预的黄金时间为灾后 72 小时
- D. 主要任务是建立当事人的安全感和鼓励当事人宣泄

79.2005 年 10 月 12 日升空的“神舟六号”飞船搭载有用于太空试验的瓷玫瑰、番茄等种子。经过 6 天的太空遨游后,这些番茄种子结出的果实与普通番茄相比,更像是葫芦,而且维生素含量高、抗病能力强。产生这种差异的根本原因是()。

- A. 同种 DNA 的选择性表达
- B.DNA 碱基的排列顺序不同
- C. 蛋白质的空间结构不同
- D. 信使 RNA 不同

80.为了降低一种真菌对果树的毒害,园艺家引入一种形态结构、生理特征和原真菌相似,但毒性较低的真菌,从而使果树增产。园艺家利用的原理是()。

- A. 寄生
- B. 竞争
- C. 捕食
- D. 共生

81. 关于法与宗教的关系,下列说法错误的是()。

- A. 法与宗教在一定意义上都属于文化现象
- B. 法与宗教都在一定程度上反映了特定人群的世界观和人生观
- C. 法与宗教都是社会规范,都对人的行为进行约束,但宗教同时控制人的精神
- D. 法与宗教在历史上曾经是浑然一体的,现代国家的法与宗教都是分离的

82.法律援助制度是世界上许多国家所普遍采取的一项司法救济制度。下列对法律援助制度的表述,错误的是()。

- A. 主旨在于保障社会弱者的合法权益,使经济困难的公民获得必要的法律服务
- B. 法律援助的责任主体是政府
- C. 法律援助的基本资金来源于县级以上人民政府
- D. 在办理法律援助事项时,受援人要求终止法律援助或者委托他人代为办理案件时,不得终止法律援助

83.根据《公务员法》关于公务员兼任职务的规定。下列说法不正确的是()。

- A. 公务员可以兼任职务,但必须作出适当限制

B. 公务员不得在企业或者其他营利性组织中兼任职务

C. 为保证公务员廉洁勤政, 公务员不得在机关外兼任职务

D. 公务员因工作需要可以在机关外兼职, 但必须经有关机关批准, 不得领取报酬

84.2008 年 10 月 14 日, 中俄双方在黑瞎子岛上举行“中俄界碑揭牌仪式”。以下有关论述, 错误的是()。

A. 这标志着中俄长达 4300 公里的边界全部确定, 两国彻底解决了历史遗留的边界问题

B. 黑瞎子岛是中国最早见到太阳的地方

C. 黑瞎子岛问题源于 1929 年, 中国东北军在对苏联战争中战败, 该岛被苏联占领

D.2004 年, 中俄双方签订《中俄国界东段补充协议》, 中国收回了整个黑瞎子岛的主权

85.2008 年 11 月 15 日 15 时许, () 地铁湘湖站工地发生塌陷, 地面出现长 75 米, 深 15 米的深坑, 造成多人死亡。这是中国地铁修建史上迄今为止最大的事故。

A. 广州 B. 杭州 C. 深圳 D. 北京

第五部分 资料分析

(共 15 题, 参考时限 15 分钟)

本部分仅有一种类型的试题:

十、请根据以下给出的图表、文字资料进行分析, 选出符合题目要求的正确答案(共 15 题, 每题 1 分, 共 15 分)。

(一) 阅读以下文字资料, 回答 86-90 题:

据统计, 2006 年清远市实现 GDP411 亿元, 比上年增长 26.5%, 高出广东省 12.5 个百分点, 比 2002 年增长 1.2 倍。人均 GDP 突破 1400 美元, 比上年增长 22.3%, 比 2002 年增长 1 倍。

随着经济持续高速增长, 清远市经济总量已领先于全省山区市, 多项指标在全省 21 个地级市中的排位明显提升。2006 年, GDP 列广东省第 14 位, 与 2002 年相比提升了 4 位; 全部工业总产值列全省第 12 位, 提升了 6 位; 固定资产投资总额突破 300 亿元, 列全省第 7 位, 提升了 9 位; 外贸出口总额 12 亿美元, 列全省第 13 位, 提升了 4 位; 实际利用外资总额 3 亿美元, 列全省第 10 位, 提升了 6 位; 地方财政一般预算收入列全省第 14 位, 提升了 2 位。

南部地区继续领跑全市经济, 2006 年清城区、清新县和佛冈县 GDP 分别比 2002 年增长 1.84 倍、1.37 倍和 1.33 倍; 中部地区快速崛起, 英德市 GDP 比 2002 年增长 1.08 倍; 北部地区迅速发展, 连州市、阳山县、连南瑶族自治县和连山壮族瑶族自治县 GDP 分别比 2002 年增长 87%、65%、59%和 52%。镇域经济迅速壮大, 涌现出了一大批工业强镇, 2006 年, 有 13 个镇(街)的工业总产值达 10 亿元以上, 其中有 3 个镇达 50 亿元以上, 清城区龙塘镇突破 100 亿元。

86.2005 年清远市 GDP 是 2002 年的()倍。

A.4.50 B.2.12 C.1.74 D.1.45

87.2002 年清远市外贸出口总额列广东省()。

A. 倒数第二位 B. 第 16 位 C. 第 9 位 D. 第 17 位

88.与 2002 年相比, 2006 年清远市南部地区中 GDP 增长速度最快的是()。

A. 英德市 B. 清新县 C. 佛冈县 D. 清城区

89.与 2002 年的各项指标排位相比, 2006 年清远市在全省 21 个地级市中排位提升最小的是()。

A. 地方财政一般预算收入 B. 全部工业总产值
C. 固定资产投资总额 D. 实际利用外资总额

90.下列说法不正确的是()。

A.2002 年, 清远市 GDP 和全部工业总产值在广东省 21 个地级市中的排位相同

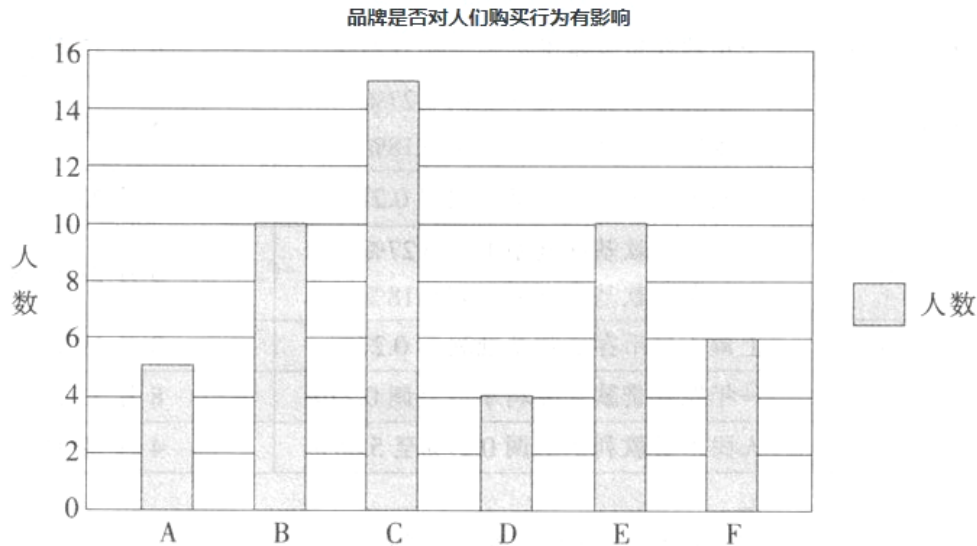
B.2005 年清远市人均 GDP 大于 1145 美元, 比 2002 年约增长 63.5%

C. 与 2002 年相比, 2006 年清远南部地区的 GDP 增长最快, 中部次之, 北部最慢

D.2006 年, 清远市共有 4 个镇的工业总产值在 50 亿元以上

(二) 以下是对 50 名路人进行关于“品牌是否对人们购买行为有影响”的随机调查。

根据这一图表回答 91-95 题:



类型：A:只买品牌，价格无所谓； B:价格便宜可以考虑；

C:质量好又便宜，会买； D:知道这品牌回去看一下；

E:看款式，好看的会买； F: 不买品牌；

91.在被调查者中，只买品牌的人占总数的比例是多少？

A. $\frac{3}{25}$ B. $\frac{1}{10}$ C. $\frac{2}{9}$ D. $\frac{2}{25}$

92.既注重质量又注重价格的人数与只注重品牌的人数之比是多少？

A.3:2 B.3:1 C.1:1 D.5:2

93.在被调查者中，人数持平的类型是()。

A.A 和 F B.A 和 D C.B 和 E D.D 和 F

94.根据图表，下列说法错误的是()。

A. 既注重价钱又注重质量的人群比例最大

B. 表示“知道这品牌回去看一下”的人数最少

C. 只买品牌比不买品牌的人数多 1 人

D. “质量好又便宜，会买”的人数是“只买品牌，价格无所谓”的 3 倍

95.仅依据上述调查，最有可能得出的结论是()。

A. 人们的品牌意识逐渐加强

B. 不买品牌的人是因为品牌价格太贵

C. 爱好品牌的人群对于价格都无所谓

D. 品牌的质量和价格是影响人们决定是否购买的重要因素

(三) 根据以下图表资料回答 96-100 题：

央行历次存贷款基准利率调整时间、内容及公布第二交易日股市表现

次数	调整时间	调整内容	公布第二交易日股市表现(沪指)
12	2008年11月26日	一年期存贷款基准利率下调1.08%	11月27日,涨3.98%
11	2008年10月30日	一年期存贷款基准利率下调0.27%	10月31日,涨2.54%
10	2008年10月9日	一年期贷款基准利率下调0.27%	10月10日,跌3.57%
9	2008年9月16日	一年期贷款基准利率下调0.27%	9月17日,跌2.09%
8	2007年12月21日	一年期存款基准利率上调0.27% 一年期贷款基准利率上调0.18%	12月24日,涨2.6%
7	2007年9月15日	一年期存贷款基准利率上调0.27%	9月17日,涨2.06%
6	2007年8月22日	一年期存款基准利率上调0.27% 一年期贷款基准利率上调0.18%	8月23日,涨1.49%
5	2007年7月20日	上调人民币存贷款基准利率0.27%	7月23日,涨3.81%
4	2007年5月19日	一年期存款基准利率上调0.27% 一年期贷款基准利率上调0.18%	5月21日,涨1.04%
3	2007年3月18日	上调人民币存贷款基准利率0.27%	3月19日,涨2.87%
2	2006年8月19日	一年期存贷款基准利率均上调0.27%	8月21日,涨0.20%
1	2006年4月28日	人民币贷款利率上调0.27%至5.85%	4月29日,涨1.66%

96.存贷款基准利率均上调的次数比均下调的次数多()。

A.3次 B.4次 C.5次 D.6次

97.央行存贷款基准利率调整幅度一致的发生在()。

A.2006年4月28日 B.2007年12月21日 C.2008年10月9日 D.2008年11月26日

98.在央行存贷款基准利率调整公布的第二交易日股市表现中,涨幅高于2%的有()。

A.4次 B.6次 C.8次 D.10次

99.2008年10月8日,一年期贷款基准利率为()。

A.7.740/0 B.7.47% C.7.20% D.6.93%

100.下列说法不正确的是()。

A.2006年4月28日之前,央行人民币贷款利率为5.58%

B.2007年12月21日与2007年9月15日的存贷款基准利率上调后,第二交易日沪指的涨幅相同

C.一年期贷款基准利率上调0.18%的次数一共有3次

D.在前8次存贷基准利率调整后,第二交易日沪指都是呈现涨幅

微信扫一扫二维码,关注“公务员考试挺简单”微信公众号,可获取更多公考经验。分享公考经验,还可获得现金奖励哈

手淘扫描淘宝店铺,可以购买省考、国考历年真题哦



微信公众号



淘宝店铺