

2003年广西壮族自治区录用国家公务员和机关工作者考试试卷

行政职业能力倾向测验

第一部分 常识判断

(共50题，参考时限30分钟)

本部分包括两种题型的题目，请根据题目要求做出正确选择。多项选择题错选、多选、少选均不得分。(每小题0.5分，共25分)

一、单项选择题(30题)：

1. 贯彻“三个代表”重要思想，必须把(B)作为中国共产党执政兴国的第一要务。
A. 创新 B. 发展 C. 党的建设 D. 结构调整
2. 今年3月5日是毛泽东同志号召全国人民“向雷锋同志学习”(D)周年纪念日，全国各地以多种形式纪念雷锋。
A. 10 B. 20 C. 30 D. 40
3. 全面建设小康社会，最根本的是坚持(C)。D
A. 走新型工业化道路 B. 加强党的作风建设
C. 全心全意为人民服务 D. 以经济建设为中心
4. 我国实行对外开放的前提和基础是(B)。C
A. 互通有无、取长补短 B. 互相尊重、全面合作
C. 独立自主、自力更生 D. 友好往来、增进了解
5. 实施可持续发展战略的根本目的在于(B)。
A. 调整优化产业结构
B. 正确处理人口、资源、环境与经济发展的关系
C. 实现经济增长方式从粗放型向集约型转变
D. 坚持速度、比例和效益的统一
6. 在市场经济的主要经济规律中，最基本的规律是()。
A. 价值规律 B. 竞争规律
C. 供求规律 D. 流通规律
7. 当今世界的主题是(A)。
A. 和平与发展 B. 战争与和平
C. 经济一体化 D. 反对霸权主义
8. 实施科教兴国战略，必须以(C)为本。
A. 高科技 B. 基础科学
C. 教育 D. 人才
9. 第十届全国人大常委会委员长是(A)。
A. 吴邦国 B. 贾庆林
C. 黄菊 D. 温家宝
10. 我国加入世贸组织后，趋利避害的关键是(D)。A
A. 转变政府职能 B. 发展科技、教育事业
C. 依法行政 D. 政企分开
11. 从WTO的组织结构来看，包括了部长级会议、各种理事会、委员会和工作组等机构，其中最高权力机构是(D)。A
A. 部长级会议 B. 货物贸易理事会
C. 贸易与发展委员会 D. 缔约国大会

12. 我国的政权组织形式是(D)。
 - A. 人民代表大会
 - B. 一国两制
 - C. 人民民主专政
 - D. 人民代表大会制度
13. 依法治国的根本目的在于(D)。
 - A. 确保国家各项工作有法可依，依法行政
 - B. 维护宪法和法律在国家政治、经济和社会生活中的权威
 - C. 依法打击敌视和破坏社会主义的敌对分子，维护社会稳定
 - D. 保证人民充分行使当家作主的权利，维护人民当家作主的地位
14. 剥夺下列权利，属于剥夺政治权利的是(C)。
 - A. 财产所有权
 - B. 担任私营企业的总经理
 - C. 担任国有大学校长
 - D. 受教育权
15. 今年2月1日，美国“(B)”号航天飞机在即将返回地面时失事，机上7名宇航员不幸罹难。C
 - A. 挑战者号
 - B. 发现号
 - C. 哥伦比亚号
 - D. 肯尼迪号
16. 我国政府的四大政治职能是(A)。
 - A. 军事保卫、外交、治安、民主政治建设
 - B. 对外战争、外交、环境、法制政治建设
 - C. 军事保卫、科技、治安、民主政治建设
 - D. 对外战争、科技、环境、法制政治建设
17. 世界卫生组织今年4月16日正式确认：引起非典型肺炎的病原体是(B)的一个变种，以前没有在人体发现过。
 - A. 细菌
 - B. 冠状病毒
 - C. 微生物
 - D. 勾端螺旋体
18. 按照《国家公务员暂行条例》，公务员应享有的权利是(A)。
 - A. 提出申诉和控告
 - B. 公正廉洁
 - C. 密切联系群众
 - D. 勤奋工作
19. 人们常说：“政府官员是在金鱼缸中工作的，他们必须接受来自外部的检查和调查。”这句话说明(A)。C
 - A. 行政管理的所有行为必须对外公开
 - B. 政府机关必须要进行经常的行政监督
 - C. 政府机关及其工作人员必须接受行政监督
 - D. 行政管理具有公共性，主要目的是为了实现公共利益
20. 下列选项中不属于行政处罚措施的是(B)。
 - A. 罚款
 - B. 拘役
 - C. 警告
 - D. 行政拘留
21. 一些嘈杂的场所，经常看到一些用玻璃制作的电话间，其隔音效果很好，这是因为()。
 - A. 声音在玻璃中不能传播
 - B. 电话间内声音传播介质——空气太少了
 - C. 电话间内打电话者与电话间外人群的声音被玻璃反射了
 - D. 电话间内打电话者与电话间外人群的声音被玻璃吸收了
22. 以下哪一种发明，与古代方士的炼丹术有关()。
 - A. 火药
 - B. 麻醉剂

- C. 造纸术 D. 地动仪
23. 一般灭火器的灭火原理是(D)。B
A. 降低温度 B. 隔绝氧气
C. 增加湿度 D. 制造泡沫
24. 宋代名人范仲淹《岳阳楼记》中，有两句脍炙人口的话，那是(D)。
A. 落霞与孤鹜齐飞，秋水共长天一色
B. 世事洞明皆学问，人情练达即文章
C. 匹夫而为万世师，一言而为天下法
D. 先天下之忧而忧，后天下之乐而乐
25. 地球陆地上的淡水资源多数储存在(D)。A
A. 冰川 B. 地下
C. 江河 D. 湖泊
26. “纳米”是长度单位，1纳米是1米的(D)。
A. 十万分之一 B. 百万分之一
C. 千万分之一 D. 十亿分之一
27. 以下各项中不属于电子商务范围的是(B)。
A. 海尔集团通过在因特网上建立网站，赢得了大量的海外定单
B. 小王在电子市场以低于正常30%的价格买到了一台家用电脑
C. 张先生通过“温馨”网上花店为在上海的女朋友买了一束鲜花
D. 李军今天没去图书馆，在网上书店订了几本好书
28. 保温瓶瓶胆内壁涂有水银，主要是为了防止(B)。C
A. 热的蒸发 B. 热的传导
C. 热的辐射 D. 热的对流
29. 中国最出名的纸产自()。
A. 端州 B. 徽州
C. 苏州 D. 宣州
30. 我国古代有五行之说，指的是()。
A. 青、黄、赤、白、黑
B. 仁、义、礼、智、信
C. 金、木、水、火、土
D. 宫、商、角、征、羽

二、多项选择题(20题)

31. 古人说：“三人行，必有我师焉，择其善而从之，其不善者而改之。”这句话对于个人自我修养的启示有()。
A. 要勤于学习和实践
B. 要善于虚心向别人学习
C. 要学习别人的优点和长处
D. 发现了自己的缺点和错误要改正
32. 搞清楚“什么是社会主义，怎样建设社会主义”是()。
A. 我国社会主义建设最根本的经验教训
B. 认清时代主题的需要
C. 当代世界社会主义迫切需要解决的普遍性问题
D. 社会主义首要的基本理论问题
33. 生产关系包括()。

- A. 生产资料的所有制关系
 - B. 人与自然的关系
 - C. 产品的分配关系和由此所决定的消费关系
 - D. 人们在生产中的地位和相互关系
34. 下列人员属于省级人民政府组成人员的有()。
- A. 政协主席 B. 厅长
 - C. 副省长 D. 发展计划委员会主任
35. 引发当今世界局部冲突的主要因素是()。
- A. 民族纠纷 B. 人口结构失调
 - C. 领土争端 D. 宗教矛盾
36. 我国目前存在的混合所有制经济主要有()。
- A. 股份公司 B. 中外合资或合作企业
 - C. 私营企业 D. 跨所有制组成的企业集团
37. 公务员考试录用应遵循的原则有()。
- A. 公开 B. 平等
 - C. 竞争 D. 择优
38. WTO基本原则之一是非歧视性待遇。其中, ()。
- A. 最惠国待遇原则要求一成员方平等地对待所有其他成员方, 即所有的外国成员方享受的待遇相同
 - B. 国民待遇原则要求一成员方平等地对待所有其他成员方, 即所有的外国成员方享受的待遇相同
 - C. 最惠国待遇原则要求在一成员方境内, 外国的产品、服务、资本和知识产权享受不低于本国同类对象的待遇
 - D. 国民待遇原则要求在一成员方境内, 外国的产品、服务、资本和知识产权享受不低于本国同类对象的待遇
39. 党的十六大要求, 为完成党在新世纪新阶段全面建设小康社会的奋斗目标, ()。
- A. 发展要有新思路 B. 改革要有新突破
 - C. 开放要有新局面 D. 各项工作要有新举措
40. 在台湾问题上, 我们坚决反对()。
- A. “一中一台” B. “两个中国”
 - C. “一国两制” D. “一国两府”
41. 全国人民代表大会的职权有()。
- A. 人事任免权 B. 法律监督权
 - C. 立法权 D. 司法权
42. 法律关系的构成要素是()。
- A. 主体 B. 客体
 - C. 现行法律 D. 内容
43. 行政法的作用是()。
- A. 惩罚犯罪、保护合法权益
 - B. 保障行政管理有效实施
 - C. 保护公民、组织的合法权益
 - D. 保障平等竞争、维护市场秩序
44. 某市辖区财政局副局长拟晋升为局长, 其任职应履行的法律程序有()。

- A. 由区长提名
 - B. 由人大常委会决定任命
 - C. 由人大常委会报市政府备案
 - D. 由人大常委会报市政府批准
45. 某县人民法院受理原告起诉县工商局的行政诉讼，在审理该案时，县法院()。
- A. 应当根据案情是否复杂决定是组成合议庭还是独立审判
 - B. 只能开庭审理不能书面审理
 - C. 无特殊情况应当在立案之日起三个月内作出第一审判决
 - D. 必须要求原告对自己的主张应当举证，被告对自己的主张应当举证
46. 政府管理的运行职能包括()。
- A. 计划与组织职能
 - B. 控制与协调职能
 - C. 领导与控制职能
 - D. 沟通与协调职能
47. 中华人民共和国国务院即中央人民政府，它是我国的()。
- A. 最高权力机关
 - B. 最高权力机关的执行机关
 - C. 最高行政机关
 - D. 最高司法机关
48. 2003年3月20日，()等国家绕开联合国安理会，对伊拉克发动了战争。
- A. 法国
 - B. 美国
 - C. 意大利
 - D. 英国
49. 下列公务员可被辞退的有()。
- A. 年度考核连续两年不称职者
 - B. 旷工一年内累计超过15天者
 - C. 在机构改革中需要调整工作本人拒绝合理安排者
 - D. 不胜任现职又不接受其他安排者
50. 父子两人同在某市政府机关任科长，并同属一位处长领导，两人按规定必须实行回避，其理由包括()。
- A. 父子关系属于应回避的亲属关系
 - B. 凡有父子关系的，不得在同一机关担任双方直接隶属于同一行政首长的职务
 - C. 凡在政府机关担任科长以上职务的都要回避
 - D. 凡有父子关系的就不能在同一政府机关任职

第二部分 言语理解与表达

(共30题，参考时限25分钟)

本部分包括三种类型的题目：(每小题0.9分，共27分)

一、选词填空：共10题，要求你从所给的四个选项中选出一个填空，使句子的意思表达得最准确。

例题：

只要方向正确，任何一点积极性都应当得到_____和支持。

A. 尊重 B. 肯定 C. 表彰 D. 重视

解答：用“肯定”填空使句子的意思表达得最准确，故应选B。

请开始答题：

51. 对联是中国特有的文学_____。
- A. 作品
 - B. 手段
 - C. 方式
 - D. 形式
52. 好消息_____，不到半天全村的人就都知道了。
- A. 比比皆是
 - B. 不胫而走

- C. 街谈巷议 D. 不由分说
53. 这种问题解决起来相当困难，大家需要有足够的_____。
- A. 诚心 B. 信心
C. 爱心 D. 耐心
54. 一个国家如果没有政府的支持和参与，经济的发展就不能达到_____的目的。
- A. 设想 B. 确定
C. 预期 D. 理想
55. 城市是人类社会发展的_____，最早出现于奴隶社会。
- A. 动力 B. 产物
C. 基础 D. 结果
56. 当前，各国政治、经济和社会_____不同，历史文化_____不同，发展_____也不尽一致。
- A. 传统 制度 速度 B. 制度 水平 速度
C. 制度 传统 水平 D. 水平 传统 制度
57. 经国务院批准，《全民健身计划纲要》于1996年6月28日正式_____实施。
- A. 发布 B. 公布
C. 颁布 D. 宣布
58. 做一个平凡的人并不可悲，一个才疏学浅的人如果_____，那才是最可悲的。
- A. 趾高气扬 B. 骄傲自满
C. 妄自尊大 D. 志大才疏
59. 蚂蚁，一种令人生厌的“小生命”，如今以它为原料制成的保健品却_____地闯进了市民的保健领域。
- A. 堂而皇之 B. 一鸣惊人
C. 神气十足 D. 名正言顺
60. 经过讨论，大家一致_____老王参加职工代表大会。
- A. 评选 B. 同意
C. 推荐 D. 通过

二、语句表达：共10题，要求你从语气、词序、语法结构等方面对有关语句作出判断，从所给的四个选项中选择一個答案。

例题：

从给出的几句话中选出没有语病的一句：

- A. 阅读理解与否，是衡量阅读能力好坏的重要标志
B. 阅读与理解，是衡量阅读能力好坏的重要标志
C. 阅读是否理解，是衡量阅读能力的重要标志
D. 阅读能力好坏的标志是理解

解答：从给出的四句话来看，只有A没有语病。

请开始答题：

61. 下面句子中有语病的句子是：

- A. 造成环境污染的事实深刻教育了人们
B. 对真理追求的事业是他最向往的
C. 疾病折磨不倒英雄坚强的意志
D. 经不起考验的往往是平时表现最坚强的

62. 下面没有语病的句子是：

- A. 路是人走出来的，但人走过的地方都不一定成为了路
 B. 一条小船很难渡众生，必须是众人建造的大船才能同舟共济
 C. 相信科学的人们绝不会让封建迷信影响了他的思想
 D. 大路向天边延伸很远很远，直到遥远的看不见的天际
63. 下面四句中存在歧义的一句是：
 A. 这是一门学生愿意学习的课程
 B. 那是一项农民能够掌握的技术
 C. 这是一个技师能够解决的问题
 D. 那是一个大家乐于接受的方案
64. 下面句子中没有歧义的句子是：
 A. 遇害的战士家属
 B. 修好了桥的桥身
 C. 静静等待传来消息的人们
 D. 给王老师打电话
65. 下面句子中没有语病的句子是：
 A. 只有不断提高自身的科学文化素质，才能相称信息时代的要求
 B. 只要不断提高自身的科学文化素质，才能适应信息时代的要求
 C. 只有不断提高自身的科学文化素质，才能适应信息时代的要求
 D. 只要不断提高自身的科学文化素质，就能相称信息时代的要求
66. 下面句子中没有语病的句子是：
 A. 明天我会专程拜访你，请你在家恭候
 B. 国外的汽车厂家的年产量不但比我们多，而且花色品种也比我们丰富
 C. 中国古代无论是奴隶制还是封建制，都受到宗法制度的强烈影响
 D. 他的马虎和粗心使他在面试中落选
67. 下面有语病的句子是：
 A. 电影《地道战》是一部反映抗战时期中的故事片
 B. 英雄人物有时可以对改变历史起到重要作用
 C. 随着人们生活水平的提高，乘出租车已不再是“高消费”
 D. 听了主持人的讲解，嘉宾们开始进行游戏
68. 下面没有语病的句子是：
 A. 他的朴实无华得益于生活的教诲和从父辈吸取的精神
 B. 这六年的单身生活是她成长最快，对人生理解最深刻的一段岁月
 C. 童年的这段刻骨铭心的记忆是人世间最美好的真情
 D. 了解农民的疾苦，发出他们的美好品质，深深地留在她的灵魂深处
69. 下面句子中没有语病的句子是：
 A. 同时要守住两个路口，对他来说是不可能的
 B. 当他进屋打开灯时，外面渐渐下起了小雨
 C. 凭心而论，谁都无法完全克制自己的缺点
 D. 在判断一个事物的发展过程时，要学会一分为二
70. 下面有语病的句子是：
 A. 战士们都在争分夺秒地抓紧修筑防御工事
 B. 飞机下午1点20分起飞
 C. 人人都把这看成是一场义不容辞的重大政治任务
 D. 许多平常难以想象的事情发生了

三、阅读理解：共10题，前5道题包含一段短文，短文后面是一个不完整的陈述，要求你从四个选项中选出一项来完成这一陈述。注意：供选择的答案有时可能是对短文内容的一个复述，有时则满足了陈述中其它方面的要求，你的选择应与所提要求最相符合。后5道题是在阅读一篇短文后，做出恰当的回答。

例题：

铁路新线路的开辟与否，往往必须在建路花费尽可能少的要求与新建路线的贸易运输量尽可能多的要求之间取得妥协。

这段话主要支持了这样一种论点，即新建铁路的线路：

- A. 应该是一造价最低的线路
- B. 其选择决定了新兴贸易中心的位置
- C. 决定于是否与终点之间的距离最短
- D. 不会总是具有最低建造成本的路线

解答：仔细考察四个选项，您可以发现，选项A与题中“妥协”的含义不相符；选项B和C都无法从题中得出；只有选项D是短文支持的一种主要观点，因此正确答案为D。

请开始答题：

71. 广东的一家企业在北京登报，以年薪50万招聘厂长，承受力不强的北京人当时如同经历一次炸弹爆炸。几年过去，在报纸上登广告以年薪几十万招聘人才的事已经不那么令人惊奇了。在北京的猎头公司里，随便调出一份求职者名单，你便会发现80%以上的求职者自己开出的月薪要求都在几万元以上。但是另外一面，从传统国营企业被辞退的员工，即使是四、五百元的月薪要求，也很难找到工作。这段话支持的主要观点是：

- A. 现在人们对月薪上万元的收入要求已经视若平常了
- B. 招聘人才的投入越来越大
- C. 人才的价值在今天越来越体现出来
- D. 人与人之间在从业和收入方面的差异更加明显

72. 发出“通知”整治不正之风很有必要。但关键是令出法随，“通知”算数。算数的通知，有一道就够了。现在之所以发了一道又一道，有事物不断发展，条文需要不断完善的因素，有体制不顺、机制不合理的因素，但最根本的是执行时不够“硬”。所以，落实“通知”必须严格，谁违反就坚决追究，毫不手软。“硬”得不够势必会有“三令五申”，而

“三令五申”毕竟不是理想的办法。

这段话主要支持的观点是：

- A. 不抓“通知”的落实等于没有通知
- B. 要减少不必要的通知
- C. 通知能否落实关键看通知内容是否合理
- D. 通知不能很好落实的原因有很多

73. “据有关部门透露，于10月15日即将举办的今年秋季中国出口商品广州交易会加强出口商标的使用管理，严禁出现假冒伪劣商品。主管部门制定了一系列措施，一经发现商标侵权行为及假冒伪劣商品，将严肃查处。”给这段话选个标题，概括整段话的意思。

- A. 今秋广交会严禁假冒伪劣产品
- B. 广交会主管部门制定措施打假
- C. 今秋广交会加强商标管理以防止假冒伪劣产品出现
- D. 今秋广交会不会出现假冒伪劣产品

74. 1995年，美国的两位学者是利用直径为26米的射电望远镜寻找由浩瀚宇宙深处发出的

未知讯号。然而，至今还未发现具有已接收讯号特征的电波源，且在这些电波的方向上，也没有特异的星体存在。“未发现具有已接收讯号特征的电波源”这句话的意思是：

- A. 不知道已经接收到的讯号有没有电波源
- B. 已经接收到讯号但不能确定其电波源
- C. 不能确定电波发出的源头已经接收到了讯号
- D. 已接收到讯号但没有发现电波源的特征

75. 有这样一种假说：冬眠是一种高度发达的机能。冬眠的哺乳动物虽然与人类一样都是温血动物，但是它们在更宽范围的调节机能上获得了进化，例如在体温调节上，就要比非冬眠动物强。对这种假说理解不正确的一项是：

- A. 在物种进化的过程中，某些哺乳动物在调节性上获得了进化，从而具备了冬眠的功能
- B. 比起人类来，冬眠的哺乳动物在更宽的范围里发生了进化
- C. 冬眠的哺乳动物比起人类来具有更强的体温调节机制
- D. 冬眠的哺乳动物和非冬眠的哺乳动物之间的区别并不在于体温是否可以调节

阅读下面短文。回答76~80题

人工生命是由计算机科学衍生出来的新学科。它的基本内容包括两个方面：一是以计算机为工具，探索生命进化和生态系统复杂而巧妙的工作机理；二是探索如何把对生命研究的成果用来解决各个领域的实际问题。

人工生命这一新学科是美国圣菲研究所克里斯·兰格敦博士于1987年()的。他认为，生命的特征在于有自我繁殖、进化等功能。因此计算机也能够制造生命现象。地球上的生物只不过是生命的一种形式，人们通过人工方法可以制造出像生物那样的行为并借此了解生命的全貌。正是在这种思想的推动下，开始了人工生命的研究。

今后的科学需要解决复杂系统适应性之类的问题。像人脑、生态系统、社会现象等都是复杂的系统，无法将其细分成组成要素，进行简化后再加以分析，因为这样做将使事物失去其本来的面貌。对于人工生命研究的成果，将有助于解决这类复杂现象的问题。

甚至社会上的“流行”现象也是这类复杂现象。社会中的成员各自按照自己的爱好和个性穿着时装。如果某一种类型的服装呈现出优势，它的款式便流行起来。这一趋向将改变社会成员的服装款式，反过来又对整体趋势产生影响。

人脑信息处理也存在这种宏观与微观之间的关系。神经细胞相当于组成成员，而神经网络则是由这些成员组成的社会。当从外部获得信息时，脑一面动员已有的信息，一面吸收新的信息自律地形成新的信息结构。每一种神经细胞都将影响神经网络，而神经网络又控制各种神经细胞的行为。从信息系统变化过程观点看，“流行”也好，脑也好，进化也好，从本质上说都是一样的。

需要指出的是，人工生命同人工智能不同。人工智能是把已经完成的知识结构作为数据库，然后利用它进行推理。人工生命的研究，则着重于知识的生成过程。

76. 对“人工生命”这一概念，准确的理解是：

- A. 人工生命是计算机科学衍生出来的一种新学科。
- B. 人工生命是探索生命进化及生态系统并把生命研究成果应用于实际的新学科。
- C. 人工生命是利用计算机制造生命现象并进行研究的新学科。
- D. 人工生命是用人工方法制造出生物并借以了解生命全貌的新学科。

77. 第二段中()里应填入的最恰当的词是：

- A. 首创
- B. 创建
- C. 发明
- D. 发现

78. 对第二段中“计算机也能制造生命现象”理解不正确的一项是：

- A. 计算机可以制造出自我繁殖、进化等生命特征。
- B. 计算机可以制造出新的生物。
- C. 计算机可以制造出生命存在的另一种形式。
- D. 计算机可以制造出像生物那样的行为。

79. 对“‘流行’也好，脑也好，进化也好，从本质上说都是一样的”这个说法理解正确的一项是：

- A. 它们本质上都是整体和个体的相互影响。
- B. 它们本质上都是外部信息与内部行为的相互影响。
- C. 它们本质上都是宏观与微观的相互影响。
- D. 它们本质上都是信息系统的变化。

80. 根据本文提供的信息，下列理解不符合原文意思的一项是：

- A. 人工生命同人工智能研究的对象是不一致的。
- B. 服装“流行”是社会整体和各成员间相互影响的一种表现形式。
- C. 人脑属于复杂系统，所以无法研究人脑单个神经细胞。
- D. 地球上的生物只不过是生命的一种形式。

第三部分 数量关系

(共15题，参考时限15分钟)

本部分包括两种类型的试题：(每小题0.7分，共10.5分)

一、数字推理：共5道题。给你一个数列，但其中缺少一项，要求你仔细观察数列的排列规律，然后从四个供选择的选项中选出你认为最合理的一项，来填补空缺项。

例题：1 3 5 7 9 ()

- A. 7 B. 8 C. 11 D. 13

解答：正确答案是11，原数列是一个奇数数列，故应选C。

请开始答题：

81. 32 27 23 20 18 ()

- A. 16 B. 15 C. 17 D. 14

82. 2 5 11 20 32 ()

- A. 45 B. 47 C. 43 D. 49

83. 582 554 526 498 470 ()

- A. 442 B. 452 C. 432 D. 462

84. 25 15 10 5 5 ()

- A. 10 B. 5 C. 0 D. -5

85. 11 12 15 20 27 ()

- A. 32 B. 34 C. 36 D. 38

二、数学运算：共10道题。你可以在草稿纸上运算，遇到难题，你可以跳过不做，待你有时间再返回来做。

例题：

84. 78元、59.50元、121.61元、12.43元以及66.50元的总和是：

- A. 343.73 B. 343.83 C. 344.73 D. 344.82

解答：正确答案为D。实际上你只要把最后一位小数加一下，就会发现和的最后一位数是2，只有D符合要求。就是说你应当动脑筋想出解题的捷径。

请开始答题：

86. 一堆沙重480吨，用5辆载重相同的汽车运3次，完成了运输任务的25%，余下的沙由9

辆同样的汽车来运，几次可以运完？

- A. 4次 B. 5次 C. 6次 D. 7次

87. 三名职工按5: 3: 2的比例分配1800元奖金，问获得奖金最少的职工可分到多少？

- A. 180元 B. 270元 C. 360元 D. 540元

88. 时钟指示2点15分，它的时针和分针所成的锐角是多少度？

- A. 45度 B. 30度
C. 25度50分 D. 22度30分

89. 不深不浅一口井，不长不短一根绳，单股下去多三尺，双股下去少三尺。问多深的井？多长的绳？

- A. 井深六尺，绳长九尺
B. 井深九尺，绳长一丈二
C. 井深一丈七，绳长二丈
D. 以上均不对

90. 某商品以每件20元的处理价卖出，较原价少收入20%的钱；若每件以24元的价钱卖出，则较原价_____。

- A. 低4% B. 低10% C. 高4% D. 高10%

91. 甲、乙二单位合做一项工程，8天可以完成。若先由甲单位单独做6天后，再由两单位合做，结果用6天完成了任务。如该工程由乙单位单独做，则需多少天才能完成任务？

- A. 8天 B. 12天 C. 18天 D. 24天

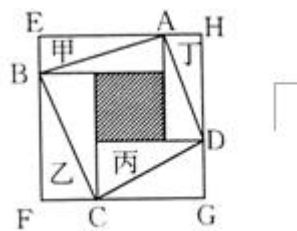
92. 某计算机厂要在规定的时间内生产一批计算机，如果每天生产140台，可以提前3天完成；如果每天生产120台，就要再生产3天才能完成，问规定完成的时间是多少天？

- A. 30天 B. 33天 C. 36天 D. 39天

93. 一列快车和一列慢车相对而行，其中快车的车长200米，慢车的车长250米，坐在慢车上的旅客看到快车驶过其所在窗口的时间是6秒钟，坐在快车上的旅客看到慢车驶过其所在窗口的时间是多少秒钟？

- A. 6秒钟 B. 6. 5秒钟 C. 7秒钟 D. 7. 5秒钟

94. 如图，甲、乙、丙、丁四个长方形拼成正方形EFGH，中间阴影为正方形。已知，甲、乙、丙、丁四个长方形面积的和是32cm²，四边形ABCD的面积是20cm²。问甲、乙、丙、丁四个长方形周



长的总和是多少？

- A. 32cm B. 56cm C. 48cm D. 68cm

95. 一人上楼，边走边数台阶，从一楼走到四楼，共走了54级台阶。如果每层楼之间的台阶数相同，他一直到走到八楼，问他从一楼到八楼一共要走多少级台阶？

- A. 126 B. 120 C. 114 D. 108

第四部分 判断推理

(共30题，参考时限35分钟)

本部分包括三种类型的题目：(每小题0. 8分，共24分)

一、事件排序：共10题。每道题给出五个事件，每个事件是以简短语句表述的，接着给出四种假定发生顺序的序列，请你选出其中最合乎逻辑的一种事件序列。

例题：

1. 收集书籍 2. 购买材料 3. 打造书架
4. 雇用木工 5. 排列书籍
- A. 4—3—1—2—5 B. 1—4—2—3—5
- C. 4—3—2—1—5 D. 3—2—1—5—4

解答：此题正确答案为B。收集书籍(1)一雇用木工(4)一购买材料(2)一打造书架(3)一排列书籍(5)，这一顺序相对于其它顺序而言最合理。

请开始答题：

96. (1)空房率居高不下 (2)小区房价看涨
(3)立交桥拔地而起 (4)居民小区建成
(5)行车被迫绕行
A. 1—4—5—3—2 B. 5—3—4—2—1
C. 4—5—1—3—2 D. 2—4—5—3—1
97. (1)肇事司机被围 (2)拨打急救电话
(3)现场清理干净 (4)肇事车辆逃逸
(5)众人齐声谴责
A. 1—5—4—2—3 B. 4—2—1—5—3
C. 4—1—5—3—2 D. 1—4—3—5—2
98. (1)获奖 (2)几易文稿 (3)作家体验生活
(4)发表 (5)开始写作
A. 5—4—2—1—3 B. 1—3—4—5—2
C. 3—5—2—4—1 D. 3—2—1—5—4
99. (1)合理耕种科学管理 (2)粮食收成不高
(3)购买优良品种 (4)学习科学知识
(5)农民喜售爱国粮
A. 5—4—2—3—1 B. 2—4—3—1—5
C. 1—5—2—4—3 D. 3—4—2—1—5
100. (1)绿化环境 (2)购买荒地 (3)住宅建成
(4)新区规划 (5)工厂迁址
A. 2—1—4—3—5 B. 4—1—3—2—5
C. 2—4—1—5—3 D. 4—2—5—3—1
101. (1)欣赏花卉 (2)罚款 (3)游园
(4)折花 (5)羞愧的离开
A. 1—3—5—2—4 B. 2—3—5—1—4
C. 5—1—3—4—2 D. 3—1—4—2—5
102. (1)交付使用 (2)图纸设计 (3)施工验收
(4)设计交底 (5)现场监理
A. 2—4—3—5—1 B. 1—2—5—3—4
C. 1—3—5—2—4 D. 2—4—5—3—1
103. (1)挪动凳子 (2)屋子变亮
(3)脚绊了一下 (4)妹妹走进屋
(5)灯被打开
A. 5—2—4—3—1 B. 1—4—3—2—5

- C. 5—3—4—2—1 D. 4—3—5—2—1
104. (1)试运行 (2)全线铺通
(3)加速该地区的经济发展 (4)正式运营
(5)修建高速公路
A. 2—3—1—5—4 B. 1—3—5—4—2
C. 5—2—1—4—3 D. 2—1—5—4—3
105. (1)提交项目可行性报告 (2)组成项目组
(3)刻苦攻关 (4)获得批准和项目基金
(5)项目验收
A. 1—3—2—4—5 B. 1—5—4—3—2
C. 1—4—2—3—5 D. 2—4—5—3—1

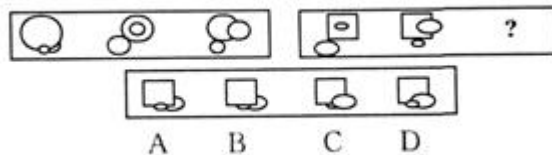
二、图形推理：共10题。每道题包含两套图形和可供选择的4个图形。这两套图形具有某种相似性，也存在某种差异。要求你从四个选项中选择你认为最适合取代问号的一个。正确的答案应不仅使两套图形表现出最大的相似性，而且使第二套图形也表现出自己的特征。



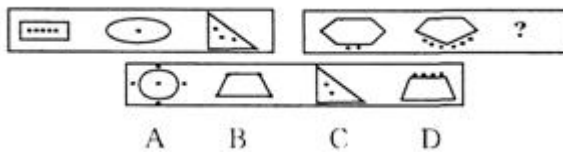
例题：

解答：正确答案为D。因为只有D能使两套图形具有相似性，仅仅元素不同，一个是半圆，一个是半个正方形，但两组图形中元素的排列规律完全相同。

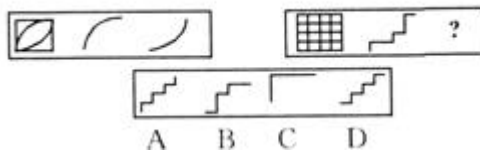
请开始答题：



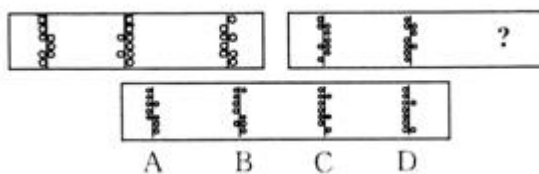
106.



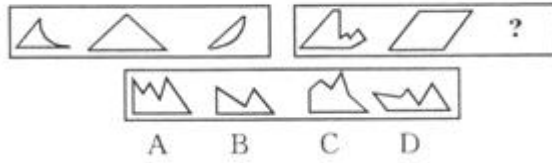
107.



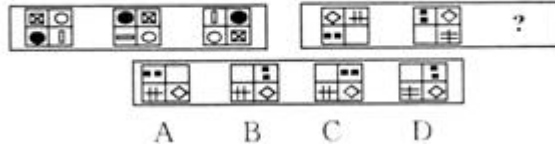
108.



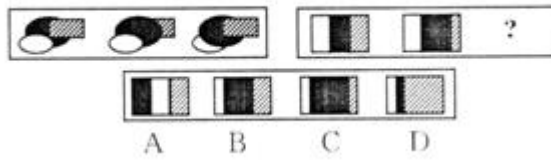
109.



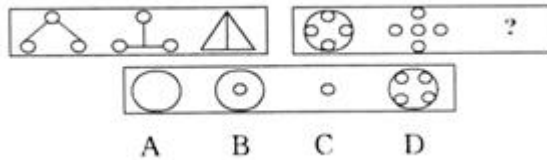
110.



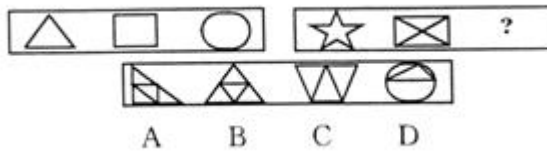
111.



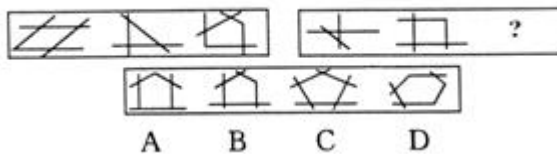
112.



113.



114.



115.

三、演绎推理：共10题，每题给出一段陈述，这段陈述被假设是正确的。不容置疑的。要求你根据这段陈述，选出一个答案。注意。正确的答案应与所给的陈述相符合，不需要任何附加说明即可以从陈述中直接推出。

例题：

某厂有五种产品：甲、乙、丙、丁、戊。它们的年销售额之间的关系为：丙没有丁高，甲没有乙高，戊不比丁低，而乙不如丙高。

请问，哪种产品的年销售额最高？

A. 甲 B. 乙 C. 丁 D. 戊

解答：从所给条件可以知道：戊>丁>丙>乙>甲。因此，正确答案为D。

请开始答题：

116. 今年上半年，即从1月到6月间，全国大约有300万台录像机售出。这个数字仅是去年

全部录像机销售量的35%。

通过这些数据我们可以知道：

- A. 今年录像机市场开始出现萎缩
- B. 今年的录像机销售量将少于去年
- C. 今年完全有可能突破去年的销售量
- D. 今年上半年销售量比去年同期有所下降

117. 我国有2000万家庭靠生产蚕丝维持生计，出口量占世界市场的四分之三，然而近年来丝绸业面临出口困境：丝绸形象降格，出口数量减少，又遇到亚洲的一些竞争对手，有些国家还对丝绸进口实行了配额，这无疑对我国丝绸业是一个打击。这表明：

- A. 目前我国还没有丝绸进口
- B. 目前我国丝绸出口量逐年减少
- C. 其他一些国家的丝绸业有了较大发展
- D. 目前我国丝绸出口量已不再是世界第一

118. 一位教育工作者撰文表达了她对电子游戏给青少年带来的危害的焦虑之情。她认为电子游戏就像一头怪兽，贪婪、无情地剥夺青少年的学习和与社会交流的时间。这表明：

- A. 青少年的自我克制能力较差
- B. 电子游戏给全社会带来很大的危害
- C. 社会上的电子游戏充斥了色情和暴力
- D. 政府应制定法规禁止电子游戏的开发与生产

119. 桌子上的蛋糕不知被谁吃了，以下是屋内四个人的回答，甲说：“是乙吃的。”，乙说：“是丁吃的。”，丙说：“我没有吃。”，丁说：“乙在撒谎。”，这四人中只有一人说了真话，

由此可以判断：

- A. 甲说了真话，是乙吃的
- B. 乙说了真话，是丁吃的
- C. 丙说了真话，是甲吃的
- D. 丁说了真话，是丙吃的

120. 当今的商战要取得胜利，最根本的条件是要制造出比对方更精美价廉的商品，这需要有高水平的科学技术，而高水平的科学技术是人智慧的结晶。

由此可推出：

- A. 人的智慧是无价之宝
- B. 人的智慧比科学技术更重要
- C. 开发和利用人的智慧资源是当今商战成功之本
- D. 引进先进的科学技术是当今商战成功之本

121. 市场经济的内在规律倡导公平竞争和质量取胜，只有符合人们需要的优质产品才能在市场上站稳脚跟。研究表明，在市场经济发展过程中，假冒伪劣产品的出现是与之呈负

相关变化的。由此可知：

- A. 随着市场经济体制的完善，假冒伪劣产品将会得到有效制止
- B. 随着市场经济体制的完善，假冒伪劣产品将会消失
- C. 实行市场经济以前，没有假冒伪劣产品
- D. 实行市场经济，假冒伪劣产品就会大量出现

122. 有时为了医治一些危重病人，医院允许使用吗啡作为止痛药。其实，这样做是应当禁止的。因为，毒品贩子会通过这种渠道获取吗啡，对社会造成严重危害。通过这段话我们可以知道：

- A. 目前医院里使用的吗啡不是毒品
- B. 医院已经成为社会上毒品的一个来源
- C. 国家已经有禁止医院使用吗啡的法规
- D. 目前还没有吗啡从医院流向毒品贩子

123. 健康素质只是脱贫致富自然的物质基础，而文化素质则是影响脱贫致富进程的关键性因素，如果物质上的脱贫不同时伴随文化素质的脱贫，真正意义上的脱贫致富将难以实现。由此可见：

- A. 提高贫困人口的健康素质不重要
- B. 要注重对贫困人口的文化素质方面的脱贫
- C. 扶贫款项都应该用在发展教育上
- D. 只要文化水平提高了，自然就可以脱贫致富

124. 南丰傩舞保存着较多汉代之前的信仰形态，很少道教色彩，这在我国其它地区的傩舞中是罕见的；与越南、朝鲜、日本的傩舞相比，它又很少受佛教的影响。由此可以推出：

- A. 南丰傩舞早在汉代之前就已存在
- B. 我国部分地区的傩舞带有道教色彩
- C. 南丰傩舞从未受佛教影响
- D. 越南、朝鲜和日本的傩舞具有相同的起源

125. 历史证明，民族兴旺、国家发展的关键因素是国民素质的提高。因此，实现我国宏伟发展目标的关键措施是进一步增加教育投入。这表明：

- A. 增加教育投入就可以提高国民素质
- B. 国民素质的提高是我国的宏伟发展目标
- C. 国民素质提高了才可使民族兴旺、国家发展
- D. 我国宏伟发展的目标是民族兴旺、国家发展

第五部分 资料分析

(共15题，参考时限15分钟)

针对下列图、表或文字回答问题。你应根据资料提供的信息进行分析、比较、计算、处理。根据下表回答126～128题。(每小题0.9分，共13.5分)

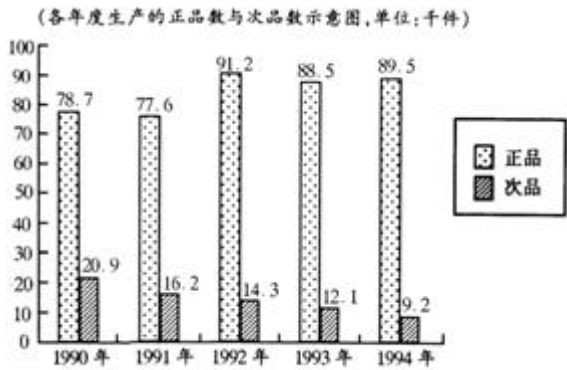
2000～2001年度德国足球甲级联赛记分榜

名次	队 名	场次	胜	平	负	进球数	失球数	积分
1	拜仁慕尼黑	34	19	6	9	62	37	63
2	沙尔克 04	34	18	8	8	65	35	62
3	多特蒙德	34	16	10	8	62	42	58
4	勒沃库森	34	17	6	11	54	40	57
5	柏林赫塔	34	18	2	14	58	52	56
6	弗雷堡	34	15	10	9	54	37	55
7	云达不来梅	34	15	8	11	53	48	53
8	凯泽斯劳滕	34	15	5	14	49	54	50
9	沃尔夫斯堡	34	12	11	11	60	45	47
10	科隆	34	12	10	12	59	52	46
11	慕尼黑 1860	34	12	7	15	34	47	43
12	罗斯托克	34	12	7	15	34	47	43
13	汉堡	34	10	11	13	58	58	41
14	科特布斯	34	12	3	19	38	52	39
15	斯图加特	34	9	11	14	42	49	38
16	翁特哈兴	34	8	11	15	35	59	35
17	法兰克福	34	10	5	19	41	68	35
18	波鸿	34	7	6	21	30	67	27

126. 拜仁慕尼黑队在该年度联赛中胜率是：
A. 50% B. 53% C. 56% D. 60%
127. 排名最后三位的三个球队平均每场获得多少积分？
A. 0. 55 B. 0. 82 C. 0. 95 D. 1
128. 十八支球队中，取得净胜球最多的球队是。（净胜球=进球数-失球数）
A. 拜仁慕尼黑 B. 沙尔克04
C. 多特蒙德 D. 勒沃库森

根据下段材料回答129~131题：

一家企业对1990—1994年各年生产的某种产品正次品数进行了统计，统计结果如下表：



129. 1990~1994年中，哪一年生产的正品数与次品数最为接近？
A. 1990年 B. 1991年 C. 1992年 D. 1994年
130. 1991~1994年中，次品数下降最多的是哪一年？
A. 1994年 B. 1993年 C. 1992年 D. 1991年
131. 1990~1994年五年中，该企业生产的此种产品总共大约有多少正品？

A. 425. 5件 B. 426件 C. 72700件 D. 425500件

根据下面给出的某市上网资费表回答132~135题。

		开户费	基本费	网络使用费		通讯费
				163	169	
拨号注册	A类业务	100	0	3元/小时	1.8元/小时	每分钟0.02元
	B类业务	0	50元/月 100元/月	2.5元/小时 2元/小时	1.5元/小时 1元/小时	
	上网卡(储值卡)	0	0	0.05元/分钟	0.03元/分钟	

132. 拨号注册B类业务中，每月缴50元基本费的169用户每小时网络使用费是：

A. 2.5元 B. 2元 C. 1.5元 D. 1元

133. 以表中各种方式上网，在缴纳网络使用费时还需同时缴纳通讯费。请问上网一小时的通讯费是：

A. 1.2元 B. 1.6元 C. 3.6元 D. 4.8元

134. 使用上网卡以163接入，每分钟应支付网络使用费和通讯费共计：

A. 0.05元 B. 0.07元 C. 0.08元 D. 0.10元

135. 同属拨号注册A类业务，使用169接入比使用163接入每分钟少付：

A. 0.01元 B. 0.02元 C. 0.03元 D. 0.05元

根据下面材料回答136~140题。

据阿根廷国家统计局最新消息，2001年5月至2002年5月，占阿根廷总人口10%的最低收入阶层占有社会总财富比例为1.7%，人均月收入从43比索下降到29比索(1比索约合30美分)，降幅为32.6%。而同样占阿根廷总人口10%的最高收入阶层占有社会总财富比例为31.7%，人均月收入从1415比索下降到1346比索，降幅为7.2%。比较过去的数字，我们还可以发现，20世纪70年代，阿根廷最富和最穷的阶层收入差距为6倍，80年代为20倍，2001年时为33.9倍，2002年为46.6倍。

136. 阿根廷社会总财富与上一年度比：

A. 有所减少 B. 有所增长 C. 基本持平 D. 减少16%

137. 阿根廷经济状况最好的时期为：

A. 20世纪70年代 B. 20世纪80年代
C. 进入21世纪以来 D. 文中没有说明

138. 通过上述数字，我们可以计算出：

A. 社会各阶层的人均月收入水平
B. 中间收入阶层的人均月收入水平
C. 中间收入阶层占有社会总财富的比例
D. 中间收入阶层和最富阶层的收入差距

139. 2002年阿根廷最高收入阶层：

A. 在总人口中所占比例有所下降
B. 平均年收入下降不足250美元
C. 占社会总财富的比例有小的上升
D. 生活水平同2001年比没什么变化

140. 下列说法正确的是，阿根廷：

- A. 贫富差距将会在年底突破47倍
 B. 富人受到的损失比其他阶层都大
 C. 今年的经济状况明显地比去年差
 D. 明年经济形势将比今年有所好转
- 《行政职业能力倾向测验》答案

题号	答案	题号	答案	题号	答案	题号	答案	题号	答案
1	B	29	D	57	C	85	C	113	B
2	D	30	C	58	C	86	B	114	B
3	D	31	BCD	59	A	87	C	115	D
4	C	32	ACD	60	C	88	D	116	C
5	B	33	ACD	61	B	89	B	117	C
6	A	34	BCD	62	D	90	A	118	A
7	A	35	ACD	63	C	91	B	119	D
8	C	36	ABD	64	B	92	D	120	C
9	A	37	ABC	65	C	93	D	121	A
10	A	38	AD	66	C	94	C	122	A
11	A	39	ABCD	67	A	95	A	123	C
12	D	40	ABD	68	B	96	C	124	B
13	D	41	ABC	69	A	97	B	125	C
14	C	42	ABD	70	C	98	C	126	C
15	C	43	BC	71	C	99	B	127	C
16	A	44	ABC	72	A	100	D	128	B
17	B	45	BC	73	C	101	D	129	A
18	A	46	AC	74	B	102	D	130	D
19	C	47	BC	75	B	103	D	131	D
20	B	48	BD	76	C	104	C	132	C
21	C	49	ACD	77	A	105	C	133	A
22	A	50	AB	78	B	106	A	134	B
23	B	51	D	79	D	107	D	135	B
24	D	52	B	80	C	108	C	136	A
25	A	53	D	81	C	109	C	137	D
26	D	54	C	82	B	110	A	138	C
27	B	55	B	83	A	111	C	139	B
28	C	56	C	84	C	112	B	140	C