

## 2004 年上半年广西壮族自治区录用国家公务员和机关工作者考

### 试试卷

### 行政职业能力倾向测验

(2004 年 2 月 14 日下午 3:00-5:00)

#### 第一部分 常识

(共 30 题，参考时限 25 分钟)

本部分为常识题，请根据题目要求做出正确选择。(每小题 0.7 分。共 21 分)

1. 否定量变是质变的必要准备，会导致：  
A. 右倾保守    B. “左”倾盲动  
C. 改良主义    D. 折衷主义
2. 老庄哲学认为：“方生方死，方死方生”是：  
A. 唯心主义宿命论    B. 唯物主义决定论  
C. 相对主义诡辩论    D. 唯意志论
3. 马克思主义认识论是彻底的可知论，其关键原因是：  
A. 坚持了唯物主义观点  
B. 坚持了辩证法观点  
C. 肯定了认识的能动性  
D. 把科学实践观点引入认识论并阐明物质的可知性
4. “人猿相区别”的根本标志是：  
A. 直立行走    B. 手脚分工  
C. 抽象思维    D. 制造劳动工具
5. 造房子时先有草图，后有建筑物，说明：  
A. 物质决定意识  
B. 意识决定物质  
C. 人的意识是主观自生的  
D. 人类具有认识世界和改造世界的能力
6. 思想路线是要解决：  
A. 人们的思想认识问题  
B. 人们的社会实践问题  
C. 主观和客观、认识和实践的关系问题  
D. 人民的根本利益问题
7. 我们常常脱离生产力来抽象地谈论社会主义，其中的主要原因是：  
A. 照抄照搬前苏联的经验  
B. 没有搞清楚什么是社会主义、怎样建设社会主义

- C. 个人崇拜的结果
  - D. 没有提出社会主义市场经济的理论
8. 赵某对其子女享有的监护权属于：
- A. 人格权      B. 姓名权
  - C. 身份权      D. 荣誉权
9. 对于违法行为的制裁体现了法的什么作用？
- A. 指引      B. 评价
  - C. 强制      D. 教育
10. 王强同学自己买了一台价值 3000 元的电视机，放在学生宿舍供大家观看。李明同学在与他人打闹中不慎将电视机砸坏，王强同学可以依法要求李明同学赔偿的款项数额为：
- A. 1500 元      B. 3000 元
  - C. 6000 元      D. 30000 元
11. 李某属国有公司的财会人员，私自动用数额较大的公款去炒股，一个月后被领导发现，其行为属于：
- A. 贪污              B. 挪用公款
  - C. 滥用职权      D. 不构成犯罪
12. 下列机关可受理国家公务员申诉的是：
- A. 乡政府      B. 县人民检察院
  - C. 市人民法院      D. 省信访办
13. 下面句子属于句子成分搭配不当的是：
- A. 为筑起党员干部拒腐防变的思想防线，省纪委开展了警示教育活动。
  - B. 《通知》要求进一步落实国务院关于助学贷款有关政策措施。
  - C. 在这个车间里，勤俭节约的精神得到发扬。
  - D. 认真读书、刻苦钻研的风气已蔚然成风。
14. 下列公文种类中，对行文方向的限制不严格，基本上是下行文，但也允许主送平级和不相隶属的机关的公文是：
- A. 批复      B. 决定      C. 通知      D. 通报
15. 下列公文标题中，正确的一项是：
- A. A 厂关于请求购买复印机的请示报告
  - B. B 公司关于铺张浪费的请示
  - C. M 省人民政府精简机构的请示
  - D. 民政部关于增加干部编制名额的请示
16. 近年来，我国为了扩大内需，执行了积极的财政政策，财政支出逐年增加。财政赤字也有所上升。以下关于财政赤字的认识，正确的是：
- A. 任何时候都不应出现财政赤字
  - B. 不需要对财政赤字加以控制
  - C. 发行国债是弥补财政赤字的主要方法
  - D. 必须向中央银行透支来弥补财政赤字
17. 一位人民代表说得好：每个人都要尊重自己的权利和义务。作为人民代表，不能只是“张张口，举举手”。这位代表之所以这样讲，是因为他认识到人民代表应该：
- A. 履行政府赋予的权利和义务
  - B. 履行宪法所赋予的权利和义务
  - C. 直接行使立法权和监督权
  - D. 直接行使国家最高权力

18. 计算机单项业务处理的重要目的是：  
A. 数据共享      B. 提高效率  
C. 支持决策      D. 增强竞争能力
19. You can't be too careful while driving!  
A. 开车要特别小心!  
B. 开车不能太小心!  
C. 你开车时不得不小心翼翼!  
D. 你开车要小心，但切忌谨小慎微!
20. 为避免因人设事和防止机构膨胀，在人员甄选中应坚持：  
A. 最低岗位数量原则    B. 最低岗位层次原则  
C. 因事设岗原则      D. 因事择人原则
21. 清朝“摊丁入亩”政策最重要的客观作用是：  
A. 使赋税征收办法简化  
B. 土地利用率提高  
C. 对农民人身控制松弛  
D. 国家财政收入增强
22. 每个从业人员在职业工作中应该慎待诺言、表里如一、言行一致，这在职业道德中是：  
  
A. 爱岗敬业的基本要求  
B. 诚实守信的基本要求  
C. 办事公道的基本要求  
D. 服务群众的基本要求
23. “神舟”五号载人飞船平安返回地面，标志着中国已成为世界上第(      )个能够独立开展载人航天活动的国家。  
A. 三      B. 四  
C. 五      D. 六
24. 在 2003 年 11 月 3 日发生的湖南衡阳特大火灾坍塌事故中，(      )名消防队员壮烈牺牲，而现场居民全部及时疏散。  
A. 18      B. 20      C. 22      D. 24
25. 2003 年 12 月 30 日欧洲航天局的(      )探测器从火星赤道轨道成功进入极地轨道。  
A. “勇气”号火星车    B. “机遇”号火星车  
C. “奥德赛”火星      D. “火星快车”
26. 中共中央国务院在去年 12 月召开的全国人才工作会议上作出的《中共中央、国务院关于进一步加强对人才工作的决定》指出，实施(      )是党和国家一项重大而紧迫的任务。  
A. 科教兴国战略      B. 人才强国战略  
C. 强国富民战略      D. 安邦富民战略
27. 最近中央经济工作会议提出，2004 年的经济工作要把解决好(      )问题作为全党工作的重中之重。  
A. 农村基层组织      B. 农村税费改革  
C. 农村电网改造      D. “三农”
28. 2003 年 12 月 26 日是毛泽东同志诞辰(      )周年纪念日。  
A. 100      B. 110      C. 111      D. 120
29. 中国共产党第十六届中央委员会第三次全体会议审议通过了《中共中央关于完善社会主义市场经济体制若干问题的决定》和：

- A. 《中共中央关于修改党章部分内容的建议》  
 B. 《中共中央关于修改(中国共产党党内监督条例)(试行)部分内容的建议》  
 C. 《中共中央关于修改宪法部分内容的建议》  
 D. 《中共中央关于修改(中国共产党纪律处分条例)部分内容的建议》
30. 共青团中央和教育部从 2003 年起将每年从应届毕业生中选派品学兼优的青年志愿者，到( )从事 1 至 2 年的志愿服务。  
 A. 西北地区 B. 西南地区  
 C. 西部地区 D. 东西部地区

## 第二部分 数量关系

(共 15 题，参考时限 15 分钟)

本部分包括两种类型的试题。(每小题 1 分，共 15 分)

一、数字推理：给你一个数列，但其中缺少一项，要求你仔细观察数列的排列规律，然后从四个供选择的选项中选出你认为最合理的一项，来填补空缺项。

例题：1 3 5 7 9 ( )

A. 7 B. 8 C. 11 D. 13

解答：正确答案是 11。原数列是一个奇数数列，故应选 C。

请开始答题：

31. 2 4 8 16 ( )  
 A. 32 B. 25 C. 81 D. 121
32. 3 9 ( ) 81  
 A. 15 B. 27 C. 36 D. 54
33. 4 13 22 31 40 49 ( )  
 A. 60 B. 55 C. 58 D. 72

34.  $\frac{2}{3}$   $\frac{8}{9}$   $\frac{4}{3}$  2 ( )  
 A. 3 B.  $\frac{23}{9}$  C.  $\frac{25}{9}$  D.  $\frac{26}{9}$

35. 0 1 3 8 21 ( )  
 A. 42 B. 29 C. 55 D. 63

二、数学运算：

例题：

84. 78 元、59. 50 元、121. 61 元、12. 43 元以及 66. 50 元的总和是：

A. 343. 73 元 B. 343. 83 元 C. 344. 73 元 D. 344. 82 元

解答：正确答案为 D。实际上你只要把最后一位小数加一下，就会发现和的最后一位数是 2，只有 D 符合要求。就是说你应当动脑筋想出解题的捷径。

请开始答题：

36.  $0.5 \times \div (\div)$   
A. B. C. 1 D.
37.  $(0.8-) \times$   
A. 8. 9 B. 10. 1 C. 9. 1 D. 9. 9
38.  $\div(1-)$   
A. B. C. D. 1
39.  $(-)+(-)+(-)$   
A. B. C. D.
40.  $0.345 \times 832 \times 0.345 \times 169$   
A. 345 B. 345.345 C. 34.845 D. 3.645
41. A、B 两地相距 700 公里，甲、乙两汽车分别从两地同时开出，相向而行。甲汽车的速度是每小时 55 公里，乙汽车的速度是每小时 45 公里，几小时后两车相遇？  
A. 5 B. 6 C. 7 D. 8
42. 一部影片在 4 个单位轮映，每一单位放映一场，有几种轮映次序？  
A. 6 B. 12 C. 24 D. 48
43. 某公司制定的退休政策叫“70 条款”，即职工的工龄加年龄至少要 70 年。如果一女职员在 1986 年她 32 岁时进入该公司，问到哪一年她才有资格退休？  
A. 2003 年 B. 2004 年 C. 2005 年 D. 2006 年
44. a 比 b 大 20%，b 比 c 大 25%，问 a 比 c 大多少？  
A. 40% B. 50% C. 60% D. 30%
45. 鸡与兔共有 120 只，鸡的脚比兔的脚多 60 只，问鸡与兔各有几只？  
A. 90, 30 B. 80, 40 C. 70, 50 D. 60, 60

第三部分 言语理解与表达

(共 30 题，参考时限 25 分钟)

本部分包括三种类型的题目。(每小题 0.7 分，共 21 分)

一、词语替换：请从所给出的四个答案中选出一个，替换句中划线的部分，尽量使句子的意思保持不变。

例题：

尽管事情发生得很突然，他却表现得非常镇静。

A. 宁静 B. 安静 C. 冷静 D. 温和

解答：用“冷静”替换最能保持原意，故应选 C。

请开始答题：

46. 火车刚通过隧道，就发生了塌方，把旅客都吓得目瞪口呆。  
A. 魂不守舍 B. 缩手缩脚  
C. 瞠目结舌 D. 怒目圆睁
47. 生物学家的研究表明，人是从猿进化而来的。  
A. 分化 B. 发展 C. 演进 D. 演变
48. 在作文构思中，最重要而且最艰苦的工作不在搜寻材料，而在有了材料之后，将它们加以选择与安排。  
A. 寻找 B. 搜索 C. 搜集 D. 搜查

49. 朋友们对他的支持，他永远铭记在心。  
A. 牢记 B. 谨记 C. 默记 D. 死记
50. 现代市场经济所倡导的是“管得最合适的政府就是最好的政府”。  
A. 倡议 B. 提倡 C. 倡言 D. 指导

二、语句表达：要求你从语气、词序、语法的结构等方面对有关语句作出判断。

例题：

从给出的几句话中选出没有语病的一句：

- A. 阅读理解与否，是衡量阅读能力好坏的重要标志。  
B. 阅读与理解，是衡量阅读能力好坏的重要标志。  
C. 阅读是否理解，是衡量阅读能力的重要标志。  
D. 阅读能力好坏的标志是理解。

解答：从给出的四句话来看，只有 A 没有语病，故应选 A。

请开始答题：

51. 请把下列句子中有歧义的一句找出来：  
A. 文章分析了无产阶级和资产阶级在各个历史时期进行斗争时采取的战略特点。  
B. 中国猿人的发现，是对古人类学的一个重大贡献。  
C. 他的文章在《人民日报》上发表了。  
D. 巫山十二峰，各峰有各峰的姿态。
52. 下面四句话中存在歧义的一句是：  
A. 这是一门学生愿意学习的课程。  
B. 这是一项农民能够掌握的技术。  
C. 那是一个大家乐于接受的方案。  
D. 这是一个技师能够解决的问题。
53. 从给出的几句话中选出没有语病的一句：  
A. 慈爱的大自然母亲也为自己的儿女们助了及时的一臂之力。  
B. 难道能否认《项链》不是一篇入木三分地揭露资本主义社会的小说吗？  
C. 乔丹是美国篮球明星，他的名字无论对中国人民还是世界人民来说都是非常熟悉的。  
D. 有哪一个春天里的花园能比得过这时天山无边的繁花呢？
54. 从给出的几句话中选出没有语病的一句：  
A. 人们如果连续看上四五个小时的电视节目，就会使人十分疲劳。  
B. 如果人们连续看上四五个小时的电视节目，就会十分使人疲劳。  
C. 人们如果连续看上四五个小时的电视节目，就会感到十分疲劳。  
D. 如果人们连续看上四五个小时的电视节目，就会十分感到疲劳。
55. 从给出的几句话中选出有语病的一句：  
A. 这些文明成就沉淀在文化中，又通过教育传授给新一代，从而使新一代获得比前一代更高的起点。  
B. 我们在对某些教育政策作了一定的分析之后，从而思考教育的深层问题是十分必要的。  
C. 中国女排昨天以三比一击败了日本队，从而取得了七战七胜的成绩。  
D. 现有国有资产中既有国家直接投资形成的部分，又有地方、部门投资形成的部分，从而使现有国有资产的划分出现了很大的困难。
56. 从给出的几句话中选出没有语病的一句：

- A. 校园文明自律活动，在全校两万师生中积极行动，清除不文明现象。  
 B. 校园文明自律活动，使全校两万师生积极行动，清除不文明现象。  
 C. 在校园文明自律活动中，使全校两万师生积极行动，清除不文明现象。  
 D. 校园文明自律活动，对全校两万师生积极行动，清除不文明现象。
57. 从给出的几句话中选出没有语病的一句：  
 A. 是否努力学习科学文化知识，这是衡量一个青年学生愿意为四化贡献力量的大问题。  
 B. 努力学习科学文化知识，这是衡量一个青年学生是否愿意为四化贡献力量的大问题。  
 C. 努力学习知识与否，这是衡量一个青年学生愿意为四化贡献力量的大问题。  
 D. 是否努力学习科学文化知识，这是衡量一个青年是否愿意为四化贡献力量的大问题。
58. 请把下面四句话中表达有歧义的一句找出来：  
 A. 农民的负担依然是沉重的话题。  
 B. 我校今年新生人数超过历史最高记录四百人。  
 C. 他的勤奋好学赢得大家的一致称赞。  
 D. 他是个老实巴交的山里人，没见过什么世面。
59. 请把下面几句话中表达有歧义的一句找出来：  
 A. 关于小李和大李的问题得尽快加以解决。  
 B. 他骑车不小心撞倒了一个老太太。  
 C. 坚定的信念，强烈的愿望，促使他们不顾一切地继续进行试验。  
 D. 春天像小姑娘，花枝招展地，笑着，走着。
60. 从给出的几句话中选出没有语病的一句：  
 A. 只要刻苦学习，就能取得好成绩。  
 B. 只有刻苦学习，才能取得好成绩。  
 C. 如果刻苦学习，就能取得好成绩。  
 D. 只要刻苦学习，就一定能取得好成绩。

三、阅读理解：每道题包含一段短文，短文后面是一个不完整的陈述，要求你从四个选项中选出一项来完成这一陈述。注意：供选择的答案有时可能是对短文内容的一个复述，有时则满足了陈述中其它方面的要求，你的选择应与所提要求最相符合。

例题：

铁路新线路的开辟与否，往往必须在建路花费尽可能少的要求与新建路线的贸易运输量尽可能多的要求之间取得妥协。

这段话主要支持了这样一种论点，即新建铁路的线路：

- A. 应该是一造价最低的线路  
 B. 其选择决定了新兴贸易中心的位置  
 C. 决定于是否与终点之间的距离最短  
 D. 不会总是具有最低建造成本的路线

解答：仔细考察四个选项，您可以发现，选项 A 与题中“妥协”的含义不相符；选项 B 和 C 都无法从题中得出；只有选项 D 是短文支持的一种主要观点，因此正确答案为 D。

请开始答题：

61. 教学包括教和学两个方面。研究教学的一般理论的科学称为教学论，也译作教授学，是教育科学中一个相对独立的分支学科。教学论要解决有关教学方面的理论问题。这段话

主要支持了这样一种论点，即：

- A. 教学包括教和学两方面
- B. 教学论是教育科学中一个相对独立的分支学科
- C. 教学论的研究对象是教学中的一般理论问题
- D. 教学论是研究教和学两方面的理论问题的总称

62. 自然界中微观客体一般指空间尺度小于  $10^{-6}$  厘米，质量小于 10-15 克的粒子，包括分子、原子、原子核、基本粒子等物质层次。微观粒子和在极其微小的空间范围内的各种现象，一般称为微观现象。微观粒子和微观现象总称微观世界。微观世界的运动服从量子力学和量子电动力学所反映的规律。最能准确复述这段话主要意思的是：

- A. 什么是微观客体      B. 微观客体有哪些组成
- C. 什么是微观现象      D. 什么是微观世界

63. 由于五代时期经常改朝换代，一切因陋就简，顾不上进行新的建设。所以，后周以前，开封的规模同唐朝差不多。到郭威建立后周以后，实行政治、经济改革，情况有所好转。最能准确复述这段话主要意思的是：

- A. 五代时期朝代更替频繁
- B. 战乱时期无暇顾及建设发展
- C. 五代时期对于都城没有什么建设
- D. 开封的规模在五代同唐朝时差不多

64. 管理科学是在第二次世界大战以后逐渐形成和发展起来的。它是以工程科学为基础，运用运筹学、系统工程等科学和电子计算机技术来解决销售管理、物资管理、生产管理、人事管理等方面的问题，从而达到有效地利用人力、物力、财力的一种管理理论和方法。

这段话主要支持了这样一种论点，即：

- A. 管理科学是新兴学科
- B. 管理科学涉及面很广
- C. 管理科学是一门综合科学
- D. 管理科学是一门运用多种学科知识解决问题的新兴的综合学科

65. 宗教是相信和崇拜超自然的神灵的一种世界观，是自然和社会力量在人们意识中的虚幻和歪曲的反映。它产生于史前社会后期，当时生产力低下，人们无法了解自然界，幻想以祈祷、祭献等来影响和主宰自然界。自阶级产生以后，剥削阶级竭力支持宗教，借以麻痹人民的斗志，后来发展成为世界性宗教。最能准确复述这段话主要意思的是：

- A. 宗教是一种唯心主义世界观
- B. 宗教产生的认识根源和阶级根源
- C. 宗教产生于史前社会，有着特定的历史根源
- D. 宗教从一产生起便为统治阶级利用，作为维护其统治的工具

66. 原子结构很像太阳系，中心是原子核，周围是环绕着一些带负电荷的电子。原子的质量几乎全部集中在原子核上，它由一些带正电荷的质子和不带电的中子所组成。最能准确复述这段话主要意思的是：

- A. 原子核处于太阳系的中心
- B. 原子核由带负电荷的质子与不带电的中子所组成
- C. 原子由电子和带正电荷的质子与不带电的中子所组成的原子核组成
- D. 原子核由核外电子、质子和中子组成

67. 近几年来，报刊征订强行摊派之风年年刮，一年甚于一年，一些上级部门凭借手中的职权，把负担压给基层，把好处留给自己。

最能准确复述这段话主要意思的是：



- A. 报刊征订受到基层重视
- B. 报刊征订强行摊派加重了基层负担
- C. 报刊征订强行摊派之风愈刮愈烈
- D. 应尽快制止报刊征订过程中的不正之风

68. DNA 的分子结构并不是一成不变的，在各种理化因素或环境因素的影响下，DNA 上碱基对排列顺序即遗传密码可能发生改变，从而引起基因突变。即使在正常情况下，DNA 复制过程中也发生频率极低的突变。这段话主要支持了这样一种论点，即：

- A. DNA 分子结构的可变性很强
- B. DNA 可能发生变异
- C. DNA 非常容易产生基因突变
- D. DNA 只有在特殊情况下才可能变异

69. 宋朝自中央大理寺、御史以至府、州、军、监、县各有自己的监狱。京师监狱经常由皇帝定期亲自“决狱”，或派员“疏决”。

最能准确复述这段话主要意思的是：

- A. 宋朝有较为完善的监狱制度
- B. 宋朝皇帝能做到亲自“决狱”
- C. 宋朝监狱太多太杂
- D. 宋朝非常注重犯人的监管

70. 无论准确也好，鲜明、生动也好，就语言方面讲，要求字眼总要用得恰如其分。这样，表达的概念才会准确，也才会使人感到鲜明，说得神秘一点，字眼里面还有它的声调和色彩。

最能准确复述这段话主要意思的是：

- A. 语言要生动、准确
- B. 语言是很神秘的东西
- C. 文字很神秘
- D. 文字的运用要恰如其分

71. 现代科学技术开始于十九世纪，当时出现了有组织的规模较大的科学技术研究单位，这有内在的和外部的原因。内在原因是科学技术到这一时期比较复杂，专业、专科很多。外部原因是当时出现的一场技术革命。这段话主要支持了这样一个论点，即：

- A. 现代科学技术产生于十九纪末
- B. 现代科学技术出现了科学技术研究单位
- C. 现代科学技术是内外两种因素作用的结果
- D. 现代科学技术产生的外因大于内因

72. 语言的使用是社会经济政治文化生活的重要条件，是每人每天所离不了的。学习把语言用得正确，对于我们的思想的精确程度和工作效率的提高，都有极重要的意义。

最能准确复述这段话的主要意思的是：

- A. 语言的使用与人类息息相关
- B. 学习正确使用语言对我们具有极其重要的意义
- C. 学习正确使用语言是我们生活所必需的
- D. 语言在我们生活中扮演着一个非常重要的角色

73. 我国土地资源总量虽居世界前列，但由于人口众多和地形多样化的原因，土地人均占有量和已利用土地资源中耕地的人均占有量远低于世界平均数。

这段话主要支持了这样一种论点，即：

- A. 我国土地资源丰富

- B. 我国土地资源总量居世界前列  
C. 我国土地资源相对贫乏  
D. 我国土地资源贫乏
74. 岫岩，地处辽东半岛，这里山清水秀，是全国最大的宝玉石产地。  
最能准确复述这段短文意思的是：  
A. 岫岩在辽东半岛  
B. 岫岩是个山清水秀的好地方  
C. 岫岩不仅山清水秀，而且盛产宝玉石  
D. 岫岩是全国较大的宝玉石产地
75. 三年前，她有一个美满的三口之家。现在，已经离婚的她只有一个人艰难度日。  
最能准确复述这段短文意思的是：  
A. 她离婚了  
B. 她离婚后一个人过  
C. 她曾经家庭美满，但现在离婚了  
D. 她离婚后日子很艰难

#### 第四部分 判断推理

(共 40 题，参考时限 40 分钟)

本部分包括三种类型的题目：(每小题 0.7 分，共 28 分)

一、事件排序：每道题给出五个事件，每个事件是以简短语句表述的，接着给出四种假定发生顺序的序列，请你选出其中最合乎逻辑的一种事件序列。注意要以最少的假设来联系和安排这五个事件的发生顺序。

例题：

- (1)收集书籍 (2)购买材料 (3)打造书架  
(4)雇用木工 (5)排列书籍  
A. 4—3—1—2—5 B. 1—4—2—3—5  
C. 4—3—2—1—5 D. 3—2—1—5—4

解答：此题正确答案为 B。收集书籍(1)一雇用木工(4)一购买材料(2)一打造书架(3)一排列书籍(5)，这一顺序相对于其它顺序而言最合理，故应选 B。

请开始答题：

76. (1)出征亚特兰大 (2)入选国家队 (3)夺得世界冠军  
(4)从小刻苦训练 (5)为国争光  
A. 2—4—1—3—5 B. 4—2—1—3—5  
C. 4—1—2—3—5 D. 4—2—1—5—3
77. (1)钥匙掉了 (2)打开门 (3)散步回来  
(4)找到房东 (5)钥匙在床上  
A. 4—2—5—1—3 B. 3—1—4—5—2  
C. 4—3—5—1—2 D. 3—1—4—2—5
78. (1)连续几天暴雨 (2)形成水灾  
(3)人民奋起自救 (4)重建家园  
(5)冲毁庄稼、房屋  
A. 1—2—5—3—4 B. 5—2—1—3—4

- C. 1—3—4—2—5     D. 2—1—4—3—5
79. (1)召开动员大会     (2)纷纷捐款捐物  
(3)送往灾区     (4)灾情发生  
(5)支援灾区人民建设  
A. 1—3—4—5—2     B. 2—3—4—1—5  
C. 3—2—4—5—1     D. 4—1—2—3—5
80. (1)上课铃响     (2)教师步入教室  
(3)学生涌入教室     (4)开始上课  
(5)师生互致问候  
A. 1—2—3—4—5     B. 1—5—4—2—3  
C. 1—3—2—5—4     D. 1—3—2—4—5
81. (1)处方     (2)取药     (3)就诊  
(4)挂号     (5)划价、付款  
A. 4—3—1—5—2     B. 3—1—4—5—2  
C. 1—2—3—4—5     D. 2—1—3—5—4
82. (1)付款     (2)去菜场     (3)讨价还价  
(4)准备人民币     (5)选中合意蔬菜  
A. 5—4—2—3—1     B. 2—3—1—4—5  
C. 1—5—3—4—2     D. 4—2—5—3—1
83. (1)技术革新     (2)科学研究     (3)经济增长  
(4)社会安定     (5)人民生活水平提高  
A. 1—2—3—5—4     B. 3—2—1—4—5  
C. 2—1—3—5—4     D. 4—1—5—2—3
84. (1)支付违约金     (2)提起诉讼     (3)法庭判决  
(4)签订合同     (5)单方违约  
A. 5—4—2—3—1     B. 4—5—3—2—1  
C. 4—5—2—3—1     D. 4—5—1—2—3
85. (1)7名党员站了出来     (2)穿好消防衣和救生衣  
(3)石油井喷，大火熊熊     (4)冒火前进  
(5)终于关住了闸门  
A. 3—1—2—4—5     B. 3—2—5—4—1  
C. 3—1—5—2—4     D. 1—2—3—5—4
86. (1)河床严重淤积     (2)形成水灾     (3)河水泛滥  
(4)排水受阻     (5)连降暴雨  
A. 5—1—4—3—2     B. 5—2—1—3—4  
C. 1—5—4—3—2     D. 1—5—4—2—3
87. (1)准备素材     (2)讲课     (3)确定讲稿  
(4)确定题目     (5)整理资料  
A. 4—1—5—3—2     B. 4—2—3—1—5  
C. 3—4—1—2—5     D. 2—3—4—1—5
88. (1)接受批评     (2)按要求去做     (3)分派任务  
(4)出现失误     (5)改进工作  
A. 2—1—5—3—4     B. 5—4—1—3—2  
C. 4—2—1—5—3     D. 3—2—4—1—5

89. (1)校对 (2)撰写 (3)印刷 (4)发行 (5)排版

A. 1—3—4—2—5 B. 2—5—1—3—4

C. 2—1—5—4—3 D. 2—3—4—1—5

90.(1)风和日丽 (2)扫兴而归 (3)天气骤变

(4)游八达岭 (5)雷电交加

A. 2—3—4—5—1 B. 4—1—2—5—3

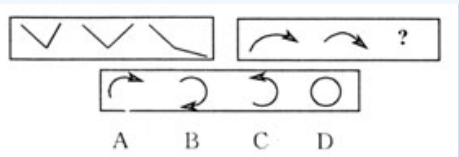
C. 3—4—5—1—2 D. 1—4—3—5—2

二、图形推理：每道题包含两套图形和可供选择的4个图形。这两套图形具有某种相似性，也存在某种差异。要求你从四个选项中选择你认为最适合取代问号的一个。正确的答案应不

仅使两套图形表现出最大的相似性，而且使第二套图形也表现出自己的特征。

例题

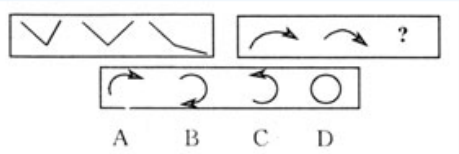
例题



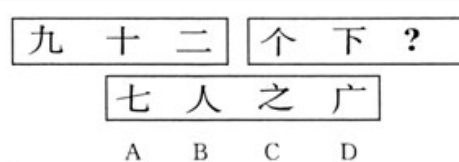
解答：正确答案为D。因为只有D能使两套图形具有相似性，仅仅元素不同，一个是半圆，一个是半个正方形，但两组图形中元素的排列规律完全相同，故应选D。

请开始答题：

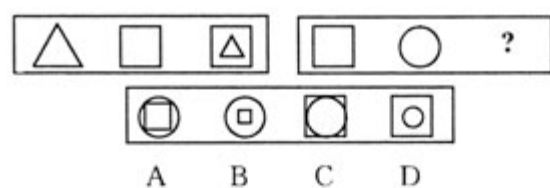
91.



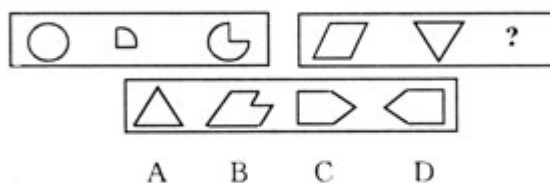
92.



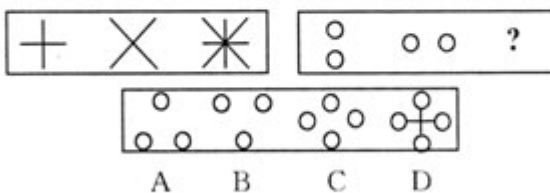
93.



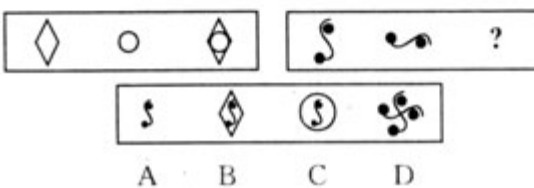
94.



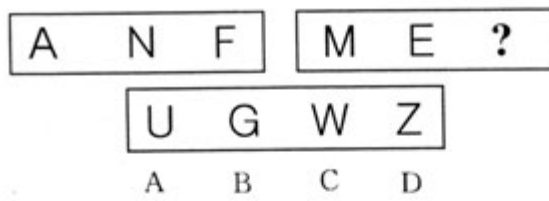
95.



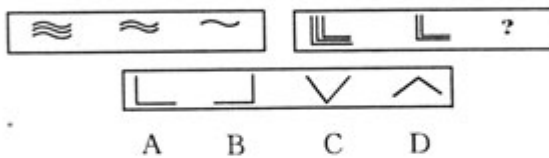
96.



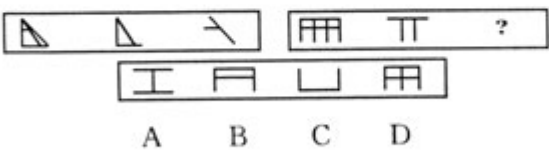
97.



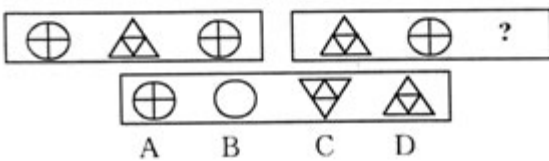
98.



99.



100.



三、演绎推理：每题给出一段陈述，这段陈述被假设是正确的，不容置疑的。要求你根据这段陈述，选出一个答案。注意：正确的答案应与所给的陈述相符合，不需要任何附加说明即可以从陈述中直接推出。

例题：

某厂有五种产品：甲、乙、丙、丁、戊。它们的年销售额之间的关系为：丙没有丁高，甲没有乙高，戊不比丁低，而乙不如丙高。请问哪种产品的年销售额最高？

A. 甲 B. 乙 C. 丁 D. 戊

解答：从所给条件可以知道：戊>丁>丙>乙>甲。因此.正确答案为 D。

请开始答题：

101. 随着社会主义现代化程度的不断提高，社会分工日益精细，人与人之间的依赖程度也愈来愈高，人们的生活重心正逐渐由工作单位向社区转移。而就本质而言，人与人之间的互动关系构成了社区生活的主要内容。因此：

- A. 人际关系怎么样正越来越直接地影响着人们的生活质量
- B. 在社区生活中每个人都要作出无私奉献
- C. 将来，人们只会对社区倾注热情，而对工作单位却不甚关心
- D. 有了社区生活后，亲戚关系将不重要了

102. 目前，世界各地存在着许多经济组织，它们一般是按地区结成。如“欧佩克”，“亚洲经济合作组织”，“欧盟”等。这些组织中的各国比较能够协调一致，应付世界市场的变幻。如欧佩克，一直左右着石油价格的变化，维护着组织内各国的利益。可见：

- A. 只有结盟才能在现代社会中更好生存
  - B. 世界市场变化无常，单个国家无法独立应付这种形势，而合作与联合是最佳发展方式
  - C. 这些联合组织是世界不稳定的因素
  - D. 这些经济组织是被用来争霸用的
103. 在日本，战后的一代人以勤恳精明著称于世，而对这一代年青人，却被称之为“跨掉的一代”，其中的原因在于：
- A. 日本人的精神被老一代人消耗完了
  - B. 年青人对西方过于依赖
  - C. 日本的老一代在一种非常快的节奏中勤恳敬业地工作，而不知享受生活，这令生活无忧的日本年青人无法接受
  - D. 美国对日本进行意识形态灌输
104. 如果国营企业实行财务制度的“以税代利”、自负盈亏，那么就能调动企业内部的活力，某国营企业没有实行财务制度的“以税代利”、自负盈亏，所以：
- A. 某国营企业没能调动企业内部的活力
  - B. 某国营企业肯定亏损
  - C. 某国营企业可能采用了其它方法调动了企业内部的活力
  - D. 某国营企业财务制度不健全
105. 在自然科学发展史上，有不少科学家认识了真理，却因坚持真理而被害，这说明：
- A. 真理意味着死亡
  - B. 科学家太迂腐，不懂变通
  - C. 坚持真理是要付出代价的
  - D. 统治者总是反对真理的
106. 近年来，北约不断东扩，这引起了俄罗斯的不安和强烈不满，其原因在于：
- A. 北约东扩侵犯了俄的战略利益，孤立和包围俄罗斯是俄所不能容忍的
  - B. 北约关心东欧各国发展
  - C. 俄有大国沙文主义倾向
  - D. 只要是美国赞同的，俄都反对
107. 科普宣传的目的是引导公众用科学的思想观察问题、用科学的方法处理问题。知识不存在的地方，愚昧就自命为科学。迷信是人类处于蒙昧时代难以正确解释种种自然和社会现象的产物，缺乏科学的依据和逻辑推理。迷信成为一些人骗人赚钱的工具后，掺入了许多貌似合理的伪科学知识，具有较大的欺骗性。因此：
- A. 在迷信面前，科学无能为力
  - B. 相信周易预测、看风水、看手相的人已越来越少
  - C. 掌握科学知识是破除迷信的根本途径
  - D. 现在迷信的人还很多，人类仍处于蒙昧时代
108. “小的是美好的”这句话，倘以我看，作为严格的美学命题恐怕站不住脚。比如古典诗人喜欢吟咏的小桥流水、樱桃小口之类，但究竟也有不少人取相反的兴趣，去赞美跨海的桥或索菲娅·罗兰式的阔嘴。可见：
- A. 没有绝对的大，也没有绝对的小
  - B. “小的是美好的”不正确
  - C. “大的是美的”才正确
  - D. 大与小，哪一种形态算是美的，属于萝卜白菜各有所爱之事
109. 解放前，一次大灾荒，死亡人数常常不亚于一次革命或一场战争。而新中国建立后，

尽管屡次发生规模空前的旱灾或火灾，但因灾而死亡的人数却很少。可见：

- A. 解放后灾民的逃生手段比以前高明了
- B. 新中国建立了优越的政治和社会制度，使人民的抗灾能力大大提高了
- C. 解放后，灾害多发地区的群众大多迁移了
- D. 解放前，发生灾害时政府对灾民不加以赈济

110. 在西方一些国家，从事第三产业的人口已达 70%，并且，这些国家的人们收入水平相当可观，由此可见：

- A. 发达国家有钱，可以进口粮食，不用经营农业
- B. 这些国家已经实现了产业结构的优化调整
- C. 西方人愿意伺候别人
- D. 统计有误

111. 一次有人请一位作家指认他的著作中写得非常潦草的一段，他说：“我写这几句时，只有怀素和尚与我在一起，现在也只有他才知道。”作家的意思是：

- A. 大部分人不能理解草书
- B. 怀素的草书古今无双
- C. 作家已忘记这一段话的内容，难以识别自己的字迹
- D. 作家从不轻言创作过的东西

112. 如果排进河中的污水含汞量过高，那么这些汞就会被河中的藻类等浮游生物所吸收；这些浮游生物为鱼所食，汞就会在鱼体内积蓄起来，人吃了较多的这种鱼，就会产生汞中毒。所以：

- A. 要消除汞中毒，就不要吃鱼
- B. 要消除汞中毒，就不要吃河中的鱼
- C. 要消除汞中毒，必须禁止向河中倾倒垃圾
- D. 要消除汞中毒，必须消除河水中过量的汞

113. 某珠宝店被盗，警方已发现如下线索：

- ①A、B、C 三个至少有一个人是罪犯
- ②如 A 是罪犯，则 B 一定是同案犯
- ③盗窃发生时，B 正在咖啡店喝咖啡。可见
- A. A 是罪犯      B. A、B 都是罪犯
- C. A、B、C 都是罪犯      D. C 是罪犯

114. 1998 年上台的韩国总统金大中是韩国政坛的一员不屈不挠的勇将，人民之所以选择平民出身的金大中是因为：

- A. 韩国的军事独裁统治令韩国经济获得极大发展
- B. 金大中个人魅力很高
- C. 军事政府无力应付经济危机，而金大中的主张又易于为人们接受
- D. 选举都是随机的

115. 鲁迅在《读几本书》一文中曾谈到：“读死书会变成书呆子，早有人反对过了，时常不绝的进行，反读书的思潮也越加彻底，于是有人来反对读任何一种书。他的根据是叔本华的老话：倘是读别人的著作，不过是在自己的脑里给作者跑马。这对于读死书的人们，确实是一个当头棒。不过要明白，死抱住叔本华这句金言的天才，他的脑里却正被叔本华跑了一趟马，踏得一塌糊涂了。”可见：

- A. 读别人的著作，只不过是重复别人的劳动，没有意义
- B. 那些反对读任何一种书的人，实际上已把叔本华书中的话当作金科玉律
- C. 书读多了会成书呆子



D. 与其读别人的书，不如自己来创作

# 第五部分资料分析

(共 15 题，参考时限 15 分钟)

本部分所给出的图、表或一段文字均有 5 个问题要你回答。

你应根据资料提供的信息进行分析、比较、计算和判断处理。

(每小题 1 分，共 15 分)

一、请根据以下资料回答 116--120 题。

某年五国农作物自给率统计表

(单位：%)

	麦	米	薯类	砂糖	肉类
丹麦	107	124	103	110	351
法国	147	40	103	140	62
西德(前)	87	99	82	92	87
苏联(前)	112	57	100	90	99
日本	9	104	97	12	89

116. 五类农作物完全不能自给的国家是：

A. 丹麦 B. 法国 C. 西德(前) D. 日本

117. 以下判断正确的是：

A. 西德(前)的麦产量与肉产量相等  
B. 丹麦与法国的薯类产量相等  
C. 五个国家中麦产量最高的国家是法国  
D. 以上三个都不对

118. 法国砂糖产量是总供给量的几倍？

A. 1. 4 倍 B. 2. 4 倍 C. 0. 4 倍 D. 不能确定

119. 五个国家中麦自给率最低的国家是：


A. 日本 B. 法国 C. 西德(前)D. 苏联(前)

120. 五类农作物完全能够自给的国家是：

A. 法国 B. 西德(前)C. 苏联(前)D. 丹麦

二、请根据以下资料回答 121-125 题。

请根据以下资料回答 121～125 题。



121. 农业人口占全国总人口比重最大的国家是：  
A. 中国 B. 美国 C. 印度 D. 巴西
122. 工业化程度最高的国家是：  
A. 中国 B. 美国 C. 苏联(前) D. 日本
123. 印度非农业人口占全国总人口的：  
A. 70.9% B. 49.1% C. 60.9% D. 39.1%
124. 巴西农业人口占全国总人口的：  
A. 36.4% B. 35.8% C. 62.4% D. 64.2%
125. 非农业人口占全国总人口一半以上的国家是：  
A. 美国、苏联(前)、印度  
B. 中国、美国、日本、巴西  
C. 美国、苏联(前)、日本  
D. 美国、苏联(前)、日本、巴西

三、请根据以下资料回答 126～130 题

《人民日报》1996 年 12 月 1 日报载，地处长江之滨的湖北省浠水县，秋播刚一结束，全县干部群众就转战江堤。在全长 65 千米的大堤上，20 万劳力和 2000 多台机械各显神通，掀起全面整修加固大堤的热潮。浠水县今冬加固整修江堤全部工程主要包括：

- 一、拆除大堤禁脚上 50 米以内的所有违章建筑物；
- 二、填平大堤禁脚外 50 米以内的所有塘、堰和鱼池；
- 三、修筑 15 米宽的外平台，加筑 20 米宽的二级平台和 10 米宽的一级平台；
- 四、将堤顶由现在的 8 米宽加至 12 米宽。全部工程需动用土方 300 多万立方米。到

11 月 26 日发稿时，浠水县江堤清基工程和牙口已全部完成，完成土方 50 多万立方米，整个工程可望在 12 月中旬完工。

126. 湖北省浠水县濒临哪条河流？  
A. 长江 B. 黄河 C. 珠江 D. 赣江
127. 湖北省浠水县大堤全长多少？  
A. 64 里 B. 130 里 C. 65 里 D. 60 公里
128. 湖北省浠水县“今冬”加固整修江堤全部工程主要包括几项？  
A. 1 B. 2 C. 3 D. 4
129. 工程完工后，湖北省浠水县的江堤堤顶将加宽多少米？  
A. 8 米 B. 12 米 C. 4 米 D. 5 米
130. 到 11 月 26 日，湖北省浠水县已完成全部江堤工程的：

A. 一半    B. 约 1/4    C. 约 1/5    D. 约 1/6  
2004 年上半年广西壮族自治区录用国家公务员和机关工作者考试试卷

《行政职业能力倾向测验》题本答案及评分标准

10	B	38	A	66	C	94	A	122	B
11	B	39	C	67	B	95	C	123	D
12	A	40	B	68	B	96	D	124	B
13	D	41	C	69	A	97	C	125	D
14	C	42	C	70	D	98	A	126	A
15	D	43	C	71	C	99	B	127	B
16	C	44	B	72	B	100	D	128	D
17	B	45	A	73	C	101	A	129	C
18	B	46	C	74	C	102	B	130	D
19	A	47	C	75	C	103	C	(注：1~30	
	每								
20	D	48	C	76	B	104	C	小题为 0.7 分。	
21	C	49	A	77	D	105	C	共 21 分：31~	
	45								
22	B	50	B	78	A	106	A	每小题为 1 分。	
	共								
23	B	51	A	79	D	107	C	15 分：46~75	
	每								
24	A	52	D	80	C	108	D	小题为 0.7 分。	
25	B	53	D	81	A	109	B	共 21 分：76~~	
	115 每小题为 0.7								
26	D	54	C	82	D	110	B	分，共 15 分	
	116~130。每小题								
27	B	55	B	83	C	111	C	1 分共 15 分。	
	总分								
28	D	56	B	84	C	112	D	100 分)	