

2013 年 0907 新疆公务员考试《行测》真题

第一部分 常识判断

1、2011 年自治区第八次党代会把（ ）作为新疆实现科学跨越的首要任务。

- A、农牧业增效、农牧民增收 B、环保优先、生态立区 C、推进新型工业化 D、推进新型城镇化

2、中央新疆工作座谈会和自治区党委七届九次全委（扩大）会议，都强调了各族人民的“四个认同”教育。“四个认同”是新疆民族团结和谐的文化内核，具有塑造共同心理的特殊功能，是文化软实力的重要组成部分，也是和谐社会建设的关键所在。“四个认同”具体是指：

- A、对祖国的认同、人民的认同、中国共产党的认同、中国特色社会主义的认同
B、对祖国的认同、中华民族的认同、中国共产党的认同、人民的认同
C、对祖国的认同、中华民族的认同、中华文化的认同、中国特色社会主义的认同
D、对祖国的认同、人民的认同、中国共产党的认同、中华文化的认同

3、下面关于新疆的描述错误的是：

- A、新疆占中国国土面积的六分之一，是中国最大的省区
B、国内与西藏、青海、甘肃、陕西相邻
C、周边与蒙古、俄罗斯、哈萨克斯坦、吉尔吉斯斯坦、塔吉克斯坦、阿富汗、巴基斯坦、印度等八国毗邻
D、北部的阿尔泰山、中部的天山和南部的昆仑山中间分别夹着准噶尔盆地、塔里木盆地，共同形成“三山夹两盆”的地形特征

4、晒太阳能够帮助人体吸收哪种维生素：

- A、维生素 A B、维生素 B C、维生素 C D、维生素 D

5、上甘岭战役是指哪一次战争中的战役：

- A、抗美援朝 B、抗日战争 C、解放战争 D、鸦片战争

6、2013 年 5 月，新疆地质工作者在伊犁州（ ）发现一处特大型金矿，是新疆地矿部门继 1988 年在伊犁河谷发现储量为 50 吨的阿希金矿后，在西天山地区发现的最大金矿。

- A、察布查尔县 B、霍城县 C、新源县 D、特克斯县

7、下列关于我国民主选举方式的说法，不正确的是：

- A、直接选举使每个选民都有机会选择自己心目中最值得信赖的人
B、间接选举不适宜在选民较多、分布较广的情况下实施
C、如果不加以有效规范，差额选举容易发生虚假宣传、贿赂选民等情况

D、等额选举的优点是能够比较充分地考虑当选者结构的合理性

8、依据《中华人民共和国国家赔偿法》，下列说法正确的是：

A、赔偿请求人应当在申请行政复议或者提起行政诉讼时提出赔偿请求，单独向义务机关提起

B、赔偿义务机关赔偿损失后，应当责令有重大过失的工作人员承担部分或者全部赔偿费用

C、国家赔偿以支付赔偿金为主要方式，但应当缴纳个人所得税

D、如公民被错误拘留，则作出拘留决定的人，应承担赔偿义务

9、作为某国企的总经理，赵某利用职务之便将该公司的巨额资金占为己有。赵某的行为构成：

A、挪用公款罪 B、挪用资金罪 C、贪污罪 D、职务侵占罪

10、张大爷因车祸去世，其亲属包括姐姐甲、儿子乙和女儿丙。此外，张大爷的妻弟丁是残疾人，无生活来源，多年来一直靠张大爷抚养。下列说法正确的是：

A、张大爷的法定继承人是乙和丙 B、甲应继承的遗产份额应当为乙和丙的二分之一

C、丁应当酌情分得部分遗产 D、经各有权继承人协商同意，个人分得的遗产可以不一致

11、李某 13 岁，擅长电脑技术。其父要买一台笔记本电脑，但对这方面不熟悉。李某遂擅自去商场买回一台电脑，则该商场与李某的电脑买卖合同：

A、有效 B、无效 C、效力待定 D、可撤销

12、下列哪项不是我国证券监督管理委员会的职能：

A、拟定证券期货市场的方针政策 B、对证券期货市场实行集中统一监管

C、监管上市公司 D、监管银行间债券市场

13、下列关于债券与股票的比较，不正确的是：

A、股票和债券都属于有价证券

B、股票和债券都是筹资手段，因而都属于负债

C、普通股的股票所有者可以参与公司决策，债券持有者通常没有这个权利

D、股票不具有偿还性，而债券到期时发行人必须偿还债券的本金和利息

14、明代长城起始与结束处的两个最重要的关隘是：

A、山海关、嘉峪关 B、居庸关、嘉峪关 C、居庸关、玉门关 D、山海关、玉门关

15、下列说法正确的是：

A、汉武帝时期，开辟了丝绸之路 B、郑和七次下西洋，最远到达非洲西海岸

C、航海家麦哲伦横渡大西洋，发现新大陆 D、16 世纪的殖民“三角贸易”主要是指商品贸易

16、下列关于地理分界线的叙述，正确的是：

- A、马六甲海峡是太平洋与大西洋的分界线 B、黑河—腾冲线是我国人口密度分界线
C、德雷克海峡是南美洲和北美洲的分界线 D、直布罗陀海峡是太平洋和北冰洋的分界线

17、关于湄公河，下列说法正确的是：

- A、是亚洲流经国家最多的河流 B、是亚洲最长的河流
C、流经柬埔寨、巴基斯坦的首都 D、在我国境内叫怒江

18、下列关于自然现象的说法，不正确的是：

- A、在太阳系中离太阳最近的行星是水星
B、赤潮是因为海洋中的浮游生物爆发性急剧繁殖造成海水颜色异常的现象
C、极光只发生在地球南北极的高纬度地区
D、月食是指月球被地影遮掩而发生的现象

19、下列哪种家用电器属于纯电阻用电器：

- A、冰箱 B、白炽灯 C、电视机 D、微波炉

20、下列说法不正确的是：

- A、同一艘轮船从河里驶入海中，浮力不变
B、人在电梯上升和下降时所受的重力相同
C、飞机在起飞和降落过程中所受的空气阻力大小相等
D、在同一个斜坡上，汽车匀速上坡和匀速下坡时所受的地面摩擦力大小相等

第二部分 言语理解与表达

21、非物质文化遗产总是在变化发展中传承的，许多传统剧种的形成也并非_____，而是经过数代人在传承过程中，根据社会发展变化和大众审美需求，不断地进行着或大或小的适应性调适、创新、完善乃至重构。

填入划横线部分最恰当的一项是：

- A、一蹴而就 B、一脉相承 C、一成不变 D、一帆风顺

22、作品独创性的判断不在于文字的多寡，而在于通过文字所_____出来的精妙构思和遣词造句的功底，如微型小说、微型散文、微型童话或微型诗歌等，以微博为载体表现出来_____的作品。

填入画横线部分最恰当的一项是：

- A、表现 一孔之见 B、折射 不刊之论 C、传达 微言大义 D、反映 金玉良言

23、没有唯一标准的答案并非哲学的缺点，而是优点，只要不同的答案从不同方面提供智慧，或者相互_____，并非坏事，它可以拓展思维和眼界。完全从哲学评价标准中_____命题的科学性问题，排除真理与

谬误的问题，就会把哲学从人类智慧中驱逐出去。

填入画横线部分最恰当的一项是：

- A、补充 排斥 B、借鉴 摒弃 C、配合 包含 D、印证 关注

24、抽样研究是许多定量研究都要涉及的重要环节，开展定量研究时，要力求选择适当的抽样方法来提高抽样精度，_____样本参数与总体参数之间的差异。当前，不同学者与研究机构对同一问题的研究结果_____，大多与抽样方法有关。

依次填入划线部分最恰当的一项是：

- A、减少 各执一端 B、弥补 南辕北辙 C、缩小 大相径庭 D、控制 大同小异

25、法国文学大师雨果曾说过，“世界上最宽阔的是海洋，比海洋宽阔的是天空，比天空更宽阔的是人的胸怀。”我们如果以_____的心接纳他人，理解他人，_____别人的缺点甚至错误，就能尝到“退一步海阔天空”的喜悦。

填入画横线部分最恰当的一项是：

- A、慈爱 体谅 B、笃定 接受 C、宽容 容忍 D、包容 欣赏

26、美德好比宝石，它在朴素背景的衬托下，反而更加华丽。同样，一个打扮并不华贵，却端庄严肃而有美德的人是令人肃然起敬的。

这句话的含义是：

- A、美德，要令人肃然起敬，要有华丽的外表
B、凡有美德的人，即使打扮得华贵也令人肃然起敬
C、凡有美德的人，即使打扮得不够华贵也令人肃然起敬
D、凡有美德的人，在朴素背景的衬托下更令人肃然起敬

27、一个躬逢社会激变、十分关心政治的青年，并非被迫而是出于自愿的久守缄默。一般来说，是令人难以理解的。谢林曾不止一次告诫黑格尔：这样做“殊为不值”，但黑格尔认为，“在某种意义上，这种缄默实在是一切教育和学问的基本条件，我们必须从能够认识别人的思想开始”。

段落中“这样做‘殊为不值’”的“这样”指代什么？

- A、躬逢社会激变，关心政治 B、强迫青年 C、理解社会 D、保持缄默，研究别人

28、在人类进步的道路上，发现与发明层出不穷，我们根据这些把人类的进程划分成先后相承的若干阶段。同时，各种社会制度，因为与人类的永恒需要密切相关，都是从少数原始思想的幼苗发展出来的，也同样成为我们划分阶段的依据。将这些制度、这些发明与发现综合起来，加以比较，就可以看出人类出于同源，同一发展阶段中人类有类似的需要，并且可以看出在相似的社会条件中人类有同样的心理作用。

这段话的意思是：

- A、人类出于同一祖先，因此有同样的需要和心理

B、人类所有种族在相似的情况下，其需要和心理是相同或类似的

C、同一个种族的成员在同样的发展阶段中有相同或类似的需要和心理

D、在社会条件不尽相同的情况下，人类的心理作用仍然可以是一致的，而具体的需要在相同的条件下只能是近似的

29、任何信息传输体制都有其自身无法克服的弊端，都可能出现信息不畅的情况。信息的传输者和接受者之间在主观上和客观上存在着信息供给与信息需求的矛盾，很容易为非正规传输渠道打开方便之门；了解信息无门，就会寻找体制外的信息渠道。于是某些知情或者号称知情者，就会“各投所好”，传播或者制造小道消息。小道消息作为社会信息需求的一种自我补救，它是在组织交流不充分、不通畅的情况下出现的，是一种不正常的畸变信息。尽管其可能存在一定的真实性，但其扩散的结果很难控制，容易引发社会盲动。

这段文字说明了什么？

A、小道消息出现的原因 B、信息传输体制的弊端 C、形成信息不畅的原因 D、信息不对等造成的后果

30、任何一门理论科学中的每一个新发现——它的实际应用也许还根本无法预见——都使马克思感到喜悦，但是当有了立即会对工业，对一般历史发展产生革命影响的发现的时候，他的喜悦就非同寻常了。

最能准确复述这段话意思的是：

A、马克思对与实践紧密相关并能对它产生重大影响的科学发现，兴趣甚为浓厚

B、马克思高度重视理论学科中的每一个新发现，因而对任何一个新发现都感到由衷的喜悦

C、马克思十分重视他的发现对工业以及一般历史发展产生的革命影响

D、马克思有着非凡的预见性，因而对理论科学中的新发现都特别敏感

31、破解农田水利工程建得起、用不好的迷局，需要加快形成农业用水合理水价机制，根据农民的承受能力，科学合理地确定供水成本，然后根据各地的实际情况来合理地确定水价。对于确实出现水价不成本造成维护、运行、管理经费的缺口，可以考虑由政府财政给予适当弥补，以使水利工程建好以后，也能管得好，真正能够发挥作用。同时，还应该进一步加强农民用水合作组织建设，通过机制创新来降低灌溉成本，既保证农民用水的权益，也有助于保证水利设施持久的使用。

根据这段文字，解决农田水利要：

A、加大政府财政补贴 B、加强农民用水合作组织建设 C、大力兴建水利工程 D、建立合理的水价机制

32、核心竞争力是什么？不在于你学的是什么技术，学得多深，智商多少，而在于你身上有别人没有的个性、背景、知识和经验的组合。如果这种组合绝无仅有，在实践中有价值，具有可持续发展性，那你就具备核心竞争力。因此设计自己的发展路线时，应当最大限度地加强和发挥自己独特的组合，而不是寻求单项的超越。而构建自己独特组合的方式，主要是通过实践，其次是要有意识地构造。

这段文字意在说明：

A、甄别行业核心人才的标准

B、个人核心竞争力的构成及实现

C、如何设计符合自身特点的发展路线

D、个性特征保留越多越具竞争力

33、科技资源的分散不仅无法保障科技投入的使用效率，更重要的是无法让有限的科技资源聚焦国家战略决策和重大部署，推动我国科技在重大关键领域的跨越式进步。培育和发展战略性新兴产业是我国当前面临的重大战略机遇。每一个新兴产业领域的推进都是一项系统工程，不仅要选择好方向和技术路线，还要提高关键核心技术研发攻关的协同和继承能力，对具有战略方向性关键共性技术，集中资金和研究力量实施重点突破。

这段文字意在说明：

- A、科技资源分散影响和制约了科技的发展
- B、新兴产业领域的发展需要各方面共同努力
- C、集中科技资源对培育和发展战略性新兴产业具有重要意义
- D、培育和发展战略性新兴产业是我国科技发展的重中之重

34、旅游的产业链很长，涉及众多服务提供方，自然会产生一系列利益主体。利益主体间的冲突，最终也会反映到游客身上来。因此，能不能通过改革形成合理的利益分享机制，构造能良性运转，为游客提供完备服务的后台系统，不仅关系到游客满意度的高低，对旅游业健康发展也有重要意义。固有的利益格局一旦形成，就容易产生路径依赖。如果没有外力介入打破不合理的利益机制，会造成很大危害。旅游改革就是要通过恰当方式，对利益分享机制重新调整，以激发参与各方的积极性，形成良性发展。

这段文字意在说明：

- A、旅游业改革重在调整利益分享机制
- B、服务行业改革要以消费者满意为目标
- C、整合职能方可发挥旅游业的综合价值
- D、建立完备的服务系统是旅游改革的突破口

35、青铜镜背面的花纹随着时间的推移也有着各种各样的变化。齐家文化时期的青铜镜背面花纹较为简单，到了汉代，镜子的背面开始出现了几何图案，这些图案设计的灵感或者源于当时汉代丝绸上的花纹。科特森还特意提供了一些汉代丝绸的藏品与青铜镜共同展出，以便参观者进行比较。到了隋唐时期，镜子背面开始出现十二生肖、五岳四海等图案。而随着唐朝与西域和海外频繁的贸易往来，一些外来的艺术设计理念也反映到青铜镜上，其中包括葡萄藤，花草以及复杂的回纹样式。元代以后的青铜镜开始出现仿古的风潮，镜子背面的设计有模仿唐朝以前青铜镜的痕迹。

这段文字意在说明：

- A、青铜镜背面花纹的演变
- B、青铜镜背面花纹设计理念的回归
- C、青铜镜所承载的文化内涵
- D、中外交流对青铜镜纹饰的影响

36、把传统简历转换成在线形式，无论对求职者还是用人单位都有好处，它能完善整个招聘过程。在线简历可以让求职者摆脱纯文本描述的限制，通过加载更为丰富的自荐内容，引导浏览者获得更全面有效的信息。同时，求职者也可以掌握自己简历的访问情况，甚至可以从浏览者获得反馈。在线简历将降低招聘、应聘成本，使人事部门与求职者获得更多的便捷。

下列说法与这段文字相符的是：

- A、在线简历将全面替代传统简历
- B、用人单位需要对求职者的在线简历做出反馈
- C、在线简历形式比传统简历形式的互动性强
- D、使用在线简历更易得到用人单位的青睐

37、面部表情的主要功能是辅助人们的语言交流，在交谈过程中加强情绪信息的传达。和独处时间相比，人们在社交情境中表达情绪的面部表情更多而且更明显。很多时候网络上的文字性讨论容易引起误解和争吵，一个可能的原因在于，交谈双方无法从对方语气判断对方是善意还是恶意，是讽刺还是调侃；更无法看到对方的表情，只能根据对方的文字判断对方的立场和意图，于是误会产生了。

这段文字主要说的是：

- A、文字在表明立场时的作用不如面部表情
- B、面部表情和语气是人们表达情感的重要手段
- C、人与人之间通过网络交流会导致情绪沟通困难
- D、缺乏面部表情信息使得人们在网络交流时易产生误会

38、可以说，科学革命的发端几乎与行星运动和血液循环研究在同步前进。洛克所发明的显微镜将截至那时我们无法看见的微小物质呈现在人类眼前，进而将科学的发展扩展到了新的领域。《显微术》是新兴实证主义的宣言，这与《浮士德》中的巫术相差十万八千里。然而，显微学这门新的科学要做的可不仅仅是精确的观测。从伽利略开始，这门科学便是一种系统的实验法，一种数学关系的识别法。相应地，牛顿和莱布尼兹分别提出微积分和微分学。最后，鉴于笛卡尔和斯宾诺莎推翻了关于认知和理性的传统理论，所以这场科学革命也是一场哲学革命。毫不夸张地说，正是这一系列的知识创新催生了现代解剖学、天文学和物理学。

对这段文字主旨概括最准确的是：

- A、显微学在科学发展史上扮演了极其重要的角色
- B、实证主义的出现使欧洲科学界发生重大变革
- C、自然科学的进步能引发人类对哲学命题的思考
- D、显微镜的发明是人类认识自然过程中的重大事件

39、互联网时代，地球是平的，这意味着在今天这样一个因信息技术而紧密、方便联系的互联世界中，已经冲破了国家和地域的限制。然而，不同的国家和地域，拥有不同的文化和生活方式，用户的管理方式和本地诉求也不尽相同，谁能更好地满足用户需求，提升用户体验，谁就能在竞争中占据主动权，从而赢得一片广阔的市场。

这段文字意在说明在互联网时代：

- A、满足不同的用户需求是竞争的关键
- B、世界因技术而紧密联系
- C、信息技术的飞跃是行业发展的重要契机
- D、互联网产品呈多样化发展趋势

40、结构化数据可以在关系数据库中找到，多年以来一直在主导着信息技术的应用；半结构化数据包括电子邮件、文字处理文件以及大量发布在网络上的新闻等，以内容为基础，这也是谷歌和百度存在的理由；而非结构化数据广泛存在于社交网络、物联网、电子商务之中。伴随着社交网络、移动计算和传感器等新技术不断产生，有报告称，超过 85% 的数据属于非结构化数据。很多人相信这些庞大的异构数据中蕴含着巨大财富——企业如果能在这些非结构化数据中挖掘知识并与业务融合，决策的依据将会更加全面和准确；在科学、体育、广告和公共卫生等其他领域中，也有着向数据驱动型的发现和决策方式转变的趋势。

这段文字意在说明：

- A、搜索引擎网站的发展方向
- B、非结构化数据的商业价值
- C、结构化数据和非结构化数据的区别
- D、企业决策对庞大数据的依赖性

41、早在十八、十九世纪，西欧工业化所致的资源环境问题，就引起了人们的广泛关注和批评。二十世纪中期以来，随着工业化的拓展，自然资源更大规模的开采和利用。一些国家工业集中地区的环境被过度破坏，世界各地要求节约资源和保护自然环境的呼声日益强烈。一些人甚至认为，只有“零增长”，才能将人类经济活动控制在资源和环境可以承受的限度内。但事实是，迄今为止，世界大多数国家仍然沿着西方发达国家的工业技术路线推进工业化，这就必然会受到越来越严重的资源约束。

这段文字意在说明：

- A、工业化所致的资源问题日趋严重
- B、节约资源和保护环境与发展工业化的矛盾不可调和
- C、工业化的发展最终无法摆脱资源和环境的限制
- D、发展经济不应以牺牲资源和环境为代价

42、①借款人只能拆东墙补西墙，通过举借新债才能偿还旧债

②此时，以借款来偿还信用卡欠款利息的人就是在玩弄“庞氏骗局”

③明斯基指出，债务积累的过程会经历三个阶段

④只要借款人能履约还款，信贷支持就能保证经济高效且有序地成长

⑤前两个阶段在总体上是良性的，促使经济以积极的方式不断增长

⑥但是进入最后一个阶段，债务循环便开始越来越不稳定

将以上 6 个句子重新排列，语序正确的是：

- A、③④⑤⑥②①
- B、③⑤④⑥①②
- C、④③⑤⑥②①
- D、④③⑥②①⑤

43、追溯历史我们发现，兰州曾经竟是河水交错之地，黄河水道南切进入城中，冲击出很多天然的岔道港湾。及至 20 世纪 80 年代，兰州还有很多地方都是河中的洲滩、岛屿，而清朝以前，兰州更是牧歌式的水城，如果要更向历史的深处探寻，历史上的兰州曾经有着亚热带的气候特征。然而后来因用地需要增大，人们大量截流、占用河滩，水城的景观逐渐作古了。

这段文字意在说明：

- A、从古至今，兰州的地理环境发生了较大变化
- B、人们的生活方式改变了兰州的自然条件
- C、随着气候的变化，兰州的城市景观发生了较大的改变
- D、兰州已从水资源丰富的城市转变为缺水的城市

44、一个优秀的战略制定者，不仅要有很强的逻辑分析能力，还要具备很强的直觉感受。他们必须同时是优秀的经济学家和心理学家。近期关于人类认知的研究发现，战略制定者若能得到利用联想思维去发现、利用并说服各方接受潜在的机遇，通常会取得更好的结果。战略创新不仅依靠理性分析，同样也需要直觉灵感。

根据这段文字，可以知道：

- A、心理分析将成为制定战略的秘密武器
- B、战略制定者常常利用联想思维去说服他人

C、创新战略常常是理性和感性结合的结果 D、制定战略时直觉感受比逻辑分析能力更重要

45、从化学的角度说，高分子材料在 320 度到 820 度之间的中低温燃烧情况下，会释放出十几种呋喃类物质，这些有致癌作用的物质统称为“二噁英”。通过实验发现，焚烧的温度低于 320 度或者高于 820 度，都不会产生二噁英。这就要求垃圾焚烧发电厂一次启用，持续稳定运行，不能频繁停炉。如果停炉，在降温过程中，温度从 820 度到 320 度之间的时间必须控制在三秒钟内，防止二次合成二噁英。所以，_____。

填入画横线部分最恰当的一句是：

- A、如果垃圾处理得当，发电时带来的“二噁英”问题基本上可以解决
- B、考虑到环境成本，现在世界各国已很少使用焚烧法处理生活垃圾
- C、垃圾无害化处理的实现有赖于焚烧炉高效稳定的运转
- D、在建造垃圾焚烧发电厂时应采用精密的时间控制技术

46、有学者曾经把思维定势比作一份“地图”。我们都知道，地图不代表地域，只是对地域的某些方面进行说明。思维定势就是这样，它是关于某种事物的理论、诠释或模型，由每个人的成长背景、经验及选择打造而成，影响到我们的态度和行为。符合世界本来面目的“地图”，有利于我们迅速地处理日常事务，解决一般性问题。但是，我们面临新情况、新问题，或需要开拓创新时，思维定势绘制的“地图”不仅不能帮助我们解决问题，反而会变成“思维的枷锁”，阻碍我们拓展新思路。

这段文字接下来最可能说的是：

- A、思维定势消极影响的具体表现
- B、个人经验的积累有助于打破思维定势
- C、人在思考过程中是如何形成思维定势的
- D、面对新情况时如何突破思维定势

(材料)

①每个人对于自己要成为一个什么样的人，都应该有一个自我设计。但这种设计应该是相对模糊的，是不完美的和有待修正的。可生活中偏偏就有人跟自己较劲，觉得自己这也不行，那也不好，觉得现实中的自己距离设计中的自己相差太多，并因而痛苦不堪。其实这些人往往忽视了一个最基本的现实，就是人人都有缺陷。“玉，有点瑕疵才是真的。”

②有一位腿有残疾的私营企业主，经过自己十几年的拼搏奋斗，终于成了闻名遐迩的雕刻家和经营雕刻精品的大老板。有人对他说：“你如果不是残疾，恐怕会更有成就。”他却淡然一笑说：“你说得也许有道理，但我并不感到遗憾。因为如果没有小儿麻痹症，我肯定早下地当了农民，哪有时间坚持学习，掌握一技之长？我应该感谢上帝给了我一个残疾的身体。”还有罗斯福和丘吉尔，罗斯福曾连任四届美国总统，但很少有人知道他曾经是一个信奉巫神、酗酒成癖的人；丘吉尔是英国历史上最著名的首相，1953 年获诺贝尔奖，但他也曾经是一个贪睡、贪酒的人，还曾因吸食鸦片两次被赶出办公室。但他们都痛苦地改掉了自己年轻时的不良嗜好，经过不懈的努力，成就了伟大的事业_____。

③完美欲是人类的天性之一，有了它，人类才会不满足地向前发展。我们努力追求完美，但同时我们必须学会接纳我们的不完美。

④不能接纳自己的不完美，源自我们常常拿理想的自我与现实的自我进行比较而产生的焦虑感。必须明白，理想的自我是要经过若干年甚至一生的不懈努力才能接近而始终不能百分之百达到的一个终极目标。只要每天进步一点、快乐一点，我们离目标也就近了一点。【 】因为不能接纳自己的缺陷而生出健忘、失眠等痛苦，只

能使我们离目标越来越远。不能接纳自己的不完美，还源自和别人不正确的比较而产生的自卑感。拿自己与高过自己一大截的人比，拿自己的缺点与别人的优点比，拿自己的各个方面分别与不同人的优点比，比较的结果是事事不如人，谁都比自己好。

⑤其实，每个人都有足以让自己确立自信的优于别人的长处。“一棵树，如果花不鲜艳，也许叶子会绿得青翠欲滴；如果花和叶子都不漂亮，也许枝干会长得错落有致；如果花、叶子和枝干都不漂亮，也许它处的位置很好，在蓝天的映衬下绰约多姿。

⑥席勒曾经给成年人写过一篇童话：一个圆的一部分切去了，它希望自己是一个完美的圆，因此它就四处寻找它遗失的那一部分。但因为它不是一个完整的圆，所以只能慢慢滚动，由此得以沿途欣赏花草的芬芳，阳光的灿烂，并与蚯蚓娓娓而谈。有一天，它终于找到了自己遗失的部分，它高兴极了，因为它又是一个完美的圆。它又开始飞快地滚动，它在快速滚动中发现世界整个变了样，许多美好的东西都失去了，于是它又停下来，毫不犹豫地将千辛万苦找回的部分丢在路边，然后慢慢滚动着向前走去……

⑦人生就是如此，不完美才是真的，只要我们真诚地面对，有点缺憾，人生照样精彩。

47、根据文意，下列选项中，不属于人们“不能接纳自己的不完美”的主要原因的是：

- A、理想自我和现实自我比较产生的焦虑感 B、不满现状，不接纳自己缺陷产生的痛苦
C、急于达到终极目标而产生的焦虑 D、不正确的比较观带来的自卑

48、作者引用席勒的童话的目的是：

- A、告诉人们月满则亏，水满则溢 B、告诉人们追求圆满的结局往往是不圆满
C、告诉人们人生有时需要不完美 D、告诉人们追求完美是办不到的

49、下列选项中，适合填在本文第②自然段横线处的是：

- A、正所谓“苦尽甘来、否极泰来” B、正所谓“功夫不负有心人”
C、正所谓“沉舟侧畔千帆过，病树前头万木春” D、正所谓“乘风破浪会有时，直挂云帆济沧海”

50、下列选项中，符合作者观点的是：

- A、人生是不完美和有待修正的，要勇于正视自己的缺陷，学会接纳自己的不完美
B、人生不必追求完美，正视现实最重要
C、追求完美的人往往是最不幸福的人
D、人要学会拿自己的优点和别人的缺点进行比较

51、文中【 】处，应填入的词语是：

- A、倘若 B、即使 C、之所以 D、抑或

52、在人际交往中，多听少说，善于倾听别人讲话是一种良好的_____。

填入横线处最恰当的选项是：

- A、修养 B、格调 C、素养 D、道德

53、当下，互联网对我们生活的改变和冲击是_____的，从最基本的衣食住行_____开来，最终连离别也被赋予了一层新意，出现了“网上钱行”这种全新的离别方式。

填入画横线部分最恰当的一项是：

- A、面面俱到 延伸 B、前所未有 扩散 C、旷古未有 发散 D、史无前例 蔓延

54、非公有制企业是最活跃的经济_____，加强非公有制企业党建工作，有利于进一步解放和发展社会生产力，有利于促进社会_____，有利于更好地坚持社会主义基本经济制度，有利于更好地坚持党的领导。

填入横线处最恰当的一项是：

- A、细胞 和谐 B、细胞 和睦 C、元素 和谐 D、元素 和睦

第三部分 数量关系

55、6，9，15，21，33，（ ）

- A、37 B、39 C、41 D、46

56、2，7，28，63，126，（ ）

- A、215 B、150 C、119 D、178

57、4，8，13，19，23，（ ），34

- A、25 B、27 C、28 D、31

58、2，13，5，9，8，5，11，（ ）

- A、13 B、15 C、3 D、1

59、252，21，12，（ ）， $\frac{48}{7}$

- A、9 B、7 C、 $\frac{7}{4}$ D、 $\frac{13}{7}$

60、120，60，40，30，24，（ ）

- A、22 B、20 C、18 D、10

61、-1，27，8，125，（ ）

- A、512 B、428 C、256 D、343

62、1，1，4，13，43，142，（ ）

- A、469 B、369 C、234 D、198

63、6，13，24，43，（ ）

- A、57 B、83 C、74 D、62

64、1, 3, 8, 24, 11, 33, 14, ()

A、42 B、39 C、46 D、51

65、一列客车从A地行驶到B地出发30分钟后，距离B地还有60%的距离，又过30分钟后距B地55km，问：A、B两地相距多远？

A、220km B、250km C、275km D、330km

66、同样的木棍，做成三节棍，每一节随机染色，分别为红、白、黑，问：最后共生产多少种三节棍？

A、18 B、21 C、24 D、27

67、A、B、C共三个进水口，A为主进水口，A水流的速度是B、C水流速度之和的两倍，B单独进水需要50小时将容器装满；B、C同时进水10小时后打开A，还需5小时才能将容器装满，问：若A、C同时进水需要几小时将容器装满？

A、5 B、5.5 C、9 D、10

68、甲、乙两家公司合并，占甲公司股份30%的陈先生，在合并之后占新公司的12%股份，赵先生占甲15%、乙5%的股份，问：合并后占新股的多少？

A、9% B、10% C、11% D、12%

69、从A地到B地的硬座票价为185元，卧铺比硬座贵115元，但是卧铺还要额外增加卧具清洗的成本20元，现在如果将108座席位的硬座票改为72位的卧铺票，且车厢满员不超载，问：能节约多少成本？

A、180元 B、360元 C、540元 D、720元

70、宾馆有三层，每层有60间客房，客房的房号以层数加该层的房间编号组成，如一层的第1间客房号为101，三层的最后一间客房房号为360，那么在所有的房号中，数字“1”出现了多少次？

A、108 B、126 C、148 D、156

71、灯泡的功率与寿命成反比，功率为20瓦的灯泡比30瓦的寿命增加2400小时，问：45瓦的灯泡的寿命比50瓦的长多少小时？

A、240 B、320 C、480 D、1200

72、共有A、B、C三组人，从A组调走 $\frac{1}{4}$ 的人到C组，则A组剩下的人是C组的 $\frac{9}{11}$ ，C组调 $\frac{1}{4}$ 的人到B组，则C组剩下的人是B组的 $\frac{1}{2}$ ，A组比B组多10人，则问A、B、C三组，共有多少人？

A、130 B、140 C、150 D、160

73、某剧场8:30开始检票，但很早就有人排队等候，从第一名观众来到时起，每分钟来的观众一样多，如果开三个检票口，则8:39就不再有人排队，如果开五个检票口，则8:35就没有人排队，那么第一名观众到达的时间是：

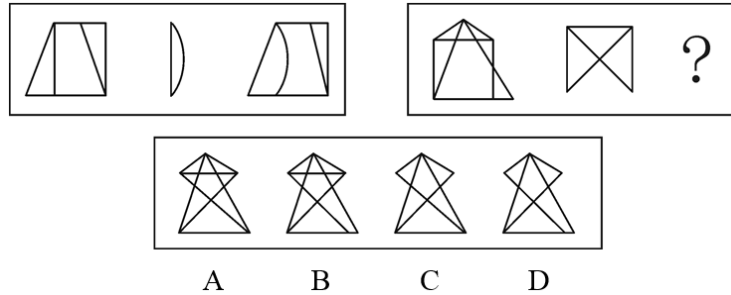
A、7:30 B、7:45 C、8:00 D、8:15

74、某个正方形剧场院子每边的外墙长度都是 100 米，15 点整甲和乙两名保安同时从同一个角出发反向而行，分别以每分钟 60 米和 80 米沿着院子的外墙巡逻，15 点 9 分 30 秒到 15 点 10 分 30 秒之间，甲和乙之间最短的直线距离应：

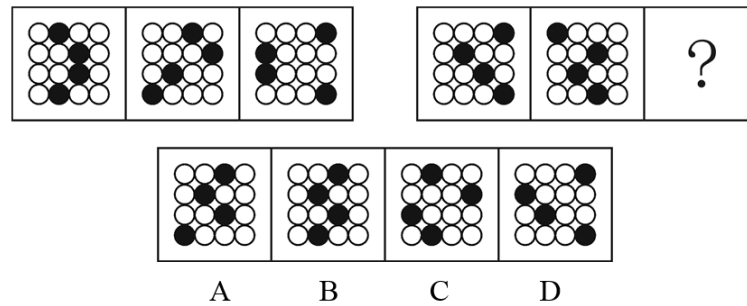
- A、小于 50 米 B、在 50~75 米 C、在 75~100 米 D、大于 100 米

第四部分 判断推理

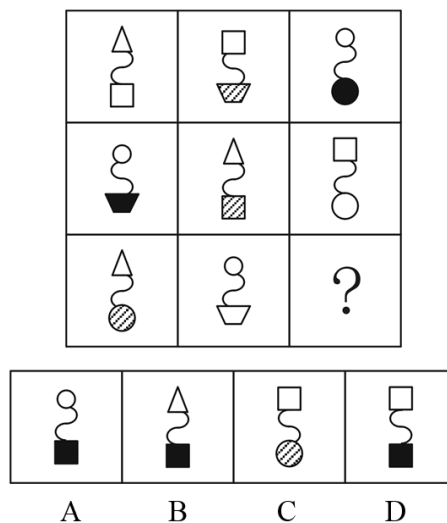
75、从所给的四个选项中，选择最合适的一个填入问号处，使之呈现一定的规律性：




76、从所给的四个选项中，选择最合适的一个填入问号处，使之呈现一定的规律性：



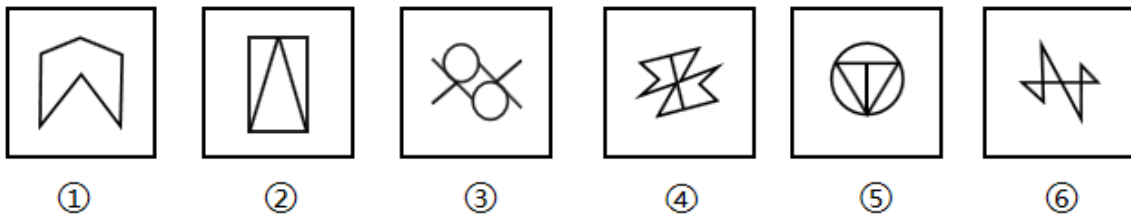
77、从所给的四个选项中，选择最合适的一个填入问号处，使之呈现一定的规律性：



78、从所给的四个选项中，选择最合适的一个填入问号处，使之呈现一定的规律性：



79、将以下图形序列中的哪两个调换位置之后，可以呈现出一定的规律性？



A、②和③ B、③和④ C、④和⑤ D、⑤和⑥

80、行政公产是指由行政主体（主要是指国家行政机关）为了提供公用而所有或管领的财产。这一概念主要包含了三层意思：第一，行政公产必须供公共之目的；第二，行政公产必须由行政主体所有或者管理；第三，行政公产是一种财产。

根据上述定义，下列不属于行政公产的是：

A、国有土地收益 B、京沪高速公路 C、省图书馆 D、村办企业

81、再社会化指的是正常的社会化中断或失败后重新开始的社会化过程。特点是全面、迅速地改变原有的思想、价值体系和生活方式，接受新的社会化内容。

根据上述定义，以下哪项涉及再社会化？

- A、退休后的老王报名进了老年大学，开始系统学习书法
- B、移居中国的史密斯夫妇随着时间的推移，越来越喜欢中国文化了
- C、工作多年的王某考上了研究生，重新走进校园，他有种重回故里的感觉
- D、小刘因盗窃财物被送进了少管所，出来后他改过自新，自食其力

82、文字作品是指用文字或等同于文字的各种符号（包括数字符号）来表达思想或情感的形式，包括小说、诗歌、散文、论文、剧本、乐谱、文书、日记、科学专著和计算机软件等作品。

根据上述定义，下列不属于文字作品的是：

- A、词曲作家赵某为一部电影创作的主题歌
- B、编剧李某根据某部著名小说改编的剧本
- C、《格萨尔王》是蒙古族人民口口相传流传下来，并被蒙古族游吟诗人广泛传唱的一部作品
- D、作家小艾以某位历史人物的生平为素材，历时四年完成了一部传记体小说《落霞》

83、媒介依存症是现代人一种社会病理现象，其特点是：过度沉迷于媒介接触而不能自拔；价值和行为选择都从媒介中寻找依据；满足于与媒介中的虚拟社会互动而回避现实的人际交往。

根据上述定义，下列属于媒介依存症的是：

- A、某知名香水在情人节重磅推出的甜蜜系列经媒体广泛宣传后，销量大增
- B、大学生们借助网络聊天工具实现语音、视频聊天，减少了面对面的交流
- C、尽管专家一再解释转基因食品的安全原理，各种传闻和报道仍让人们心存疑虑
- D、小雅对韩剧很痴迷，从言行穿着到选择男友和工作，都像极了剧中女主角

84、知识获得有两种途径，自下而上是指个体在日常生活和交往中形成一些具体生动的经验，渐渐进行概括，形成概念；自上而下是指个体先接触到抽象概念，然后在生活中积累感性经验，使概念更生动更真切。

根据上述定义，下列哪项属于自上而下的知识获得？

- A、在上幼儿园后，三岁的小明听老师说楼下那些全身毛茸茸、会汪汪叫的是狗
- B、物理课上讲解钻木取火的基本原理后，几个同学课后在山上收集材料并做了尝试
- C、小学三年级的课本上用图片和连环画的形式生动展示了遇到火灾应该如何应对
- D、王教授发明的电子护眼灯经过检验和使用，确实能起到保护儿童视力的作用

85、社会控制是指运用社会力量使人们遵从社会规范，维持社会秩序的过程。既指整个社会或社会中的群体、组织对其成员行为的指导、约束和裁判，也指社会成员间的相互影响、相互监督、相互批评。社会控制可分为内在控制和外在控制。内在控制是人们学习一定社会群体的行为规则的过程。外在控制则是通过外部压力使人们遵守一定社会规范的过程。

根据上述定义，下列属于内在控制的是：

- A、社会舆论的监督也是实现领导干部廉洁自律的途径之一
- B、三岁的小芳在父母的教育下知道了过马路要走斑马线
- C、某地在警方新一轮的整肃之下，社会秩序明显好转
- D、改革开放以来，国家高度重视并奖励科研，高水平成果层出不穷

86、依据公众与组织有无归属关系，可以把公众分为内部公众和外部公众。内部公众是指与社会组织有着直接的归属关系，与社会组织关系最为密切的一类公众；外部公众是指除内部公众外的与社会组织的生存发展有着利益关系的全部公众。

对于某飞机制造企业，下列哪项属于外部公众？

- A、该飞机制造企业的股东
- B、该企业职工主要生活社区的面粉店职工
- C、该飞机制造企业的零部件供货商
- D、该企业所在地的工商管理部門的工作人员

87、核心家庭是指两代人组成的家庭，核心家庭的成员是夫妻两人及其未婚子女。扩大家庭是由有共同血缘关系的父母和已婚子女的多个核心家庭组成的家庭模式。联合家庭是指有血缘关系的两个或多个性别相同的人及其配偶和子女所组成的家庭，或者两个以上同辈兄弟姐妹结婚后所组成的家庭。

根据上述定义，下列说法正确的是：

- A、老赵夫妇与两个儿子、儿媳和孙子、孙女生活在一起，他们组成的既不是核心家庭，也不是扩大家庭和联合家庭
- B、刘先生夫妇在一次车祸中丧生，他们年幼的儿子从此后与爷爷奶奶生活在一起，他们组成的不是核心家庭
- C、小王离婚后与父母生活在一起，他们组成的是核心家庭
- D、小李父母双亡，结婚前一直和哥哥、嫂子生活在一起，他们组成的是联合家庭

88、绿色消费是从满足生态需要以“绿色、自然、和谐、健康”为宗旨的、有益于人类健康和环境发展的一种消费方式。使用以下六大类商品的则被视为非绿色消费：（1）危害消费者和他人健康的商品；（2）在生产、使用和丢弃时造成大量资源消耗的商品；（3）因过度包装，超过商品本身价值或过短的生命期而造成不必要消费的商品；（4）使用出自稀有动物或自然资源的商品；（5）含有对动物残酷或不必要的剥夺而生产的商品；（6）对其他发展中国家有不利影响的商品。

根据上述定义，下列属于绿色消费的是：

- A、老李在装修新居时不惜花费巨资购买环保材料，朋友们都说他把家里装修得富丽堂皇
- B、冬季时，北方的超市里会供应从南方运来的新鲜的有机水果和蔬菜供人们消费
- C、小王花费大量时间在自家的菜园里耕种，并只吃自家菜园生长的蔬菜
- D、张女士为孩子购买了一种用天然木材制成的木马，避免化学合成材料影响孩子健康

89、奢侈吸收指的是作物吸收的养分超过其正常需要量的现象。奢侈吸收不仅浪费肥料，还可能导致减产。

根据上述定义，以下哪项涉及奢侈吸收？

- A、小庄养的花因浇水过多被淹死了
- B、小麦氮肥施用量过大导致倒伏
- C、同样的土质，但是塑料大棚中的作物明显长得更高
- D、即使在西瓜地中大量使用磷肥，西瓜也不会增产多少

90、标题：正文

A、注释：引文 B、窗框：玻璃 C、结构：内容 D、领队：队员

91、奖学金：成绩

A、贷款：利息 B、补助：工作 C、遗产：死亡 D、低保：收入

92、货币：价值

A、文字：语言 B、心脏：生命 C、情感：玫瑰 D、笑脸：幸福

93、镰刀：收割机

A、轮船：飞机 B、算盘：计算器 C、山泉：矿泉 D、勤劳：安逸

94、太阳能：热水器

A、高铁：列车 B、风力：风车 C、汽油：汽车 D、核能：核电站

95、物体：振动：声波

A、土地：耕种：丰收 B、飞机：延误：滞留 C、岩石：风化：沙粒 D、导线：通电：磁场

96、金文：青铜器：书体

A、年轮：树木：标志 B、水墨画：宣纸：国画 C、沙漏：玻璃：容器 D、唐三彩：陶器：色彩

97、衣服：染料：植物

A、电缆：轮胎：橡胶 B、早餐：豆浆：黄豆 C、软件：博客：网络 D、道路：沥青：石油

98、（ ） 对于 网球 相当于 咖啡 对于 （ ）

A、高尔夫；饮料 B、羽毛球；奶茶 C、网球馆；餐厅 D、健康；精力

99、（ ） 对于 辟邪 相当于 晨钟 对于 （ ）

A、钟馗；古迹 B、除夕；沙漏 C、桃木；报时 D、吉祥；暮鼓

100、一位心理学家通过研究认为，许多人在捡到钱包时不由自主地会看看钱包里面装些什么，这就说明，这些人的潜意识里有占有欲，假如对拾金不昧者用适当方式给予奖励，让拾金不昧者不仅获得了精神的愉悦，同时也得到一定的物质补偿，就会鼓励更多的人从善。

以下哪项如果为真，最能支持上述研究者的观点？

A、某城市奖励拾金不昧者，结果拾金不昧者越来越少

B、某城市没有奖励拾金不昧者，结果拾金不昧者越来越多

C、某城市奖励拾金不昧者，结果拾金不昧者越来越多

D、某城市没有奖励拾金不昧者，结果拾金不昧者越来越少

101、英国科学家提出测试可再生能源效率的简单方法，来展示 1 公顷能源作物制成的燃料可以让汽车行驶多远，生物柴油在测试中表现最差，仅能使车辆行驶 2 万公里，生物乙醇使车辆行驶 3 万公里，由厌氧发酵的农

作物等产生的生物沼气可使车辆行驶将近 9.7 万公里。因此，科学家认为生物沼气将是未来最有发展前途的生物燃料。

以下哪项如果为真，不能质疑以上结论？

- A、生物沼气的生产成本远高于生物柴油和生物乙醇
- B、乙醇燃料的生产要耗费大量的水资源，不利于环保
- C、以粮食为原料生产生物燃料将会导致全球粮食危机
- D、生物沼气的生产、运输过程费水、费电、费能源

102、研究表明，口腔中存在一种格式链球菌，容易在牙齿表面形成斑块，并且会从牙龈的出血，伤口进入血管，格式链球菌的外表有一种分子结构，与一种具有凝血作用的蛋白质相似，会导致血小板凝聚成团，逐渐引发血栓和心内膜炎等。因此，注意口腔卫生，可以预防心血管疾病。

以下各项如果为真，最能支持上述结论？

- A、格式链球菌进入血液后，会躲在血小板凝聚的团块里，不易被免疫细胞杀死
- B、掌握格式链球菌引起血小板凝聚的原理后，可研发药物阻止这一过程
- C、通过刷牙等方式保持口腔清洁，可以减少格式链球菌在牙齿上聚集和滋长
- D、如果格式链球菌在血液中长期存在，就会引发病变，如血管栓塞等

103、随着女性教育水平和工作薪酬的不断提高，“家庭煮夫”的数量正与日俱增，有学者据此推测，未来将会有更多的聪明女性“下嫁”给条件不如自己的普通男性，而这一趋势很有可能会逐渐扭转传统的“夫唱妇随式”家庭模式。

以下哪项如果为真，最能支持上述学者的推测？

- A、教育水平不是决定家庭模式的唯一因素
- B、聪明女性未必能够获得很高的工作薪金
- C、传统的家庭模式已经不能适应现代社会的发展
- D、家庭模式不是由男女双方的教育水平和经济条件决定的

104、占星术是根据天象来预卜人间事物的一种方术。占星术在世界各地很流行，即使是在科学昌明的 21 世纪。有人认为：有些占星术的预测是正确的，否则不会有上百万人的相信。

以下哪项如果为真，最能反驳上述有关人士的观点？

- A、流行的未必都是正确的
- B、占星术大部分的预测是模糊的
- C、会有上百万的人相信非常荒唐的事情
- D、世界上有上千万甚至数亿的人不相信占星术

105、科学家刚刚发现了据称是到目前为止最接近地球环境的行星。这颗名为“Gliese581 g”的行星以近圆轨道绕红矮星“Gliese581”做公转运动。据称，“Gliese581 g”的行星与地球环境的相似度达到 89%，因此它超过木卫六和火星，成为迄今为止发现的最像地球的星球，数据显示，“Gliese581 g”的质量为地球的 3 到 4

倍，科学家据此推测，这颗行星是由岩石构成，而且自身引力足以支持表面大气层的形成。

以下哪项如果为真，最能质疑科学家的推测？

- A、有些非固态的行星，其质量也是地球的 3 到 4 倍
- B、木卫六和火星的质量与地球相似，并且均有大气层
- C、将来可能发现与地球环境相似度更高的非固态行星
- D、是否有大气层只是判断与地球环境相似度的一个指标

106、四户人家排成一行，已知 a 家在 b 家的隔壁，a 家与 d 家不相邻。

如果 d 家与 c 家也不相邻，那么 c 家的隔壁应是：

- A、a 家 B、b 家 C、d 家 D、无法判断

107、学校开设体育课的主要目的是使学生的身体变得健康。体育课应该集中于增氧锻炼，增氧锻炼比集体运动更能促进参与者的健康，并且实际上只有一小部分学生参加集体运动。

以上观点如果正确，作者将最有效地反对下面哪一项？

- A、学校里使用身体训练计划来鼓励学生养成终身锻炼的健康习惯
- B、年轻的学生应该参加社区运动队
- C、学校过分依赖于增氧练习计划来帮助所有的孩子变得身体健康
- D、学校大部分体育课用来进行集体运动

108、在过去的 3 年中，发生了 6 架 W66 客机坠毁事件。面对一幕幕惨剧，人们不由得怀疑 W66 客机的设计有问题。而制造商反驳说，每次事故调查都说明，事故责任是驾驶员操作失误。

上述制造商的话基于以下哪个前提？

- A、W66 的设计不是造成驾驶员犯错，从而导致飞机失事的原因
- B、由于设计错误引起的飞机失事，与由于制造方面的缺陷导致的飞机失事是可以区别开来的
- C、怀疑 W66 设计有问题的人并没有查出任何设计问题
- D、对于 W66 这种类型的飞机，每 3 年发生 6 起坠毁事件的事事故发生率并不算高

109、某公司领导根据员工小张、小李和小王的工作业绩，提出选派他们出国培训的两个相容的选择方案：
(1) 小张和小李都不派出；(2) 派出小王。

综合考虑这两个方案，其意思可以表达为：

- A、如果小王被派出，则小张和小李都要派出
- B、如果小张和小李都没有被派出，则要派出小王
- C、只要小张和小李有一人派出，就要派出小王

D、如果小王没有被派出，则小张和小李都要派出

第五部分 资料分析

(材料)

表 1 2010 年分区域的城镇私营单位就业人员年平均工资 (单位: 元)

	2009 年	2010 年	增长率 (%)
全国	18199	20759	14.1
东部地区	19840	22708	14.5
中部地区	15402	17252	12.0
西部地区	16234	18640	14.8
东北地区	16414	18532	12.9

表 2 2010 年部分行业的城镇私营单位就业人员年平均工资 (单位: 元)

	2009 年	2010 年	增长率 (%)
采矿业	18553	20981	13.1
制造业	17260	20090	16.4
电力、燃气及水的生产和供应业	17795	18834	5.8
信息传输、计算机服务和软件业	28166	31226	10.9
金融业	30452	30513	0.2
水利、环境和公共设施管理业	17170	19607	14.2
居民服务和其他服务业	15688	18350	17.0
教育	21066	21862	3.8
公共管理和社会组织	8191	8900	8.7

110、将 2010 年城镇私营单位平均工资的同比增速从高到低排列，以下正确的是：

- A、东部、西部、东北、中部 B、东部、东北、西部、中部
C、西部、中部、东部、东北 D、西部、东部、东北、中部

111、2010 年工资增长率与全国平均水平最接近的行业，其平均工资比全国工资水平：

- A、低 1029 元 B、低 1152 元 C、高 1029 元 D、高 1152 元

112、2010 年平均工资最高的行业其平均工资水平是全国平均水平的多少倍？

- A、1.2 B、1.5 C、1.8 D、2.1

113、与 2009 年相比，表中 2010 年平均工资增长在 1000 元以下的行业有几个？

- A、1 B、2 C、3 D、4

114、根据材料，以下说法正确的是：

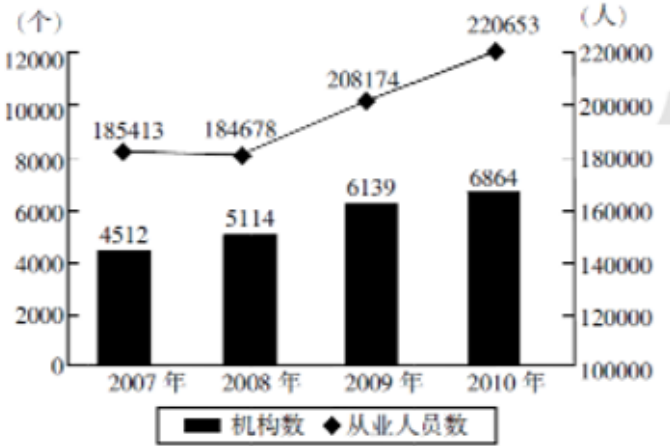
- A、2010 年工资增长率最高的行业，其平均工资高于 2 万元
B、2010 年工资增长率最低的行业在 2009 年平均工资最高
C、2010 年平均工资与全国平均水平最接近的行业是制造业

D、2010 年工资增长率最低和平均工资最低的地区不是同一个

(材料) (此图不够清晰，多方查找，均未找到清晰图片，请理解)

2010 年全国艺术表演团体分地区情况

地区	机构数量 (个)	演出场次 (万场次)	观众人数 (万人次)	演出收入 (万元)
全国	6864	137.2	88456	342696
中央	16	0.4	677	27388
东部	2226	41.2	29357	187593
中部	2980	71.8	39933	78890
西部	1642	23.8	18489	48825



2007—2010 年全国艺术表演团体机构与从业人员情况

115、2008 年我国平均每个艺术表演团体机构约有从业人员多少名？

- A、36 B、39 C、42 D、45

116、2010 年艺术表演团体机构从业人员人均能创造多少万元的演出收入？

- A、1.25 B、1.55 C、1.85 D、2.15

117、2010 年，平均每个中央艺术表演团的全年演出场次是西部地区艺术表演团的：

- A、0.3 倍 B、0.6 倍 C、1.7 倍 D、3 倍

118、2007—2010 年，全国艺术团体机构数平均每年增加多少个？

- A、588 B、626 C、692 D、784

119、以下说法与材料相符的是：

- A、2010 年，中部地区艺术表演团体的演出占当年全国演出总场次的近一半
- B、2007—2010 年，平均每个艺术表演团体机构的从业人员数不断上升
- C、2010 年，西部地区艺术表演团体演出平均每名观众带来的演出收入低于中部地区
- D、2010 年，中央艺术表演团体演出平均每名观众带来的演出收入约是全国平均水平的 10 倍

(材料)

2011 年 1—5 月，国有企业累计实现营业总收入 141450.7 亿元，同比增长 24.3%。中央企业（包括中央管理企业和部门所属企业，下同）累计实现营业总收入 90572.8 亿元，同比增长 24%。其中，中央管理企业累计实现营业总收入 77770.5 亿元，同比增长 24.7%。地方国有企业累计实现营业总收入 50877.9 亿元，同比增长 25%。

1—5 月，国有企业累计实现利润总额 9088.7 亿元，同比增长 21.9%。国有企业累计实现净利润 6849.7 亿元。中央企业累计实现利润总额 6286.6 亿元，同比增长 19.1%。其中，中央管理企业累计实现利润总额 4992.1 亿元，同比增长 17.4%。地方国有企业累计实现利润总额 2802.1 亿元，同比增长 28.9%。

1—5 月，国有企业已交税费 13058.4 亿元，同比增长 29.4%。中央企业累计已交税费 9999.9 亿元，同比增长 30%。其中，中央管理企业累计已交税费 7142.5 亿元，同比增长 31.5%。地方国有企业累计已交税费 3058.5 亿元，同比增长 27.7%。

1—5 月，国有企业销售净利率为 4.8%，比去年同期下降 0.2 个百分点；净资产收益率为 3.2%，比去年同期上升 0.1 个百分点；成本费用利润率为 6.8%，比去年同期下降 0.2 个百分点。中央企业销售净利率、净资产收益率和成本费用利润率分别为 5.2%、3.6% 和 7.4%，地方国有企业分别为 4.3%、2.5% 和 5.8%。

120、2011 年 1—5 月，中央管理企业累计实现营业总收入占国有企业累计实现营业总收入的比重约为多少？

A、55% B、64% C、75% D、86%

121、按照 2011 年 1—5 月累计实现利润总额从高到低按序正确的是：

A、中央管理企业—部门所属企业—地方所属企业 B、中央管理企业—地方所属企业—部门所属企业
C、地方所属企业—中央管理企业—部门所属企业 D、部门所属企业—中央管理企业—地方所属企业

122、与上年同期相比，2011 年 1—5 月中央企业中部门所属企业累计已交税费约增长了多少？

A、32.6% B、30.1% C、28.6% D、26.4%

123、2010 年 1—5 月，国有企业净资产收益率约为多少？

A、7.0% B、4.6% C、3.1% D、0.1%

124、关于 2011 年 1—5 月国有企业状况的说法正确的是：

A、国有企业累计实现净利润突破了 9000 亿元
B、地方国有企业已交税费约占同期地方国有企业营业总收入的 10%
C、地方国有企业累计实现营业总收入比上年同期增长了 1.5 万亿元
D、中央企业销售净利润、净资产收益率和成本费用利润率均高于地方国有企业

(材料) (此图不够清晰，多方查找，均未找到清晰图片，请理解)

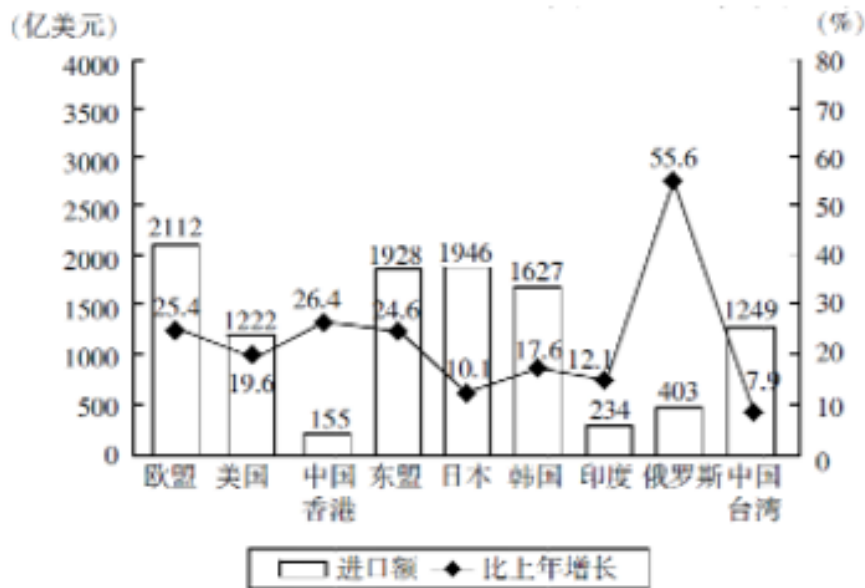
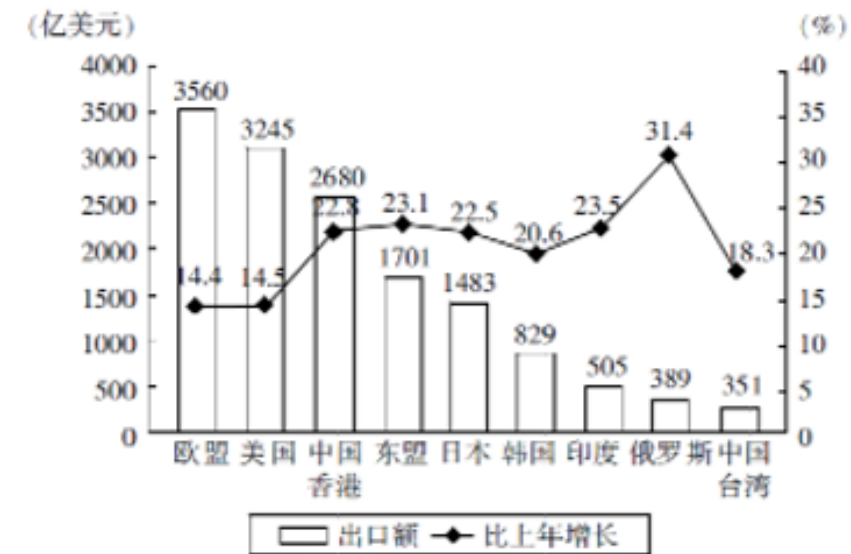


图 2 2011 年中国对部分国家和地区货物进出口额及其增长率

125、2011 年中国对图中几个国家（地区）实现贸易顺差？

- A、3 B、4 C、5 D、6

126、如只统计图中国家（地区），2011 年中国的第四大贸易伙伴（按贸易总额排序）是：

- A、中国香港 B、东盟 C、日本 D、韩国

127、图中 2011 年对中国贸易顺差最大的国家（地区），2010 年中国对其货物出口额约是多少亿美元？

- A、300 B、400 C、700 D、2000

128、图中 2011 年对中国进口和出口贸易同比增长均超过 20%的所有国家（地区），当年中国对其货物进口额的总和为多少亿美元？

- A、2486 B、4113 C、4770 D、5599

129、以下关于 2011 年图中国家（地区）对中国货物进出口贸易的说法正确的是：

- A、印度对中国货物出口额超过进口额的一半
- B、东盟对中国货物出口额同比增量高于其他国家（地区）
- C、对中国货物进口和出口额同比增长率最低的国家（地区）是同一个
- D、对中国货物进口和出口额同比增长率最高的国家（地区）是同一个