

# 2008 年 0309 江苏公务员考试《行测》真题（C 卷）

## 第一部分 言语理解与表达

1、19 世纪的一项重大发明导致制蜡业产生了革命性的变化，也使得照明成为了普通老百姓的现实。在 19 世纪的早期和中期，人类发现了利用碱和硫酸提炼动物脂的工艺，其产品硬脂比没有提炼的动物硬脂更加坚硬，燃烧时间也更长。这一发明创造意味着人类可以生产出点燃时无太多烟尘和太臭气体的脂蜡。

下列关于 19 世纪人类发明了硬脂产品以后的各项说法中正确的一项是：

A、蜡燃烧时没有太多烟尘      B、蜡燃烧时散发出香味      C、蜡没有达到普通使用      D、蜡燃烧时间不长

2、中国的工业革命开始得相对较晚，其大部分效果在过去四十年中才显现出来。它对中国人与自然环境关系的影响，发生得肯定比其他任何地方都要快，而且可能比其他任何地方都要强大。随着政治越来越稳定，大规模的发展、生产、消费、运输和废物处理已经改变了中国。

上述文字透露出来的潜在的信息是：

A、中国工业改革的效果在较长时间内才能显现出来      B、中国工业改革对中国的影响比其他任何地方都快  
C、中国工业革命后政治越来越稳定      D、中国自然环境的发展前景和威胁

3、定律具有普适性，不受文化、宗教、地域等因素的限制。壶如果没有底或者开口比其它部位开敞，我们就不认为这是传统意义上的壶。物理学定律决定了实用型工艺品的一般形式，“它们”具有一些基本的样式，其功能也只能在一定限度内有所变化。

这里的“它们”是指：

A、实用型工艺品      B、物理学定律      C、壶      D、壶的底与开口

4、解放初期，有一次毛泽东和周谷城谈话。毛泽东说：“失败是成功之母。”周谷城回答说：“成功也是失败之母。”毛泽东思索了一下说：“你讲得好。”

上述文字所要强调的内容是：

A、戒骄戒躁      B、毫不气馁      C、忍辱负重      D、持之以恒

5、新时期以来，我国经济从一度濒于崩溃的边缘发展到总量跃至世界第四、进出口总额位居世界第三，人民生活从温饱不足发展到总体小康，农村贫困人口从两亿五千多万减少到两千多万。

本段的主旨可概括为：

A、我国取得了举世瞩目的成就      B、我国的国际地位显著提升  
C、新时期我国经济工作的快速发展      D、人民生活水平迅速提高

6、要加大技术研发的投入，通过深化国有企业改革，形成企业自主创新的机制，同时通过落实国家关于鼓励自主创新的各项政策措施，引导企业增加技术开发的投入。只有形成一批具有自主知识产权的核心技术，才能立于不败之地。

上述文字阐述的主旨是：

A、提高自主创新能力      B、加大技术研发的投入  
C、落实鼓励自主创新的各项政策      D、形成具有自主知识产权的核心技术

7、一件可能使人感到吃惊的事实是，目前不但世界粮食产量的增长速度超过了人口的增长速度，而且同世界上人均收入的增长速度相比，粮食增长速度也是较快的，甚至其他商品价格的增长速度也比不上粮食的增长速度。尽管如此，今天在全世界仍有很多人人口得不到充足的粮食。据估计，由于缺粮而面临饥饿的人口有 3.4 到 7.3 亿之多，他们尤其集中在南亚和非洲撒哈拉以南的地区。

这段文字想要说明的问题是：

A、世界粮食产量的增长速度超过了人口的增长速度  
B、尽管世界粮食生产充足，但仍有很多人人口得不到充足的粮食  
C、其他产品价格的增长速度比不上粮食的增长速度  
D、因缺粮而面临饥饿的人口有 3.4 到 7.3 亿之多

8、“亚健康”一词是从国外传过来的，“亚健康”在全世界发生率很高，它是由于心理社会环境的压力而造成人体的一种不适状态。近年来，“亚健康”在国内外的发生率逐渐增高，因此展开“亚健康”的研讨是有意义的。从字面来说，亚，就是次于。“亚健康”就是介于健康与疾病之间的状态。

与这段文字意思不符合的一项是：

- A、“亚健康”在全世界发病率很高
- B、“亚健康”一词是从国外传过来的
- C、“亚健康”是由于心理社会环境的压力而造成人体的一种不适状态
- D、“亚健康”就是介于健康与疾病之间的状态

9、按照近代政治学理论观点，共和含义比较广泛，涵盖着民主概念。具体来说，共和国相对于君主国而言，凡是非君主制国家便是共和国，共和国在历史上分成贵族共和国和民主共和国。应当说，这种政治理论观点可能适用于近代国家情况，但不合乎古代政治观念。共和国概念源于古罗马，在西塞罗的著作中共和国基本上相同于城市国家，用来表示一种国家形态。

对这段文字主体的概括正确的一项是：

- A、共和含义比较广泛，涵盖着民主概念
- B、共和国的概念在古今有所不同
- C、凡是非君主制国家便是共和国
- D、共和国在历史上分成贵族共和国和民主共和国

10、游泳是人体处于一个完全陌生的环境下进行的一项运动。人在陆地上的日常生活中所形成的走、跑、跳、投等习惯性的运动技能，由于活动环节、姿势、呼吸、动力等因素的改变，都不能在水中直接运用。因此，凡是初学游泳的人，不是先学某一个动作，而是先从熟悉水性这个环节开始，亲临水中了解水的浮力、压力、阻力，体验水中运动技能形成的感觉。消除怕水的恐惧心理，是学习游泳的入门关键。

下列选项不符合文意的一项是：

- A、游泳是人体处于一个完全陌生的环境下进行的一项运动
- B、人在陆地上的运动技能可以直接在水中运用
- C、初学游泳的人先从熟悉水性开始
- D、消除怕水的恐惧心理，是学习游泳的入门关键

11、虽然帧扩展技能可以增加千兆位以太网的地理跨距，但是当大量传输短帧时会造成系统带宽浪费严重，大大降低了半双工模式下的传输性能，千兆位以太网采用帧突发技术解决了大量短帧传输所收起的传输性能下降的问题。帧突发技术可以使一个站点一次能连续发送多个帧，是千兆位以太网的一个可选功能。

解决了千兆位以太网传输性能下降问题的一项是：

- A、帧扩展技术
- B、半双工模式
- C、帧突发技术
- D、千兆位以太网的一个可选功能

12、中国对待西方文化的态度具有某种程度的暧昧性和矛盾性，对物质文化和科技文化一般比较乐于接受，而一旦涉及到精神文化层面时则常常比较踌躇，甚至是内在抵制。这构成中西文化互动的复杂性。物质文化和科技文化具有直接改善和提高人们生活水平的功能，同时和增强国力密不可分，而且科技文化又是一种带有普遍意义的文化，与人文文化的民族性和特殊性有极大不同。

下列选项符合文意的一项是：

- A、中国对西方文化在精神层面较易接受
- B、中国对西方文化的物质层面常常比较踌躇，甚至是内在抑制
- C、中国对待西方文化的态度具有某种程度的暧昧性和矛盾性
- D、中西文化有很大差异，水火不容

13、要买铁炒锅，不要买不锈钢炒锅，因为不锈钢炒锅易糊锅，又不好清洗，而且化学结构复杂。大家知道，用不锈钢杯子泡的茶水就不好喝。据《食品与健康》杂志介绍，不要用不锈钢锅长期烹饪食物，也不要使用不锈钢锅长期盛放油、酱、醋等食品，因为使用不当会释放对身体有害的物质，这些物质能与含有碱性的茶生成有毒、有害的氧化物。

下列说法符合文意的一项是：

- A、不锈钢炒锅比铁锅好
- B、不锈钢炒锅可以长期盛放油、酱、醋等食品
- C、不锈钢炒锅可能会释放对人体有害的物质
- D、铁锅化学结构复杂，会释放对身体有害的物质

14、孔子是中国伟大的哲学家，对人的本性有着透彻的分析，对中国的历史发展产生过巨大的影响。孔子学说从汉代以来成为中国文化的主要支柱，统治着广大学者以至普通人民的思想。孔子学说中最重要的信条是，每个人必须知道他或她在社会等级制度中所处的地位，必须固守而不能逾越。这就大大妨碍了人们的好奇心和创造力，也就限制了人对自己周围事物的自由探讨。

这段文字所要表达的中心思想是：

- A、孔子是中国伟大的哲学家

- B、孔子对人的本性等有着透彻的分析  
C、孔子让每个人必须知道他或她在社会等级制度中所处的地位  
D、孔子学说对后世影响巨大，同时也限制了人们的思想自由

15、中华人民共和国建立以后，国家没有设置独立审计机构，以会计检查取代了审计，一方面赋予会计人员以监督财政、财务收支的职权；另一方面实行由主管部门对所属单位进行不定期的会计检查，由财政、税务、银行等部门进行业务监督。但这些检查监督，既不能自行监督，也不能互相监督，更不能适应经济发展的需要。

下列选项最接近上文叙述内容的一项是：

- A、没有审计机构就不能有效进行监督  
B、会计检查制度可以适应经济发展的需要  
C、中华人民共和国建立以后，国家就设置了独立的审计机构  
D、以会计检查取代审计可以实现自行监督

## 第二部分 数量关系

16、11, 14, 19, 26, 35, ( )

- A、39 B、41 C、45 D、46

17、3, 3, 6, 18, 72, ( )

- A、90 B、360 C、180 D、630

18、1, 3, 3, 9, 27, ( )

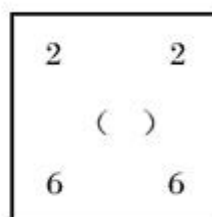
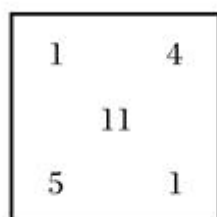
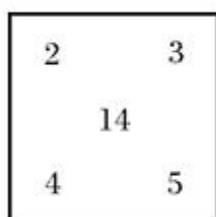
- A、251 B、243 C、223 D、143

19、22, 24, 39, 28, ( ), 16

- A、14 B、11 C、30 D、15

20、176, 187, 198, 253, ( )

- A、360 B、361 C、362 D、363



21、

- A、13 B、15 C、16 D、18

22、1, 9, 7, 27, 13, ( ), 19, 63

- A、25 B、33 C、45 D、54

23、0, 8, 24, 48, 80, ( )

- A、120 B、116 C、108 D、100

24、1, 3, 13, 15, 27, 29, 35, ( )

- A、36 B、37 C、380 D、39

25、2, 6, 15, 28, ( ), 78

- A、45 B、48 C、55 D、56

26、 $2008 + 2007 - 2006 - 2005 + 2004 + 2003 - 2002 - 2001 + \dots + 4 + 3 - 2 - 1 = ( )$

- A、0 B、1 C、2007 D、2008

27、 $191919 \div 373737 \times 185 = ( )$

- A、95 B、123 C、135 D、151

28、已知正整数数列  $\{a_n\}$  满足  $a_{n+2} = a_{n+1} + a_n$ ，且第七项等于 18，则该数列的第 10 项为：

- A、47 B、72 C、76 D、123

29、一个面积为  $2\pi$  的圆内接长方形的最大面积为：

- A、 $\pi$  B、3 C、2 D、4

30、两棵柳树相隔 165 米，中间原本没有任何树，现在这两棵树中间等距种植 32 棵桃树，第 1 棵桃树到第 20 棵

桃树间的距离是：

A、90 B、95 C、100 D、前面答案都不对

31、如果股票 P 和 Q 每股均分别上涨 6% 和 5%，则 P 股涨了 0.36 元，Q 股涨了 1.05 元，那么两种股票在涨价前的差价是多少元？

A、21 B、19 C、17 D、15

32、两列对开的列车相遇，第一列车的车速为 12 米/秒，第二列车的车速为 14 米/秒，第二列车上的旅客发现第一列车在旁边开过时共用了 5 秒，则第一列车的长度为多少米？

A、6 B、75 C、80 D、130

33、A、B 两位同学参加同一次竞赛考试，如果 A 答对的题目占题目总数的  $\frac{3}{4}$ ，B 答对了 25 道题，他们两人都答对的题目占题目总数的  $\frac{2}{3}$ ，那么两人都没有答对的题目共有：

A、5 道 B、6 道 C、7 道 D、8 道

34、在春运高峰时，某客运中心售票大厅站满等待买票的旅客，为保证售票大厅的旅客安全，大厅入口处旅客排队以等速度进入大厅按次序等待买票，买好票的旅客及时离开大厅。按照这种安排，如果开 10 个售票窗口，5 小时可使大厅内所有旅客买到票；如果开 12 个售票窗口，3 小时可使大厅内所有旅客买到票，假设每个窗口售票速度相同。由于售票大厅入口处旅客速度增加到原速度的 1.5 倍，为了在 2 小时内使大厅中所有旅客买到票，按这样的安排至少应开售票窗口数为（ ）个。

A、15 B、16 C、18 D、19

35、从某车站以加速度为  $\frac{1}{18} \text{ m/s}^2$  始发的甲列车出发后 9 分钟，恰好有一列与甲列车同方向，并以 50 米/秒作匀速运行的乙车通过该车站，则乙车运行多少分钟与甲车距离为最近？

A、9 B、3 C、5 D、6

### 第三部分 判断推理

36、床铺：客房

A、机票：机场 B、聪明：智商 C、课桌：教室 D、汽车：驾驶员

37、轿车：汽车

A、植物：水果 B、民法：法律 C、医院：护士 D、行政法：环境法

38、愉快：快活

A、信任：信息 B、严肃：严谨 C、真诚：诚实 D、闲聊：休闲

39、鲁迅：《祝福》

A、吴承恩：《西游记》 B、宋江：《水浒》 C、喜儿：《白毛女》 D、茅盾：《骆驼祥子》

40、肥沃：土地

A、保持：清醒 B、办事：谨慎 C、开朗：心情 D、天气：晴朗

41、红灯 对于 停止 相当于 （ ） 对于 （ ）

A、伤心；哭泣 B、歌唱；愉悦 C、绿灯；能行 D、微笑；友好

42、（ ） 对于 信箱 相当于 电脑 对于 （ ）

A、邮件；激光 B、邮局；硬盘 C、邮递员；程序员 D、光缆；光驱

43、慷慨 对于 大方 相当于 （ ） 对于 （ ）

A、休闲；谈天 B、抖动；颤栗 C、神气；豪气 D、拷贝；复制

44、（ ） 对于 过失 相当于 谦虚 对于 （ ）

A、功劳；傲慢 B、错误；内向 C、失败；愧疚 D、成就；虚心

45、（ ） 对于 手机 相当于 程序 对于 （ ）

A、通信；言论 B、短信；文学 C、信号；电脑 D、电脑；文化

46、气候：变暖：气温

A、生存：发展：持续    B、极冰：融化：水位    C、保护：环境：生态    D、温室：气体：臭氧

47、长城：中国：古迹

A、开发商：银行：金融    B、教室：学生：专家    C、茶杯：茶壶：茶叶    D、大脑：人体：器官

48、高尚：卑鄙：德行

A、谦虚：骄傲：品质    B、伟大：自豪：美德    C、平凡：平庸：才华    D、有才：有德：人才

49、李白：床前明月光：思念

A、王之涣：白日依山尽：境界

B、杜甫：青春作伴好还乡：激情

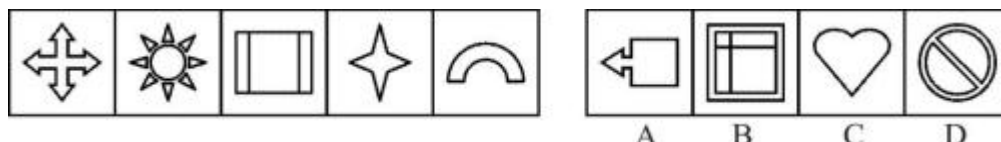
C、苏东坡：卷起千堆雪：壮观

D、毛泽东：高峡出平湖：气概

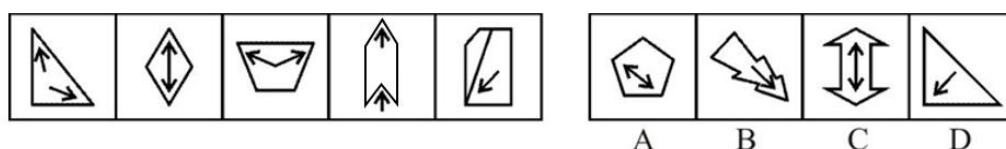
50、红色：蓝色：花朵

A、和平：战争：革命    B、及格：合格：成就    C、土地：阳光：原野    D、物理学：化学：知识

51、从所给四个选项中，选择最合适的一个，使之呈现一定规律性：



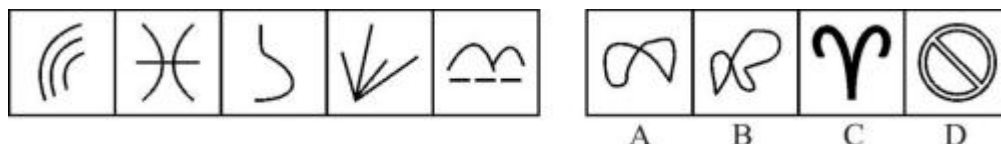
52、从所给四个选项中，选择最合适的一个，使之呈现一定规律性：



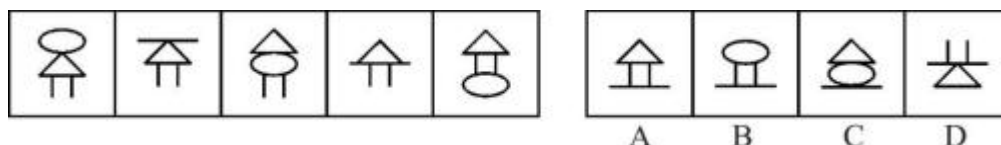
53、从所给四个选项中，选择最合适的一个，使之呈现一定规律性：




54、从所给四个选项中，选择最合适的一个，使之呈现一定规律性：



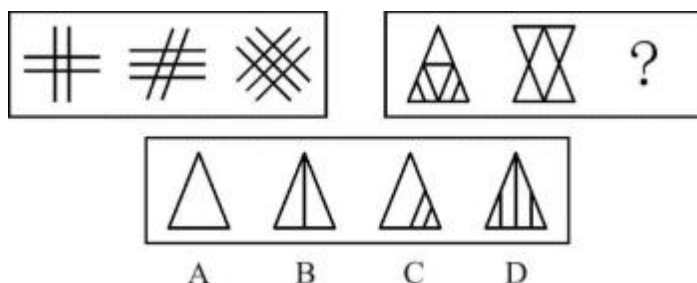
55、从所给四个选项中，选择最合适的一个，使之呈现一定规律性：



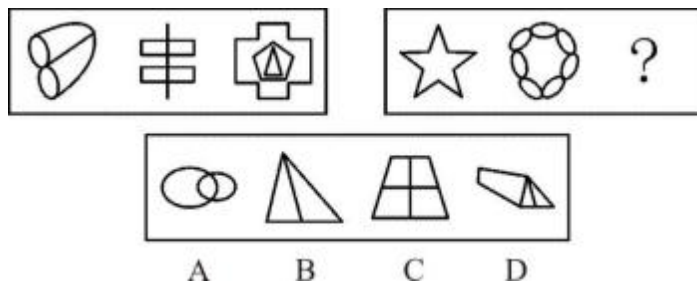
56、从所给四个选项中，选择最合适的一个填入问号处，使之呈现一定规律性：



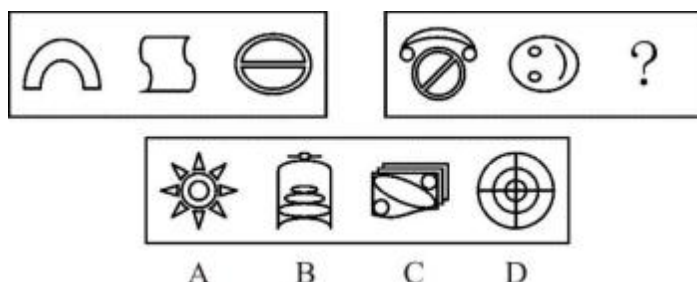
57、从所给四个选项中，选择最合适的一个填入问号处，使之呈现一定规律性：



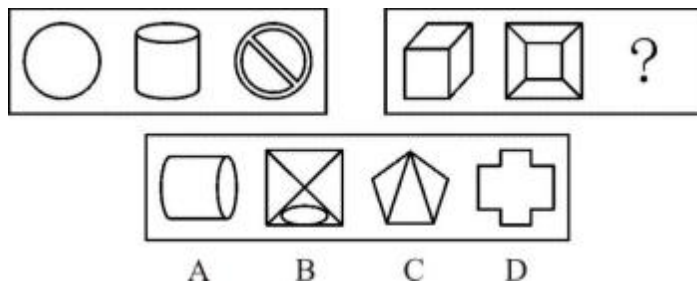
58、从所给四个选项中，选择最合适的一个填入问号处，使之呈现一定规律性：



59、从所给四个选项中，选择最合适的一个填入问号处，使之呈现一定规律性：



60、从所给四个选项中，选择最合适的一个填入问号处，使之呈现一定规律性：



61、所有电力公司职工都参加了抗雪救灾工作，某部武警官兵也参加了抗雪救灾工作。该部武警官兵强化了冬季军事训练。铁路部门的工作人员大多没有参加冬季军事训练，但都参加了抗雪救灾工作。

据此，下列各项判断除了哪项其余必然为真？

- A、有的参加了抗雪救灾工作的人员是电力公司职工    B、某部武警官兵既参加抗雪救灾工作又强化冬季军事训练  
C、有的铁路部门的工作人员参加了冬季军事训练    D、有的铁路部门的工作人员参加了抗雪救灾工作

62、有人断言：“近日股市可能会上涨。”

下列哪项判断的意思和该人判断最为相近？

- A、近日股市必然上涨    B、近日股市必然不上涨    C、近日股市必然下跌    D、近日股市不必然不上涨

63、小李对小夏说：“你只有既加强锻炼又多吃保健产品，才能保持身体健康。”小夏说：“你这个观点我不同意。”

下列哪项判断是小夏所同意的观点？

- A、能保持身体健康；但如果加强锻炼，就不多吃保健产品  
B、能保持身体健康；但如果不多吃保健产品，就加强锻炼  
C、能保持身体健康：但既不加强锻炼，又不多吃保健产品  
D、能保持身体健康；但既加强锻炼，又多吃保健产品

64、所有甲村村民都参加了希望镇镇人大代表选举，有的乙村村民没有参加希望镇镇人大代表选举。

据此，下列哪项判断必然为真？

- A、有的乙村村民不是甲村村民  
B、有的乙村村民不是希望镇的选民  
C、有的乙村村民是希望镇的选民  
D、有的乙村村民是甲村村民

65、赵、钱、孙三人对甲、乙、丙、丁四人的比赛名次进行推测：

赵：“如果乙是第二名，则甲是第一名。”

钱：“如果丙是第三名，则甲是第一名。”

孙：“甲不是第一名。”

比赛结果表明，三人推测中一真两假。

据此，下列哪项判断不可能为真？

- A、甲是第一名 B、乙是第二名 C、丙是第三名 D、丁是第一名

66、有人说：“这段材料是真的，因为它来自公开出版物。”

假定下列各项判断为真，则下列哪项判断是对该人观点最有力的反驳？

- A、公开出版物上的材料都是真的  
B、有的公开出版物上的材料是真的  
C、有的公开出版物上的材料不是真的  
D、有的真材料并不来自公开出版物

67、某居民违章搭建，严重影响市容。执法人员对他说：“如果你不在规定期限内自行拆除，那么我们将依法强拆。”该居民回答：“我坚决不同意。”

按照居民的说法，下列哪项判断是他同意的？

- A、在规定期限内自行拆除，不需要执法人员依法强拆  
B、在规定期限内自己坚决不拆，执法人员也不要依法强拆  
C、在规定期限内不自行拆除，等着执法人员依法强拆  
D、违章搭建严重影响市容，不如一拆了之

68、近几年，我国大陆房地产业迅速升温，很多人节衣缩食只为购买一套住房；但也有的人不愿意将大半生的积蓄耗在房子上，声称人不能为一套房子而活着。

下列哪项判断为最不可能推出的结论？

- A、近几年我国大陆的商品房价格偏高  
B、在房价偏高的情况下，买房人可能会成为房奴  
C、人应该为两套或两套以上的房子而活着  
D、有的中国人感到生活中有意义的内容很多，住房只是其中的一个方面

69、某校准备选四个班级给予表彰，并给予一定奖励。从学习来看，A、B两个班级比C、D两个班级好。

据此，再加上下列哪项判断可能推出“E班比D班学习好”的结论？

- A、E班的学习比C班好  
B、E班的学习比A班好  
C、E班的学习比B班差  
D、B班的学习比A班好

70、某大学积极引导大学生开展暑期社会实践活动，取得显著成效。学校和某乡镇联合选拔两位品学兼优的学生到该乡镇担任村官，多方考核之后，甲、乙、丙、丁四人在一起讨论人选的可能性：

甲说：“我不会入选。”

乙说：“如果我入选，则丙会入选。”

丙说：“如果乙入选，则丁会入选。”

丁说：“乙会入选但丙不会入选。”

如果四人中只有一人猜对，则下列哪项判断必然为真？

- A、甲、乙会入选 B、甲、丁会入选 C、乙、丙会入选 D、乙、丁会入选

71、纳米：一种几何尺寸的度量单位。1纳米为百万分之一的毫米，即1毫微米，也就是十亿分之一米。纳米结构通常是指尺寸在100纳米以下的微观结构。

下列关于纳米正确表述的一项是：

- A、纳米是一种长度单位  
B、十万纳米等于1分米

C、纳米是一种非常先进的技术，现已被广泛应用于生产生活的许多领域

D、纳米通常是指尺寸非常微小的结构

**72、首因效应：**在记忆或社会知觉中，最先出现的信息往往记得牢固和准确或给个体留下的印象最鲜明深刻。

下列属于首因效应的一项是：

A、戴立对班主任记忆最深的就是初次见面时他的微笑，尽管以后班主任也经常面带微笑，但总不及初次见面时那么迷人

B、周平发现人力资源部王经理待人特别热情和真诚，回家后他就不停地向家人说王经理如何好

C、两位小学同学分别三十年后偶然相遇，不约而同都说到了小学毕业典礼上的相互叙别的情形

D、老李最近常常只记得手头的事而记不起过去发生的事

**73、社会政策：**以公正为理念依据，以解决社会问题、保证社会成员的基本权利、改善社会环境、增进社会的整体福利为主要目的，以国家的立法和行政干预为主要途径而制定和实施的一系列行为准则、法令和条例的总称。

下列不符合社会政策定义的一项是：

A、社会政策制定的主体是以国家机构和政府为主的一些公共机构

B、社会政策的价值取向主要是效率而非公平正义

C、教育、公共医疗卫生和社会保障等方面的政策都属于社会政策

D、社会政策可以有多种表现形式

**74、运营活动：**投入一定的资源，经过一系列多种形式的变换，使其价值增值，最后以某种形式的产出提供给社会的过程。

下列不属于运营活动的一项是：

A、银行提供金融服务      B、家庭主妇打扫家庭卫生      C、咨询公司提供设计方案      D、鞋厂生产鞋子

**75、商品差价：**同一商品由于流通环节、购销地区、购销季节以及质量不同而形成的价格差额。

下列不属于商品差价的一项是：

A、同一本书，刚出版时与两年后的价格不同

B、早市萝卜一块一斤，下午则五角一斤

C、富康轿车与大众轿车价格不同

D、甲地的盐比乙地的盐便宜，因为甲地产盐

**76、演绎推理：**从一般性前提推出个别性或特殊性结论的推理。

下列属于演绎推理的一项是：

A、南京的乌鸦是黑的，北京的乌鸦是黑的，东京的乌鸦是黑的，所以天下乌鸦一般黑

B、所有的花都是美丽的，玫瑰花是花，所以玫瑰花是美丽的

C、大学生小陈是位女孩子，来自东北，学习成绩很好，所以东北来的女大学生学习成绩都很好

D、老王既不抽烟，也不喝酒，对卡拉 OK 更是不感兴趣，所以，烟酒不沾的老李也不会对卡拉 OK 感兴趣

**77、文物：**历史遗留下来的在文化发展史上有价值的东西。

下列属于文物的一项是：

A、秦兵马俑

B、年近七十岁的王老一直保存着童年时画的有纪念意义的图画

C、黄果树瀑布

D、陈老板用了近十年的宝马汽车

**78、融资租赁合同：**出租人根据承租人对出卖人、租赁物的选择，向出卖人购买租赁物，提供给承租人使用，承租人支付租金的合同。

下列属于融资租赁合同的一项是：

A、甲听取了乙的建议，从丙处购买了一台印刷机

B、甲按照乙的要求，购买了某厂的 E 型机器设备提供给乙使用，乙每月支付出给甲一千元的使用费，使用期满后乙将该机器买下

C、村民甲是个很有经济头脑的人，他见村里没有播种机，便向姐姐借钱，买回一台播种机，在农忙时出租给本村村民使用

D、甲将自己的房子出租给乙，乙又将房子转租给丁

**79、台风：**发生在北半球西太平洋地区的、发展到一定强度（近中心最大风力不小于 12 级）时的热带气旋。



下列属于台风的一项是：

- A、近中心最大风力达 11 级的热带气旋在福建登陆
- B、近中心最大风力达 12 级的热带气旋在菲律宾附近洋面生成
- C、近中心最大风力达 14 级的热带气旋袭击美国佛罗里达州
- D、在澳大利亚大陆西侧海洋上有一个近中心最大风力达 15 级的热带气旋

**80、内部言语：**一种对自己发出的言语，是自己思考问题时所伴随的一种不出声的言语。

下列属于内部言语的一项是：

- A、培训班学员小声议论这位教师的教学方法
- B、望着窗外的那一片林子，老张陷入了沉思
- C、小李站起来，胆怯地望着老师，用很小的声音说：“我不知道”
- D、老李与老赵对于是否要打一仗，大声地争执起来

#### 第四部分 资料分析

阅读下列材料，回答下面的题目。

2006 年是“十一五”的开局之年。江苏省各级卫生部门在省委、省政府的领导下，紧紧围绕富民强省、“两个率先”目标，全面落实科学发展观，重点加强基层、基础工作，大力发展农村卫生、公共卫生、社区卫生。全面推进中医药、卫生监督、科技人才建设和卫生行风建设，各项工作都取得稳步发展。现将 2006 年江苏省卫生机构、床位、人员、医院工作、居民病伤死亡原因等基本情况简报如下：

卫生机构总数继续增加。2006 年末，江苏省卫生机构总数 17143 个（含诊所、医务室、卫生所、社区卫生服务站），比上年增加 1819 个，增长 11.87%。卫生机构总数增加较快的原因主要是各地加强了城市和农村社区卫生服务机构建设，今年新增社区卫生服务站 1418 个，较上年增长 56.61%，新增社区卫生服务中心 80 个，增长 74.07%，（相应的减少了卫生院 65 个，减少 4.42%）。另外今年新增诊所 229 所，较上年增长 11.19%。

2006 年江苏省医疗机构 16614 个，其中：非营利性医疗机构 11442 个，较上年增长 17.21%，占医疗机构总数 68.87%；营利性医疗机构 5073 个，较上年增长 2.65%，占医疗机构总数的 30.53%。医疗机构按经济类型分，国有 3736 个，占全省医疗机构的 22.48%；集体 5871 个，占 35.34%；联营 73 个，占 0.44%；私营医疗机构 5275 个，占 31.75%。与上年比国有医疗机构增加 193 个，增长 5.45%；集体医疗机构增加 1215 个，增长 26.04%；私营医疗机构增长了 5.97%。医疗机构中，医院 1061 个，比上年增加 47 个；卫生院 1407 个，比上年减少 65 个（减少的卫生院大多被改建成社区卫生服务中心）；门诊部 395 个，比上年增加 23 个；专科疾病防治院（所、站）48 个，比上年减少了 1 个；妇幼保健院（所、站）107 个，与上年相同；社区卫生服务中心 188 个，比上年增加 80 个；另外，诊所、医务室、卫生所、社区服务站 13361 个，较上年增加 1732 个。

**81、2006 年度，江苏省医疗结构中，非营利性医疗机构比营利性医疗机构多：**

- A、5871 个      B、1418 个      C、6369 个      D、5275 个

**82、与上年相比，2006 年度江苏省社区卫生服务中心的增长率比社区卫生服务站的增长率：**

- A、多 17.46 个百分点      B、少 17.46 个百分点      C、多 26.04 个百分点      D、少 26.04 个百分点

**83、由上文可以看出，以下四种医疗机构中，2006 年度增加最多最快的是：**

- A、国有医疗机构      B、集体医疗机构      C、私营医疗机构      D、合资医疗机构

**84、2006 年度，江苏省卫生院的数目比医院的数目：**

- A、多 34.6%      B、少 34.60%      C、多 346 个      D、少 346 个

**85、2006 年度，江苏省社区卫生服务站的数目是：**

- A、2505 个      B、1418 个      C、13361 个      D、3923 个

阅读下列材料，回答下面的题目。

#### 医疗机构诊疗和入院情况统计表

年份	诊疗人次(亿次)			入院人数(万人)		
	合计	医院	卫生院	合计	医院	卫生院
1985	24.11	13.11	11.00	4331	2560	1771
1990	25.59	14.94	10.65	5140	3182	1958
1991	26.14	15.32	10.82	5292	3276	2016
1992	25.69	15.35	10.34	5222	3262	1960
1993	22.05	13.07	8.98	4921	3066	1855
1994	22.42	12.69	9.73	4992	3079	1913
1995	21.90	12.52	9.38	5033	3073	1960
1996	22.39	12.81	9.58	5023	3100	1923
1997	21.57	12.27	9.30	5044	3121	1923
1998	21.25	12_39	8.86	4995	3238	1759
1999	20.82	12.31	8.51	5073	3379	1694
2000	21.23	12.86	8.37	5297	3584	1713
2001	20.87	12.50	8.37	5464	3759	1705
2002	21.45	12.43	7.30	5991	3997	1654
2003	20.96	12.13	7.10	6092	4159	1626
2004	22.03	13.05	7.03	6676	4673	1621
2005	23.05	13.87	6.99	7184	5108	1641

86、从上表可以看出，下列年份中，医院诊疗人次最多是：

A、2001 年    B、1992 年    C、1996 年    D、1991 年

87、上表中 2001 年的医院入院人数比 1995 年增长了：

A、25.6%    B、20.1%    C、22.3%    D、24.5%

88、表中所列年份中卫生院接受诊疗人次最大值与最小值的差额是：

A、3.54 亿次    B、4.01 亿次    C、2.09 亿次    D、2.08 亿次

89、卫生院接受诊疗人次在当年总诊疗人次中比率最高的年份是：

A、1998 年    B、2000 年    C、2004 年    D、2005 年

90、据上表，下列说法可能正确的是：

A、1985 年到 2005 年，卫生院接受诊疗的人次是逐年递减的

B、国家持续大量加强卫生院建设

C、卫生院在我国的医疗卫生体系中承担了重要的作用

D、入院病人中有一部分人得不到有效治疗

阅读下列材料，回答下面的题目。

1996 年～2000 年中国旅游产业概况表

年份	入境旅游人数(单位：万人次)			国际旅游(外汇)收入	
	总计	外国人	港澳台同胞	旅游（外汇）收入(亿美元)	旅游（外汇）收入世界排名
1996	5112.75	674.43	4438.32	102	9
1997	5758.79	742.8	?	120.74	8
1998	6347.84	710.77	5637.07	126.02	7
1999	7279.56	843.23	6436.33	140.99	7
2000	8344.39	1016.04	7326.80	162.24	7

91、1996 年至 2000 年中国国际旅游（外汇）收入年平均多少亿美元？

A、126.02    B、133.98    C、130.398    D、108.665

92、上表中的？应填入下列哪一个数字？

A、501599    B、50159900    C、5015.99    D、5016

93、下列判断哪一个最准确？

- A、1996 年至 2000 年间中国国际旅游（外汇）收入逐年增加
- B、1999 年港澳台同胞占入境旅游人数的 98.41%
- C、1997 年中国旅游（外汇）收入世界排名第七
- D、1996 年至 2000 年间到中国的外国人逐年增加

94、2000 年中国入境旅游人数比 1996 年增加百分之多少？

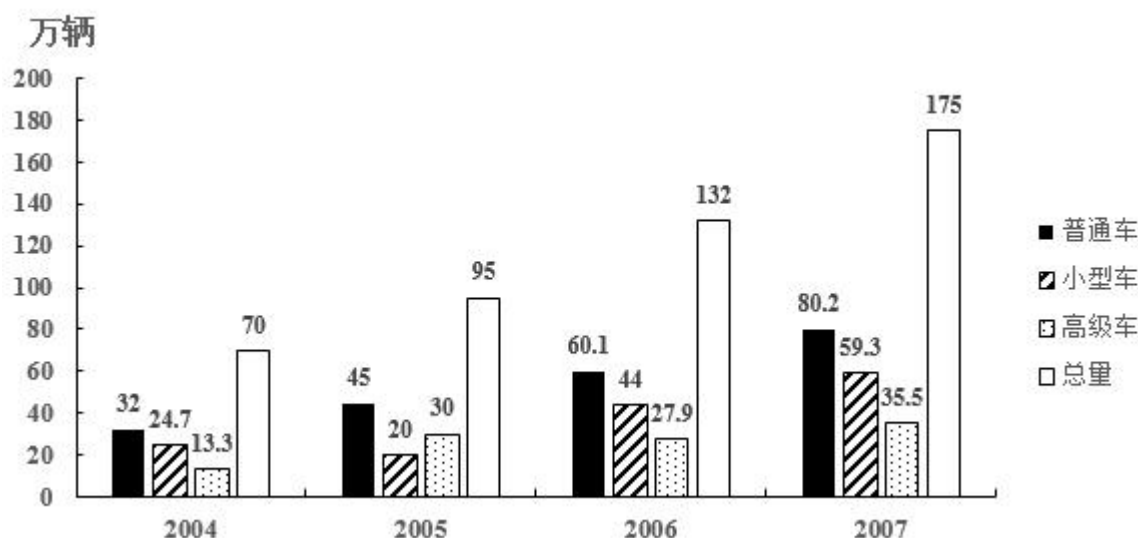
- A、163.2     B、63.2     C、162.9     D、62.9

95、1996 年至 2000 年到中国旅游的外国人人次数是：

- A、3988.38 万人次     B、3987.27 万人次     C、3997.37 万人次     D、3986.67 万人次

阅读下列材料，回答下面的题目。

某地 2004 年至 2007 年乘用车保有量结构变化图



96、该地 2007 年乘用车总保有量比 2006 年增长约：

- A、32.6%     B、24.5%     C、35.6%     D、25.2%

97、该地 2007 年小型车数量占该地乘用车总数的比率与 2005 年相比：

- A、增长了 10.8 个百分点     B、减少了 10.8 个百分点     C、增长了 12.8 个百分点     D、减少了 12.8 个百分点

98、与上一年相比，乘用车保有量增幅最大的是：

- A、2006 年小型车     B、2005 年小型车     C、2007 年普通车     D、2007 年高级车

99、相对于 2004 年，2005 年该地哪种车型增长数占该地乘用车总数的比率最大？

- A、普通车     B、高级车     C、小型车     D、以上答案都不对

100、从上图可以推断出：

- A、该地汽车发展迅速，各种车型均保持大幅增长     B、总体该地乘用车逐年增长
- C、高级车一直以较大幅度增长     D、小型车增长幅度稳定