

2014 年 0323 江苏公务员考试《行测》真题（B 卷）

第一部分 言语理解与表达

1、凡是符合立案条件并已办理立案手续的所有案件，除涉及国家机密或个人隐私等不宜公开的理由外，均应当在人民法院决定立案的 7 日内在网上公示，同时告知合议庭组成人员和案件审理期限，便于当事人和社会监督，防止拖延案件审理期限，提高司法效率。

这段文字主要说明的是：

- A、怎样提高司法工作效率
- B、加强立案公开制度的措施
- C、案件审理期限的告知方式
- D、司法工作怎样接受社会监督

2、目前，各种新的技术还在测试中，填埋也不是废物处理的唯一方式。垃圾的焚烧和循环利用也在许多国家的废物处理中占较大比例，而且这两种方式正在经历技术变革并日趋完善。传统意义上的循环利用，如金属、塑料及纸张的回收利用，仍然发挥较大作用。但是最快的废物循环方式往往是最简单的方法：垃圾堆肥。

从这段文字中不能得出的结论是：

- A、垃圾焚烧正在经历技术变革并日趋完善
- B、填埋、焚烧、循环利用是常用的废物处理方式
- C、传统的循环利用方式包括可再生物资的回收
- D、垃圾堆肥不久将取代其他废物循环利用方式

3、语言的国际影响力，首先表现在多边外交等国际交往中，其次是有多少外国人把它作为外语来学习。近年来，“汉语热”的话题常现报端，孔子学院在世界各地建立，汉语国际教育有了前所未有的发展。但是就实际统计数据来看，世界上将汉语作为第二语言学习的远赶不上以英语、德语、法语为第二语言学习的人数。

这段文字意在强调：

- A、倡导在国际交往中尽可能使用汉语
- B、优化汉语教学方法，做大做强孔子学院
- C、充分利用“汉语热”，推进汉语国际教育
- D、汉语的国际影响力尚有待进一步提升

4、中国的传统廉政文化源远流长，它对历代执政者的操守要求与为政规则不外乎五个方面。重民生而知根本，畏法度而能自律，明廉耻而守气节，崇节俭而重情操，知恩惠而思报国。

下列对传统廉政文化特点的概括与文意不符的一项是：

- A、执法如山 遵章守纪
- B、注重民生 情操高尚
- C、学识渊博 乐善好施
- D、生活简朴 严于律己

5、“以房养老”的前提是手里有房，一般来说，手头有两套以上房产的人可能更会考虑“以房养老”，而从观念上看，中青年更易接受，他们应该是未来“以房养老”的潜在群体。但近年来房价非理性上涨已经大大超出很多人的承受能力，有些甚至到 60 岁都还不完房贷。养房都成问题，更别说以房养老了。

这段文字意在强调：

- A、仅有一套房产的人不会考虑“以房养老”
- B、60 岁以下的人不会考虑“以房养老”
- C、“以房养老”在现阶段适用人群较少
- D、推迟退休年龄或可推动“以房养老”

6、汽车产业是一个长期性产业，作为产业革命带来的核心产品，它形成了相当长的产业链，不仅产业自身的发展会对经济增长具有一定的扩展或成倍的乘数效应，而且会带动金属、电器设备、橡胶等一系列相关产业的发展，极大地解决了就业问题，提升了社会福利，这反过来又会促进汽车工业的进一步发展。

这段文字主要说明的是：

- A、汽车产业与其他相关产业的关系
- B、汽车产业与社会就业问题的关系
- C、汽车产业与与产业革命进程的关系
- D、汽车产业与经济社会发展的关系

7、这是一种痛苦的状态，不能回到过去却又对过去恋恋不舍；这也正是法律人重构中国秩序方案的焦灼所在，西方法治文明与传统内发秩序之间，依然横亘着“一湾浅浅的海峡”。

“一湾浅浅的海峡”比喻的是西方法治文明与传统内发秩序之间：

- A、一条无法跨越的鸿沟
- B、一层不可穿越的隔膜
- C、一段不可逾越的距离
- D、一道无法破解的难题

8、许许多多的临床实验都表明抗氧化物质实际上并不能对我们的心血管系统起到改善作用。关于抗氧化物质与癌症关系的数据没那么多，但最近一次大规模的检验维生素 E 能否抑制癌症的实验中途就被停止了——因为维生素 E 不仅没有显示出益处，反倒略微增加了前列腺癌的发病率。

这段文字预设的信息是：

- A、心血管系统的改善与抗氧化物质无关
- B、人们认为抗氧化物质对身体健康有利的
- C、目前关于抗氧化物质的研究仍然不足
- D、可以通过维生素 E 抑制前列腺癌

9、过去一段时间，随着粮食价格的暴涨，某些国家的公司开始悄然在世界各地投资农场，收购农田。表面上，这些购买行为是为了土地，其深层目的是为了水。因为土地是与用水权联系在一起的。在大多数国家，水基本上是所属土地的一个“免费赠品”，但随着水资源的日益稀缺，水却越来越有可能成为土地交易中最有价值的一部分。

这段文字意在说明：

- A、水是所属土地的“免费赠品”
- B、抢购土地的实质是对水资源的争夺
- C、粮价暴涨引发土地产权的投资热
- D、用水权与土地权相分离成为趋势

10、高等教育进入大众化阶段之后，大学毕业生就业的一些规律逐渐显现出来，认识不到的话则会误导舆论和政策。劳动经济学研究表明，受教育程度越高，特别是接受过大学本科以上教育之后，求职者实现与劳动力市场的匹配所需要的时间就越长。因此，单纯的大学毕业几个月之后的就业率并不能完全说明问题。

这段文字意在说明：

- A、大学毕业生就业率的统计可靠性不高
- B、目前有关大学生就业难的舆论有待商榷
- C、大学毕业生找到合适工作需要一定时间
- D、求职时间长短与工作匹配程度成正比

(材料)

2013 年诺贝尔文学奖授予加拿大女作家爱丽丝·门罗。

爱丽丝·门罗出生于加拿大安大略省的温格姆镇。父亲酷爱写作，母亲身为教师。生活在这样的书香门第，少女时代的门罗就萌生了成为小说家的梦想。

19 岁那年，门罗还在安大略大学攻读新闻学学士学位时，这位天赋异禀的姑娘就发表了自己的第一篇短篇小说《影子的维度》，从此她的创作热情便一发不可收，直到婚后数年，门罗为人妻、为人母之后，仍时时沉浸于自己的文学世界之中。人们很难想象，一位少妇如何以柔弱的身躯，在小说、孩子、书店和琐碎的家务事之间繁忙的周旋。

每当门罗回忆起这段艰涩的时光，总忍不住叹息“真是绝望的赛跑”。万幸的是“良马终遇伯乐”，在加拿大广播公司文学节目制作人罗伯特·韦弗的推荐下，门罗的作品终于有机会被更多读者关注。而立之年，门罗的文学事业逐渐走向辉煌。1968 年，她的第一部短篇小说集《快乐影子舞》获得了加拿大文学界的最高荣誉——总督奖。评委会对她的评价是“每每读到爱丽丝·门罗的小说，便知生命中未曾想到之事”。为了完成这部集子，门罗用了整整 20 年。

门罗将目光流连于平凡人的生活，她笔下的人物性格如同大海一样——忧郁、冷漠、孤傲。无论是自叙还是他叙，叙述者总是形而上的、忧郁的，带着远离自己生活的讽刺态度，来描述人生的重大“坍塌时刻”。门罗擅长“打岔”，擅长用旁敲侧击的回旋笔法，为小说中的人物，也为读者留下思考的空隙。“有呼吸的空隙，这是门罗短篇小说里最优美的一手。”

这种“空隙”不是逃避，也不是故弄玄虚。只要读过门罗的人生经历，便会体会到空隙中流露的恻隐之情。在经历了少女、人妻、人母，走向老年的过程中，门罗已经纯熟于这种处变不惊的节奏，以贴近女性心理的笔触叙述生命的无常，以及由此而来的身心重负。

11、有关门罗第一篇短篇小说下列说法正确的是：

- A、由罗伯特·韦弗的介绍才得以公开出版
- B、为门罗赢得了加拿大文学界的最高荣誉
- C、是在自己家乡读大学本科时写作和发表的
- D、小说以预知生命中即将发生的事件而著称

12、文中“真是绝望的赛跑”是指：

- A、经历了少女、人妻、人母阶段的重重磨难
- B、20 年含辛茹苦不停歇写完《快乐影子舞》
- C、常常在生命无常的感觉中挣扎
- D、在小说写作和家庭主妇事务之间争分夺秒

13、从文中可以知道，爱丽丝·门罗出生于：

- A、20 世纪 30 年代
- B、20 世纪 40 年代
- C、20 世纪 50 年代
- D、20 世纪 60 年代

14、下列说法不符合文意的是：

- A、门罗的父亲酷爱写作，母亲从事教育工作
- B、“伯乐”的推荐为门罗带来加拿大最高文学奖
- C、门罗处变不惊的叙事节奏源于她的生活阅历
- D、门罗擅长以旁观者的视角表现人生的变故

15、根据文意，门罗小说中的“空隙”所流露的主要是：

- A、超越现实的梦想
- B、高深莫测的玄思
- C、悲天悯人的情怀
- D、虚怀若谷的胸襟

16、要因地制宜、_____，不搞“一刀切”，不追求一步到位，允许采取差异性、过渡性的制度和政策安排。填入划横线处最恰当的一项是

- A、量体裁衣
- B、因时制宜
- C、循序渐进
- D、对症下药

17、文字是人们现实生活的一部分，是人类思维方式、生活方式等最生动的_____。一种文字发明、演变过程越是漫长，它所反映的这些方面的内容就越深刻。

填入划线处最恰当的一项是：

- A、工具
- B、形式
- C、载体
- D、记录

18、从法官的精英化到法官的专业化，无不_____着人们对法官资格和法官职位的憧憬和理想，当前，应当建

立以职业品德、专业知识、实践经验三位一体的法官培养_____标准。

依次填入划横线处最恰当的一项是：

A、承载 遴选 B、寄托 挑选 C、肩负 选取 D、承担 入选

19、最大程度地_____网络谣言，一方面要依赖法治力量，另一方面也需要网民尤其是所谓“网络大V”_____高度理性和负责的精神。

依次填入划横线处最恰当的一项是：

A、消除 秉持 B、去除 把持 C、根除 维持 D、清除 操持

20、信息技术的发展及广泛应用是一个重大的系统工程，其日新月异的发展与_____的应用令人_____，或者有些始料未及。

依次填入划横线处最恰当的一项是：

A、五花八门 瞠目结舌 B、无孔不入 无法招架
C、无所不在 目不暇接 D、形形色色 猝不及防

21、人们享受着科学给生活带来新奇和益处的同时，也开始关注科学存在的风险及其对社会的影响，未来，投入市场的纳米技术创新将在清洁能源、纳米医学等有所建树，而这一全新领域的_____风险和二次影响也不可忽视，科学家们正在进行纳米技术前景分析并将设计更好的评估方法，以_____的态度展望未来。

依次填入划横线处最恰当的一项是：

A、潜在 审慎 B、潜藏 慎重 C、隐含 克制 D、既有 谨慎

22、那时在我们家里，主人和客人均彬彬有礼，但常因观点相异而激烈争论，_____，互不相让。不但洋溢着自由争论的热烈气氛，也体现出“_____”的传统精神。

依次填入划横线处最恰当的一项是：

A、各抒己见 君子而和而不同 B、各执一词 君子喻于义
C、各抒己见 君子成人之美 D、各抒己见 君子之交淡如水

23、真正的批评，总是建立在对等的基础之上的。只有修养与_____对等的人的批评，才值得_____和理会。至于无边无际的谩骂，除了_____之外，没有任何意义。

依次填入划横线处最恰当的一项是：

A、才华 关心 气急败坏 B、学识 关注 自我贬低
C、才情 注目 贻笑大方 D、知识 关注 自娱自乐

24、随着劳动年龄人口进入负增长，人口红利终究要消失，经济增长从过去的高速转为相对低速的常态也是不可避免的。生育政策的调整也不可能在短期内_____人口红利。不过，_____地调整生育政策，对于未来中国人口均衡发展_____长期潜在增长率，仍然可以产生积极的效果。

依次填入划横线处最恰当的一项是：

A、带来 高瞻远瞩 甚至 B、增加 恰如其分 以及
C、逆转 未雨绸缪 乃至 D、恢复 不失时机 抑或

25、当然，这并不是说政府必须_____，也不是所有社会责任都得_____。比如助弱扶贫，政府可以自己出手，也可以让企业相助、典型的例子就是养老，早年的养老院皆为政府投资，而今天私人投资的养老院则_____。

依次填入划横线处最恰当的一项是：

A、大包大揽 事必躬亲 比比皆是 B、一包到底 责无旁贷 遍地开花
C、恪尽职守 出手相助 随处可见 D、鼎力相助 亲力亲为 纷至沓来

第二部分 数量关系

26、2，17，29，38，44，（ ）

A、45 B、46 C、47 D、48

27、 $\frac{1}{2}$ ，1，3，15，120，（ ）

A、240 B、360 C、144 D、1440

28、1，121，441，961，1681，（ ）

A、2401 B、2601 C、3721 D、4961

29、3，19，43，79，133，（ ）

A、169 B、205 C、214 D、229

30、1，1， $\frac{8}{7}$ ， $\frac{16}{11}$ ，2，（ ）

- A、 $\frac{36}{23}$ B、 $\frac{9}{7}$ C、 $\frac{32}{11}$ D、 $\frac{35}{22}$

31、甲、乙两种商品，其成本价共 200 元。如甲、乙商品分别按 20% 和 30% 的利润定价，并按定价的 90% 出售，全部售出后利润为 27.7 元，则乙种商品的成本价是：

- A、120 元 B、125 元 C、130 元 D、150 元

32、在数列 a_n ($n=1, 2, \dots$) 中， $a_1 = 1959$ ， $a_2 = 1995$ ，且从第三项起，每项是它前二项平均的整数部分，则 $\lim_{n \rightarrow +\infty} a_n = (\quad)$

- A、1980 B、1981 C、1983 D、1982

33、如图、在长方形跑道上，甲乙两人分别从 A、C 处同时出发，按顺时针方向沿跑道匀速奔跑，已知甲乙两人的速度分别是 5 米/秒、4.5 米/秒。则当甲第一次追上乙时，甲沿长方形跑道跑过的圈数是：



- A、4 B、4.5 C、5 D、5.5

34、有甲、乙两瓶盐水，其浓度分别为 16% 和 25%；质量分别为 600 克和 240 克，若向这两瓶溶液中加入等量的水，使他们的浓度相同，则需要向这两瓶盐水中分别加入的水量为：

- A、320 克 B、360 克 C、370 克 D、377 克

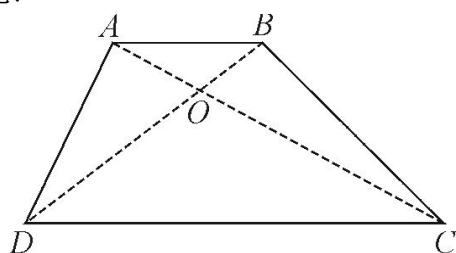
35、一次校友聚会共有 50 人参加，在参加聚会的同学中，每个男生认识的女生的人数各不相同，而且恰好构成一串连续的自然数，已知认识女生最少的一个男生认识 15 名女生，并有一名男生认识所有的女生，则参加这次聚会的男生一共有：

- A、16 名 B、17 名 C、18 名 D、19 名

36、恰有两位数字相同的三位数一共有：

- A、243 个 B、234 个 C、225 个 D、216 个

37、如果，在梯形 ABCD 中，AB 与 CD 平行，O 为 AC 与 BD 的交点， $CO=2AO$ ，则梯形 ABCD 与三角形 AOB 的面积之比：



- A、6 : 1 B、7 : 1 C、8 : 1 D、9 : 1

38、小张的手表每天快 30 分钟，小李的手表每天慢 20 分钟，某天中午 12 点两人同时把表调到标准时间，则两人的手表再次同时显示标准时间最少需要的天数为：

- A、24 B、36 C、72 D、114

39、 $76^{2013} + 25^{2014}$ 的最后两位数字是：

- A、01 B、91 C、21 D、51

40、有一项工程，甲，乙，丙分别用 10 天，15 天，12 天可独自完成。现三人合作，在工作过程中，乙休息了 5 天，丙休息了 2 天，甲一直坚持到工程结束，则最后完成的天数是：

- A、6 B、9 C、7 D、8

第三部分 判断推理

41、木雕：木材

- A、海藻：海水 B、果盘：水果 C、香椿：春天 D、米线：大米

42、湖水：荡漾

- A、春雨：连绵 B、水草：小溪 C、蝴蝶：花丛 D、闪耀：群星

43、种子：经得住埋没的考验

A、蔬菜：一种草本植物

B、萝卜：叶子羽状分裂

C、青苗：未来希望所在

D、木薯：可用来制作淀粉

44、() 之于 民生 相当于 惩治 之于 ()

A、民众；法律 B、诉求；治理 C、关注；腐败 D、提高；环境

45、自信 之于 () 相当于 谨慎 之于 ()

A、自我；小心 B、自卑；粗俗 C、信心；束缚 D、自大；怯懦

46、() 之于 收入 相当于 削减 之于 ()

A、劳动；节俭 B、丰厚；幅度 C、收获；截断 D、增加；开支

47、衣领 之于 () 相当于 车座 之于 ()

A、衣服；汽车 B、手工；驾驶 C、服装；座位 D、袖口；车辆

48、Q2Y3Q4R5Y6R

A、D5F6D7J8F9J B、L4A5A6M7L8M C、P3G1P4K5G6K D、U7M6U1N4M6N

49、KU1T66T1UK

A、LK9E33E9LK B、GD4B33B4DG C、FV5B85B8VF D、DG3B43D4BG

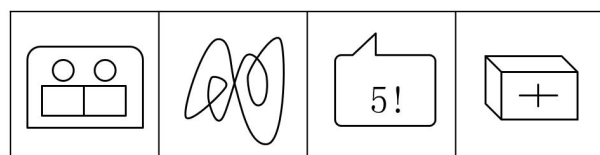

50、

A、

B、

C、

51、左边的题干中给出一套图形，其中有五个图，这五个图呈现一定的规律性。在右边给出一套图形，其中有四个图，从中选出唯一的一项作为保持上边五个图规律性的第六个图：



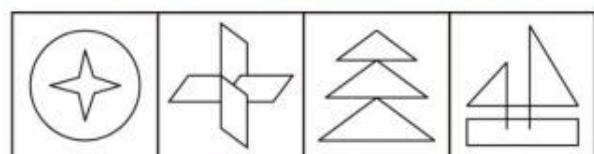

A B C D

52、左边的题干中给出一套图形，其中有五个图，这五个图呈现一定的规律性。在右边给出一套图形，其中有四个图，从中选出唯一的一项作为保持上边五个图规律性的第六个图：



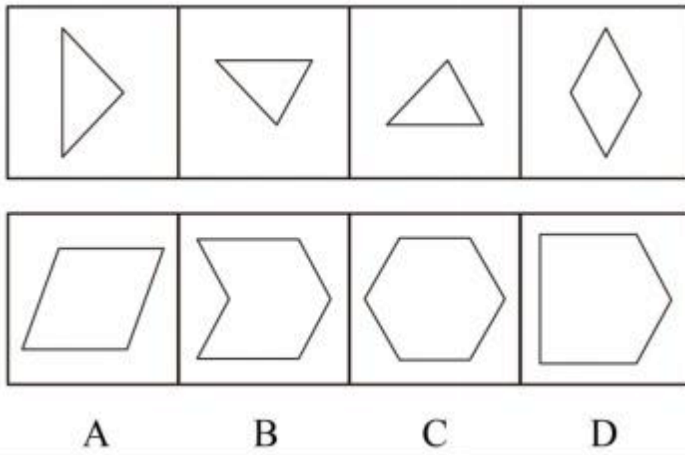
A B C D

53、上边的题干中给出一套图形，其中有五个图，这五个图呈现一定的规律性。在下边给出一套图形，其中有四个图，从中选出唯一的一项作为保持上边五个图规律性的第六个图：

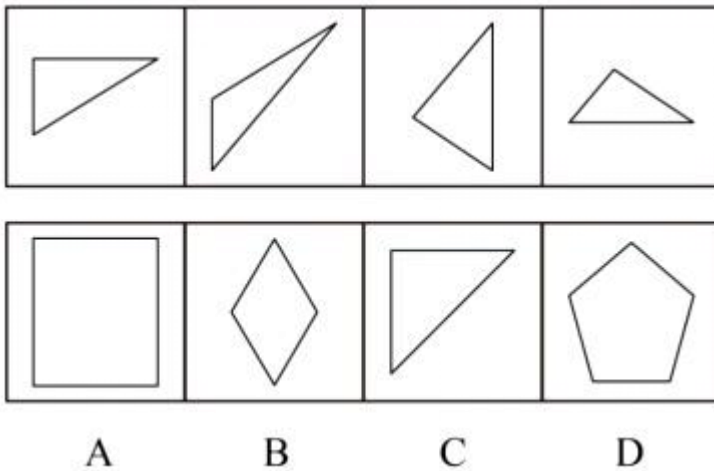


A B C D

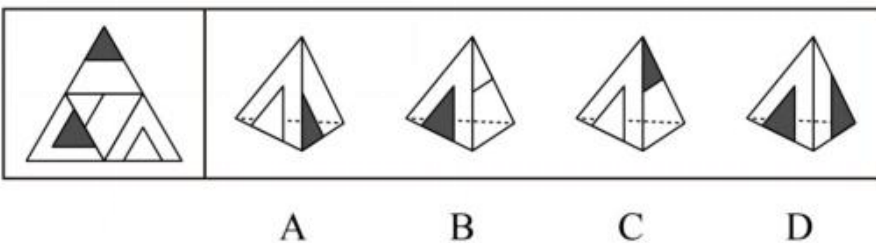
54、下边四个图形中，只有一个是上边的四个图形拼合（只能通过上、下、左、右平移）而成的，请把它找出来：



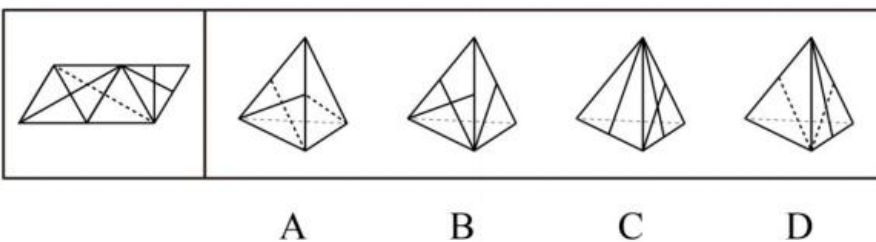
55、下边四个图形中，只有一个是上边的四个图形拼合（只能通过上、下、左、右平移）而成的，请把它找出来。



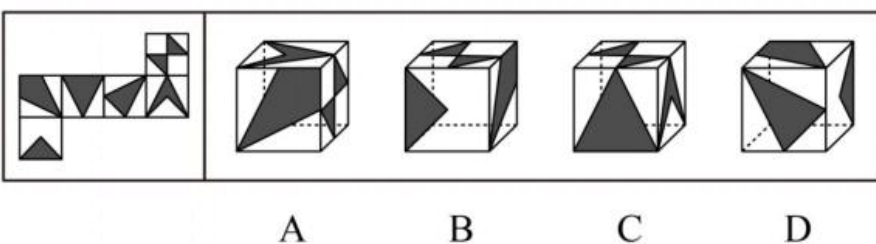
56、左边给定的是纸盒外表面的展开图，右边哪一项能由它折叠而成？请把它找出来：



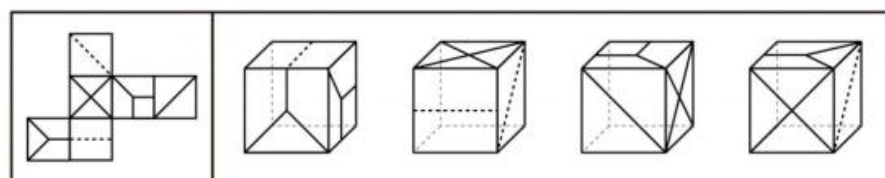
57、左边给定的是纸盒外表面的展开图，右边哪一项能由它折叠而成？请把它找出来：



58、左边给定的是纸盒外表面的展开图，右边哪一项能由它折叠而成？请把它找出来：

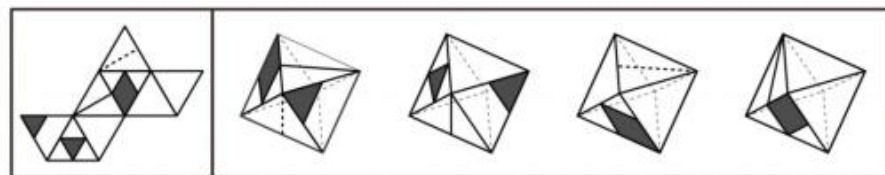


59、左边给定的是纸盒外表面的展开图，右边哪一项能由它折叠而成？请把它找出来：



A B C D

60、左边给定的是纸盒外表面的展开图，右边哪一项能由它折叠而成？请把它找出来：



A B C D

61、党要管党，首先是要管好干部；从严治党，关键是从严治吏。干部作风存在问题，就易成为腐败的温床，唯有紧抓干部的清廉从政，坚决扫除作风之弊，行为之垢，我们的党才能永葆纯洁，才能永葆与人民群众的血肉联系。

根据以上信息，可以得出以下哪项结论？

- A、如果从严治吏，就要从严治党
- B、如果干部作风没有问题，腐败就找不到滋生的温床
- C、如果不紧抓干部的清廉从政，我们的党就不能永葆与人民群众的血肉联系
- D、如果坚决扫除作风之弊、行为之垢，我们的党就能永葆纯洁

62、最有希望的成功者，并不是那些才干出众的人，而是那些善于抓住每一次机遇努力去开拓奋斗的人。

根据以上信息，得不出以下哪项？

- A、有的最有希望的成功者不是那些才干出众的人
- B、有的才干出众的人并不是最有希望的成功者
- C、有些才干出众的人是那些善于把握机遇的人
- D、有些善于把握机遇的人是最有希望的成功者

63、为什么地球、太阳等亿万个星球，亿万年来能在宇宙间相安无事地运行而不发生冲撞呢？为什么人与人之间，经常会发生磕磕碰碰的事呢？人文专家告诉我们，地球、太阳等亿万个星球都运行在自己的轨迹上，都走在自己的路上，而我们人类却非如此，有的人见别人的路好走，就想去走别人的路；见别人的路近，就要去抄别人的近路。放着自己的路不走而去挤别人的路，怎么会不发生磕碰和碰撞呢？

以下哪些如果为真，最能质疑上述人文专家的言论？

- A、每个人的路都应该是独特的，不应该交叉重叠
- B、每个人的路都是独特的，但总有交叉重叠的部分
- C、人生不如意事十之八九，磕碰和冲撞再平常不过
- D、人与星球并不相同，何况星球也有磕碰和冲撞的时候

64、目前，中国 10 个省区市设置了 25 个“弃婴安全岛”，广州市的“弃婴安全岛”在开放两周内就收到弃婴 51 名，南京市的“弃婴安全岛”一经启用 2 周内收到 26 名弃婴。统计数字显示，全国“弃婴安全岛”接收的婴儿基本男女各一半，但是几乎所有的弃婴都有残疾或重病。有专家就此批评指出，“弃婴安全岛”的设置助长了父母遗弃婴儿的行为。

以下哪项如果为真，最能质疑上述专家提出的批评？

- A、设置“弃婴安全岛”是对我国儿童医疗保障制度的一种有益补充
- B、患有残疾或重病的弃婴由于“弃婴安全岛”的设置而能得到社会及时救助
- C、弃婴对于家长来说实属无奈之举，忍痛遗弃孩子是希望他们得到更好救治
- D、“弃婴安全岛”刚刚设置不久，其对婴儿父母行为的影响还有待进一步观察

65、购买彩票时，很多人往往愿意自己选号，不愿交由电脑随机选号。因为他们相信，中奖号码从长远看是随机产生的，但在短期内却有规律，比如前面连续多期出现的数字，这期出现的可能性就要小一点；或者某些数字对于自己意味深长，或者干脆就是自己的幸运数字，选择它们应该更可能中奖。

以下哪项如果为真，最能质疑上述这些人的想法？

- A、很多人研究彩票的中奖规律，但他们的中奖率并没有因此而显著提高
- B、每一期中奖号码都是独立随机产生的，彼此间没有任何内在的关联
- C、对于中奖号码的产生究竟有无规律，更多人持“信则有，不信则无”的观念
- D、电脑选号是随机的，而自己选号有特定的意向，在这一点上人比电脑聪明

66、小芳与小莲是一对好朋友，大刚与大勇也是，但这四人彼此间却不太熟悉。在一次机关联谊会，小芳、小莲和大刚、大勇相遇，小芳能叫出大刚的名字，但大刚却叫不出小芳的名字。凡能叫出大刚名字的人都能叫出大刚

朋友的名字，凡叫不出小芳名字的人都叫不出小芳朋友的名字。

根据以上信息，可以得出以下哪项？

- A、小莲能叫出大刚的名字
B、大刚能叫出小莲的名字
C、小芳能叫出大勇的名字
D、大勇能叫出小芳的名字

67、某企业董事会有甲、乙、丙、丁、戊、己、庚等 7 位董事，他们执行集体决策制度。制度规定，如果赞成票数达与会人数的一半以上，一项决策就能通过，否则不能通过；每位董事必须对所有决策提案行使表决权，要么赞成，要么反对，不得弃权。在一次决策会议上，董事悉数到齐，需要对 1 号、2 号、3 号等 3 项提案进行决策表决，已知：

- (1) 对这 3 项提案，每位董事都至少赞成一项，至少反对一项；
(2) 甲赞成 1 号提案，但反对 2 号提案；
(3) 乙赞成 1 号和 3 号提案
(4) 戊只赞成 1 号提案
(5) 庚反对 1 号和 2 号提案。

根据以上信息，可以得出以下哪项？

- A、1 号提案不能通过
B、2 号提案能通过
C、2 号提案不能通过
D、3 号提案不能通过

68、在以下 5×5 矩阵中，每个小方格中可填入一个汉字，要求每行每列均含有金、木、水、火、土 5 个汉字，不能重复也不能遗漏。

根据已经给定的条件，矩阵中①所在方格中应填入的汉字是：

		木		①
土				
		水		金
火				
			土	

- A、火 B、水 C、木 D、土

(材料)

某大学辩论协会和围棋协会两个学生社团各自对外招聘 3 名干事。报名的人有甲，乙，丙，丁，戊，己等六人。事后得知：

- (1) 每个社团均各招到 3 名干事；
(2) 至少有 1 位报名者被两个社团同时录用；
(3) 甲、丁两人分别被不同的社团录用；
(4) 乙、丙两人均没有被两个社团同时录用；
(5) 如果丁被录用，则戊一定会被录用，且两人都在围棋协会。

69、根据以上信息，可以得知：

- A、甲被围棋协会录用
B、乙被辩论协会录用
C、丙被辩论协会录用
D、戊被围棋协会录用

70、如果乙没有被两社团录用，可以得出以下哪个选项？

- A、甲被围棋协会录用
B、丙被围棋协会录用
C、戊被辩论协会录用
D、己被辩论协会录用

71、析词：只为了表达特殊的需要，临时把某个词拆开使用的修辞手法。

下列属于析词的是：

- A、谈笑有鸿儒，往来无白丁
B、上下四方曰宇，古往今来曰宙
C、教学要避免疏而不导，启而不发
D、不爱家何以爱国，不孝父母何以爱人

72、文献老化：指科学文献随着时间的推移，有效性或有益性逐渐降低，甚至失去作为科学情报源存在的价值。

下列属于文献老化的是：

- A、某资料室近几年陆续购买了大量图书，由于管理不善，很多已经破损不堪
- B、某科技辞典已经出版到第 6 版，图书馆的 1978 年第 1 版几乎无人查阅
- C、某科技杂志 1950 年第 1 期上的一篇论文，今天看来，其测量数据误差很大
- D、《1965 年××统计年鉴》的许多数据资料，至今仍然受到研究者的高度重视

73、换城消费：指由于两个城市之间交通便捷，物价高低不一，市民经常到对方城市购物的消费方式。

下列属于换城消费的是：

- A、北京市民小汪告诉记者：在北京 6 块钱一斤的红富士苹果，天津 10 元能买 4 个；北京 80 元一桶的食用油，天津才 65 元
- B、每次听到珠海有商场搞促销，深圳的李女士都会兴高采烈地赶去血拼，半天时间，家里就满是她的战利品
- C、赵女士每次从韩国回来，都在机场免税店买一大堆化妆品，这比在国内购买同一韩国品牌省不少钱
- D、黄先生在南方某市工作了七八年，眼见物价一路狂飙，准备卖掉自家房子，和妻子一块回北方老家养老

74、二次留守，指农村留守儿童被父母接到城市后，由于父母每天忙于工作，孩子周围都是陌生人，没有朋友和玩伴。

下列属于二次留守的是：

- A、某城市农民工公寓聚居着大量外来工友，很多人都把孩子接到城里过暑假，天天有操各地口音的小孩在附近的小卖部、广场上一起玩耍
- B、在某小区街道菜场里，被父母接进城的小英每天帮着卖菜的奶奶收钱，没有客人的时候，她就蹲在地上翻看连环画
- C、暑假期间，某教育部门组织大批留守儿童进城参加夏令营活动，有的孩子还能与久别重逢的父母短暂相聚，由父母带他们游玩城市景点
- D、进城打工的小陈夫妇把智障儿子小明带到身边，民政部门得知后把他安排到残疾人康复中心，小陈夫妇每周只能见小明一次

75、次生丑闻：指某地或某人曝出某个丑闻后，又连续牵出的其他丑闻。

下列不属于次生丑闻的是：

- A、某市一官员的“艳照门”传得沸沸扬扬，记者在其政府网站上核查该官员履历时，意外发现网上其他领导的视察照片居然有不少是 PS 的
- B、在会场上抽天价香烟的某官员被曝光停职后，网民们继续搜索，很快发现他名下有多套来源不明的房产
- C、新华社一篇题为《看似有隐情，其实真忽悠——盘点那些曾经的“官谣”》的文章，梳理了近年来各地出现的“官谣”案例
- D、故宫失窃案见诸报端后，由于故宫方面应对不当，“失窃门”又牵出了“错字门”、“会所门”、“瞒报门”

76、隐性歧视：指存在于人的思想中、未公开显现出来的对特定群体的歧视性认识。

下列属于隐性歧视的是：

- A、戴着墨镜进居民小区的中年男子更容易被保安拦住盘问
- B、满脸大胡子、装束怪异的人往往被看成艺术家
- C、西装笔挺、皮鞋锃亮的人常常被认为是成功人士
- D、打扮成失学少年的乞丐往往能讨到更多的钱

77、邻避效应：指居民针对将要建在自家附近、可能造成环境污染的公共设施所产生的嫌恶心理。出于对健康安全的担心，居民有时会出现高度情绪化的集体抵制甚至抗争行为。

下列不属于邻避效应的是：

- A、某市建委召开 110 千伏变电站建设座谈会，当地居民拒绝参加并多次到市规划局、市环保局等单位上访，强烈反对将变电站建在自家门口
- B、半年以来，每到城管委接访日，某村居民就会成群结队赶来上访，要求取消在该村附近建立大型垃圾中转站的计划
- C、某地准备建设一个大型的污水处理厂，计划刚一披露就遭到了当地居民的强烈反对
- D、某酒店准备扩建自己的停车场，与周围居民进行了多次协商，始终没能达成一致，最终放弃了扩建计划

78、保险储备：指企业为防备原材料运达误期或计划外增加需要量而建立的原材料储备。

下列属于保险储备的是：

- A、张大妈平时习惯多买些粮油盐放在家里，以备万一有什么事抽不开身去买

- B、李厂长望着满仓库的滞销产品，愁容满面，心里盘算着大力扩展销售渠道的办法
C、洪水肆虐，道路交通受到严重威胁，刘厂长并不慌忙，因为度过汛期的原料早已备足
D、王经理年前到处追债收款，给员工发放了年终奖金，也准备好了来年开工的各项资金

79、服务型公关：指为获取社会公众的了解和好评，树立组织的良好形象，向消费者提供各种实惠服务的公共关系活动。

下列属于服务型公关的是：

- A、某冰箱生产企业定期向客户发送食品贮存、保鲜新信息
B、某公司借助墙报和公司网站定期公布产品研发销售情况
C、某帐篷生产企业及时向某地震灾区捐助了数百顶帐篷
D、某著名品牌的消费者自建一个交流使用体验的 QQ 群

80、禁果心理：指基于对某种禁令的逆反心理而产生的强烈的探求欲望。

下列不属于禁果心理的是：

- A、许多寺院的入口处都有“禁止拍摄”的牌子，仍有少数游客趁工作人员不备偷偷拍摄
B、宙斯派侍女潘多拉传递魔盒，特地交代她千万不能打开，潘多拉却经不住诱惑打开了盒子，结果里面的罪恶跑到了人间
C、某部书是官方禁书，但很多人不明白为什么要禁，千方百计地找这部书来读，还出现了许多手抄本
D、某商场在“双十一”当日推出 20 台特价平板电脑，先到先得，结果出现了数百人抢购的场面

第四部分 资料分析

(材料)

2013 年上半年，全国入出境 2.19 亿人次，同比增长 5.07%。其中，内地居民 9091.83 万人次，港澳台居民 1.03 亿，外国人 2538.42 万人次。

内地居民出境 4564.43 万人次，同比增长 18.36%。内地居民出境前往国家或地区居前 5 位的分别是中国香港、中国澳门、泰国、韩国、中国台湾。

港澳台居民入出境 1.03 亿人次，同比下降 2.15%。其中，香港居民 7697.27 万人次，同比下降 1.25%；澳门居民 2069.99 万人次，同比下降 4.38%；台湾居民 486.82 万人次，同比下降 6.36%。

外国人入出境 2538.42 万人次，同比下降 5.22%。其中，入境 1277.07 万人次，同比下降 5.15%。外国人来华居前五位的国家分别是韩国、日本、美国、俄罗斯、越南。

来华外国人中，观光休闲 494.01 万人次，访问 248.35 万人次，交通运输服务员工 153.92 万人次，会议商务 63.89 万人次，其他入境目的为 316.90 万人次。外国人入境居前三位的口岸为上海浦东机场口岸（230.28 万人次，占总数的 18.03%）、北京首都机场口岸（202.80 万人次，占总数的 15.88%）和广州白云机场口岸（117.33 万人次，占总数的 9.19%）。

81、2013 年上半年，港澳台居民入出境人次占全国入出境人次的比重是：

- A、45.16% B、47.03% C、49.75% D、50.02%

82、2013 年上半年，内地居民出、入境人次相差：

- A、32.59 万人次 B、48.51 万人次 C、37.03 万人次 D、35.82 万人次

83、2013 年上半年，既在内地居民出境前往国家或地区居前五位，又在外国人来华居前五位的国家是：

- A、泰国 B、韩国 C、日本 D、美国

84、2013 年上半年，港、澳、台居民入出境人次占全国入出境人次之比为：

- A、74.4：20.6：5.9 B、77.0：20.7：4.9 C、76.9：21.3：4.8 D、78.1：20.6：5.3

85、下列说法正确的是：

- A、2013 年上半年，外国人来华观光休闲与访问的人次相差 254.66 万
B、2013 年上半年，港、澳、台居民入出境人次中台湾居民同比减少最多
C、2013 年上半年，外国人入境人次同比下降速度高于出境人次同比下降速度
D、2013 年上半年，上海浦东机场口岸外国人月平均入境人次是 38.38 万

(材料)

2013 年中国货物进出口总额 41600 亿美元，比上年增长 7.6%，成为世界第一。其中，出口 22096 亿美元，增长 7.9%；进口 19504 亿美元，增长 7.3%；贸易顺差 2592 亿美元。2012 年中国货物进口 18178 亿美元，比上年增长

4.3%。

2005—2012 年中国货物进出口情况

年份	进出口总额 (亿美元)	占世界货物进出口 总额的比重 (%)	货物出口美国占中国货 物出口额的比重 (%)	从日本货物进口占中国 货物进口额的比重 (%)
2005	14221	13.4	21.4	15.2
2006	17607	14.4	21.0	14.6
2007	21738	15.4	19.1	14.0
2008	25616	15.8	17.7	13.3
2009	22073	17.5	18.4	13.0
2010	29728	19.5	18.0	12.7
2011	36421	19.9	17.1	11.2
2012	38668	—	17.2	9.8

86、2013 年中国货物出口增长速度比进口增长速度快：

A、0.3 个百分点 B、0.6 个百分点 C、7.3 个百分点 D、7.6 个百分点

87、2013 年中国货物进出口总额比 2005 年增加了：

A、24447 亿美元 B、25619 亿美元 C、26939 亿美元 D、27379 亿美元

88、2012 年中国货物出口占货物进出口总额的比重是：

A、47.0% B、48.3% C、53.0% D、57.7%

89、2006~2011 年六年，中国货物进出口总额年增长速度超过世界年增长速度的年份有：

A、3 年 B、4 年 C、5 年 D、6 年

90、下列判断不正确的有：

(1) 2006—2012 年七年，中国从日本货物进口额占货物进口总额的比重呈逐年递减的态势

(2) 2011 年中国对美国的货物出口额占货物出口总额的比重比 2005 年降低了 4.3%

(3) 2009—2013 年五年，中国货物进出口总额年平均增长速度小于“十一五”时期平均增长速度

A、0 个 B、1 个 C、2 个 D、3 个

(材料)

2013 年江苏省全年完成港口货物吞吐量 21.4 亿吨，比上年增长 9.7%。其中，外贸货物吞吐量 3.5 亿吨，增长 12.9%。公路里程 15.6 万公里，新增 1976 公里。其中，高速公路里程 4443.0 公里，新增 71.5 公里。民用汽车保有量 954.4 万辆，净增 141.3 万辆，分别增长 17.4%和 13.3%。私人汽车保有量 790.1 万辆，净增 132.9 万辆，分别增长 20.2%和 15.0%。其中，私人轿车保有量 554.6 万辆，净增 98.7 万辆，分别增长 21.6%和 14.4%。

2013年江苏省各种运输方式完成运输量情况

运输方式	货物周转量		货运量		旅客周转量		客运量	
	绝对数 (亿吨公里)	比上年增长 (%)	绝对数 (万吨)	比上年增长 (%)	绝对数 (亿人公里)	比上年增长 (%)	绝对数 (万人次)	比上年增长 (%)
铁路	373.2	-4.7	6806.2	-5.8	505.9	13.3	1343.9	14.3
公路	1653.5	13.8	168613.0	9.7	1461.2	3.0	264416.0	3.5
水路	6857.7	13.3	63648.0	8.5	0.8	-39.5	443.9	-25.3
民航	1.0	5.1	6.7	-0.3	94.0	12.5	729.5	9.8
管道	619.3	7.4	12617.0	7.6	—	—	—	—
总计	9504.7	12.2	251690.9	8.8	2061.9	5.7	279024.3	4.0

91、2013 年江苏省铁路客运量增速比旅客周转量增速高：

A、3.0% B、1.0% C、0.5% D、2.7%

92、2013 年江苏省公路旅客周转量占总旅客周转量的比重比上年：

A、下降了 1.8 个百分点 B、上升了 1.8 个百分点 C、下降了 5.7 个百分点 D、上升了 5.7 个百分点

93、下列运输方式中，2012 年江苏省货运量占货运总量比重最大的运输方式是：

A、民航 B、水路 C、管道 D、铁路

94、2012 年江苏省完成港口货物吞吐量及外贸货物吞吐量分别为：

A、20.5 亿吨，4.5 亿吨 B、20.5 亿吨，3.1 亿吨 C、19.5 亿吨，4.5 亿吨 D、19.5 亿吨，3.1 亿吨

95、下列说法正确的是：

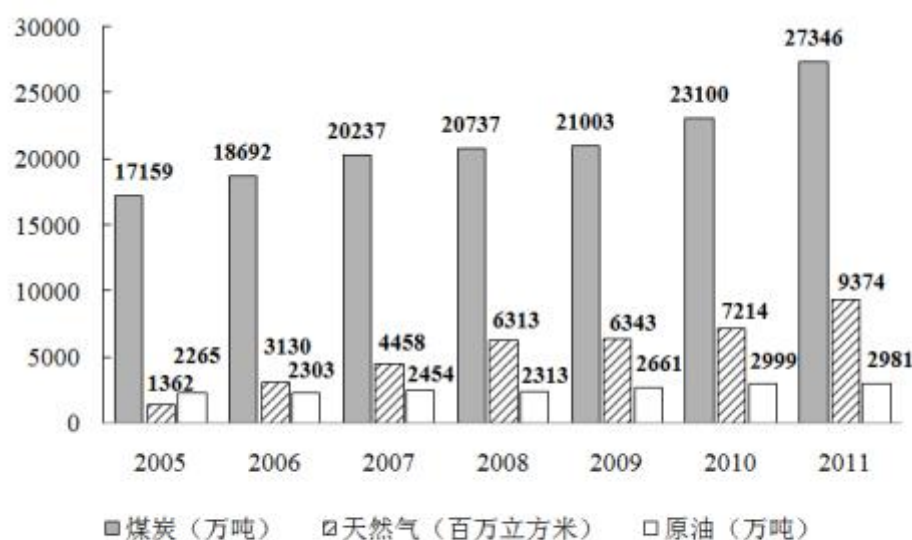
A、2013 年江苏省私人汽车净增量增速低于私人轿车净增量增速

- B、2013 年江苏省民用汽车保有量增速高于私人汽车保有量增速
C、2013 年江苏省公路里程增速低于高速公路里程增速
D、2013 年江苏省货运量增速低于客运量增速
(材料)

2013 年江苏省固定资产投资逐月累计完成情况 单位：亿元

时期	1—2 月	1—3 月	1—4 月	1—5 月	1—6 月	1—7 月	1—8 月	1—9 月	1—10 月	1—11 月	1—12 月	同比 增长
完成总额	4306	7839	10946	14142	16557	19789	22476	25511	29134	32822	35983	19.6
国有及国有 控股	847	1494	2090	2797	3340	4107	4725	5326	6139	6905	7456	13.3
港澳台及 外资	533	927	1297	1639	1902	2269	2588	2897	3267	3613	3911	8.1
民间投资	2932	5418	7560	9707	11316	13413	15161	17288	19727	22303	24526	20.1
第一产业	34	54	76	95	94	112	130	150	168	185	199	9.4
第二产业	2287	4195	5877	7408	8450	10101	11409	13051	14974	16831	18426	17.2
第三产业	1985	3589	4994	6640	8013	9576	10936	12310	13992	15806	17358	22.3

- 96、2013 年 10 月，江苏民间固定投资完成额比 4 月多（ ）亿元。
A、297 B、308 C、335 D、368
97、2013 年 3~12 月，江苏省第一产业固定资产投资完成额超过 19 亿元的月份有：
A、2 个 B、3 个 C、4 个 D、5 个
98、2012 年江苏省第三产业固定投资完成额是：
A、13150 亿元 B、13947 亿元 C、14193 亿元 D、15076 亿元
99、2013 年港澳台及外商固定资产季度投资额最少的季度是：
A、第一季度 B、第二季度 C、第三季度 D、第四季度
100、下列判断正确的有（ ）。
(1) 2013 年第一季度，江苏省第一产业固定资产投资完成额逐月减少
(2) 2012 年江苏省第二产业固定资产投资完成额多于第三产业
(3) 2013 年下半年，江苏省国有及国有控股固定资产投资完成额比上半年多 886 亿元
A、0 个 B、1 个 C、2 个 D、3 个
(材料)



2005~2011 年江苏省煤炭、原油和天然气消费情况

- 101、2011 年江苏省天然气消费量比 2005 年增长了：
A、4.88 倍 B、5.88 倍 C、6.88 倍 D、7.88 倍
102、2006~2011 年六年，江苏省煤炭消费增长量最小的年份是：
A、2007 年 B、2008 年 C、2009 年 D、2010 年
103、2006~2011 年六年，江苏省原油消费年平均增长量是：
A、102 万吨 B、113 万吨 C、119 万吨 D、137 万吨

104、下列说法正确的是：

- A、2006~2011 年六年，江苏省天然气消费年平均增长速度大于煤炭消费
- B、2006~2011 年六年，江苏省原油消费年平均增长速度大于煤炭消费
- C、2006~2011 年六年，江苏省原油消费年平均增长速度大于天然气消费
- D、2006~2011 年六年，江苏省煤炭消费年平均增长速度分别大于天然气消费、原油消费

105、下列判断不正确的有：

- (1) 2011 年江苏省天然气消费量比 2007 年翻了一番多
- (2) 2011 年江苏省煤炭消费增长量大于前四年煤炭消费增长量的总和
- (3) 2006~2011 年，江苏省煤炭、原油和天然气消费量均呈逐年增加的态势

- A、0 个 B、1 个 C、2 个 D、3 个