

注：因年份久远，此题部分题目解析不够详细，请理解

## 2006 年河北省公务员录用考试《行政职业能力测验》试卷

### 第一部分言语理解与表达

（共 30 小题，参考时限 20 分钟）

本部分中每道题包含一段话、一个句子或一篇短文，后面是一个不完整的陈述，要求你从四个选项中选出一个来完成陈述。注意：答案可能是完成对所给文字主要意思的提要，也可能是满足陈述中其他方面的要求，你的选择应与所提要求最相符合。

请开始答题：

1. 年长的儿童之所以比年幼的儿童的记忆量大，在很大程度上，是因为年长的儿童对所记忆的材料有更多的了解。甚至于那些更精通某一领域的儿童对相关信息的记忆能力比普通成人还要强。

根据这段话下列说法正确的是（ ）。

- A. 年长的儿童比年幼的儿童记忆能力好
- B. 只要儿童比普通成人更精通某一领域，那么一般的他在这一领域的记忆能力比成年人强
- C. 年长的儿童比年幼的儿童记忆量大完全是因为他对所记忆的材料了解得更多
- D. 小明在象棋方面的记忆能力比小宁好是因为他比小宁年纪小

2. 用文字点缀服装，已经成为世界服装潮流。用汉字做服装装饰，更受消费者欢迎。在日本街头，穿“真”“诚”“爱”“美”等汉字服饰的年轻人到处可见。美国、法国等西方国家的年轻人，则喜欢在服饰上用“龙”“凤”“虎”“狮”等汉字做点缀。只是因为，日本和美国等国家近年来兴起了“汉语热”，具有艺术性的汉字装饰也由此兴起。

这段话谈论的主题是（ ）。

- A. 世界服装的新潮流
- B. 汉字在日本和西方很受欢迎
- C. 日本和美国人喜欢用汉字来装饰服装
- D. 日本和美国兴起了“汉字热”

3. 通过涨价来扭亏是过去一些企业经济增长的主要手段，但在今后企业的发展中则需要加强企业内部的管理和挖潜，提高对外部环境的适应能力和市场竞争的能力。

与这段话意思不符的是（ ）。

- A. 企业的发展需从管理和挖潜上找出路
- B. 涨价的因素在市场经济条件下是不可避免的
- C. 通过涨价，企业的经济可以得到暂时的增长
- D. 企业今后的发展，光靠涨价是行不通的

4. 森林是人类文明的摇篮，是最直接影响人类能否生存下去的生态因子。森林吸收二氧化碳，释放氧气，以此平衡着大气二氧化碳的比例，据估计，世界上的森林和植物每年产 4000 亿吨氧气。森林是造雨者，不但影响降水量，且减缓山坡上的土壤侵蚀。

这段话支持了这样一种观点，即森林（）。

- A. 是造雨者
- B. 吸收二氧化碳
- C. 是人类文明的摇篮
- D. 是最直接影响人类生存的生态因子

5. 继李悝变法之后，商鞅在秦国实行变法。虽然开始较晚，取得的成效却很显著，其价值仍可以同李悝变法并驾齐驱。

最能准确复述这段话意思的是（）。

- A. 李悝变法早于商鞅变法
- B. 商鞅变法开始太晚
- C. 商鞅变法意义同样深远
- D. 商鞅变法开始同样很晚，但收效明显

6. 佛教虽然提倡超尘脱俗，四大皆空，但到底不能离开人间，所以它也并不完全免俗。佛教中也有不少财神爷，看来，爱财之心，根除难也。据佛经上讲，佛祖释迦牟尼曾经受过龙女的布施——一颗价值三千的珠宝！释迦牟尼马上就让她立地成佛。

对这段话最准确的复述是（）。

- A. 佛教也不能免俗
- B. 爱财之心，人之常情
- C. 提倡四大皆空的佛教也有爱财之心
- D. 面对财宝，提倡四大皆空的佛教也不能完全免俗

7. 鲁迅满怀悲愤地写道：“不是年青的为年老的写纪念，而在这三十年中，却使我目睹许多青年的血，层层淤积起来，将我埋得不能呼吸，我只能用这样的笔墨，写几句文章，算是从泥土中挖一个小孔，自己延口残喘，这是怎样的世界呢？”

对上文中“延口残喘”一词的理解，不准确的是（）。

- A. 反映鲁迅英勇抗争，一往无前的无私无畏精神
- B. 反映鲁迅对只能写文章纪念捐躯青年的无奈
- C. 反映鲁迅先生处于极为险恶、压抑的环境之中
- D. 反映鲁迅先生悲愤的心情和奋力抗争的精神

8. 在原始社会，当社会生产力还十分低下，人们的劳动所得除了维持人们自身的生存和繁衍外几乎没有剩余时，是没有所谓人权概念的。后来，随着生产力的发展，私有制的出现，产生了阶级对立和阶级压迫。伴随着奴隶制的产生和发展，奴隶的生存权利作为最古老的人权要求第一次被提出来了。因此，没有生产力的发展，就不会有人权问题的产生。

这段话主要支持的论点是（）。

- A. 人权要求是伴随着阶级的出现而出现的
- B. 奴隶的生存权利是最古老的人权要求

- C. 生产力的发展导致了人权要求的产生      D. 私有制是人权出现的根源

9. 这部小说由于插入了过多的社会批评、嘲讽以及有关诞异的历史等等，因此显得结构松散，加上主要人物几易姓名(这一点到最后才交代)，因此读者常对情节线索摸不着头脑。

下列理解有误的一项是()。

- A. 读者常对情节线索摸不着头脑是因为小说的结构松散  
B. 小说在最后才交代此书的结构松散  
C. 过多的社会批评、嘲讽及有关诞异的历史导致读者常对情节线索摸不着头脑  
D. 主要人物几易姓名的事情在最后才交代

10. 美国经济形势当时处于上升阶段，这是里根获胜的首要原因。现任总统竞选连任，向来都占了很大的便宜；如果当时国内经济情况良好，更是十拿九稳。战后美国历届竞选连任的在职总统中，杜鲁门、艾森豪威尔、约翰逊、尼克松都取得胜利，失败的只有两个——福特和卡特。福特是尼克松因水门事件下台后以副总统接任总统的，当时共和党声名狼藉，自然不免受到连累。卡特竞选连任时则碰上了两件倒霉事：一是经济情况不好，通货膨胀严重，经济增长也停滞；二是伊朗扣留美国人质的事件整整闹了一年。

根据这段话下列说法正确的是()。

- A. 福特是因为国内经济情况好而当选总统的  
B. 美国总统要获得竞选连任，国内经济情况好是唯一原因  
C. 美国总统要竞选连任，国内经济情况良好是一个十分重要的原因  
D. 卡特竞选连任时美国经济很好

11. 总体来说，银行获得的存款量决定了银行的贷款能力。但是，在许多时候银行的贷款数量会超出它所获得的存款数量，这是一个众所周知的事实。如果这种贷款的数量超出过多，就会造成通货膨胀。

上面这段话主要支持了这样一种观点，即()。

- A. 相对稳定的贷款政策可以给银行和存款人都带来好处  
B. 银行的存款量大大少于贷款量会造成通货膨胀  
C. 银行应该采取一种有效的控制通货膨胀的策略  
D. 银行的贷款量与银行获得的存款量成正比例关系

12. 鉴于技术性贸易壁垒是我国农产品进入国际市场长期面临的主要障碍，稍有不慎，将引起全球性的扩散和连锁反应，造成重大损失。许多事实又都表明，技术性贸易壁垒之所以能够起作用，主要是由于出口企业对进口国的技术法规、标准和合格评定程序了解不多造成的。我们应当细心借鉴发达国家的做法，组成专门的机构，收集研究我国主要出口农产品可能在哪些贸易国家遇到哪些技术性壁垒，提出需要新采取的应对措施，形成预警机制，彻底改变目前这种遇到技术性壁垒无所适从的状况。

适合本段文字的小标题是()。

- A. 技术性贸易壁垒的障碍作用
- B. 农产品进入国际市场的问题
- C. 向发达国家学习技术性贸易壁垒
- D. 建立农产品国际贸易技术性壁垒预警机制

13. 做一件事，往往有利也有弊，只有利而无弊的事情几乎是没有的。《淮南子·人间训》云：“众人皆知利利而病病，唯圣人知病之为利，利之为病也。”看来古人已经注意到利弊的辩证关系。

下列表述符合文意的是（）。

- A. 现实生活中的事情都由利与弊组成
- B. 要善于分析，争取做到利大于弊
- C. 利与弊不是绝对的，是可以转化的
- D. 我们应当努力争取做到有利无弊

14. 居民委员会和村民委员会不属于国家机关，但与基层政权有着密切关系，基层政权对居民委员会和村民委员会的工作给予指导、支持和帮助；居民委员会或村民委员会协助基层政权开展工作，居民委员会、村民委员会的主任、副主任和委员由居民或村民选举产生。居民委员会、村民委员会根据需要设人民调解、治安保卫、公共卫生等委员会，办理本居住地区的公共事务和公益事业，调解民间纠纷，协助维护社会治安，并且向人民政府反映群众的意见，要求和提出建议以及办理法律规定的其他事项，居民委员会或村民委员会向居民会议或村民会议负责并报告工作。

这段话的核心意思是（）。

- A. 居民委员会或村民委员会向人民政府负责
- B. 居民委员会或村民委员会是基层群众性自治组织
- C. 居民委员会或村民委员会的内部机构设置
- D. 居民委员会和村民委员会的结构功能及与基层政权的关系

15. 最近 25 年中，欧佩克的生产配额呈下降趋势。过去欧佩克曾作出过减产保价的决定，各成员国的石油公司也未因收入增加而加强对石油设备的投资。政治动荡、爆发战争以及国有化运动，导致包括伊拉克、伊朗和利比亚在内的一些主要产油国大幅减产。

这段话没有谈及的问题有（）。

- A. 最近 25 年欧佩克的生产配额呈下降趋势
- B. 最近 25 年欧佩克的生产配额下降的原因
- C. 政治动荡、战争及国有化运动使一些主要产油国大幅减产
- D. 欧佩克各成员国的石油公司有意不加大对石油设备的投资而导致大幅减产

16. 如果没有达尔文、马可尼等专家的新科技观的涌现，就不会产生世界上第一部科幻小说；如果没有广义相对论、量子力学的发展，就不会迎来科幻小说的黄金时代；如果没有原子物理太空科学的发展，就不会有灾难科幻作品或超级空间探险小说。

这段话的主要意思（）。

- A. 科幻小说对科学的发展起了强大的推动作用
- B. 科幻小说的发展依赖于科技的进步

C. 科幻小说被用来形象地描述最新科学发现

D. 科幻文学与科学相互促进，共同发展

17. 一个人面对壁垒，应该想尽一切办法绕过它们，一个人的能力会在绕过这些壁垒时体现出来；而且对你而言是壁垒的，对他人而言同样也是，若你能绕过，相当于把一大部分竞争对手挡在了身后，那么最终跑在前面的始终是寥寥几个人。

通过这段文字我们可以知道()。

A. 每一个人都一定会发现有很多的壁垒在面前

B. 面对壁垒，对自己要有信心，跟壁垒去对撞

C. 你绕过了壁垒，你就战胜了大部分竞争对手

D. 设法绕过壁垒会发现自身潜能，在竞争中成为领跑强者

18. 由于信息革命的出现，在世纪交替之际，我们的教育理论和教育模式正面临着一场重大的变革和挑战。在未来几年内，交互式多媒体系统将以其丰富的功能、强有力的影响、方便便宜的特点在教育界得到广泛的应用，从而掀起一场新型教育革命。

这段话的主旨是()。

A. 人类社会已出现信息革命

B. 教育面临着挑战

C. 功能强大的多媒体在教育界的应用将引起新型的教育革命

D. 多媒体的功能很强大

19. 在英国的家庭中，绝对看不到对孩子没有理由的娇宠，犯错误的孩子会受到纠正甚至惩罚。家长们往往在尊重孩子独立人格的前提下，对孩子进行严格的管束，为的是让孩子明白，他们的行为不是没有边际的，不可以为所欲为。英国的法律明确规定允许家长体罚孩子。

对这段文字，理解不准确的是()。

A. 英国人从不娇惯孩子

B. 英国人经常体罚孩子

C. 英国人管教孩子时不伤其自尊

D. 英国的法律有管教孩子的条款

20. 从严格的意义上说，中国的改革并不是一个纯粹的经济问题，只不过在经济、政治、社会、文化这个大系统中经济的改革走在了前列。但随着改革的深入，随着改革走入中期，经济改革超前而其他方面的改革滞后所造成的社会心理和社会道德的差异，已经开始教育我们了。

这段话主要是为了阐明()。

A. 中国的改革不纯粹是一个经济问题

B. 经济改革走在各项改革的前列

C. 经济改革给我们带来了问题

D. 经济改革和其他各方面的改革的不平衡已经开始给我们的社会带来了值得重视的问题

21. 借助药物、物理治疗或化学治疗的方法来消除病患，效果并不一定很好。目前防治高血压的药物有4种，分别适用于不同的对象。如果使用不当，还可能造成对身体的危害。约一半的高血压患者可以通过调

整饮食、戒烟戒酒和减轻体重的方法得到康复。

上面这段话主要支持了这样一种观点，即（）。

- A. 高血压患者只要采用恰当的方法，就可以不药自愈
- B. 现代科学技术方法在治疗许多人的高血压方面收效甚微
- C. 依赖现代科技手段的治疗并非是消除病患的唯一途径
- D. 高血压者应该避免滥用药物，否则对治疗有害无益

22. 隐性信息是一种特殊信息，它与在社会经济生活可以直接或间接获取的显性信息不同，是一种能够提示并预测未来发展趋势的、未萌的“胎动”信息，它要通过分析研究才能获取。

对这段话中的“隐性信息”，理解正确的一项是（）。

- A. 不能直接获取，只能间接获取
- B. 可能预测未萌的“胎动”
- C. 可以提示未来的发展趋势
- D. 能提示尚未公开的信息

23. 许多优秀人才仅因在招聘面试过程中的小小失误就失去了良好的工作机会。尽管面试形式多种多样，主考官的提问五花八门，目前尚无万无一失的应试方法可供应聘者借鉴，但以下要点可以使应聘者提高应试能力，增加成功率。

可推知下面的内容是关于（）。

- A. 在应聘中主考官提问的各式问题
- B. 各种各样的面试形式
- C. 一些可供借鉴的应试要点
- D. 优秀人才在招聘中失败的原因

24. 农田基建、科技兴农、农业产业化、综合开发等均是每个农业产业化发展中的一个十分重要的环节，但均不是一个产业发展的全部。因此，建议上级财政改革支农资金分配使用的方式，在一个省、地市、县区内选择几个有地域特色和市场开发价值的优势骨干产业，以产业为对象，对瓶颈薄弱环节和重点部位进行系统扶持，在一个省范围内形成几个全国独具优势，在一个地区或县范围内形成几个全省乃至全国独具优势的主导产业。

这段话主要支持了这样一种论点，即（）。

- A. 农田基建、科技兴农、农业产业化、综合开发等虽然均是每个农业产业化发展中的一个十分重要的环节，但均不是一个产业发展的全部
- B. 充分发挥财政资金投入对产业结构优化的带动作用
- C. 国家要通过财政改革，加大支农力度
- D. 每一地区都要有一个在全国独具优势的主导产业

25. 早在 20 世纪 60 年代，一位美国生物学家卡尔逊女士发表了一份震惊全美国的报告，并写了一本名为《寂静的春天》的书，她向美国总统及国民提出警告，杀虫剂和化学品的滥用引发了生态和健康的灾难，连雀鸟也被毒害，鸟的歌声也听不到，春天变得寂静了。卡尔逊女士的呼吁揭开了环保运动的序幕。30 多年

后的今天，她的警世忠言仍然唤不醒所有人类。

《寂静的春天》的内容是()。

- A. 揭示人类生态环境所遭到的破坏
- B. 杀虫剂和化学品如何正确使用
- C. 震惊全美国的一份报告
- D. 听不到歌声的春天

26. 研究基本粒子，须借助极高的能量。欲知物质的微观结构，首先得变革微观物质，即得想办法把原子、原子核以及质子、中子等这“小粒”打碎，把它们内部结构和各种性质暴露出来。

对“物质的微观结构”与“微观物质”解说正确的是()。

- A. 前者指各种小粒内部组合模式，后者指构成物质的各种小粒
- B. 前者指原子结构（含原子核），后者指质子、中子等这些小粒
- C. 二者反映了微观物质世界结构，即小粒结构构成了微观物质
- D. 二者都指组成物质的分子、原子、质子以及中子等各种小粒

27. 玛雅人是中美洲的土著居民，曾经拥有高度发达的文明。大约从公元 300 年起，玛雅文明进入了被称为古典的鼎盛时期。公元 800 年，古典期玛雅文明到达了它的顶峰，随后却发生了不可思议的崩溃。在此后的 100 多年里，玛雅人先后放弃了他们的繁华城市，神庙和广场成了野兽出没的废墟。有关玛雅文明衰落的假说可谓众说纷纭。有人认为，地震、瘟疫等天灾造成了玛雅人口的急剧减少；也有人认为，战争或者农民起义让文明陷入混乱；还有人提出了“生态危机”论，认为人口的严重膨胀、土地的过度开垦所带来的严重生态问题导致了文明的消亡。

根据这段文字，我们知道“不可思议”是指()。

- A. 玛雅人先后放弃了他们繁华的城市
- B. 玛雅人的神庙和广场成了野兽出没的废墟
- C. 玛雅文明衰落的原因至今不明
- D. 古典玛雅文明达到了顶峰之后，迅速崩溃

28. 早在 20 世纪 20 年代，梁启超先生就已意识到国人对“科学”存在失之偏颇的理解。他指出：“那些绝对的鄙厌科学的人且不必责备，就是相对的尊重科学的人，还十个有九个不了解科学的性质。他们只知道科学研究所产生的结果，而不知道科学本身的价值……我们若不拿科学精神去研究，便做哪一门学问也做不成。”梁先生将国人对科学的态度，概括为两点：一是把科学看得太低了，太粗了；二是把科学看得太呆了，太窄了。

从这段文字，我们不能推出的是()。

- A. “把科学看得太低、太粗”的人指的是“绝对的鄙厌科学的人”
- B. “那些绝对的鄙厌科学的人且不必责备”，其原因是他们信奉宗教神权
- C. 梁先生认为那些“十个有九个不了解科学的性质”的人是因为把科学看得“太窄”了，这些人实际上也是不懂科学精神
- D. 梁先生认为中国人如果不能正确理解科学精神，就将被现代科学所淘汰

29. 青年时代的生涯，注定是烦闷的。无论是动，是静，是欢乐，是无聊，总觉得背后有烦闷跟着。到底为什么？是月儿晶莹，是雨儿阴沉，是一望的远山无际，是半池的微波粼粼？这也只是一刹那间的自然现象。是神妙，是温柔，对于人生有什么烦闷的影响？“我不入地狱，谁入地狱？”“不丧掉生命的，不能得着生命。”以众生的痛苦为痛苦，所以释迦牟尼，耶稣基督，他们奋斗的生涯里，注定的是永远烦闷！

下列陈述，不符合本段意思的是（）。

- A. 作者说“青年时代的生涯，注定是烦闷的”，虽然没有明说“注定”的理由，但却体现了她对这一人生现象所具有的极其敏感的把握，同时也蕴涵着她相当的文学修养
- B. 作者试图寻找青年烦闷心理的形成原因，“月儿”“雨儿”“远山”“微波”等等正是作者从大自然的角度作了十分形象的解释，所谓“望月兴叹”“听雨起愁”说的也是这个道理
- C. 作者引释迦牟尼、耶稣基督的名句，虽然并不表示有多么浓厚的宗教感情，但对他们作为奋斗者的烦闷，她是给予了充分肯定的
- D. 作品的主旨是探求情中之理，而行文曼妙舒展，形象错落有致，在很短小的篇幅中包蕴了相当丰富的内容，显得举重若轻，游刃有余

30. 少数孩子经历了这样的应试教育，最后还能成长为能够独立思考的人，成长为虚怀若谷、知识渊博的人，这不能不说是一个奇迹。

不符合这段话意思的是（）。

- A. 应试教育使孩子丧失独立思考能力
- B. 应试教育使孩子知识面狭窄
- C. 应试教育使孩子性情狭隘
- D. 赞扬少数孩子的卓尔不群

第一部分结束，请继续做第二部分！

## 第二部分数量关系

（共 20 题，参考时限 18 分钟）

一、数字推理：给你一个数列，但其中缺少一项或两项，要求你仔细观察数列的排列规律，然后从四个供选择的选项中选择你认为最合理的一项，来填补空缺项，使之符合原数列的排列规律。

请开始答题：

31. 7, 5, 3, 10, 1, ( ), ( )。

- A. 15, -4    B. 20, -2    C. 15, -1    D. 20, 0

32. 35, 7, 5, ( ), 25/7。

- A. 1    B. 7/5    C. 3    D. 5/7

33. 1/9, 2/27, 1/27, ( )。



A、4/27    B、7/9    C、5/18    D、4/243

34.  $1/2, 1/3, 2/5, 3/8, 5/13, ()$ 。

A、10/26    B、8/19    C、8/21    D、7/18

35. 3, 4, 8, 17,  $()$ 。

A、25    B、29    C、33    D、41

二、数学运算：在这部分试题中，每道试题呈现一段表述数字关系的文字，要求你迅速、准确地计算出答案。

请开始答题：

36.  $1.25 \times 35.7 \times 32 \times 25$  的值为 $()$ 。

A、35700    B、3570    C、5240    D、54450

37. 小黄家的时钟每小时慢 6 分钟。每天，小黄起床后早上 6 点按电台报时将钟与标准时间对准，下午他回到家里，钟的时间正好是 3 点。这时的标准时间是几点？ $()$

A、3 点    B、4 点    C、5 点    D、6 点

38. 如果  $A > B$  且  $C$  为正数，请问下列式子中哪一个错误的？ $()$

A.  $AC > BC$     B.  $C - A > C - B$     C.  $A + C > B + C$     D.  $A/C > B/C$

39. 如果前天是星期天，那么 213 天后是星期几？ $()$

A、星期五    B、星期三    C、星期二    C、星期天

40. 从 1985 到 4891 的整数中，十位数与个位数字相同的数有多少个？ $()$

A、181    B、291    C、250    D、321

41. 某人乘长途客车中途下车，客车开走 10 分钟后，发现将一行李遗忘在客车上，情急之下，马上乘出租车前去追赶。若客车速度为  $75\text{km} / \text{小时}$ ，出租车速度可达  $100\text{km} / \text{小时}$ ，价格为  $1.2 \text{ 元} / \text{km}$ ，那么该乘客想追上他的行李，要付的出租车费至少应为 $()$ 元。

A、50    B、60    C、75    D、90

42. 有 A、B、C 三本书，至少读过其中一本的有 20 人，读过 A 书的有 10 人，读过 B 书的有 12 人，读过 C 书的有 15 人，读过 A、B 两书的有 8 人，读过 B、C 两书的有 9 人，读过 A、C 两书的有 7 人。三本书全都读过有多少人？ $()$

A、5    B、7    C、9    D、无法计算

43. 有两个相同的正方体，每个正方体的六个面上分别标有数字 1、2、3、4、5、6。将两个正方体放到桌面上，向上的一面数字之和为偶数的有多少种情形？ $()$

A、9    B、12    C、18    D、24

44. 牧场有一片青草，每天生成速度相同。现在这片牧场可供 16 头牛吃 20 天，或者供 80 只羊吃 12 天，如果一头牛一天吃草量等于 4 只羊一天的吃草量，那么 10 头牛与 60 只羊一起吃可以吃多少天?()

- A、7      B、8      C、12      D、15

45. 某船从上游 A 港开往下游 B 港，航速每小时 16 公里，共花了 10 小时，已知水的流速为每小时 4 公里，问从 B 港返回 A 港需要多少小时?()

- A、12      B、15      C、18      D、20

46. 一把钥匙只能开一把锁，现在有 4 把钥匙 4 把锁，但不知哪把钥匙开哪把锁，最多要试多少次就能配好全部的钥匙和锁?()

- A、6      B、8      C、7      D、5

47. 列车的速度为每小时 50 公里，汽船的速度每小时 30 公里，若列车开行 2 小时、汽船开行 3 小时，则列车比汽船多行了()公里。

- A、10      B、9      C、8      D、11

48. 有一段布，裁剪制服 6 套多 12 尺，若裁剪 8 套则缺 8 尺，则这段布是()尺。

- A、36      B、72      C、144      D、288

49. 画一个边长为 2cm 的正方形，再以这个正方形的对角线为边画第二个正方形，再以第二个正方形的对角线为边画第三个正方形，则第三个正方形面积为()平方厘米。

- A、32      B、16      C、8      D、4

50. 一列普通客车以每小时 40 公里的速度在 9 时由甲城开往乙城，一列快车以每小时 58 公里的速度在 11 时也由甲城开往乙城，为了行驶安全，列车间的距离不应当少于 8 公里，则客车最晚应在()时在某站停车让快车通过。

- A、14      B、15      C、16      D、13

第二部分结束，请继续做第三部分！

### 第三部分 判断推理


(共 30 题，参考时限 25 分钟)

一、图形推理。包括两种类型的题目：


(一)请从所给的四个选择项中，选择最适合的一个填在问号处，使之呈现一定的规律性。

请开始答题：

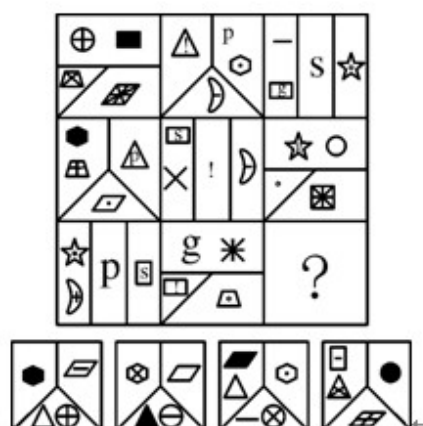
51.



52.



53.

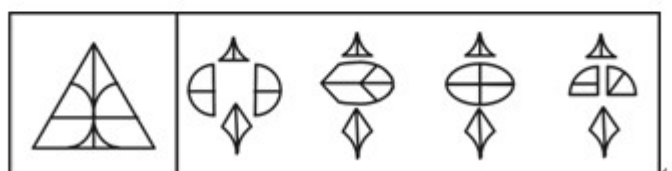




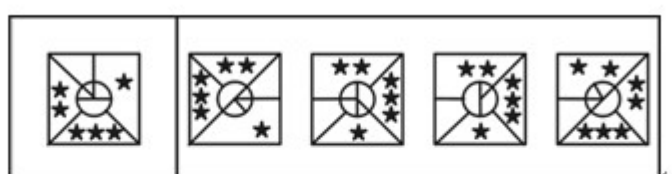
(二)左边的图形由若干个元素组成。右边的备选图形中只有一个是组成左边图形的元素组成的，请选出这一个。注意，组成新的图形时，只能在同一平面上，方向、位置可能出现变化。

请开始答题：

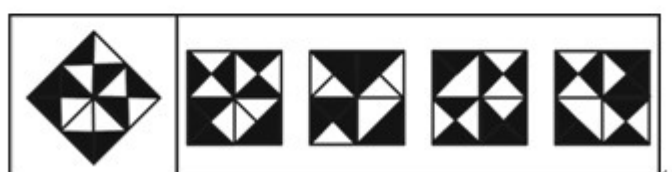
56.



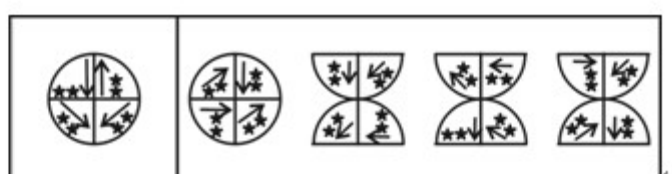
57.



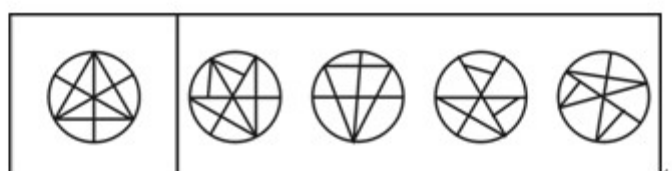
58.



59.



60.



二、定义判断。每道题先给出一个概念的定义，然后分别列出四种情况，要求你严格依据定义，从中选出一个最符合或最不符合该定义的答案。注意：假设这个定义是正确的，不容置疑的。

请开始答题：

61. 上诉是指因民事、行政诉讼当事人或刑事诉讼被告人不服各级审判机关生效的第一审裁定、判决而在法定期间内向上一级审判机关提起诉讼、请求改判的诉讼程序。

下列属于上诉的是()。

- A. 胡某与刘某因债务纠纷诉至林阳区基层人民法院，一审结束后，两人均无异议。一年后，刘某发现了新的证据，遂再次提起诉讼
- B. 吴某一审中被认定为故意伤害罪既遂，判处有期徒刑1年，检察院认为刑罚太轻，于是要求上级人民法院重新审理
- C. 陈某因不服公安机关对其行政拘留的处罚而提起诉讼，一审后，公安机关认为法院判决不当，在两日后向上级人民法院提出重新审理的要求
- D. 卜某因与邻居发生纠纷而持刀砍伤了邻居，后派出所所以违反治安管理规定为由处罚了卜某，卜某对该处罚不满，遂要求公安局重新作出决定

62. 暴力是指利用武力随意伤害人身健康的野蛮行为，特指国家的强制力量。

下列选项中，符合定义的是()。

- A. 俄罗斯派出军队武力镇压反动武装分子
- B. 黑社会势力经常制造斗殴事件，随意伤害人身健康
- C. 法西斯国家到了侵占国大肆屠杀当地居民，制造了无数惨案
- D. 国际恐怖组织经常对绑架的人质进行人身残害

63. 社会工作价值观是社会工作者所持有的助人观念，是利他主义，尊重受助者的权利和选择。它认为社会工作是一种真正的服务过程，而不是社会工作者在行使手中的权力。

下列不属于社会工作价值观的是()。

- A. 对助人活动的看法
- B. 对自己的看法
- C. 对受助者的看法
- D. 对社会的看法

64. 宣布是指合法主体公开地将带有约束性或强制性的内容告知于公众，目的是为了让公众了解、知晓，在行为上遵从。

下列选项中，符合定义的是()。

- A. 某厂家新推出一种口味鲜美的食品，在各大超市门口进行推销，并让消费者品尝
- B. 某著名人士召开新闻发布会，向公众宣布他的现任职位将由另一名人士接任
- C. 某民间团体将自己修身养性的良方公之于众，让大家同样也能延年益寿
- D. 国家卫生部在疫情严重期间向公众公布公民在这期间应注意的行为规则

65. 无差异市场营销是指企业不考虑各子市场的特性，而只注重市场的共性，决定只推出单一的产品，运用单一的营销组合，力求在一定程度上适合尽可能多的顾客需求。

根据上述定义，下列属于无差异市场营销的是()。

- A. 某化妆产品公司经市场调查发现，以增白为特色的中低档化妆品无人生产，于是就开发了一种以增白为特色的化妆品，并在市场上推广
- B. 某企业发现另一些企业生产的保健品能取得高额利润，于是就模仿它们，生产类似的产品
- C. 某跨国公司，虽然规模非常庞大，但只生产一种饮料，并且在全球所有的地区采用了相同的包装和广告
- D. 某企业经市场分析，发现 A 国人也偏爱喝速溶咖啡，于是就把大量原计划内销的速溶咖啡销往 A 国，咖啡的包装和价格与其在国内销售的完全相同

66. 民事法律行为是指公民或法人设立、变更、终止民事权利和民事义务的合法行为，包括附期限的民事法律行为和附条件的民事法律行为。民事法律行为所附的条件是行为人约定的将来发生的不确定的合法事实。附期限的民事法律行为是指在民事法律行为中约定一定期限，并把该期限的到来作为行为人的民事权利、义务发生、变更、消灭的前提的民事法律行为。

根据上述定义，下列属于附条件的民事法律行为的是()。

- A. 甲与乙有积怨，为了报复，甲私下与丙协商并承诺，如果丙将乙打伤，则赠与丙 500 元
- B. 甲向乙表示“如果太阳从西方升起，我就把房屋赠送给你”
- C. 甲乙约定：乙须在合同成立 20 日后取款
- D. 甲向乙表示“如果我女儿调到外地工作，我就把房屋租给你”

67. 市场细分就是营销者通过市场调研、依据消费者(包括生活消费者、生产消费者)的需要与欲望、购买行为和购买习惯等方面的明显的差异性，把某一产品的市场整体划分为若干消费者群(买主群)的市场分类过程。

根据定义，不属于市场细分的是()。

- A. 把消费者分为传统型、新潮型、节俭型、奢侈型等不同的消费群
- B. 把消费者分为都市消费群、小城镇消费群、农村消费群
- C. 把消费者分为老年男性消费群、中年男性消费群、青年男性消费群
- D. 把产品分为服装、鞋帽、家电、化妆品、食品等

68. 变迁是指事物在时间或空间上产生较大的改变或位移、变动或更替，与之前的情形完全不同。

下列情形中，与定义相符合的是()。

- A. 刘局长调任，继任他职位的陈某与他的管理方式完全不同
- B. 大雁到了冬天会飞往南方过冬
- C. 二十年之后，小赵回家探亲，发现那里的变化实在太大，她已经完全不认得路了

D. 小沈每年都会游览一次黄山，每去一次，他都会有不同的发现

69. 洗钱罪是指明知是毒品犯罪、黑社会性质的组织犯罪、走私犯罪的违法所得及其产生的收益，为掩饰、隐瞒其来源和性质，而以存入金融机构、转移资金等方式使其在市场上合法化的行为。

根据定义，下列不构成洗钱罪的是()。

A. 甲某将走私汽车所得的钱款交给其开夜总会的弟弟乙某，后乙某以夜总会的名义存入银行账户

B. 甲用贩卖海洛因得来的钱，购买了一栋别墅，然后将别墅低价出售

C. 甲某将走私所得藏在汽车带出国境，然后兑换成外币

D. 甲某将贪污受贿的三百万元藏匿于火车带出国境，以国外亲戚的名义存入国外银行，然后再返回本国

70. 公文是党政机关、企事业单位、社会团体在公务活动中使用的具有特定格式的文书。是传达贯彻党和国家的方针、政策、发布行政法规和规章，请示和答复问题，指导和商洽工作，报告情况，交流经验的重要工具。

根据定义判断，下列属于公文的是()。

A. 甲是某学校学生会主席，其为学校学生会起草的章程

B. 乙是一名图书编辑，其利用业余时间写的一篇杂文

C. 丙是某县长的秘书，其为县长写的一篇常委会上的发言稿

D. 丁是某县级机关的工作人员，工作中有事情要向上级报告，为此写的一篇请示

三、演绎推理。每题给出一段陈述，这段陈述被假设是正确的，不容置疑的。要求你根据这段陈述，选择一个答案。注意，正确的答案应与所给的陈述相符合，不需要任何附加说明即可以从陈述中直接推出。

请开始答题：

71. 尽管对于备办酒宴机构的卫生检查程序要比普通餐厅的检查程序严格得多，在报到市卫生主管部门的食品中毒案件中，还是来自酒宴服务的比来自普通餐厅的多。

以下哪个选项为真，最能够解释题干中表现上的矛盾现象?()

A. 人们不大可能在吃一顿饭和随之而来的疾病之间建立关联，除非该疾病影响到一个相互联系的群体

B. 备办酒宴的机构清楚地知道他们将为多少人服务，因此比普通餐厅更不可能有剩余食物，后者是食品中毒的一个主要来源

C. 许多餐厅在提供备办酒宴服务的同时，也提供个人餐饮服务

D. 上报的在酒宴中发生食品中毒案件的数目，与各办酒宴者和顾客常去场所的服务无关

72. 据医学资料记载，全球癌症的发病率 20 世纪下半叶比上半叶增长了近 10 倍，成为威胁人类生命的第一杀手。这说明，20 世纪下半叶以高科技为标志的经济迅猛发展所造成的全球性生态失衡是诱发癌症的重要原因。



以下各项，如果是真的，都能削弱上论述，除了()。

A. 人类的平均寿命，20 世纪初约为 30 岁，20 世纪中叶约为 40 岁，目前约为 65 岁，癌症高发病的发达国家的人均寿命普遍超过 70 岁

B. 20 世纪上半叶，人类经历了两次世界大战，大量的青壮年人口死于战争；而 20 世纪下半叶，世界基本处于和平发展时期

C. 高科技极大地提高了医疗诊断的准确率和这种准确的医疗诊断在世界范围的覆盖率

D. 高科技极大地提高了人类预防和诊治的癌症能力，有效地延长着癌症病人的生命时间

73. 许多影视放映场所为了增加其票房收入，把一些并不包含有关限制内容的影视片也标以“少儿不宜”，他们这样做是因为确信以下哪项断定？()

I. 成年观众在数量上要大大超过少儿观众

II. “少儿不宜”的影视片对成年人无害

III. 成年人普遍对标明“少儿不宜”的影视片感兴趣

A. 仅 I      B. 仅 II      C. 仅 I、III      D. 仅 II、III

74. 有些具有优良效果的护肤化妆品是诺亚公司生产的。所有诺亚公司生产的护肤化妆品都价格昂贵，而价格昂贵的护肤化妆品无一例外地受到女士们的信任。

以下各项都能从题干的断定中推出，除了()。

A. 受到女士们信任的护肤化妆品中，有些实际效果并不优良

B. 有些效果优良的化妆品受到女士们的信任

C. 所有诺亚公司生产的护肤化妆品都受到女士们的信任

D. 有些价格昂贵的护肤化妆品是效果优良的

75. 通常的高山反应是由高海拔地区空气中缺氧造成的，当缺氧条件改变时，症状可以很快消失。急性脑血管梗阻也具有脑缺氧的病症，如不及时恰当处理会危及生命。由于急性脑血管梗阻的症状和普通高山反应相似，因此，在高海拔地区，急性脑血管梗阻这种病特别危险。

以下哪项最可能是上述论证所假设的?()

A. 普通高山反应和急性脑血管梗阻的医疗处理是不同的

B. 高海拔地区的缺氧可能会影响医生的工作，降低其论断的准确性

C. 急性脑血管梗阻如及时恰当处理不会危及生命

D. 高海拔地区缺少抢救和医治急性脑血管梗阻的条件

76. 某单位要在 100 个报名者中挑选 20 名献血者进行体检。最不能被挑选上的是 1993 年以来已经献过血，或是 1995 年以来在献血体检中不合格的人。

如果上述断定是真的，则以下哪项所言及的报名者最有可能被选上?()

- A. 小张 1995 年献过血，他的血型是 O 型，医用价值最高
- B. 小王是区献血标兵，近年来每年献血，这次她坚决要求献血
- C. 小刘 1996 年报名献血，因“澳抗”阳性体检不合格，这次出具了“澳抗”转阴的证明，并坚决要求献血
- D. 大陈最近一次献血时间是在 1992 年，他因公伤截肢，血管中流动着义务献血者的血。他说，我比任何人都理由献血

77. 获得奥斯卡大奖的影片《泰坦尼克号》在滨州上映，滨州独家经营权给了滨州电影发行放映公司，公司各部门可忙坏了，宣传部投入了史无前例的 170 万元进行各种形式的宣传，业务部组织了 8 家大影院超前放映和加长档期，财务部具体参与各影院的收入分账，最终几乎全市的老百姓都去看了这部片子，公司赚了 750 万元。而公司在总结此项工作时却批评了宣传部此次工作中的失误。

以下哪项如果为真，最能合理地解释上述情况?()

- A. 公司宣传部没有事先跟其他部门沟通，宣传中缺少针对性
- B. 由于忽视奥斯卡获奖片自身具有免费宣传效应，公司宣传部的投入事实上过大
- C. 公司宣传部的投入力度不足，《泰坦尼克号》在滨州上映时，该公司宣传投入了 300 万元
- D. 公司宣传部的宣传在创意和形式上没有新的突破

78. A 国有 40% 的家庭的男主人认为，只要家里有学龄前儿童，妻子就不应该出外工作，而应留在家中照顾小孩。B 国有 80% 的家庭的男主人则不这么认为，他们认为妻子出外工作体现了男人对女权的尊重，据调查，A 国每两个家庭中就有一个家中有学龄前儿童；B 国每三个家庭中就有一个家中有学龄前儿童。

如果上述断定为真，以下哪项必定为真?()

- A. A 国的儿童人数多于 B 国
- B. 题干中缺乏足够的条件，对 A 国和 B 国的丈夫们对自己有学龄前儿童的妻子出外工作的支持率进行确定性的比较
- C. A 国的丈夫们对自己有学龄前儿童的妻子出外工作的支持率低于 B 国的丈夫们
- D. B 国的丈夫们对自己有学龄前儿童的妻子出外工作的支持率低于 A 国的丈夫们

79. 爱尔兰有大片泥煤蕴藏量丰富的湿地。环境保护主义者一直反对在湿地区域采煤。他们的理由是开采泥煤会破坏爱尔兰湿地的生态平衡，其直接严重后果是会污染水源。然而，这一理由是站不住脚的。据近 50 年的相关统计，从未发现过因采煤而污染水源的报告。

以下哪项，如果为真，最能加强题干的论证?()

- A. 在爱尔兰的湿地采煤已有 200 年的历史，其间从未因此造成水源污染
- B. 在爱尔兰，采煤湿地的生态环境和未采煤湿地没有实质性的不同

C. 在爱尔兰，采煤湿地的生态环境和未开采前没有实质性的不同

D. 爱尔兰具备足够的科技水平和财政支持来治理污染，保护生态

80. 以下是一则广告：就痠痛而言，四分之三的酒店都会给病人使用“诺维克斯”镇痛剂。因此，你想最有效地治痠痛，请选择“诺维克斯”。

以下哪项如果为真，最强地削弱该广告的论点？()

A. 一部分名牌的镇痛剂除了减少痠痛外，还可减少其他的疼痛

B. 许多通常不用“诺维克斯”的酒店，对那些不适应酒店常用药的人，也用“诺维克斯”

C. 许多药物制造商，以他们愿意提供的最低价格，销售这些产品给酒店，从而增加他们产品的销售额

D. 和其他名牌的镇痛剂不一样，没有医生的处方，也可以在药店里买到“诺维克斯”

#### 第四部分常识判断

(共 30 小题，参考时限 15 分钟)

根据题目要求，在四个选项中选出一个正确答案。

请开始答题：

81. 下列情况不属于行政处罚的是()。

A、罚金      B、拘留      C、通报批评      D、警告

82. 世界地球日是每年的()。

A、4·22      B、12·1      C、3·12      D、5·1

83. 马克思指出，扩大再生产过程中的追加资本，“它一开始就没有一个价值原子不是由别人的无酬劳动产生的”。这句话表明()。

A. 追加资本来源于资本家的劳动积累      B. 资本积累是扩大再生产的重要源泉

C. 资本积累是资本家节欲的结果      D. 剩余价值是资本积累的唯一源泉

84. 中国的佛教由印度传来，并在中国扎下根，兴盛了一千多年。可见()。

A. 中国的佛教与印度是完全相同的

B. 印度的佛教一定比中国的兴盛

C. 中印的佛教有相似之处，但中国佛教已经融入了中国文化社会，与印度佛教不同了

D. 中印是一家人

85. 有一篇文章这样写道：“在元代，有这样脍炙人口的名句：‘落霞与孤鹜齐飞，秋水共长天一色。’”有个人看了这段话立即说“错了”，他的根据是()。

- A. 这两句诗是唐代而不是元代的                      B、这个人知识匮乏，不明所以
- C、这个人没听过这两句诗，所以并不能算名句                      D、诗的顺序不对

86. 地球自西向东自转，故从南极大陆中心向边缘地带吹的风()。

- A、自南向北运行      B、自北向南运行                      C、成顺时针方向      D、成逆时针方向

87. 发现行星运行规律的天文学家是()。

- A、哥白尼      B、伽利略                      C、开普勒      D、张衡

88. 关于地中海气候的叙述正确的是()。

- A. 受副极地低气压带与西风带交替影响      B. 夏季高温多雨，冬季温和少雨
- C. 分布在大陆西岸南北纬 30-40 度之间      D、典型植被为亚热带常绿阔叶林

89. 法律关系是由()保证的社会关系。

- A、国家法律      B、国家权力                      C、国家强制力      D、国家司法机关

90. 对农村社区特征表述正确的是()。

- A. 人际关系以血缘为基础
- B. 人口的同质性强，社区整合程度高
- C. 与城市社区相比，人们的社区意识较差
- D. 以传统道德和礼俗为社会控制的手段

91. 有限责任公司的股东对公司负有限责任，是指()。

- A. 股东以购买的股票为限 B. 股东以出资额的收益为限
- C. 股东以其财产额为限 D. 股东以出资额为限

92. 下列哪些行为属于侵犯著作权的行为?()

- A. 某电视台为了报道油画展览的盛况，在电视新闻中播放了展览的油画
- B. 某教授在世纪论坛上的演讲词被电台全文报道
- C. 法院为了查证将张某发表的文章复制了 3 篇
- D. 出版社将蒙文发表的作品翻译成汉文在国内出版发行

93. 在我国确认发明专利权的第一审行政案件应当由()。

- A、基层人民法院管辖      B、中级人民法院管辖
- C、高级人民法院管辖      D、最高人民法院管辖

94. 我国民事经济仲裁实行()。

- A、一次裁决终局      B、二次裁决终局      C、三次裁决终局      D、又裁又审终局

95. 构成行政法律关系的双方中，有一方必须是()。

- A、国家立法机关      B、国家行政机关      C、国家检察机关      D、国家审判机关

96. 某省人民政府的规章与国务院某一部门的规章不一致。按照法律规定，下列做法正确的是()。

- A. 由国务院裁决  
B. 由最高人民法院裁决  
C. 由国务院法制办公室裁决  
D. 由全国人民代表大会常务委员会对违法的规章予以撤销

97. 某市某区人民政府决定将区建材工业局管理的国有小砖厂出售。小砖厂的承包人以侵犯其经营自主权为由提出行政复议申请，本案的行政复议机关应当是下列哪一个?()

- A、市国有资产管理局      B、市经济贸易局      C、市人民政府      D、区人民政府

98. 在我国，10 岁以上的未成年人属于()。

- A、完全民事行为能力人      B、限制民事行为能力人      C、无民事行为能力人      D、民事代理人

99. 国家赔偿的主要方式是()。

- A、赔礼道歉      B、恢复原状      C、支付赔偿金      D、返还财产

100. 有关行政诉讼被告举证期限的说法，正确的是()。

- A. 被告应当在收到起诉状副本之日起 10 日内提供被诉行为的全部证据和依据，否则视为没有证据  
B. 被告若有正当事由可以延期提供，但必须书面告知法院  
C. 被告若有正当事由可以延期提供，但必须经法院准许  
D. 被告即使有正当事由，也必须在收到起诉状后 10 日后提供

101. 甲某因对乙某造成人身伤害，而被县公安局以行政拘留 15 天的处罚。执行不久，乙某向人民法院提起刑事自诉。人民法院经审理，认为甲某的行为已经构成犯罪，判决甲某拘役 2 个月。这时，甲某的行政拘留 15 日已经执行完毕，甲某需要执行的刑期是()。

- A、2 个月      B、2 个半月      C、1 个半月      D、15 天

102. 某省人民政府要实施一项国家重点工程项目，占用某市农民的土地。该省人民政府给予被征用土地的农民各种补偿费用与安置费，并对多余的劳动力进行了安置。该省人民政府的此项行为属于下列哪项?()

- A、行政征用      B、行政征收      C、行政征购      D、行政没收

103. 下列选项中，人民法院可以对具体行政行为作出变更判决的是（）。

- A、主要证据不足      B、超越职权      C、违反法定程序      D、行政处罚显失公正

104. 行政机关对于重大违法行为给予较重的行政处罚时，在证据可能灭失的情况下，下列选项哪个是正确的？（）。

- A. 经行政机关负责人批准，可以先行封存证据  
B. 经行政机关集体讨论决定，可以先行扣押证据  
C. 经行政机关负责人批准，可以先行登记保存证据  
D. 犯罪行为所侵害的对象

105. 我国民族区域自治法的制定机关是（）。

- A、全国人民代表大会      B、全国人大常委会      C、国务院      D、国家民委

106. 目前我国地产市场的土地转让是指（）。

- A、土地所有权的转让      B、土地使用权的转让      C、土地占有权的转让      D、土地收益权的转让

107. 行政领导者决策能力的强弱与决策艺术高低主要体现在（）上。

- A、宏观决策      B、风险型决策      C、非程序性决策      D、理想决策

108. 下列各项中诉讼时效为两年的是（）。

- A. 专利权被侵犯的  
B. 出售质量不合格的商品未声明的  
C. 寄存财物被丢失或者损毁的  
D. 身体受到伤害要求赔偿的

109. 行政管理的首要环节和各项运行职能的基础是（）。

- A、行政权力      B、行政法规      C、行政领导      D、行政决策

110. 澄清的石灰水刷到墙壁上会使墙壁变白，这是由于刷到墙壁上的石灰水（）。

- A. 受到光线照射  
B. 从空气中吸收了能量  
C. 与空气中的某种气体产了化学反应  
D. 与墙壁上的某种物质发生了反映

第四部分结束，请继续做第五部分！

第五部分 资料分析

(共 15 题，参考时限 12 分钟)

针对下列图、表或文字回答问题。你应根据资料提供的信息进行分析、比较、计算、处理。

请开始答题：

一、根据下表回答 111—115 题。

对某省 1129 个农业生产经营单位的调查结果显示，2004 年全省农产品生产价格总指数为 97.4（以上年同期为 100）。从几大行业类别来看，种植业产品生产价格指数下降 1.8%，林业产品上升 4.0%，畜产品下降 4.8%，水产品上升 0.5%。四个季度的农产品生产价格总指数与去年同期相比分别下降 1.1%、3.5%、3.9%和 2.0%。具体情况见下表：

全年及分季农产品价格指数（以上年同期为 100）					
D	一季度	二季度	三季度	四季度	全年平均
总指数	98.9	96.5	96.1	98.0	97.4
种植业产品	100.5	97.1	96.4	98.9	98.2
粮食	100.8	93.2	91.4	95.0	95.1
棉花			110.7	136.4	123.5
油料	103.2	103.2	103.8	107.0	104.3
林业产品	103.5	104.6	105.0	103.7	104.0
牧业（畜产品）	97.4	93.2	95.0	95.2	95.2
肉畜（毛重）	96.7	92.6	95.6	99.4	95.7
生猪	96.0	91.8	95.8	99.4	95.7
家禽（毛重）	97.8	91.6	94.7	93.2	94.3
活鸡	97.8	90.3	94.7	93.1	94.0
渔业产品（水产品）	102.0	101.2	98.6	100.1	100.5

111. 2004 年第 3 季度农产品生产价格总指数与去年同期相比下降了百分之几？
- A. 2.6%      B. 1.8%      C. 3.9%      D. 3.5%
112. 农产品生产价格持续升高的是（    ）。
- A. 油料    B. 林业产品    C. 水产品    D. 棉花
113. 如果 2003 年第 2 季度油料的价格是 1.81 元/公斤，那么 2004 年第 2 季度的油料价格是（    ）。
- A. 1.81 元/公斤    B. 1.83 元/公斤    C. 1.85 元/公斤    D. 1.87 元/公斤
114. 如果 2003 年第 4 季度粮食的价格是 1.6 元/公斤，那么，2004 年第 4 季度的粮食价格是（    ）。
- A. 1.58 元/公斤    B. 1.56 元/公斤      C. 1.52 元/公斤    D. 1.50 元/公斤
- 115 下列农产品中价格指数波动幅度最大的是（    ）

A. 活鸡      B. 生猪    C. 粮食      D. 林业产品

二、根据以下资料，回答 116-120 题。

2002 年某省城镇居民人均消费性支出为 8988 元，比 1995 年增加 2735 元，扣除物价因素，实际增长 35.8%，年均增长 5.1%；农村居民人均生活消费支出 2002 年为 2825 元，比 1995 年增加 570 元，扣除物价因素，实际增长 23.2%，年均增长 3.0%。城镇居民人均用于食品支出由 1995 年的 3003 元提高到 2002 年的 3460 元，增加 457 元。2002 年农民人均食品消费为 1345 元，比 1995 年增长 9.5%。城镇居民人均衣着消费由 1995 年的 422 元，增加到 2002 年的 491 元，农村居民人均用于衣着消费为 108 元，比 1995 年的 91 元增长 18.7%。2002 年城镇居民人均居住消费 986 元，比 1995 年的 661 元增长的 49%，人均住房使用面积为 24.5 平方米，比 1995 年增长 16.6%。农村居民 2002 年人均用于居住消费 441 元，比 1995 年增长 27.7%；人均居住面积 24.1 平方米，增长 15.5%。城镇居民用于交通和通讯支出比重由 1995 年的 6.3% 上升到 2002 年的 14.2%，人均支出额由 1995 年的 396 元增加到 2002 年的 1273 元，增长 2.2 倍，平均每年以 18.2% 的速度递增。2002 年农村居民人均交通通讯消费 251 元，比 1995 年的 82 元增长 2.1 倍。城镇居民用于娱乐文教人均支出额由 684 元增加到 1386 元，增长 1 倍多，年均递增 10.6%。在医疗保健支出方面，城镇居民人均用于医疗保健的支出额不断增加，由 1995 年的 205 元增加到 2002 年的 501 元，增长 1.4 倍，年均增幅达 13.5%。农村居民人均用于文化教育娱乐的总支出 1995 年为 245 元，2002 年为 302 元，增长 23.4%。农村居民人均医疗保健消费支出 1995 年为 68 元，2002 年为 117 元，增长 72%，年均增长 8.1%。

116. 下列消费额占总消费支出的比重，哪一消费领域农村高于城市？()

A、衣着消费      B、交通通讯支出      C、医疗保健支出      D、住房消费

117. 由以上资料可以得到，从 1995 年到 2002 年，城镇居民用于衣着消费的比重()。

A、增加了 5.2 个百分点      B、增加了 2.5 个百分点

C、减少了 1.3 个百分点      D、减少了 1.0 个百分点

118. 由以上资料可以看出，从 1995 年到 2002 年，虽然城镇居民消费水平有明显改善，但城乡差别却进一步扩大，这可以由以下哪项说明？()

- A. 2002 年，城镇居民人均用于食品支出为 3460 元，而农民只有 1345 元
- B. 从 1995 年到 2002 年，城镇居民居住消费额增长速度比农村居民要快
- C. 从 1995 年到 2002 年，城镇居民用于交通和通讯支出比重的上升速度比农村居民要快
- D. 从 1995 年到 2002 年，城镇居民食品消费比重下降速度比农村居民要快

119. 根据原文，下列哪一消费领域的差距最可能是导致城乡居民的恩格尔系数(食品消费占总消费支出的比重)进一步扩大的原因？()

- A. 衣着消费      B. 居住消费
- C. 交通和通讯支出      D. 娱乐文教支出及医疗保健支出

120. 根据原文，下列哪一项不是导致城乡居民消费差距进一步拉大的原因？()

- A. 农村居民比城镇居民有更浓重的传统节俭消费观念和习惯，比城镇居民的消费更加谨慎



- B. 农村居民消费环境及消费条件较差
- C. 大量农民进城务工
- D. 近几年农产品价格持续下降，使农民收入增长缓慢

三、根据以下资料，回答 121-125 题。

虽然受到国家对一些投资过热的重点行业实行严格控制的影响，但由于国家对西部农业、能源、交通、水利以及教育、卫生等社会事业的支持与投入继续加大，同时西部各省区市也加大了地方投资力度，西部地区 2004 年的固定资产投资继续保持较高的增长速度。全年完成固定资产投资(不含农村和城乡个体投资，下同)12129.36 亿元，比上年增长 28.8%，高于全国增速 3 个百分点。

在西部各省区市中，固定资产投资总量最多的是四川省，共完成投资 2377.76 亿元，占西部投资总量的 19.6%；其次是内蒙古，共完成投资 1715.05 亿元，占西部的 14.1%；重庆完成投资 1456.50 亿元，占西部投资总量的 12.0%，排在第三位。

除新疆、贵州和甘肃外，西部其他地区 2004 年固定资产投资增长速度都在 20%以上，内蒙古、广西的固定资产投资增幅超过 30%，分别比上年增长 53.0%和 31.3%，分列西部投资增幅的前两位；重庆和云南的固定资产投资增长速度均为 29.0%，并列居于西部第三位。

121. 西部地区 2004 年固定资产投资额为()。

- A、12129.39 亿元
- B、2377.76 亿元
- C、1456.50 亿元
- D、12129.36 亿元

122. 西部各省区市中，固定资产投资总量位居第二位的是()。

- A、四川
- B、重庆
- C、内蒙古
- D、广西

123. 西部地区 2003 年固定资产投资额约为()。

- A、9417.2 亿元
- B、3493.3 亿元
- C、9411.8 亿元
- D、3493.3

124. 内蒙古自治区 2003 年固定资产投资额约为()。

- A、1120.95 亿元
- B、1120.95
- C、1487.62 亿元
- D、1487.62

125. 下列表述正确的是()。

- A. 重庆和云南 2004 年固定资产投资总量及增长速度并列居于西部第三位
- B. 甘肃省 2004 年社会固定资产投资增幅位列西部地区倒数第一位
- C. 2003 年西部地区某些行业出现投资过热现象
- D. 四川省 2004 年社会固定资产投资总额及增幅均居西部地区第一位

全部测验到此结束！