

## 2011年河南省招警考试行政职业能力测验

### 第一部分 言语理解与表达

一、选词填空：（共 10 题，要求你从所给的四个选项中选出一个词，使句子的意思表达的最准确）

体例：只要方向正确，任何一点积极性都应当得到\_\_\_\_\_和支持。

- A. 尊重                      B. 肯定                      C. 表彰                      D. 重视

解答：用“肯定”填空使句子的意思表达的最准确，故应选 B。

请开始答题：

- 面对雪灾，用工地区的政府和企业要真心\_\_\_\_\_农民工兄弟留下来就地过年。  
A. 劝勉                      B. 劝阻                      C. 挽留                      D. 挽回
- 阿拉伯国家呼吁国际社会采取措施，\_\_\_\_\_以色列对黎巴嫩的军事行动。  
A. 阻挠                      B. 阻止                      C. 阻滞                      D. 制止
- 真正的朋友在你成功时，会真心的祝贺你；在你陷入困境时，会倾力的\_\_\_\_\_你。  
A. 帮助                      B. 帮忙                      C. 帮衬                      D. 支持
- 辅导员老师因公出差，临行前，把年级的事向代理辅导员作了\_\_\_\_\_。  
A. 交代                      B. 交待                      C. 交接                      D. 交托
- 年轻父母们不要对自己的孩子一味\_\_\_\_\_，这样对孩子的健康成长不利。  
A. 宠信                      B. 宠爱                      C. 宠幸                      D. 溺爱
- 你这一套做事方法，我实在不敢\_\_\_\_\_，它对我部我没有任何用处，我对你太熟悉了。  
A. 奉承                      B. 阿谀                      C. 恭维                      D. 颂扬
- 如今，各类大众参与性选秀节目的热播，\_\_\_\_\_出目前中国电视节目娱乐化的倾向，这种倾向也迎合了社会的一种\_\_\_\_\_。  
A. 反应      需求                      B. 反映      需求  
C. 反应      需要                      D. 反映      需要
- 如果仅仅解除企业办社会 and \_\_\_\_\_人员这两项负担，每年就增加\_\_\_\_\_8000 万元。  
A. 富裕      利益                      B. 富裕      盈利  
C. 富余      利益                      D. 富余      盈利
- 有空间的边，例如边疆，这些地方是中外文化接触的\_\_\_\_\_，也是出并传播新文化的\_\_\_\_\_，有特殊气息。  
A. 前哨      枢纽                      B. 前沿      中心  
C. 前方      枢纽                      D. 边沿      中心
- “人造美女”是最近非常\_\_\_\_\_的一个词。爱美之心人皆有之，丑小鸭变成白天鹅的梦想，通过整形美容手术就可以在短时间内成为现实，对每一为爱美女性来说，都是一中\_\_\_\_\_。  
A. 慧眼      诱惑                      B. 抢眼      诱惑  
C. 显眼      吸引                      D. 流行      吸引

二、语句表达：(共 10 题，要求你从语气、词序、语法结构等方面对有关语句作出判断)

请开始答题：

- 下列各组语句中句意明确、没有语病的一句是：  
A. 最近我这位朋友去了一趟南方回来，结果他的思想依然如故。  
B. 有关负责人强调，必须把制止有偿新闻、买卖书号等当作一项长期任务长抓不懈  
C. 今日的首都令每个到过这里的人感到惊叹和赞赏，使每个首都人感到骄傲和自豪。  
D. 由于生产厂家众多，质量、服务不能与国际市场接轨的现象，使得中国的小家电市场没有成  
    大名牌优势。
- 下面句子中，没有错误的一句是：  
A. 这两起走私案件，不仅数额巨大，而且长期作案竟一直没有被发现。  
B. 林莉同学的学习成绩在全校是很突出的，在我们班上也是拔尖的。

- C. 根据原告阐述的事实，本庭认为，被告应负法律责任。  
D. 由于这次事故，北京西路宛平路地段的交通为此封闭了近三小时。
13. 下面句子中，没有错误一句是：  
A. 群众的眼睛是雪亮。  
B. 教务处决定把一些不及格的学生，先补课，再补考。  
C. 跟姚明站在一起，范甘迪的身材显得更加矮墩墩。  
D. 这个舞剧中的舞蹈动作的设计、情节的安排都是在张导演的帮助下进行的。
14. 下面句子中，没有错误的一句是：  
A. 邓小平主席的事迹和形象，给访问者留下了深刻的印象  
B. 至于电视剧那更是丰富多彩，即出现了不少优秀的现代题材作品，更改编了不少表现历史题材的旧剧目。  
C. 我们应该刻苦学习，否则不学习，就很难在未来职场占据有利位置。  
D. 尽管天气多么冷，他还是坚持每天冬泳。
15. 下面句子中，没有错误的一句是：  
A. 姐姐不是一个从长计议的人，常常在中旬就花光了一个月的生活费。  
B. 半岛电视台一直同西方常对台戏  
C. 今年的国庆彩车非常漂亮，人们争相前往，趋之若鹜。  
D. 尽管我们想尽了办法，校园网络还是屡试不爽，不得不推迟开通的时间。
16. 下面句子中，有错误的一句是：  
A. 该地区依法取缔了十几家污染严重的造纸企业，一时间，洛阳纸贵，用纸大户纷纷抢购。  
B. 李梦龙与三十年前的同学李训作西子湖畔不期而遇，他们高兴得热泪盈眶。  
C. 在经济大潮的冲击下，中国一些民间艺术面临后继乏人的局面，正可谓不绝如缕。  
D. 这两支足球队劲旅激战了九十分钟，不分胜负，最终握手言和。
17. 下面句子中，有错误的一句是：  
A. 他是个文学爱好者，阅读了大量的小说、诗歌和散文。  
B. 青年学生是长身体、长知识，形成人生观、世界观的关键时期，因此我们要对他们严格要求。  
C. 有谁能否认地球是绕这太阳转的呢  
D. 科学家最新发现，吃素可能对大脑不利。
18. 下面句子中，表达有歧义的一句是：  
A. 红色代表希望。 B. 要关爱每一个孩子。  
C. 他在监狱 D. 把中国人的足迹留在太空。
19. 下面句子中，表达没有歧义的一句是：  
A. 两代省长，性格不同。 B. 我倒了一杯茶。  
C. 这人不会说话 D. 她没有钱
20. 下面句子中，表达有歧义的一句是：  
A. 她的花棉袄罩着蓝上衣。 B. 她很喜欢流行歌曲  
C. 小李的语文比数学考的好。 D. 她坐在路边，显得很伤心。

**三、阅读理解：（共 10 题。阅读短文，短文后面有若干不完整的陈述，要求你从四个选项中选出一项来完成每一陈述。注意：共选择的答案有时可能是对短文内容的一个复述，有时则满足了陈述中其它方面的要求，你的选择应与所提要求最相符合）**

**请开始答题：**

21. 今日中国正在走向开放，相较过去几十年中国社会亦有较大发展，然而不可否认，公众难以从公开发行的报刊杂志上充分了解政治运行及社会心理之真实状况或多或少依然存在，恐怕这也是现在一些领导人强调自己喜欢通过网络了解民意的重要原因。如果媒体不能成为承载平等对话的平台，不能在相对宽松的环境下换一种方式讲政治，其结果必然是，不仅言说者难有轻松言说的机会，而且所有受众，从市井平民到政治领袖，都可能会失去从中听到真话的机会。

这段文字意在表明：

- A. 中国媒体亟需改变  
B. 媒体的作用  
C. 中国社会有较大发展，但亦有不足  
D. 网络对了解民意的重要性
22. 不顺的遭遇只不过是当代人生存的正常际遇，包括中学生在内都很难避免。如生活当中：生一场病，丢失了一样珍贵的东西，以至失恋或失去生命中的重要亲人等等，都是一种风险性的人生履历。只是有的遭遇让我们稍加坚强便可以对付过去，而有的则会深深触痛我们的内心，甚至像强烈地震、台风袭击、特大水灾等高强度遭遇猛然之间还可能撕断、甚至是毁灭性地摧毁我们正常生活的连续链条。

对这对文字概括最为恰当的是：

- A. 不顺的遭遇是一种风险性的人生履历  
B. 不顺的遭遇在生活中不可避免  
C. 不顺的遭遇对立面个人身心影响极大  
D. 不顺的遭遇会触痛我们的内心
23. 事实证明，邓小平先生提出的“一国两制”恩科学构想，不仅是解决历史遗留下来的香港问题的最佳方案，也是香港回归祖国后保持长期繁荣稳定的最佳制度安排。在“一国两制”下，香港不仅继续保持原有的优势，而且从祖国内地获得了更强有力的支持，形成了与祖国内地优势互补、共同发展的良好局面。实行“一国两制”对香港有利，对国家有利，对各国投资者都有利，对区域经济发展有利

这段话主要支持了这样一个观点，即：

- A. 我国要继续实行“一国两制”政策  
B. “一国两制”是香港发展的动力  
C. “一国两制”的科学性得到验证  
D. 国人都要认同“一国两制”的作用
24. 自由主义最主张的就是个人的自由，但这是法制之下的自由，因此，为了让每个人享受同等的自由而对个人的自由通过以一个人的自由为价值内核的法律来加以必要的限制。自由主义虽然痛恨强制，但并不要求废除一切强制，而只是要求把强制限制在可能的最小范围之内，并受到法律的严格约束。

这段话主要支持了这样一个观点，即：

- A. 自由和法治是对立的  
B. 自由和法治可以共存  
C. 自由主要受道德约束  
D. 法律约束下没有自由
25. 鲁迅先生说：“绝望之于虚妄，正与希望相同。”在颓废中深思熟虑，暗暗地寻找最后的方向，这与在绝望中寻找希望是一致的。我们需要颓废，尤其这个时代，更是缺少生命力，缺少作为一个人本该有的情感、声明的表达方式。而颓废正式表达自我，宣泄情感，释放生命，与生之青春、青春之生融合的最好方式。

这段话主要支持了这样一个观点，即：

- A. 颓废是宣泄情感的方式，有助于人们寻找新的希望  
B. 人在颓废的时候也许会灵光一现，希望会随之而来  
C. 我们所在的年代缺少生命力，很多人变得颓废不前  
D. 现代人为了所谓的坚强，放弃了很多情感宣泄方式
26. 现代社会的感情有一种明显的浮躁化倾向，深层感情交流趋于淡化。由于工作节奏加快，人们凡事都想寻找捷径。手机短信群发、贺卡打印、电子邮件模板，使得大量实惠“廉价”的祝福成为可能，但这种“廉价”的祝福也会带来真情危机。

这段话主要支持了这样一个观点，即：

- A. 现代社会科技给人们便利之外，也是的人们交流淡化，暗藏感情危机  
B. “电子交流”的盛行是信息网络社会的必然产物，没有必要大惊小怪  
C. “廉价”祝福尽管符合生活节奏，但我们不应贪一时便捷而任其泛滥  
D. 短信祝福、贺卡打印、邮件模板等将取代传统交流方式成为社会主流
27. 在非典肆虐的日子里，正式科学帮助人们消除了对未知疫病的恐慌不安，维护了社会的稳定，并给予人们战胜非典的信心和希望。疫情发生后，科学家用三个月就完成了非典病毒的基因测序，

而从发现艾滋病到完成基因测序用了三年；用体温表测一次体温要用五分钟，而紧急研制的热像仪、热敏仪只需一到三秒钟；多种快速诊断非典的测试方法也很快研制成功，并投入临床应用。非典研究的快速发展，向人类展示了当今科学的发展水平，给人类以信心和希望。

- A. 消除了人们对未知物的不安和恐惧      B. 提高工作效率，加速社会的进步  
C. 成为社会稳定的动力和维系力量      D. 成为人们的信心所在，希望所托
28. 现代自然科学，不是单单研究一个个事物，一个个现象，而是研究事物、现象的变化发展过程，研究事物相互之间的关系。这就使自然科学发展成为严密的综合起来的体系。这是现代自然科学的重要特点。

这段文字的主旨是：

- A. 自然科学发展成为严密的综合起来的体系  
B. 严密的综合起来的体系是现代自然科学的重要特点  
C. 现在自然科学，研究一个个事物，一个个现象  
D. 现代自然科学的重要特点是研究事物、现象的变化与关系
29. “农民负担”是一个中性词，它是指农民作为独立的经济主体，在自身进行消费和投资之外，向国家、集体和社会无偿支付和承担的一切费用、事物和劳务的总和。农民负担过重不仅是一个经济问题。
- A. 农民负担不是问题      B. “农民负担”并不仅仅是一个中性词  
C. 农民负担是否过重是一个经济问题      D. 农民负担过重才是真正的问题
30. 从2006年12月开始，互联网上出现了一种“熊猫烧香”的病毒。短短两个月内，该病毒感染的个人用户多达几百万，受害企业用户达上千家，直接和简介损失无法估量。那只卡通“熊猫”在打“烧”了网络一通后，又变种为“金猪报喜”，危害指数再度升级。

最适合作本段文字标题的是：

- A. 互联网惊现升级版“熊猫烧香”      B. “金猪报喜”报忧并非喜  
C. “熊猫烧香”升级，用户损失惨重      D. 网络病毒流行，造成极大危害

## 第二部分 数量关系

一、数字推理：（共10题。给你一个数列，但其中缺少一项，要求你仔细观察数列的排列规律，然后从四个供选择的选项中选择你认为最合理的一项，来填补空缺项，使之符合原数列的排列规律）

请开始答题：

31.  $\frac{4}{3}$ , 1, 3, 36, ( )  
A. 126      B. 192      C. 1028      D. 1728
32. -5, -7, -8, -6, 1, 9, 20, ( )  
A. 36      B. 38      C. 42      D. 56
33. 7, 7, 14, 42, 210, ( )  
A. 1200      B. 1680      C. 1940      D. 2080
34. 16, 36, 64, 81, 100, ( )  
A. 112      B. 136      C. 144      D. 168
35. 3, 2, 4, 1, 9, 7, 6, 8, ( )  
A. 14      B. 28      C. 46      D. 62
36. 1, 11, 13, 23, 25, 35, ( )  
A. 64      B. 56      C. 42      D. 37
37. 2.02, 4.03, 6.05, 8.07, 10.11, ( )  
A. 12.12      B. 12.13      C. 12.14      D. 12.15
38. 1, 2, 2, 3, 5, 15, 2, 6, ( )  
A. 12      B. 16      C. 24      D. 28
39. 172.3, 23.17, 31.72, 17.23, ( )  
A. 23.71      B. 72.13      C. 72.31      D. 723.1

40. 0, 0, 1, 1, 2, 1, 2, 2, 5, 3, 5, ( )

- A. 7 B. 8 C. 9 D. 12

二、数学运算：（共10题。在这部分试题中，每道试题呈现一段表述数字关系的文字，要求你迅速、准确地计算出答案）

例题：84.78元、59.50元、121.61元、12.43元以及66.50元的总和是（ ）。

- A. 343.73 B. 343.83 C. 344.73 D. 344.82

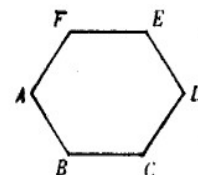
解答：D。实际上你只要把最后一位小数加一下，就会发现和的最后一位数是2，只有D符合要求，就是说你应当动脑筋想出解题的捷径。

请开始答题：

41. 四个小朋友分17个相同的玩具，每人至多分5个，至少分1个，那么有多少种分法？（ ）

- A. 18 B. 19 C. 20 D. 21

42. 在一个正六边形ABCDEF上(如下图)，小明从A点开始跳动，他每次可以随意跳到相邻两个顶点中的一个上，一旦跳到D点就停止跳动。那么他在6次之内(含6次)跳到D点，有多少种不同的跳法？（ ）



- A. 5 B. 6 C. 7 D. 8

43. 有四个数，去掉最大的数，其余三个数的平均数是41；去掉最小的数，其余三个数的平均数是60；最大数与最小数的和是95。那么这四个数的平均数是多少？（ ）

- A. 49.75 B. 51.25 C. 53.75 D. 54.75

44. 在某条街道上，沿街店面的门牌号码是这样的：在街道一侧从1开始，依次用连续的奇数排号；对面的一侧则用连续的偶数。小王家的店面是79号，如果从这条街的另一端开始排号，则他家的店面是163号。那么他家店面的街道这一侧共有多少个店面？（ ）

- A. 122 B. 121 C. 120 D. 119

45. 25与一个三位数相乘个位是0，与这个三位数相加有且只有一次进位，像这样的三位数总共有多少个？（ ）

- A. 48 B. 126 C. 174 D. 180

46. 有一平底锅，每次可以同时烙3张饼，每面烙3分钟，如果要烙4张饼，至少需要几分钟？（ ）

- A. 36 B. 24 C. 12 D. 9

47. 小赵和小王交流暑假中的活动，小赵说：“我参加科技夏令营，外出一个星期，这七天的日期数之和是98，请问，我是几号出去的？”（ ）

- A. 10 B. 11 C. 12 D. 13

48. 林文前年买了8000元的国家建设债券，定期3年。到期他取回本金和利息一共10284.8元。这种建设债券的年利率是多少？（ ）

- A. 9.6% B. 9.52% C. 9.25% D. 8.4%

49. 大盒放有若干支同样的钢笔，小盒放有若干支同样的圆珠笔，两盒笔的总价相等。如果从大盒取出8支钢笔放入小盒，从小盒取出10支圆珠笔放入大盒，必须在大盒中再添两支同样的钢笔，两盒笔的总价才相等。如果从大盒取出10支钢笔放入小盒，从小盒取出8支圆珠笔放入大盒，那么大盒内笔的总价比小盒少44元。每支钢笔多少元？（ ）

- A. 8 B. 6 C. 5 D. 4

50. 把一根钢管锯成5段需要8分钟，如果把同样的钢管锯成20段需要多少分钟？（ ）

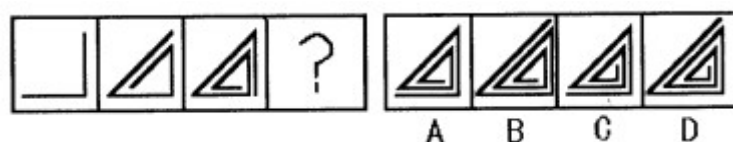
- A. 38 B. 40 C. 48 D. 64

## 第三部分 判断推理

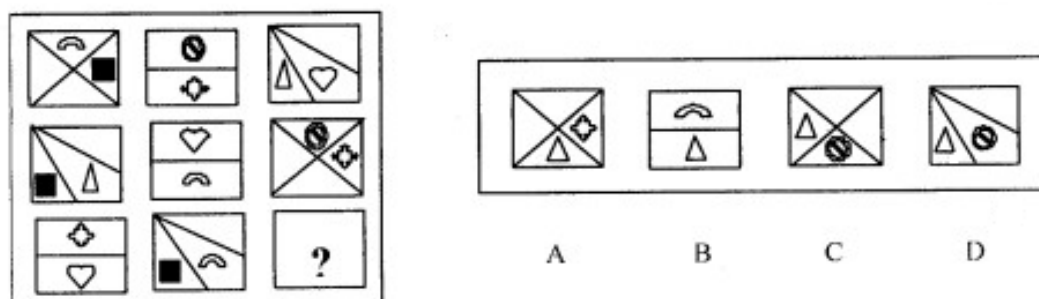
一、图形推理：（共10题，每道题包含两套图形和可供选择的4个图形。这两套图形具有某种相似性，也存在某种差异。要求你从四个选项中选择你认为最适合取代问号的一个。正确的答案应不仅使

两套图形表现出最大的相似性，而且使第二套图形也表现出自己的特征）

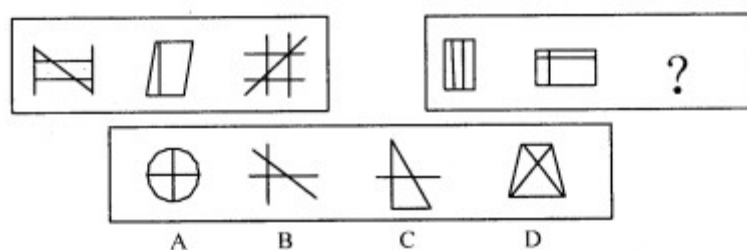
51.



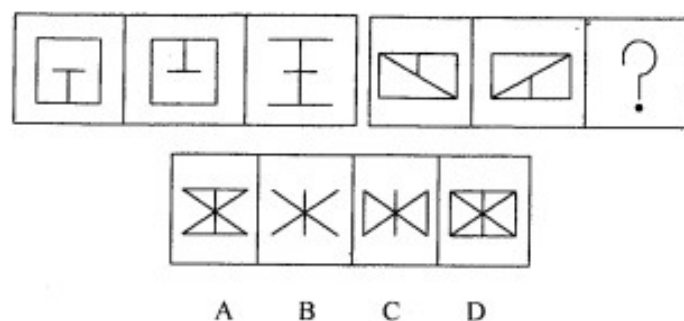
52.



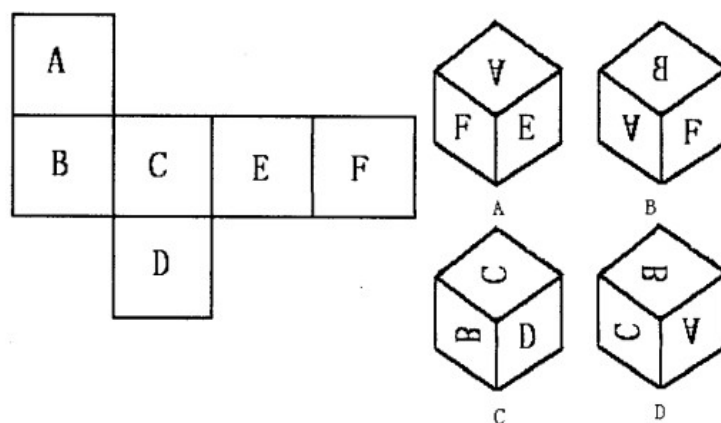
53.



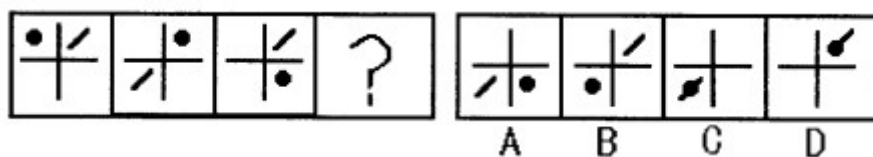
54.



55. 下面哪个立方体是由左边的平面图折叠而成的？（ ）



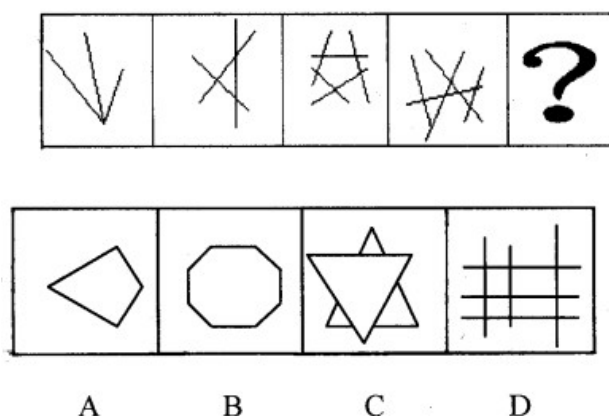
56.



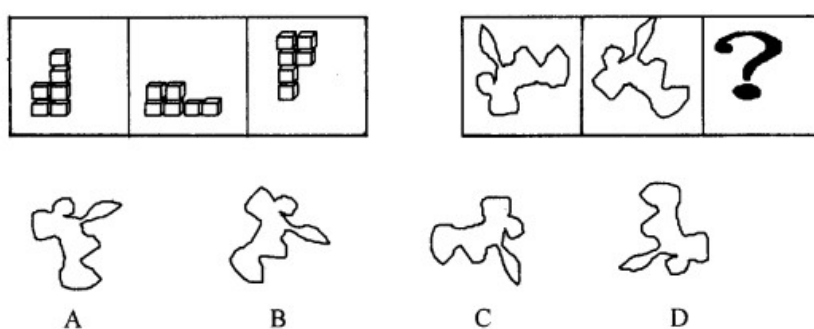
57.



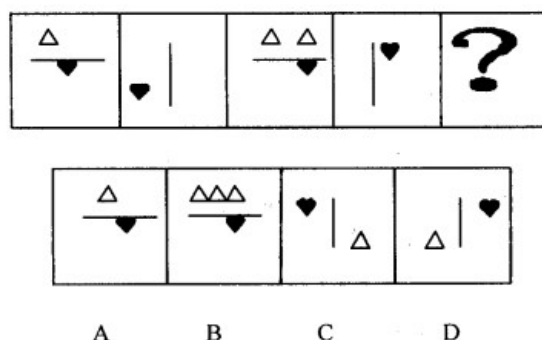
58.



59.



60.



二、逻辑判断：（共 10 题，每题给出一段陈述，这段陈述被假设是正确的，不容置疑的。要求你根

据这段陈述，选出一个答案。注意，正确的答案应与所给的陈述相符合，不需要任何附加说明可以从陈述中直接推出）

请开始答题：

61. 随着中国经济的发展，私人轿车进入家庭，对中国人来说已不再是遥远的梦想。然而，随着私家车的日益增多，将使本来就十分严重的交通紧张状况面临雪上加霜的困境，因此，中国的交通问题最终必然限制私人轿车的发展。

以下哪项如果为真，则最能驳斥上述观点？（ ）

- A. 随着轿车进入家庭，必将带动中国交通的大发展，从来就是先有车，然后才有路
- B. 应先发展交通，再发展轿车工业
- C. 私人轿车的增多不是交通紧张状况加剧的主要原因
- D. 在人口众多、交通不发达的中国，发展私人轿车是愚蠢的

62. 小贾说：“我们班的每一个同学都是体育达标的。”

如果他说的事实上是错误的，则下面哪一项是真的呢？（ ）

- A. 他们班没有一个同学体育达标
- B. 他们班至少有一名同学的体育没有达标
- C. 小贾自己体育是达标的
- D. 他们班至少有一个同学体育达标

63. 世界高水平的电影演员每年接拍片约都不超过 3 个，因此，如果左元每年接拍片约 4 个，他就不是是一名世界高水平的电影演员。

以下哪项的推理方法与上文相同？（ ）

- A. 好的学生每天都不开夜车，如果刘勇每天都不开夜车，那么他就是个好学生
- B. 如果一个企业在淡季的时候还能够保持良好的销售势头，那么在是旺季时就会有有一个丰收。我们公司今年淡季不淡，所以旺季会更旺
- C. 当好的领导离开自己的工作岗位后，他手下的员工能够干得像他在时一样好。所以，如果一个总经理调走后公司变成了一盘散沙，那么这个总经理不是一个好的领导
- D. 移动电话的话费一般比普通电话要贵。如果移动电话和普通电话都在身边时，我们先把了普通电话，那么就是节约的做法

64. 电脑尽管在许多方面具有很强的功能，但有实验表明，在运算加减乘除时，操作电脑还比不上使用算盘来得更快、更准确。

以下哪项如果为真，能够使上述实验的说服力大为削弱？（ ）

- A. 实验中操作电脑与使用算盘的人必定是不同的人
- B. 使用算盘的人可以运用口诀
- C. 使用算盘的时候能够借助于心算，而操作电脑者却不能
- D. 用电脑作运算，不在乎数字的大小，而算盘则不然。实验中运算的只是较小的数字

65. 某大学进行论文比赛，得第一名的只能有一个人。究竟谁得第一名？在对甲、乙、丙、丁、戊、己六个参赛者进行名次预测时，四人作了如下预测：

甲：取得第一名的要么是我，要么是乙。

乙：取得第一名的要么是甲，要么是丙。

丙：如果不是戊取得第一名，就一定是己取得第一名。

丁：第一名决不会是甲。

比赛结束后，发现只有一个人的预测是正确的。请问：谁得第一名？（ ）

- A. 甲
- B. 乙
- C. 丙
- D. 丁

66. 某社会机构公布了下项长期社会调查的结果，调查显示：在婚后的 13 年里，妇女们平均增长了 13 公斤，男人们平均增长了 20 公斤。这一机构得出结论：婚姻能使人变胖。

以下哪项如果为真，最可能对上述结论提出质疑？（ ）

- A. 如果调查时间取 3 年或者 31 年，被调查者的体重会远远小于以上增长幅度
- B. 在婚后的 13 年里，被调查的男人中，有一些体重增长不到 20 公斤
- C. 与被调查者年纪相仿的独身者，妇女们 13 年里平均增长了 16 公斤，男人们平均增长了 25 公斤

斤



- D. 在婚后的 13 年里，被调查的男人中有一些体重明显下降了
67. 不少媒体称，中国男女比例出现严重失衡，到 2020 年，中国处于婚龄的男性人数将比女性多出 3000 万到 4000 万，这意味着平均五个男性中将有一个找不到配偶，将有数千万的男子无妻可娶。
- 最能支持上述论断的一项是：（ ）
- A. 性别选择技术的普及                      B. 人口普查工作十分成功
- C. 晚婚晚育现象普遍                      D. 独身主义者增多
68. 在桌子上有三张扑克牌，排成一行。现在，我们已经知道：
- ①K 右边的两人张牌中至少有一张是 A；
- ②A 左边的两人张牌中也有一张是 A；
- ③方块左边的两张牌中至少有一张是红桃；
- ④红桃右边的两张牌中也有一张是红桃。
- 请问：这三张最左边的是什么牌？（ ）
- A. 红桃 K                      B. 方块 K                      C. 红桃 A                      D. 方块 A
69. 时下炙手可热的所谓“明星”、“歌星”实际上称不上真正的明星，他们没有无愧于受到大众关注、崇拜的艺术成就、文化素养以及个人品格。
- 从上述议论不可推出的结论是：（ ）
- A. 现在有些不合格的“明星”也受到了大众的关注和崇拜
- B. 真正的明星应该具备那些所谓的“明星”尚不具备的艺术成就、文化素养和个人品格
- C. 真正的明星无愧于大众的关注和崇拜
- D. 现在的“明星”、“歌星”大都有愧于大众的关注和崇拜
70. 甲城卖出的报纸比乙城多。因此，甲城的居民比乙城的居民更了解天下大事。
- 以下各句如果为真，都能削弱上述结论，除了：（ ）
- A. 甲城人口比乙城多
- B. 乙城的很多居民在甲城工作，所以就在甲城购买报纸
- C. 甲城居民普遍比乙城居民花更多的时间阅读报纸
- D. 甲城发行权限于本地新闻报道的周报
- 三、类比推理：（共 10 题，先给出一对相关的词，要求你在备选答案中找出一对与之在逻辑关系上最为贴近或相似的词）
- 请开始答题：
71. （ ）之于李唐，好像李闯王之于（ ）
- A. 陈胜：汉代                      B. 战争：宋代                      C. 黄巢：元代                      D. 黄巢：明代
72. （ ）之于印度，好像道教之于（ ）
- A. 佛教：中国                      B. 天竺：罗马                      C. 佛教：埃及                      D. 天竺：波斯
73. （ ）之于虚构，好像事实之于（ ）
- A. 历史：真理                      B. 真实：神话                      C. 捏造：神话                      D. 事实：真理
74. （ ）之于求新，好像承袭之于（ ）
- A. 创造：改革                      B. 求变：肇始                      C. 改进：建设                      D. 因循：创造
75. 邮箱：信件
- A. 杯子：水                      B. 床：枕头                      C. 池塘：青蛙                      D. 信封：邮票
76. 中国：长城
- A. 月球：山脉                      B. 美国：白宫
- C. 巴黎：自由女神                      D. 古埃及：空中花园
77. 牛顿：万有引力
- A. 贝多芬：钢琴                      B. 爱因斯坦：电灯
- C. 伽利略：比萨斜塔                      D. 瓦特：蒸汽机
78. 游泳：更衣

- A. 夜晚：睡觉      B. 手术：麻醉      C. 工作：生活      D. 水果：维生素
79. 勤奋：成功  
A. 骄傲：失败      B. 喜欢：喜爱      C. 失望：绝望      D. 粮食：白酒
80. 笑脸：苹果  
A. 地球：篮球      B. 眼睛：星星      C. 乌鸦：漆黑      D. 杜鹃：映山红

四、定义判断：（共 10 题，每道题先给出一个概念的定义，然后分别列出四种行为，要求你严格依据定义从中选出一个最符合或最不符合该定义的答案。注意：假设这个定义是正确的，不容置疑的）

请开始答题：

81. 自然景观主要是指天然形成的地形、地貌和地物，如平原、山区、草原、森林、大海、沼泽地等景物。这些景物恰恰又是单元生态系统，故又称生态景观。

从这段文字可以推出：（ ）

- A. 自然景观比人文景观重要      B. 自然景观比人文景观优美  
C. 城市和乡镇不属于自然景观      D. 城市和乡镇也属于自然景观
82. 心理学上的接近联想是指在时、空上比较接近的事物，容易在人们的经验中形成联想。根据上述定义，下列属于接近联想的是：（ ）
- A. 看到孩子，想到母亲      B. 忆苦思甜  
C. 看见猫，想到老虎      D. 看见闪电，想到雷鸣
83. 生物链指的是由动物、植物和微生物互相提供食物而形成的相互依存的链条关系。生物链也可以理解为自然界中的食物链，它形成了大自然中“一物降一物”的现象，维系着物种间天然的数量平衡。

根据上述定义，下列不属于生物链的是：（ ）

- A. 水—云—雨—水      B. 植物—食草动物—食肉动物  
C. 植物的叶和果—昆虫—鸟—鹰      D. 微生物—小鱼—大鱼—鲨鱼
84. 商业秘密是指不为公众所知悉，能为权利人带来经济利益，具有实用性并经权利人采取保密措施的技术信息和经营信息。

根据上述定义，下列属于商业秘密的是：（ ）

- A. 商场促销活动的细则      B. 天府饭店招牌菜东坡肉的秘方  
C. 学校后勤集团的管理规定      D. 动画制作的方法
85. 组织公民行为是指一种由员工自主决定的行为，不包括在员工的正式工作要求当中，但它无疑会促进组织的有效性。

根据上述定义，下列属于组织公民行为的是：（ ）

- A. 小王按时上下班      B. 小王经常帮助同事小李照顾其生病的父亲  
C. 小王喜欢集邮，并结交了许多朋友      D. 小王经常被上司要求加班
86. 消费者监督权是指消费者享有对商品和服务以及保护消费者权益工作进行监督的权利。根据上述定义，下列行为不属于消费者监督权范围的是：（ ）
- A. 出租车司机小李因为拒载乘客遭到投诉  
B. 小王发现自己买回的鞋子左右脚的尺码不一致，要求退换遭到拒绝，小王立即向消费者协会投诉

- C. 小赵发现某超市的电梯存在安全隐患，立即报告给相关部门  
D. 一家理发店为了争抢客源，向消费者宣称对手的染发水质量有问题

87. 商标侵权是指他人出于商业目的，未经商标所有人的许可而擅自使用其已注册商标，或把他人注册商标的主要部分用作自己的商标，并使用在相同或类似的商品上，从而产生商标混同，以欺骗消费者。

根据上述定义，下列情况中属于商标侵权的是：（ ）

- A. 一个画家将许多大品牌的商标经过艺术化的处理绘在一幅画上，取名“现代”  
B. 甲企业注册的“何仙姑”商标在市场上打开销路后，被乙企业以分厂的形式生产“何仙姑”

- 为商标的同类商品，且甲企业并不知情
- C. 小杜把自己家的书房取名“杜甫草堂”
- D. 某厂家为了突出自己的产品是进口原料制成，将美国国旗印在包装上
88. 习惯是指在长时期内逐渐养成的，一时不容易改变的行为、倾向。  
根据上述定义，下列情况属于习惯的是：（ ）
- A. 饭前洗手 B. 不停地眨眼
- C. 小狗看见骨头，分泌唾液 D. 少先队员在升旗时佩戴红领巾
89. 储蓄是指个人将节余的或者暂时不用的货币存入银行，或者存入按规定可以存储业务邮局的一种货币信用行为。存入银行、信用社的叫银行储蓄，存入邮局的叫邮政储蓄。  
根据上述定义，下列属于储蓄行为的是：（ ）
- A. 张芳在邮政局存入了 5000 元现金 B. 王海把积蓄从银行取出来投入了股市
- C. 老王把每月的工资都放入自己家的保险柜里 D. 小李用信用卡透支了 1000 元后及时还给了银行
90. 预谋故意是指行为人产生犯罪故意之后，经过一段时间的准备才实施犯罪行为的心理态度。  
根据上述定义，下列属于预谋故意的是：（ ）
- A. 一青年在夜路上看见一个单身女子，遂起歹念，抢了她的皮包后逃走
- B. 老王出门忘记锁门，以至于外人经过时偷走了贵重物品若干
- C. 甲某与邻居乙某长期关系不合，趁乙某不注意时，甲某向他家的水井里投毒，致使乙某一家中毒死亡
- D. 某人开快车，将一路人撞伤致死
91. 我国专门的法律监督机关为：
- A. 人民法院 B. 人民检察院
- C. 监察机关 D. 公安机关
92. 下列属于我国司法主体的是：
- A. 公安局 B. 税务局 C. 人民法院 D. 司法部
93. 在我国，享有宪法解释权的机关是：
- A. 全国人大 B. 国家主席 C. 最高法院 D. 全国人大常委会
94. 法与道德的一致性体现在：
- A. 法与道德都具有约束性 B. 法与道德都反映统治阶级的意志
- C. 法与道德都有明确的权利和义务 D. 法与道德最终都趋于自行消亡
95. 被马克思称为“第一个人权宣言”的是：
- A. 1689 年英国《权利法案》 B. 1789 年法国《人权和公民权宣言》
- C. 1789 年美国《权利法案》 D. 1776 年美国《独立宣言》
96. 我国人民代表大会的代表制为：
- A. 地域代表制 B. 职业代表制
- C. 地域代表制为主与职业代表制相结合 D. 职业代表制为主与地域代表制相结合
97. 根据宪法和法律，下列选项中正确的表述是：
- A. 正在劳动教养的人因为无人身自由而不享有选举权 B. 被取保候审的年满 18 周岁的公民没有选举权
- C. 精神病患者因为无政治行为能力而自始无选举权 D. 被判处有期徒刑的年满 18 周岁的公民没有选举权
98. 可设定人身自由的行政处罚的是：
- A. 规章 B. 法律 C. 行政法规 D. 地方性法规
99. 某省人民政府为建设一项国家重点高速公路，决定占用沿途部分农民的土地，省人民政府对被占用土地的农民给予了各种补偿，并对多余的劳动力进行了安置。省人民政府的此项行为属于：
- A. 行政征用 B. 行政征收
- C. 行政征购 D. 行政没收

100. 下列选项中不属于派出机关的是：  
A. 区公所 B. 海淀区紫竹院街道办事处  
C. 丰台区洋桥居委会 D. 山西省某地区行署
101. 下列自然现象中，主要由地球自转产生的是：  
A. 昼夜交替 B. 四季更替  
C. 昼夜长短的变化 D. 正午太阳高度的变化
102. 行政机关的内设机构或者派出机构在有法律、法规授权的情况下，超越职权范围，以自己的名义做出的具体行政行为，当事人不服提起行政诉讼，被告应为：  
A. 行政机关  
B. 内设机构或者派出机构  
C. 以行政机关和内设机构或者派出机构为共同被告  
D. 以内设机构或者派出机构为被告，行政机关为第三人
103. 下列人员中，回避适用的对象不包括：  
A. 证人 B. 检察人员 C. 侦查人员 D. 翻译人员
104. 以下诗句与“塞翁失马，焉知非福”蕴含哲理相同的是：  
A. 沉舟侧畔千帆过，病树前头万木春 B. 长风破浪会有时，直挂云帆济沧海  
C. 天若有情天亦老，人间正道是沧桑 D. 山重水复疑无路，柳暗花明又一村
105. 地球大气中，有利于高空飞行的是：  
A. 对流层 B. 平流层 C. 电离层 D. 高层大气
106. 运量大，投资少，成本低，历史最悠久的运输方式是：  
A. 铁路运输 B. 公路运输 C. 水路运输 D. 管道运输
107. 简称与河流相关的是：  
A. 湖南省——湘 B. 安徽省——皖 C. 青海省——青 D. 山东省——鲁
108. 下列哪些不是塑料制品的特点：  
A. 色彩鲜艳，选择性大 B. 重量轻，成本低  
C. 污染小，回收易 D. 既防水，又耐用
109. 海水为什么会有涨有落？  
A. 是由于鱼群朝不同的方向游动引起的 B. 是由于海里的风向引起的  
C. 是由于太阳引力引起的 D. 是由于月亮引力引起的
110. 我们经常可以在动物园或者电视上看到蛇吐信子，样子很吓人，蛇吐舌头的作用是什么呢？  
A. 威胁敌人，吓退入侵者 B. 搜集周围的信息  
C. 品尝食物的味道 D. 嬉戏玩耍

## 第五部分 资料分析

请开始答题：

一、根据所给文字资料回答 111—115 题。

国家统计局河南调查总队调查资料显示，2009 年河南省农民人均生活消费支出 3388.47 元，比上年增加 344.27 元。全省农民人均食品消费支出 1220.36 元，比上年增加 54.55 元，增加 4.7%。在食品消费中，人均用于主食消费支出 356.56 元，与上年相比基本持平；蔬菜及制品消费支出人均 121.33 元，增长 10.4%，肉、禽、蛋、奶和水产品支出人均 233.60 元，增长 1.4%；烟、酒 117.91 元，增长 14.4%，茶叶、饮料支出人均 16.71 元，增长 32.9%。从具体消费的数量上看，人均消费粮食 194.44 公斤，比上年下降 20.8%；人均消费肉禽类 9.84 公斤，增长 17.5%，奶和奶制品 2.15 公斤，与上年基本持平，蛋类和水产品人均消费量分别为 10.57 公斤和 1.5 公斤，分别增长 1.6%和 3.1%。

111. 2008 年河南省农民食品消费支出占全部生活消费支出的比重为（ ）。
- A. 38.3% B. 36.0% C. 34.2% D. 34.4%
112. 2009 年河南省农民食品消费支出占全部生活消费支出的比重比 2008 年（ ）。
- A. 上升了 2.3% B. 下降了 2.3% C. 上升了 36% D. 下降了 36%

113. 2009 年河南省农民人均食品消费支出同比增长（ ）。

- A. 4.2%                      B. 4.46%                      C. 4.7%                      D. 5.5%

114. 按照 2009 年的同比增长率，那么 2007 年河南省农民人均消费肉禽类为多少公斤（ ）？

- A. 8.37                      B. 7.28                      C. 7.94                      D. 7.13

115. 根据所给资料，关于河南省农民人均生活消费推断不正确的是（ ）。

- A. 赖于生存的主食消费不断下降                      B. 多营养的副食消费全面上升  
C. 2008 年蛋类人均消费为 6.60 公斤                      D. 2009 年烟、酒人均消费占人均生活消费的 3.5%

## 二、根据所给文字资料回答 116—120 题。

2008 年，全国研究与试验发展（R&D）经费总支出 4616 亿元，比上年增加 905.8 亿元，增长 24.4%；研究与试验发展（R&D）经费投入强度（与国内生产总值之比）为 1.54%，比上年的 1.44%有所提高。按研究与试验发展人员（全时工作量）计算的人均经费支出为 23.5 万元，比上年增加 2.1 万元。

分活动类型看，基础研究经费支出为 220.8 亿元，比上年增长 26.5%；应用研究经费支出为 575.2 亿元，增长 16.7%；试验发展经费支出 3820 亿元，增长 25.5%。

分执行部门看，各类企业经费支出为 3381.7 亿元，比上年增长 26.1%；政府部门属研究机构经费支出 811.3 亿元，增长 17.9%；高等学校经费支出 390.2 亿元，增长 24%。

分产业部门看，九大行业的研究与试验发展（R&D）经费投入强度（与主营业务收入之比）超过 1%。专用设备制造业为 1.93%，医药制造业为 1.74%，通用设备制造业为 1.59%，电气机械及器材制造业为 1.5%，交通运输设备制造业为 1.44%，橡胶制品业为 1.27%，通信设备、计算机及其他电子设备制造业为 1.27%，仪器仪表及文化、办公用机械制造业为 1.22%，化学纤维制造业为 1.06%。

分地区看，研究与试验发展（R&D）经费支出超过 300 亿元的有江苏、北京、广东、山东、上海和浙江 6 个省（市），共支出 2767.5 亿元。研究与试验发展（R&D）经费投入强度（与地区生产总值之比）达到或超过全国水平的有北京、上海、天津、陕西、江苏和浙江 6 个省（市）。

116. 2007 年全国研究与试验发展（R&D）经费总支出为多少亿元（ ）？

- A. 1126.30                      B. 3489.70                      C. 5742.30                      D. 3710.2

117. 2008 年高等学校经费支出占全国研究与试验发展（R&D）经费总支出的比重为（ ）。

- A. 8.5%                      B. 12.5%                      C. 17.6%                      D. 16.7%

118. 2007 年我国的国内生产总值为多少亿元（ ）？

- A. 240922                      B. 257653                      C. 267340                      D. 398770

119. 2008 年试验发展经费支出比 2007 年（ ）。

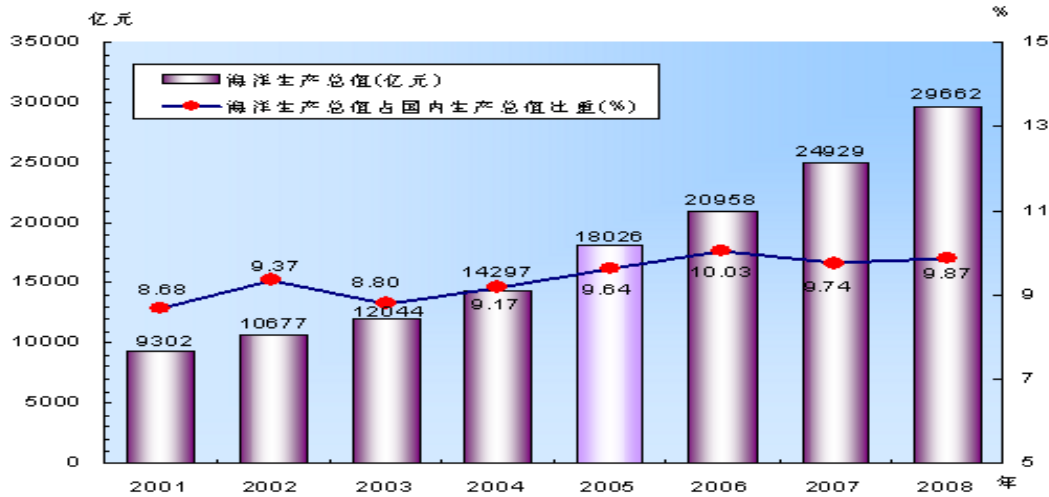
- A. 少 996.7 亿元                      B. 少 776.2 亿元                      C. 多 996.7 亿元                      D. 多 776.2 亿元

120. 根据上述材料，下列说法不正确的是（ ）。

- A. 2008 年研究与试验发展（R&D）经费支出超过 300 亿元的省（市）有 6 个  
B. 2008 年基础研究经费支出所占比重比应用研究、试验发展经费支出所占比重小  
C. 2008 年九大行业的研究与试验发展（R&D）经费投入强度有 1 个行业超过 2%  
D. 2008 年研究与试验发展（R&D）经费支出超过 300 亿元的省（市）总支出占全国经费总支出的

60%

## 三、根据下面的统计图，回答 121—125 题。



121. 2009 年全国海洋生产总值比上一年约（ ）。
- A. 下降 0.7%      B. 下降 2.3%      C. 增长 6.8%      D. 增长 16.7%
122. 2008 年全国海洋生产总值占国内生产总值的（ ）。
- A. 4.28%      B. 9.37%      C. 9.53%      D. 9.60%
123. 2009 年全国海洋第二产业增长值约为多少亿元（ ）？
- A. 15000      B. 17000      C. 20000      D. 32000
124. 2009 年全国海洋生产总值约是 2001 年的多少倍（ ）？
- A. 6.9 倍      B. 6.2 倍      C. 5.8 倍      D. 3.5 倍
125. 2002—2005 年间，海洋生产总值占国内生产总值比重最高的是（ ）。
- A. 2002 年      B. 2003 年      C. 2004 年      D. 2005 年

四、根据下面的统计图，回答 121—125 题。

2001 至 2008 年全国工业固体废物产生及处理情况

单位：万吨

| 年<br>度 | 产生量    |          | 排放量  |          | 综合利用量  |          | 贮存量   |          | 处置量   |          |
|--------|--------|----------|------|----------|--------|----------|-------|----------|-------|----------|
|        | 合计     | 危险<br>废物 | 合计   | 危险<br>废物 | 合计     | 危险<br>废物 | 合计    | 危险<br>废物 | 合计    | 危险<br>废物 |
| 01     | 88746  | 952      | 2894 | 2.1      | 47290  | 442      | 30183 | 307      | 14491 | 229      |
| 02     | 94509  | 1000     | 2635 | 107      | 50061  | 392      | 30040 | 383      | 16618 | 242      |
| 03     | 100428 | 1170     | 1941 | 0.3      | 56040  | 427      | 27667 | 423      | 17751 | 375      |
| 04     | 120030 | 995      | 1762 | 1.1      | 67796  | 403      | 26012 | 343      | 26635 | 275      |
| 05     | 134449 | 1162     | 1655 | 0.6      | 76993  | 496      | 27876 | 337      | 31259 | 339      |
| 06     | 151541 | 1084     | 1302 | 20.0     | 92601  | 566      | 22398 | 267      | 42883 | 289      |
| 07     | 175632 | 1079     | 1197 | 0.1      | 110311 | 650      | 24119 | 154      | 41350 | 346      |
| 08     | 190127 | 1357     | 782  | 0.07     | 123482 | 819      | 21883 | 196      | 48291 | 389      |

- 注：“综合利用量”和“处置量”中含有综合利用和处置往年量。
126. 若保持 2008 年全国工业固体废物排放量的增长幅度，则 2009 年全国工业固体废物排放量约为

- ( )。
- A. 1053 万吨                  B. 511 万吨                  C. 397 万吨                  D. 367 万吨
127. 2008 年全国工业固体废物产生量比去年 ( )。
- A. 增加 11.9%                  B. 增加 9.3%                  C. 增加 8.3%                  D. 增加 7.3%
128. 2001 年至 2005 年间，全国工业固体危险废物排放量呈现正增长的是 ( )。
- A. 2001 年                  B. 2002 年                  C. 2003 年                  D. 2004 年
129. 2006 年全国危险废物排放量占工业固体废物排放量的比重为 ( )。
- A. 1.5%                  B. 3.8%                  C. 8.0%                  D. 15.0%
130. 根据以上材料，下列说法不正确的是 ( )。
- A. 2001 年至 2008 年间，全国工业固体废物产生量逐年上升
- B. 2001 年至 2008 年间，全国工业固体废物贮存量逐年下降
- C. 2001 年至 2008 年间，全国工业固体废物综合利用量逐年上升
- D. 2001 年至 2008 年间，全国工业固体废物排放量逐年下降