

2008 年湖北省公务员录用考试行政职业能力测验试题

第一部分 言语理解与表达

(共 30 题，参考时限 25 分钟)

本部分包括两种类型的试题：

一、选词填空：共 10 题。要求你从四个选项中选出一个填空，使句子的意思表达得最准确。

- 听了他的解释，疑团打消了，心里（ ）多了。
A. 酣畅 B. 欢畅
C. 宽畅 D. 痛畅
- 即席发言，要力求说到点子上，（ ）地表明自己的看法，褒贬（ ），毫不含糊。
A. 直截了当 得体 B. 旗帜鲜明 得体
C. 直截了当 分明 D. 旗帜鲜明 分明
- 正确认识人类精神生产与经济活动（ ）政治现象之间的关系，（ ）认识到思想文化的进步对人类历史发展产生的不可忽略的巨大影响。
A. 及其 从而 B. 及 从而
C. 及其 进而 D. 及 进而
- （ ）你孜孜不倦地追求生活的真善美，终有一天会得到生活的（ ）评价。
A. 只有 公平 B. 只要 公正
C. 只管 公证 D. 如果 正确
- 针对这一情况，我处已经采取了（ ），任何单位和个人不得（ ）进入办公大楼。
A. 办法 擅自 B. 措施 擅自
C. 办法 私自 D. 措施 私自
- 瑞士的钟表做得非常（ ），每颗螺丝，每一个齿轮都有非常（ ）的加工程序。
A. 精美 严厉 B. 精致 严密
C. 精细 严格 D. 精巧 严谨
- 口头的承诺并不具备法律上的（ ），而只是一种良心的自我（ ）。
A. 效应 制约 B. 效力 制约
C. 效应 约束 D. 效力 约束
- 从心理学的角度来说，（ ）地表达自己想法的人更加具有领导者的（ ）。
A. 无所顾忌 气质 B. 肆无忌惮 潜质
C. 无所顾忌 潜质 D. 肆无忌惮 气质
- 一个八岁的小孩子（ ）能够把《论语》背下来，这真是一件啧啧（ ）事情。
A. 竟然 称道 B. 竟然 称奇
C. 居然 称道 D. 居然 称奇
- 北京奥运会组委会（ ）从 2004 年开始将先后（ ）新的会徽和吉祥物标示。
A. 公布 起用 B. 宣布 启用
C. 公布 启用 D. 宣布 起用

二、阅读理解：共 20 题。每道题包含一段短文，短文后面是一个不完整的陈述，要求你从四个选项中选出一项来完成这一陈述。

11. 下列各句没有语病的一句是：

- 我们车间今年第三季度生产形势很好，生产成本降一倍，产品数量翻一番。
- 今年 4 月 10 日的美国股市高科技板纳斯达克综合指数因恐惧通货膨胀在尾市狂跌 400 点，是今年以来单日下跌点最多的一天。
- 胡萝卜有许多优点，它的适应性强，病虫害少，便于储运。其次是含有多种营养，食用方法多。
- 为迎接加入 WTO 后全球经济一体化背景下的国际竞争的挑战，上海举办的首届人力资源管理高级研修班。

12. 国家主权神圣不可侵犯。不过，全球化下，征服土地式的主权侵犯已变得不太可能。于是，“主权”意识正在被淡忘。但是，有种主权侵犯却是潜移默化、无声无息的，这就是文化侵犯。

这段话主要是为了说明：

- 国家主权神圣不可侵犯
 - “主权”的意识正在被淡化
 - 文化侵略的特点
 - 文化侵略很容易被忽略
13. 中国现代化国际关系研究院印度问题专家傅小强表示，中印巴的三角关系一直是中印关系中一个第三方因素，印度也看到中国对南亚国家关系的发展是齐头并进的，中国不会因为发展与印度的关系而破坏与巴基斯坦的紧密关系，也不会因为与巴基斯坦的长期友好关系而使与印度的关系裹足不前。所以一两年，印度对中国以及中印关系的看法_____。

填入横线上最恰当的是：

- 越来越明媚
- 越来越开放

C. 越来越现实

D. 越来越重视

14. 目前，一种叫做“驾驶员警报器”的产品被开发出来，计划在 12 个月内投入市场。它可能使因驾驶疲劳而导致交通事故的风险降低 20%-40%。

从这段文章可以推导出，“驾驶员警报器”：

- A. 是为了降低因疲劳而导致的交通事故
- B. 是为了阻止司机打瞌睡
- C. 已经通过实验测试
- D. 已经销售了 12 个月

15. 聪明的投资者总是在保守的投资和高风险、高回报的投资之间平衡他们的资产。

根据这句话，下列哪种说明是正确的？

- A. 聪明的投资者优先考虑保守的投资
- B. 聪明的投资者追求高回报，但尽量避免高风险的投资
- C. 聪明的投资者不一定能够获得高回报
- D. 在保守的投资和高风险、高回报的投资间平衡资产的人不是聪明的投资者

16. 调查结果显示，环保意识越高的地区的公众，环保行为的参与度也越积极，但环保意识与环保满意度却呈相关关系，即环保意识越高，环保满意度却越低。

这段话主要支持了这样一种观点，即：

- A. 环保意识越高的公众看环保问题的眼光越强
- B. 环保意识越高的公众对环保质量要求也高
- C. 环保质量总是落后于公众的环保要求
- D. 环保质量是一个永不能得到公众满意的话题

17. 在当今国际体系中，民族国家不再是唯一的国际行为主体时，需要塑造新的认同，而非以旧瓶装新酒，倡导什么温和、理性和开放的“新民族主义”，而应该超越民族主义本身。

在当今以主权国家而非民族国家为国际社会的基本单元时，应该以爱国主义代替民族主义，为国家自豪，为未来鼓舞。

这段文字的观点是：

- A. 国际体系中的民族国家越来越多
- B. 爱国主义是对民族主义的一种超越
- C. 主权国家将在国际社会取代民族国家
- D. 国际体系应该向温和、理性和开放的方向发展

18. 世上的书分两种：有字之书和无字之书。“读万卷书”说明是读有字的书；“行万里路”

呢，说的也是读书，但读的是无字的书。

这段话支持了这样一种观念，即：

- A. 人生这条路要走好，就要读万卷书
- B. 写文章要有两个基础，一是博览群书，一是游遍名山
- C. 既要学好理论，又要加强实践
- D. 用理论指导实践，避免盲目的实践

19. 在青年期，我们通过与同伴的来往，表露各自的喜、怒、哀、乐，促进情感交流，使自己能为别人所接受、理解、关心、喜爱，尤其是亲密的交往，使人感到自己有朋友，有可以依恋的人，由此而产生发自内心的慰藉，免于内心孤独感、失落感的产生。

这段话主要描述的是：

- A. 人际交往对青年心理上的重要作用
- B. 人际交往对青年身体上的重要作用
- C. 人际交往对青年身心健康所起的重要作用
- D. 人际交往中促进青年的情感交流

20. 传统媒体是二维的，而网络宣传则是多维的，它能将文字、图像和声音有机的组合在一起，传递多感官的信息，让顾客如身临其境般感受商品或服务。

通过这段文字，作者想要表明：

- A. 网络宣传与传统媒体的区别
- B. 网络宣传具有多维的特点
- C. 网络宣传能让顾客有身临其境的感受
- D. 网络宣传最终将代替传统媒体

21. 根据我国五年规划的目标，经济增长率应当保持在 80% 左右。因为要实现国民生产总值每十年翻一番的目标，平均每年增长率应为 7.2%，将经济增长的目标确定为 80%，可以确保十年翻一番目标的实现。

根据这段话，下列哪种判断是正确的？

- A. 中国经济增长的潜力是 80%
- B. 中国经济增长的最佳速度是 80%
- C. 要实现每十年翻一番的目标，平均每年经济增长率不得低于 7.2%
- D. 根据五年规划的目标，经济增长率不得低于 8%

22. 他们终生面壁苦读，是为了破书，不作书呆子。

这句话中“破书”的意思是：

- A. 把书读残破
- B. 打倒书中的观点
- C. 质疑权威
- D. 吸收书本内容的精髓

23. 值得提及的是，人才类型的相对性很强，有的在现在的岗位上适应型人才，而换合适的工作岗位又可能成为开拓型人才，因为不同的工作岗位可导致内在因素与表现特征不同程度的变化。

这段话中人才类型的相对性指的是：

- A. 相对于时间
- B. 相对于平庸之辈
- C. 相对于岗位
- D. 相对于领导

24. 汽车的油耗主要与车辆的总质量以及燃烧是否完整有关，另外与个人的驾驶技术和驾驶习惯也有一定关联，而与汽车的排量并没有必然的关系。从这段话中我们可以得知：

- A. 要想省油，应该选用质量好的车
- B. 小排量的车不一定比大排量的车油耗低
- C. 汽车的油耗与汽车的排量之间没有关系
- D. 燃烧不完整的车一定比燃烧完整的车油耗高

25. 法律规定，以“广而言之案”立案，必须有受害人的自诉，除非是严重的危害社会秩序和国家利益的诽谤行为。而因为一篇报道涉及了辽宁省铁岭市西丰县委书记张志国，西丰县公安局便以“涉嫌诽谤罪”为由对采写报道的《法制日报》记者朱文娜进行立案调查，该局多名干警赶到报社对该记者进行拘传。

这段话主要支持了这样一种观点，即：

- A. 当地公安局替县委书记立案公诉有理
- B. 当地公安局替县委书记立案公诉无理
- C. 当地公安局替县委书记立案公诉违法
- D. 当地公安局拘传《法制日报》记者无理

26. 一位擅长政治新闻报道的美国记者曾说：“只要给我足够的资金，我能使一块砖头当选为州长”。

对其理解不正确的一项是：

- A. 说明美国的政治是有钱人的游戏
- B. 对广告在美国政治中所起作用的嘲讽
- C. 说明广告拥有巨大的社会影响力
- D. 说明在美国只要拥有足够的资金就可以当选为州长

27. 当人们陷于心理压力时，牺牲、自怜、延迟以及倦怠的感觉会产生，他会发现再去奋斗变得非常困难，而且会把所有的事情一拖再拖。处理未知的事物变成是一个非常困难的考验，而且要去了解未来，也会造成相当的困扰；最好的方法似乎是让所有事情都维持现状。

这段话主要想表达的意思是：

- A. 压力发生在心理上会引发许多问题
- B. 人们因为发现奋斗非常困难所以把所有事情一拖再拖
- C. 维持现状是解决心理压力的最好办法
- D. 现代社会必然会导致出很多心理问题

28. 所有的事物都有其相对的一面。而且许多都是显而易见的；白天相对于黑夜，炎热相对于寒冷，高相对于矮，自由相对于监禁，爱相对于恨，以及诸如此类的东西。要了解一个事物的本质，通过测验其相反的事物，总会有所帮助。

下列说法中没有体现出上面认识的是：

- A. 监狱中的囚犯渴望自由
- B. 跟姚明走在一起产生渺小之感
- C. 挣扎在海中的人感觉口渴
- D. 雪灾来临时怀念一家人围炉夜话的温暖

29. 印刷术是一种粗浅的发明；枪炮是一种不太奥妙难测的东西；指南针是一件前人已经知道一点的东西。可是这三件发明在我们的时代已经使世界有了多大的变化！一个在学术上，另一个在军事上，第三个在财宝、商品和航海上。而这些发明，我说只是偶然碰上的，是由机会造成的。如此说来，人类统治万物的权力肯定是深藏于知识之中的。在知识里蕴藏着许多东西，这些东西是帝王的财宝不能购买，他们的势力所不能指挥的。

这段话的主要意思是：

- A. 在知识中蕴藏着丰富的财富
- B. 这三件发明是偶然碰上，并偶然派上用场的
- C. 印刷术、枪炮和指南针只有在国外才获得了新的用途
- D. 知识就是力量

30. 正常皮肤有皮脂和汗液，它们保持着皮肤的柔软和滋润。手掌和脚跟等处无皮脂只有汗液维持着肤质的湿润，冬天出汗时，皮肤干燥，再加上这些部位与外界接触、摩擦，皮肤变得厚硬又缺乏弹性，当活动张力过大时，就会引起皲裂。如果裂缝过深过头时，就有可能裂入真皮而造成裂口见血或鲜血直流，非常疼痛。

下列选项中能正确反映这段话的观点是：

- A. 正常皮肤由皮脂和汗液组成
- B. 冬天皮肤容易因为干燥而引起皲裂
- C. 皮肤的结构与功用
- D. 皮肤在夏天比冬天更易保持湿润

第二部分 数量关系

(共 20 题，参考时限 20 分钟)

本部分包括两种类型的试题：

一、数字推理：共 10 题。给你一个数列，但其中缺少一项，要求你仔细观察数列的排列规律，然后从四个供选择的选项选出你认为最合理的一项，来填补空缺项。

31. 2, 8, 20, 38, 62, _____

- A. 100
- B. 92
- C. 93
- D. 72

32. 2, 7, 13, 20, 25, 31, _____

- A. 35
- B. 36
- C. 37
- D. 38

33. 0, 3, 8, 15, 24, _____

- A. 33 B. 35 C. 48 D. 49
34. $1/2, 1, 4/3, 19/12, \underline{\hspace{2cm}}$
A. $133/60$ B. $137/60$ C. $107/60$ D. $147/60$
35. $1, 2, 4, 4, 1, \underline{\hspace{2cm}}$
A. 16 B. 17 C. $1/32$ D. $1/16$
36. $6, 4, 12, 8, 18, 16, \underline{\hspace{2cm}}$
A. 24.18 B. 20.32 C. 24.32 D. 18.64
37. $8, 18, 181, 11811, \underline{\hspace{2cm}}$
A. 11181 B. 11118 C. 118111 D. 111811
38. $3, 6, 5, 10, 9, 16, 15, \underline{\hspace{2cm}}$
A. 24 B. 17 C. 23 D. 25
39. $2, 7, 22, 67, \underline{\hspace{2cm}}$
A. 198 B. 176 C. 230 D. 202
40. $15, 7, 12, 6, 9, 5, \underline{\hspace{2cm}}$
A. 6.4 B. 14.11 C. 6.5 D. 14.10

二、数学运算：共 10 题。要求你在四个选项中，选出你认为正确的一项。要求你充分利用所给条件，寻求解决问题的捷径。

41. 如果每 500 米远架一根电线杆，则 30 公里需要架设多少根电线杆？
A. 31 B. 30 C. 61 D. 60
42. 四个房间，每个房间里不少于 2 人，任何三个房间里的人数不少于 8 人，这四个房间至少有多少人？
A. 9 B. 11 C. 10 D. 12
43. 从 4 时到 5 时，钟的时针与分针可成直线的时间会有多少次？
A. 1 次 B. 2 次 C. 3 次 D. 4 次
44. 一个植树小组植树，如果每人栽 6 棵，还剩 14 棵；如果每人栽 7 棵，就缺 4 棵。这个植树小组一共要栽多少棵树？
A. 19 B. 59 C. 18 D. 122
45. 90 张多米诺骨牌整齐地排成一列，依顺序编号 1、2、3、……90。第一次拿走所有奇数位置上的骨牌，第二次再从剩余骨牌中拿走所有奇数位置上的骨牌，依此类推，请问最后剩下的一张骨牌的编号是多少？
A. 32 B. 64 C. 88 D. 16
46. 小明步行 45 分钟可从甲地到乙地，小华乘车 15 分钟可从乙地到甲地。当小明和小华在路上相遇时，小明已经走了 30 分钟，小华用车接小明返回乙地，还需要多少分钟？
A. 10 B. 15 C. 3 D. 5
47. 青年义务服务队甲队原有 35 人，乙队原有 176 人，因任务需要，甲队人力应加强，现从预备队调来 2 人，再从乙队支援多少人后，甲队人数刚好是乙队人数的一半？
A. 35 B. 34 C. 33 D. 88
48. 某服装厂要生产一批某种型号的学生服，已知每 3 米长的某种面料可做上衣 2 件。或做裤子 3 条，计划用 300 米长的这种布料生产学生服，应用多少米布料产生上衣，才能恰好配套？
A. 120 B. 150 C. 180 D. 210
49. 一只小鸟离开在树枝上的鸟巢，向北飞了 20 米，之后又向东飞了 20 米，然后又向上飞了 20 米。最后，它沿着到鸟巢的直线飞回了家。请问小鸟飞行的总长度与下列哪个最接近？
A. 34 米 B. 80 米 C. 94 米 D. 100 米
50. 纽约时间是香港时间减 13 小时，你与一位在香港的朋友约定，香港时间 6 月 1 日晚上 8 时与他通电话，那么在纽约你应几月几日几时给他打了电话？
A. 6 月 1 日上午 7 时 B. 5 月 31 日上午 7 时
C. 6 月 2 日上午 9 时 D. 6 月 2 日上午 7 时

第三部分 判断推理

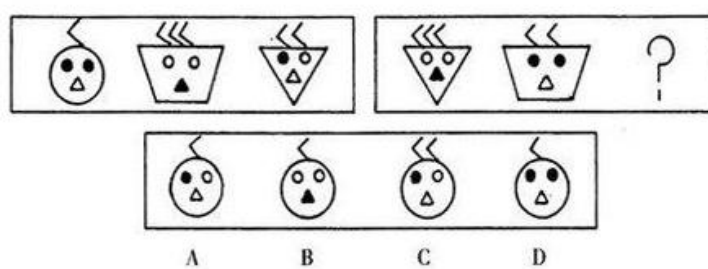
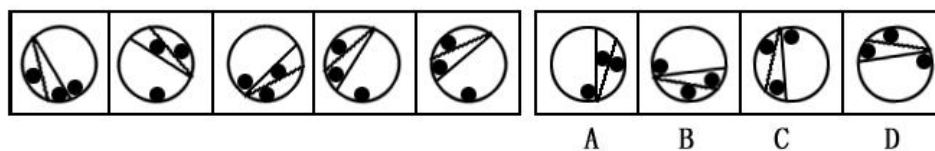
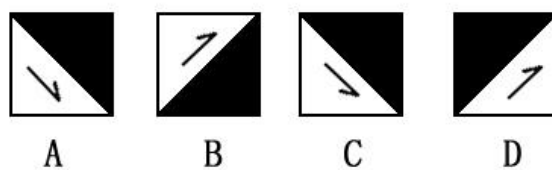

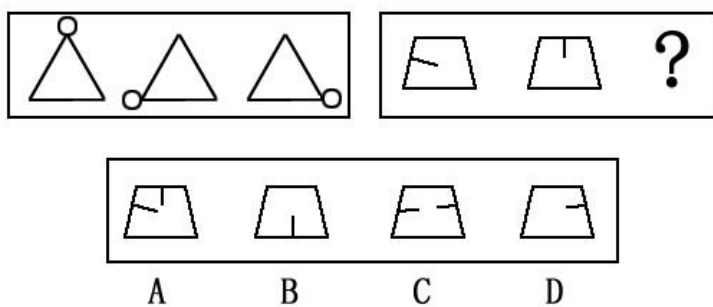
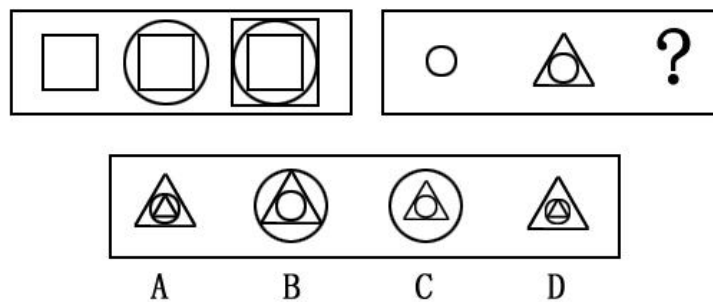
(共 40 题，参考时限 35 分钟)

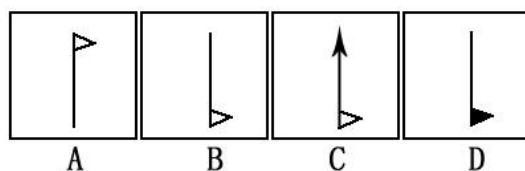
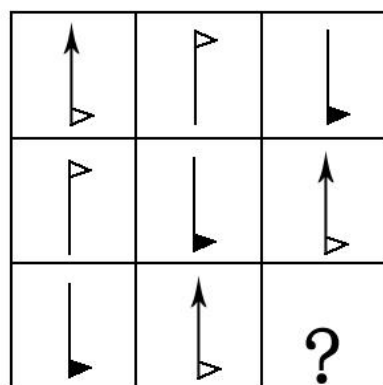
本部分包括四种类型的题目：

一、图形推理：共 10 题。每道题包含问题图形和可供选择的 4 个图形。

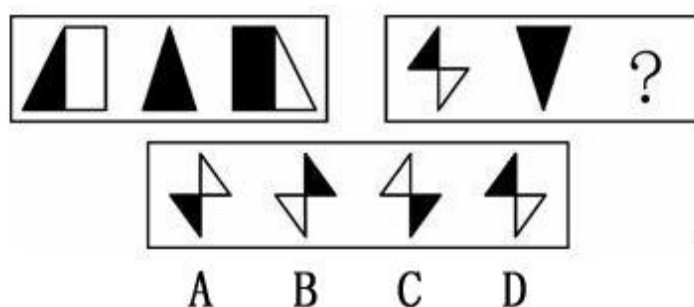
问题图形具有一定的相似性，也存在某种差异。你要从中找出其变化的规律，并把这种规律正确地运用到解题过程中，或者依据图形变化的规律进行选择。

51.

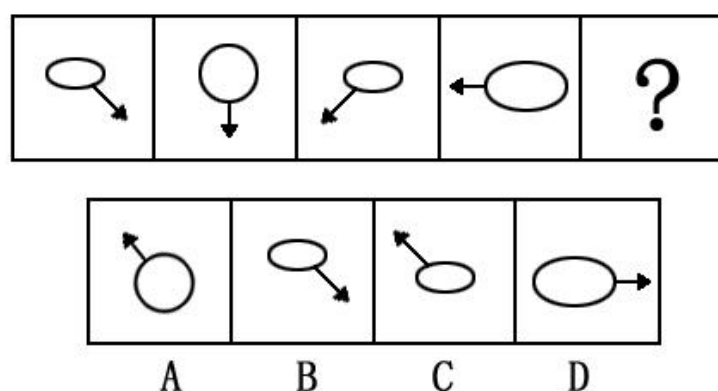





57.



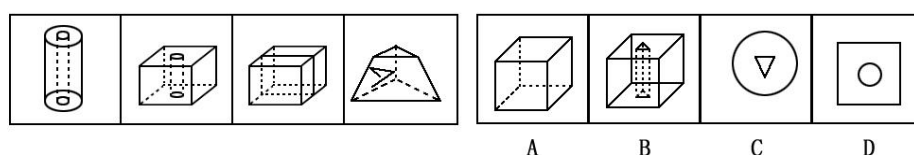
58.



59. 将下面左图进行折叠后，得到的图形是：



60. 根据下面左边图形变化规律，得到的图形是：



二、演绎推理：共 10 题。每道题给出一段陈述，这段陈述被假设是正确的，不容置疑的。要求你根据这段陈述，选出一个答案。注意，正确的答案应与所给的陈述相符合，不需要任何附加说明即可以从陈述中直接推出。

61. 如果甲和乙都能获得奖学金，那么丙和丁也都能获得奖学金。遗憾的是丙没有获得奖学金，据此可推知：
A. 甲和乙都没获得奖学金 B. 甲和乙只有一人没获得奖学金
C. 丁获得奖学金 D. 甲和乙不可能都获得奖学金
62. 以前在农村，只有男孩子才有读书的权力。张飞农村出来，并顺利的考上大学。那么张飞：
A. 与父母的关系搞得很好 B. 有头脑，接受了新思想
C. 是男孩，并受到了家里的重视 D. 是女孩，并受到家里的重视
63. 某校发生了一起抢窃案，公安局抓获了四名犯罪嫌疑人甲、乙、丙、丁，审讯他们时，
甲说：不是我干的。 乙说：是丁干的。
丙说：是乙干的。 丁说：不是我干的。
这四人中只有一人说了真话，那么抢窃案是谁干的？
A. 甲 B. 乙 C. 丙 D. 丁
64. 在 50 年代，我国森林覆盖率为 19%，60 年代为 11%，70 年代为 6%，80 年代不到 4%。随着森林覆盖率的逐年减少，植被大量破坏，削弱了土地对雨水的拦蓄作用，一下暴雨，水卷泥沙滚滚而下使洪涝灾害逐年严重。可见，森林资源的破坏，是酿成洪灾的原因。
以下哪项使用的方法与上文最类似？
A. 棉花是植物纤维，疏松多孔，能保温。积雪是由水冻结而成的，有 40%至 50%的空气间隙，也是疏松多孔的，能保温。可见，疏松多孔是能保温的原因
B. 把一群鸡分为两组，一组喂精白米，鸡得一种病，脚无力，不能行走，症状与人的脚气病相似。另一组用带壳稻米喂，鸡不得这种病。由此推测带壳稻米中含有的某些精白米中所没有的东西是造成脚气病的原因。进一步研究发现，这种东西就是维生素 B1
C. 意大利的雷地反复进行一个实验，在 4 个大口瓶里，放进肉和鱼，然后盖上盖或蒙上纱布，苍蝇进不去，一个蛆都没有。另 4 个大口瓶里，放进同样的肉和鱼，敞开瓶门，苍蝇飞进去产卵，腐烂的肉和鱼很快生满了蛆。可见，苍蝇产卵是鱼肉腐烂生蛆的原因
D. 在有空气的玻璃罩内通电击铃，随着抽出空气量的变化，铃声越来越小，若把空气全抽出，则完全听不到铃声。可见，声音是靠空气传播的
65. 马明、刘建、张义三个男同学各有一个妹妹，这天，六个人一起打羽毛球，举行的是男女混合双打，并且规定，兄妹俩人不搭伴。
第一盘对局的情况是：刘建和小萍对张义和小英。
第二盘对局的情况是：张义和小红对刘建和马明的妹妹。
根据题目的条件，以下哪项为真？
A. 刘建和小红、马明和小英、张义和小萍各是兄妹 B. 刘建和小英、马明和小萍、张义和小红各是兄妹
C. 刘建和小萍、马明和小英、张义和小红各是兄妹 D. 刘建和小红、马明和小萍、张义和小英各是兄妹
66. 有一则电视广告说，草原绿鸟鸡，饿了吃青草，馋了吃蚂蚱，似乎在暗示该种鸡及其鸡蛋的营养价值与该种鸡所吃的草原食物有关。
为了验证这个结论，下面哪种实验方法最可靠？
A. 选择一优良品种的蛋鸡投放到草原上喂养，然后与在非草原喂养的普通鸡的营养成分相比较
B. 化验、比较草原上的鸡食物和非草原上的鸡食物的营养成分
C. 选择品种、等级完全相同的蛋鸡，一半投放到草原上喂养，一半在非草原喂养，然后比较它们的营养成分
D. 选出不同品种的蛋鸡，投放到草原上喂养，然后比较它们的切实有效成分
67. 在美国与欧洲某国作战期间，美国海军为招募兵员，曾经在全国广为散发海报。当时最有名的广告是这样说的：美国海军的死亡率比纽约市民的还要低。面对质询，负责的海军官员解释说：“根据统计，现在纽约市民每年的死亡率是 16%，而尽管是战时，美国海军士兵的死亡率也不过 9%。”
如果以上资料为真，则以下哪项能够解释上述看起来很让人怀疑的结论？
A. 在战争期间，由于有部分海军负担运输任务，并不直接参战，因而海军士兵的死亡率要低于陆军士兵
B. 上述统计中的纽约市民包括生存能力较差的婴儿、老人和病人等
C. 由于美国海军有一定实力，作战时伤亡较小，敌军更喜欢攻击没有什么抵抗能力的普通市民
D. 美国海军的这种宣传主要是为了鼓动人们入伍，所以，其中不免有夸张的成分
68. 面对日益严峻的环境污染和生态失衡，“我们只有一个地球”这一口号具有强烈的震撼力、它提醒人们注意环境保护的重要性。
以下哪项与这句口号的提出者的想法最接近？
A. 在宇宙中，其他的星球都不可能有生命存在
B. 在宇宙中，即使有其他的星球适宜人类居住，人类也无法迁往那个星球
C. 人类不可能找到比地球更适宜自己居住的星球了
D. 只有温暖的阳光和充足的雨水才可以生存
69. 在过去的 3 年中，发生了 6 架 W66 客机坠毁事件。面对一幕幕惨剧，人们不由得怀疑 W66 客机的设计有问题。而制造商反驳说，每次事故调查都说明，事故责任是驾驶员操作失误。

上述制造商的话基于以下哪个前提？

- A. W66 的设计不是造成驾驶员犯错，从而导致飞机失事的原因
- B. 由于设计错误引起的飞机失事，与由于制造方面的缺陷导致的飞机失事是可以区别开来的
- C. 怀疑 W66 设计有问题的人并没有查出任何设计问题
- D. 对于 W66 这种类型的飞机，每 3 年发生 6 起坠毁事件的事事故发生率并不算高

70. 一切有利于生产力发展的方针政策都是符合人民根本利益的。改革开放有利于生产力的发展，所以改革开放是符合人民根本利益的。

以下哪种推理方式与上面的这段论述最为相似？

- A. 一切行动听指挥是一支军队能够战无不胜的纪律保证。所以，一个企业，一个地区要发展，必须提倡令行禁止，服从大局
- B. 经过对最近六个月销售的健身器跟踪调查，没有发现一台因质量问题而退货或返修。因此，可以说这批健身器的质量是合格的
- C. 如果某种产品超过了市场需求，就可能出现滞销现象。“草群”领带的供应量大大超过了市场需求，因此，一定会出现滞销现象
- D. 凡是超越代理人权限所签的合同都是无效的。这份房地产建设合同是超越代理权限签订的，所以它是无效的

三、定义判断：共 10 题。每道题先给出一个概念的定义，然后分别给出四种情况，要求你严格依据定义，从中选出一个最符合或最不符合该定义的答案。注意：假定这个定义是正确的，不容置疑的。

71. 外部不经济，是指一种经济行为对其本身和外部产生出来的负效益。

下列选项中，属于外部不经济现象的是：

- A. 学校周边钢厂的烟囱冒出黑色灰尘
- B. 国家出资提高公众健康水平
- C. 湘江岸边的造纸厂流出经处理合格的水
- D. 吃完东西后将包装用的塑料袋扔到分类的垃圾箱

72. 转移收入，是指来自非生产、交换过程的收入，如资助、赠与和遗产收入等各种形式的转移收入。

下列选项中，有关转移收入说法正确的是：

- A. 转移收入是给予者自愿的，与生产、交换的竞争无关
- B. 转移收入与工资、业主利润等一样，属于生产、交换过程的范畴
- C. 转移收入的存在是因为产权使用效率的提高
- D. 以上说法均不正确

73. 基尼系数，是衡量分配不平等程度的重要指标。国际上通常认为，当基尼系数低于 0.2 表示收入绝对平均；0.3-0.4 表示相对合理；0.4-0.5 表示收入差距较大；0.6 以上表示收入差距悬殊。

下列选项中，有关基尼系数说法不正确的是：

- A. 基尼系数是测量收入平等的指标
 - B. 基尼系数可在零和 1 之间取任何值，收入分配越是趋向平等，基尼系数也越小
 - C. 我国城市基尼系数从 1978 年的 0.15 上升 2000 年的 0.32，这说明至 2000 年城市居民个人收入差距逐步拉大
 - D. 我国农村地区基尼系数在 90 年代为 0.338 左右，处于国际水平的相对合理区域
74. 质权：指为了担保债权的履行，债务人或第三人将其动产或权利移交债权人占有，当债务人不履行债务时，债权人有权就其占有的财产优先受偿的权利。

据以上定义，下面哪项属于质权？

- A. 越某向梁某借款 30 万元，将自己的房屋作价 15 万元抵押给梁某，并依法进行了抵押登记
- B. 孙某为了向银行借款 50 万，就找了当地一个声誉很好的陈某作担保，并送给他一条价值 500 元的好烟
- C. 李某在乙处修理电视机，因为钱不够，就将自己的手表放在乙处，说第二天拿钱来，就把电视机取走
- D. 钱某向赵某借了辆自行车，并且白纸黑字地写了借据

75. 佣金，是指经纪人、代理商等中间人完成受委托事项后，由委托人向其支付的报酬。

下列选项中，属于佣金的是？

- A. 某啤酒经销商，获取出厂价和批发价之间的 10 元差额
- B. 小王是某公司职员，公司每月付他 2000 元工资
- C. 某超市供销某品牌香烟，烟厂付超市 10% 的报酬
- D. 经王某介绍，小李做成一笔大生意，为答谢王某，小李送上 5 千元红包

76. 国民财富，是指某个国家在特定时点上所拥有的各种有形生产资产、无形生产资产、天然资源（已探明或已收入使用）以及对外的金融净资产的总和。

下列选项中，不应计入国民财富的是：

- A. 某制衣厂生产的价值 5 万元的布匹
- B. 小王在学术研究上取得重大突破，并获得专利
- C. 中国对外金融净资产
- D. 深山里未被发现的金矿

77. 企业，是指具有法人地位、创造价值、增加效用、追求利润最大化的独立商品生产单位。

下列选项中，属于企业的是：

- A. 主要给家人或客人做饭的家庭
- B. 从事家庭式小商品生产的家庭企业

- C. 部队里面的连队 D. 从事自给自足生产劳动的农户
78. 公共物品，是指在消费上具有非竞争性、非排他性的商品，供整个社会共同享用的物品。
下列选项中，不属于公共物品的是：
A. 警察提供的安全服务 B. 研究和开发
C. 环境保护 D. 商场的名牌电视机
79. 保险的最大诚信原则，是指保险双方当事人签订和履行保险合同的整个过程中，必须诚实守信，以最大的诚意恪守信用，如实告知重要情况，不欺骗不隐瞒，并保证正确履行各自的权利和义务。
下列选项中，投保人没有履行最大诚信原则的是：
A. 刘某，因肝癌病休治疗。2005 年 7 月，刘某所在装饰公司为全公司职员投保团体人身保险，公司在提交被保险人名单时，在健康状况一栏中说明了刘某因肝癌病休的情况
B. 张某，身体健康，在单位集体组织下投保简易人身保险，在投保单上“被保险人健康情况”一栏填“健康”两字
C. 新学期，学校让新生每人交纳了保险费 25 元，其中学生平安保险 10 元，附加疾病险 15 元。9 月 8 日新生张某，腹部疼痛，经医院确诊为某先天性疾病。之后，张某住院治疗，张父向保险公司提出报销医药费
D. 李某患胃癌住院治疗，手术后出院，并正常参加工作。后来，李某经人介绍投保了简易人身险，填写投保单填写投保单时没有申报身患癌症的事实
80. 思维：指人脑对客观间接的概括的反映。根据思维过程中的凭借物或者思维状态的不同可以将思维分为（1）动作思维，是指在思维过程中以实际动作作为支持的思维。其特点是任务是直观的，以具体形式给予的，解决方式是实际动作；（2）形象思维，是指用表象来进行分析、综合、抽象、概括的过程。特点是借助鲜明、生动的客观形象；（3）抽象思维，是指借助概念、判断、推理等形式来反映客观事物的运动规律，对事物的本质特征和内部联系加以认识的过程。
下列哪项符合动作思维的定义？
A. 福尔摩斯通过在屋子找不到其他的出口，断定凶手一定是从屋顶的烟囱出去的，尽管烟囱很小
B. 洪熙官的儿子很小的时候就被要求每天看着父亲练武功。渐渐地，他也能跟着父亲一起比划起来
C. 刘教授喜欢在他的文章中通过列举大量的事例来说明问题
D. 建筑系的学生在设计建筑方案时有时候需要先根据建筑图纸制作出一个模型来，这样似乎更有助于发现建筑设计的缺陷

四、类比推理：共 10 题。先给出一组或多组相关的词，要求你在备选答案中找出一组与之在逻辑关系上最为贴近、类似或匹配的词。

81. （ ） 对于思索相当于奔跑对于（ ）
A. 学习——运动 B. 思考——奔走
C. 考虑——走路 D. 动脑——锻炼
82. 莱茵河：欧洲
A. 多瑙河：北美洲 B. 非洲：尼罗河
C. 亚马逊河：南美洲 D. 亚洲：黄河
83. 《雷雨》：周朴园
A. 斯嘉丽：《飘》 B. 林黛玉：《红楼梦》
C. 《家》：高觉民 D. 《暴风骤雨》：九斤老太
84. 农业：工业
A. 劳动：工资 B. 复印机：电脑
C. 高级：职称 D. 土地：果实
85. （ ） 对于愚笨相当于强壮对于（ ）
A. 傻子——青年 B. 智商——运动
C. 聪明——瘦弱 D. 机灵——灵活
86. 二氧化碳对于干冰相当于（ ）对于（ ）
A. 一氧化碳——墨 B. 石墨——金刚石
C. 水——液体 D. 空气——氧气
87. 郭沫若对于（ ）相当于（ ）对于《管锥篇》
A. 《女神》——钱钟书 B. 《炉中煤》——茅盾
C. 《死城》——鲁迅 D. 《人间词话》——周立波
88. 网络日记对于（ ）相当于菠萝对于（ ）
A. 网络——苹果 B. 电脑——香蕉
C. 博客——凤梨 D. 写手——水果
89. （ ） 对于舞蹈相当于探春对于（ ）
A. 唱歌——《西游记》 B. 探戈——《金瓶梅》
C. 杨贵妃——贾宝玉 D. 华尔兹——《红楼梦》

90. () 对于“铁观音”相当于 () 对于“新闻联播”

- A. 咖啡——报纸
- B. 茶——电视
- C. 茶——新闻
- D. 寺庙——电视

第四部分 常识判断

(共 25 题, 参考时 20 分钟)

共 25 题。本部分为单项选择题, 各题的四个选项中, 只有一项是符合题意的, 请将答案填在答题卡上。

91. 科学揭示燃烧现象的是:

- A. 哥白尼
- B. 牛顿
- C. 拉瓦锡
- D. 爱迪生

92. 下列选项中, 属于十七大报告首次提出的是:

- A. 环境保护
- B. 创造条件让更多群众拥有财产性收入
- C. 分配更加注重公平
- D. 廉政文化

93. 孔子的学生们追忆孔子日常教诲和生活行为, 整理成一部语录体书, 称作 (), 这部书成为儒家的经典, 后世有很大影响。

- A. 《尚书》
- B. 《春秋》
- C. 《诗》
- D. 《论语》

94. 当前, 在新的历史时期, 我国的统一战线被称为:

- A. 民主统一战线
- B. 统一战线
- C. 社会主义统一战线
- D. 爱国统一战线

95. 行政相对人若对北京海关的具体行政行为不服的, 应向 () 申请行政复议。

- A. 北京市人民政府
- B. 海关总署
- C. 北京海关
- D. 监察部

96. 我国对作品实行 () 原则, 作者在作品完成时即取得著作权, 受法律保护。

- A. 实际履行
- B. 协作履行
- C. 自动保护
- D. 先申请

97. “共产主义是没有剥削的制度, 产品极大丰富, 各尽所能, 按需分配。按需分配, 没有极大丰富的物质条件是不可能的, 要实现共产主义, 一定要完成社会主义阶段的任务。”社会主义阶段的任务很多, 但根本的一条就是:

- A. 满足人们对物质财富的需求
- B. 协调经济基础与上层建筑的矛盾
- C. 发展生产力
- D. 群众利益无小事, 维护人民利益

98. “善泳者溺, 善骑者堕, 各以其所好反自为祸” 古人这句话给我们的哲学启示是:

- A. 事物在一定条件下是可以转化的
- B. 要透过现象认识事物的本质
- C. 人可以得于长处, 也可以失于长处
- D. 矛盾的主要方面决定事物的本质

99. 国务院发布的《耕地占用税条例》规定: “本条例的实施办法, 由各省、自治区、直辖市人民政府根据本条例的规定, 结合本地区的实际情况制定, 并报财政部备案。” 据此, 各省级人民政府制定实施办法的行为属于:

- A. 特别授权立法
- B. 中央行政立法
- C. 补充性立法
- D. 一般授权立法

100. 邓小平坚持马克思主义的思想路线, 把“解放思想”和“实事求是”联系起来表述, 更鲜明地体现了马克思主义思想体系的开放性, 体现了它的 () 的统一。

- A. 科学性、理论性和实践性
- B. 科学性、理论性和革命性
- C. 理论性、实践性和革命性
- D. 实践性、科学性和革命性

101. 我国刑法规定的“在我国领域内犯罪”是指:

- A. 受害人居住在我国领域内
- B. 犯罪人居住在我国领域内
- C. 犯罪行为或结果有一项发生在我国领域内
- D. 受害人与犯罪人均居住在我国领域内

102. 邓小平同志曾深刻指出“我们评价一个国家的政治体制、政治结构和政策是否正确, 关键看三条: 第一是看国家的政局是否稳定; 第二是看能否增进人民的团结, 改善人民的生活; 第三是看生产力是否得到持续发展。”这一重要论断深刻揭示了 ()。

- A. 社会发展与人的全面发展
- B. 人民群众是社会的产物
- C. 生产力和生产关系的辩证关系
- D. 上层建筑和经济基础的辩证关系

103. 近年来, 某地的洪水泛滥越来越严重, 对民生危害越来越大, 造成洪水泛滥的原因之一是人类活动增多所造成的地球环境破坏, 从哲学上看 ()。

- A. 事物之间存在着因果联系
- B. 改造自然与人类活动存在着矛盾的关系
- C. 人类活动必将引起自然灾害的出现
- D. 洪水与自然灾害之间存在本质的联系

104. “大头娃娃”主要是从小食用劣质奶粉引起, 劣质奶粉中是 () 含量过少引起的。

- A. 蛋白质
- B. 脂肪

- C. 葡萄糖 D. 维生素
105. 《反不正当竞争法》中所说的商业秘密，是指不为公众所知悉，能为权利人带来经济利益，具有实用性并经权利人（ ）。
- A. 采用的生产技术 B. 采用的科学成果
C. 采取保密措施的技术信息和经营信息 D. 采用的经营方式
106. 我国独立自主、自力更生和对外开放方针的主要理论基础是：
- A. 矛盾的同一性和斗争性辩证关系原理 B. 内因和外因辩证关系原理
C. 矛盾的普遍性和特殊性辩证关系原理 D. 矛盾发展的不平衡性原理
107. 吊销违法者的经营许可证是：
- A. 行政命令 B. 行政处罚 C. 行政处分 D. 行政强制执行
108. 《宪法》规定，中华人民共和国（ ）领导全国武装力量。
- A. 国际部 B. 国家主席
C. 国务院 D. 中央军事委员会
109. “蚯蚓爬上路，雨水乱如麻”这句气象谚语说明的生物现象是：
- A. 蚯蚓是有氧呼吸的生物 B. 蚯蚓喜欢生活在水中
C. 蚯蚓不能生活在水中 D. 蚯蚓能预报天气变化
110. 我们党在长期执政条件下，保持先进性和增强创造力的决定性因素是：
- A. 着重从思想上建党
B. 坚持批评与自我批评
C. 坚持解放思想、实事求是的思想路线，弘扬与时俱进的精神
D. 真正做到“三个代表”
111. 下列属于内部行政行为的是：
- A. 行政许可 B. 行政处罚 C. 行政强制 D. 行政处分
112. 有研究指出，私人保险支出越多的国家往往越富有，在这些国家，购买保险是一种大众化的投资手段，产生这种现象的主要原因是：
- A. 贫穷国家开展保险事业的效果不大
B. 经济实力是保险业的坚实后盾，现代保险日益发达
C. 保险费用在总经济收入中所占的比重增长导致了基础投资不足
D. 保险只是富人或富国的事
113. 在新的发展观下，单一以 GDP 考核干部情况将得到改进，新的考核体系将更加全面，这属于（ ）。
- A. 由现象到本质 B. 由实践到认识
C. 由感性认识上升到理性认识 D. 用理性认识指导实践
114. 关于平等，以下说法错误的是：
- A. 平等是历史的范畴
B. 人人平等这一观念的确立是因为宗教的兴起和不断的传播
C. 平等是人与人的对等对待的社会关系
D. 平等要求采取一视同仁的普遍原则，反对区别对待
115. 下列做法中符合《公务员法》规定的是：
- A. 某市税务局干部沈某到该市某国有企业中挂职锻炼一年
B. 公务员李某因在定期考核中被确定为基本称职，被降低一个职务层次任职
C. 某市公安局与技术员田某签订的公务员聘任合同，应当报该市组织部门批准
D. 公务员王某对其在定期考核中被定为基本称职不服，向有关部门提出申诉

第五部分 资料分析

（共 20 题，参考时限 20 分钟）

共 20 题。针对下列文字、表或图回答问题，你应根据资料提供的信息进行分析、比较、计算、处理。

根据以下文字资料，回答 116-120 题。

据某市统计，截止到 2004 年底，全市 16 岁以下的少年儿童总数是 2272194 人，其中，学龄前期儿童为 739616 人，占其总数的 33.55%。另据有关资料显示，在我国目前抚养一个婴儿到 16 岁，农村平均需要 1600 元，城市平均需要 6900 元，全国平均 2200 元，2004 年该市儿童消费主要体现在吃、穿、玩具等方面，不同年龄消费费用不同：在婴儿期内食品支出占总支出的 81.5%，在幼儿期内占 81.2%，在学龄前期占 77.9%，在学龄期内占 71.4%；在服装方面，学龄前儿童支出大体维持在总消费金额的 13% 左右，但进入学龄期后，占总体的 21.8%。

116. 在我国，城市抚养一个婴儿的费用相当于农村抚养一个婴儿的（ ）
- A. 3 倍左右 B. 4 倍左右 C. 5 倍左右 D. 2 倍左右
117. 该市儿童在食品消费比例支出最大的是：
- A. 婴儿期 B. 幼儿期 C. 学龄前期 D. 学龄期
118. 该市儿童在服装消费比例支出最大的是：

- A. 婴儿期 B. 幼儿期 C. 学龄前期 D. 学龄期

119. 该市当年 16 岁以下，学龄期以上的儿童比例是：

- A. 四分之一左右 B. 四倍左右 C. 33.55% D. 66.45%

120. 该市学龄期儿童的服装消费金额比学龄前儿童高出约（ ）

- A. 3.8% B. 6.5% C. 40.4% D. 67.7%

根据下列表格资料回答 121-125 题：2003 年

行业	700 强企业研发投入比重 (%)	投入最多的 2 家公司占行业总投入的比重 (%)	行业	700 强企业研发投入比重 (%)	投入最多的 2 家公司占行业总投入的比重 (%)
IT 硬件	21.7	13	航空及国防	3.9	35
汽车	18	21	化学	4.8	23
生物制药	17.5	18	电信	2.2	58
电子电气	10.4	31	保健品	2.2	33
IT 软件及计算机服务	6.4	44	其他	10	

121. 资料显示，2003 年全球研发投入 700 强企业高度密集于哪四个行业？

- A. IT 硬件、汽车、保健品、电信 B. IT 硬件、电子电气、工程、化学
C. IT 硬件、汽车、生物制药、电子电气 D. 汽车、生物制药、电子电气、其他

122. 由资料显示，以下说法不正确的是：

- A. 生物制药研发投入高于保健品投入 15.3 个百分点
B. 生物制药研发投入要低于 IT 硬件 4.2 个百分点
C. 电信研发投入与保健品研发投入比例持平
D. 化学研发投入低于电子电气研发投入 6 个百分点

123. 下列有关 IT 硬件研发投入说法不正确的是：

- A. IT 硬件研发投入高于 IT 软件及计算机服务投入 15.3 个百分点
B. IT 硬件、IT 软件及计算机服务研发投入之和占研发总投入的 28.1%
C. IT 硬件、IT 软件及计算机服务研发投入之和，比汽车、生物制药、电子电气这三个行业研发投入要高
D. IT 硬件、IT 软件及计算机服务、汽车、生物制药研发投入占总投入的比重超过一半

124. 从研发经费投入最多的 2 家公司占行业总投入的比重数据看，行业投入经费高度集中于大型公司的是：

- A. 电信 B. 保健品
C. 航空及国防 D. IT 软件及计算机服务

125. 根据所给数据资料，可以推出的选项为：

- [1] 全球研发支出最多的企业基本上都是高科技企业
[2] 2003 年全球研发支出最多的 700 家企业高度密集于 IT、汽车、生物制药、电子电气等行业
[3] 前 2 强公司的研发投入占电信行业研发总经费支出的“半壁江山”
A. [1] B. [3] C. [1] [2] [3] D. [1] 与 [3]

根据下表，回答 126-130 题：单位：元

年份	城市居民人均可支配收入	农村居民人均纯收入	城乡比率
1978	343.4	133.6	2.57:1
1984	477.6	191.3	2.50:1
1985	739.1	397.6	1.86:1
1990	1510.2	686.3	2.20:1
1991	1700.6	708.6	2.40:1
1992	2026.6	784.0	2.58:1
1993	2577.4	921.6	2.80:1
1994	3496.2	1221.0	2.86:1
1995	4283.0	1577.7	2.72:1
1996	4838.9	1926.1	2.51:1
1997	5160.3	2090.1	2.47:1
1998	5425.1	2162.0	2.51:1
1999	5854.0	2210.3	2.65:1
2000	6280.0	2253.4	2.79:1
2001	6859.6	2366.4	2.90:1
2002	7703	2476	3.11:1

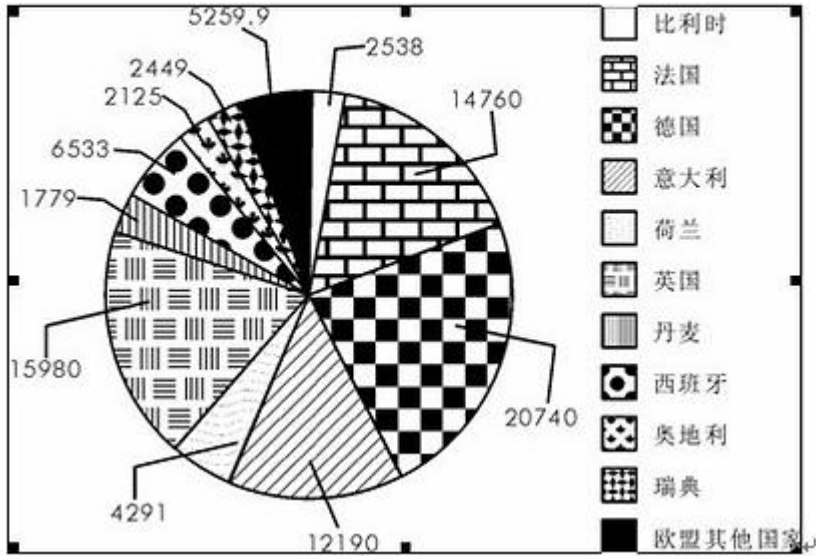
2003	8472	2622	3.23:1
------	------	------	--------

我国城乡居民收入差距

126. 上表中，农村居民人均纯收入增加最多的年份为：
A. 1995 年 B. 1993 年 C. 1996 年 D. 2003 年
127. 上表中，城乡居民收入差额最大的年份为：
A. 2002 年 B. 1999 年 C. 2000 年 D. 2003 年
128. 2001 年城乡居民收入年增额的比重为：
A. 2.9 B. 2.79 C. 0.11 D. 5.1
129. 上表中，城市居民人均收入增长率最低的年份为：
A. 1998 年 B. 1999 年 C. 2003 年 D. 1991 年
130. 根据上表，下列叙述正确的是：
A. 1978-2003 年，城市居民人均可支配收入各年增长率是递增趋势
B. 1990-2003 年，农村居民人均纯收入呈递增趋势
C. 城市居民人均可支配收入年增长率始终高于农村居民人均纯收入年增长率
D. 1978-2003 年，城乡居民收入比率年递增趋势

根据下图，回答 131-135 题。

2002 年欧盟各国 GDP 值比例图
(单位：亿欧元)



131. 根据 2002 年欧盟各国 GDP 值比例图，西班牙的排名为 ()。
A. 第 5 B. 第 6 C. 第 7 D. 第 8
132. 荷兰的 GDP 总量占欧盟 GDP 总量的 ()。
A. 2.0% B. 4.8% C. 7.3% D. 13.8%
133. 德、法、英三国 GDP 总量占欧盟 GDP 总量的 ()。
A. 48.4% B. 53.8% C. 55.2% D. 58.1%
134. 奥地利的 GDP 总量比利时的 GDP 总量少 ()。
A. 5% B. 16.3% C. 19.4% D. 22.5%
135. 从上图可以推出的结论是 ()。
I. 瑞典与比利时的 GDP 总量相差最少
II. 前五名之外的其他国家的 GDP 总量小于德、法两国 GDP 总量之和
III. 英国 GDP 总量比德国 GDP 总量少的比例小于丹麦 GDP 总量比瑞典 GDP 总量少的比例
A. 只有 I B. 只有 II
C. 只有 III D. I、II、III 均正确