

福建省 2005 年春季公务员考试

注：此题有答案无解析，41、42 答案缺失，不建议打印

第一部分 常识判断

一、单项选择 根据题目要求，在四个选项中选出一个正确答案。

- 1、2005 年前夕，国家主席胡锦涛通过中国国际广播电台，发表了题为《 》的新年贺词。
A、共创美好未来、奔向小康生活 B、共同创造人类的美好未来 C、共同创造 和谐生活 D、
共创人类美好的和谐社会
- 2、2005 年 1 月 19 日，韩国汉城市长正式宣布把汉城中文名改为（ ）
A、高丽 B、首尔 C、汉都 D、韩城
- 3、2008 年北京奥林匹克运动会会徽的正式名称是：（ ）
A、中国印—挥舞的北京 B、中国印---腾飞的北京 C、中国印---舞动的北京 D、中国印---绿色的北京
- 4、2004 年 12 月 12 日，省委召开全省领导干部大会，中组部副部长李建华传达中央决定：（ ）同志任福建省代省长。
A、卢展工 B、黄小晶 C、宋德福 D、何立峰
- 5、2004 年 12 月 22 日上午，国务院、中央军委追授郑忠华“（ ）”荣誉称号命名大会在榕举行。
A、英勇抢险勇士 B、抢险救援勇士 C、人民忠诚卫士 D、人民抢险勇士
- 6、邓小平理论的主题是：（ ）
A、解放思想，实事求是 B、什么是社会主义，怎样建设社会主义
C、改革开放 D、先富和共同富裕的关系
- 7、目前，我国有（ ）个省（不包括特别行政区、自治区、直辖市等）。
A、23 个 B、25 个 C、22 个 D、28 个
- 8、已知物质最小结构单元是（ ）
A、质子和电子 B、轻子和强子 C、夸克和强子 D、夸克和轻子
- 9、既说“此矛锋利，无坚不摧” 又说“此盾坚固，任刺不入”，这就违反了（ ）
A.充足理由律 B. 同一律 C. 矛盾律 D. 排中律

10、2005 年我省（福建省）总人口已经突破_____万人，仍然面临着五大突出问题。

A、3100 B、3500 C、3800 D、4200

11、将右边的箔片沿虚线折起来，便可做一个正方体。问这个正方体的 3 号对面的是几号面？

A.6 B.5 C.2 D.1

12、下列公文格式中哪个不属于保密等级：

A、绝密 B、机密 C、秘密 D、保密

13、2004 年 12 月 29 日俄罗斯总统普京签署的有关法令中，将 11 月 7 日“十月革命胜利日”正式更名为：

A、革命纪念日 B、红场阅兵日 C、莫斯科红场军事阅兵日 D、红场革命胜利阅兵日

14、揭开人民解放战争战略决战序幕的战役是：

A、淮海战役 B、辽沈战役

C、济南战役 D、平津战役

15、世界上最深的湖泊是：

A、马利亚纳 B、齿舞群湖 C、贝加尔湖 D、黑海

二、不定项选择 正确答案可能是一个，也可能是两个以上，请根据题意作出正确选择。

16、马克思主义的来源是

A.德国的古典哲学 B.英国的古典政治经济学

C.法国的现实社会主义 D.法国的空想社会主义

17、我们通常讲“五湖四海”中的“五湖”指的是：

A.太湖 B.巢湖 C.洪泽湖 D.西湖

18、甲午中日战争著名四大海战地点在：

A.大东沟 B.平岛 C.旅大 D.威海卫

19、2004 年 12 月 26 日上午，印度尼西亚苏门答腊岛附近海域发生了一场强烈地震。据称此次地震的震级高达里氏 8.9 级，是 40 年来最大的地震，由此引发了惊天海啸狂澜（ ）等南亚东南亚国家。

A.Inonesi B. Thiln C. Mlysi D.Mlive

20、2004 年 9 月 16 日至 19 日，中共第十六届四中全会在北京召开，会议的主题是加强党的执政能力建设。其中四个因素要求加强执政能力建设：

- A.全面建设小康社会的历史重任 B.维护国家发展和生存安全
C.党的自身状况及其面临的历史性课题 D.世界上一些大党老党兴衰的经验教训为我们敲响了警钟。

第二部分 数量关系

(共 25 题，参考时限 24 分钟)

本部分包括两种类型的试题。

一、数字推理：共 10 题。给你一个数列，但其中缺少一项，要求你仔细观察数列的排列规律，然后从四个选项选出你认为最合理的一项来填补空缺项。

例题：

2 9 16 23 30 ()

A.35 B.37 C.39 D.41

解答：这一数列的排列规律是前一个数加 7 等于后一个数，故空缺项应为：37 正确答案为 B。

请开始答题：

21、0 4 18 48 100 ()

0*0 2*2 3*6 4*12 5*20 6*30

A.140 B.160 C.180 D.200

22、1 1 3 7 17 41 () *2 加前一项

A.89 B.99 C.109 D.119

23、22 35 56 90 () 234

22+35-1 35+56-1 56+90-1

A.162 B.156 C.148 D.145

24、6 4 8 9 12 9 () 26 30

A.12 B.16 C.18 D.22

25、2 2 6 22 ()

2*4-2 6*4-2 22*4-6

A.80

B.82

C.84

D.58

26、

A.

B.

C.

D.

27、1 10 31 70 133 () 1 2 3 4 5 6 的立方分别加 0 2 4 6 8 10

A.136

B.186

C.226

D.256

28、7 11 13 17 19 31 47 41 ()

A.63

B.195

C.55

D.5

29、5 8 -4 9 () 30 18 21

A.14

B.17

C.20

D.26

30、36 12 30 36 51 () $30-12=36/2$

A.69

B.70

C.71

D.72

二、运算与论证：共 15 题。你可以打草稿运算，遇到难题，你可以跳过不做，待有时间再返回来做。

例题：

84.78、59.50、121.61、12.43 以及 66.50 的总和是：

A.343.73

B.343.83

C.344.73

D.341.82

解答：正确答案为 D。实际上你只要把最后一位小数加一下，就会发现和的末位是 2，只有 D 符合要求。

请开始答题：

31、48 与 108 的最大公约数是 ()

A.6

B.8

C.24

D.12

32、有一艘船，出现了一个漏洞，水以均匀的速度进入船内。发现漏洞时，已进入一些水，如果由 12 人淘水，3 小时可以淘完，如果只有 5 人淘水，要 10 小时才能淘完，现在想用 2 小时淘完，需用多少人淘水？

A.17

B.16

C.15

D.18

33、环形跑道周长是 500 米，甲、乙两人按顺时针沿环形跑道同时、同地起跑，甲每分钟跑 60 米，乙每分钟跑 50 米，甲、乙两人每跑 200 米均要停下来休息 1 分钟，那么甲首次追上乙需要多少分钟？

A.60 B.36 C.77 D.103

34、福建省莆田市秀屿区一小学男生人数比全校生数的 $\frac{5}{9}$ 还少 15 人，女生人数比全校总数 $\frac{4}{9}$ 还多 15 人，该校总生数应为()

A.540 B.610 C.630 D.720

35、某人以八五折的优惠购买一辆自行车节省 60 元，他实际付款()元。

A.350 B.380 C.400 D.340

36、小明参加福建省 2004 年“奋进杯”中学数学竞赛获了奖（前 10 名）。爸爸问他：“这次数学竞赛你得了多少分？获得了第几名？”小明说：“我的数学得分是整数，分数和我得的名次与我的年龄相乘的积为 2910。”从上面的对话中可以推出小明得了第几名？

A.第一名 B.第二名 C.第三名 D.第四名

37、2004 年 2 月 28 日是星期六，那么 2010 年 2 月 28 日是()

闰年的计算方法：公元纪年的年数可以被四整除，即为闰年；被 100 整除而不能被 400 整除为平年；被 100 整除也可被 400 整除的为闰年。如 2000 年是闰年，而 1900 年不是。

A.星期一 B.星期三 C.星期五 D.星期日

38、福州大洋百货为了庆祝春节，特举行让利百万大酬宾促销活动，在二楼打出了买 300 送 60 元的优惠活动。其中某柜台各以 3000 元卖出两件商品，其中盈亏均为 20%，则该柜台应()

A.赚 500 元 B.亏 300 元 C.持平 D.亏 250 元

39、为了庆祝新年，“必胜客”举行赠送比萨抽奖活动。活动规则如下：在一个抽奖盒子里，共装有 2 个红球、3 个白球和 4 个蓝球。每抽到一个白球就赠送比萨一个。那么，抽到白球的概率大概是多少？

A.9.9% B.13.5% C.33.3% D.45%

40、马尾“胜利”号货轮在 3 天内共航行了 150 海里，请问货轮平均每天约航行多少千米？1 海里=1852 米 A

A.92.6 千米 B.78.4 千米 C.120.6 千米 D.140.5 千米

41、小蔡去超市购物，她买了 1.6 千克苹果，4 磅食油和 3.8 市斤芦柑。请问小蔡买的这：二种食品最重的是哪一种 1 磅=0.454 公斤？

A.苹果 B.食油 C.芦柑 D. 三者一样重

42、福州大学城一新校区一期工程的占地面积约为 2400 市亩，如果用另两个常用面积单位 “公顷”和“平方米”来表示，它的面积分别约为：

A.80 公顷 8×10⁵ 平方米 B. 80 公顷 16×10⁵ 平方米

C.160 公顷 8×10⁵ 平方米 D.160 公顷 16×10⁵ 平方米

43、一个人从某服装店花 60 元买走一件衣服，付了 100 元，售货员因为没有零钱，去隔壁商店换出零钱给顾客。后来发现那 100 元是假钞，该服装店只好赔给隔壁商店 100 元，若卖出的服装进价为 40 元，则该服装店共赔了

多少元？100

A.40 B.80 C.100 D. 180

44、对厦门大学计算机系 100 名学生进行调查，结果发现他们喜欢看 NBA 和足球、赛车。其中 58 人喜欢看 NBA；38 人喜欢看赛车，52 人喜欢看足球，既喜欢看 NBA 又喜欢看赛车的有 18 人，既喜欢看足球又喜欢看赛车的有 16 人，三种都喜欢看的有 12 人，则只喜欢看足球的有：（ ）

A.22 人 B.28 人 C.30 人 D. 36 人

45、香港某一著名赛马场举行赛马比赛，在一个环道 800 米的马场上，其中白马一分钟可以跑 1 圈，黄马一分钟可以跑 2 圈，鬃马一分钟可以跑 4 圈，黑马则一分钟可以跑 6 圈。当四只马同时站在起跑线上时，那么请问以下答案里，多少分钟后四只马第一次重新回到同一起跑线上。

A.7 B.12 C.18 D.24

第三部分 言语理解与表达

(共 25 题，参考时限 25 分钟)

本部分包括三种类型的试题，着重考查考生对语言文字的理解和驾驭能力。

这种能力包括：对词和句子一般意思和特定意义的理解；对比较复杂的概念和观点的准确理解；对句子隐含信息的合理推断；根据上下文，恰当选用词语；准确地辨明句义，筛选信息。

一、选词填空：共 5 题。要求你从所给的四个词中选出一个填入句中空格内，从而使句的意思表达最准确。或者在四个词中选出一个和划横线的词可以替代的选入空格内。

例题：

只要方向正确，任何一点积极性都应当得到_____和支持。

A.尊重 B.肯定 C.表彰 D.重视

解答：用“肯定”填空使句子的意思表达得最准确，故应选 B.

请开始答题：

46、我们大陆人民和台湾同胞血浓于水的亲情，是谁也割断不了的。

A.切断 B.隔断 C.阻碍 D.妨碍

47、春节即将到来，许多生活在泉州的人们纷纷到东湖公园观赏春景。

A.观看 B.观光 C.欣赏 D.赏玩

48、农村兄弟迫切()出版部门设计、印刷适合农村用的挂历。

A.希望 B.渴望 C.盼望 D.向往

49、看了昆剧《十五贯》，叫我（ ）的是况钟那支三落三起的笔。

A.津津有味 B.津津乐道 C.念念不忘 D.念兹在兹

50、作为一条商业通道，“丝绸之路”的作用应主要体现在商业贸易上，可实际上，它的历史作用却远远超出经济交流的()。而今天，“丝绸之路”所经地带又重新成了（ ）的所在。依次填入的词语，最恰当的是：

A.界限 举世瞩目 B.界限 举足轻重
C.范畴 举足轻重 D.范畴 举世瞩目

二、语句表达：共 5 题。要求你从语法、语气、语义等方面对有关语句作出判断。例题：

从给出的几句话中选出没有语病的一句：

- A. 阅读理解与否，是衡量阅读能力好坏的重要标志。
- B. 阅读与理解。是衡量阅读能力好坏的重要标志。
- C. 阅读是否理解，是衡量阅读能力的重要标志。
- D. 阅读能力好坏的标志是理解。

解答：该题的正确答案是 A。

请开始答题：

51、下面四句话中存在歧义的一句是：

- A、游击队攻下一个敌军长期盘踞的据点。
- B、派出所收到一对年轻妇女拾到的耳环。
- C、老村长送去一车各家各户献出的木料。
- D、通信员取出一份正副团长签发的命令。

52、从给出的几句话中选出没有语病的一句：

- A、清明前后，××部队派了八百多人次参加郊区植树劳动。 、
- B、凡事要依靠群众，否则单靠自己，什么事也做不成。
- C、他只关心孩子的学习，至于思想品德方面，就不以为然了。
- D、他工作特别忙，夜以继日地干，以致累倒了。

53、从给出的几句话中选出没有语病的一句：

A、上海文艺出版社出版的《生存》，出自一位蛰居海外二十多年的加拿大籍华裔之手。

B、每一个有志青年将来都希望成为一个对社会主义建设事业有贡献的人。

C、因为他经常做这些事，于是大家一看到这事就首先想到了他。

D、每当回忆起和他朝夕相处的一段生活，他那循循善诱的教导和那和蔼可亲的音容笑貌，又重新出现在我的面前。

54、“求全责备”的“责”是指：

A、责备 B、指责 C、责成 D、要求

55、爱财如命是葛朗台这个形象的本质，极端的贪婪和极端的吝啬是他最显著的性格特征。这个至死不渝的守财奴凶狠狡诈、精明能干，不择手段地囤聚财富。

文中“不择手段”可用以下哪个词代替：

A、千方百计 B、尽其所能 C、想方设法 D、挖空心思

三、片断阅读理解：共 5 题。要求你阅读以下片断短文，并根据短文的内容回答问题。

请开始答题：

56、有一对夫妻，他们有一个儿子。一天，来了一个陌生人，他说他认识这对夫妻，还说他认识这对夫妻的儿子。最能准确地复述这段话的意思是

- A、新来的人认识这对夫妻和他们的儿子
- B、新来的陌生人认识这对夫妻和他们的儿子
- C、新来的陌生人认识这对夫妻和他的儿子
- D、新来的陌生人自称认识这对夫妻和他们的儿子

57、事实上，当旧的艺术如小说戏剧等渐离世人的关注中心，而让位于影视等诸种艺术新贵，一种文化贫困正笼罩在各种批评之上。面对强大的“工业文化”，文化批评也差不多变成促销广告了。

这段话中，“一种文化贫困正笼罩在各种批评之上”，意思是说，

- A、文化的贫困使各种关于文化的批评无法进行。
- B、各种文化批评的品位在降低。
- C、文化贫困现象受到了种种批评。
- D、各批评家都受到了贫困的威胁。

58、隐性信息是一种特殊信息，它与在社会经济生活中可以直接或间接获取的显性信息不同，是一种能够提示、预测未来发展趋势的未公开的、未萌的“胎动”信息，它要通过分析研究才能获取。

对这段话中的“隐性信息”，理解正确的一项是：

A、不能直接获取，只能间接获取。 B、可以预测未萌的"胎动"。

C、可以提示未来发展趋势。 D、能提示尚未公开的信息。

59、所谓总体的理解和把握，就是顾及全局以及全局和各部分的关系。在此"总体的理解和把握"是指：

A、把握全局关系和全局与局部的关系。

B、顾及全局、各部分，及其相互关系。

C、处理好全局以及全局部分，部分和部分之间的关系。

D、顾及全局并顾及全局与各部分之间的关系。

60、市场作为资源配置的方式和手段不是万能的，无缺陷的。市场配置，一般是由看不见的手，即价值规律、供求规律和竞争规律的作用来进行自发的调节，而且这种调节带有滞后性，就是说从价格形成到信号反馈再到产品产出效应，有一定的时滞。

在这段话中，作者认为，"市场作为资源配置的""缺陷"是

A、自发性。 B、滞后性。 C、对滞性。 D、自发性和滞后性。

四、阅读理解：共 10 题。要求你阅读以下短文，并根据短文的内容回答问题。

请开始答题：

阅读下面短文，完成 61-65 题。

鲤鱼们都想跳过龙门。因为，只要跳过龙门，他们就会从普普通通的鱼变成超凡脱俗的龙了。可是，龙门太高他们一个个累得精疲力竭，摔碰得鼻青眼肿，却没有一个能够跳过去。他们一起向龙王请求：“尊敬的殿下，请您把龙门降低一点吧！如果连一条鲤鱼都跳不过去，这龙门不等于虚设了吗？”龙王不答应，鲤鱼们就跪在龙王面前不起来。他们跪了九九八十一天，龙王终于被感动了，他们都兴高采烈地变成了龙。

不久，成了龙的鲤鱼们发现，大家都成了龙，跟大家都不是龙的时候并没有两样。于是，他们又一起找到龙王，说出自己心中的疑惑。龙王笔道：“真正的龙门是不能降低的。你们要想找到真正龙的感觉，还是去跳那座没有降低高度的龙门吧。”

61. 鲤鱼整天都想跳过龙门，把自己变成龙，是因为：

A. 龙具有超凡脱俗的本领 B. 龙能兴风降雨，统治天地

C. 龙力大无比；能飞能走 D. 龙既有角，又有鳞

62. 鱼一个个跳得精疲力竭，鼻青眼肿，却跳不过龙门，是因为：

A. 鱼不可能成为龙 B. 龙王不想让鱼跳过 C. 龙门实在太高了 D. 鲤鱼的弹跳能力太差了

63. 龙王不愿意答应鲤鱼的请求降低龙门，是因为：

A. 龙门不可能降低 B. 龙王不想让鱼变成龙

C. 龙门降低了就没价值 D. 所有的鱼都会变成毫无实际本领的龙

64. 鲤鱼变成的龙发觉自己跟过去没有两样，是因为：

- A. 鲤鱼虽然变成了龙，但没有龙的感觉 B. 大家都成了龙，没有什么区别，
C. 这种变化毫不费力，也就没什么意义 D. 龙的地位和身份随着龙数增多已经消失了

65. 真正的龙门是不能降低的，是因为：

- A. 龙门是神圣的 B. 龙门是变成真龙的标志
C. 龙门降低后跳过去的就不是真龙 D. 龙门降低就毁坏了

阅读下面短文，完成 66—70 题。

不能说生活有条理就产生记忆，但是，可以大大提高记忆效果。譬如想记住某些数字、名称或一个故事，必须选择一定的顺序，然后始终按照顺序去记忆。在回忆时，仍然必须按照同样的顺序。如果每天养成把经常用的东西放在一个固定地方的习惯，能避免浪费时间！井井有条是我们在复杂的日常生活中最基本、最不可缺少的优点之一，人人都应该知道这一点。

然而，随着人变老，许多高龄人有严重的精神错乱趋向。这是因为，老年人和疲劳过度的人感知迟钝，脑子不好使；思维活动困难，很难集中注意力，思考能力及判断能力差。另外，他们还在时间和空间概念上出现局部定向障碍，表现冷漠或情感不一致，甚至大脑出现某种迟钝现象。由于上述情况，记忆力必然受到严重影响。

专家界有许多记忆能手。了解这些杰出的人物如何取得惊人的记忆效果非常有益。例如，伊诺迪是最著名的记忆专家之一，他研制出一张很大的方格数字表，把提的问题同方格中某一点联系起来，从而能够立即回答有关规则最难的问题。

亨利·埃曾在他的一本关于记忆的论著中讲到了这些记忆能手的一系列奇迹，其中出类拔萃的是吕克博士(C·E 米勒的研究对象)。这位家只听一遍，经过一百六十七秒钟的“沉思”，能重复出一串六十位的数字。他只思考一百三十七秒钟，就能倒背出一串五十二位数字。他本人解释记忆数字的诀窍，例如，回忆 86219 数字时，他立即想到 219 是 73 的三倍，而 13 的对数则是 1. 86。因此，这些记忆专家运用事先背得滚瓜烂熟的有条理的规则，怀着对这类活动的极大兴趣，并不断训练这种独特的高超技艺，从而取得了丰硕的成果。

应该指出，正如亨利·埃所说，这些记忆奇才在智力发育正常的人中间极为罕见，并使人目瞪口呆，而对智力发育迟缓的人来说则更是难以想象。亨利·埃在他的著作中列举了一系列的病例，有些人的智力程度低得吓人，以致被视为傻瓜和白痴。因此，人的记忆程度与智力之间不存在的任何关系。但是，各种思维活动，尤其是记忆，绝

对需要井井有条，要养成有条理的习惯，并且始终如下。 能使用我们上面讲的记忆方法吗？当然能。但要充分认识到，这仅仅是一种方法，无论怎样，这种训练方法对提高敏捷的思维能力绝对不会产生任何作用。

66. 为什么说“井井有条”是人们的一大优点？选出理解不当的一项：

- A. 生活中养成“井井有条”能节省时间 B. “井井有条”可以大大提高记忆的效率
C. “井井有条”便于回忆或记住某些该记的东西 D. 生活有条理可以产生记忆力

67. 下列说法不正确的是

- A. 第三段的例子是为了说明：老年人记忆力差，而“井井有条”则有助于记忆
- B. 一位老人出门买菜，回家时找不到家门了，如果没有其他原因，很可能是他在时空概念上出现了局部定向力障碍
- C. 伊诺迪、亨利·埃、吕克这三位都是记忆能手
- D. 倒数第二段的“智力”实际上指的是人的逻辑思维能力、形象思维能力以及适合判断能力等

68. 第 4、5 两段的例子不能说明的一项是：

- A. 记忆需要训练并有其独特的训练方法 B. 记忆需要井井有条
- C. 记忆的技艺神奇高妙 D. 记忆与智力有关

69. 不符合文意的一项是：

- A. 井井有条的习惯的培养对任何人都是有好处的
- B. 井井有条的训练方法对提高思维能力不会产生任何副作用
- C. 无论是正常人还是白痴，他们的记忆程度与智力并无关系
- D. 记忆有条理的规则、保持兴趣、不断训练，是记忆专家成功的秘诀

70. 下列哪个题目最适合本文：

- A. 亨利·埃关于记忆的论著 B. 井井有条 C. 记忆与智力成正比 D. 记忆专家伊诺迪

第三部分结束，第四部分准备开始！

第四部分 判断推理


（共 40 题，参考时限 40 分钟）

本部分包括四种类型的试题：

一、图形推理：共 10 题，每道题包含两套图形和可供选择的 4 个图形。这两套图形具有某种相似性，也存在某

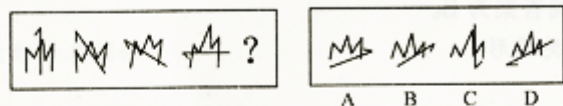
种差异。要求你从四个选项中选择你认为最适合取代问号的一个。正确的答案应不仅使两套图形表现出最大的相似性，而且使第二套图形也表现出自己的特征。

71、依逻辑推理的观点，下面两个?处应是什么样的图形?

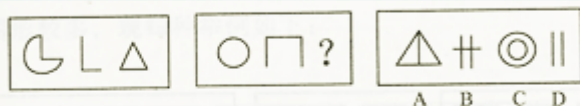


- A、多角形，一条线 B、圆形，三角形
C、任何一个四边形，任何一个二边形 D、六边形，四边形

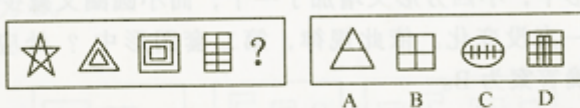
72、 d



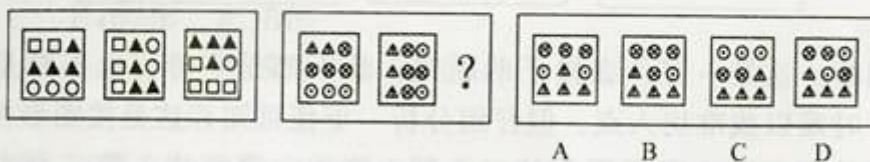
73、 a




74、 c



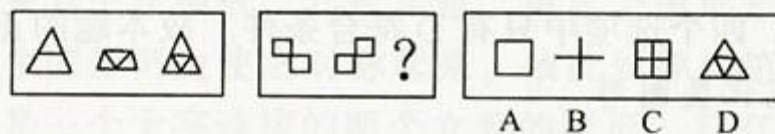
75、



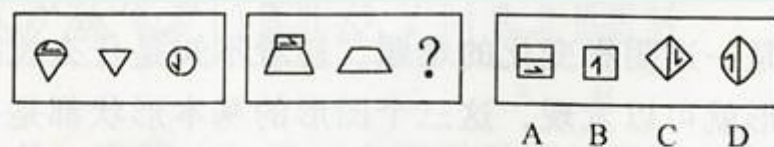
76、



77、 c



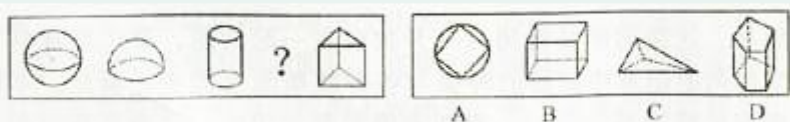
78、 a



79、



80、



二、演绎推理

在下面的每道题中给出了一段陈述，在这项考试中，本陈述被假定是正确的，不容置疑的。 请你根据这段陈述

从四个备选答案中选出一个能够从陈述中直接推出的结论。

81. 作为中国文坛的一大创新，纪实文学近年来成为最热门的写作体裁。但辉煌过后，麻烦也随之而来，指控纪实文学侵害名誉权的官司频频开庭，眼下的一例是某作家的《法撼汾西》与《天网》引出的 8 位山西老乡当原告，北京市某区人民法院受理此案，成为京城的一大热点。

由此可推知：

- A. 纪实文学是中国人首创的
- B. 某作家的两篇纪实文学侵害了 8 位山西老乡的名誉权
- C. 纪实文学的辉煌时期已经过去
- D. 某作家是一个纪实文学作家

82. 时间是有方向性的，总是从过去向未来流动。这就是时间之箭。在生物进化过程中，时间的过去与未来是不对称的，这是一个不可逆过程。但生物进化的时间箭头与熵增不同。熵增意味着退化，即旧事物的分解和衰亡；而进化是新事物的产生和发展，它的时间箭头是指向熵减少的。因此

- A. 生物的进化只有一个方向
- B. 生物的演化可分为退化和进化两大类
- C. 生物进化过去用的时间短，未来用的时间长
- D. 熵的变化是没有方向性的

83. 作为社会基础的生产过程是现实的，是以复杂的形式出现的，包括生产、分配、交换和消费的全过程。社会时代的特点是由主要的生产关系决定的，但是，以主要生产关系为中心，还并存着其它附属的生产关系。因此：

- A. 只有存在纯粹的生产关系，才能使一社会时代具有鲜明的特征
- B. 经济基础是综合的，是一社会全部生产关系的总和
- C. 上层建筑决定着一社会的生产关系
- D. 一社会时代主要的生产关系决定着该社会的一切特点

84. 情感是人类对世界的艺术掌握的重要特征。艺术审美正是要以情感规范艺术对象、以情感感染、启示艺术鉴赏者。因此：

- A. 人类的生活实践是艺术的源泉
- B. 人类对世界的艺术掌握即是情感的掌握
- C. 一切艺术都与情感有关
- D. 艺术都以高尚的人类情感为对象

85. 尽管资本是价值创造过程中的重要手段，其积累的确是经济增长不可缺少的物质条

件，但作为物化劳动或死劳动，它不可能自己创造自己。离开了人的劳动，它只能是一堆不能增值的一般等价物而已。其二，资本并非个人努力的产物，而是集体或社会劳动的结果，从生理学的角度来看，每个人的劳动能力(无论是体力还是脑力)并不存在巨大差别。仅靠占有和积累自己的剩余劳动是不可能暴富的。所以说：

- A. 资本是剩余价值的表现
- B. 暴富只有靠占有别人的剩余价值才能实现
- C. 资本都是社会全体成员的
- D. 在一定条件下，资本也可以创造价值

86. 然而，对测验的使用也有许多批评甚至攻击；使用测验有时甚至会带来事与愿违的不良后果。造成这种情况的原因，固然在于测验本身还不是尽善尽美，正像世界上许多东西都非尽善尽美一样，更多的在于人们对测

验的误解和误用正像我们时常误解和误用世界上许多其它东西一样。因此：

- A. 我们应该取消测验 B. 使用测验能使我们解决生活中的一切难题
- C. 还应不断地完善测验并引导人们正确地认识和使用测验 D. 测验是可有可无的东西

87. 学者们已经证明：效率与公平是对矛盾统一体。实现共同富裕需要经历若干阶段性过程，不可能一蹴而就，但我们又不能不在每一个阶段为实现共同富裕作具体的准备。因此：

- A. 我们要在重视效率的前提下，兼顾公平 B. 我们首先要重视公平
- C. 我们要坚持效率优先 D. 效率与公平之间的矛盾永远不可能得到正确解决

88. 小刘、小李、小冯三人在英语四级考试后自己估计：

小刘说：“我肯定优秀”

小李说：“我肯定及格了”

小冯说：“我不可能是优秀”

成绩下来以后发现：他们三个人全猜错了，并且不及格、及格、优秀各一个。可见：

- A. 小刘不及格，小李优秀，小冯及格 B. 小刘优秀，小李及格，小冯不及格
- C. 小刘及格，小李不及格，小冯优秀 D. 小刘及格，小李优秀，小冯不及格

89. 根据边际收益递减规律我们可以知道，在其他投入不变的情况下，随着某一投入量的增加，我们获得的产出增量越来越小，但是在边际成本等于边际收益之前，都是有利可图的。

作为一个厂商我们应当：

- A. 尽可能地减少投入，以保证最大的边际收益 B. 增加投入，直到边际成本等于边际收益
- C. 尽可能增加投入，以获得最大利润 D. 维持一个固定的投入量

90. 世界人均淡水量约 8300 立方米，但每年 2 / 3 以洪水形式流失，其余的 1 / 3 为饮用水和灌溉用水，由于工业化和人类用水量的增加，目前世界用水量与 1990 年相比增加了近 10 倍。未来的淡水不足是构成经济发展和粮食生产的制约因素之一。因此：

- A. 要减少工业用水
- B. 要减少生活用水
- C. 一方面要节约用水，另一方面应开发利用新的淡水资源，以解决缺水问题
- D. 必须减少人口总数以扩大人均淡水水量

三、定义判断

91. 连续犯，是指行为人基于数个同一的犯罪故意，连续多次实施数个性质相同的犯罪行为，触犯同一罪名的犯罪形态。

下列属于连续犯的是：

- A. 某甲为了杀害乙、丙，一次性将药物放入其饭锅内，造成乙、丙同时死亡
- B. 某赌徒为了偿还赌债，先后 8 次入室行窃，窃得赃款三万余元
- C. 江西一恶匪，流窜全国，多次杀人、抢劫，窃得赃款三万余元
- D. 某出纳员偶然发现单位财务制度存在疏漏，将 3000 元公款占为己有。后来又再次利用该漏洞贪污 8000 元

92. 行政处分，是指国家机关、企事业单位依照法律或规定赋予的权限，根据法律或有关规章制度，按照行政隶属关系，给予违反规章制度或犯有轻微失职行为尚不够刑事处分者的一种制裁。下列不属于行政处分的是：

- A. 因贪污而被开除公职
- B. 工作失职而被给予党内警告
- C. 因流氓行为被公安机关处以罚款
- D. 因工作不称职而被强制辞退

93. 保险，是指投保人根据合同约定，向保险人支付保险费，保险人对于合同约定的可能发生的事故因其发生所造成的财产损失承担赔偿责任，或者当被保险人死亡、伤残、疾病或者达到合同约定的年龄、期限时承担给付保险金责任的商业保险行为。

下列不属于保险的一项是：

- A. 某食品厂与保险公司签订了企业财产保险合同，食品厂按日交纳保险费，保险公司负责该厂的火灾保险
- B. 李先生与保险公司投保自家的房屋
- C. 村长向村民们保证；使用村委会提供的麦种一定会丰收，否则大家可以罢免他，并要求他赔偿损失
- D. 学生在学校统一购买伤病保险

94. 不正当竞争是指经营者违反《反不正当竞争法》的规定，损害其他经营者的合法权益，扰乱社会经济秩序的行为。所谓经营者是指从事商品经营或营利性服务的法人、其他经济组织和个人。

下列不属于构成不正当竞争行为的要素是：

- A. 违反《反不正当竞争法》的规定
- B. 在经营中吓唬顾客
- C. 损害其他经营者的合法权益
- D. 扰乱社会经济秩序

95. 挑拨防卫，是指故意挑逗他人对自己进行攻击，然后以“正当防卫”为借口对其加以侵害的行为。下列属于挑拨防卫的是：

- A. 某甲与某乙妻子通奸，被乙痛打，遂产生杀人报复之念。甲先到乙门口把乙妻叫出来，乙追出来便打，甲用匕首将其捅死
- B. 玉、赵二人争吵不休，王说：“你再骂，我就打你！”赵不甘示弱：“你打我试试。”二人是打了起来

- C. 兄弟三人争夺一个家传古砚，老大一气之下将其摔碎，老二老三一起殴打老大，老大奋起反抗
- D. 一无业人员抢夺别人皮包时被抓住，遭到殴打，于是拼命还手，造成对方伤亡

96. 行政复议是指公民、法人或其他组织对行政机关的具体行政行为不服，依法向作出具体行政行为的行政机关的上级机关或法律规定的行政机关提出申诉，由其决定是否合法，适当重新审议并做出裁决的行政程序制度。

则下列属于行政复议的是：

- A. 一群农民因不满乡政府强制占用其耕地，集体上访，要求县政府为其作主
- B. 某行政机关工作人员因与上司关系不和，被无故停职遂向法院上告以讨还公正
- C. 被告人因不满一审法院的裁决，因而提请上诉，要求高级法院重审
- D. 消费者向消费者协会投诉某食品厂生产劣质食品，损害消费者权益

97. 政治决策就是政府和政党等政治管理主体对政治生活的重大问题制定和选择行动方案的过程，它是对政治生活的方向、目标、原则、方法和步骤进行抉择的过程。

下列不属于政治决策的特征的一项是：

- A. 政治性，主要涉及政治生活
- B. 指导性，它是关于政治管理的蓝图设计，决定着政治管理的整个实施过程
- C. 条款性，必定以很多条款来规定
- D. 权威性，它的行为主体政府给它带来了权威性

98. 政策分析是依据一定的政策理论、知识，运用各种分析方法和技巧，帮助决策者制定和优化具体政策的过程。

下列叙述有误的一项是：

- A. 政策分析必须以一定的政策理论为基础 B. 政策分析要运用一定的方法和技巧
- C. 政策分析就是要把握领导的意图 D. 政策分析的目标是帮助决策者制定和优化具体政策

99. 倾销，指垄断资本家为了击败竞争对手，夺取国外市场，在一定时期内以远远低于国内外市场的价格，甚至低于生产成本的价格抛售商品的一种行为。

下列行为属于倾销的是：

- A. 中国某丝绸出口公司为打开销路，在欧洲五国开展“买一送一”优惠活动
- B. 江苏的洗衣粉价格普遍比浙江便宜
- C. 日本照相器材企业为挤垮中国的民族产业，将其胶卷低于成本五元出售给中国消费者
- D. 美国出口到中国的小麦，由于路途被水淋坏，以原价的七折出售

100. 行政实施是指从行政决策一经形成或最后批准时起，行政机关及其工作人员贯彻决

策、实施决策的全部活动或整个过程下列不属于行政实施的一项是：

- A. 行政部门为推行一项决策，检查行政决策是否与有关法律法规相抵触
- B. 行政部门执行政策时遇上国庆，放假休息
- C. 行政部门准备执行救灾措施所需要的经费和物资装备
- D. 为推动群众爱卫护城自觉行动，县政府召开动员大会，发布动员令

四、事件排序

101. (1)提起上诉 (2)原告起诉 (3)法院终审 (4)法院判决 (5)提出申诉

- A. 2-3-5-1-4 B. 2-4-5-1-3 C. 2-4-1-3-5 D. 5-1-2-4-3

102. (1)公民申请行政复议 (2)行政机关的具体行政行为侵犯公民已经依法取得土地使用权

(3)公民提起行政诉讼 (4) 申请人民法院强制执行 (5)行政复议机关作出行政复议决定

- A. 2-3-1-4-5 B. 2-3-4-1-5 C. 2-4-1-3-5 D. 2-1-5-3-4

103. (1)台风警报发出 (2)渔船出海捕鱼 (3)避风港供渔船避风和卸货 (4) 渔船又出海捕鱼 (5)渔船驶入避风港

- A. 2-3-5-1-4 B. 2-3-4-1-5 C. 3-5-1-2-4 D. 3-2-1-5-4

104. (1)雷声轰隆震耳 (2)闪电使人目眩 (3)洗天暴雨骤降 (4) 平地积水数丈 (5)军队救灾

- A. 1-2-3-4-5 B. 1-2-3-4-5 C. 2-1-3-4-5 D. 3-1-2-4-5

105. (1)听取被行政处罚者的意见 (2)告知被处罚者在受到处罚后有何权利 (3)书面处罚决定 (4) 讯问取证 (5)表明执行公务者的身份 (6) 说明行政处罚的理由

- A. 5-6-3-4-1-2 B. 6-5-4-3-1-2 C. 5-4-6-2-3-1 D. 5-4-6-1-3-2

第四部分结束，第五部分准备开始！

第五部分 资料分析

(共 20 题，参考时限 18 分钟)

针对所给文字、图或表回答问题。你应根据资料提供的信息进行分析、比较、计算、处理。

根据下面的文字资料回答问题：

(1) 2005 年某国商品出口总额 249211 亿美元，比上年增长了 27.8%，进口总额 437827 亿美元，比上年增长了 35.9%。从地区的情况来看，东部地区出口总额 226113 亿美元，比上年增长 27.5%，进口总额 225096 亿美元，比上年增长 359%；中部地区出口总额为 15538 亿美元，比上年增长 33%，进口总额 2 06350 亿美元，比上年增长 37.3%；西部地区出口总额 7560 亿美元，比上年增长 28%，进口总额 6381 亿美元，比上年增长 7.7%。

106、2005 年某国商品进出口总额是多少亿美元？

- A、6 49211 B、6 25096 C、6 87038 D、6 73407

107、西部地区进出口总额占某国进出口总额的百分比是多少？

- A、20% B、25% C、29% D、15%

108、东部地区进出口总额是西部进出口总额的几倍？

- A、324 B、42 C、234 D、423

109、按出口增长率排序依次是：

- A 东部地区、西部地区、中部地区 B 东部地区、中部地区、西部地区
C 中部地区、西部地区、东部地区 D 中部地区、东部地区、西部地区

110、2004 年某国商品出口总额为多少亿美元？

- A、1 89387 B、1 95000 C、2 00967 D、2 0037

(2) 根据下表回答问题：

进入世界 500 强企业最多的五个国家									
位 数		国家	企业数 (家)		营业额 (百万美元)	占 500 强企业的 %		利润额 (百万美元)	
2000 年	1999 年		2000 年	1999 年		2000 年	1999 年		
1	1	美国	185	179	5 503 906.8	39.1	36.9	324 719.3	
2	2	日本	104	107	2 934 457.3	20.9	23.1	43 875.4	
3	5	法国	37	37	1 006 623.4	7.2	7.3	41 202.6	
4	4	德国	34	37	1 176 002.0	8.4	9.6	53 007.3	
5	3	英国	33	38	839 625.6	6.0	6.0	34 163.0	

111、2000 年美国上榜企业数比上年增加了百分之多少？

- A、34% B、32% C、3 0% D、35%

112、2000 年美国上榜企业的营业额及占 500 强营业总额的百分比比

上年提高了多少个百分点？

- A、2 934 4573， 32 B、5 503 9068， 20 C、1 176 0020， 22 D、5 503 9068， 22

113、该表中属于欧洲国家的世界 500 强企业 2000 年比 1999 年减少了多少家？

- A、7 B、8 C、4 D、5

114、根据该表按营业额高低排序五国依次是：

- A、美国、日本、法国、英国、德国 B、美国、日本、德国、法国、英国

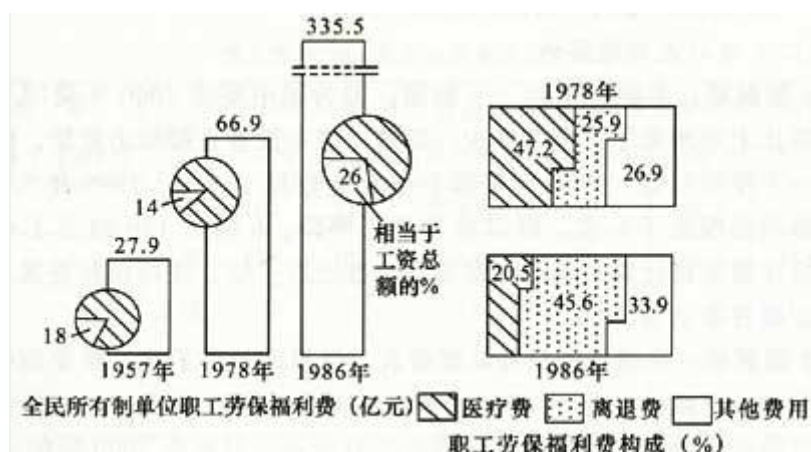
- C、英国、美国、日本、德国、法国 D、美国、日本、德国、英国、法国

115、根据该表按利润额高低排序五国依次是：

- A、英国、美国、日本、德国、法国 B、美国、日本、法国、英国、德国

- C、美国、日本、德国、法国、英国 D、美国、德国、日本、法国、英国

(3) 根据下面的统计图回答问题：



116、1978 年全民所有制单位职工劳保福利费比 1957 年增加了多少？

- A、279 亿元 B、669 亿元 C、49 亿元 D、39 亿元

117、1986 年全民所有制单位职工的医疗费为多少？

- A、68777 6 亿元 B、68747 4 亿元 C、68777 5 亿元 D、无法确定

118、在 1978 年全民所有制单位职工劳保福利费构成中，所占比重最大的是：

- A、医疗费 B、离休费 C、退休费 D、其他

119、以下说法正确的是：

- A、1957 年全民所有制单位职工劳保福利费占工资总额的 18%

- B、1986 年全民所有制单位职工劳保福利费为 335.5 亿元

- C、1986 年全民所有制单位职工劳保福利费中，离退休费所占比重比 1978 年增加了 19.7 个百分点

D、以上说法均对

120、1978 年用于医疗费用支出的全民所有制单位职工劳保福利费比用于其他支出费用多多少？

A、 203 亿元 B、203 C、203% D、无法确定

(4) 根据下面的文字回答问题：

2004 年，福州市全市 GDP 达 1225 亿元，同比增长 10.2%，已连续第 9 年保持两位数增长；全市人均 GDP 为 2414 美元，比上年增长 9.5%，其中市区人均 GDP 达到 4171 美元，继续在全国各大城市中名列前茅。市区居民恩格尔系数为 42.2%，比上年下降 2.5 个百分点。

附：2004 年福州市主要经济数据表：

类 别	金 额	比上年增幅
国内生产总值（GDP）	1225亿元	10.2%
外贸出口总额	50.79亿美元	15%
财政总收入	102.66亿元	7.3%
农村人均纯收入	4209元	5.1%

121、2003 年福州市人均 GDP 约为多少美元？

A.2205 B.2250 C.2287 D.2310

122、按人民币：美元 8.27：1 的汇率计算，可知 2004 年福州市人口总数约为：

A.575 万 B.599 万 C 613 万 D.627 万

123、按上述汇率计算，2004 年福州市区人均 GDP 达到多少元(人民币)？

A. 19964 B.20877 C.31055 D.34494

124、2004 年福州市农村人均纯收入比 2003 年增加了多少？

A. 205 元 B.215 元 C. 225 元 D. 235 元

125、下列叙述中，错误的是：

- A. 2003 年福州市财政总收入不到 96 亿元
- B. 2003 年福州市外贸进出口总额不到 45 亿美元
- C. 2004 年福州市区人均 GDP 1 比全市人均 GDP 高出约 73 个百分点
- D. 2004 年福州市区人均 GDP 的增长速度大于全市 GDP 的增长速度

(5)根据下述文字资料，回答下面问题：

1949 年以来，中国人力资本存量形成受到两次大的破坏和冲断。第一次是 20 世纪 60 年代初，在校生由 1960 年的 10 963 万人，下降到 1962 年的 7 840 万人，其中中专生由 222 万人下降到 54 万人；

第二次是“文化大革命”期间，估计有 78 万～80 万人未能受到大学教育，超过 1 亿中小学生受到质量很低的教育，几百万知识分子无法工作和科研。另外，全国 12 岁以上人口平均文化程度由 1964 年的 234 年上升到 1982 年的 461 年，但不足小学毕业程度。

126、1962 年，中国在校生共多少人？

- A、 10 963 万 B、 7 840 万 C、 222 万 D、 54 万

127、1962 年，中国在校中专生比 1960 年减少了几万人？

- A、 200 万 B、 250 万人 C、 260 万人 D、 168 万

128、以下说法正确的是：

- A、 1982 年，中国 12 岁以上人口平均文化程度尽管比 1964 年提高了一些，但还不到小学毕业程度
- B、 中国“文化大革命”期间，约有 78 万～80 万人未受到大学教育
- C、 中国“文化大革命”期间，数百万知识分子无法正常工作 and 科研
- D、 以上说法均对

129、以下说法不错误的是：

- A、 1949 年以来，中国人力资本只遭受到 1976 年的“文化大革命”这样一次大的破坏
- B、 在“文化大革命”期间，有超过 1 亿的中学生受到低质量的教育
- C、 在“文化大革命”期间，有超过 1 亿的小学生受到低质量的教育
- D、 未给出

130、1960 年到 1962 年间，中国在校学生减少了百分之几？

- A、 26% B、 27% C、 28% D、 29%

请将题本和答题卡留在桌上，等待指标

参考答案：

1: B B C B B B A D D B 11-15: A D C C C

16: ABD 17 ABC 18 ABCD 19 ABCD 20 ABCD

21: C B D B B C C D B A 31-40: D D C A D B D D C A 41-42 暂时空缺

43-45: B A A 46-50: B C A C D 51-60: B D A D D D B C D D

61-70: A C D D B D C D B B 71-80: C D A C B C C B C C

81-90: D B B B B C A C A C 91-100: B C C B A A C C C B

101-110: C D D C D C A A C B 111-120: A D B B D D C A D C

121-130: A C A A D B D D D C