

# 2008 年陕西省公务员考试《行测》真题

## 第一部分：常识判断

- 1、对于法律事实分类正确的是：  
A、法律事件      法律后果      B、法律后果      法律责任  
C、法律事件      法律行为      D、法律行为      法律制裁
- 2、私营经济已经成为我国国民经济的有机组成部分，根据宪法规定，我国对于私营经济要实施（    ）的方针。  
A、引导    监督    管理      B、引导    限制    管理      C、指导    限制    管理      D、监督    限制    帮助
- 3、根据《国家行政机关公文处理办法》的规定，下列说法不正确的是：  
A、陕西省人民政府与山西省人民政府可以联合行文    B、陕西省公安厅和西安市人民政府可以联合行文  
C、陕西省人民政府和中共陕西省委可以联合行文      D、省教育厅只有通过省政府办公厅才可以向各市县政府行文
- 4、小王是某县教育局的一位公务员，因为某种原因被辞退，他在得知处理决定后三十日内可以向（    ）申请复核。  
A、县人民政府      B、县教育局      C、市教育局      D、市人民政府
- 5、根据《中华人民共和国公务员法》，下列说法中正确的是：  
A、新录用的公务员，试用期为六个月  
B、公务员解除降级、撤职处分的，不视为恢复原级别、原职务  
C、公务员在挂职锻炼期间，人事关系转到挂职的单位  
D、曾被开除公职的人员，可以被再次录用为公务员
- 6、中华人民共和国成立后由中央人民政府颁布的第一部法律是：  
A、宪法      B、刑事诉讼法      C、婚姻法      D、劳动法
- 7、公民在法律面前，人人平等可以做出如下理解：  
A、公民的立法平等      B、公民在立法、执法、守法上一律平等  
C、公民的执法平等      D、公民在法律的适用上一律平等
- 8、李某因触犯国家法律被判刑入狱，但并没有被剥夺政治权利，这意味着李某在服刑期间：  
A、没有选举权              B、经过有关机关批准可以行使选举权  
C、可以行使选举权      D、暂时被停止行使选举权
- 9、下列哪一条是我国制定法律的一项基本原则：  
A、以事实为依据      B、公民在法律面前一律平等      C、灵活性与原则性相结合      D、群众与领导相结合
- 10、张先生自己创办了一家化工生产厂并担任厂长，他可以被称为这个化工生产厂的：  
A、法人代表      B、法人      C、法定代表      D、法定代表人
- 11、土地对农民具有重要意义，我国农民对土地享有：  
A、使用权      B、转让权      C、所有权      D、所有权和使用权
- 12、行政诉讼是（    ）之间的活动。  
A、人民法院、原告和行政机关工作人员      B、原告和人民法院  
C、人民法院和一切诉讼参与人              D、行政机关和行政管理相对方
- 13、我国《婚姻法》中“凡直系血亲关系或三代以内旁系血亲关系者禁止结婚”的规定的出发点是：  
A、避免包办婚姻              B、近亲结婚会大大增加遗传病的发病几率  
C、防止家庭势力过分膨胀      D、出于伦理道德的考虑
- 14、对于我国案件审理程序的表述，下列哪一种说法正确：  
A、两审终审制，但最高人民法院一审判决即为终审判决      B、单纯的两审终审制，两审后当事人不得上诉  
C、一审终审制，但当事人可以向上级人民法院提出复核      D、一审终审制，但允许当事人上诉
- 15、赵某患有间歇性精神病，他在病发时手持利器将王某逼至一间旧房子，王某在无处可逃的情况下顺手向赵某扔了一块砖头，导致赵某头部受伤。王某的这种行为属于：  
A、正当防卫      B、防卫过当      C、故意伤害      D、紧急避险
- 16、张某是一位个体经营者，因生意关系与同行发生争执，动手将对方弄伤，但法院认为张某的行为情节显著轻微而且危害不大，因此并不追究法律责任。对此我们应该做如下理解：  
A、张某的行为是犯罪但不以犯罪论处      B、张某的行为不构成犯罪  
C、法院为了安定团结而采取的特殊策略      D、张某贿赂了相关执法人员从而免于处罚
- 17、我国的立法体制是中央统一领导下的：  
A、一级立法体制      B、民主集中制立法体制      C、中央与地方两级立法体制      D、多级立法体制
- 18、巡视员是对应于（    ）的非领导职务。  
A、厅局级正职      B、县处级正职      C、厅局级副职      D、县处级副职
- 19、社会主义法律的本质是由（    ）决定的。  
A、社会生产力水平      B、社会经济基础      C、党的政策      D、全体社会的共同意志
- 20、王某与张某为同一所大学同一个专业的教师，俩人曾合作撰写过一本学术专著，后来王某欲将自己撰写内容中的一部分在公开刊物上发表，为此，王某应该：

- A、在发表论文时必须署俩人之名 B、可以不署张某之名，但必须支付张某一定报酬  
C、可以不署张某之名，但必须征得张某同意 D、可以不署张某之名，也无需告知张某

21、根据《行政诉讼法》，人民法院从立案之日起（ ）必须做出第一审判决。

- A、15日 B、1个月 C、2个月 D、3个月

22、李某酒后驾车在市内狂奔，连续冲撞数部车辆和行人，造成了一人死亡和多人受伤。李某的行为触犯了法律，严重危害：

- A、公共安全 B、社会管理秩序 C、社会进步 D、国家安全

23、严老先生是一个富商，病故后留下了近五百万的遗产。其子严肃认为妹妹严英已经出嫁，不能继承遗产，而严英则认为她也应该享有继承权，同时严老先生的弟弟严富贵也要求继承财产。为此，严老先生的夫人张淑贞不知如何分割。根据我国法律规定，严老先生的财产继承人应该是：

- A、严肃-严英 B、张淑贞-严肃-严英-严富贵 C、张淑贞-严肃 D、张淑贞-严肃-严英

24、在我国现行体制下，行政复议的主体是：

- A、做出具体行政行为的行政机关的党组织 B、做出具体行政行为的行政机关  
C、做出具体行政行为的行政机关的上级机关 D、做出具体行政行为的行政机关的同级监察机关

25、某制药企业因为某种原因受到了市政府停止生产的处理决定，该企业对此处理决定不服，它应该向（ ）申请复议。

- A、省政府 B、市政府 C、省人大 D、市人大

## 第二部分 言语理解与表达

26、某国外媒体报道：中国政府保证从今年6月开始，停止生产超薄塑料购物袋。为此，中国官员还曾专程赴孟加拉国取经。孟加拉高级研究中心的负责人阿拉克·拉赫曼博士说：“中国的优势在于，如果他们决定了做某事，他们就会去做。”世界环保组织也对此举表示欢迎。

对这段文字概述最恰当的是：

- A、中国积极促进全球反塑料袋行动进程 B、孟加拉国塑料产业很发达  
C、世界环保组织的主要任务是限制塑料产业发展 D、英国全国已经不使用塑料袋了

27、2006年电视剧《士兵突击》播出后，许三多这个形象在国内受到众多观众的欢迎，有评论指出他就是现实生活中普通人普遍具有的缺点和魅力的完美结合体。23岁的杭州大学生徐博是典型的三多迷，他说：“不光是我，我的祖父、父亲和我的同学，我们都喜欢看许三多。我都看了三遍，每次看都哭了又哭。”

许三多这个形象之所以受欢迎，最可能的原因是：

- A、绝大多数的中国观众都看过《士兵突击》 B、喜欢许三多的观众都是大学生  
C、电视剧在中国有很大市场 D、许三多具有的很多特质打动了观众

28、俗话说，行百里者半九十。世界上攀登珠穆朗玛峰的人很多，而能真正登顶成功的人是少之又少。因为攀登珠穆朗玛峰的人，如果不到巅峰插上旗帜，哪怕离登顶只剩下十米不到的距离，都不是真正的成功。

这段话主要想告诉我们：

- A、很多人都在攀登珠穆朗玛峰 B、成功是有明确标准的  
C、大多数人都只能攀登到距离巅峰十米的位置 D、只有插上旗帜才能证明成功了

29、调查发现，超过80%的公众认为跨国公司促进了中国经济发展，其主要贡献最主要体现在“带来先进的管理经验”与“提供更优质的产品和服务”。但是，也有73.1%的人对跨国公司“把污染产业和工厂转移到中国来”表示强烈不满。有评论分析说，相对于国内的一些小企业来说，跨国公司污染环境的行为更加让人痛心疾首。对此，《人民日报》一署名文章呼吁：在关注经济指标的同时，要切实加强对跨国公司履行环境保护责任的监督。

这段文字意在说明：

- A、我国经济发展应该主要依靠自主创新 B、跨国公司在我国严重缺乏环保意识  
C、我国大部分人不欢迎跨国公司来华投资 D、我国公众对跨国公司心态矛盾

30、从所获得的最新数据看，2005至2006学年，有223543名美国学生在外国求学，他们仅占美国入学学生的1%，其中只有6000名学生选择留学中国。尽管69%的美国学生能在地图上找到中国，但只有18%的学生知道世界上使用人数最多的语言是汉语（74%的人认为是英语），有50%的学生认为中国的人口仅是美国人口的两倍（实际是四倍）。

这段文字主要想提醒我们：

- A、中国的留学生比美国的留学生多 B、美国学生经常在网上了解其他国家  
C、有必要加强美国人对中国的认识 D、有必要多派中国学生到美国留学

31、目前很多市面上的汽车，80%的材料使用了可再生物质。在时尚界中，也有了跟报废汽车结合的产物，瑞士两兄弟Markus和DanielFreitag设计的FREITAG背包，就使用了集装箱卡车车厢涂焦油的防水布、汽车安全带以及报废自行车轮胎的内胎，这种充满创意的资源再利用也是一种为环境保护作贡献的途径。

对这段文字概括最准确的是：

- A、现在已经全部用可再生物质生产汽车了 B、可再生材料及物质用途广泛  
C、瑞士两兄弟Markus和DanielFreitag设计的产品都是用报废材料制作的 D、时尚界使用的产品都很有创意

32、“社会赞许与不赞许”是我们看待青少年行为最常选择的视角。对于不赞许的行为，就容易进行负面描述。因此不听话就成了叛逆（而不叫有自主性），不爱学习就成了不用功及偷懒（而不叫非学业性向较高），自然，

喜欢上网也就成了网络上瘾（而不叫高度热衷网络）。

这段话意在说明：

- A、人们对青少年的评价总是围绕着“好与坏”的二元判断标准进行
- B、对青少年的评价多半是负面的
- C、青少年大部分都不听话
- D、青少年上网成瘾已成了社会现象

**33、**别人的脸就像一面镜子，我们对别人的态度与别人对我们的态度是一样的。处理好人际关系的道理很简单，那就是“爱出爱返，仁往仁来；恨出恨进，怨往怨来”。

这段话告诉我们：

- A、和谐完全是人们的主观感受
- B、人的素质决定着为人处世的态度
- C、人与人的关系是相互影响的
- D、意识是对客观存在的如实反映

**34、**网络是大家熟知的东西，它为我国建设高效、透明、务实、廉洁的政府提供了物质技术条件，大大节约了行政成本，同时一定程度上克服了信息传播的不对称性。我国各级政府积极利用网络技术，及时、准确发布政务信息以便于公众知情，参与和监督政府。

这段话意在强调：

- A、我国政府积极利用各种条件，贯彻落实对人民负责的原则
- B、我国政府积极创造各种条件，从经济活动中解放出来
- C、网络技术的广泛利用，减轻了政府负担，但削弱了国家宏观调控能力
- D、网络技术的广泛运用，提高了政府工作效率，其目的是吸引世界的目光

**35、**提起节日，中国人首先想到的是春节，贴窗花、写春联、吃饺子、放鞭炮等等，大多数西方人可能首先想到圣诞节，唱圣诞歌、互送圣诞礼物等等。

这告诉我们：

- ①民族节日蕴涵着民族生活中的风土人情、宗教信仰和道德伦理等文化因素。
- ②民族节日展现出一个民族文化生活的全部内涵。
- ③庆祝民族节日，是民族文化的集中展示。
- ④透过各民族的传统节日我们可以领略不同民族文化的韵味。

- A、①②③
- B、②③④
- C、①③④
- D、①②④

**36、**今年全国人大和全国政协会议期间，为了更好地反映民情民意，部分人大代表和政协委员在互联网上利用 QQ、E-mail、Blog（博客）等现代信息交流方式征求网民意见，并及时予以反馈，深受网民欢迎。

这段文字表明：

- ①人大代表和政协委员由人民选举产生。
- ②人大代表和政协委员对人民负责。
- ③人大代表和政协委员的发言不受追究。
- ④人大代表和政协委员受人民监督。

- A、①③
- B、②③
- C、②④
- D、③④

**37、**俄国诗人普希金在一首诗中写道：“假如生活欺骗了你，不要悲伤，不要心急！忧郁的日子里需要镇静。相信吧，快乐的日子将会来临。”

普希金这首诗想告诉我们，面对生活中的挫折，我们需要：

- ①有坚强的意志和毅力。
- ②有战胜挫折的良好心理品质。
- ③以乐观的心态回避挫折。
- ④树立对生活的正确认识和对待生活的正确态度。

- A、①②③
- B、①②④
- C、①③④
- D、②③④

**38、**早发育的，身高增长开始的早，增长高峰出现的也早，增长停止也早，整个增长过程可能比较短。因此，早发育类型的孩子虽然开始时显得比同龄孩子高，但成年可能比晚发育的孩子个子矮，而体重比同样身高而晚发育的孩子要重些。

这段文字中，“增长高峰”和“增长过程”分别是指：

- A、最高身高和增长时间
- B、最高增长速度和增长高度
- C、最高身高和增长速度
- D、最高增长速度和增长时间

**39、**人的尊严就在于思想。由于有了思想，人就好比摧毁他的任何东西甚至整个宇宙都高贵得多。因此，人就能吞掉一个世界。

这段文字直接支持的观点是：

- A、人类是需要有思想的
- B、人类的思想是无处不在的
- C、人的尊严就在于人的思想
- D、无论哪种人都能改变整个世界

**40、**《三国演义》是明朝初期罗贯中创作的历史演义小说，它取材于东汉末年的魏、蜀、吴三国鼎立的一段历史，为那个群雄逐鹿的动荡时代提供了全景式的画卷，创造了数以百计的栩栩如生的人物画廊。

最能准确复述这段文字主要意思的一项是：

- A、《三国演义》是一部历史演义小说  
B、历史演义小说《三国演义》的背景及主要内容  
C、《三国演义》的作者是明朝初期的罗贯中  
D、《三国演义》塑造了众多性格鲜明的人物

41、当雇员和雇主不共处一地的时候，管理工作就必须适应这种情况，要使每一个人学会把自己训练成为独当一面的生产能手，新的反馈机制必将形成、发展，老板和工人就能确定所做工作的质量了。

这段文字主要说明：

- A、管理工作对处理雇员和雇主雇佣关系的重要性  
B、在生产当中的老板与工人之间的新的反馈机制的作用  
C、老板与工人之间的关系  
D、新的反馈机制如何在老板与工人之间起作用

(材料)

尽管具有人类学意义的工作相当古老——有两个例子，古希腊历史学家希罗多德，或北非学者阿拉伯·英布·卡尔顿，在公元前 5 世纪和公元 14 世纪撰写的对他人的描述——但作为独立研究领域的人类学是相对晚近的西方文明的产物。例如，在美国，学院或大学（在罗彻斯特大学）普通人类学含学分的第一次课程直到 1879 年才开设。倘若人们一直关心他们自己及其起源，以及其他的人，那么为什么成体系的人类学学科这么长时间才问世呢？

这一问题的答案就像人类历史一样复杂。在某种程度上说，它与人类的技术局限有关。在大部分历史中，人们一直受限于他们的地理范围。没有到世界遥远地方旅行的手段，对远远不同于人们自己的文化和民族的观察是艰难的——如果不是不可能的话——冒险。大范围的旅行通常是少数人独享的特权；只有当适当的运输和通信方式得到发展，对其他民族和文化的研究才可能盛行。

这并不是说，人们一直没有注意到世界上与他们自己在看法和行为上不同的其他民族的存在。例如，圣经《旧约全书》与《新约全书》充分提到各种各样的民族，其中有犹太人、埃及人、赫梯人、巴比伦人、埃塞俄比亚人、罗马人，等等。这些民族之间的差异，比之他们中任何人与澳大利亚、亚马逊森林、北极的因纽特人等的差异，就显得逊色了。借助于向真正遥远地方旅行的手段，人们有可能第一次遇到这类根本不同的民族。正是与迄今未知民族的大量接触——这开始于欧洲人试图把其贸易和政治统治扩大到世界各地之时——人们的注意力才集中于人类各种各样的差异。

使人类学缓慢成长的另一个重要因素是，欧洲人只是逐渐认识到，在所有这些差异的掩饰下，他们可能与任何地方的人共享基本的“人性”。不与欧洲人共享基本文化价值的社会被贴上“未开化的”或“野蛮的”标签。直到 18 世纪中叶，相当多的欧洲人才开始认为这类人的行为与对他们自身的理解是完全相关的。这样一个时代到来了：人们越来越努力根据自然法来解释事情，对以权威文本为根据的传统解释表示怀疑，对人类多样性的兴趣日渐浓厚。

打开资料

42、对插入语“如果不是不可能的话”的作用分析正确的一项是：

- A、强调在不同时期对同一文化同一民族观察的艰难性  
B、强调在不同时期对同一文化同一民族观察的可能性  
C、强调在同一时期对不同文化不同民族观察的艰难性  
D、强调在同一时期对不同文化不同民族观察的可能性

43、下面不属于导致人类学缓慢成长的原因的一项是：

- A、广阔的地理范围，造成交往的局限  
B、落后的旅行手段，造成沟通的不便  
C、显著的民族差异，导致理解的困难  
D、迟缓的认识发展，导致研究的滞后

44、下面对“人类多样性”理解最恰当的一项是：

- A、不同民族的文化差异及其在年龄、性别、性格等方面的不同  
B、人类的不同起源和人们对不同民族、不同文化的独特看法  
C、民风习俗的差异和对“未开化的”或“野蛮的”民族的认同  
D、不同的民族在文化价值观念上的差异及其独特的行为方式

45、根据全文内容，下面说法不恰当的一项是：

- A、具有课程意义的人类学工作出现较早，但含有学分的人类学课程形成较晚  
B、人们较早关注到与己不同的民族的存在，但关注人类各种各样的差异却较晚  
C、北极的因纽特人与赫梯人之间的差异比犹太人与埃及人之间的差异要显著  
D、长期以来欧洲人没有意识到“野蛮人”的行为与对他们自身的理解密切相关

46、下列词语中画横线的字，每对的读音完全相同的一组是：

- A、强求/牵强 纤夫/纤尘不染 来日方长/拔苗助长  
B、宿仇/宿将 落笔/失魂落魄 差可告慰/差强人意  
C、解嘲/押解 蹊跷/另辟蹊径 一脉相传/名不虚传  
D、卡片/关卡 度量/置之度外 方兴未艾/自怨自艾

47、下列词语中没有错别字的一组是：

- A、忌讳 砥砺 蜚然成章 流水不腐，户枢不蠹  
B、刍议 安详 自鸣得意 愚者千虑，必有一得  
C、烦燥 闲暇 味同嚼蜡 金玉其外，败絮其中  
D、徇私 编纂 坚如磐石 盛名之下，其实难负

48、下列各句中加横线的俗语使用恰当的一句是：

- A、老张今年 65 岁，短小精悍，思维敏捷，干起活来一点也不比年轻人差。  
B、这种首饰的款式非常新颖、时尚，一经推出，不少爱美的女士慷慨解囊抢购。  
C、中国女排捧回冠军奖杯时，举国弹冠相庆，无不佩服陈忠和教练的坚韧和勇气。  
D、他三天两头到厂长办公室磨洋工，希望厂里解决职工子女上学难的问题。

49、下列句子中，标点符号使用错误的一项是：

- A、人的一生，总是在不停地尝试，尝试拥有，尝试放弃；人的一生，又始终在不断地追求，追求自由，追求幸福。  
B、墙上挂着一幅画，画的题目取自宋朝临川（属江西）诗人谢无逸《千秋岁·咏夏景》中的“人散后，一钩新月天如水”。  
C、闲聊之中，我忍不住问她：为什么还要回到这曾让她伤心流泪的地方？她摇摇头，无奈地笑了。  
D、“还愣着干嘛？”妈妈大声地训斥我：“还不快去把房间收拾收拾，等会儿老师来了，看你怎么办……”

50、方永刚既是“知者”，\_\_\_\_\_是一个“行者”。他通过脚踏实地地\_\_\_\_\_党的创新理论，使得党的创新理论的威力通过传播者知行统一的人格魅力更好地\_\_\_\_\_出来。

依次填入上面横线处的词语，最恰当的一组是：

- A、也 躬身 体现 B、更 躬行 发挥  
C、更 躬身 体现 D、也 躬行 发挥

51、①近期，中国观众有幸目睹了来自意大利庞贝古城的遗珍，它们清晰地再现了古城被埋没前最后\_\_\_\_\_的情景。

②在休斯敦火箭队\_\_\_\_\_的姚明，出席“护鲨行动从我做起”的活动时说：“今后，本人在任何情况下都拒绝食用鱼翅。”

③书的封面设计\_\_\_\_\_于书籍出版发行的整体规划，同时必须结合书的内容特点和读者对象进行构思。

将下列词语依次填入各句横线处，最恰当的一组是：

- A、时间 效劳 从属 B、瞬间 效力 从属  
C、瞬间 效劳 归属 D、时间 效力 归属

52、①“\_\_\_\_\_”，今天不仅可以用来表达坚贞不渝的爱情，而且还可以用来赞美无私奉献的高尚情操。

②中国古代先贤以其强烈的人文关怀写下的大量精彩深刻的策论警语，体现了丰富的民族智慧，\_\_\_\_\_了伟大的民族精神。

③杨柳青木版年画里，孩童个个健硕丰腴，人人新衣新裤，所有器物\_\_\_\_\_，这都象征着生活的富足和吉祥。

依次填入上面各句横线处的词句，最恰当的一组是：

- A、春蚕到死丝方尽，蜡炬成灰泪始干 积淀 精妙绝伦  
B、曾经沧海难为水，除却巫山不是云 积淀 完美无缺  
C、春蚕到死丝方尽，蜡炬成灰泪始干 积聚 精妙绝伦  
D、曾经沧海难为水，除却巫山不是云 积聚 完美无缺

53、举世瞩目的党的第十七次全国代表大会，首次把人才强国\_\_\_\_\_和坚持党管人才\_\_\_\_\_一道写进党代会报告，标志着在新的历史时期，我国人才工作进入了一个新的发展阶段。

填入画横线部分最恰当的一项是：

- A、方略 规划 B、方针 计划 C、战略 原则 D、战略 规划

54、在天安门广场举行的\_\_\_\_\_仪式上，国家主席胡锦涛正式启动北京奥运会圣火全球\_\_\_\_\_活动。中央电视台对启动仪式进行了\_\_\_\_\_直播。

填入画横线部分最恰当的一项是：

- A、庄重 传送 当场 B、庄严 宣传 现场  
C、隆重 传递 全程 D、热烈 宣传 全国

55、公务员工资按时\_\_\_\_\_发放，是\_\_\_\_\_公务员获得工资报酬权利的重要措施，也是维护工资制度\_\_\_\_\_的重要体现。

填入画横线部分恰当的一项是：

- A、定额 保障 合理性 B、足额 保障 严肃性  
C、定额 保护 严肃性 D、足额 保护 合理性

56、只要挺得过那风沙，人们总会脱去厚厚的外装，活动一下\_\_\_\_\_的躯体，\_\_\_\_\_沉睡在灵魂里的种种追求。春天\_\_\_\_\_人类以希望。

填入画横线部分最恰当的一项是：

- A、僵直 叫醒 给予 B、僵硬 唤醒 赋予  
C、冻僵 启发 施舍 D、冷冻 启动 送给

57、刚见面，张家界就责问我为何\_\_\_\_\_。说来惭愧，二十六年前，我本来有机会一睹她的\_\_\_\_\_，只要往前再迈出半步。

填入画横线部分最恰当的一项是：

- A、姗姗来迟 芳颜 B、飘然而至 容貌 C、不请自来 真容 D、不期而遇 面目

58、是让圆明园保留\_\_\_\_\_的现状，还是应当重建？在国内的互联网上，围绕这个问题展开了激烈的\_\_\_\_\_。

填入画横线部分最恰当的一项是：

A、遗迹 争执 B、遗存 讨论 C、废墟 争论 D、废址 研讨

59、①选择农村基层创业，已成为全国各地大学生创业的一个新\_\_\_\_\_。

②国家有关部门的\_\_\_\_\_结果表明，广东大亚湾核电站运行一年，废液、废气排放量均大大低于国家标准。

③在事件发生当日，由于看守民警值班期间未认真履行看管职责，\_\_\_\_\_离岗，外出吃饭，造成在押人脱管。依次填入句中横线上的词语，最恰当的一组是：

A、热点 监测 私自 B、亮点 监控 擅自  
C、热点 监测 擅自 D、亮点 监控 私自

60、你必须意识到别人正在做什么，并\_\_\_\_\_他们的努力，\_\_\_\_\_他们的成功，\_\_\_\_\_他们的追求。当我们每个人都帮助另一个人时，人人都赢了。

填入画横线部分最恰当的一项是：

A、欣赏 确认 配合 B、关注 接受 欢迎  
C、歌颂 宣传 迎合 D、赞赏 承认 激励

61、科学发展观的第一要义是\_\_\_\_\_，核心是\_\_\_\_\_，基本要求是全面协调可\_\_\_\_\_发展。这三个方面相互联系、有机统一，其实质是实现经济社会又快又好发展。

填入画横线部分最恰当的一项是：

A、发展 以人为本 持续 B、和谐 经济建设 继续  
C、改革 依法治国 创造 D、开放 增强国力 创新

62、天鹅悠闲自在、无拘无束，它时而在水上遨游，\_\_\_\_\_它似乎是很喜欢接近人的，只要它觉得我们不会伤害它。

①时而沿着水边，  
②回到有人的地方，  
③时而到岸旁嬉戏，  
④享受着与人相处的乐趣，  
⑤时而离开它的幽居，  
⑥藏到灯芯草丛中，

依次填入上面横线处的语句，衔接最恰当的一组是：

A、③①⑥⑤②④ B、①④⑤⑥③② C、①②③⑥⑤④ D、③②①④⑤⑥

63、中国出现了儒教等传统文化\_\_\_\_\_的动向。部分官员也\_\_\_\_\_传统文化，把孔子的一些思想作为指导理论。国外媒体认为，这是因为随着经济发展，中国人开始追求心灵的\_\_\_\_\_。

填入画线部分最恰当的一项是：

A、兴起 学习 寄托 B、回流 审视 安详  
C、异动 记忆 完善 D、复兴 重视 充实

64、作为领导者，要心胸宽广，对于不同的人和不同的意见，要既能坚持原则又能\_\_\_\_\_。

填入画横线部分最恰当的一项是：

A、打击报复 B、听之任之 C、同情怜悯 D、灵活处理

65、3月11日，中国公布了外界期待已久的国务院机构改革计划，几大新部委的设置迅速在世界范围内引来多角度的\_\_\_\_\_。

填入画横线部分最恰当的一项是：

A、猜忌 B、揣测 C、解读 D、评议

### 第三部分 数量关系

66、1，4，8，12，15，20，22，（ ）

A、28 B、25 C、30 D、26

67、0.2，0.23，0.234，（ ）

A、0.0234 B、0.1234 C、0.2345 D、0.2341

68、 $\frac{3}{4}$ ， $\frac{7}{11}$ ， $\frac{18}{29}$ ，（ ）

A、 $\frac{47}{76}$  B、 $\frac{25}{40}$  C、 $\frac{28}{33}$  D、 $\frac{49}{77}$

69、 $\frac{1}{59}$ ， $\frac{3}{70}$ ， $\frac{5}{92}$ ， $\frac{7}{136}$ ，（ ）

A、 $\frac{9}{272}$  B、 $\frac{1}{224}$  C、 $\frac{9}{224}$  D、 $\frac{11}{224}$

70、11，22，33，55，（ ）

A、77 B、66 C、88 D、99

71、一个三位数除以43，商是a，余数是b，则a+b的最大值是：

A、957 B、64 C、56 D、33

72、下表是“人人乐”超市某日早上开始营业8分钟内对客户进出超市情况的记录，其中正数表示进入，负数表示走出，则8分钟内光顾该超市的顾客有（ ）位。

时间/分	1	2	3	4	5	6	7	8
人数	+6	-3	+2	-1	+5	-4	+3	-2

A、13 B、14 C、15 D、16

73、口袋中有6个黄球和若干个白球，它们除颜色外完全相同，从中任意摸出一球，若摸出黄球的可能性是 $\frac{3}{4}$ ，则白球比黄球少多少个？

A、3 B、4 C、5 D、6

74、一本书，小静第一天读了12.5%，第二天读了37.5%，第二天比第一天多读了32页，则这本书共多少页？

A、98 B、108 C、118 D、128

75、在一条公路的两边植树，每隔3米种一棵树，从公路的东头种到西头还剩5棵树苗，如果改为每隔2.5米种1棵，还缺树苗115棵，则这条公路长多少米？

A、700 B、800 C、900 D、600

76、给长方形的长增加2，宽增加5恰好可以得到一个面积为100的正方形，则原长方形的周长：

A、13 B、26 C、40 D、46

77、在一条线段中间另有6个点，则这8个点可以构成多少条线段？

A、15 B、21 C、28 D、36

78、一根竹笋从发芽到长大，如果每天长一倍，经过10天长到40分米，那么长到2.5分米时，要经过多少天？

A、6 B、8 C、4 D、12

79、某班一次数学测试，全班平均91分，其中男生平均88分，女生平均93分，则女生人数是男生人数的多少倍？

A、0.5 B、1 C、1.5 D、2

80、某商店规定每4个空啤酒瓶可以换1瓶啤酒，小明家买了24瓶啤酒，他家前后最多能喝多少瓶啤酒？

A、30 B、31 C、32 D、33

81、一项工程，工作效率提高四分之一，完成这项工程的时间将由原来的十小时缩短到几小时？

A、4 B、8 C、12 D、16

82、火树银花楼七层，层层红灯倍加增，共有红灯381，试问四层几红灯？

A、24 B、28 C、36 D、37

83、甲、乙、丙、丁四人比赛乒乓球，规定每两人之间均要赛一场，结果甲胜了丁，甲、乙、丙三人胜的场数相同，那么丁胜了多少场？

A、3 B、1 C、0 D、2

84、一个两位数，十位上的数字是个位上的数字的 $\frac{2}{3}$ ，把十位上与个位上的数字调换后，新数比原数大18，则原来这个两位数的两个数字之和是：

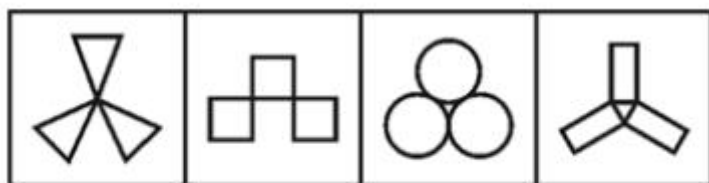
A、12 B、10 C、8 D、21

85、某个月有五个星期六，已知这五个日期之和为85，则这个月中最后一个星期六是多少号？

A、10 B、17 C、24 D、31

#### 第四部分 判断推理

86、下面图形中，哪个与其他三个不同？



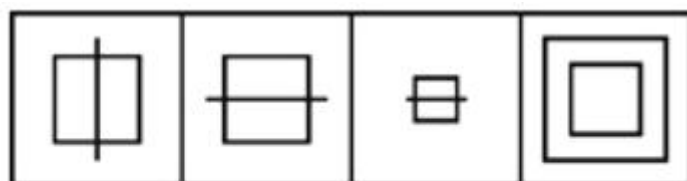
A

B

C

D

87、定义 $A \times B$ 、 $B \times C$ 、 $C \times D$ 、 $D \times B$ 分别对应下列图形：



①

②

③

④

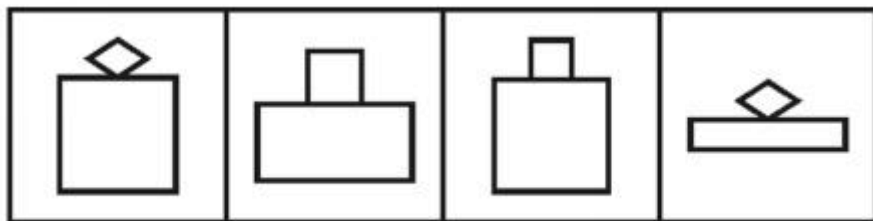
那么，下列图形中，可表示 $A \times D$ 、 $A \times C$ 的分别为：



① ② ③ ④

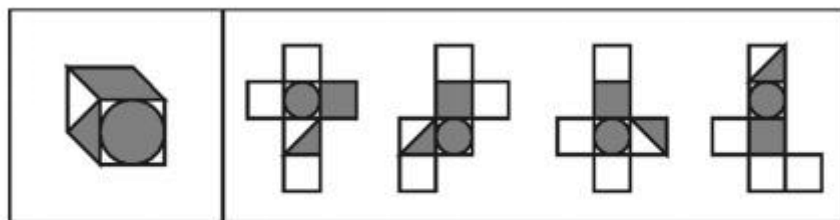
A、①② B、②③ C、②④ D、①④

88、若 对应 ，那么 对应：



A B C D

89、下图中的正方体，如果把它展开，可以是：



A B C D

90、剪纸是中国的民间艺术，剪纸方法很多，下图是一种剪纸方法的图示（先将纸折叠，然后再剪，展开即得到图案）

下面的四个图案，不能用上述方法剪出的是（ ）。



A B C D

91、合同的撤销是指因意思表示不真实，通过撤销权人行使撤销权，使已经生效的合同归于消灭。存在撤销原因的合同叫可撤销合同，这类合同多是因重大误解而成立的合同，因欺诈而成立的合同，因胁迫而成立的合同等。以下属于可撤销的合同是：

- A、甲、乙签订质押合同，约定甲不能如期履行合同义务，则乙取得质物的所有权
- B、甲、乙两企业之间的资金借贷合同
- C、甲为逃避法院的强制执行，将其财产赠与乙
- D、甲因治病急需钱，乙提出以低于市场近 5 倍的价格购买甲的珍贵油画，甲无奈之下与乙签订了合同

92、什么是底线？底线是必须坚守的最低条件或限度，世界万事万物都有底线，越过了底线，意味着发生质变；守不住底线，就是把自己逼上绝地。

根据上述定义，下列哪一项情形属于“越过了底线”？

- A、某钢厂采购矿石，开始准备采购南方厂的，后来采购了北方厂的
- B、警察小刘在办案中抓住了犯罪嫌疑人，犯罪嫌疑人塞给他一万元，小刘放走了犯罪嫌疑人
- C、李红和丈夫闹矛盾，上法院申请离婚
- D、宏大律师事务所律师王某丢失了一起重大案件的关键证据，致使该案的犯罪嫌疑人无罪释放，造成很大社会影响

93、“哑巴英语”是指只注重讲解语法，而忽视对学生实际语言运用能力的培养，过去我们培养了大量只会“哑巴英语”的学生，因为不会说，不会实际运用，学得快，忘得快，没有达到最初学习的真正目的。

根据上述定义，下列哪项措施促进“哑巴英语”问题解决的力度较弱？

- A、西安外国语大学改变教师主动讲和学生被动听的老模式，用精彩的活动形式提高学生的英语听说能力



- B、教育部新闻发言人透露，从上半年起，将正式启动万名英语外教到国内各外语学校任教的十年引进计划  
C、某外语学校召开研讨会，探讨教师职业道德与外语教育的关系  
D、某地教育局规定，九年义务教育阶段，在校学生必须接受至少半年的口语交际训练

**94、**耐药性，是指病原体与药物多次接触后，对药物的敏感性下降甚至消失，致使药物疗效降低或无效，多用来指人。社会这个大肌体，同人一样，也会产生大大小小的疾病，如果在初犯的时候不能及时对症下药，彻底根治，也会产生耐药性，致使一些病症成为顽疾。

下列哪一项最符合“耐药性”定义的情形？

- A、湖南大学生成某早上突然感到不舒服，家人火速送医院治疗，但服用什么药物都无好转，最后只好回家静养  
B、老王感冒后连续喝了三天感冒灵冲剂都没好转，结果在医院只打了一针就好了  
C、针对非法排污的法律法规几乎每年都在制定并出台，但是一些企业非法排污、超标排污的事件仍然屡见不鲜，屡禁不止，并且颇有扩大之势  
D、某保健品厂生产的保健减肥茶，经质检部门检验含有致癌物质，按照法律规定予以停产关闭

**95、**外汇是指以外国货币表示的，用于国际结算的多种支付凭证。它包括外国货币（钞票、铸币），外币有价证券（政府公债、国库券、公司债券、股票、息票等）、外币支付凭证（票据、银行存款凭证、邮政储蓄凭证等）以及其他可以在国外兑现的凭证。

根据上述定义，在法国下列不属于外汇范畴的是：

- A、西班牙政府发行的水利建设公债  
B、英国汇丰银行的存款凭证  
C、1000 万俄罗斯卢布换成欧元后的现金存款凭证  
D、10 亿欧元兑换成美元后的现金存款凭证

**96、**人事行政培训是指通过有关的培训机构，由具有实际行政经验和行政科学理论知识的人员，教导政府公务人员掌握和提高行政工作所需的特定知识和技能的過程。

下列不属于人事行政培训的一项是：

- A、为了提高干部构建和谐社会的执政能力，省委组织县处级以上领导干部到中央党校学习  
B、某县近年来加大招商引资工作力度，因为工作需要按计划派相关人员到西安外国语大学学习外语  
C、某机关组织工作人员利用业余时间学习太极拳  
D、某县对 2007 年新录用的公务员在正式上岗前统一进行为期一个月的综合能力培训

**97、**民族共同语是指同一个民族的人们在生产生活中，彼此之间交流思想感情和交往联系所共同使用的语言。

下列语言不属于民族共同语言的是：

- A、藏语 B、朝鲜语 C、英语 D、世界语

**98、**招标是招标人在买卖大宗商品、发包建设项目或者合作经营某项业务前，不经过一般交易磋商程序，而是公开征求应征人递盘竞争，最后由招标人选定交易对象订约的交易方式。

下列交易方式属于招标的是：

- A、张老板拟出售市郊别墅，声明在不低于 200 万元人民币的基础上可以协商  
B、张老板拟将市别墅群的建设项目竞标，向省内外具有相应建设资质的单位发布通告  
C、张老板下属公司一位机要管理人员因故失踪，他决定悬赏 10 万元寻找知情者  
D、张老板欲以 15 万元价格抛出他所持有公司 60% 的股票

**99、**行政机关是依照宪法或行政组织法的规定而设置的行使国家行政职能的国家机关。其主要特征是：行使国家行政职权；管理国家行政事务；行政机关在组织关系上实行领导——从属制；行政机关在决策体系上实行首长负责制；行政机关行使职能通常是主动的、经常的和不间断的。

根据上述定义，下列属于行政机关的是：

- A、陕西省人民政府 B、陕西省人民代表大会 C、陕西省高级人民法院 D、陕西省妇联

**100、**所谓联觉就是各种器官能奇妙地混合在一起，大脑里通常互不相干的几个感觉区域之间产生沟通。

根据上述定义，下列属于联觉的情形是：

- A、王利打开调频收音机，一听到主持人开口说话，就感到左大腿、肩膀甚至左耳都不舒服，不得不关掉收音机  
B、战士刘成武吃西瓜觉得很甜，多吃了几块，结果拉肚子  
C、某歌唱家听说有一首新歌正在找人首唱，便委托所属唱片公司与新歌制作人谈价钱，最后没有谈成  
D、聋哑少年黄大伟和家人交流，每次都是通过书写的方式进行，速度比较慢

**101、**学生：读书

- A、学者：做学问 B、写作：素材 C、老师：学校 D、结果：调查

**102、**清明：祭祖

- A、历史：借鉴 B、粘土：沙子 C、周日：休假 D、秩序：遵守

**103、**外交官：大学生

- A、食物：庄稼 B、大炮：玩具 C、大雁塔：琉璃瓦 D、蔬菜：绿色植物

**104、**民族：图腾

- A、国家：国旗 B、人：精神 C、瓷器：质地 D、火药：硝酸

**105、**兴高采烈：垂头丧气

A、妻子：丈夫 B、科学研究：旁门左道 C、锦上添花：雪中送炭 D、赞成：反对

106、电影：演员：观众

A、蜜蜂：油菜花：蜂蜜 B、运动员：足球：胜利 C、政府：总理：工作报告 D、酒店：建筑师：顾客

107、考试：学生：成绩

A、网络：网民：电子邮件 B、汽车：司机：驾驶执照

C、工作：职员：工资待遇 D、饭菜：厨师：色香味美

108、语言：工具：交流

A、轮船：钢铁：运输 B、书籍：阅读：印刷 C、会议：方式：工作 D、筷子：吃饭：餐具

109、（ ） 对于 人性 相当于 正义 对于 （ ）

A、良心：和谐 B、良知：和谐 C、良知：和平 D、良心：和平

110、领导 对于 人才 相当于 （ ） 对于 （ ）

A、水：鱼 B、启蒙老师：学生 C、伯乐：千里马 D、嘴唇：牙齿

111、张三问李四：“你是否不承认那笔钱是你拿的？”

这句话有一个隐含的前提是：

A、李四从没拿那笔钱 B、那笔钱是李四拿的

C、李四应该承认那笔钱是他拿的 D、那笔钱不是李四拿的

112、甲、乙、丙、丁在比他们的身高。甲说：“我最高。”乙说：“我不是最矮的。”丙说：“我没甲高，但还有人比我矮。”丁说：“我可能最矮。”实际测量的结果表明，只有一人说错了。

这四个人从高到低的排列是：

A、甲、乙、丙、丁 B、乙、丙、甲、丁 C、乙、甲、丙、丁 D、甲、乙、丁、丙

113、《中华人民共和国公务员法》规定：“对于公务员的考核，按照管理权限，全面考核公务员的德、能、勤、绩、廉，重点考核工作实绩。”

由此可见：

A、作为公务员最重要的是工作实绩，但也不可忽视其他方面表现

B、只要工作成绩突出，其他的都不怎么重要

C、作为公务员，德才是最重要的

D、公务员的德、能、勤、绩、廉是同等重要的

114、在我国，中秋节是我国民间传统的五大节日之一，其核心的文化内涵是：“祝愿社会和谐进步和家庭团圆幸福”。但遗憾的是，如今商业化将中秋节演变成为“月饼节”，月饼越做越大，文化意义却越来越少。

以下哪项是这段文字最有可能支持的观点？

A、传统文化不能作为经济资源加以利用

B、要挖掘和创新传统文化内涵，弘扬优秀民族文化

C、要充分挖掘传统节日蕴涵的巨大商机

D、商业活动应以传承民族文化为主要目的

115、1992年三峡库区平均人口密度为282人/平方公里，高于全国（122人/平方公里）和四川（192人/平方公里）。库区的山地面积占总面积90%以上，海拔400米以下地带的人口密度为500—600人/平方公里。另外，库区耕地大部分是旱地，坡度在15度至25度的耕地占旱地的46.5%，坡度大于25度的耕地占旱地的25%。

从这段文字可以得出：

A、三峡库区坡度在15度以下的耕地占旱地35% B、四川平均人口密度也高于全国平均水平

C、三峡库区绝大部分人生活在海拔400米以上 D、陕西平均人口密度在全国倒数第一

116、中国的汽车厂家正在开发智能型汽车。其直接原因是汽油价格节节攀升，消费者的节能意识不断提高，开发节能汽车要投入大量的资金，中国一汽集团在2015年之前将对以节能汽车为主的自主品牌汽车投入130亿人民币的开发费用，上海汽车集团也计划在2012年之前投入214亿元人民币，用于新车的节能技术开发，节能汽车的开发竞争，可望加速中国汽车产业调整，改善大中小企业混杂的混乱局面。

以下哪一项最可能是中国汽车厂家投资开发节能汽车的原因？

A、节能汽车在中国尚未普及 B、节能汽车巨大的市场前景

C、开发节能汽车需要投入巨大的资金 D、节能汽车是汽车工业发展的趋势

117、不少有识之士经常指出，一个国家、民族及文化的蓬勃发展，不仅需要高度物质的发展，还必须有进步信念的支撑。人的存在，总应该超出一般动物类的局限，具备更多智慧、信念、意志力等精神层面的东西。

由此可以推出：

A、对一个国家、民族及一个人来讲，精神和信念不可少

B、精神比物质更重要

C、精神就是智慧、信念和意志力

D、物质和精神是一个问题的两个方面

118、碳酸钾溶于水时形成碱性物质容易使含有氮的气体逃到空气中散失掉，而草木灰里含碳酸钾，人类尿是氮肥，所以人类尿跟草木灰混用则：

A、会减少肥料效果 B、增加肥料的效用 C、是明智之举 D、是不可能的

119、美国前总统林肯说过：“最高明的骗子，可能在某个时刻欺骗所有人，也可能在所有时候欺骗某些人，但不可能在所有时刻欺骗所有的人。”

如果林肯的上述断定是真的，那么下述哪项断定是假的？

- A、林肯可能在任何时候都不受骗  
B、骗子也可能在某个时候受骗  
C、不存在某个时刻所有人都必须不受骗  
D、不存在某一时刻有人可能不受骗

120、某市教育专家建议，可以采取按照年龄、教授科目和职称等级将教师平均分配的办法来配置教育资源，这样就能实现教育公平，解决目前因上重点中学引起的社会问题。

以下哪项如果为真，最能削弱上述专家观点？

- A、很多原来重点中学的教师对此表示支持  
B、普通中学纷纷要求增加拨款加强学校硬件建设  
C、一些重点中学教师要求到该市以外中学任教  
D、绝大多数学生和家長表示反对

## 第五部分 资料分析

阅读下列材料，回答下面的题目。

全国各省、市、自治区 2006 年总人口和自然增长率

地区	年底总人数(万人)	出生率(%)	死亡率(%)	自然增长率(%)
全国总计	131448	12.09	6.81	5.28
北京	1581	6.26	4.07	1.29
天津	1675	7.67	6.07	1.60
河北	6698	12.82	6.69	6.23
山西	3375	11.48	5.73	6.75
内蒙古	2397	9.87	5.91	3.06
辽宁	4271	6.46	5.30	1.16
吉林	2723	7.67	5.00	2.67
黑龙江	3823	7.57	6.18	2.39
上海	1816	7.47	5.89	1.58
江苏	7550	9.36	7.08	2.28
浙江	4980	10.28	5.42	4.87
安徽	8110	12.60	6.30	6.30
福建	3558	12.00	5.75	6.25
江西	4339	13.80	6.01	7.79
山东	9309	11.60	6.10	5.50
河南	9392	11.59	6.27	5.23
湖北	5693	9.08	5.95	3.13
湖南	6342	11.92	6.73	5.19
广东	9304	11.78	4.49	7.29
广西	4719	14.44	6.10	8.34
海南	836	14.59	5.73	8.86
重庆	2808	9.90	6.50	3.40
四川	8169	9.14	6.28	2.86
贵州	3757	13.97	6.71	7.26
云南	4483	13.20	6.30	6.90
西藏	281	17.40	5.70	11.70
陕西	3735	10.19	6.15	4.04
甘肃	2606	12.86	6.26	6.24
青海	548	15.24	6.27	8.97
宁夏	604	15.53	4.84	10.69
新疆	2050	15.79	5.03	10.76

注：①全国数据根据抽样误差和调查误差进行了修正。

②数据为 31 个省、自治区、直辖市和中国人民解放军现役军人数据，不包括香港、澳门特别行政区和台湾省的数据。分省数据中未包括中国人民解放军现役军人数据。

121、根据图表所示，2006 年各大地区人口自然增长率的实际情况是：

A、华北高于东北，西南高于西北 B、华北高于东北，西北高于西南

C、东北高于华北，西北高于西南 D、东北高于华北，西南高于西北

122、陕西省的人口自然增长率处于什么水平？

A、低于平均水平 B、高于平均水平 C、等于平均水平 D、高于死亡率

123、下列出生率高于死亡率比例最大的省区是：

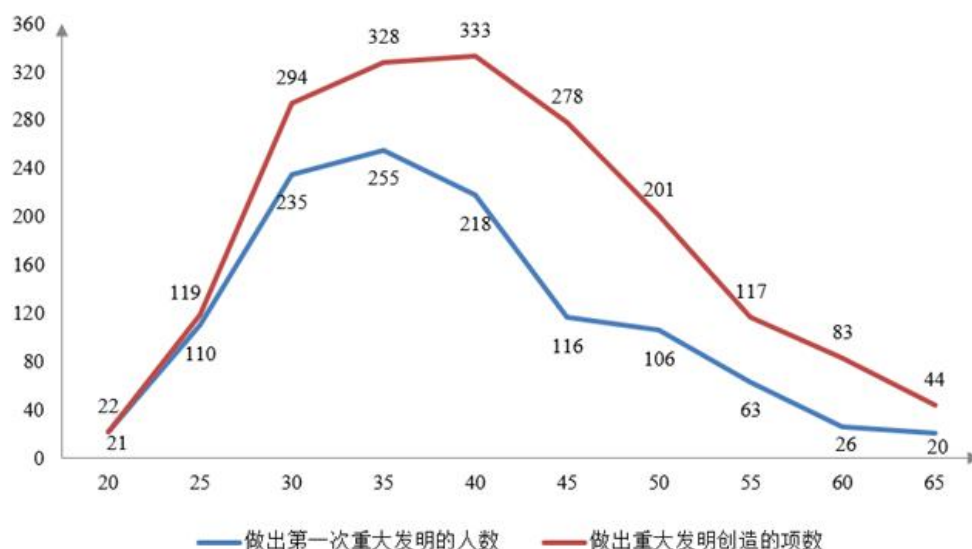
A、新疆 B、西藏 C、宁夏 D、四川

124、2006 年底总人口数量、出生率、死亡率、自然增长率最高的省区分别是：

A、山东新疆江苏西藏 B、山东西藏湖南西藏 C、河南西藏江苏西藏 D、河南新疆湖南西藏

## 二、阅读下列材料，回答下面的题目。

据我国教育专家的统计，从公元 600 年到公元 1960 年，世界上共有 1243 位科学家、发明家做出 1911 项重大科技发明。根据这些科技人才做出创造性贡献的年龄制成的科技人才成功曲线图如下：



人才成功曲线图

125、由上图可知，60%以上的重大发明创造是由哪个年龄段的人做出的？

A、25—45 岁 B、30—35 岁 C、35—45 岁 D、25—35 岁

126、做出第一次重大发明的人的年龄集中在哪个阶段？

A、30 岁左右 B、35 岁左右 C、40 岁左右 D、45 岁左右

127、能由上图获得支持的说法是：

A、20 岁以下的人不可能有重大发明创造

B、每个人的发明创造都是在中青年时期做出的

C、每个科技人才做出创造性贡献的年龄是 25—45 岁

D、科技人才做出创造性贡献的年龄大多是在中青年时期

## 三、阅读下列材料，回答下面的题目。

表 1 1986 年至 1991 年获诺贝尔奖 5 人以上的 18 个国家

洲别	国别	获奖人数
北美洲	美国	178
	加拿大	8
拉丁美洲	阿根廷	5
欧洲	英国	78
	德国	64
	法国	43
	瑞典	28
	前苏联	16
	瑞士	15
	奥地利	14
	意大利	13
	荷兰	13
	丹麦	11
	挪威	8
	比利时	6
	南斯拉夫	6
	爱尔兰	6
亚洲	日本	6

表 2 世界科技人才密度表(人 / 平方公里)

序号	国别	人数	年份	序号	国别	人数	年份
1	新加坡	64	1987	6	波兰	20.01	1992
2	荷兰	37	1991	7	以色列	16.63	1984
3	日本	36	1992	8	意大利	15.63	1990
4	英国	21		9	德国	14.53	1989
5	韩国	20.46	1992	10	乌克兰	11	1989

表 3 世界科技人才密度表(人 / 百万人口)

序号	国别	人数	年份	序号	国别	人数	年份
1	乌克兰	6761	1989	7	捷克	3248	1992
2	俄罗斯	5930	1991	8	德国	2882	1989
3	日本	5677	1992	9	荷兰	2656	1991
4	以色列	4826	1984	10	澳大利亚	2477	1990
5	保加利亚	4240	1992	11	加拿大	2322	1991
6	美国	3873	1988	12			

128、全世界范围内，高科技人才高度集中于：

A、北半球 B、南半球 C、欧洲 D、美洲

129、可从表 1 获得支持的说法是：

A、发达国家即“人才资源高地” B、有的“人才资源高地”仅是数量高地，并非质量高地  
C、美国是第一“人才资源高地” D、欧洲是“人才资源高地”

130、可从表 2 获得支持的说法是：

A、新加坡科技人才密度（人/平方公里）最大 B、新加坡科技水平最高  
C、英国的科技人才密度最难统计 D、上世纪后期亚洲科技人才的密度大于欧洲

131、可从表 3 获得支持的说法是：

A、经济发达国家科技人才密度小  
B、乌克兰科技人才密度（人/百万人口）最大  
C、由于统计年份的差异，科技人才统计结果存在一定的不可比性  
D、社会主义国家科技人才密度小

#### 四、阅读下列材料，回答下面的题目。

世界报业协会在 2003 年度总报告中说，在全球报业表现低迷的形势下，中国报业发行量却增长了 8.5%，从 1997 到 2002 年 5 年累计增长 30.3%。

根据世界报业协会 2003 年 6 月 13 日发表的全球日报发行量排行榜，中国有 3 份报纸进入前 20 名：《参考消息》以日发行量 270 万份排在第 9 名，《人民日报》以日发行量 186 万份排在第 18 名，《羊城晚报》以日发行量 150 万份排在第 20 名，中国已成为世界最大的报纸消费国，日销量达 8200 万份，仅次于中国的是日本，日消费量是 7080 万份。

根据日消费量 8200 万份、13 亿人口计算，中国平均每千人拥有日报数量为 63 份，比 1999 年增长了 7 份，但数量仍然偏少，日本平均每千人拥有日报的数量为 545 份，美国平均每千人拥有日报数量为 198 份。据联合国教科文组织公布，早在 1996 年，世界平均千人拥有日报数量就已经达到 96 份，发展中国家平均千人拥有日报数量为 60 份，发达国家平均每千人拥有日报量为 226 份。1999 年，按平均每千人拥有日报数量算，挪威排第一，每千人 583 份。

美国是报业最发达的国家，根据 E&P 提供的数据，美国拥有日报 1468 种（2001 年数据），非日报 7689 种（2000 年数据）。人口远多于美国的中国报纸数量应该相应多于美国，美国的报业发达是建立在经济高度发达基础上的，因此目前两国还不具备可比性，但这至少说明 2002 年 2137 种报纸的数量远非中国报业规模的极限。

然而，目前中国城乡人口比例悬殊，人口总体教育水平比较低，人民生活水平以及全国经济水平都处于较低阶段，对报纸的需求必须只能保持在一个有限的水平上。目前总体状况是：就数量而言，乡村人口报纸拥有量极度稀少，而城市人口拥有量相对饱和；就质量而言，前几年报业成长主要都是规模扩张，数量在膨胀，在质量方面提高很小，优秀报纸的种数远未满足消费者的需求。中国报业距离成熟尚需时日，还要允许有大量新产品进入市场。

1992~2002 年，全国报纸广告 11 年来以平均约 32% 的增长率迅速发展（见下表），报纸广告的快速增长，占广告总市场超过 20% 的份额以及不断增长的占 GDP 比重，说明报纸作为主流媒体的位置仍将保持相当长的一个时期，报纸广告业必将随着总体广告市场的扩张而同步扩张。

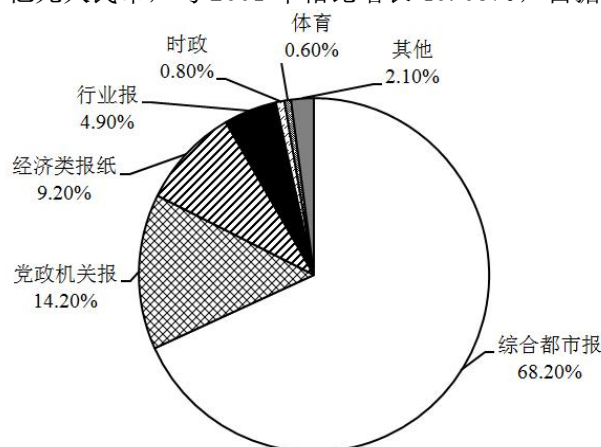
1992~2002 年我国报纸年度广告总收入及增长率

年份	1992	1993	1994	1995	1996	1997	1998	1999	2000	2001	2002
广告收入(亿元)	16.18	37.71	50.54	65.68	77.69	96.83	104.35	112.33	127.76	157.70	188.00
增长率(%)		133.10	34.00	28.00	20.00	24.60	7.80	7.60	13.70	23.40	19.50

近年来，以都市居民为主要读者的综合都市报（包括晚报、早报、都市报）的广告得到了快速发展。根据慧聪国际媒体研究中心统计的数据，2001 年都市类报纸的广告 205.92 亿元，占全部报纸广告刊登额的 66.81%，比 2000 年增长了 15.72%，在各类报纸中增长率最高，市场占有率提高了将近 6 个百分点，2002 年 1 至 10 月，综



合都市报广告规模达到 233.54 亿元人民币，与 2001 年相比增长 40.08%，占据了 68.20% 的报纸广告市场份额。



这些数据表明，都市类报纸已经成为广告投放者最重要的广告媒体，都市报的广告规模在很大程度上决定着整个报业的广告规模。

打开资料

132、下列不符合文义的一项是：

- A、不久前，《参考消息》等三份中国报纸以发行量巨大、国际影响深远而在全球日报发行量统计中名列前茅
- B、这几年国内报业在规模和数量上有了较大增长，城市人口拥有数量相对饱和，但质量有待提高
- C、根据资料统计，2002 年全国报纸年度广告总收入又创新高，比 10 年前增长了约 170 亿元人民币
- D、目前，中国平均每千人拥有日报的数量，还不到上世纪末世界平均每千人拥有日报的数量

133、有人说，这篇文章有如下几个要点：

- (1) 近年来以都市居民为主要读者的综合都市报快速发展。
- (2) 报纸广告增长迅速，综合都市报占据主要广告份额。
- (3) 我国报纸发行量增速较快，但千人拥有量仍然偏低。
- (4) 目前我国报纸的种类和发行数量还大有增长的空间。

你认为要点和顺序都正确的一项是：

- A、(4) (3) (2) (1)
- B、(4) (2) (3)
- C、(3) (4) (1) (2)
- D、(3) (4) (2)

134、上图可以看出，1992—2002 年报纸广告收入不断增长。根据文义，其原因之一是：

- A、报纸发行量日益增大
- B、报纸广告投放量上升
- C、报纸长期保持着作为主流媒体的地位
- D、报纸办得越来越好

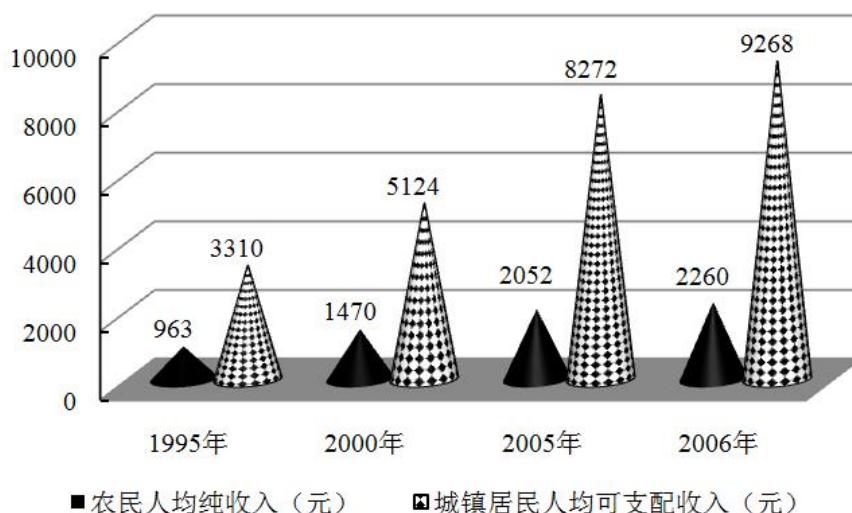
135、上图在文中的作用是：

- A、说明各类报纸在广告市场中所占有的份额
- B、说明各类报纸的发行量份额
- C、说明各类报纸的读者量份额
- D、说明各类报纸的经营额

136、上图的标题可以拟为：

- A、2001 年我国综合都市报广告刊登占有率
- B、2001 年 1—10 月我国综合都市报广告刊登占有率
- C、2002 年我国各类报纸广告市场占有率
- D、2002 年 1—10 月我国各类报纸广告市场占有率

(材料)



陕西省城乡居民收入

137、陕西省 2006 年城镇居民人均可支配收入比去年约增长了：

A、15%    B、14%    C、13%    D、12%

**138、**陕西省 2006 年农民人均纯收入与 1995 年相比增加了：

A、135%    B、130%    C、125%    D、120%

**139、**根据上图可以推断出的选项是：

- ①城镇居民人均可支配收入增长速度越来越快。
- ②城乡之间的经济差距越来越大。
- ③农民人均纯收入增长速度比城镇居民人均可支配收入增长速度快。
- ④农民人均纯收入增长速度逐年趋缓。

A、①    B、②    C、③    D、④

**140、**根据上图，城镇居民人均可支配收入与农民纯收入相对差异最大的是：

A、1995 年    B、2000 年    C、2005 年    D、2006 年