

2014 年青海公务员考试《行测》卷

一、常识判断，共 15 题，根据题目要求，在选项中选出答案。

1、中国共产党 80 年的历史中，针对每一次重大事变或重要方针路线曾提出过许多动员口号，下列动员口号按时间排序正确的是：

①人才强国 ②尊重人才 ③四有新人 ④以人为本

A、②①④③ B、②③①④ C、③④①② D、③②④①

2、关于当代中国历史，下列描述正确的是：

A、新中国成立后，我国由半殖民地半封建社会转变为社会主义社会

B、深圳、珠海、汕头、大连是我国最早的 4 个经济特区

C、1977 年我国正式恢复已经中断多年的高考制度

D、中美建交是二十世纪八十年代的一件大事

3、下列哪组事件全都发生在“二战”期间：

A、中途岛战役、华沙战役 B、索姆河战役、北非登陆

C、西西里登陆、萨拉热窝事件 D、斯大林格勒会战、珍珠港事件

4、古人信奉“五德终始说”，认为朝代与金、木、水、火、土五行相对应，朝代更替源于五行相克。周朝尚红色、属火，那么秦朝尚黑色，属：

A、金 B、木 C、水 D、土

5、下列地质景观与景区对应错误的是：

A、丹霞地貌——贵州赤水 B、火山口湖——云南洱海

C、花岗岩山地——黄山莲花峰 D、喀斯特地貌——云南石林

6、下列关于生物的说法正确的是：

A、植物是异养型生物 B、木耳属于植物界

C、哺乳动物是恒温动物 D、病毒的细胞为原核细胞

7、下列药品中，没有杀毒消毒作用的是：

A、生理盐水 B、紫药水 C、双氧水 D、碘酒

8、下列器官与所属的功能系统对应错误的是：

A、骨髓：运动系统 B、甲状腺：内分泌系统 C、肝脏：消化系统 D、扁桃体：免疫系统

9、下列生化指标与体检项目对应正确的是：

A、转氨酶——血常规检查 B、总胆固醇——血脂检查

C、血肌酐——肝功能检查 D、血小板——肾功能检查

10、上海至洛杉矶的直飞航班正常飞行时间为 11 小时 30 分左右，而返程则需约 14 小时 15 分左右，造成这种现象的主要原因是：

A、地势高低 B、两地时差 C、地球磁场 D、空中风向

11、下列说法不正确的是：

A、民间文学一般为口头形式 B、小提琴曲《梁祝》以民间传说为素材

C、“信天游”是我国西北地区的一种民歌形式 D、“乐府双璧”指的是《孔雀东南飞》和《长恨歌》

12、下列关于激光的说法不正确的是：

A、激光器输出的光颜色极纯，是因为波长分布范围很宽

B、激光的理论基础起源于爱因斯坦的“受激辐射”理论

C、激光对人体的伤害中，以对眼睛的伤害最为严重

D、激光的波长取决于发出激光的活性物质

13、煤、石油与天然气并称为“三大化石燃料”，下列关于它们的说法错误的是：

A、天然气易溶于石油而难溶于水 B、石油的密度一般比水小

C、“乌金”是煤的美称 D、石油的导电性较好

14、下列行为不违反国家规定的是：

A、农民甲某外出打工，将其承包的耕地租给同村乙某用于挖塘养鱼

B、在承包期内，丙某将所承包的林地改作耕地，种植蔬菜和中药材

C、牧民丁某的草场在承包期内发生沙化，遂与人合作进行采砂作业

D、某地为发展渔业，将“围湖造田”围垦形成的耕地重新开挖成湖

15、下列关于有限责任公司治理结构的说法不正确的是：

- A、一般情况下股东会由董事会或执行董事负责召开 B、经理由股东会任命和解聘，对股东会负责
C、监事不得由董事和高级管理人员兼任 D、股东会是公司的权力机构

二、言语理解，共 40 题，本部分包括表达与理解两方面的内容，请根据题目要求选出答案。

16、在戏剧行业整体上陷入困境时仍具活力的越剧和黄梅戏，在戏剧复苏的今天却_____，令人扼腕。事实上不止越剧和黄梅戏，评剧、楚剧、粤剧等观众人口在中国位居前列的剧种，近年在新剧目创作中都出现相似的问题。

填入画横线部分最恰当的一项是：

- A、乏善可陈 B、一落千丈 C、败走麦城 D、销声匿迹

17、为保证经济增长和控制通货膨胀，世界各国对成品油价均有不同程度的管制，但是在原油价格持续飙升的情况下，很多国家的财政补贴开始显得_____。而且，问题的关键并不在于国家财力能否承担，而是补贴政策本身会进一步拉升油价，由此陷入恶性循环。

填入画横线部分最恰当的一项是：

- A、不合时宜 B、举步维艰 C、于事无补 D、力不从心

18、调查显示，国人最信奉“生命在于运动”，最倾向“通过睡觉解乏”，又普遍认为最应该“年年体检”，但是_____，有多达六成人没有运动习惯，晚十点钟就寝者只有一成人，身体不适不及时就医者超过七成。

填入画横线部分最恰当的一项是：

- A、事与愿违 B、众所周知 C、知易行难 D、事出有因

19、尽管目前科学家对暗物质还了解不多，不过，正在进行的探索，或许将成为人类解开一个宏大谜题的_____。在将来的某一天，我们不仅有望弄清暗物质自身的神秘构成，更有机会借此_____到大爆炸的宏伟一刻，彻底解开万物起源之谜。

依次填入划横线部分最恰当的一项是：

- A、钥匙 追溯 B、线索 返回 C、关键 重回 D、前奏 回溯

20、国学内容浩如烟海、博大精深，即使皓首穷经、焚膏继晷也无法_____。同时，国学本身毕竟是古代社会留下来的历史文化遗产，精华与糟粕并存。因此，国学研究应有一个_____的过程。

依次填入画横线部分最恰当的一项是：

- A、曲尽其妙 去伪存真 B、一应俱全 披沙拣金 C、兼容并包 大浪淘沙 D、博古通今 千锤百炼

21、报刊、广播、电视等传统媒体不再是信息唯一的大规模传播渠道，普通人也能成为主动的发声者，既可以_____，更可以独家进行报道，甚至成为社会舆论的焦点。然而，有的人发出的却是噪声，甚至是不实之词、_____，直接影响到了社会的和谐。

依次填入画横线部分最恰当的一项是：

- A、各抒己见 恶意中伤 B、众声喧哗 造谣生事 C、慷慨陈词 捕风捉影 D、集思广益 风言风语

22、研究历史要“有一分证据说一分话”，如同警察破案，必须掌握足够的证据，使各种证据之间形成_____的逻辑关系。因为是凭证据说话，因此，研究历史依靠的是搜集证据、分析证据和论证证据关系的能力，而不是看你能提出怎样_____的观点。

依次填入画横线部分最恰当的一项是：

- A、真实 尖锐 B、合理 新鲜 C、准确 独特 D、严密 超前

23、今天，手机、个人电脑、网站成为我们日常生活的主导，但是我们仍然可以从每天的_____生活中发现乐趣和美好。在法国插画师桑德琳眼里，垃圾袋、街边的栏杆、破旧的墙壁乃至地下通道的水龙头，都能创造出一个_____的“魔力”世界。

依次填入画横线部分最恰当的一项是：

- A、呆板 另类 B、无聊 神奇 C、简单 崭新 D、平凡 疯狂

24、文明的进展并不完全像是一股奔腾直前、日趋佳境的巨流。如果我们用一种相当大的比例尺把它绘制成图，也许会具有上述外观。但这种广泛的看法往往会_____细节，而我们对这一过程的全部理解却必须_____于这种细节。假如我们从绵延几万年的全部人类历史来看，新时代的出现往往是相当突然的。

依次填入画横线部分最恰当的一项是：

- A、淡化 超越 B、忽视 定位 C、模糊 着眼 D、无视 立足

25、唐宋元 750 年的历史时期，是中国古典绘画成长、成熟并走向繁盛的辉煌时期，各种典范性的风格和样式不断地被创造和衍生出来，其间开宗立派的名家风格，被后世画家奉为传承和发展的_____和基点，后人遵从这些规范，并根据时代的需求和个人的才情，不断生发、变革和_____，推出新的范本，从而使中国绘画掀起一波又一波师古开新的浪潮。

依次填入画横线部分最恰当的一项是：

- A、圭臬 创新 B、范本 继承 C、精华 创造 D、楷模 延续

26、完善民间投资的配套设施和实施细则，增加了民资的投资选择余地，对于缺乏投资渠道的民间资本可以

起到_____作用，避免民间资本集中于住房、股票等_____的投资领域，也可激活民间的创业热情，弥补政府资金的不足。

依次填入画横线部分最恰当的一项是：

- A、衔接 动荡 B、疏导 基础 C、支持 活跃 D、分流 狭窄

27、文化在世界上的分布，反映了权力的分布。贸易可能会、也可能不会跟着国旗走，但文化几乎总是_____着权力。历史上，一个文明权力的扩张通常总是伴随着其文化的_____，而且这一文明几乎总是运用它的这种权力向其他社会推行其价值观和体制。

依次填入画横线部分最恰当的一项是：

- A、依附 渗透 B、追随 繁荣 C、附和 普及 D、配合 伸张

28、就像传记文学一样，传记片最见作者_____之处，是对人物生平材料的剪裁和取舍。经典传记片《巴顿将军》虽然冠名“巴顿”，却没有像编年史一样横跨几十年地展现这个人物，而仅仅只是截取了“二战”期间巴顿的天才与自傲，一位美国“二战”英雄的_____便跃然于银幕之上。

依次填入画横线部分最恰当的一项是：

- A、功力 风采 B、能力 风姿 C、实力 风度 D、心力 风骨

29、一座城市要想拥有自己独特的文化地标，不应盲目跟风、简单复制，而要深入挖掘和凝练与众不同的城市文化，让建筑_____文化，让文化光辉建筑。只有_____了深厚文化_____的建筑，只有与环境协调统一，才能称得上是“地标”，否则就只是钢筋混凝土和玻璃组成的没有灵魂的躯壳。

依次填入画横线部分最恰当的一项是：

- A、折射 体现 内涵 B、展现 蕴含 精神 C、丰富 沉淀 精髓 D、弘扬 承载 底蕴

30、词语如同一面镜子，客观地呈现世界，也呈现出语言的使用者对世界的认知，面对世界_____的变化，新语汇也如雨后春笋般萌生。从“限行”到“限购”，从“蚁族”到“高富帅”，这些语言长河最前端的浪花，或是_____，消失在生活的沙滩中；或是_____，进入长久的思想潮汐，形塑整个时代的思维。

依次填入画横线部分最恰当的一项是：

- A、一日千里 昙花一现 润物无声 B、日新月异 惊鸿一瞥 万古长青
C、瞬息万变 一花独放 万紫千红 D、白驹过隙 稍纵即逝 旷日持久

31、埃及阿斯旺古采石场保留着原始的风貌，_____着历史的印记；意大利的天堂采石场，洞穴幽奥堪称奇迹；巴黎地下采石场改造成的公共墓穴，是让人_____的另类采石遗迹；而摩尔多瓦共和国的米列什蒂米齐地下酒城，则让废弃的采石场_____了新活力。

依次填入画横线部分最恰当的一项是：

- A、凝刻 匪夷所思 焕发 B、凝集 百思不解 诱发
C、刻画 莫名其妙 发扬 D、刻镂 难以言说 激发

32、民主化、信息化、全球化浪潮叠加，思想观念的裂变塑造了一个时代生机蓬勃的心灵图景，也提示我们，多元时代更需要凝聚共识，当观点_____，看法不尽相同时，共识是社会交流的基础。但多元并非意味着正确的价值不复存在，包容也不意味着可以_____公理。正因此我们对现在的认识可以各持己见，但对公平正义的追求却应_____。

依次填入画横线部分最恰当的一项是：

- A、众说纷纭 轻视 不谋而合 B、莫衷一是 漠视 殊途同归
C、无所适从 藐视 不约而同 D、五花八门 无视 异曲同工

33、“宫斗剧”的盛行及其与当下社会的微妙对应，典型地体现了我们在现实困境中面对传统时的_____。在_____的“复古”潮流中，各种名目的“传统”泥沙俱下。那些植根于封建帝制基础上、早应被淘汰的历史沉渣，却都随着“复古”潮理直气壮地_____。

依次填入画横线部分最恰当的一项是：

- A、手忙脚乱 纷至沓来 沉渣泛起 B、不知所措 风起云涌 东山再起
C、手足无措 蜂拥而至 卷土重来 D、无所适从 此起彼伏 死灰复燃

34、穿越八百载风雨，大足的千手观音已“_____”。幸得文物修复师的双双妙手，方今这尊“大足石刻的精华”才保有_____的希望。可惜，妙手救得了石像，却难以医治这一行当_____的顽疾。文物修复师队伍极为窘迫的现状之下，是我们对文物命运的担忧，更是对文物修复技艺如何传承的追问。

依次填入划横线部分最恰当的一项是：

- A、病入骨髓 否极泰来 难以为继 B、病入膏肓 重现风采 后继乏人
C、病骨支离 重见天日 后继无人 D、病魔缠身 枯木逢春 青黄不接

35、大众是聪明而挑剔的，对那些_____、故作高深的东西，那些_____、不着边际的东西，往往会表示“不感冒”而转头走开，讲空话、大话、套话、老话、重复话、累赘话，只会让生动活泼的理论变得_____，让富有内涵的理论显得胶柱鼓瑟。

依次填入画横线部分最恰当的一项是：

- A、弄虚作假 好高骛远 一潭死水 B、声张造势 天马行空 死气沉沉
C、故弄玄虚 不切实际 面目可憎 D、扭捏作态 徒有虚名 生吞活剥

36、现在一些国家的法律体系中之所以出现越来越多的“软法”，根本原因就在于，在一个多元化的社会，道德价值的多元化决定了人们在处理社会关系时很难达成一致意见，将一些普遍遵循的道德规范变成共同的行为准则，不仅可以避免多元化社会道德评判混乱的现象，同时也可以在一定程度上引导公民的行为，让他们时刻意识到自己行为的“合法性”。

这段文字的主要观点是：

- A、“软法”有利于凝聚共同价值观 B、“软法”顺应了社会多元化发展
C、“软法”对道德准则有强化作用 D、“软法”可以判定行为的合法性

37、近年来，我国经济快速发展、综合国力明显增强，国际地位随之不断提升，特别是国际金融危机发生之后，“中国奇迹”“中国道路”越来越成为国际社会的热门话题，中文学习热在许多国家悄然兴起。因此，只要我们认真研究我国的发展实践和经验，不断丰富和发展中国特色社会主义理论体系，打造中国话语体系的基础就会越来越牢固。

对这段文字主旨理解最准确的是：

- A、目前，打造中国话语体系面临着重大历史机遇 B、目前金融危机是巩固中国话语体系基础的契机
C、中国话语体系的素材来自我国快速发展的经济 D、中国话语体系的基础是中国特色社会主义理论

38、决定健康的因素是多样的，经济学家常使用健康生产函数来表示健康状况与投入要素（包括健康禀赋、医疗保健、生活方式、社会经济状况、环境等）之间的关系。其中，健康禀赋差异是先天的、不可避免的。从宏观上分析区域之间的健康差异要从收入、教育和医疗保健利用等方面的差异着眼。

这段文字意在强调：

- A、人口健康禀赋差异是不可改变的 B、分析人口健康应着眼非先天因素
C、区域间存在不同的健康生产函数 D、投入要素决定了区域间健康差异

39、当人们闻气味时，如果感觉到挥发在空气中的化学物质，就会对这种刺激性的气味作出反应。植物也会对气味产生反应，最明显的实例是果实成熟时的情形——如果将一枚成熟的果实和一枚尚未成熟的果实放在一个袋子里，未成熟的果实会更快成熟。这是因为成熟的果实会散发出一种“成熟信息素”——乙烯，青涩的果实“闻”到这种气息后，也开始变得成熟。这种情形在自然界很普遍，当一枚果实开始成熟时，它会释放这种“成熟信息素”，周围的果实一旦“嗅到”这种气息，接着，整棵树甚至整片树林的果实几乎会随之成熟。

这段文字意在说明：

- A、植物会释放信息素 B、果实是如何成熟的 C、植物间会传递信息 D、植物和人也有共性

40、野生动物个体在环境中的绝大部分行为，都可以回溯到它的基因；个体间不同文化传承即便存在，影响也通常微乎其微。如果两群狼面对同一场景做出了不同反应，那是因为它们的遗传特征不同，而不是因为它们各自经历了不同的狼群历史、有不同的狼群文化。就算有动物因为和人的相处而从人类这里习得了复杂的行为，当它们回归野外时也几乎不可能把自己学会的“人类技巧”教给其他同类，改变原有文化。

这段文字主要说明：

- A、文化对野生动物行为的影响甚微 B、野生动物的行为主要源于遗传
C、与人相处对野生动物的影响甚微 D、野生动物没有真正意义上的文化

41、飞鸟、游鱼、爬行动物和其他哺乳动物跟我们至少有一个共同点，那就是它们都会睡眠。睡眠是我们生命中起着支配作用的一部分，而且显然是命运攸关的。虽然睡眠令哲学家、作家和科学家为之着迷已有好几个世纪，但真正意义上的科学研究是直到上世纪50年代才起步的。从那时以来，睡眠科学揭示了诸多有关睡眠结构与模式的奥秘。但即便如此，它的起源和功能在很大程度上依然充满着尚未解开的谜团。

作者接下来最不可能讨论的是：

- A、人为什么要睡觉 B、多长时间才算睡够 C、睡眠受什么掌控 D、卧具对睡眠的影响

42、决定茶叶品质的主要是影响色泽的叶绿素，以及产生苦味、影响口感的茶多酚、氨基酸和一些酯类物质。春天时，由于太阳光不甚强烈，所以新长出的茶树叶芽需要产生更多的叶绿素来进行光合作用，自然也就显得更绿一些。而作为发育枝条尖端的部位，“建设”细胞所需的氨基酸和酯类物质都会聚集于此，由于温度的影响，这时细胞的生长发育会比较缓慢，因而大量的提供鲜味口感的氨基酸都被积累了下来。当然，代谢不紧不慢地进行，也让茶多酚这些次生代谢产物积累在一个适合的水平上，所以这时的茶叶口感最好。

这段文字主要介绍了：

- A、决定茶叶口感的主要因素 B、氨基酸在茶树新陈代谢中的作用
C、春天新茶叶品质好的原因 D、温度和气候对于茶叶口感的影响

43、风电场的机型选择非常重要，可根据当地的风况选择适当容量的风力发电机型。从经济效益出发，单机容量大，单位装机千瓦值就低，便更要考虑其年发电量的多少，不能盲目求大，若单机容量过大，额定风速太高，

而年平均风速不能满足其工作时间的要求，则发电量低反而白白浪费了投资。同一风电场的风力机组应尽可能品种少，以利于运行和维修，在有条件的情况下，应该选择质量可靠的国产风力机组，完全依赖进口风力机，不仅造价高，且售后服务麻烦，备品备件供货不便，都将影响风电场的运行。

对这段文字理解正确的是：

- A、单机容量与经济效益不成正比 B、风电场建设不能完全依赖出口
C、选择风力发电机不能盲目贪大 D、国产风力机组优于进口的机组

44、看病难的实质是病人为获得治疗疾病信息，需要付出很多时间，经历和费用，而最后得到的服务质量并不如意，医患矛盾和冲突由此产生。美国著名经济学家肯尼思·阿罗，在其标志卫生经济学诞生的划时代论文中指出，风险和不确定性是医疗卫生所有特点产生的根源。他指出，正是由于不确定性的存在，使得信息成为医疗卫生中最重要的要素。病人从医生那里要求获得的最重要服务，便是信息。信息在医生与病人之间的不对称分配，是病人需要求医的根本原因。

这段文字概括最恰当的是：

- A、卫生经济学具有划时代的意义 B、信息是医疗卫生最重要的因素
C、完善医疗信息服务是重中之重 D、信息不对称是医患矛盾的根源

45、一些动植物为跟上环境变化的脚步，正在通过各种方式与气候变化赛跑。落基山脉地区的芥末等植物从1973年到2011年，开花时间提前了13天，与40年前相比，阿拉斯加的鲑鱼到上游产卵区繁衍后代的时间提前了约两个星期。澳大利亚的车桑子的叶片在过去一百多年里变窄了约2毫米。动植物的这些反应，说明它们自身具有适应气候变化的能力。可见气候变化并不可怕，关键是变化的速度要在自然界的动植物所能承受的范围之内，也就是说要让它们能够跟上这场赛跑，不会因为落后太多而灭绝。

与这段文字意思不相符的是：

- A、气候变化越来越快，动植物所能承受的范围将越来越小
B、植物提前开花、叶片变窄等是适应气候变化的生存策略
C、全球气候变化对于自然界生物来说，是巨大的生存压力
D、自然界的动植物为避免灭绝，正在与全球气候变化赛跑

46、圆珠笔画是由一根根笔迹纤细的线条累加而成的，明暗对比细腻。因为圆珠笔的油墨不可擦去，观看者可以从作品中看出每一笔的轨迹，这也就对圆珠笔绘画有了更严格的要求：每一笔画都需力求一笔到位，不可修改。又由于圆珠笔画的明暗层次感，绘画者在用圆珠笔绘画时对力的把握控制至关重要，其绘画难度也大大高于其他绘画作品。可以说，一个娴熟的圆珠笔画家，至少可以证明他在绘画能力上是完全合格的。

这段文字意在说明：

- A、圆珠笔画作品具有独特的审美价值 B、圆珠笔画技法是最难以掌握的技法
C、圆珠笔画能够体现画家的绘画功底 D、圆珠笔画的水平直接反映绘画水平

47、其实大部分游客都认为，通过开发古村落能够实现其保护、旅游、教育、扶贫四大功能，完全可以实现保护与开发共赢。但是通过调研发现，由于古村落的开发，大都存在没有系统的保护规划、村民缺少保护和传承意识、古村落所在地经济落后、政府重视程度不够、保护资金不足的问题，再加上古村落内外交通不够便利、旅游产品质量没有保证、古村落的体验活动不能够满足大部分游客的需求、精神享受程度不够高，这一切都给古村落的开发和保护带来很大的影响。

这段文字的主要观点是：

- A、主客观的原因使古村落很难实现双赢 B、要保护和开发古村落的想法不切实际
C、解决古村落目前面临的问题迫在眉睫 D、目前古村落的保护和开发任重而道远

48、波普尔提出了“可证伪性”理论，他认为任何学说要成为科学理论，必要条件是它必须是可证伪的，也就是说可以通过反例来证明其伪。“天鹅是白的”这个命题是可证伪的，如果找到一只黑天鹅，这个命题就会被证明是错的；“如果我从小开始学钢琴，现在一定能够成为一名钢琴家”，这个命题是不可证伪的，现在的“我”无法重新走一遍人生，也就无法验证其真伪。只有经过多次验证，不能被推翻的理论才能成为科学。即使成为科学的理论，某种意义上仍然是假说。科学家的正确态度应该是，不断试图推翻自己建立的学说，寻求对自己学说的批评，探究更正确的学说。唯有此，才能不断接近真理。

与这段文字中波普尔的理论不相符的是：

- A、可证伪性是科学与非科学理论的分界标准
B、任何科学理论都是针对问题所作的一种假说
C、在科学活动中不能把现有理论当作终极真理来顶礼膜拜
D、任何事物的内在规律或“本质”都是可以认识和可预见的

49、自我提升可能是一种被打上“生物遗传”与“基因性状”烙印的心理现象，因具有潜在的适应价值而被保存在人类的基因中。其实，真实、准确的自我认识才是个体获得幸福和成功的必要前提，一个适应良好的个体应当对自我有着正确的认识，那些头脑中常存错觉、不能清醒认识自我的人，往往容易受到心理疾病的侵扰。然

而日常生活中，大多数人都会“透过玫瑰色的眼镜”看待自己，其典型表现便是寻求积极自我认识、避免消极反馈评价的积极错觉。而这些积极错觉和自我欺骗又被科学研究证实是不无裨益的。

这段文字旨在说明：

- A、自我提升不能造就幸福 B、自我提升是种遗传现象
C、自我提升可能造成错觉 D、自我提升是一把双刃剑

50、“极端主义”大多固守一隅而放弃全面、客观、公正的视角，习惯性地从一个角度、一个方面、一个层次看问题。_____，“极端主义”审视和思考问题的方法，违背了事物存在的现实逻辑。作为一种偏激的价值观，“极端主义”的判断扭曲了事物的本来面貌，有悖于行为的内在规律。作为一种情绪化的社会心态，“极端主义”的言行不仅是对他人权利的漠视和侵犯，更容易激化社会矛盾，对于我们这样一个正走向现代化的大国，十分不利。

填入划线部分最恰当的一句是：

- A、作为一种片面的方法论 B、作为一种狭隘的认识论
C、作为一种错误的认识论 D、作为一种主观的方法论

51、在新加坡，政府不会为个人发放养老金，个人所能花的钱就是自己年轻时积存的公积金，而公积金的多少完全取决于自己的工资收入。在这种机制下，每个人都要为自己的养老负责，年轻时就必须努力工作，为自己的老年生活进行储蓄和准备。该制度不仅比较有效地解决了新加坡的养老难题，而且对新加坡的社会经济稳定发展提供了重要的保证。

这段文字意在强调：

- A、新加坡公积金制度强调了每个人养老都需要靠自己
B、新加坡公积金制度减少了政府在养老上的财政支出
C、新加坡公积金制度鼓励人在年轻的时候要努力工作
D、新加坡公积金制度有助于保证社会经济的稳定发展

52、当下中国流行歌曲的歌词创作往往是风格化的定制，纯粹的辞藻堆砌，缺乏意义和体验的明确指向，与当代诗语言的追求相悖。如果说当代诗力求使因滥用而失去功能的语言回到原初，那么很多流行歌曲则加速播散着滥用对语言的消融。古典音乐的情况同样不容乐观。不久前听了一部当代著名作曲家创作的关于孙中山生平的交响声乐作品，宏达饱满的音乐之下，唱词的薄弱显得十分突出，它的脚本仅是孙中山语录摘编。

这段文字体现的观点是：

- A、当下中国音乐面临着构思和风格等诸多限制 B、当下中国音乐创作过程中的文学性严重缺失
C、当下中国音乐创作过程缺乏明确的意义指向 D、今后中国音乐应该在文学中挖掘发展的空间

53、①引发剧烈的山崩地裂，引发大面积地震和惊天海啸，从而带来遍地浩劫

②引起像温泉及间歇泉那样的地热现象

③火山区的地下活动至今仍未停止

④当达到超级火山爆发的限度时，其喷发力可将岩浆喷到 25 公里的高空

⑤平时看起来水火不容的力量似乎在和谐地同时工作

⑥表面休眠中的火山将地下的水体加热煮沸，形成奇异的化学反应，不停息地溶解着岩石层

将以上 6 个句子重新排列，语序正确的是：

- A、⑥⑤④②③① B、⑤③①④⑥② C、④⑤②⑥①③ D、③⑤⑥②④①

54、①经过漫长冬季，茶树养分充分积累，初春气温低，茶树生长速度缓慢，不需要施农药，芽质比较好

②“明前茶”的声誉，正是来自于它的品质和稀有

③作为茶叶主要品质标准的茶氨基酸含量最高，含苦涩味的茶多酚则相对较低

④在江南茶叶产区，早发品种往往在惊蛰和春分开始萌芽，清明前可以采摘

⑤清明前江南一带普遍较低的气温又限制了茶树叶芽的数量，使得能达到采摘标准的茶叶产量很少

⑥中国各地农业生产一向以节气为农事安排的指导，茶叶也不例外

将以上 6 个句子重新排列，语序正确的是：

- A、③②⑥④⑤① B、⑥④①③⑤② C、⑥④②⑤①③ D、④⑤⑥①③②

55、拜偶像是大众心理的一个特征，社会学家韦伯说，“民众宗教为了取得期望的潜在影响，常常是直接依赖于拜偶像，因为它倾向于对民众的要求作出让步，而民众在任何地方都是希望魔术和偶像崇拜的。”拜偶像不仅仅是一种个人行为，它折射的是_____，无论在日常生活还是在政治生活中，当人们对自己感到无力和无助时，他们就幻想非理性的奇迹。然而，这恰恰又会使他们陷入更深的无助与非理性期待之中。如果想要恢复失去的自信和理性，就必须拒绝这些陷阱和幻觉。

填入划线部分最恰当的一句是：

- A、一个社会良知的丧失 B、一种集体无意识状态 C、一个社会理性的缺失 D、一种群体的盲目表达

三、数量关系，共 10 题，本部分包括数字推理、数理计算。

56、自行车运动员在 400 米长的环形跑道上骑行了两圈，他前一半时间的平均速度是 6 米/秒，后一半时间的平均速度是 10 米/秒，问他第一圈用时为多少秒：

- A、50 B、60 C、70 D、80

57、甲、乙、丙、丁四个工厂联合完成一批玩具的生产任务，如果四个工厂同时工作，需要 10 个工作日完成；如果交给甲、乙两个工厂，需要 24 个工作日完成；如果交给乙、丙两个工厂，所需时间比交给甲、乙两个工厂少用 9 个工作日。已知甲、乙两厂每天生产的件数差与丙、丁两厂每天生产的件数差相同，问如果单独交给丁工厂，需要多少个工作日完成：

- A、30 B、48 C、60 D、80

58、有一枚棋子从棋盘的起点走到终点，每次只能从起点向终点方向走 9 格或者从终点向起点方向走 7 格，问该棋盘至少有多少格（起点和终点各算一格），才能保证从起点出发的棋子都能走到终点并返回起点：

- A、9 B、10 C、15 D、16

59、箱子里有乒乓球和网球若干，若每次取出乒乓球 4 个，网球 2 个，若干次后正好都取完；若每次取出乒乓球 5 个，网球 3 个，则两球取尽后，还剩余 5 个乒乓球，那么乒乓球和网球共有多少个：

- A、40 B、45 C、53 D、58

60、小李以每分钟 80 米的速度从家中步行去上班，走了路程的 20%之后，他又前行了 2 分钟，这时他发现尚有四分之三的路程，问小李以该速度步行到单位还需多少分钟：

- A、15 B、20 C、30 D、40

61、某书店打折区有文学类书 10 种，理科类书 5 种，法律类书 3 种。三类书的打折价格分别统一为 10 元，20 元和 30 元。小明身上有 30 元，他打算全部用来买书，且同一种书不重复购买。问可以有多少种选择：

- A、150 B、162 C、167 D、173

62、某项工程若由甲、乙两队合作需 105 天完成，甲、丙两队合作需 60 天，丙、丁两队合作需 70 天，甲、丁两队合作需 84 天。问这四队的工作效率由低到高的顺序是什么：

- A、乙丁甲丙 B、乙甲丙丁 C、丁乙丙甲 D、乙丁丙甲

63、A、B 两条流水线每小时均能装配 1 辆汽车。A 流水线每装配 3 辆汽车要用 1 小时维护，B 流水线每装配 4 辆汽车要用 1.5 小时维护。问两条流水线同时开始工作，装配 200 辆汽车需用多少小时：

- A、134 B、135 C、136 D、137

64、兄弟五人年龄均不相等。已知今年五个人的平均年龄为 50 岁，较年长的三个人平均年龄为 55 岁，较年轻的三个人平均年龄为 44 岁。问大哥今年至少多少岁：

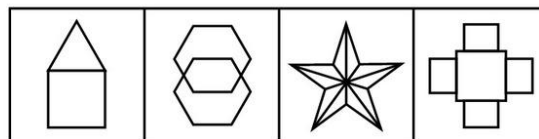
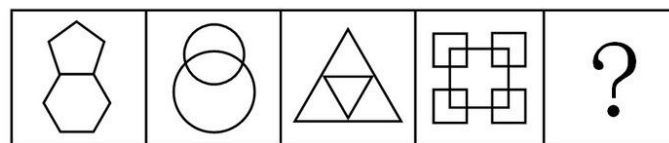
- A、57 B、58 C、59 D、60

65、八名棋手进行单循环比赛，每两人只对局一次，其中七人已经分别赛过 7、6、5、4、3、2、1 盘。问另外一人比赛了几盘：

- A、0 B、2 C、4 D、6

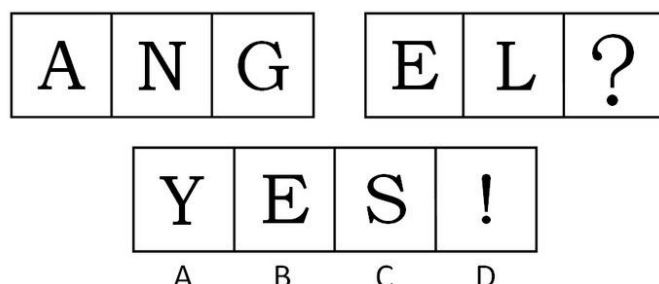
四、判断推理，共 40 题，本部分包括图形推理、定义判断、类比推理、逻辑判断。

66、请从所给的四个选项中，选择最合适的一项填在问号处，使之呈现一定的规律性：



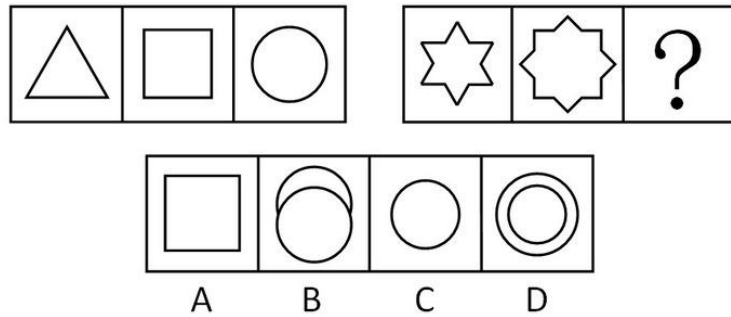
A B C D

67、请从所给的四个选项中，选择最合适的一项填在问号处，使之呈现一定的规律性：

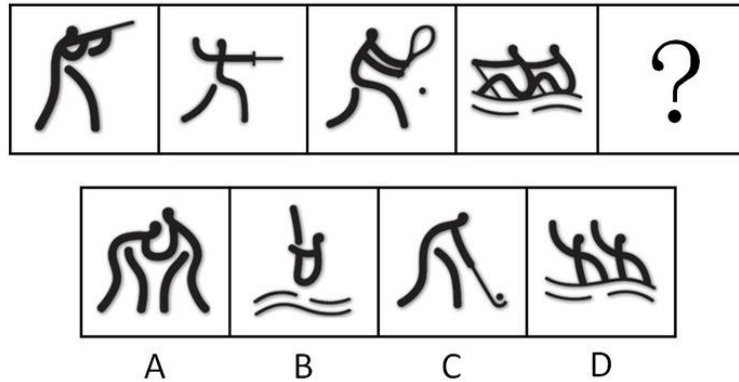


A B C D

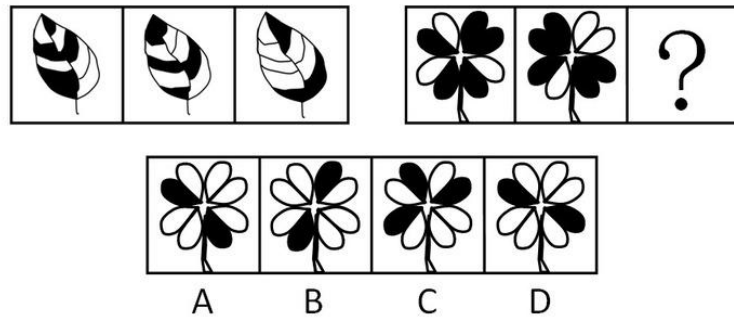
68、请从所给的四个选项中，选择最合适的一项填在问号处，使之呈现一定的规律性：



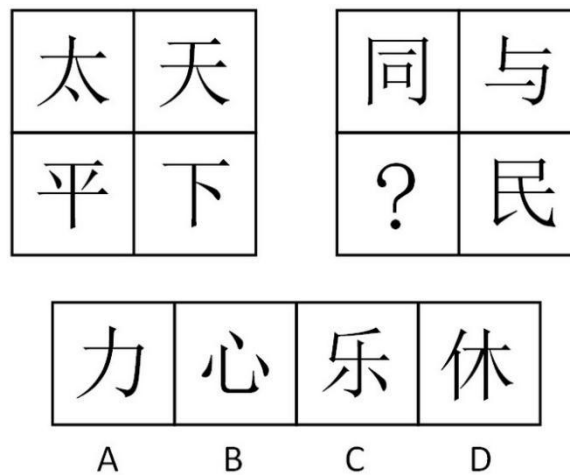
69、请从所给的四个选项中，选择最合适的一项填在问号处，使之呈现一定的规律性：



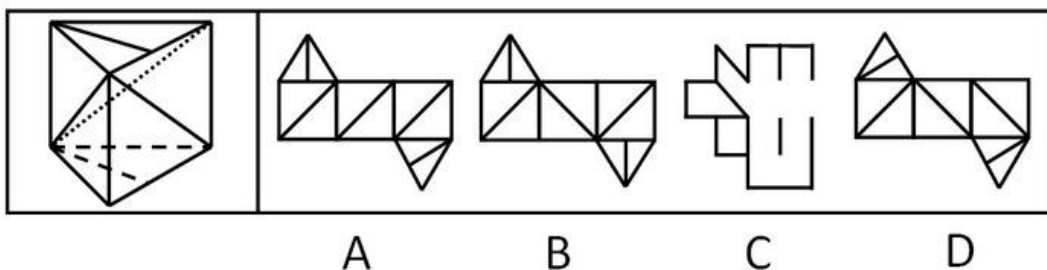
70、请从所给的四个选项中，选择最合适的一项填在问号处，使之呈现一定的规律性：



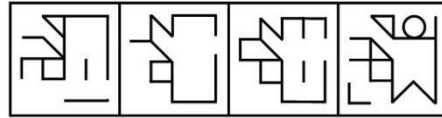

71、请从所给的四个选项中，选择最合适的一项填在问号处，使之呈现出一定的规律性：



72、左边给定的是一个纸盒的成型图，它可以从右边哪一项折叠而成？请把它找出来：

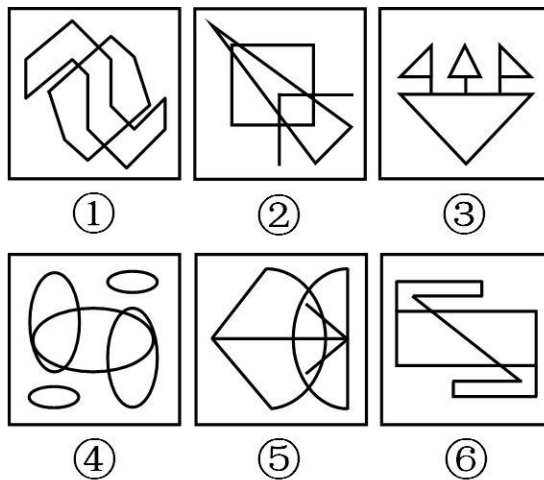


73、左边给定的是一个纸盒的成型图，它可以由右边哪一项折叠而成？请把它找出来：



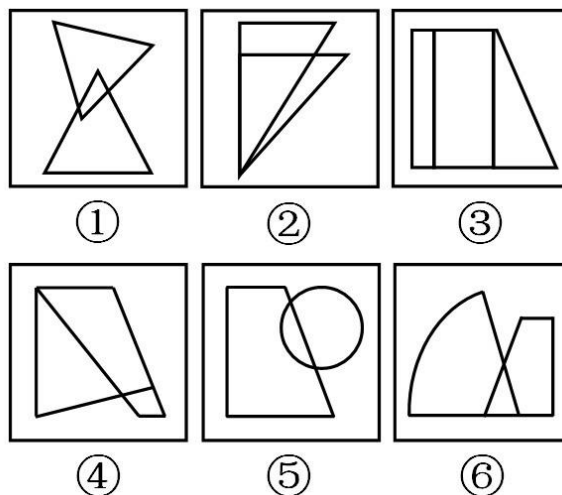
A B C D

74、把下面六个图形分成两组，分组正确的是：



A、①②③，④⑤⑥ B、①④⑥，②③⑤ C、①②⑥，③④⑤ D、①⑤⑥，②③④

75、把下面六个图形分成两组，分组正确的是：



A、①②③，④⑤⑥ B、①③⑥，②④⑤ C、①④⑤，②③⑥ D、①⑤⑥，②③④

76、琥珀规则是指某种事物沉寂或出现多年后，其价值被重新发现。

根据上述定义，下列选项符合琥珀规则的是：

- A、在 1899 年王懿荣发现甲骨文以前，甲骨一直被作为龙骨入药
- B、1937 年《奥林匹克宣言》手稿遗失，半个世纪后被重新发现
- C、古希腊人首先提出日心说，1800 多年后哥白尼也提出该学说
- D、如老王所料，他珍藏多年的邮票市场成交价每枚超过了万元

77、社会方言是指在某一社会团体，社会阶层或次文化群体中被使用的语言。

根据上述定义。下列选项未使用社会方言的是：

- A、张老太太没事就喜欢找人“唠嗑” B、“黑马”成色如何就看今晚决赛
C、他也就是一个“打酱油”的角色 D、小李在学校里结识了几位“死党”

78、视觉对比是由光刺激在空间上的不同分布引起的视觉经验。它可能是由于光线的不同强度在空间上的不同分布引起的。也可能是由于一个物体的颜色受到其周边物体颜色的影响而发生色调改变引起的。

根据上述定义，下列属于视觉对比的是：

- A、日光灯的光线每秒闪动 100 次，人们却看不出它在闪动
B、在注视亮着的电灯后，闭上眼睛，眼前会出现一个灯的光亮形象
C、长时间观察挂钟时，会感觉指针从上往下走时比从下往上走时快
D、同样灰度的正方形放在白色背景下比放在黑色背景下显得暗得多

79、投射作用是指个人将自己不喜欢或不被社会所接受的冲动欲望、思想观念、性格特点等转嫁到他人身上，认为他人也有同样的特质。

根据上述定义，下列属于投射作用的是：

- A、吃不到葡萄说葡萄酸 B、推己及人 C、爱屋及乌 D、以小人之心度君子之腹

80、菜单成本指的是商家调整产品价格而产生的成本。

根据上述定义，下列选项属于菜单成本的是：

- A、某百货公司进行店面装修，为此提高部分商品价格、转嫁开支
B、某手机生产商下调产品价格销量大增，为此对生产线进行扩建
C、某汽车生产商对某车型进行升级后，提高了该车型的市场售价
D、某保险公司增加险种受到顾客欢迎，但因此理赔成本也增加了

81、经济成本流指的是公司将整个业务流程的成本进行一体化，并像管理单一成本的流动那样管理整个业务流程所发生的支出。

根据上述定义，下列属于经济成本流的是：

- A、代理商为降低库存压力，对完成既定销售额的零售商给予奖励
B、某购物网站与一物流公司签约，由其承包所有的网购货运业务
C、超市允许供货商使用超市货架存货，以降低供货商的仓储成本
D、某厂商与供应商签约，规定原材料费按一年一付，以提高效率

82、贸易转移效应是指多个国家形成关税同盟后，由于取消了同盟国之间的关税但保留了对非同盟国的关税，从而产生了同盟国成员的低效率高成本生产取代了非同盟成员的高效率低成本生产的效应。

根据上述定义，下列不会产生贸易转移效应的是：

- A、甲国对进口农产品征收高额关税 B、甲国加入某国家集团自由贸易区
C、甲国针对乙国橡胶给予关税优惠 D、甲国针对乙国汽车征收反倾销税

83、再社会化是指有意放弃原已习得的价值观和行为规范，重新确立和接受新的价值观和行为规范。

根据上述定义，下列不是典型的再社会化的有：

- A、一些移居海外的中国人很快适应了当地生活 B、新兵在部队经过训练后逐步成为合格的军人
C、新生代农民工对城市有强烈的认同和归属感 D、许多服刑人员经过教育能认罪服法遵守监规

84、双盲试验是指试验的执行者和接受者在进行试验以及观察结果时，均不知所用的是有效物还是无关的对照物。

根据上述定义，下列使用双盲试验的是：

- ①工商部门抽查不同商家销售的月饼质量
②公安部门组织目击者对嫌疑犯进行辨认
③卫生部门对某种新型药物疗效进行检验
A、①② B、②③ C、①③ D、①②③

85、诱发运动是心理学中有关运动知觉的概念。它是指一个物体正在运动时，人们感觉其相邻的一个相对静止的物体也在运动。

根据上述定义，下列属于诱发的是：

- A、两列相向行驶的火车会车时，坐在车上的乘客会觉得车速提高了很多

B、两张相同照片先后在屏幕上快速出现时，人们常感觉是同一张照片

C、点亮蜡烛后，注视着烛心的火苗，会发现火苗在不断地跳动

D、仰望夜空时，由于浮云的运动，人们感觉月亮也在运动

86、显微镜：放大镜

A、凸透镜：哈哈镜 B、复印机：扫描仪 C、录像机：照相机 D、导航仪：后视镜

87、神采奕奕：闷闷不乐

A、眉清目秀：面黄肌瘦 B、眉飞色舞：垂头丧气 C、白发苍苍：眉目如画 D、悠然自得：勃然大怒

88、防火墙：隔离网

A、暖气片：电热毯 B、手表：罗盘 C、存储器：计算器 D、孔明灯：节能灯

89、应聘者：招聘会：招聘者

A、原告：判决书：被告 B、医生：挂号处：病人

C、生产者：销售者：经营者 D、甲方：签约仪式：乙方

90、围棋：棋子：棋盘

A、二胡：琴弦：琴弓 B、窗帘：帘子：窗轨 C、书法：毛笔：宣纸 D、茶具：茶壶：茶杯

91、教材：学生：课堂

A、教练：运动员：赛场 B、法律：法官：法院 C、袈裟：僧侣：寺院 D、武器：军人：战场

92、（ ）对于摄像相当于短信对于（ ）

A、相机：手机 B、胶卷：留言 C、摄影：微信 D、照相：通讯

93、（ ）对于修订相当于粉刷对于（ ）

A、完善：油漆 B、删减：装修 C、文档：墙面 D、法规：刷子

94、堵车对于（ ）相当于（ ）对于寒流

A、迟到：降温 B、交通：对流 C、车流：寒潮 D、红灯：冬季

95、黄金对于（ ）相当于（ ）对于大衣

A、白银：衣服 B、金属：鞋帽 C、首饰：牛皮 D、价格：商标

96、天文学家研究发现，1 亿年前银河系与一个较小的星系或者巨大的暗物质结构发生相撞，至今仍处在“震动”，仿佛波浪一样，相比之下，环绕银河系中央的速度则达到每秒 220 公里。

如果以下各项为真，最能加强上述观点的是：

A、银河系恒星分布存在南北差异，而其他星系恒星则均匀分布

B、银河系是宇宙中最大的星系，高速运动中此类撞击在所难免

C、天文学家发现，银河系周围有数百个巨型暗物质结构在活动

D、有文献记载，曾有天文学家也认为银河系曾遭遇过此类撞击

97、生物钟基因是控制生物钟的特殊基因，它们相互作用控制其他基因时而活跃时而沉寂，形成睡眠节奏。科学家实验发现，长时间照明会扰乱幼鼠脑细胞中调节睡眠与苏醒节律的生物钟。一些医院的婴儿护理室为方便照料新生儿，习惯把他们安置在长时间有照明的环境中，科学家担心这种长明环境可能导致新生儿睡眠和苏醒的节律发生紊乱。

下列哪项为真，可以成为科学家担心的前提条件：

A、很多婴儿只在护理室中短期停留就会交到父母身边

B、用于照射幼鼠的光线与婴儿护理室的光线强度相同

C、人体内生物钟机制与实验所用老鼠基本相同

D、被长时间照明扰乱了生物钟的幼鼠即便被放回到正常环境也很难恢复

98、研究者受萤火虫的启发，用合成生物技术将荧光基因重组到一种农杆菌中，利用与其一种名为拟南芥的微小植物传递 DNA，来培育发光的拟南芥。他们认为如果这项技术应用在树木上，将会使未来的树木发光，并作为路灯使用，这将极大地节约能源。

以下哪项为真，最能削弱上述结论：

A、研究者将荧光基因重组到一种农杆菌中，利用其与树木传递 DNA，但这种细菌会影响树木的生长寿命

B、拟南芥能够很好地与农杆菌中的荧光基因融合，但一般的树木难以与这种基因结合

C、这种利用生物技术实现的廉价光源非常节能，据分析其产生的能量比电池更加密集

D、繁华街道中由于车辆密集，这种发光植物很难显现出来，只有在林荫小道中才能发挥照明作用

99、最新研究发现，狼和狗的关键性区别，是食用人类食物这一特点。经过几个世纪，食用人类食物导致了狗具备消化淀粉的基因，它们因此能依靠人类剩余的饭菜繁衍下来，并最终对它们实现了驯化，即在形态、生理功能、行为习惯，对人类的态度等方面都发生大幅度的变化，成为家畜。

以下哪项为真，不能质疑上述说法：

A、如果人们在野外捕捉了狼的幼崽，并对它们进行驯化，时间长了小狼的行为也会发生变化，并且会和人类亲近

B、长期的野外观察表明，当狼群缺少可猎食的动物时也会挖掘植物的块茎充饥

C、在牧区许多牧羊犬和其主人一样以肉食为主，并不吃淀粉类食物，并且世代如此

D、狗从农业社会开始食用人类的饭菜，因此狗比狼对人类更友好，更愿意在人类定居点的周围徘徊

100、在温室气体的作用下，全球平均温度越来越高，并伴有绝对湿度的全球性增加，大部分热带和中纬度地区可能经历极热天气和极高湿度。在过去 50 年内，人的劳动量下降到 90%；到 2050 年，这一数值估计下降到 80%；到 2200 年，劳动量将下降到 40% 以下。因此得出结论，人类的劳动量将在未来的湿热环境中下降。

以下哪项为真，最能质疑上述结论：

A、湿热天气对户外人员的劳动影响较大，不太影响室内人员

B、随着劳动保护和机械能力的提升，环境对人的影响越来越小

C、气候湿度增高比温度升高更能对人类劳动能力产生负面影响

D、气候问题主要限制了热带和中低纬度地区的人类活动

101、研究发现，做梦可能是一种治疗过程，能够减轻或消除痛苦的记忆。研究人员先让被试者观看可以激发情绪的图片，在被试者进入梦乡以后，再对他们的大脑进行扫描，结果发现控制情绪的大脑区域在出现梦境的快速眼动期活跃性降低。

如果以下各项为真，最能支持科学家观点的是：

A、痛苦的梦会抑制大脑情绪区域活跃性 B、快速眼动期并未完全驱散不良的记忆

C、快乐情绪会激发大脑情绪区域活跃性 D、保持心理健康是睡眠的一种重要功能

102、在对待异地高考问题上，甲方认为，异地高考能够有效促进教育公平，突破户籍制度的桎梏；乙方认为，异地高考将导致大城市人口恶性膨胀。

如果以下各项为真，不能作为上述双方观点论据的是：

A、教育资源分配不均和招生制度不合理是教育不公的根源

B、一旦放开异地高考，无法避免“高考移民”泛滥的问题

C、各省高考实行自主命题，要求学生回原籍高考并不公平

D、异地高考操作难度很大，牵扯到方方面面的利益和事情

103、某国研究人员在废水处理池中种植甘草后发现，甘草生长茂盛，吸收水中的磷化物效果特别明显，而且制氧能力也非常优异，因此研究人员认为种植甘草有利于净化水质。

以下哪项为真，最能削弱上述结论：

A、相比野生甘草，人工种植的甘草在废水中只能吸收一小部分磷化物

B、废水中包含大量的硫化物，目前来看，甘草不能有效分解这类氧化物

C、甘草主要生长在干旱或半干旱地区，土壤多为碱性或中性，而废水主要为酸性

D、甘草中所含的物质能够与污水中的某些氧化物发生反应，释放氧气，但甘草自身进行光合作用时也会耗费氧气

104、根据贝格曼定律，温血动物身体上每单位表面面积发散的热量相等，因此大型化动物能获得更小的体表面积与体积之比，在体温调节中比小型动物消耗的能量少。所以，在同种动物中，生活在较冷气候中的种群其体型比生活在较暖气候中的种群大。

如果以下各项为真，最能削弱上述观点的是：

A、较冷气候中的动物种群的冬眠时间比较长 B、温血动物身体表面发散热量并不是非常多

C、动物体型的增大必然导致绝对散热量增加 D、较冷地区也存在许多体型较小的温血动物

105、猫的气味是老鼠的天然威慑剂，老鼠会灵敏地觉察这种味道并主动远离天敌。然而研究人员发现，当老鼠感染了寄生虫后，寄生虫不但抑制了老鼠对猫气味的恐惧，甚至会使得老鼠向猫靠近，从而大大增加了老鼠被猫捕杀的概率。因此，研究人员推断：寄生虫可使老鼠丧失对猫的恐惧感。

以下哪项如果为真，最能解释上述推断：

- A、恐惧和亲和可能不是完全不相关的情感
- B、寄生虫的代谢产物会抑制老鼠对于猫气味的本能恐惧反应
- C、寄生虫侵入老鼠体内后，寄生在老鼠大脑中负责恐惧和其他情感行为的区域
- D、寄生虫需进入猫的消化系统才能繁衍后代，所以只有使老鼠被猫捕食才能完成繁衍

五、资料分析题

我国文化事业费投入情况

单位：亿元

| 年份 | | 2006 年 | 2007 年 | 2008 年 | 2009 年 |
|-----|--------|--------|--------|--------|--------|
| 全国 | | 158.03 | 198.96 | 248.04 | 292.32 |
| 分区域 | 西部地区 | 34.30 | 42.70 | 58.76 | 70.15 |
| | 中东部地区 | 123.73 | 156.26 | 189.28 | 222.17 |
| 分机构 | 艺术表演团体 | 39.08 | 49.74 | 58.20 | 63.62 |
| | 图书馆 | 31.95 | 39.54 | 47.76 | 55.08 |
| | 群众文化机构 | 32.28 | 43.23 | 52.88 | 68.12 |
| | 其他 | 54.72 | 66.45 | 89.20 | 105.50 |

106. 2007 年艺术表演团体、图书馆和群众文化机构文化事业费投入总金额占全国文化事业费投入总金额的比重是：

- A、33.40% B、36.09% C、63.91% D、66.60%

107. 2009 年，我国中东部地区文化事业费投入的同比增速约为：

- A、14.7% B、17.4% C、21.7% D、27.1%

108. 2008 年，文化事业费投入同比增速高于全国平均水平的是：

- A、西部地区 B、艺术表演团体 C、图书馆 D、群众文化机构

109. 2009 年，艺术表演团体文化事业费投入占全国总投入的比重比图书馆：

- A、高近 3 个百分点 B、低近 5 个百分点 C、高近 5 个百分点 D、低近 3 个百分点

110. 能够从资料中推出的是：

- A、2007-2009 年，我国文化事业费投入同比增长率逐渐上升
- B、2007-2009 年，其他机构文化事业费投入同比增长率逐渐上升
- C、2006 年图书馆文化事业费投入占全国的比重高于 2009 年
- D、2006-2009 年，平均每年的群众文化机构投入增长金额近 10 亿元

材料二

2013 年 1-5 月，全国规模以上快递服务企业业务量累计完成 31.2 亿件，同比增长61%；业务收入累计完成 514.1 亿元，同比增长34.3%。其中，同城业务收入累计完成 57.7 亿元，同比增长58.6%；异地业务收入累计完成 292.6 亿元，同比增长27.1%；国际及港澳台业务收入累计 106.3 亿元，同比增长31%；其他快递业务收入 57.4 亿元，同比增长63.7%。

2013 年 1-5 月，东、中、西部地区规模以上快递业务收入的比重分别为82.3%、9.4%和8.3%，业务量比重分别为80.6%、11.5%和7.9%。与上年同期相比，东部地区快递业务收入比重上升了 0.5 个百分点，快递业务量比重下降了 0.4 个百分点；中部地区快递业务收入比重下降了 0.2 个百分点，快递业务量比重上升了 0.7 个百分点；西部地区快递业务收入比重下降了 0.3 个百分点，快递业务量比重下降了 0.3 个百分点。

2013 年 5 月，规模以上快递业务量完成 7.4 亿件，同比增长51.4%；业务收入完成 120.8 亿元，同比增长35.4%。

2013 年 1-5 月规模以上快递业务量与收入前 10 位城市情况

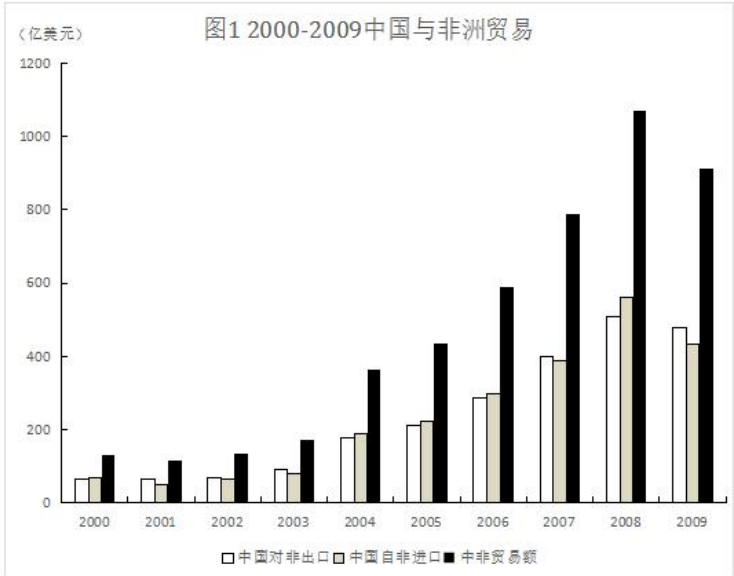
| 排名 | 城市 | 快递业务量 (万件) | 排名 | 城市 | 快递业务收入 (万元) |
|----|-----------|--------------|----|-----------|---------------|
| 1 | 上海 | 32982.9 | 1 | 上海 | 894272.6 |
| 2 | 北京 | 31423.8 | 2 | 深圳 | 444581.9 |
| 3 | 广州 | 26133.9 | 3 | 北京 | 367993.7 |
| 4 | 深圳 | 20636.7 | 4 | 广州 | 357959.1 |
| 5 | 杭州 | 14307.3 | 5 | 杭州 | 189332.0 |
| 6 | 金华 (义乌) | 9874.6 | 6 | 苏州 | 183492.0 |
| 7 | 东莞 | 9796.7 | 7 | 东莞 | 161296.5 |
| 8 | 苏州 | 9607.6 | 8 | 金华 (义乌) | 104047.8 |
| 9 | 武汉 | 6375.3 | 9 | 宁波 | 81322.2 |
| 10 | 南京 | 5965.3 | 10 | 南京 | 78334.9 |

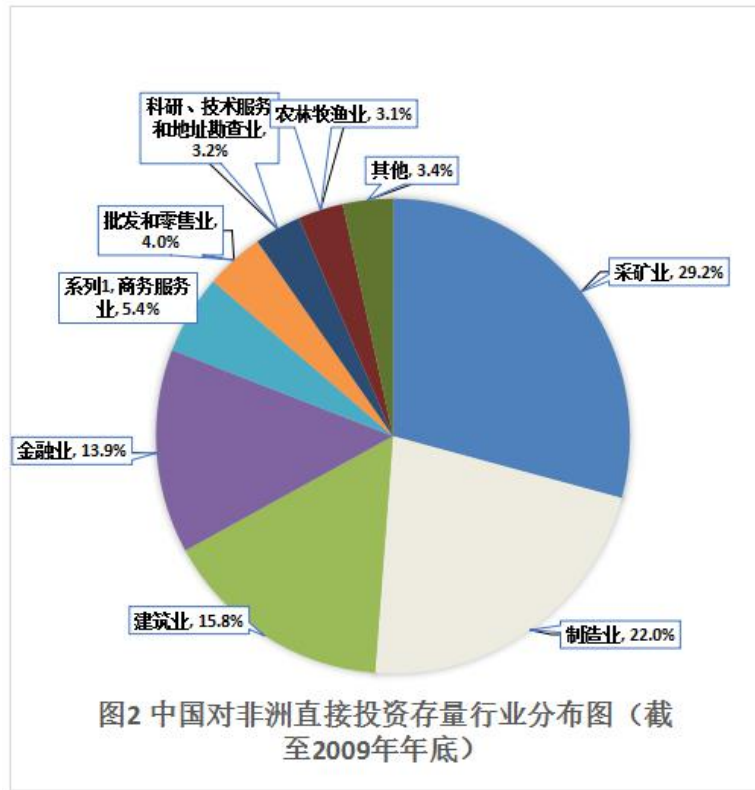
111. 2013 年 1-5 月，规模以上快递业务量超过全国总业务量^{10%}以上的城市有几个？
A、1 B、2 C、3 D、4
112. 2012 年 1-5 月，规模以上快递业务完成的异地业务收入约是同城业务收入的多少倍？
A、3 B、4 C、5 D、6
113. 2013 年 1-5 月，规模以上快递业务收入占行业总收入的比重排序正确的是：
A、异地业务>国际及港澳台业务>其他快递业务 B、异地业务>其他快递业务>同城业务
C、国际及港澳台业务>其他快递业务>同城业务 D、国际及港澳台业务>异地业务>同城业务
114. 关于 2012 年 1-5 月规模以上快递业务状况，不能从上述资料中推出的是：
A、同城业务收入占行业总收入比重 B、东部地区单件快递业务收入
C、西部地区快递业务量 D、异地快递业务量
115. 关于 2013 年 1-5 月规模以上快递业务，能够从上述资料中推出的是：
A、上海平均每件快递业务的收入约为 30 多元
B、5 月快递业务量低于同年 1-4 月的平均水平
C、快递业务收入排前 10 名的城市中有 3 个来自广东
D、快递业务量与快递业务收入均排前 10 名的城市有 8 个

材料三

中非贸易额 2008 年突破了 1000 亿美元，其中中国对非洲出口 508 亿美元，自非洲进口 560 亿美元。2000 年至 2008 年，中非贸易占中国对外贸易总额的比重由 2.2%升至 4.2%。2009 年，中非贸易额 910.7 亿美元。2010 年 1 月至 11 月，中非贸易额达 1148.1 亿美元，同比增长 43.5%。

截至 2009 年年底，中国对非洲直接投资存量已大幅增长到 93.3 亿美元。





116. 2008 年，中国对非洲贸易逆差为：
A、25 亿美元 B、34 亿美元 C、48 亿美元 D、52 亿美元
117. 2000-2010 年，中非贸易额超过 600 亿美元的年份有几个？
A、3 B、4 C、5 D、6
118. 2009 年 12 月，中非贸易额约为多少亿美元？
A、76 B、94 C、111 D、800
119. 截至 2009 年年底，中国对非洲直接投资存量超过 10 亿美元的行业有几个？
A、4 B、5 C、6 D、7
120. 能够从资料中推出的是：
A、2010 年中非全年贸易额同比增长了 43.5%
B、2001-2010 年中非贸易额呈逐年上升趋势
C、2008 年中国的对外贸易总额略低于 2 万亿美元
D、2000-2008 年中非贸易年均增长额超过 100 亿美元

微信扫一扫二维码，关注“公务员考试挺简单”微信公众号，可获取更多公考经验。分享公考经验，还可获得现金奖励哈

手机扫描淘宝店铺，可以购买省考、国考历年真题哦



微信公众号



淘宝店铺