

2014 年黑龙江公务员考试《行测》卷

一、常识判断，共 20 题，根据题目要求，在选项选出答案。

1、耕地保护是关系我国经济和社会可持续发展的全局性战略问题。“十分珍惜和合理利用土地，切实保护耕地”是必须长期坚持的一项基本国策。下列说法不正确的是：

- A、耕地占用补偿制度是我国目前主要的耕地保护制度之一
- B、国家能源、交通、水利、军事等重点建设项目确需占用基本农田的，必须报省级政府批准
- C、补充耕地任务全面落实是“十二五”期间土地整治的主要目标之一
- D、我国耕地保护红线是 18 亿亩

2、下列画家和其代表作对应正确的是：

- A、吴道子——《洛神赋图》 B、张择端——《游春图》
- C、徐悲鸿——《五牛图》 D、阎立本——《步辇图》

3、关于 2013 年我国各项工作的完成情况，下列表述不正确的是：

- A、城乡居民收入差距继续缩小 B、进出口总额突破 4 万亿美元
- C、粮食产量较上年略有减少 D、国内生产总值超过 50 万亿元

4、下列选项中不属于全国人民代表大会职权的是：

- A、行政立法，制定行政法规 B、选举、任命和罢免国家机关领导人员
- C、审查和批准国家的预算 D、修改宪法，监督宪法实施

5、下列哪项中“竹”的含义与其他三个不一样：

- A、金石丝竹 B、势如破竹 C、罄竹难书 D、梅兰竹菊

6、张某是某服装公司的法人代表，与担任出纳职务的妹夫合谋将 100 万元公司资金挪用到股市炒股，并将盈利的 20 万元平分。张某的行为构成：

- A、挪用公款罪 B、挪用资金罪 C、职务侵占罪 D、贪污罪

7、下列成语反映的历史事件，按时间先后排序正确的是：

- A、多多益善 指鹿为马 毛遂自荐 B、精忠报国 闻鸡起舞 望梅止渴
- C、纸上谈兵 投笔从戎 乐不思蜀 D、破釜沉舟 草木皆兵 负荆请罪

8、在我国目前的国际储备中，最主要的储备资产是：

- A、普通提款权 B、特殊提款权 C、外汇储备 D、黄金储备

9、“二十四节气”中的“夏满芒夏暑相连”包含了多少个节气：

- A、6 B、5 C、4 D、7

10、关于《史记》下列说法正确的是：

- A、是我国第一本编年体史书 B、“世家”一般记载的是诸侯王
- C、“本纪”中有唐太宗的事迹 D、是司马光主持编写的

11、关于夜盲症，下列说法不正确的是：

- A、夜盲症在光线昏暗的环境下视物不清 B、多食用橘子有助于夜盲症的治疗
- C、夜盲症可能来自遗传 D、缺乏维生素 A 可能引起夜盲症

12、关于中华人民共和国国务院公文印章正中的图案构成，下列说法正确的是：

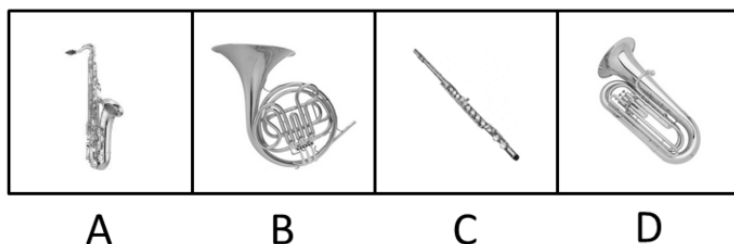
- A、是五角星图案 B、是镰刀斧头图案 C、没有图案 D、是中华人民共和国国徽图案

13、关于医学，下列说法正确的是：

- A、华佗根据民间经验与自己的医疗实践，总结出“望闻问切”四诊法
- B、明朝李时珍著有《本草纲目》，被后人尊称为“医圣”
- C、《黄帝内经》《难经》《伤寒杂病论》《神农本草经》是我国传统医学的四大经典著作

D、五脏六腑是人体内的主要器官，胆是五脏之一

14、下列乐器中哪个是萨克斯：



15、下列诗句与所描写景观对应错误的是：

- A、大漠孤烟直，长河落日圆——金沙江 B、接天莲叶无穷碧，映日荷花别样红——西湖
C、两岸青山相对出，孤帆一片日边来——长江 D、岱宗何崔嵬，群山无与比——泰山

16、世界各国由于各自不同的经济与政治状况，形成了不同的城镇化发展模式。下列对应全部正确的是：

- ①欧洲——市场主导，自由发展
②韩国、日本——政府推动，短期迅速发展
③拉美国家——受殖民地经济制约
④美国——政府调控，长期逐步发展
A、②③ B、①④ C、③④ D、①②

17、下列有关地理知识的表述不正确的是：

- A、“丹霞山世界地质公园”经联合国教科文组织批准为中国首批世界地质公园之一
B、秦始皇为沟通湘江和漓江之间的航运，开挖了灵渠
C、“和田玉”是我国四大名玉之一，主要产自新疆
D、我国位于北温带内，属于温带气候

18、在黄河入海口，下列哪一天白天最长：

- A、植树节 B、劳动节 C、教师节 D、元旦

19、为节约用水和减少污水排放，一些住宅小区对生活污水中的灰水和黑水进行分离处理，并采用了中水回用处理技术，以下关于中水、灰水、黑水的表述，错误的是：

- A、中水一般是指污水经过处理后的出水，水质介于上水（给水）和下水（污水）之间
B、灰水和黑水都可以作为中水回用系统的水源
C、从盥洗室、洗澡间和厨房等流出的洗涤废水是灰水
D、呈黑色的废水都是黑水

20、在发生泥石流时，下列做法正确的是：

- A、发现泥石流后，要马上向与泥石流成垂直方向一边的山坡爬
B、发生山体滑坡时，要马上沿着滑坡方向尽力奔跑
C、发生泥石流时，在沟底尽力爬到大树上进行躲避，等待救援
D、沿山谷徒步行走时，一旦遭遇大雨，发现山谷有异常的声音或听到警报时，应立即找寻较大的洞穴或巨石躲避，等大雨过后再走

二、言语理解，共 30 题，本部分包括表达与理解两方面的内容，请根据题目要求选出答案。

21、从指纹、掌纹、静脉、虹膜、视网膜、面孔等这些基本上刻录在人类遗传中的信息，到人们的习惯所代表的行为特征，每个人都有些____的特征，都可用来验证身份。

填入画横线部分最恰当的一项是：

- A、独一无二 B、始终如一 C、一目了然 D、一成不变

22、有智慧的人，一直以来都在享受每一秒，因为他们知道这一秒一旦过去就永不再来；愚痴的人，一直以来都在抱怨每一秒，总觉得这一秒不幸，下一秒才好！同样经历每分每秒，但____，天地悬隔。

填入画横线部分最恰当的一项是：

- A、泾渭分明 B、南辕北辙 C、毫厘之差 D、庸人自扰

23、强硬的紧缩政策和严重的失业问题，导致意大利社会不满情绪日益____。就在莱塔内阁在总统府宣誓就职时，总理府外上演了一起因对政府不满而引发的枪击案。作为欧元区第三大经济体，意大利若因政治局势不稳而____债务危机再度恶化，将给欧元区乃至整个欧盟带来沉重打击。

填入画横线部分最恰当的一项是：

A、累积 导致 B、增加 造成 C、集聚 致使 D、高涨 促进

24、只有把科学确立为社会的基本价值，才能使科学精神_____人们的精神血液中，_____到社会的制度规范中，_____在人们的日常生活中。

填入画横线部分最恰当的一项是：

A、渗入 落实 呈现 B、融入 固化 体现 C、流入 贯彻 表现 D、溶入 凝固 展现

25、一个世界级的伟大作家当然先要有作品的_____，这一点，莫言毋庸置疑：近 30 年出版了 10 多部长篇小说、100 多部中短篇小说，塑造出了_____的人物。

填入画横线部分最恰当的一项是：

A、厚度 无与伦比 B、高度 千奇百怪 C、广度 形态各异 D、深度 栩栩如生

26、森林的大面积减少，水土流失、风沙弥漫，这可怕的景象绝不是_____，而是活生生的现实。不认真解决水害、沙害，土地资源流失与人口膨胀所造成的弊病，21 世纪的可持续发展将成为空想。大自然的警告，足以_____。

填入画横线部分最恰当的一项是：

A、虚张声势 当头棒喝 B、危言耸听 醍醐灌顶
C、空穴来风 振聋发聩 D、耸人听闻 警钟长鸣

27、新近研究发现，人饥饿时胃黏膜中会出现一种激素，这种激素能够显著促进学习能力和记忆力，科学家解释说，这种激素在胃粘膜中_____后，借助血液循环进入大脑，能够引起反应，诸如激发脑垂体中许多不同的生长因子等，而这又将引起大脑其他区域内的_____反应，从而起到改善大脑功能的效果。

填入画横线部分最恰当的一项是：

A、产生 聚合 B、形成 系列 C、合成 辐射 D、分泌 连锁

28、随着电扇、空调的_____，炎炎夏日中人们手摇蒲扇纳凉的情景已经很难看到了，但_____、瑰丽多彩的中国扇文化，却一直传承至今，成为人们记忆中绚丽无比的一道风景。

填入画横线部分最恰当的一项是：

A、出现 享誉中外 B、普及 源远流长 C、使用 喜闻乐见 D、发明 异彩纷呈

29、在现代社会，公民能独立地表达自己的观点，却不傲慢，对政治表示服从，却不_____；看到弱者知道同情，看到邪恶知道_____。

填入画横线部分最恰当的一项是：

A、阿谀奉承 悲愤 B、趋炎附势 气愤 C、卑躬屈膝 愤怒 D、溜须拍马 愤慨

30、让山区孩子走出大山不是目的，让其具有改变大山、建设大山的志向与本领，才是山区摆脱贫困落后、填平城乡_____的最终归宿。事实上，与富裕地区相比，贫困地区不仅办学条件差，而且在发展基础、生存环境等各方面都严重_____。因此，“希望工程”不能只是捐资建校的代名词，而应当是开阔孩子视野、培育发展潜力、加大资源投入、强化基础建设的_____扶贫。

填入画横线部分最恰当的一项是：

A、鸿沟 滞后 制度性 B、差距 落后 系统性
C、裂痕 停滞 整体性 D、沟壑 缺乏 程序性

31、提起意大利，人们立即会联想到这里曾是文艺复兴的诞生地。米开朗基罗、波提切利和十五、十六世纪其他艺术家们不仅改变了欧洲，也重塑了文化与艺术的表达方式。时至今日，我们的建筑、视觉艺术、文学甚至部分生活理念，在一定程度上仍然受到意大利文艺复兴时期在古典遗产基础上所创造的美学形式和思考方式的影响。

这段文字意在说明：

A、古典文化遗产保护的必要性 B、意大利文艺复兴的重要影响
C、当代美学形式的历史渊源 D、意大利艺术家的主要成就

32、美感有时类似于灵感，只有在特定状况下才能产生。当公式的推导终于成功，或是忽然看懂一种繁难的理论，那一时刻的强烈感受不仅难以重现，也是不可转述的。晚唐的贾岛是有名的苦吟诗人，他和韩愈共同推敲“僧敲月下门”之句并结为忘年之交之事自古传为佳话。然而他还有两句诗更是苦吟了数年——“独行潭底影，数息树边身”，对于这两句诗他自称：“二句三年得，一吟双泪流。知音如不赏，归卧故山秋。”然而后世却有人认为此句稀松平常，“有何难吟”。这里自然也有文化底蕴的差别，但美感之难以传递也是极重要的原因，是以诗人自己也说“知音”方才能赏。

文中举贾岛的例子是为了说明：

A、欣赏诗词要有足够的文化底蕴 B、美感很难向他人传递
C、写诗就是在寻找灵感、创造美感 D、世上知音难觅

33、最新研究表明，如果提高城市屋顶及道路面的反射能力，可能在成本极低的情况下降低地球大气温度。降低幅度虽然很小，但可被测量。在《环境研究报告》中有研究者表示，因为屋顶及道路占城市表面积的 60%以上，使用淡色材料能把平均反射率提高到一定程度，使得全球平均气温降低多达 0.07 摄氏度。

根据这段文字，下列理解正确的是：

- A、新型材料能大幅降低室内温度 B、城市路面占城市总面积的一半以上
C、人们在探索缓解全球变暖的新途径 D、深色材料的表面的反射能力强

34、经媒体发掘而走向台前的众多“最美”事件表明：尽管当代中国社会在急剧的转型时期遭遇了道德价值层面的剧烈动荡与重构，但美德仍然流布于我们的现实生活中，流布于社会的各个角落。“最美”事件是平凡人的平凡作为，而正是这些平凡人的平凡作为，却极好地诠释了道德的实质，即人对自身生活的自主反思和自觉要求。它体现的是人的内在价值追求，而非被动地让自己的行为符合规范。这为当代中国社会的道德建设提供了有益的启示。

对这段文字的主旨概括最准确的是：

- A、“最美”出自平凡 B、崇尚美德永远不会过时
C、道德体现了人的内在价值追求 D、“最美”事件带来的道德启示

35、后视镜是重要的。坐在驾驶室里，不时瞥一下后视镜，可以看清已走过的路，可以看看后面有无危险。没有后视镜的驾驶过程让人心慌。但若只看后视镜，不看前方，更让人心慌，因为来自前面的冲撞，比来自后面的冲撞更猛烈，也更常见，何况前面的路还长。

下列各项与这段文字想要说明的意思最相近的是：

- A、前事不忘，后事之师 B、历史是一面镜子
C、不忘过去，放眼未来 D、万事万物都有两面性

36、18 世纪 20 年代发明的摄影机，112 年之后才成为工业产品；19 世纪 60 年代发明的无线电，花了 35 年时间，到 20 世纪初才付诸使用；而 20 世纪发明的电视只经过 12 年就被应用了，原子弹从设计到应用只花了 6 年时间，晶体管的发明到工业生产只有 3 年时间，激光器发明到应用只有不到 1 年的时间。

这段文字意在说明科技发明：

- A、周期越来越短 B、水平越来越高 C、成果越来越多 D、应用越来越快

37、文化行业集密集型的人才、技术、知识与资本于一体，并具有鲜明的跨学科、跨专业、跨时空和跨文化特征，还将在未来的个人行为、社会生活和国家建设以及全球发展和人类事务中扮演着中心角色。1995 年的联合国科教文组织世界文化与发展委员会报告，提出文化是人类生存整体繁荣和发展的最终目标和归宿。可以说，文化的跨界特质及其重要性，对文化人才的高质量和规模化提出了根本的要求。

这段文字意在说明：

- A、文化行业在人类的社会生活中扮演着重要的角色 B、文化人才要具备高质量和规模化
C、文化是人类繁荣和发展的最终目标 D、文化行业的特殊性和重要性

38、艺术精英主义是艺术一以贯之的高雅姿态和自我意识，它强调艺术是艺术家内心经验的独特写照，具有独一无二的审美意义，消费大众的需要和欲望，一般不在它的考量视域里。而大众文化更愿意强调艺术如何在消费和接受中呈现意义，如若大众的需要和欲望发生变化，那么作为生产者的艺术家，就有必要生产出作为现代艺术普遍范式的新的文化产品。

这段文字意在说明：

- A、自我意识是高雅艺术的灵魂 B、艺术创造应与社会相连接
C、艺术的发展同样受市场规律的影响 D、艺术的本质在于其文化属性

39、培根曾经说过：“知识就是力量。”而今在信息时代，人们可以说，信息就是力量，信息、传播信息的技术与基础设施、掌握和运用信息技术的能力，构成了全新的权力来源。遍布全球的网络基础设施、持续提升的网络传输速率、日趋完善的移动便携式互联网终端，以及高速扩张的建立在人际关系网络数字化基础上的新媒体运用，使得信息流高速、实时地实现着跨国运动。视频网站与社交网站的出现，又使得那些具有简单化、符号化、碎片化的信息流，更容易被传播、关注，也因此更容易得到响应。能够影响这种信息流动的行为体，其权力会得到增强，反之、则被削弱。

这段文字意在强调，网络信息技术与新媒体运用：

- A、改变了现代信息传播的方式 B、扩大了人类获取知识的途径
C、推动了权力来源要素的重构 D、加剧了全球信息资源不均的情况

40、罩甲是明代戎服的一种，对襟，用纽扣固定，无袖或短袖，左右两侧及后部开裾，衣身可缀甲片，也可纯用织物制作，底边通常缀有彩色的排穗。明代戏曲舞台上青少年武将多穿罩甲，并配上金束发冠，显得英俊威武。清代之后戏曲中仍然沿用，分为排穗（须）甲与排须长马甲（坎肩）两种，与紫金冠配套。《红楼

梦》里描写贾宝玉头戴束发紫金冠、身穿排穗褂子，就是将艺术造型移植了过来，体现了宝玉“将门公子”的身份。

关于罩甲，下列说法与原文相符的是：

- A、多由青少年武将穿着 B、明代后期演变为戏曲服装
C、清代成为达官贵人的身份标志 D、最晚产生于明代

41、微笑是人类表达感情的有效途径，神奇的是，如果对方是假笑，你回应以同样的微笑，你的前额脑区底部并不会变活跃，于是就会意识到对方的微笑有些不对劲，并且很快会断定，这人是在假笑，这说明_____。

- A、人的前额脑区底部能控制人们的情感 B、人们在无意识状态下会受到对方情绪的感染
C、人们可以依靠本能判断对方情感真假 D、假笑很难达到理想的实际效果

42、民族文化要有根基，精神文明的传承要有载体，而城市正是其集大成者，放眼世界，历史文化名城和现代国际大都市，座座堪称文化艺术宫殿、建筑博物馆，从民主城邦雅典到人文之城威尼斯，从时尚之都巴黎到音乐之城维也纳，独特的文化精神令城市历经千年，依然灿烂。

文章接下来最可能讲：

- A、各具文化特色的世界名城 B、要用文化精神来涵养和提升城市品位
C、城市建设和发展要彰显特色和魅力 D、民族文化是如何传承的

43、市场经济本质是法治经济，市场和法治是同一硬币的两面，缺一不可。与计划经济时代不同，市场经济对资源的配置是通过竞争机制实现的，这就必须依循一套完善的规则，以实现通过市场这只“看不见的手”对经济进行调整。

这段文字主要说的是：

- A、市场经济与计划经济的不同在于法治 B、市场经济的发展离不开法治与市场
C、市场竞争可以实现资源的合理配置 D、法治是市场经济良性发展的基本保障

44、英国新经济基金会对世界 178 个国家的调查表明，新兴国家如中国，人们的幸福感反而要高于日、韩，更高于美国，当然，据荷兰伊拉斯谟大学和美国密歇根大学社会研究所的调查，自 1995 年的短暂上升后，中国人的幸福感也开始下滑。全球范围内的人们开始体认到这样一个事实，经济的增长并不等同于发展，因为后者还包含生态休闲、社会福利与公平正义等一系列指标；幸福也不仅指感官的快乐，因为它还关乎人对生命意义的积极体验和整体评价。

根据这段文字，以下说法正确的是：

- A、新兴国家对幸福感有着不同的理解
B、幸福既包含感官的快乐又与人对生命意义的认识有关
C、文化背景对国民幸福观的形成有重要的影响
D、幸福感与经济增长有密切的关系

45、人类为了以后的安全或是不时之需而攒钱。但从整体来看，钱还是要花的。如果每个人都想攒钱，那么经济就无法正常运行了。_①_通过假设工作的人攒钱，退休的人花费积蓄，经济学解决的了这一问题，利率让两者达到了很好的平衡，_②_然而假设与现实大相径庭。一些人攒钱的欲望要比其他人强烈得多，这种人通常会集中在一个民族或一个国家，这些钱必须从这些民族或国家流动到其他民族或国家。_③_否则，全球经济就无法正常运行。然而，如果资金从前者到后者的流动效率低下，那么危机就不可避免。_④_因为人总是本性难移，所以危机总是在所难免。

“这种模式正常运行的条件是人是理性经济人，管理其经济的制度都是相同的。”这句话在文中最合适的位置是：

- A、② B、③ C、④ D、①

46、在讨论留守儿童问题时，有些学者将其归咎于个体和家庭层面的因素，强调亲子分离，但无论是历史上的走西口、闯关东之类的人口国内迁移，还是下南洋形成的人口海外迁移，都曾产生大量留守儿童。明清时期，徽州商人大量外出经商，其家乡也存在大量留守儿童。而由城市化产生的留守儿童，在近代的浙北、苏北等地也早就初具规模。为什么 20 世纪 90 年代以后，留守儿童问题成为一个公共议题呢？这不仅因为其规模日益庞大，更因为乡村社会发生嬗变，从根本上改变了乡村的育人环境。在通往现代化、城市化的路途中，乡村社会完全处于劣势和被动地位，乡村文化衰落了。

对这段文字的主旨概括最准确的是：

- A、中国乡村城市化对乡村文化的破坏是毁灭性的
B、乡村社会的衰落是产生留守儿童问题的主要原因
C、探讨留守儿童问题不能仅从个体和家庭层面找原因
D、历史上有留守儿童却并未产生问题

47、无论是一个民族还是一个国家，它的文化永远不可能是静止的，而是每时每刻都在发生着变化。这种变化有时很慢，几乎让人感觉不到；但在我们这个时代，任何事情都在飞速发展，全世界的文化也正经历着快速而巨大的转变。在这样的时刻，我们面临的最重大问题仍然是：地区或国家的个性和特征是否能抵得住全球化、现代化的侵蚀？回答可以是两种：能或者不能。有的文化可能会被削弱甚至被同化，但是如果我们对这个问题保持警惕，就会减少文化的变化进而得以保存下来。

根据这段文字，作者认为：

- A、变化中的文化应该保持自己的个性 B、文化应该跟随世界的脚步快速转变
C、文化转变的趋势是不可逆转的 D、全球化的侵蚀使文化同化越来越严重

48、随着科技的发展、物质的丰富，如今的娱乐形式越来越缤纷多样，如电视剧、流行音乐、网络等。它们在给人快乐、满足人的欲望方面，更加快捷方便，也有着更大的刺激性和吸引力，比诗歌有着强得多的优势，人天生是寻求快乐的动物，既然有更好的娱乐方式，可以使人迅速消除烦恼，得到快感和精神享受，那么何必还要阅读诗歌？只有一些俗世高人，他们在空暇之日或夜阑人静时，或许会悄悄打开诗集，去聆听诗人梦幻般的自言自语，分享诗人心灵的孤独。

这段文字意在说明：

- A、快捷多元的娱乐方式导致了诗歌的衰落
B、如今只有少数俗世高人能够理解诗人心灵的孤独
C、诗歌应与时俱进，积极寻求走出困境的方式
D、诗歌不再是能给人带来快感和精神享受的文学样式

49、①没有甘油，只要到市面上买瓶润肤乳液就行，它的主要成分就含有甘油

②那些节俭或喜欢动手享受家庭乐趣的朋友，也可以自己动手制作家庭洗手液

③但是自制洗手液由于包装和密封条件不足，最好不要使用容易变质的牛奶或蜂蜜

④其次是加入甘油。甘油不要超过 2%，以免杀菌成分的最终浓度失衡，使杀菌力下降

⑤为适合个人爱好，还可适当加入一些美容成分，比如芦荟原汁、橄榄油等

⑥家庭洗手液主要成分是药用酒精，做法是将酒精与冷开水以 3：1 的比例调成 75%的最终浓度

将以上 6 个句子重新排列，语序正确的是：

- A、⑥②③⑤④① B、②③⑤⑥④① C、②⑥④①⑤③ D、⑥⑤③④①②

50、周期性经济危机发生时，往往也是生产要素重新组合的时候，个人应该利用这一时期提高自身就业能力，参加那些适合自己的培训项目，给自己补课——补就业技能、创业能力和一般性素质。通常，在一次危机之后，会迎来一个经济繁荣时期。这个新的经济繁荣是在产业结构升级的基础上形成的，因而对劳动力素质的要求会大幅度提高。谁在劳动力市场低谷时期积攒了就业能力，谁在随后的繁荣时期就能抓住机遇。

这段文字的主旨概括最准确的是：

- A、加快提升劳动者素质是摆脱经济危机的手段
B、劳动者不应对经济低迷时期的就业市场丧失信心
C、产业结构升级促使劳动者提高自身素质
D、经济危机时期也可以是个人提升能力的好时机

三、数量关系，共 15 题，本部分包括数字推理、数理计算。

51、从装有 4 个红球，4 个白球的袋中任取 4 个球，则所取的 4 个球中包括两种不同颜色的球的概率是：

- A、 $\frac{33}{35}$ B、 $\frac{34}{35}$ C、 $\frac{69}{70}$ D、 $\frac{7}{8}$

52、某公交车停车场内停着 10 辆公交车，上午 7 点整有一辆公交车进入停车场，同时有一辆公交车离开停车场，以后每隔 12 分钟都有一辆公交车驶入停车场，每隔 10 分钟有一辆公交车离开停车场，则到当天下午什么时候停车场里的公交车全都开出：

- A、4：30 B、4：50 C、5：00 D、4：10

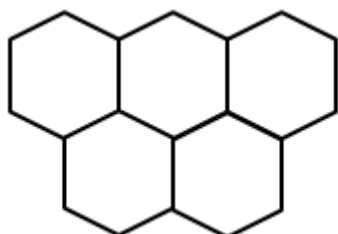
53、甲、乙两村共有 9600 头牛，如果两村分别卖出自己村 40% 的牛，甲村再赠送 120 头牛给乙村，这时两村的牛数量相等，问甲村原有多少牛？

A、5200 B、5400 C、5600 D、5000

54、一艘船往返于甲乙两港口之间，已知水速为 8 千米/时，该船从甲到乙需 6 小时，从乙返回甲需 9 小时，问甲乙两港口的距离为多少千米：

A、216 B、256 C、288 D、196

55、某公园的道路由如下所示的 5 个正六边形组成，每个六边形每条边的长度都是 100 米，保安员从道路上某一点出发巡视完所有的道路至少要走多少米：



A、2600 B、2800 C、3000 D、2300

56、某商品每件销售毛利 5 元时，能售 30 万件，毛利 15 元时，能售 20 万件，假设两种情况的销售收入比为 5: 6，则每件商品的成本是多少元？

A、8 B、10 C、12.5 D、7.5

57、甲地有 9000 吨货物要运到乙地，大油轮载重 700 吨，小船载重量 40 吨，大油轮运一趟耗油 1400 升，小船一趟耗油 95 升，问运完这些货最少耗油多少升：

A、18225 B、18260 C、18320 D、18200

58、甲乙两个水池大小形状完全相同但排水口径不同，将两个装满水的水池内的水匀速排空分别需要 2 小时和 3 小时，早晨 5 点半两个装满水的水池同时开始排水，到什么时候乙水池中剩余的水量正好是甲水池剩余水量的 2 倍：

A、6 点半 B、7 点半 C、8 点 D、7 点

59、张平将 150000 元在银行分别办理了五年和三年期整存整取业务，三年期的存款到期后，把本金再办理两年期整存整取业务，张平一共获得利息 39400 元。已知五年、三年和两年整存整取的年利率分别为 5.5%、5% 和 4.4%，问张平办理了多少元的五年期整存整取业务：

A、60000 B、100000 C、120000 D、50000

60、甲和乙两个汽车销售经理上个月都超额完成了自己的月度任务，已知公司奖金计算方法是超任务销售一辆汽车奖励 100 元，第 2、3、4... 辆车奖励 300、500、700... 元。如两人当月合计得到 1 万元的销售奖金，问他们两人本月合计超任务销售了多少辆车？

A、15 B、16 C、17 D、14

61、甲地在乙地正东 5 公里，某天早上 7 点 30 分，小赵从乙地出发，以每小时 15 公里的速度骑车前往甲地找小张，但在小赵出发的同时，小张也出发以每小时 9 公里的速度向正北方向跑步锻炼。小赵到甲地后立刻沿小张跑步的路径以每小时 12 公里的速度追小张，追上小张后，两人以每小时 10 公里的速度从相遇点沿直线距离返回乙地。问返回乙地时的时间是几点：

A、10 点 08 分 B、10 点 14 分 C、10 点 20 分 D、10 点 02 分

62、象棋比赛中，每个选手均与其他选手比赛一局，每局胜者得 2 分，负者得 0 分，和棋各得 1 分，那么以下可能是这次比赛所有选手得分的总和是：

A、78 B、67 C、56 D、89

63、用 1 到 7 的数字组成一个六位数密码，密码中每个数字只使用一次，在所有可能的密码排列中，能被 3 整除的数字占所有可能的排列数的比重为：

A、 $\frac{1}{6}$ B、 $\frac{2}{7}$ C、 $\frac{3}{7}$ D、 $\frac{1}{3}$

64、李亮和刘纯两人采购同一款录音笔，如果一次购买数量不足 50 个，每个售价 176 元；如果一次购买 50~99 个，每个售价 160 元；如果一次购买 100 个及以上，每个售价 144 元。如果李亮和刘纯分别购买，共要付 18688 元，如果两人合买，可以节省 2416 元。问两人中购买录音笔数量较少者买了多少个录音笔：

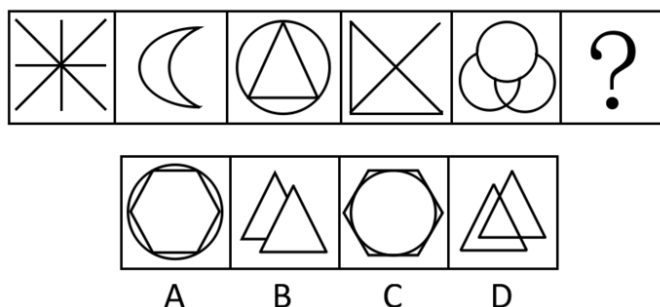
A、52 B、56 C、20 D、38

65、现有浓度为 20% 的食盐水与浓度为 5% 的食盐水各 1000 克，分别倒出若干配成浓度为 15% 的食盐水 1200 克。问若将剩下的食盐水全部混合在一起，得到的盐水浓度为：

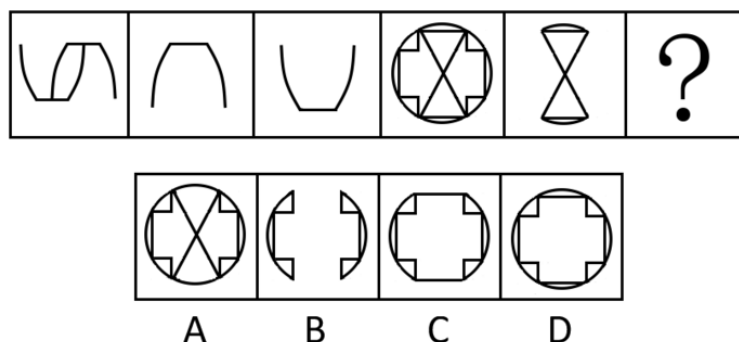
A、7.5% B、8.75% C、10% D、6.25%

四、判断推理，共 35 题，本部分包括图形推理、定义判断、类比推理、逻辑判断。

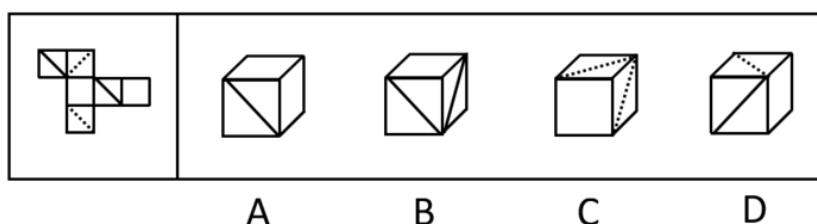
66、从所给的四个选项中，选择最合适的一个填入问号处，使之呈现一定的规律性：



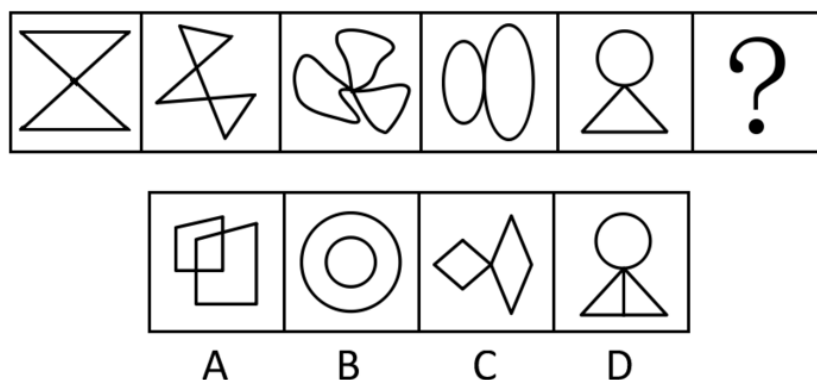
67、从所给的四个选项中，选择最合适的一个填入问号处，使之呈现一定的规律性：



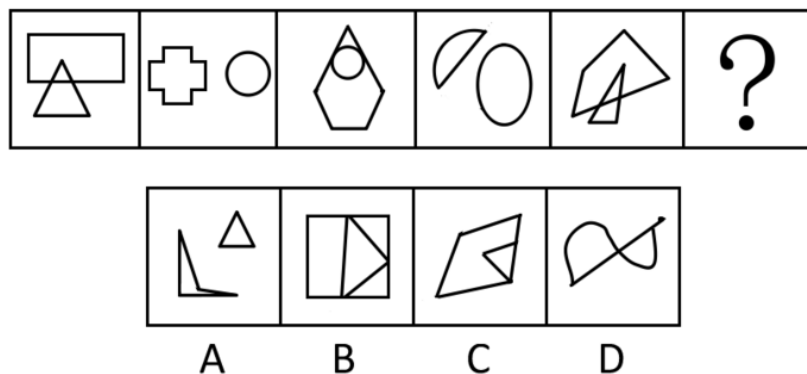
68、左边给定的是纸盒的外表面，下面哪一项能由它折叠而成：



69、从所给的四个选项中，选择最合适的一个填入问号处，使之呈现一定的规律性：



70、从所给的四个选项中，选择最合适的一个填入问号处，使之呈现一定的规律性：



71、“创新”作为严格的经济学概念，特指企业以新产品、新服务、新市场、新的管理和商业模式获取利润的行为。

根据上述定义，下列不属于经济学概念中的创新的是：

- A、“蛟龙号”载人潜水器的深潜核心技术 B、某菜农在网上销售自家大棚的蔬菜
C、某供销社的“三创三先”为农服务新模式 D、马云创办的阿里巴巴旗下的“淘宝网”

72、反政治的政治指的是一种政治态度，是对极权政治的一种否定。其基本思想是不把政治看做是关于权力和操纵的技术，也不把政治看做是关于控制人类的规则或有用的艺术，而是把政治看做是一种寻求和实现有意义生活的方式。

根据以上定义，以下最符合反政治的政治的是：

- A、杰出的政治家都是哲学家 B、应该根据文化传统来建立不同人群的国家
C、国家之间应该求同存异 D、政治的根本目的是追求人的和谐，全面的发展

73、行政许可是指行政机关根据公民、法人或者其他组织的申请，经依法审查，准予其从事特定活动的行为。

根据上述定义，下列不属于行政许可的是：

- A、广播电影电视机构的设立 B、放射性腐蚀性等危险品的生产运输
C、公务员职务任免等的审批 D、证券市场准入

74、根据对组织的态度的不同可以将公众分为顺意公众、逆意公众和独立公众。顺意公众指的是对组织的政策和行为持赞赏和支持态度的公众；逆意公众指的是对组织的政策和行为持否定或反对态度的公众；独立公众指的是对组织的政策和行为持中间态度的公众。

根据上述定义，以下属于顺意公众的是：

- A、单方毁约的合同方 B、社会上的部分违法乱纪分子
C、购买所在企业股票的职工 D、学习积极性一般的在校生

75、迁移型归属感是指个体由于空间的移动或加入新的群体、组织而产生的心理上的满足感与安全感。

根据上述定义，下列属于迁移型归属感的是：

- A、老王来广州打工后，自己的收入和生活水平有了很大的提高
B、小李自入党以来，在感觉到肩负责任的同时，也对社会未来充满了希望
C、刘某移民海外后，在激烈的人才竞争环境中凭借自己的学识站稳了脚跟
D、小丽与小江结婚，婚后小丽觉得家庭和睦，生活幸福

76、自居是指个体把不属于自己的某些特点、性格品质、理论观点当做是自己的，或者效仿自己崇拜的某些群体，一方面可以满足自尊心，提高价值感；另一方面可以减缓焦虑。

根据上述定义，下列最符合自居的是：

- A、小林的哥哥考上了大学，小林非常羡慕，辞去工厂的工作，准备参加来年高考，期待着能像哥哥那样
B、小张新入学，不适应环境，他总是想办法向学校里高年级的风云人物讨教成功经验，然后照搬到自己的学习和生活中

C、小梅是个彻头彻尾的追星族，每次演唱会她总是买最贵的票坐在前排，跟随着音乐节奏挥手舞动，并经常上台献花

D、为了继承家业，小峰大学没毕业就成为家族企业的董事长，他的言谈举止俨然是一位叱咤商场多年的老江湖

77、破坏交通设施罪是指故意破坏正在使用中，或者已经交付的轨道、桥梁、隧道、公路、机场、航道、灯塔、标志，或者进行其他破坏活动，使火车、汽车、电车、船只、航空器发生倾覆、毁坏危险，足以危害公共安全的行为。

根据上述定义，以下行为不构成破坏交通设施罪的是：

A、李某和王某为获取经济利益，窃取某市多个路口的交通护栏、导向标志牌、红绿灯设施后进行变卖

B、张某因为航班延误，导致生意损失极大，在恼怒之际不顾安全人员阻拦，冲进机场跑道，击碎机场跑道指示灯

C、孙某担心自己下岗，经过计划，在同乡的帮助下，私自卸下数根铁轨，自己再去阻拦火车，制造立功表现的假象

D、小严是某建筑工程集团的工程师，由于与公司存在劳资矛盾，故意在大桥施工过程中使用劣质水泥材料，暗中降低大桥承重能力

78、自我意识是对自己身心活动的觉察，即对自己的认识，具体包括认识自己的身体状况（如身高、体重、体态等）、心理特征（如兴趣、能力、气质、性格等）以及自己与他人的关系（如自己与周围人们相处的关系、自己在集体中的位置与作用等）。

根据上述定义，下列不属于自我意识的是：

A、小王觉得自己在单位的朋友很少 B、小张觉得自己性格外向

C、小黄认为自己不适合经商 D、小李认为自己的体重超标

79、所谓饥饿营销是指商品销售商有意调低销售量，以期达到调控供求关系、制造供不应求假象、维持商品较高售价和利润率的营销方式。饥饿营销也能达到维护品牌形象、提高产品附加值的目的。

根据上述定义，下列采用饥饿营销手段的是：

A、商家对换季产品打折销售 B、某房产商推出新楼盘时，故意调高售价

C、某手机品牌在推出新产品的首日实行限量发售 D、某医院规定专家门诊每天限量挂号 30 人

80、恐怖症是指病人持续地和非理性地害怕某一特定物体、活动或情境，这种恐惧相对于实际的威胁来说是夸大的和非理性的。

根据上述定义，下列不属于恐怖症的是：

A、赵亮的上司脾气不好，赵亮每次与他交谈时都会紧张、害怕

B、张伟特别怕蜘蛛，每次看到无毒的小蜘蛛都会尖叫

C、刘红不敢去商场，她很担心自己会像上次一样突然摔倒

D、王明每次乘坐电梯都会很害怕，担心电梯的门打不开

81、历史：文学

A、图画：文字 B、油画：素描 C、誊录：改写 D、人才：庸才

82、束缚：摆脱：自由

A、紧张：消除：放松 B、雨天：改变：彩虹

C、引力：克服：超重 D、货物：出售：流通

83、水电站：电车

A、油田：汽车 B、风车：台灯 C、核电站：核潜艇 D、水库：水龙头

84、咽喉：要塞

A、耳目：刺探 B、头脑：智力 C、手脚：捣鬼 D、眉目：头绪

85、管中窥豹：坐井观天

A、班门弄斧：按部就班 B、刻舟求剑：竹篮打水

C、言不由衷：口是心非 D、未雨绸缪：杞人忧天

86、男性：女性

A、东：西 B、生：死 C、青年：老年 D、红布：蓝布

87、球员：球拍：网球

A、战士：步枪：子弹 B、警察：手铐：监狱

C、医生：医术：病人 D、农民：锄头：杂草

88、（ ）对于治理 相当于 学业对于（ ）

A、污染 攻读 B、顽症 学习 C、清理 功课 D、整顿 作业

89、寺院：佛像：游客

A、商场：商品：顾客 B、画廊：展品：观众

C、城市：公园：市民 D、学校：黑板：学生

90、大地 对于（ ）相当于（ ）对于 楼房

A、山峰 墙体 B、天空 楼梯 C、树木 地基 D、河流 水泥

91、研究人员对 40 名在校大学生进行了实验，他们让这些学生记忆斯瓦西里语对应的英文单词，一共十组，每组十对词汇，每学习完一组，对参与者进行回想测验，测验中，每错一次，他们将会看到两种图片的一种，一种是可以产生负面情绪的图片，例如一把指向自己的枪；另一种是普通的图片，例如一把椅子或是一个空白影像。随后对他们进行一分钟的附加实验，清除短暂记忆的效果。最后再对这一百对词汇的记忆情况进行检测。测验结果显示，那些获得最好成绩的学生之前看的都是有负面影响的图片。因此，研究人员认为，负面情绪有助于记忆力提高。

以下哪项如果为真，能够解释这一现象：

A、看有负面影响的图片时，大脑仍在进行记忆信息的处理

B、这 40 名被试大学生中，有的人曾经学过斯瓦西里语

C、能引发负面情绪的图片更容易使人记忆深刻

D、人们在情绪不稳定时，注意力很难集中

92、以机械化和电气化为动力的早期工业化国家，经历了一个漫长的积累过程，消耗了大量的矿产资源，英国、法国的情况就是如此。以机械化、电气化、电子化和信息化为“综合动力”，以“世界工厂”为主要特征的新兴工业化国家和地区，通过快速消耗能源和原材料，仅用了一半甚至更短的时间，消耗了相当于先发国家一半的人均资源，就基本实现了工业化，日本、韩国的情况如是。这说明，电子化和信息化可以使后发国家以较少的人均资源消费，实现跨越式发展。

以下哪项如果为真，最能削弱上述结论：

A、先发国家同样可以依靠知识和技术创新来发展经济，支撑社会进步和经济的可持续发展

B、先发国家早期的探索经验避免了后发国家大部分的资源消费

C、与传统社会不同，现代社会的人，除了基本生活需要之外还有很多其他需要，因此对自然资源的消费也大大增加

D、技术进步一般来源于先发国家，它本身就是在消耗大量能源的基础上实现的

93、研究者想要了解婴儿害怕什么样的陌生人，对 7-19 个月的婴儿进行了实验。实验显示，婴儿对陌生儿童显示了积极的、温和的反应，对陌生成人则比较害怕，且距离越近消极情绪越大；在进一步的实验里，研究者让这些婴儿与陌生成人、侏儒、儿童在一起，发现婴儿对陌生成人、侏儒的害怕程度大于对陌生儿童的害怕程度。

以下哪项如果为真，最能削弱研究发现？

A、婴儿对侏儒的害怕程度小于对陌生成人的害怕程度

B、婴儿对陌生儿童的反应也会随着相对距离的变化而变化

C、婴儿对陌生人的反应更易受到陌生人性别的影响

D、年龄较大的婴儿对陌生成人的害怕程度小于年龄较小的婴儿

94、有统计数据表明，9月份国内汽车累计销售160万台左右，终结了连续7个月同比正增长的记录，日系车产销出现大幅下降，同步下降达40%左右，与日系车销量全线下降形成鲜明对比的是自主品牌，自主品牌占乘用车销售总量的42.7%左右，为今年销售的第二高记录，因此，有关专家判断自主品牌汽车销量将进入快速增长期。

以下哪项如果为真，最能支持上述结论：

A、9月份，某日系品牌汽车被曝存在质量问题，影响了日系汽车的整体销量

B、在第4季度，自主品牌汽车销量依然高于其他品牌汽车，并持续增长

C、9月份，除了日系汽车外，德系、美系汽车的销量也不如自主品牌汽车

D、汽车销售统计数据不包括未上牌照的汽车，且存在大量不上牌照汽车

95、寺院里丢失了一袋香火钱，方丈找到甲、乙、丙三个小和尚来询问，三个人逐一陈述，甲说：“我没偷。”乙说：“甲偷了。”丙说：“我没偷。”在一旁的丁了解真相，并发表意见说：“你们三个人中只有一个人偷了，且只有一个人说对了。”

请问，他们三人中到底谁偷了香火钱：

A、乙 B、丙 C、都没偷 D、甲

96、近年来，随着旅游探险越来越成为一些人热衷的活动，由此而产生的拯救行动也越来越多，出动公共资源去救援故意犯险的旅游探险者应不应该收费？这些问题也成为了大家最为关心的话题。正方认为：应该收费；反方认为：不应该收费。

以下各项如果为真，不能支持正方观点的是：

A、一个理性的公民，理应为自己的行为负责；否则，对其他的纳税人不公平

B、建立专业救援体系需要一定的资金保障

C、营救遇险民众是政府部门的义务，简单地收费并不能帮助冒险者建立起社会责任感

D、旅游探险者违规进入不安全区域，浪费社会资源和纳税人钱财，理应承担相应费用

97、中国作家莫言凭借《丰乳肥臀》、《蛙》等作品获得诺贝尔文学奖，他将“魔幻现实主义与民间故事、历史与当代社会融合在一起”。得奖后，他的作品集在国内多个城市被抢购一空，成为近期最畅销书籍后，又开始走出中国，走向世界，深受国外读者追捧。

由此可以推出：

A、诺贝尔文学奖是评判文学作品优劣的准绳

B、国内外读者对诺贝尔奖的审评结果格外看重

C、越来越多的读者喜欢魔幻现实主义这一文学题材

D、越来越多的外国作家对中国文化感兴趣

98、国家对房地产市场的调控政策效果正在显现，一、二手房价格涨幅回落的城市明显增多，表明在一系列宏观调控政策的作用下，房价增长已经驶入“慢车道”。由此可见，限购令与银行信贷收紧使得房地产市场在供需两方面都受到了抑制。

以下哪项如果为真，最能反驳上述结论：

A、宏观调控政策得到了较好地贯彻执行

B、某楼盘开盘当天就被订购一空

C、银行收到的贷款申请明显减少

D、房地产投资趋势仍在加强

99、学前儿童低估有意识的人的思维，而高估无意识的人的思维，甚至一个成年人显然在进行思考时，他们也认为这个人并非在思考着；他们似乎对自己或其他人可能在思考什么，没有多少认识。同时，他们却高估某个沉睡中的人所具有的自我知觉和决断能力。

上述论断的前提假设是：

A、成年人对人类思维的判断是比较合理的

- B、学前儿童的判断能力不太成熟和稳定
- C、沉睡中的人所具有的思维能力并不容易为人所了解
- D、学前儿童也是在积极主动地作出心理判断

100、研究人员将小鼠放到一个迷宫式空间中来观察其应激行为模式。他们发现，在开放的、光照强烈的地方，小鼠会感到压力而惶恐不安，并想办法逃离；而通过药物或者基因手段抑制小鼠大脑杏仁核生成某种蛋白的功能后，它们在同样的区域就不会再有类似的应激行为模式出现。研究人员得出结论，这种蛋白活性决定了小鼠的抗压能力，进而决定了它的应激行为模式。

由此能够推出：

- A、如果小鼠在开放的、光照强烈的地方感到惶恐不安，那么它的大脑杏仁核生成这种蛋白的功能没有被抑制
- B、如果小鼠在开放的、光照强烈的地方没有感到惶恐不安，那么它的大脑杏仁核生成这种蛋白的功能被抑制了
- C、只有抑制了小鼠杏仁核生成这种蛋白的功能，小鼠在开放的、光照强烈的地方才不会惶恐不安
- D、如果小鼠杏仁核生成这种蛋白的功能没有被抑制，那么在开放的、光照强烈的地方小鼠会惶恐不安

五、资料分析，共 20 题，所给出的材料均有多个问题，根据资料所提供的信息进行分析、比较、计算和判断处理。

(一)

2013 年 6 月，社会消费品零售总额 18827 亿元，同比增长 13.3%。其中，限额以上企业（单位）消费品零售额 9764 亿元，增长 11.5%。1-6 月社会消费品零售总额 110764 亿元，同比增长 12.7%。

按经营单位所在地分，6 月城镇消费品零售额 16245 亿元，同比增长 13.0%；乡村消费品零售额 2582 亿元，增长 15.1%。1-6 月城镇消费品零售额 95789 亿元，增长 12.5%；乡村消费品零售额 14975 亿元，增长 14.3%。

按消费形态分，6 月餐饮收入 2059 亿元，同比增长 9.5%；商品零售 16768 亿元，增长 13.8%。1-6 月餐饮收入 11795 亿元，增长 8.7%；商品零售 98969 亿元，增长 13.2%。

在商品零售中，限额以上企业（单位）6 月商品零售额 9100 亿元，同比增长 12.5%，1-6 月限额以上企业（单位）商品零售额 51508 亿元，增长 11.7%。

101、关于 2013 年上半年的社会消费品零售额，能够从上述资料中推出的是：

- A、乡村消费品零售额占社会消费品零售总额的比重低于上年同期水平
- B、6 月的乡村消费品零售额比上年同期增长了 200 多亿元
- C、6 月的餐饮收入占同期社会消费品零售总额的一成以上
- D、限额以上企业（单位）商品零售额超过社会消费品零售总额的一半

102、2013 年 6 月，限额以上企业（单位）消费品零售额占社会消费品零售总额的比重约为：

- A、52% B、58% C、64% D、46%

103、如保持 2013 年 6 月的同比增量不变，到哪一年的 6 月，限额以上企业（单位）商品零售额将首次超过 1.5 万亿元：

- A、2017 年 B、2018 年 C、2019 年 D、2016 年

104、2013 年 6 月，城镇消费品零售额约比当年 1—5 月的平均值高多少亿元：

- A、336 B、398 C、474 D、280

105、2012 年上半年，商品零售额约是同期餐饮收入的多少倍：

- A、7 B、8 C、9 D、6

(二)

某市 2013 年 1-3 月规模以上文化创意产业情况

	当前收入（亿元）	同比增长（%）	从业人员平均 人数（万人）	同比增长（%）
合计	1927.3	8.0	102.8	3.8
文化艺术	41.1	9.5	3.6	2.1
新闻出版	141.6	6.8	10.5	-0.7
广播、电视、电影	158.7	9.5	4.7	2.3
软件、网络及计算机服务	714.9	7.5	51.4	8.1
广告会展	216.1	1.1	6.4	2.9
艺术品交易	173.4	24.0	1.3	7.5
设计服务	77.2	6.2	8.0	7.5
旅游、休闲娱乐	157.6	25.4	8.0	-1.7
其他辅助服务	246.7	-0.4	8.9	-8.7

106、关于该市 2013 年 1-3 月规模以上文化创意产业情况，能够从资料中推出的是：

- A、设计服务行业的从业人员平均人数比上年增加了 8000 余人
- B、艺术品交易行业的收入同比增量高于表中其他任一行业
- C、整个产业在上年同期的从业人员平均人数不到 100 万人
- D、文化艺术行业人均创造的收入高于整个产业平均水准

107、与上年同期相比，该市 2013 年第一季度规模以上文化创意产业收入约增加了多少亿元：

- A、154 B、165 C、176 D、143

108、表中 2013 年第一季度从业人员平均人数和收入的同比增长率都高于规模以上文化创意产业总体水平的行业有几个：

- A、1 B、2 C、3 D、0

109、2013 年第一季度，该市软件、网络及计算机服务行业从业人员平均人数占整个规模以上文化创意产业的比重比上年同期：

- A、下降了 4.3 个百分点 B、上升了 2 个百分点
- C、上升了 4.3 个百分点 D、下降了 2 个百分点

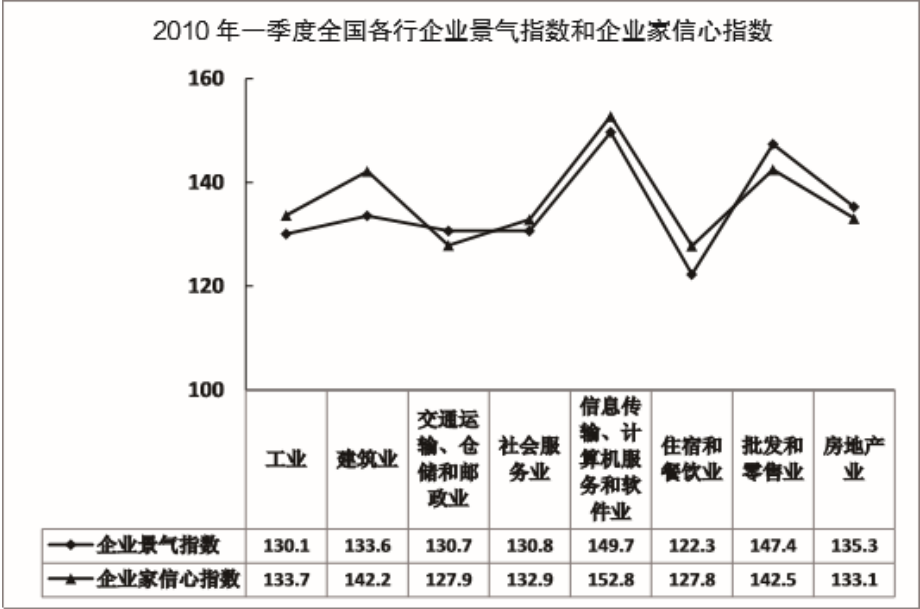
110、以下各项中，2013 年第一季度平均每名从业人员创造的收入均高于上年水准的是：

- A、新闻出版，广播、电视、电影，旅游、休闲娱乐
- B、新闻出版、广告会展，其他辅助服务
- C、广播、电视、电影，艺术品交易，设计服务
- D、文化艺术，软件、网络及计算机服务，艺术品交易

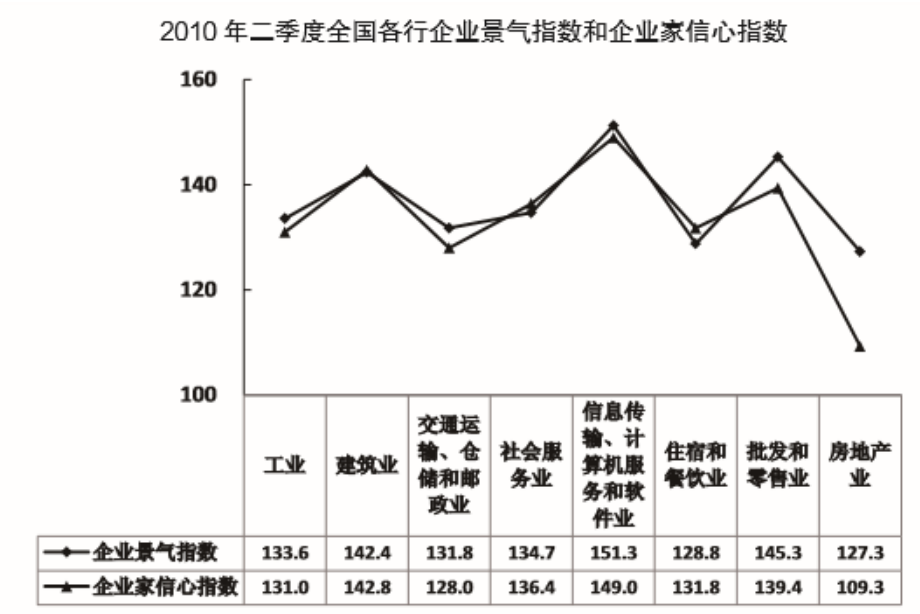
（三）

全国企业景气调查结果显示，2010 年二季度，企业家信心指数为 133.0，比上一季度回落 2.5 点；企业景气指数为 135.9，比一季度提高 3.0 点。

2010 年一季度全国各行业企业景气指数和企业家信心指数



2010 年二季度全国各行业企业景气指数和企业家信心指数



111、能够从资料中推出的是：

- A、一季度企业家信心指数最低的行业，其二季度的企业家信心指数也最低
- B、二季度企业景气指数高于全国平均水平的行业有 4 个
- C、二季度企业家信心指数排名前三的行业为信息传输、计算机服务和软件业，房地产业，批发和零售业
- D、一季度企业景气指数最高的行业，其二季度的企业景气指数也最高

112、表中 2010 年二季度企业景气指数相比于一季度有所下降的行业有几个：

- A、2 B、4 C、6 D、1

113、八大行业中，2010 年二季度企业家信心指数最高的行业，其企业景气指数比一季度企业家信心指数最高的行业：

- A、低 1.6 点 B、高 3.8 点 C、低 3.8 点 D、高 1.6 点

114、2010 年二季度企业家信心指数相比于一季度上升最多的是：

- A、社会服务业 B、住宿和餐饮业 C、房地产业 D、工业

115、2010 年一季度，下列各行业按企业景气指数从高到低排序正确的是：

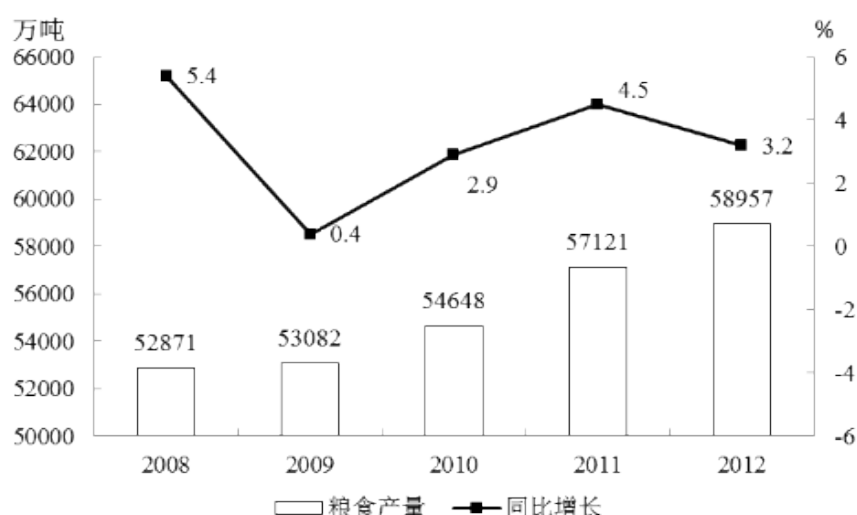
- A、工业，交通运输、仓储和邮政业，住宿和餐饮业
- B、社会服务业，住宿和餐饮业，房地产业
- C、建筑业，住宿和餐饮业，交通运输、仓储和邮政业
- D、批发和零售业，房地产业，工业

(四)

2012 年全国粮食种植面积 11127 万公顷，比上年增加 69 万公顷；棉花种植面积 470 万公顷，减少 34 万公顷；油料种植面积 1398 万公顷，增加 12 万公顷；糖料种植面积 203 万公顷，增加 9 万公顷。

全年粮食产量 58957 万吨，比上年增加 1836 万吨，增产 3.2%。其中，夏粮产量 12995 万吨，增产 2.8%；早稻产量 3329 万吨，增产 1.6%；秋粮产量 42633 万吨，增产 3.5%。其中，主要粮食品种中，稻谷产量 20429 万吨，增产 1.6%；小麦产量 12058 万吨，增产 2.7%；玉米产量 20812 万吨，增产 8.0%。

全年棉花产量 684 万吨，比上年增产 3.8%。油料产量 3476 万吨，增产 5.1%。糖料产量 13493 万吨，增产 7.8%。烤烟产量 320 万吨，增产 11.5%。茶叶产量 180 万吨，增产 11.2%。



2008 年-2012 年粮食产量及同比增速

116、根据所给资料，下列说法正确的是：

- A、从 2008—2012 年，粮食产量年增长 2000 多万吨
- B、2012 年，茶叶产量同比增产约 18 万吨
- C、2012 年夏粮产量在粮食总产量中的比重高于上年水平
- D、从 2008—2012 年粮食产量增长率逐年提高

117、2012 年早稻增产量对全年粮食总产量增长的贡献率（其增产量在总增产量中的百分比）约为：

- A、3% B、8% C、15% D、1%

118、如果 2013 年粮食产量同比增速与 2012 年相同，则 2013 年粮食产量约为多少亿吨：

- A、5.9 B、6.1 C、6.5 D、5.7

119、2012 年秋粮产量约占全年粮食总产量为：

- A、72% B、80% C、88% D、64%

120、以下农作物中，2012 年单位面积的产量同比增速最快的是：

- A、糖料 B、油料 C、棉花 D、粮食

