

2015 年黑龙江省公务员录用考试《行测》真题（边远地区卷）

一、常识判断。根据题目要求，在四个选项中选出一个最恰当的答案。

1、2014 年政府工作报告指出要着重解决好现有“三个 1 亿人”问题，指的是：

- A、促进约 1 亿农业转移人口落户城镇，改造约 1 亿人居住的城镇棚户区和城中村，引导约 1 亿人在中西部地区就近城镇化
- B、解决约 1 亿农村人口的吃饭问题，解决约 1 亿农村人口的饮水安全问题，改善约 1 亿贫困地区农村儿童营养状况
- C、促进约 1 亿城镇人口就业，解决约 1 亿城镇人口就近就医问题，解决约 1 亿城镇老年人口养老问题
- D、引导约 1 亿农民工在中西部地区就近就业，促进约 1 亿城镇下岗人员再就业，减少约 1 亿贫困人口

2、下列哪项不是发育成台风的主要因素？

- A、广阔的热带海洋
- B、气温高导致海水大量蒸发升空
- C、地球自转偏向力
- D、不期而至的强风吹散空气漩涡

3、关于自然光学现象的成因，下列解释错误的是：

- A、晚霞：太阳光斜照至地球时，遇到悬浮在大气层高处的细小尘粒产生散射
- B、地球极光：来自太阳的高能带电粒子流与大气摩擦生热发光
- C、彩虹：阳光照射到空中接近球形的小水滴光线发生色散及衍射
- D、海市蜃楼：光在均匀的空气中连续发生折射和全反射

4、下列我国的世界遗产所在省（区）不属于黄河流域的是：

- A、五台山
- B、莫高窟
- C、避暑山庄
- D、孔庙、孔府及孔林

5、关于太阳，下列说法不正确的是：

- A、通过核聚变来释放能量
- B、目前已经进入衰老期
- C、所产生的能量主要靠辐射方式传播
- D、集中了太阳系中的绝大部分的质量

6、下列哪些选项不能证明地球是圆的？

- A、同一时刻不同地区相同杆子的影子长度不同
- B、月全食时的阴影是圆形的
- C、太阳东升西落
- D、帆船驶向岸边时，岸上的人总是先看到桅杆

7、西欧封建社会末期是“人”和“世界”被发现的时代。“人”和“世界”被发现是指：

- A、文艺复兴和新航路开辟
- B、启蒙运动和圈地运动
- C、工业革命和资产阶级的兴起
- D、殖民掠夺和宗教改革

8、关于我国农业，下列说法正确的是：

- A、农民直接从棉株上采下来的棉花称作皮棉
- B、甘蔗是我国最主要的糖料作物
- C、花生是我国播种面积最大的油料作物
- D、“三大谷物”指的是稻谷、小麦和高粱

9、下列文艺作品与其著作者对应正确的是：

- A、肖邦——《命运交响曲》
- B、达·芬奇——《物种起源》
- C、卢梭——《忏悔录》
- D、狄更斯——《悲惨世界》

10、甲、乙、丙三人合伙开一饭店，店名为“客来香”，依法登记。甲全权负责饭店对外事务。顾客丁来店中用餐时，被服务员戊不小心烫伤。丁欲向法院起诉，则：

- A、被告应为“客来香”饭店
- B、甲、乙、丙为共同被告，并注明“客来香”字号
- C、被告应为甲
- D、甲和戊为共同被告

11、下列书籍中不属于我国古代兵书的是：

- A、《司马法》
- B、《六韬》
- C、《三略》
- D、《五蠹》

12、关于中国的邻国，下列说法正确的是：

- A、哈萨克斯坦是最大的内陆国
- B、印度最大的宗教是佛教
- C、阿富汗属亚热带季风气候
- D、越南与新中国建交最早

13、关于地球资源，下列表述不正确的是：

- A、生物资源主要分为植物资源、动物资源和人口资源
- B、地热能的利用会造成较大的环境污染
- C、水是以气态、液态和固态三种形式组成相互联系的水圈

D、煤、石油、天然气属于不可再生的化石燃料

14、下列选项中诗句与所描述的事物对应不正确的是：

- A、出淤泥而不染，濯清涟而不妖——莲 B、一节复一节，千枝攒万叶——竹
C、嘈嘈切切错杂弹，大珠小珠落玉盘——二胡 D、千锤万凿出深山，烈火焚烧若等闲——石灰

15、关于诺贝尔文学奖，下列说法不正确的是：

- A、中国、印度都有人获得 B、《雪国》是获奖作家川端康成的作品
C、《百年孤独》是获奖作品 D、列夫·托尔斯泰是获奖作家

16、以下各项中，不属于中华人民共和国国家机构的是：

- A、全国人民代表大会 B、中华人民共和国主席
C、国务院总理 D、民族自治地方的自治机关

17、《中华人民共和国环境保护法》中所指的“环境”不包括：

- A、大气 B、人文遗迹 C、城市 D、星球

18、历史上不少人在遭遇人生困境后写下不朽名著，以下不属于这种情况的是：

- A、屈原与《离骚》 B、孔子与《论语》 C、孙膑与《孙膑兵法》 D、司马迁与《史记》

19、对 1919 年某个上海人而言，下列情况不可能出现的是：

- A、喝咖啡 B、住欧式洋房 C、看张爱玲的小说 D、穿中山装

20、关于古汉语中的词汇，下列解释错误的是：

- A、左迁——升职 B、于归——女子出嫁 C、乞骸骨——请求退休 D、弥月——婴儿满月

二、言语理解与表达。本部分包括表达与理解两方面的内容。请根据题目要求，在四个选项中选出一个最恰当的答案。

21、中低端手机的巨大出货量推动了国产手机的繁荣，但低端意味着低利润，国产手机仍____于“来料加工、仿制生产”的流水线生产经营理念，在产品创新方面缺乏核心竞争力。目前，大多数国产手机没有实质的功能和核心创新，很难获得强大的品牌影响力，最终还是只能____于中低端市场。

依次填入画横线部分最恰当的一项是：

- A、拘泥 着眼 B、醉心 落脚 C、局限 游走 D、固守 混迹

22、自然界中每种动物都有自己的独特之处，作为电影艺术的动物更强调个性。正如电影一贯塑造典型人物形象一样，以动物为主角的影片在____动物充满神秘色彩的生活的同时，格外注重突出不同种类中每个动物的性格特征，____地刻画典型的动物形象。

依次填入画横线部分最恰当的一项是：

- A、呈现 不遗余力 B、展示 入木三分 C、记录 浓墨重彩 D、描绘 活灵活现

23、贺兰山岩画自发现以来，给人们的震撼和向人们提出的问题几乎同样多，有关岩画的内容、年限、创作族群等等，专家们____，贺兰山岩画上空的这些谜团至今依然烟云缭绕。考古界有句名言：“唯一能确定的就是不确定！”贺兰山岩画似乎____了这句话，岩画研究中的诸多观点都陷入了一种不可确定中。

依次填入画横线部分最恰当的一项是：

- A、唇枪舌战 延伸 B、莫衷一是 呼应 C、不置可否 诠释 D、各持己见 印证

24、成语“心知肚明”的发明人可能从未思考过它的生物学含义。在食物安全性和有效性的判断上，心知肚明是____的，当人吃了有害食物时，消化道微生物和肠道神经元会立即启动____机制而使人上吐下泻，尽快尽多地将有害物质排出。

依次填入画横线部分最恰当的一项是：

- A、适用 免疫 B、准确 保护 C、科学 防御 D、普遍 平衡

25、创新需要良好的环境，____固然可能少犯错、不犯错，但难免落入慵懒颓废的泥潭；冒险突破可能趟出一条新路来，但要遭受种种挫折，付出不少代价。因此鼓励创新，就要建立一套有效的激励机制，给创新者以人力、物力、财力、信息和政策的保证，尤其要营造____的创新环境，容忍出错、允许试错、坚决纠错，在激励人们创新的同时，防范和降低人们为创新所承担的风险。

依次填入画横线部分最恰当的一项是：

- A、按部就班 和谐 B、扬长避短 融洽 C、上行下效 多元 D、墨守成规 宽松

26、对于美国频频挥舞“贸易大棒”，中国商务部多次强调，贸易保护主义不仅对他国不公，对本国企业也没有好处，希望美方不要以看似____但实际带有很强政治背景的措施来实施贸易保护主义，而应恪守反对贸易保护主义的承诺，以更加____的方法妥善处理贸易摩擦。

依次填入画横线部分最恰当的一项是：

A、不偏不倚 积极 B、义正辞严 务实 C、大义凛然 理性 D、冠冕堂皇 公平

27、公共生活中的某些失范行为和无序现象若得不到及时治理，就可能会产生反面的____效应，个体在这种环境中很容易被激发和诱导，随波逐流，助长无序。很多国家的法律在公共场所禁烟、维护环境卫生等方面都有明确规定且有效执行，正是为了____，在微小的失范和无序积累前就加以制止。

依次填入画横线部分最恰当的一项是：

A、示范 防微杜渐 B、辐射 惩前毖后 C、连锁 上行下效 D、扩张 以儆效尤

28、对于传承经典，站在当代立场上的中国学者虽然看到了以往理论框架不适当下国际视野及跨学科发展趋势的需要，但是他们中的相当一部分人也认识到，在这个传统框架下____的中国民俗学基础是深厚的，如果____地抛弃这个传统，那么我们的研究将使民俗学的主体性越来越弱，以至于被____到其他学科中去。

依次填入画横线部分最恰当的一项是：

A、打造 直接 同化 B、形成 武断 淹没 C、建立 盲目 整合 D、奠定 轻易 涵盖

29、批评者该如何批评艺术家？此处的批评当然不只是____的批评，毫不留情的“炮轰”、恨铁不成钢的指责，还包括善意的提醒、温和的建议以及诚恳的交流等等。但是，无论是声色俱厉还是____，都应该坚守一个底线，即真实、善意、有真见解、____内心的操守。

依次填入画横线部分最恰当的一项是：

A、消极 和风细雨 守护 B、苛刻 循循善诱 笃定
C、激烈 推心置腹 遵循 D、严厉 温文尔雅 秉持

30、在文学史上，科幻文学是近期才出现的东西，它伴随着近代科学出现，随着世界的现代化而发展。在此之前，虽然也广泛存在幻想文学，但是但丁的《神曲》和玛丽·雪莱的《科学怪人》之间却存在着无法跨越的鸿沟。科幻文学的本质性要求是科学的内核，科学精神的核心一定是可知论，是反对蒙昧主义，栖身于科学的幻想作品，才能称之为科幻文学。

根据上文，科幻文学和幻想文学根本区别在于，科幻文学：

A、是基于现实的想像 B、以科学为依托
C、出现时间较晚 D、具有启发民智的作用

31、人们一般认为，诚信与否是个人品德问题，与他人无关，但是个人品德却不仅仅是个人问题，它还会通过外部性产生社会效果——一个人道德的亏欠，最终可能会“报应”到整个社会头上，从制度经济学的角度来看，一个好的经济制度和治理机制应当能够抑制负外部性，否则经济秩序可能走向崩溃，要通过制度和机制使始作俑者承担应有的责任，而不是让他人或者整个市场为之埋单。

对这段文字的主旨概括最准确的是：

A、个人品德缺失得由全社会埋单 B、经济制度对经济秩序意义重大
C、诚信既是社会问题又是经济问题 D、需用制度抑制不诚信的负外部性

32、报纸受出版时间的限制，广播电视受播出时间的限制，而互联网媒体没有发布时间的限制，加上制作、发布的简便，使得新媒体的时效性远远胜过传统媒体。原先新闻的定义是，新闻是新近发生的事实的报道；而现在，新闻是正在发生的事实的报道。经常见到的情况是，新闻的传播与事件的进程同步。

这段文字主要说明：

A、互联网媒体新闻发布具有实时性 B、新媒体重新诠释了“新闻”的定义
C、新媒体与传统媒体存在较大差异 D、新闻的传播应注重与事件同步

33、未来的旧金山将整个运转在一个被称之为“氢网”的系统上，按照设计师们的构想，在因海平面升高而被淹没的沿海地区，将建起新的水产资源开发区。在开发区内，一个个海藻地，一座座高层建筑林立而起。旧金山以多雾闻名，这个设计很好地利用了这一自然资源：新颖奇特的集雾装置“雾花”将从雾气和海藻中获取淡水并将其转变成氢气用作燃料。

关于未来的旧金山，下列说法与原文相符的是：

A、新的水产资源开发区将随着海平面的升高而扩大
B、可以通过集雾装置提供氢气来解决燃料能源问题
C、城市运转将建立在海水淡化技术提升的基础上
D、将全面使用“雾花”这种海水净化系统

34、作家、艺术家作为最富有创造性的主体和最具活力的媒介，一旦投身于一项文化交流行为之中，就势必要承担双重的义务或双重的角色：把自身的文化传播到自身以外的文化中去，再把自身以外的文化引回自身。这样，我们在审视外国作家与中国文化关系时，就不可能，也不应该将中国文化、中国思想设想为一成不变

的辐射中心，来进行单向度的观照和贸易往来式的清点，必须进行双向、互动的考察，具体地研究在接受彼此文化过程中，产生的新的想象和创造。

这段文字意在说明：

- A、文化交流不应是单向度的灌输而应是双向互动
- B、文化交流研究重点要集中在交流中创新的元素
- C、真正的学者是肩负双重义务扮演双重角色的人
- D、学者在文化交流中要扮演双向传播者才有活力

35、收藏的功利性并不会削弱收藏作为高雅文化艺术活动的魅力，反而能够促进收藏事业的发展。从古至今，纯粹的非功利性的收藏可以说绝无仅有。保值、增值的客观需求，促使人们对各类器物的鉴定和欣赏水平不断提升。如果离开一定的历史条件来奢谈所谓纯粹的收藏鉴赏，对于收藏事业来说只能造成观念的混乱。

这段文字意在强调：

- A、业界对收藏活动中的功利化不以为然
- B、非功利性收藏对收藏事业发展意义不大
- C、收藏事业中的“功利主义”思想无可厚非
- D、绝大多数收藏活动是在获利驱动下进行的

36、元朝人画山水的基本态度发生了改变，不像宋朝人那么追求真山真水，却注意自己的“有笔有墨”，大家所称的“宋人丘壑”和“元人笔墨”正是指此。换言之，宋朝人爱大自然胜过笔墨，而元朝人爱自己的笔墨胜过大自然，_____。

填入划横线部分最恰当的一句是：

- A、由此反映出宋元艺术家或刚或柔的不同情怀
- B、由此可见元代画家造诣成就之非凡
- C、这种求变的主张遂弥漫于整个元代画坛
- D、这就是元朝画家重笔墨趣味的原因所在

37、“软实力”概念的提出者美国知名学者约瑟夫·奈深入阐释并推广了国际理论中的另一个新概念——“巧实力”，它是兼具硬实力和软实力优点的一种整体性战略。①实现巧实力，第一，要为国家设立长期的国际定位目标和战略规划。第二，准确列出可用资源目录，涵盖政治、经济、文化等各领域。②第三，评估试图影响目标的资源与偏好，“知己知彼，百战不殆”，清晰地分析行为对象间的差异，③熟悉其所掌握的资源，有助于更好地设定本国外交战略，实现国家意图。第四，在各种权力之间做出重组或选择。无论是硬实力还是软实力，它们的效用应当彼此强化，而不是相互削弱。④第五，评估成功实现目标的可能性，以此来明确自身的国际能力限度，谨慎制定切实可行的外交政策，而不是

妄自尊大地做出错误的战略抉择。

上面这段文字缺少这样一句话：“如何权衡它们之间的关系，形成更有效，更灵活的战略方案，将是未来国家的战略重心。”这句话在文中最恰当的位置是：

- A、①
- B、②
- C、③
- D、④

38、如果将汉字视为一个生命体，它的演化有两种基本方式，一种是渐变，一种是突变。渐变，常常由书写工具的变迁引起，甲骨文笔画硬朗挺拔，是因为刻在坚硬的龟甲之上，隶书最初是刻在竹简上的（后来才用墨写），所以转折提笔间有一种雕琢的韵味。至于楷书的中正平和，是毛笔书写时代的字形逐步趋向规范和标准化的结果，这都不是一道命令下来改的，而是很自然的历史进程。_____，秦王朝为了政治的需要，发布“书同文”的政令，在全国推行“小篆”。小篆改变原先那种弯弯曲曲的笔画线条，整理出一种笔画匀整、便于书写的新字体。更大的突变发生在半个多世纪前，国家推行简体字政策，2000多个汉字被简化和标准化。

填入划横线部分最恰当的一句是：

- A、汉字字形的改变发生在秦代
- B、当然，书写工具的变迁并不是唯一原因
- C、然而，到了秦代情况发生了变化
- D、相比之下，政治常常是最强大的突变力量

39、大学发展遇到的困难是可以理解的，如知识成倍增长，新学科不断出现，旧学科依然存在，学校的扩大趋势不可阻挡，因此大学变得更难管理，足以耗尽管理者的聪明才智，学校的性质决定了大多数管理者是从教育者中挑选出来的，由于缺乏管理方面的训练，很可能陷入可悲的境地，他们因学术经历而被任命，之后却再没有时间来思考学术问题，学校的扩大要求他们不遗余力地寻求资金等各种支持发展的资源，他们在为保持发展自己的研究中心而奋斗时，也越来越深深地卷入了筹集资金和事务的苦役。

这段文字意在强调：

- A、大学扩张的主客观因素
- B、大学管理者应具备的素质
- C、大学管理者陷入困境的原因
- D、选拔大学管理者的最佳途径

40、①这些实验告诉我们：科研进展有时就像马拉松赛，而不是很快就能见分晓的短程赛跑

②科学发展是人类追求的一个长期目标，但一些具体研究项目却往往是在一个较短时间度内进行和完成的

③有些研究项目的数据积累工作已持续了几个世纪，有的每年产生数以百计的论文，有的十年才产生一个数据点

④也有一些科学实验或科研项目却不可能在短期类完成，例如：人类寿命研究，地壳变动情况勘察，太阳表面变化观察等，有可能需要几十年甚至几个世纪的时间

⑤尽管如此，一些有远见的科学家仍以他们的奉献精神和坚韧不拔的毅力，将科学实验成果传承了下去

⑥如此漫长的实验因此受到各种外在条件和因素的挑战，如研究重点的转移和技术的变化等，并经常受到资金不足和人员变动的制约

将以上 6 个句子重新排列，语序正确的是：

- A、③④⑥②⑤① B、②③④①⑥⑤ C、②④③⑥⑤① D、③②④①⑤⑥

41、由于环境公益诉讼所针对的是众多个体，受污染者与排污方之间的博弈有着较高的交易成本，在先前缺乏环境公益诉讼渠道的情况下，受污染方其实很难在高交易成本条件下获得赔偿，也就是双方之间不可能形成合作型博弈。在新的法律环境下，可能发生的变化在于，排污方考虑到遭受公益诉讼的可能而更多地采取合作立场，就此而言，围绕环境问题，双方更有可能达成合作博弈，也就是排污方将部分污染收益分配给被污染方。从福利结果来看，交易成本固定的情况下，合作的总福利比不合作的福利来得更大。

这段文字意在说明：

- A、受污染者如果不走法律途径很难得到赔偿
B、环境公益诉讼能促使受污染方和排污者达成合作博弈
C、新的法律措施使污染收益合理分配成为可能
D、交易成本是受污染者和排污方达成合作博弈的前提条件

42、虽然知识产权本质上是程度不一的知识垄断，但是由知识产权引起的知识垄断情形中的“垄断”含义与传统的反垄断法中“垄断”的含义有很大区别。由知识产权引起的“知识垄断”，主要是指知识产权法授予的排他权；如果该种排他权导致了相应产品或服务的市场垄断，那么，“知识垄断”也包括这种市场垄断的后果，无论权利人对该种排他权“滥用”与否，都存在两种可能，一是权利人利用排他权逐渐控制相应的产品市场，造成反竞争后果，二是并没有控制市场，没有造成反竞争的后果，而前一种正是反垄断法可能要予以制裁的情形。

下列说法与原文相符的是：

- A、排他权会导致知识垄断 B、反竞争是由滥用知识产权引起的
C、知识产权本质上就是知识市场垄断 D、法律应对造成市场垄断的知识产权进行干预

43、端午节之所以为“粽子节”，从传统文化的角度看，固然是一种“删繁就简”，是一种遵守；而从社会公众的角度看，却是一种无奈的、被动的选择，很简单，这些年来，我们对于传统节日的问题上，往往习惯于依赖“刺激消费”这样的路径，而拙于补充一些新鲜的、健旺的文化元素，以替代那些日渐消逝的传统仪式和内容，久而久之，则只能任由那些看上去肤浅却实用的商业操作来填补“空白”。

这段文字意在强调：

- A、缺少文化元素的创意导致传统节日日渐物化
B、传统节日融入公共文化生活才能更具生命力
C、传统节日文化现状已偏离了原有的民俗意义
D、端午节变为“粽子节”实属文化退守的无奈之举

44、创新源泉的另一个重要方向，就是面向历史的发掘，每一次回顾历史都可能是一次观念的清理和创新，研究和发掘新的史料，也是一次价值观的梳理，____，重新发现历史，建立当下社会观念与历史价值的承继关系，这是奠定创新思维的一个重要因素，我们要在前人的肩膀上瞭望未来，不是简单地忽略或者漠视历史积累，不断重复曾经的创新过程。

填入划横线部分最恰当的一句是：

- A、历史无法重来 B、与其重读历史，不如创造历史
C、一切历史都是当代史 D、历史是胜利者的历史

45、在赌博过程中，人们倾向认为既往事件容易影响未来事件的发生机率，这被称为“赌徒谬论”，英国科学家招募了 31 名大脑脑岛受伤的患者让其玩投币机，结果只有“赢”和“差点赢了”两种；同时还招募了 13 名大脑其他区域有损伤的患者以及 16 名健康人进行对比研究，研究发现，除了脑岛受伤的被试，其他人在获得“差点赢了”的结果时，继续参与游戏的欲望都加强了，这些人都印证了“赌徒谬论”，科学家认为赌徒的脑岛区域可能极度活跃，令其容易做出不合逻辑的推理，未来或许可以脑岛为靶向治疗赌瘾，即通过药物或心理疗法来降低脑岛的活跃性。

下列说法与原文相符的是：

- A、大脑受损伤者并不受“赌徒谬论”的影响
- B、降低脑岛的活跃度可能会抑制赌博冲动
- C、赌博上瘾的人在日常生活中易做出不合逻辑的推理
- D、脑岛损伤者难以估算未来事件的发生机率

46、起床后的第一件事是摸手机，吃饭先拿起手机拍照传微博，一桌人都对着手机，有一句没一句地聊天，半夜都要从枕头底下掏出手机来看看新闻……智能手机渗透到生活的方方面面，已经对个人生活和社会交往产生不良影响，针对人们日渐依赖智能手机的现象，专家呼吁要“数字节食”——人们应该合理利用智能手机，而不是被手机掌控，全民都需要认识到手机上瘾的危害。

根据这段文字，作者接下来最有可能：

- A、介绍“数字节食”概念是如何出现的
- B、就如何减少对智能手机的依赖给出建议
- C、回顾传统手机时代人们简单而健康的生活
- D、说明智能手机在哪些方面给生活造成了影响

47、以前美国制造业出口大量高附加值的小件商品，而将低附加值产品及组装外包给其他国家。现在这一形势发生了某些逆转，个别企业出于物流方面的考虑，将某些笨重低值产品的组装重新安排在国内，而将高价值的配件生产仍安排在海外。尽管如此，从全球范围看，新兴国家的比较优势还很明显，制造业的发展潜力尚存，现代产业内贸易理论表明，一旦某个国家在某个行业或产品形成优势，由于规模报酬递增和不完全竞争等因素，会使这一优势强化。因此，在经历了数十年的制造业转移后，中国等新兴国家在制造业方面的优势已经形成，这是对美国制造业回归的很大挑战。

这段文字主要介绍了：

- A、美国制造业回暖对新兴国家造成巨大冲击
- B、提高科技含量与附加值有利于制造业发展
- C、国际分工体系的变化为美国制造业的回归提供契机
- D、美国制造业在与新兴市场竞争方面并不具备全面优势

48、人们头脑中的偏见，往往是来自_____，我们对于一件事情知道得越少，就越容易形成判断，而且是越容易形成强烈的单纯判断。

填入画横线部分最恰当的一项是：

- A、愚昧
- B、无知
- C、傲慢
- D、歧视

49、①这个制玉工具直到现在还是主要工具

②俗语说：“玉不琢，不成器”

③历代只不过在精致及便利方面有所改进罢了

④因为玉的硬度很高，古代青铜或铁的刀具都刻画不动它

⑤所以很早就有了琢磨之法，就是用比它硬度更高的金刚砂、解玉砂来磨它

⑥据考古发掘所得的证明，殷商时代的玉器制作中已有旋车的工具

将以上 6 个句子重新排列，语序正确的是：

- A、①③⑥②④⑤
- B、②④⑤⑥①③
- C、④⑤②⑥③①
- D、⑥①③②④⑤

50、如果一个国家没有在其人口中形成对某种主要文明的认同，没有相通的种族构成，其内部凝聚力就不会强大，那么即使产生人口增长，具有众多人口，也难以形成数量优势和国家可用的有利战略资源。奥匈帝国在这方面就很典型。在与普鲁士争夺德意志控制权时，哈布斯堡王朝虽然已有 3700 万人口，却还是因为人口结构过于驳杂，难以形成统一的凝聚力，在 19 世纪下半叶败给了普鲁士。

这段文字意在说明：

- A、人口未必是国家的有利战略资源
- B、民族的凝聚力是国家强盛的基础
- C、国民的文化认同对国家至关重要
- D、人口结构与国家凝聚力息息相关

三、数量关系。在这部分试题中，每道题呈现一段表述数字关系的文字，要求你迅速、准确地计算出答案。

51、甲乙两个办公室的员工都不到 20 人，如果从甲办公室调到乙办公室若干人，则甲的人数是乙的人数的 2 倍；如果乙调到甲办公室相同的人数，则甲的人数就是乙的 3 倍，则原来甲办公室有多少人？

- A、16
- B、17
- C、18
- D、19

52、小李某月请了连续 5 天的年假，这 5 天的日期数字相乘为 7893600，问他最后一天年假的日期是：

- A、25 日
- B、26 日
- C、27 日
- D、28 日

53、甲、乙两船同时从 A 地出发，甲船逆流前往 B 地，乙船顺流前往 C 地，1 小时后两艘船同时掉头航向 A 地，甲船比乙船早 1 小时返回，已知甲船的静水速度是水流的 3 倍，那么甲船的静水速度和乙船的静水速度之比是：

A、3: 5 B、2: 3 C、3: 4 D、2: 5

54、环形跑道的周长为 400 米，甲、乙两人骑车同时从同一地点出发，匀速相向而行，16 秒后甲、乙相遇。相遇后，乙立即调头，6 分 40 秒后甲第一次追上乙。问甲追上乙的地点距原来的起点多少米？

A、8 B、20 C、180 D、192

55、某项工程，甲工程队单独施工需要 30 天完成，乙施工队单独施工需要 25 天完成，甲队单独施工了 4 天后改由两队一起施工，期间甲队休息了若干天，最后整个工程共耗时 19 天完成，问甲队中途休息了几天？

A、1 B、3 C、5 D、7

56、工厂组织工人参加技能培训，参加车工培训的有 17 人，参加钳工培训的有 16 人，参加铸工培训的有 14 人，参加两项及以上培训的人占参加培训总人数的 $\frac{2}{3}$ ，三项培训都参加的有 2 人，问总共有多少人参加了培训？

A、24 B、27 C、30 D、33

57、某单位将 100 多名实习生分配到 2 个不同的部门中，如果要按照 5: 9 的比例分配，则需要额外招 4 个实习生才能按要求比例分配。如要按照 7: 11 的比例分配，最多会多出 2 个人，问该单位至少需要再招几个实习生才能按照 3: 7 的比例分配给 2 个部门？

A、2 B、4 C、6 D、8

58、老师在课堂上出了 18 道速算题，规定学生答对一题得 6 分，答错一题倒扣 1 分。一位学生全部做完，得了 94 分，他答对了多少道题？

A、12 B、14 C、16 D、17

59、三行三列间距相等共有九盏灯，任意亮起其中的三盏组成一个三角形，持续 5 秒后换另一个三角形，那么如此持续亮。亮完所有的三角形组合至少需要多少秒？

A、380 B、390 C、410 D、420

60、某单位共有 10 个进修的名额分到下属科室，每个科室至少一个名额，若有 36 种不同分配方案，问该单位最多有多少个科室？

A、7 B、8 C、9 D、10

61、一支有 100 多人的旅行团乘坐汽车，如果每辆车都乘坐 29 人，结果剩下 4 人；如果增加一辆车，则所有游客正好平均分到各辆车上，问此时每辆车乘坐了多少人？

A、23 B、24 C、26 D、28

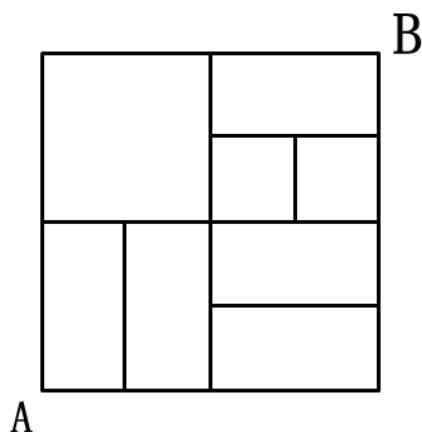
62、小区内空着一排相邻的 8 个车位，现有 4 辆车随机停进车位，恰好没有连续空位的停车方式共有多少种？

A、48 B、120 C、360 D、1440

63、已知一内直径为 1250px，内高 2500px 的圆柱形木桶，装满了浓度为 20% 的盐水溶液，使其倾斜 45 度倒出部分溶液后放平，再加满清水，问此时木桶内盐水溶液的浓度是多少？

A、10% B、12. 5% C、13. 3% D、15%

64、从 A 地到 B 地的道路如图所示，所有转弯均为直角，问如果要以最短距离从 A 地到达 B 地，有多少种不同的走法可以选择？



A、14 B、15 C、18 D、21

65、某商场采购一种电冰箱，先按进价 15% 的利润定价，此后按定价的 90% 出售，结果每台获利 210 元，这种电冰箱的进价是多少元？

A、6000 B、5000 C、4000 D、3000

四、判断推理。本部分包括图形推理、定义判断、类比推理与逻辑判断四种类型的试题，在四个选项中选出一个最恰当的答案。

66、权利反比原则指的是行使权力的人必须在权力执行的范围内最后得利，而权力最小的人最先得利的原则。七人每天一起捕鱼，在缺乏计量工具的前提下，下列哪项分配方法符合权利反比原则？

- A、通过抽签决定分配的人和拿取顺序
- B、由七人中最年长的负责分成七份，由最年轻的将每份分配到各人
- C、成立分配委员会和民主监督会，双方共同负责分配方案
- D、负责分成七份的那个人最后取走属于自己的那一份

67、潜台词本是戏剧用词，指的是台词实际包含而没有明确说出的意见，所谓题外之话，言外之意。丰富的潜台词往往能使表演更加耐人寻味。

根据上述定义，以下哪项表述中包含典型的潜台词：

- A、历史老师讲课时说：中国地大物博，是礼仪之邦
- B、违章司机对交警说：我有急事，没看清交通标志线
- C、法官判说：判处被告有期徒刑十年
- D、电视上天气预报员说：今天最高气温为 24 摄氏度，多云

68、生态补偿是指通过对损害资源环境的行为进行收费，提高行为的成本，从而促使损害行为的主体减少带来外部不经济性的行为，达到保护资源环境的目的。

根据上述定义，下列属于生态补偿的是：

- A、在火车站等公共场所随地吐痰、乱扔垃圾的行人通常会被执勤人员拦住并罚款
- B、为避免有人随意游牧，管理部门规定，一旦有人违反则向其工作单位通报
- C、某政府用大型客运公司缴纳的各项税款和费用，修缮路况堪忧的国道
- D、为修复因游人过多对景区内绿色植被的破坏，某地区风景旅游区提高了门票价格

69、由普通民事纠纷演化为暴力犯罪事件，最后不得不引入国家强制力才能最终解决纠纷的现象，称为纠纷的漏斗效应。

根据上述定义，以下不属于纠纷的漏斗效应的是：

- A、小赵婚后一直怀疑妻子有外遇，最近妻子入职新公司，小赵开始怀疑妻子与上司有染，在和妻子的一次争吵后，冲到妻子公司将其上司打伤
- B、张某因为耕地问题，与邻居李某关系不和，曾多次发生冲突，经多方调停未果，最后一次在冲突中张某因殴打李某的母亲被判故意伤害罪而入狱
- C、小王曾借款 3 万给小张，并签订了借款协议，但到期后小张并未还款且恶意拖欠，小王多次试图沟通但小张总是抵赖，小王将小张打成重伤，被判入狱
- D、田家因门口道路长期被刘家占用而不满，两家人曾经因此到村委会理论，也曾爆发多次肢体冲突，但矛盾依然没有解决，最终田家长子驾车撞毁刘家住房而被判刑

70、T 型人才是指按知识结构区分出来的一种新型人才类型，用字母“T”来表示他们的知识结构特点。“一”表示有广博的知识面，“|”表示知识的深度，两者的结合，既有较深的专业知识，又有广博的知识面，这类集“深”与“博”于一身的人才，不仅在横向上具备比较广泛的一般性知识修养，而且在纵向的专业知识上具有较深的理解能力和独到见解。

根据上述定义，下列不属于 T 型人才的是：

- A、诺贝尔化学奖获得者米兰格尔，一生获得 15 个名誉博士学位，并开创了粒子物理，表面化学等新学科，直到 70 多岁还有技术发明问世
- B、某跨国公司新任命的中国区财务总监赵某能讲四种语言，同时拥有经济学博士和法学学士学位，曾经在亚洲工作过
- C、在高校工作的王老师毕业于经济学系，后又攻读了数学博士学位，目前从事数量经济学的研究与教学工作，并在这一研究方向上有很深的造诣
- D、古希腊著名哲学家亚里士多德的研究还涉及了物理学、诗歌、音乐、生物学、逻辑学、政治以及伦理学等

71、核心家庭是指一对夫妇和子女两代人所组成的家庭，通常不和其他亲属住在一起。

根据上述定义，下列属于核心家庭的是：

- A、张女士母亲去世得早，她见父亲一人生活孤单，就把他接到自己家来一起生活了，这样能够在各方面照顾父亲

- B、王先生、王太太都在忙事业，双方的父母都不在身边，唯一的儿子正在念高中，平常家中无人做家务，只得雇了一个钟点工来照顾他们的生活起居
- C、李经理家境殷实，儿子虽然已经娶了媳妇，但仍然与他们一起过，李经理也乐得他们继续“啃老”
- D、刘老太唯一的女儿嫁出去后，刘老太就与丈夫两人一起生活；后来丈夫去世，她就一个人单过，不愿意与女儿女婿住在一起
- 72、**印象管理指个体为了使他人形成对自己积极的、正面的印象而在他人面前展示自我的努力。根据上述定义，下列不属于印象管理的是：
- A、学术研讨会上，张教授滔滔不绝、旁征博引，引起大家的注意和赞赏
- B、学校举办登山比赛，体育委员王同学一马当先，率先冲上山顶，赢得一片掌声
- C、三岁的淘淘在幼儿园十分淘气，经常在墙壁上画画，老师说了很多次他还是如此
- D、王女士是一家美容院的老板，平时她十分注意皮肤保养和梳妆打扮，总给人一种光彩照人的感觉
- 73、**投资：回报
- A、广告：打折 B、洽谈：生意 C、竞争：优势 D、入股：分红
- 74、**舞台：道具：演员
- A、汽车：驾驶：司机 B、操场：足球：学生 C、商场：商品：消费者 D、工厂：机器：工人
- 75、**拍摄：剪辑：放映
- A、诊断：检查：康复 B、编辑：征稿：出版 C、化妆：演出：喝彩 D、开采：加工：销售
- 76、**牙刷对于（ ）相当于（ ）对于墨汁
- A、口腔 砚台 B、杯子 墨水瓶 C、牙膏 毛笔 D、水 书法
- 77、**美国一项研究表明，二手烟雾对非烟民的危害远甚于烟民本人。吸烟的人在损害自身心血管系统的同时，系统可以进行自我调节以抵消费烟造成的部分后果，而不吸烟的人的身体无法适应烟雾吸入后的变化，因此，被动吸烟对非烟民所造成的影响远远大于对烟民的影响。
- 以下哪项如果为真，可以支持上述研究结论？
- A、肺癌患者 85% 以上是由吸烟导致，癌症死亡总数的 30% 是由吸烟导致的
- B、烟民和非烟民结成夫妇，后者死于心脏病的风险比前者高 30%
- C、被动吸烟是位于主动吸烟、饮酒类疾病之后的第三类最可预防的死因
- D、日吸四包烟的有 20 年的烟龄的烟民，其配偶有可能死于肺癌
- 78、**大家只有同心协力，才能把事情办好，事情没有办好，因此，大家没有同心协力。
- 以下哪项中的推理形式与题干中的推理形式相同？
- A、若被害人身上发现王某的 D N A，则王某就是本案的重大犯罪嫌疑人。在被害人指甲中检验到了王某的 D N A，因此，王某是本案的重大犯罪嫌疑人
- B、张同学上场担任主辩手，实验中学辩论队就能赢，实验中学辩论队没有赢，因此，张同学没有上场担任主辩手
- C、薄荷只有在温暖的气候下才能很好地生长，薄荷生长得很好，因此，薄荷是在温暖的气候下生长的
- D、人不犯我，我不犯人，我未犯人，因此，人未犯我
- 79、**会玩的孩子更适应社会交往，心理也更加健康；相反，不少性格内向、孤僻，甚至有交往困难等行为问题的孩子，大多小时候缺少和同伴的玩耍。如果一个孩子交往技能比较差，就容易产生焦虑，紧张，多疑等负性情绪，从而影响正常生活和学习。如果这些负性情绪长期得不到释放，甚至可能导致缩性人格。
- 由此可以推出：
- A、只有给孩子充分的时间玩耍，孩子的心理才可能健康发展
- B、只要让孩子有充分的时间玩耍，孩子的心里就能健康发展
- C、有心理缺陷的孩子，都是因为小时候没有得到足够的时间玩耍
- D、只要孩子会玩耍，长大后就能适应社会
- 80、**家里有四个孩子，分别为甲、乙、丙和丁，一天，放在餐桌上的糖果少了几颗，母亲问是谁偷吃了糖果，四个孩子各有说辞：
- 甲说：我们中有人偷吃了糖果；
- 乙说：我们四个都没偷吃糖果；
- 丙说：乙和丁至少有一人没有偷吃糖果；
- 丁说：我没偷吃糖果，

如果四个孩子中有两个说的是真话，有两个说的是假话，则说真话的是：

- A、甲和丙 B、甲和丁 C、乙和丙 D、乙和丁

81、面对能源危机，一些国家开始寻找替代能源，使用玉米加工车用乙醇汽油已经不再是新鲜事了，因此不少人认为，使用玉米生产能源，既可以消化库存的陈化粮，又发展了石油替代能源，这将是未来能源发展的趋势之一，是利国利民的一项政策。

下列哪项如果为真，不能削弱上述结论？

- A、目前看来，生产车用乙醇汽油将消耗大量的水资源
B、乙醇汽油会对车辆的发动机等关键部件造成严重腐蚀
C、生产1吨乙醇要消耗3.5吨玉米，如此一来，每年就要消耗玉米近万吨，这将危及全国的粮食储备
D、使用玉米作为生产能源，可以适当提高玉米价格，进而增加农民收入和农民产粮的积极性

82、精神病其实不是一个病理学的概念，而是一个社会学的概念。假如家属或权力机构强行把一个人送入精神病院，那么，这个人几乎只能被诊断成“精神病人”。家属和权力机构对他的“症状”的描述，成为判断他是否是精神病人的重要信息。而他如果说受到了迫害，并进行反抗，则恰恰符合精神病诊断标准中关于“妄想”、“躁狂”之类的描述。他的自辩权利也被这个无权的逻辑取消：你说自己不是精神病，那么，你恰恰在此时是，是因为你拒绝承认自己有病，——这正是精神病人的一种表现；而你承认了，你当然就是了。

以下哪项最可能从上述断定中推出？

- A、精神病的诊断标准仅仅是“精神病人”的家属或相关权力机构的指控
B、家属或权力机构将某人送入精神病院，只是为了让他得到及时有效的治疗
C、大多数在精神病院治疗的精神病人其实并没有精神病
D、在自己是否患有精神病这一问题上，被强制关入精神病院的个人表达是苍白无力的

83、就网友提出的“能否不到驾校培训就直接考驾驶证”这一问题，公安部交通管理局回应称，我国法律法规没有规定申请驾驶证必须经过驾校培训，但必须在道路上学习驾驶技术。根据《道路交通安全法实施条例》第20条有关规定，在道路上学习驾驶，应当按照公安机关交通管理部门指定的路线、时间进行。在道路上学习机动车驾驶技能应当使用教练车，在教练随车指导下进行，与教学无关的人员不得乘坐教练车。

根据以上信息，不能得出以下哪项？

- A、如果有教练随车指导，则可以在公路上学习驾驶
B、如果找不到教练指导，则无法在道路上学习驾驶技术
C、如果只有驾校才有教练车，则申请驾驶证必须先上驾校
D、如果已经申请到了驾驶证，则肯定在道路上学习过驾驶技术

84、人类智力可分为流体智力和晶体智力两类。流体智力是一个人生来就具有进行智力活动的的能力，即学习和解决问题的能力，它依赖于先天的禀赋，随神经系统的成熟而提高，不受教育与文化的影响。而晶体智力是指以习得的经验为基础的认知能力，受后天的经验影响较大。

根据上述定义，下列属于晶体智力的是：

- A、记忆力 B、逻辑分析能力 C、会弹琴 D、会哭泣

85、摆拍就是在摄影过程中，被拍摄者完全知道有人在为自己拍照，从而使摄影者有较充分的时间，在做好拍摄准备以及被拍摄者固定好姿势以后，完成拍摄。

根据上述定义，下列属于摆拍的是：

- A、看到眼前壮丽的美景，小王兴奋不已，双手张开，像是要把美景拥抱在怀里，嘴里还喊着小李快给他来一张
B、小张只喜欢拍风景，只喜欢静静地与大自然对话。在旅游过程中，同事们喊他拍照，他很不情愿
C、邻居小王家的孩子刚满三岁，却非常顽皮，小王拍了不少他淘气玩耍的镜头
D、老周晚年爱上摄影，常常背起相机去采风，遇到新鲜事、新鲜人，都爱举起相机畅快地拍摄一通

86、本科：学历

- A、品德：教育 B、家庭：婚姻 C、校长：职务 D、恋人：爱情

87、某公司经理发现，该公司A部门里每一位员工都有自己喜欢的同事；至少有一位员工不信任任何一位同事；如果得不到每位员工的信任，那么就不可能有资格当选下届工会主席。

根据以上信息，一定可以得出以下哪项？

- A、该公司有人不自信 B、该公司有人不能当选下届工会主席
C、该公司同事关系很糟 D、该公司下届工会主席一定得到所有员工的喜欢

88、甲、乙、丙、丁四人先后来到一个农场工作。甲说：“我刚到农场时，在玉米地旁种了十几棵桃树。”乙说：“我刚来时正赶上农场附近新修公路，把桃树林都砍了。”丙说：“农场的玉米都是我种的。”丁说：“我刚到的第一天，正赶上摘桃，树上的桃又大又甜。”

据此判断，四人来到农场的先后顺序是：

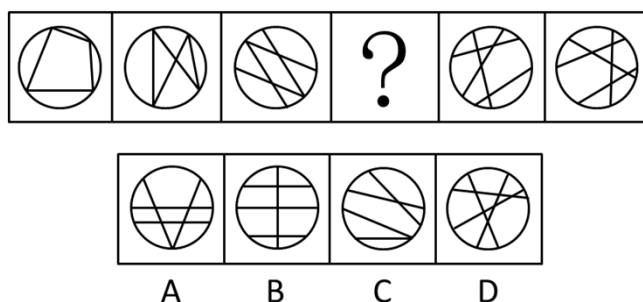
- A、丙、甲、丁、乙 B、丙、丁、甲、乙 C、甲、丁、乙、丙 D、甲、丙、丁、乙

89、科学家设计了一个实验来探讨人类如何评估自我行为。研究人员付给每个参加实验的学生 5 美元，然后问他们，如果这次实验结束之后，有人要他们进行慈善捐款，请预估自己及其他人会捐出多少钱。结果，实验对象预测（平均）自己会捐 2.44 美元，但别人只会捐 1.83 美元。事后真的要求实验对象捐钱时，这些人平均只捐了 1.53 美元。另一项实验中，请实验对象预估自己会在慈善活动中买多少花，结果发现，他们均过分高估了自己实际买花的数量。

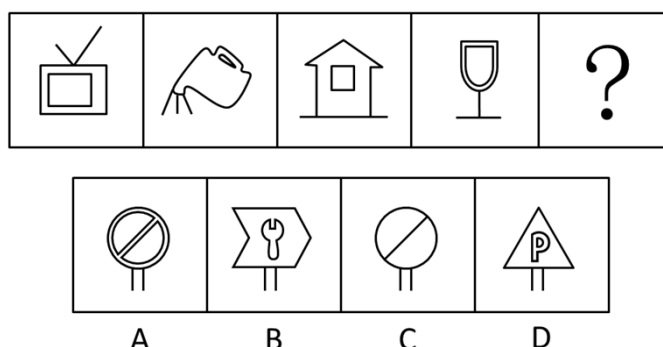
根据以上实验，科学家可能会得出以下哪项结论？

- A、我们并不像其他人所想的那样有爱心 B、相比对自己的了解，人们更了解他人
C、人们会高估自己可能的善意行为 D、人们倾向于粉饰自己的各种行为

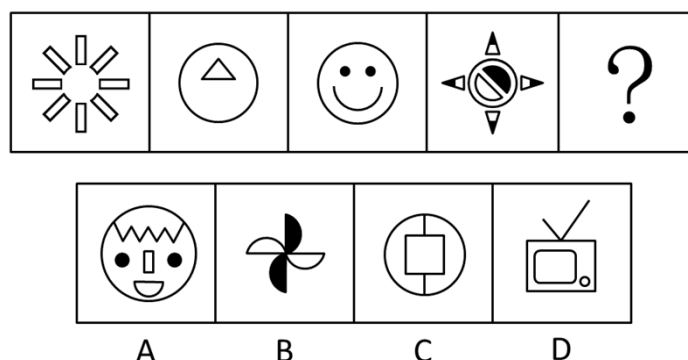
90、从所给四个选项中，选择最合适的一个填入问号处，使之呈现一定规律性：



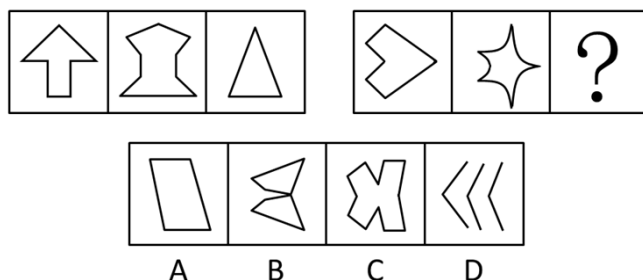
91、从所给的四个选项中，选择最合适的一个填入问号处，使之呈现一定的规律性：



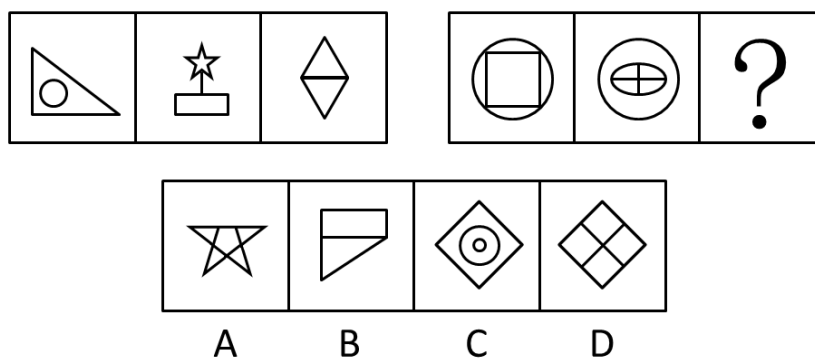
92、从所给四个选项中，选择最合适的一个填入问号处，使之呈现一定规律性：




93、从所给四个选项中，选择最合适的一个填入问号处，使之呈现一定规律性：



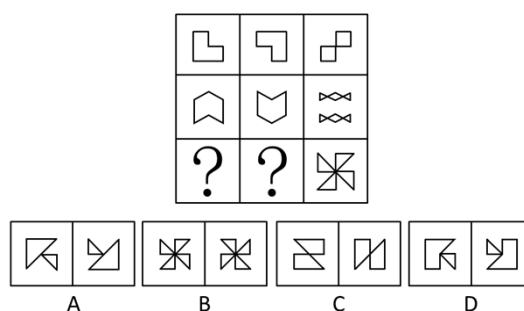
94、从所给四个选项中，选择最合适的一个填入问号处，使之呈现一定规律性：



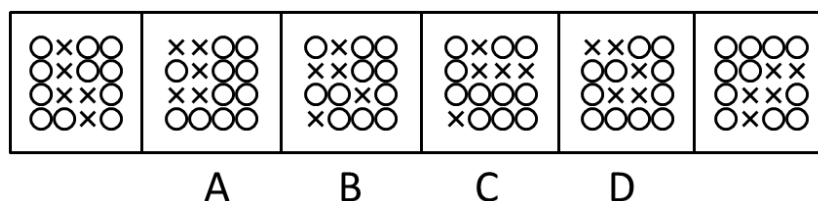
95、从所给四个选项中，选择最合适的一个填入问号处，使之呈现一定规律性：



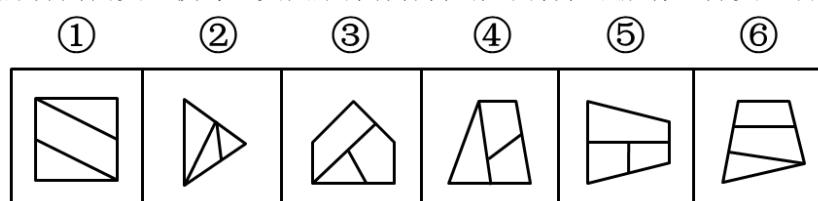
96、从所给四个选项中，选择最合适的一个填入问号处，使之呈现一定规律性：



97、以下去掉哪一项之后，所剩的图形呈现一定的规律性：

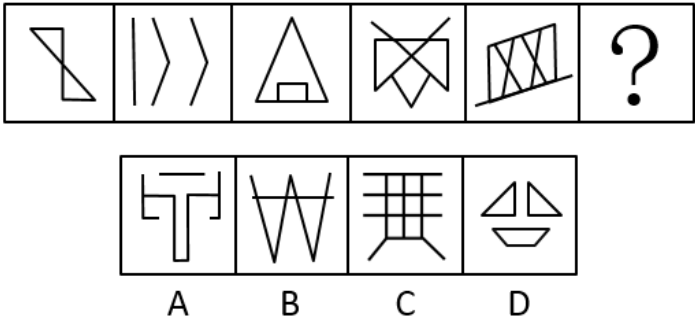


98、把下面的六个图形分为两类，使每一类图形都有各自的共同特征或规律，分类正确的一项是：



A、①②⑥；③④⑤ B、①②③；④⑤⑥ C、①③⑥；②④⑤ D、①③④；②⑤⑥

99、从所给的四个选项中，选择最合适的一个填入问号处，使之呈现一定的规律性。



100、某国际组织会徽的图案是一幅从北极方向勾勒的世界地图，地图上标有陆地和海洋、经线和纬线。经纬线由 8 条直线和五个同心圆组成，地图底部和左右两侧为橄榄枝，衬托着地球。

根据上述描述，下列最符合的会徽图案是：



五、资料分析。所给出的图、表、文字或综合性资料均有若干个问题要你回答。你应根据资料提供的信息进行分析、比较、计算和判断处理。

(一)

2011 年底，全国共有乡镇综合文化站 34139 个，平均每站面积由 2006 年的 277.01 平方米，增长到 2011 年的 516.38 平方米，平均每站文化活动用房面积由 2006 年的 175.49 平方米增长到 2011 年的 391.00 平方米。

2006~2011 年，每年乡镇综合文化站从业人员和专职人员增长比例均保持在 5% 左右，2011 年底，全国乡镇综合文化站从业人员 78148 人，专职人员 52718 人。

2011 年，全国各级财政对乡镇综合文化站的财政拨款达到 42.76 亿元，比 2006 年增加 31.84 亿元，增幅高达 291.6%，年均增长 28.6%。各级财政对乡镇综合文化站的投入占全国文化事业总投入的 10.9%，占群众文化投入的 41.1%，分别比 2006 年提高 4.0 个百分点和 7.3 个百分点。

2011 年，全国乡镇综合文化站共组织文艺活动 32.64 万次，比 2006 年增长 20.0%；举办训练班 15 万次，比 2006 年增长 26.8%；培训人次 1232 万人次，比 2006 年增长 230%。

2011 年底，全国乡镇综合文化站共指导群众业余文艺团队 154799 支，辖区内社区（村）文化活动室 360649 个。

101、2011 年底，全国乡镇综合文化站总面积约为多少万平方米？

A、1763 B、1335 C、946 D、599

102、2011 年全国群众文化投入约为多少亿元？

A、77 B、96 C、104 D、123

103、2011 年全国文化事业总投入约是 2006 年的多少倍？

A、1.6 倍 B、2.5 倍 C、3.9 倍 D、5.3 倍

104、2011 年，平均每个乡镇综合文化站从业人员约组织文艺活动多少次？

A、2 B、4 C、6 D、8

105、能够从资料中推出的是：

- A、2011 年文化活动用房面积占乡镇综合文化站总面积的 63%
- B、2011 年乡镇综合文化站举办的训练班平均每次有超过 90 人接受培训
- C、2011 年平均每个乡镇综合文化站指导群众业余文艺团队约 4.5 支
- D、2011 年各级财政对乡镇综合文化站的财政拨款是 2006 年的 2.9 倍

(二)

2010 年人民法院审理婚姻家庭、继承一审案件收结案情况

项目	收案		结案（件）			
	数量 (件)	增长率 (%)	合计	调解	判决	其他
合 计	1423180	3.15	1428340	698900	387185	342255
婚姻家庭	1374136	2.47	1379463	673749	373883	331831
离婚	1164521	1.92	1168810	567374	321316	280120
赡养纠纷	26648	-7.74	26704	11237	6838	8629
抚养、扶养关系纠纷	50499	2.65	50547	31082	9584	9881
抚养费纠纷	24020	-6.27	24269	11502	6902	5865
其他	108448	14.47	109133	52554	29243	27336
继承	49044	26.85	48877	25151	13302	10424
法定继承	28439	25.45	28285	15935	6861	5489
遗嘱继承	4054	21.38	4076	1790	1439	847
其他	16551	30.81	16516	7426	5002	4088

106、以下案件类型中，2010 年收案数占当年婚姻家庭类案件总收案数比重比上年有所提升的是：

A、离婚类案件 B、赡养纠纷类案件 C、抚养、扶养关系纠纷案件 D、抚养费纠纷案件

107、2010 年结案的婚姻家庭类案件中，以调解方式结案的比重比判决方式约高多少个百分点？

A、11 B、16 C、22 D、26

108、2010 年收到的法定继承案件比上年的增加了多少件？

A、4535 B、5769 C、7238 D、9022

109、以下案件类型中，2010 年以调解方式结案的案件占该类型总结案数的比重最高的是：

A、抚养、扶养关系纠纷案件 B、抚养费纠纷案件

C、其他类婚姻家庭案件 D、其他类继承案件

110、与其他类型案件相比，2010 年遗嘱继承案件体现出什么样的特点？

A、只有遗嘱继承案件的总结案数多于收案数

B、只有遗嘱继承案件的收案数比上年有所上升

C、只有遗嘱继承案件的调解案件数不足总结案数的 40%

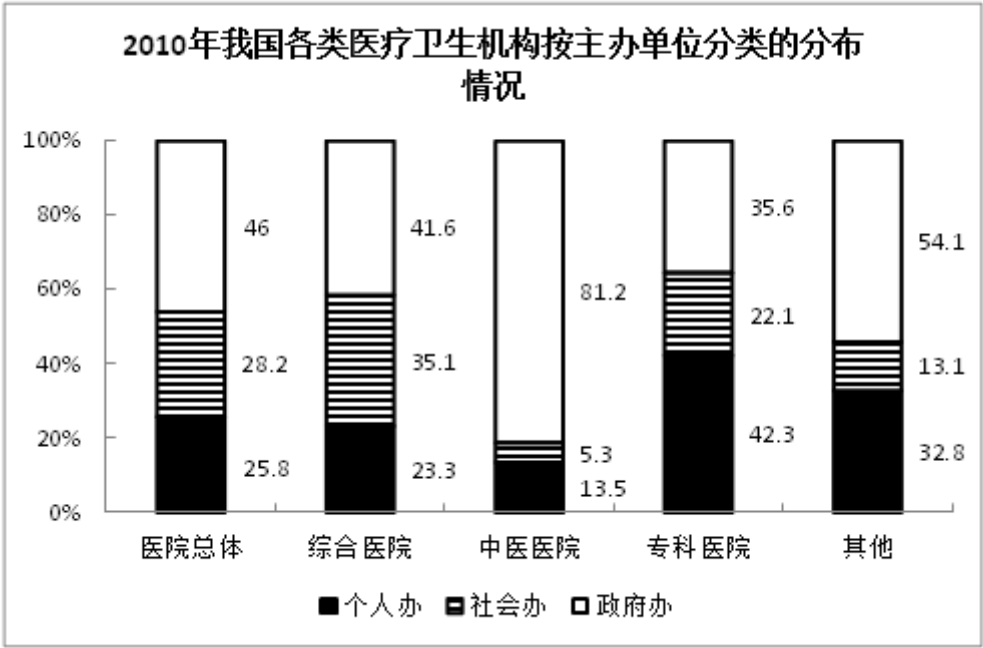
D、只有遗嘱继承案件的已判决案件数超过总结案数的 1/3

（三）

2010 年，我国医院总数为 20918 家，较上年增长 627 家，医院接待诊疗 20.40 亿人次，比上年增长 1.18 亿人次，综合医院接待诊疗人次占全部医院接待诊疗人次的 74.1%，是位居第二的中医医院诊疗人次的 4.6 倍。

2006~2010年我国医疗卫生机构分布状况

年份	2006	2007	2008	2009	2010
医院总数（家）	19246	19852	19712	20291	20918
综合医院（%）	68.2	67.4	66.6	65.9	65.4
中医医院（%）	13.8	13.7	13.6	13.4	13.3
专科医院（%）	15.7	16.5	17.4	18.3	18.9
其他类（%）	2.3	2.4	2.4	2.4	2.4



111、2007~2010 年间，中医医院占医院总数比重同比下降最快的一年是：

- A、2007 年 B、2008 年 C、2009 年 D、2010 年

112、与 2009 年相比，2010 年我国约增加了多少家其他类医院？

- A、15 B、54 C、128 D、627

113、2010 年，我国政府的专科医院有多少家？

- A、1100 B、1400 C、1700 D、2000

114、2010 年，平均每家综合医院的接待诊疗者人次数约是中医医院的多少倍？

- A、0. 94 B、1. 05 C、1. 16 D、1. 27

115、能够从上述资料中推出的是：

- A、2006-2010 年间，医院总数持续增加
B、2009 年全国医院共接待诊疗者 21. 58 亿人次
C、2010 年的政府办医院中，一半以上是中医医院
D、与 2006 年相比，2010 年专科医院数增速高于综合医院

（四）

2011—2012 年全国普通高等教育状况统计表（单位：万人）

高等教育	毕业生人数		招生人数		在校生人数	
	2012 年	2011 年	2012 年	2011 年	2012 年	2011 年
研究生	48.65	43.00	58.97	56.02	171.98	164.58
博士	5.17	5.03	6.84	6.56	28.38	27.13
硕士	43.47	37.97	52.13	49.46	143.60	137.46
普通本专科	624.73	608.16	688.83	681.50	2391.32	2308.51
本科	303.85	279.62	374.06	356.64	1427.09	1349.66
专科	320.89	328.53	314.78	324.86	964.23	958.85
成人本专科	195.44	190.66	243.96	218.51	583.11	547.50
本科	80.10	75.54	98.48	89.72	247.55	233.61
专科	115.33	115.12	145.47	128.79	335.56	313.88

- 116、2012 年我国硕士研究生毕业生人数较上一年增长了多少万人？
 A、5.65 B、5.50 C、5.35 D、5.20
- 117、与上年相比，2012 年普通本专科招生人数增长量约是研究生招生人数增长量的多少倍？
 A、2.5 B、3 C、3.5 D、4
- 118、2012 年我国专科毕业生中，成人专科毕业生所占比重约为：
 A、14% B、20% C、26% D、32%
- 119、2012 年普通高等学校在校生规模增速最慢的是：
 A、普通专科 B、普通本科 C、硕士研究生 D、博士研究生
- 120、能够从上述资料中推出的是：
 A、2011 年我国本科在校生人数低于专科在校生人数
 B、2012 年我国普通本科的招生人数同比增速快于成人本科
 C、2011 年我国博士毕业生占研究生毕业人数的比重超过一成
 D、2012 年我国成人本专科在校生中，专科生占比超过六成