

2017 年黑龙江省公务员录用考试《行测》真题（公检法卷）

一、常识判断。根据题目要求，在四个选项中选出一个最恰当的答案。

1、以下行为属于行政诉讼受理范围的是：

- A、行政机关对其工作人员的奖惩决定
- B、行政机关对其工作人员的任免决定
- C、行政机关对其工作人员的离退休决定
- D、行政机关吊销其工作人员参股企业的营业执照

2、王某（14 周岁），蔡某（18 周岁），共同策划实施了一起入室抢劫，抢劫过程中，二人将反抗的户主杀害，下列说法正确的是：

- A、蔡某不能获得指定辩护
- B、王某和蔡某构成了共同犯罪
- C、抢劫罪和故意杀人罪数罪并罚
- D、王某是未成年人，不需要承担刑事责任

3、下列关于古诗名句的说法，错误的是：

- A、“独在异乡为异客，每逢佳节倍思亲”中的“佳节”指的是中秋
- B、“但使龙城飞将在，不教胡马度阴山”中的“飞将”指的是李广
- C、“窗含西岭千秋雪，门泊东吴万里船”中的“西岭”指的是岷山
- D、“忽如一夜春风来，千树万树梨花开”中的“梨花”指的是雪花

4、下列关于黄河的说法不正确的是：

- A、共流经我国九个省区
- B、是世界上含沙量最高的河流
- C、发源于青海省，最后流入黄海
- D、上游、中游、下游各有其独特的环境特征

5、下列中国历史上的变法与其内容对应不正确的是：

- A、商鞅变法——实行郡县制
- B、王安石变法——颁行保甲法
- C、张居正变法——推行青苗法
- D、戊戌变法——开办京师大学堂

6、超声波技术用途非常广泛，它使用类似于声波，但某项参数大于普通声波的振动技术来工作，所以称为超声波，这个大于普通声波的参数是：

- A、波长
- B、振幅
- C、传播速度
- D、频率

7、下列关于辛亥革命的说法，不正确的是：

- A、对亚洲各国被压迫民族的解放运动产生了广泛的影响
- B、沉重地打击了帝国主义在中国的统治
- C、建立了亚洲第一个民主共和国
- D、推翻了清王朝，结束了封建君主专制制度

8、下列关于中医的说法不正确的是：

- A、中医诊脉主要是诊静脉
- B、阴阳五行为其理论基础
- C、针灸疗法是一种中医非药物疗法
- D、被称为“中国三大国粹”之一

9、关于居民身份证，下列说法不符合我国相关法律规定的是：

- A、遗失补办无须办理挂失和登报声明
- B、港澳台同胞在大陆定居即可申领
- C、遗失后应向常住户口所在地派出所申报补领
- D、遗失后如果被人冒用，遗失者无须承担责任

10、下列关于联合国的说法错误的是：

- A、联合国是第二次世界大战后成立的国际组织
- B、《联合国宪章》的签订标志着联合国正式成立

C、联合国总部设在美国纽约，并在世界多地设有办事处

D、联合国官方正式使用的语言为阿拉伯语、英语、法语、俄语、西班牙语

11、下列关于我国古代作品的说法不正确的是：

A、《诗经》最初是配乐的歌词

B、《庄子》中记载了大量的中国古代神话

C、《楚辞》由战国时期楚国诗人屈原编撰而成

D、《论语》大部分记言，小部分记事

12、下列成语典故的出处来源于唐代的是：

A、口蜜腹剑

B、指鹿为马

C、破釜沉舟

D、图穷匕见

13、下列典籍与性质对应错误的是：

A、《文心雕龙》——文学理论著作

B、《天工开物》——科学技术著作

C、《世说新语》——笔记体小说集

D、《吴越春秋》——军事理论著作

14、梅与松、竹并称为“岁寒三友”，以其高洁、坚强、谦虚的品格，给人以立志奋发的激励，常被古人用来咏物言志。以下诗词哪一句描写的不是梅花？

A、无意苦争春，一任群芳妒。零落成泥碾作尘，只有香如故

B、万树寒无色，南枝独有花。香闻流水处，影落野人家

C、花飞莫遣随流水，怕有渔郎来问津

D、冰雪林中着此身，不同桃李混芳尘，忽然一夜清香发，散作乾坤万里春

15、下列关于世界著名科学家的贡献说法不正确的是：

A、俄国化学家门捷列夫发现了元素周期表，这一发现成为化学发展史上的重要里程碑

B、古希腊的亚里士多德是一位百科全书式科学家，他对许多学科都做出了重要贡献

C、英国科学家牛顿发现了万有引力定律，使人类对物质构成的认识有了质的飞跃

D、波兰天文学家哥白尼提出了“日心说”，沉重打击了教会的宇宙观

16、关于常见金属，下列表述不正确的是：

A、铝极易与氧形成氧化铝，因此到了 19 世纪初才被英国化学家提炼出来

B、汞是常温下唯一呈液态的金属，由于在一定温度范围内体积膨胀系数均匀且不粘玻璃而被用来制作温度计

C、铜是人类最早普遍使用的金属，因为它是地壳中含量最多的金属元素

D、稀土并不是稀少的土，而是金属，是镧、铈、钕等 17 种元素的统称

17、下列哪组都是地跨两个大洲的国家？

A、印度尼西亚 埃及 土耳其

B、墨西哥 古巴 沙特阿拉伯王国

C、俄罗斯 意大利 印度

D、巴西 美国 泰国

18、下列符合法律规定的是：

A、陆某参与了为期三个月的地震救灾应急援助工作，这期间单位应给他双倍工资和福利待遇

B、黄某在微博上对李某进行辱骂，李某以侵犯名誉权为由将黄某告上法庭

C、某商场进行商品促销，规定所有商品购买后概不退换

D、张某就职于某电器公司，在怀孕五个月时不幸流产，可享受不超过 15 天的产假

19、下列与艺术有关的说法，错误的是：

A、米开朗基罗是意大利文艺复兴“三杰”之一

B、波兰作曲家、钢琴家肖邦被称为“乐圣”

C、《向日葵》是荷兰后印象派画家梵·高的代表作

D、奥地利作曲家莫扎特的代表作有歌剧《费加罗的婚礼》

20、以下关于生物学方面的科学知识，说法不正确的是：

A、光合作用是植物和某些细菌，以及一些真核微生物，通过阳光提供的能量合成如葡萄糖等糖类的过程

B、新陈代谢是保持生物生存且为生长和繁殖提供能量的重要化学过程

C、蛋白质是细胞中起关键作用的复杂的大分子，它由数以千计的氨基酸小分子组成

D、碳水化合物是由碳原子、氮原子和氧原子构成的一类有机化合物

二、言语理解与表达。本部分包括表达与理解两方面的内容。请根据题目要求，在四个选项中选出一个最恰当的答案。

21、南宋诗人周紫芝在《竹坡诗话》中记载：李氏家族有一人为官廉洁，公私分明。一天，他正在烛光下办理公务，有人送来一封家书。他当即灭掉公家的蜡烛，点燃自家的蜡烛，因为在他看来，公与私之间绝对不容混淆，这在今天看来有点_____，但所折射的公与私的严格区分仍然值得深思。

填入画横线部分最恰当的一项是：

A、自命清高

B、小题大做

C、沽名钓誉

D、矫枉过正

22、好的作品会对一些人的人生产生重大和深远的影响。它能让人变得更加坚强，让人生目标更加_____，曾几何时，一部《钢铁是怎样炼成的》，一部《平凡的世界》，成为许多青年人精神世界的“圣经”，成为他们一生中经受_____，战胜苦难的强大精神动力。

依次填入画横线部分最恰当的一项是：

A、笃定 磨难

B、确定 波折

C、淡定 磨炼

D、镇定 挫折

23、读完一本可心的书，就如同_____的河床有了清流的浸润，如同精神的荒原有了生命的_____，人的精神状态立刻有了不同，颇有点“腹有诗书气自华”的感受，而察世事、思万物也有了深度和张力。

依次填入画横线部分最恰当的一项是：

A、干燥 萌生

B、干旱 觉醒

C、干涸 萌动

D、干裂 苏醒

24、3D 电视是一种能够_____实际景物的真实空间关系的新型电视，对观众而言，延伸于屏幕的景物具有_____的震撼效果。

依次填入画横线部分最恰当的一项是：

A、模仿 近在咫尺

B、展示 活灵活现

C、展现 栩栩如生

D、模拟 触手可及

25、用中国品牌讲中国故事是一种艺术，必须善讲会讲。既讲品牌成长的历史、也讲品牌_____的精神，既讲大故事、也讲小故事，既讲老故事、也讲新故事，把中国品牌的故事讲得_____，使中国品牌成为当代中国形象的闪亮名片。

依次填入画横线部分最恰当的一项是：

A、彰显 娓娓动听

B、包含 绘声绘色

C、展示 栩栩如生

D、蕴含 惟妙惟肖

26、一个人从小就生活在平等、尊重的环境中，长大了就会更平等地对待人和事，反之，从小就生活在_____的训导或者宠物般的溺爱中，就很难养成健康的人格，容易变得_____，甚至容易走极端。

依次填入画横线部分最恰当的一项是：

- A、盛气凌人 平庸 B、吹毛求疵 固执 C、唠唠叨叨 偏激 D、居高临下 偏执

27、如何看待各项指标的起落调整？如何领会稳增长、调结构、促改革的辩证用意？如何贯彻稳中求进的调控指引？_____中国经济的复杂问题，需要_____的专业剖析，更离不开格局宏大的战略思考。

依次填入画横线部分最恰当的一项是：

- A、破解 具体而微 B、反观 一丝不苟 C、解读 返观内视 D、反思 条分缕析

28、研究者称，可爱的人真诚善良，平和亲切，他们会让对方放下_____，更愿意与之交朋友，适当地在家人和朋友面前学句夸张的“可爱语”，偶尔穿一次可爱的衣服，能让人显得有童趣，但如果一味地脱离年龄，刻意装可爱，只会是_____。

依次填入画横线部分最恰当的一项是：

- A、骄傲 事倍功半 B、自卑 削足适履 C、成见 东施效颦 D、戒备 适得其反

29、人格魅力是什么？就是人的信仰、气质、品德、才智等汇聚而成的感召力量，管理学者称之为_____的号召力，凝心聚力的吸引力，_____的感染力。

依次填入画横线部分最恰当的一项是：

- A、说一不二 耳濡目染 B、一言九鼎 润物无声 C、一呼百应 潜移默化 D、不令而行 春风化雨

30、生命之所以美丽，正在于它有血有肉的过程中，始终高扬着一个美丽的主题，美丽之所以_____，正在于生命的底蕴中，始终流动着人类对世界最_____的良知与渴望。

依次填入画横线部分最恰当的一项是：

- A、恒久 基本 B、永恒 纯粹 C、迷人 坚定 D、可贵 率真

31、索尔仁尼琴的终极关怀，与托尔斯泰和陀思妥耶夫斯基_____，他们共同勾勒出俄罗斯文学的近现代_____。在某种意义上，索氏就是两位先贤的_____：不仅同样叙写反抗黑暗和寻找光明的先知话语，而且擅长文学叙事。

依次填入画横线部分最恰当的一项是：

- A、如出一辙 画卷 翻版 B、一脉相承 轮廓 传人 C、异曲同工 轨迹 回响 D、不谋而合 图景 后学

32、相信神圣的人有所敬畏。在他的心目中，总有一些东西属于做人的____，是____不得的。他并不是害怕受到惩罚，而是不肯丧失基本的人格。

依次填入画横线部分最恰当的一项是：

- A、底线 损害 B、原则 混淆 C、根基 冒犯 D、根本 亵渎

33、米开朗基罗曾说：我在一块巨大的大理石上看到了大卫，我要做的只是凿去多余的石头，去掉那些不该有的大理石，《大卫》就诞生了。其实，人生同样如此，只有不断_____多余的部分，“幸福”的_____才会慢慢显现。这多余的部分，就是过多的欲念。

依次填入画横线部分最恰当的一项是：

- A、删除 前景 B、清除 画卷 C、剔除 轮廓 D、消除 蓝图

34、每个时代都有自己的精品力作，但一个_____的现实是，这些年可以称之为“经典”的好作品似乎越来越少。能创作出给人以无穷精神力量，让人为其作品中的人物命运_____、激动得吃不好睡不香的大家并不易寻。走进偌大的书店，虽满眼的热闹花哨，却很难找到一本真正想读的好书。

依次填入画横线部分最恰当的一项是：

- A、令人沮丧 魂不守舍 B、难以回避 废寝忘食 C、不容忽视 魂牵梦绕 D、每况愈下 难以释怀

35、很多东西，明明是自己所喜所需所好，但为了干好工作、成就事业，就须_____、隐忍。这未尝不是一种痛苦，

但恰恰是这种忍的功夫，使我们自觉_____私心杂念，不断堵塞与事业相悖的岔路。

依次填入画横线部分最恰当的一项是：

- A、克制 剪除 B、遏制 摒弃 C、压抑 消灭 D、抑制 克服

36、智能机器人在众多行业中_____，这不禁让一些人担忧，自己的工作是否迟早也要被机器人代替。对此，我们大可不必_____。

依次填入画横线部分最恰当的一项是：

- A、大显身手 杞人忧天 B、脱颖而出 瞻前顾后 C、崭露头角 左右为难 D、一枝独秀 庸人自扰

37、对受过 27 年牢狱之灾的曼德拉来说，最令人震撼的或许是他对自由的_____：“当我走出囚室迈向通往自由的监狱大门时，我已经清楚，自己若不能把痛苦与怨恨留在身后，那么我其实仍在狱中。”这是他的_____之语，也是他的肺腑之言。他说，是狱中生活让他学会反思与处理痛苦，拥有了战胜苦难的能力。

依次填入画横线部分最恰当的一项是：

- A、领悟 感人 B、诠释 睿智 C、感悟 惊人 D、解释 智慧

38、同样是《白蛇传》，美丽善良多情的白素贞在京剧里是姓“京”，到了昆曲中便姓了“昆”，而常香玉演来则_____是一位河南白娘子。同样的_____，被不同的戏曲剧种表达出来，构成了戏曲舞台_____的风貌，给人以独特的艺术享受。

依次填入画横线部分最恰当的一项是：

- A、俨然 酸甜苦辣 千奇百怪 B、简直 悲欢离合 姹紫嫣红

- C、全然 喜怒哀乐 千姿百态 D、完全 嬉笑怒骂 异彩纷呈

39、两千多年前，孔子在竹简上写下“君子和而不同”，这不仅成为中华文化的内在品格，也代表着中国对世界秩序的梦想。不同国家、民族的思想文化各有千秋。文化的共存不是让一种文明普适化，而是要寻求大多数文明的共同点和公约数。毕竟，只有每一颗星星都发光，人类文明的星空才会更加璀璨。

这段文字主要说的是：

- A、中华文化对世界的贡献 B、孔子对中华文化的影响 C、古人对世界秩序的梦想 D、文化共存的实现途径

40、新兴城市或城市新区犹如一张白纸，摩天楼能凸显新城的现代化，体现出生机与繁华。但是，每个城市都有独特的格调，尤其是在老城区特别是历史文化遗迹众多的街区，摩天楼必须服从周围的环境，应不强调个性、不突出体量、不破坏景观的连续性与历史的均衡感，如上海金茂大厦的密檐式塔造型、台北 101 大厦的竹节造型等地域元素的使用，就是为了体现建筑与当地文化之间强有力的联系。

这段文字意在强调摩天楼建设：

- A、需要符合城市的文化气质 B、不能脱离城市的整体规划

- C、必须立足于配套城市功能 D、不能忽视舒适性和安全性

41、打开微信朋友圈，能看到很多年轻父母拍照“晒娃”，看得多了，难免让人产生一种错觉，似乎有些父母把孩子“宠物化”了。事实上，不少家长对孩子的确有这种“宠物化”倾向，开心时会和孩子玩一玩逗一逗，温言细语，心情不好时就态度粗暴，拿孩子撒气，而在孩子成长过程中，当絮叨无效或“婆婆妈妈”令孩子逆反之后，一些“懒得废话”的家长就会诉诸暴力。

这段文字反映出一些年轻家长存在的主要问题是：

- A、缺乏信息安全意识 B、心智显得不够成熟 C、利用孩子满足虚荣心 D、忽略孩子的心理需求

42、一段中国的筝箫名曲，多有雨声中的幽远；一幅中国的山水古画，多有雨声中的迷蒙；一大堆中国古代的哲学，

其所谓“自足”“求诸己”“尽其在我”一类的命题，作为几千年文明的意旨内核和情感基点，当然是事出有因，_____，它们也许都来自作者们在雨声中的独处。

填入画横线部分最恰当的一项是：

- A、雨声会让人心中安宁静谧 B、这是中国文化独有的意趣
C、所谓情由境生和感由事发 D、就好像“小楼一夜听春雨”

43、①每一类型的法制本身都经历适应社会发展或不适应社会发展的动态变化

②历史地看，奴隶制法、资本主义法、社会主义法因生产力的发展前后相继地依次更迭

③这种变化或表现为由盛入衰，或表现为弃旧扬新，没有永恒不变的法

④这一阶段的法制在总体上保持旧法体系的同时，不断地“部分质变”，增生着新法的因素，这类型法的因素不断增多

⑤在法的这种动态发展过程中，特别值得注意的是，法的“部分质变”贯穿于法的发展过程中，激励法的前承后继，不断完善

⑥在一种类型的法与取而代之的另一种类型的法之间，存在着一个为时漫长的过渡阶段

将以上 6 个句子重新排列，语序正确的是：

- A、①③②⑤⑥④ B、②①③⑥④⑤ C、①②⑥④⑤③ D、②⑥①③④⑤

44、“选举”一词早已见诸古代文献，古人常用以描述人才选拔入仕，其含义完全不同于现代。中国古代选举制度，经历了从西汉到晚清，从察举到科举两千多年的发展，使得政治权利、经济财富和社会地位与名望主要社会资源的分配，得以是通过选拔来实现。中国社会从而由西周至春秋的“世袭社会”转变为一种“选举社会”。即从一种封闭的等级社会转变为一种流动的等级社会。宋以后，“士大夫多出草野”，统治阶级的再生产发生了转变，对个人和家族谋求上升的途径选择产生深刻影响，用“选举社会”的概念来解释从秦汉到晚清的社会结构的演变，比其他解释这一历史时期的概念，如侧重整治上层的“官僚帝国社会”的概念，更能显示中国历史文明的特色。

下列最适合做这段文字关键词的是：

- A、选举 选举社会 社会结构 B、选举 人才选拔 统治阶级
C、选举制度 世袭社会 选举社会 D、选举制度 社会资源分配 等级社会

45、据悉，第四代光源的 LED 灯溢出的蓝光可能对视网膜造成损害，甚至导致失明。事实上，由于大多数光源发出的白光是通过蓝光 LED 芯片加上黄色荧光粉混合而成的，所以蓝光能量的比例高于其他。当前，我国在光生物安全性鉴定上主要参考《灯和灯系统的光生物安全性》国家推荐标准，其标准的限值基于成人的实验数据。如果婴幼儿长时间直视 LED 光源，则会伤害视网膜。

这段文字意在强调：

- A、LED 灯对健康的潜在危害 B、制定光生物安全新标准的必要性
C、有必要补充光生物安全性的实验数据 D、应督促 LED 灯企业严格执行国家推荐标准

（一） 根据下面的材料回答 41~45 题。

①心理学领域有个术语叫做“羊群效应”，专门用来形容人类的从众心理。羊群有个习性，那就是跟着头羊走，无论前面那个大坑有多宽，只要有一头羊率先跳过去了，后面的羊便会跟着它往前跳。羊群效应一直是心理学研究的热点之一，社交网站的出现提供了一个绝佳的实验场，研究者可以通过大数据的研究方法排除个案的影响。

②众所周知，在心理学领域单独研究某件个案是不科学的。就拿羊群效应来说，不可能把网民们对某件产品的评价单独拿出来研究，因为这件产品有可能确实质量很好。为了避免这个问题，美国麻省理工学院附属的斯隆商学院的希南·阿拉尔博士和他的同事们决定借鉴自然科学的研究方法，进行一次大规模随机对照实验。他们和一家社交网站合作，花了 5 个多月的时间对这家网站所有的网友评论做了一次实验。

③这是一家综合性社交网站，先由网友上传文章，再由其他网友做出评论。评论的内容是可以被打分的，要么点赞（大拇指朝上），要么给差评（大拇指朝下）。点赞的数量减去差评的数量就是每段评论的最终得分。研究人员和

站方达成协议，事先为这 5 个月当中出现的 101281 篇评论进行打分。也就是说，每出现一篇评论，都立即由机器自动生成一个网友评论。当然，到底是点赞还是差评则是随机决定的，和帖子的内容无关。另外还有一定数量的评论不事先打分，作为对照组。

④结果显示，社交网站上的羊群效应还是相当明显的。研究人员一共收集到 30.8515 万次网友打分，发现事先被点赞的评论最终得正分的可能性比对照组高出 32%，最终的得分也比平均值高了 25%。相比之下，事先被点差评的评论则不受影响，和对照组没有区别。

⑤“如果机器给出的是负面评价，后面往往会有很多人试图进行修正，最终导致负面评价对一条评论的总得分没有影响。”阿拉尔博士评价说，“正面评价则没有这种情况，说明人们对于不符合自己意见的正面评价和负面评价的态度是不一样的，对于前者比较宽容。”

⑥牛津大学互联网学院的伯尔尼·霍根教授认同这一判断，他认为正面评价往往是一种广告，做出正面评价的人是想让更多的网友喜欢某件东西，而负面评价则是一种个人化的情绪发泄，这就是为什么一般社交网站点赞比差评多的原因所在。

⑦另外，评论的内容对于实验结果也有影响。文化、社会、政治和商业类的新闻评论容易受到羊群效应的影响，普遍新闻和经济新闻则影响较小，这大概是因为前者比较主观，受个人观点影响大，容易走极端，而后者属于事实类新闻，比前者要客观得多，不太受个人因素的影响。

46、下列文字最适合放在文中的位置是：

值得一提的是，随机出现的点赞和差评的总数并不是一样的，因为在通常情况下，这家网站点赞的数量比差评要多。于是研究人员根据以往的情况，设定了随机点赞和差评的比例。从这个细节可以看出，研究人员对于实验材料的选取是非常细心的，尽量做到不影响网友的直观感觉。

A、②和③之间 B、③和④之间 C、④和⑤之间 D、⑤和⑥之间

47、关于“负面评价”，下列说法与原文不符的是：

A、该社交网站中的负面评价比正面评价少 B、负面评价往往带有个人的主观情绪色彩
C、人们通常并不介意负面评价是否与自己的观点相符 D、网友的修正意见会最终抵消机器所给出的负面评价

48、下列说法与原文不符的是：

A、正面评价往往会起到广告宣传的作用 B、事实类新闻更不易受羊群效应的影响
C、我们很难通过单独研究某件个案获得科学的结论 D、阿拉尔博士在社交网站的实验属于自然科学研究

49、这段文字意在说明：

A、网络消费者的从众心理 B、羊群效应在网络中的表现
C、大数据在心理研究中的应用 D、社交网络中网友评价的误区

50、实验者观察到下列四个现象，哪一现象能在最大程度上体现阿拉尔博士在文中提到的“修正”过程？

A、关于总统大选新闻的评论引发口水大战 B、某知名品牌的新产品发布会的评价反响寥寥
C、关于股市走向分析的评价得到网友一致认可 D、网友对某场球赛胜负预测的评论呈“一边倒”态势

51、在网络不发达、民意表达不畅通的年代，群众向职能部门举报“问题官员”，主要是在封闭渠道内单向传递，一来速度比较慢，二来也不会给职能部门带来多大的压力。在当今网络时代，群众举报往往以在网络上公开曝光的形式出现，这不但加快了举报的速度，而且在网络上形成了“围观”效果，使职能部门面临着巨大的舆论压力，同时也促使他们在依法办案的前提下加快查处的速度。

这段文字意在说明：

A、政府应保障正规举报渠道的畅通 B、网络对群众举报产生影响
C、职能部门应重视网络上的群众举报 D、舆论给职能部门造成压力

52、过去，我们较为关注城乡之间的差距和分化，提出了城乡统筹发展的理念。随着中国城镇化的推进，我国一些城市内部出现了较为严重的失业、贫困等现象，一种以城市内部不同居民之间的差异化为突出特征的新的“二元结构”正在逐步形成。这一现象特别值得关注，一些拉美国家就是因为没有有效地解决好产业和就业问题，出现了城

市“二元结构”，导致了大量贫民窟的出现，最终落入了“中等收入陷阱”。

这段文字意在强调：

- A、在我国，城乡差异化问题正在转变为城市内部的“二元结构”问题
- B、统筹发展理念在解决城市内部“二元结构”问题上同样适用
- C、应重视城市“二元结构”问题的出现，防止其进一步恶化
- D、应借鉴国外经验解决城市“二元结构”问题

53、唐玄宗时期，中央和地方各种胥吏超过 35 万，而有品级的内外职事官只有 1.8 万。与官相比，胥吏无品无权，在官的指令下承办衙门中的具体事务；与民相比，胥吏是官府的家家人，是所谓“官民枢纽”。地方州府的具体事务（如赋税、劳役、赈灾等），主要由胥吏完成，这也使得唐代尤其是唐代后期胥吏成为地方治理中一股不可忽视的力量。从行政运作的角度看，胥吏的存在是合理的，必不可少的，但他们却没有政治前途。由于仕途升迁无望，他们中的相当一部分人就千方百计利用职务之便营私敛财、中饱私囊，甚至横行于乡里、不法于州府，成为危害百姓的毒瘤。

关于唐代胥吏，下列说法与原文相符的是：

- A、业绩突出者可获得品级
- B、在唐玄宗时期达到最高峰
- C、是政府中各项杂务的主要执行者
- D、政府对其职权范围没有明确的界定

54、一个研究团队对世界上 133 个国家和地区的环境子系统和经济子系统进行了分析，结果显示二者的耦合度普遍很高，其中有 76 个国家的耦合度超过 0.9。这说明环境与经济相互影响、相互依存，具有同向协同效应。在中国，从“卖石头”到“卖风景”的故事正在多起来，不断触发人们对“青山”与“金山”关系的思考。

这段文字意在强调：

- A、转变经济发展模式十分重要
- B、不能走“先污染后治理”的道路
- C、经济和环境的协同效应具有普遍性
- D、环境保护往往可以带来经济效益

55、①诗比别类文学较纯粹，较精微

②不爱好诗而爱好小说、戏剧的人们大半在小说和戏剧中只能见到最粗浅的一部分，就是故事

③一个人不喜欢诗，何以文学趣味就低下呢

④如果对于诗没有兴趣，对于小说、戏剧、散文等等的佳妙也终不免有些隔膜

⑤因为一切纯文学都要有诗的特质

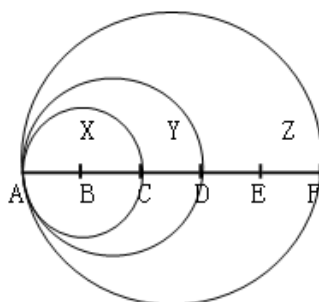
⑥一部好小说或是一部好戏都要当作一首诗看

将以上 6 个句子重新排列，语序正确的是：

- A、③⑤④②⑥①
- B、①④③⑤②⑥
- C、①④②③⑤⑥
- D、③⑤⑥①④②

三、数量关系。在这部分试题中，每道题呈现一段表述数字关系的文字，要求你迅速、准确地计算出答案。

56、下图为以 AC、AD 和 AF 为直径画成的三个圆形，已知 AB、BC、CD、DE 和 EF 之间的距离彼此相等，问小圆 X、弯月 Y 以及弯月 Z 三部分的面积之比：



- A、4：5：16
- B、4：5：14
- C、4：7：12
- D、4：3：10

57、甲乙两队举行智力抢答比赛，两队平均得分为 92 分，其中甲队平均得分为 88 分，乙队平均得分为 94 分，则甲乙两队人数之和可能是：

A、20 B、21 C、23 D、25

58、甲车从 A 地，乙车从 B 地同时出发匀速相向行驶，第一次相遇距离 A 地 100 千米。两车继续前进到达对方起点后立即以原速度返回，在距离 A 地 80 千米的位置第二次相遇。则 AB 两地相距多少千米？

A、170 B、180 C、190 D、200、

59、有一根 9 节的竹子，其任意节与相邻节的长度成等差数列，上面 4 节的长度共 3 尺，下面 3 节的长度共 4 尺，则从上到下第 6 节的长度为多少尺？

A、 $\frac{66}{65}$ B、 $\frac{65}{66}$ C、 $\frac{33}{37}$ D、 $\frac{37}{33}$

60、电子计时器一天显示的时间是从 00：00 到 23：59，每一时刻都由四个数字组成，问一天中显示四个数字之和为 24 的时刻一共会出现多少次？

A、24 B、12 C、1 D、0

61、有一个六位数，既能被 13 整除又能被 7 整除。已知前三位上的数字是等差数列，三个数字之和为 21。个位数与十位数所组成的数字能被 11 整除。个位数与十万位数上的数字之和为 13，与千位数上的数字之和为 17，请问百位数上的数字为：

A、1 B、2 C、3 D、4

62、从一个棱长为 20 厘米的正方体零件某一表面中央向内部挖出一个棱长为 5 厘米的正方体。该零件的表面积增加的百分比在以下哪个范围之内？

A、超过 5% B、4%到 5%之间 C、2.5%到 4%之间 D、不到 2.5%

63、某公司销售 A、B 两种商品，其中 A 为新产品，进货价是 B 商品的 2 倍。两类商品的定价都是进货价的 125%，但是 B 商品在实际销售中按定价的七折出售。问 A 商品的销量占总销量的比重至少应为多少，才能保证销售收入不低于进货成本？

A、 $\frac{1}{2}$ B、 $\frac{1}{3}$ C、 $\frac{1}{4}$ D、 $\frac{1}{5}$

64、有一块圆形花圃，花匠计划在圆形花圃中用花盆摆设图案进行装饰。现在花匠在圆形上设七个等分点，构思以这些点中的三个顶点连成一个等腰三角形，并在三角形内摆放花盆。问共有多少种不同的构图方案？

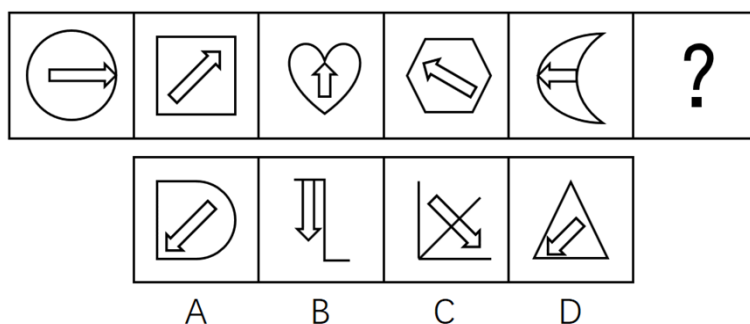
A、21 B、28 C、35 D、42

65、某车间有甲、乙、丙三人，其工作效率比为 3：4：5。甲单独加工 A 类产品需要 50 小时，丙单独加工 B 类产品需要 18 小时。现由甲负责加工 B 类产品，乙负责加工 A 类产品，丙先帮助甲加工 B 类产品若干天后转去帮助乙加工 A 类产品。如要求加工 A、B 两类产品，且同时开工、同时完工，则丙帮甲工作的时间与丙帮乙工作的时间之比为：

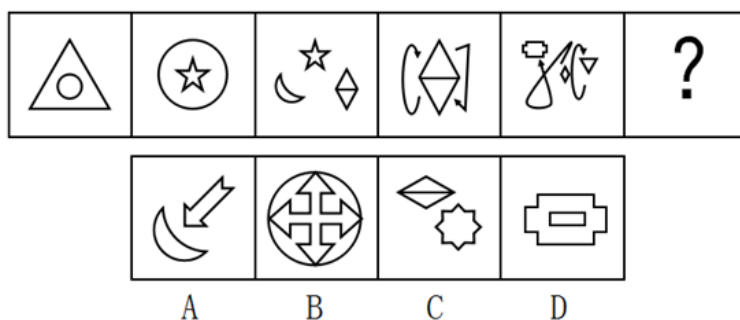
A、7：3 B、3：7 C、5：3 D、3：5

四、判断推理。本部分包括图形推理、定义判断、类比推理与逻辑判断四种类型的试题，在四个选项中选出一个最恰当的答案。

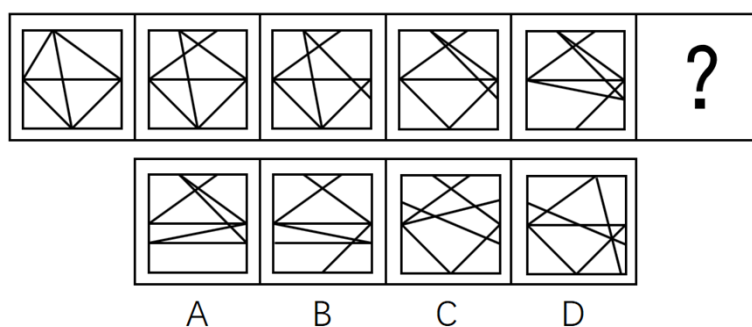
66、从所给的四个选项中选择最合适的一个填入问号处，使之呈现一定的规律：




67、从所给的四个选项中选择最合适的一个填入问号处，使之呈现一定的规律：



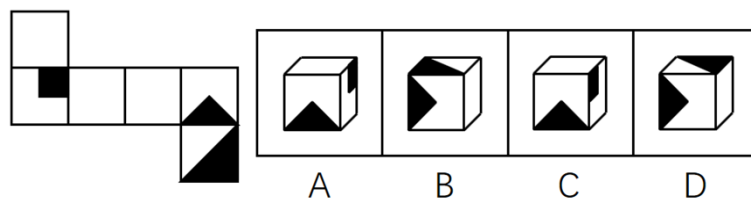
68、从所给的四个选项中选择最合适的一个填入问号处，使之呈现一定的规律：



69、从所给的四个选项中选择最合适的一个填入问号处，使之呈现一定的规律：



70、左边给定的是纸盒的外表面，下列能由它折叠而成的是：



71、供给侧改革就是从提高供给质量出发，用改革的办法推进结构调整，矫正要素配置扭曲，扩大有效供给，提高供给结构对需求变化的适应性和灵活性，提高全要素（劳动，土地，资本，创新）生存率，更好地满足广大人民群众的需求，促进经济社会持续健康发展。

根据上述定义，下列不符合供给侧改革要求的是：

- A、减免企业税负，提高企业盈利
- B、增大政府投资，建设各种基础设施
- C、推进产学研相结合，为企业提供技术支撑
- D、改革户籍制，促进劳动力跨地区，跨部门流动

72、感情管理是指管理者通过自身的形象、行为、情感来调动职工积极性的一种管理办法。

根据以上定义，下列不属于感情管理的是：

- A、车间主任从来回避脏活累活，总是带头干
- B、尽管李经理喜欢抽烟，但他从来不在员工面前抽
- C、每逢节假日，公司领导都会给员工发放节日慰问品
- D、部门经理与员工一起聊天、吃饭让大家畅所欲言

73、正强化又称“阳性强化”，是指个体做出某种行为或反映随后或同时得到某种奖励，从而使行为或反映强度、概率或速度增加的过程，也可以说，正强化是通过增加一个喜欢的刺激以提高事件发生的概率。

根据以上定义，下列属于正强化的是

- A、小明觉得电视上宇航员叔叔很酷，下决心好好学习，长大了也要上太空
- B、老师激励学生好好复习考试，承诺数学 95 分以上的同学可以不做假期作业
- C、某中学规定上课玩手机的同学，手机一律没收，规定执行后，几乎没人敢玩手机了
- D、父亲为了鼓励儿子努力学习，承诺儿子如果他能考进全班前三名，就带他出国旅游

74、“城乡污染转移”是指在经济发展过程中，组织或个人将造成环境污染的设备、工艺、技术、产品以及其他有形或无形的污染物质，由城市转移至农村的行为，“城乡污染转移”已经成为农村环境形势日益严峻的主要原因之一。

根据以上定义，下列不属于“城乡污染转移”的是：

- A、某市水泥厂每年有 10 万吨未经处理的工业废水流经附近乡村的河流
- B、某镇的耕地接受城区搬迁过来的工厂产生的重金属残渣
- C、为打造绿色文明城市形象，某市将重污染的钢铁厂迁至附近乡镇
- D、某市为保证城区用水修建水库，致使下游许多村庄农田灌溉用水不足

75 C2C 是指消费者（consumer）与消费者（consumer）之间以信息网络技术为手段，以商品交换为中心的商务活动。

根据上述定义，下列活动属于 C2C 的是：

- A、某小区推出“旧物置换”服务，业主可将家中不用的物品放到门卫室，与其他业主置换
- B、大学生小李以 2000 元的价格在网上拍卖了自己的旧笔记本电脑，没想到买家居然是自己的同班同学小方
- C、每到毕业季，学校广场上的跳蚤市场都异常火爆，“甩卖”的学长学姐和“淘宝”的学弟学妹都各取所需，满载而归
- D、小梅逛街时在某品牌服装专卖店相中了一款风衣，便记下了衣服吊牌上的信息，回来后从该品牌的官方网站上买了一件，省了不少钱

76、正向思维，是指大脑在处理问题时沿着习惯性，常规性的方向展开思维，并在一定范围内按照有一定顺序的、可预测的、程式化的方向进行思考。

根据上述定义，下列没有运用到正向思维的是：

- A、王侯将相宁有种乎 B、种瓜得瓜，种豆得豆 C、朝霞不出门，晚霞行千里 D、冬天来了，春天还会远吗

77、反串是指中国传统戏曲中演员演出与自身本工行当不同的戏的情形。

根据上述定义，下列属于反串的是：

- A、“魔音王子”石头同时用男声和女声表演对唱歌曲《纤夫的爱》
B、《星光大道》中李玉刚男扮女装演唱《新贵妃醉酒》
C、成龙在电影《双龙会》中同时分演玩命和马友两个角色
D、旦行演员梅兰芳在《辕门射戟》一剧中演生角吕布

78、具有上位心理的人因处在比别人高的层次而有某种优势感，具有下位心理的人因处在比别人低的层次而有某种自卑感，这种情况被称为位差效应。

根据上述定义，下列情形属于位差效应的是：

- A、小明考试作弊被发现，在老师面前羞愧得抬不起头
B、小赵每次向领导汇报工作时都提心吊胆，以致言不由衷
C、某公司老总喜欢“听喜不听忧”，公司里“报喜”的人多被提拔
D、连长命令士兵在大雨中跑十圈，不跑完不准吃饭

79、“休眠效果”是指由信息源可信性带来的说服效果并不是一成不变的。学者霍夫兰等人发现，随着时间的推移，高可信度信源的说服效果会出现衰减，而低可信度信源的说服效果则有上升的趋势。低可信度信源发出的可靠信息，由于信源可信性的负影响，其内容本身的说服力不能得以马上发挥，处于一种“睡眠”状态，经过一段时间，可信性的负影响减弱或消失以后，其效果才能充分表现出来。

下列最符合上述研究结论的是：

- A、虚假的消息即使通过权威报刊发布也不能获得很强的说服力 B、不实的报道经过多重传播后也会有不少人相信
C、真实的消息不论其发布渠道是哪种，最终都会被信任 D、权威报刊发布的消息具有更好的可靠性

80、牵连犯是指以实施某一犯罪为目的，但其方法行为或结果行为又触犯其他罪名的情况。

根据上述定义，下列不属于牵连犯的是：

- A、甲趁小王不在，潜入他家行窃，窃得财物后遇小王返回，甲遂杀小王灭口
B、乙为骗取保险金，给妻子投了巨额人身保险，后将妻子杀害
C、丙私刻一枚公章，用盖了公章的授权书骗取小张的信任，签订合同，共骗得3万元
D、丁为了谋害小李，通过非法渠道购买了枪支弹药，随后依计划杀死了小李

81、猪：猪肝

- A、鱼：鱼鳔 B、马：马蹄 C、虫：虫草 D、虾：虾须

82、处之泰然：镇定

- A、大义凛然：壮烈 B、虚怀若谷：谦虚 C、杳如黄鹤：消失 D、似水流年：时间

83、梅：孤傲：品质

A、火：热情：性格 B、月饼：团圆：食品 C、鸽子：和平：象征 D、红灯：禁行：信息

84、水对于（ ）相当于（ ）对于光合作用

A、生命 二氧化碳 B、水蒸气 阳光 C、空气 氧气 D、灌溉 土壤

85、（ ） 对于 针灸 相当于 理财 对于 （ ）

A、中药 消费 B、中医 银行 C、治疗 储蓄 D、推拿 利息

86、（ ） 对于 规划 对于 鸿沟 对于 （ ）

A、城市 协调 B、计划 河流 C、成功 隔阂 D、蓝图 界限

87、（ ） 对于 宋朝 相对于 （ ） 对于 汉朝

A、岳飞 陈胜 B、金人 匈奴人 C、词 《汉书》 D、印刷术 万里长城

88、尊敬：爱护

A、照顾：体贴 B、奉献：关心 C、照料：搭理 D、赡养：培养

89、刻舟求剑：拔苗助长

A、望梅止渴：守株待兔 B、闻鸡起舞：缘木求鱼 C、宾至如归：闭门造车 D、掩耳盗铃：南辕北辙

90、风趣：英俊：善良

A、电脑：手机：冰箱 B、雾霾：沙尘：阳光 C、美观：便宜：耐用 D、平坦：宽广：高大

91、2015年5月4日，财政部、国家税务总局发文，烟草消费税由5%提高至11%，并加征从量税，有专家认为，“税价联动”会使香烟价格随着税率的提高而提高，购买香烟的人会因此减少，从控烟角度说，这无疑是件好事。

以下哪项如果为真，最能削弱上述结论：

A、烟草产量不会受到售价的影响 B、收入水平的提高使人们对香烟的价格不太敏感
C、世界上大多数国家的烟草消费税税率低于11% D、一些发达国家出现过提高烟草消费税后私烟泛滥的现象

92、研究人员对中风幸存者进行分组实验，他们让一组中风幸存者在研究人员的监督下进行为期3个月的户外健步走的锻炼。另一组不进行运动，而是接受治疗性按摩，实验结束后，研究人员发现在持续6分钟的测试中，步行组的人比按摩组的人走的更远，能比后者多走17.6%，研究者认为，身体适度受损的中风幸存者仅通过简单廉价的运动就能获得更有效的效果。

下列哪一项如果为真，最能削弱上述论证：

A、步行组的平均年龄为72岁，按摩组的平均年龄为65岁
B、与按摩组相比，体质的改善使得步行组中风幸存者生活质量更高
C、步行组中风幸存者还服用了相关治疗药物，按摩组停服了相关药物
D、研究证明，对身体严重受损的中风幸存者来说，接受按摩的效果更佳

93、某景区举办萤火虫展，每天都会吸引大批游客来观赏，数日后，该景区萤火虫的数量急剧下降。景区负责人认为是游客的不文明行为破坏了萤火虫的生存环境。

以下哪项如果为真，能够支持景区负责人的观点：

A、萤火虫对生态环境的要求很高 B、游客不文明的行为在其他景区也存在
C、在规范游客行为后萤火虫灭亡数量急剧下降 D、和萤火虫同类的昆虫数量受游客行为影响不大

(二) 某次学术会议，主席台（只有一排）需要安排赵、钱、孙、李、周、吴、郑和王 8 位嘉宾就坐。按照自左至右的顺序，座位安排有下列要求：

- (1) 赵或者钱安排在最左边；
- (2) 郑不要安排在最右边；
- (3) 孙安排在李的左边，他们中间隔一位嘉宾；
- (4) 周安排在吴的左边，他们中间隔两位嘉宾；
- (5) 王安排在李和吴的右边。

94、以下哪项是可能的？

- A、赵第一，郑第八 B、钱第五，王第八 C、李第三，吴第七 D、周第二，孙第三

95、孙的座位不可能是以下哪项？

- A、第三 B、第四 C、第五 D、第六

96、以下哪项一定是正确的？

- A、吴不可能排在前四 B、郑不可能排在前二 C、李不可能排在前四 D、周不可能排在前二

(三) 某次学术会议，主席台（只有一排）需要安排赵、钱、孙、李、周、吴、郑和王 8 位嘉宾就座。按照自左至右的顺序，座位安排有下列要求：

- (1) 赵或者钱安排在最左边的第一位
- (2) 郑不要安排在最右边
- (3) 孙安排在李的左边，他们中间隔一位嘉宾
- (4) 周安排在吴的左边，他们中间隔两位嘉宾
- (5) 王安排在李和吴的右边

97、如果郑安排在李的左边，并且李尽可能往左边安排，则李的位置是以下哪项？

- A、第六 B、第五 C、第四 D、第三

98、近日，某品牌楼盘开展优惠推广活动，销售情况明显变好，业内人士认为，该品牌楼盘的销量增长，得益于这一优惠推广活动。

以下哪项如果为真，最能削弱上述论证？

- A、这一时期其他楼盘的销量均有不同幅度的增长
- B、该品牌楼盘开展的这一优惠活动并不比其他品牌的力度大
- C、购买该品牌楼盘的人，很少在乎这一优惠活动
- D、没有购买该品牌楼盘的人，也没有关注这一优惠活动

99、有报道称，已婚者一般比独身者寿命长，所以独身的压力一定对健康有损耗。

以下哪项如果为真，最能支持上述论证？

- A、独身者寿命短于同龄已婚者 B、独身者会比已婚者的压力更大
- C、已婚者寿命不尽相同 D、人的寿命受多种因素影响

100、业余的生态生物学家具有纯朴的科学力量：细致地观察了自然世界，他们的观察成果可以为专业生态生物学家所利用。例如东英格兰诺福克郡的马沙姆家族记录家族土地上的动植物生长周期长达 211 年之久。

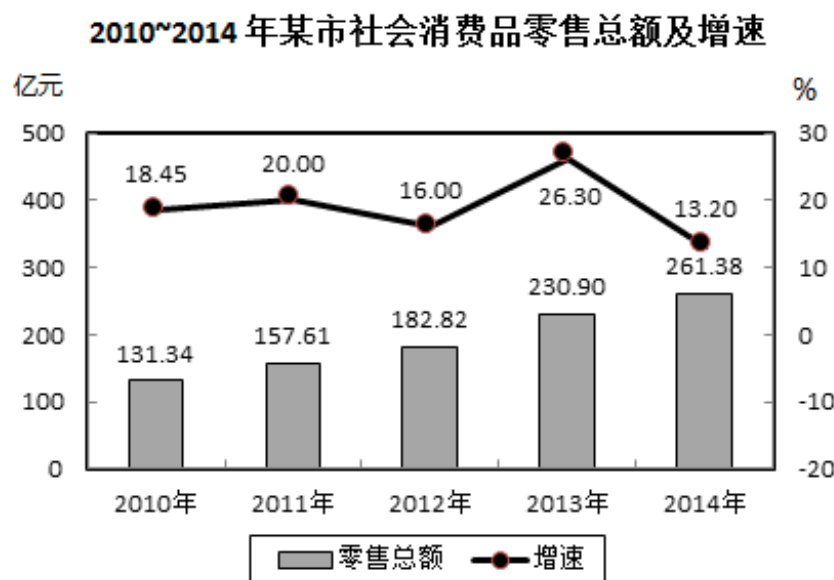
以下哪项如果为真，能够削弱上述观点？

- A、业余生态生物学家记录方法带来的偏差可通过专业的统计方法消除
- B、业余生态生物学家往往关注“叶子何时变黄”这类比较主观的问题

- C、观察最重要的是如何细致并系统地进行
- D、自然世界的丰富与奥妙需要更多的眼睛去发现

五、资料分析。所给出的图、表、文字或综合性资料均有若干个问题要你回答。你应根据资料提供的信息进行分析、比较、计算和判断处理。

（四） 2014 年，某市全年实现社会消费品零售总额 261.38 亿元，比上年增长 13.2%。按经营地统计，城镇消费品零售总额为 178.6 亿元，比上年增长 13.5%，乡村消费品零售总额 82.78 亿元，比上年增长 12.5%。按消费形态统计，批发业增长 17.6%，零售业增长 22.1%。



全年消费价格总水平比上年增长 1.3%。其中家庭设备用品及维修服务类累计下降 1.1%；食品类、烟酒类、衣着类、医疗保健及个人用品类、交通与通信类、娱乐教育文化用品及服务类、居住类累计分别上升 0.6%、0.6%、4.4%、1.5%、1.5%、1.8%、1.5%。



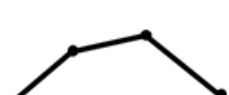
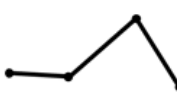
101、2013 年，该市城镇消费品零售总额约为多少亿元？

- A、120.5 B、157.4 C、178.6 D、206.5

102、与 2009 年相比，2014 年该市社会消费品零售总额增量最接近多少亿元？

- A、130 B、140 C、150 D、160

103、能准确反映 2011—2014 年间该市社会消费品零售总额同比增量的变化趋势的折线图是：

- A、 B、 C、 D、

104、把不同的消费类型按该市 2014 年消费价格水平上涨幅度从高到低排列，以下正确的是：

- A、居住类、衣着类、食品类、家庭设备用品及维修服务类
- B、衣着类、居住类、家庭设备用品及维修服务类、食品类
- C、居住类、衣着类、家庭设备用品及维修服务类、食品类
- D、衣着类、居住类、食品类、家庭设备用品及维修服务类

105、关于该市社会消费品零售状况，能够从上述资料推出的是：

- A、2014 年批发业销售额占社会消费品零售总额比重低于上年水平
- B、2010 到 2014 年间，社会消费品零售总额增速慢于 20% 的年份有 4 个

C、2013 到 2014 年社会消费品零售总额之和高于前 3 年之和

D、2014 年烟酒类消费品价格增速快于居民消费总水平增速

（五） 2014 年，上海市全年实现金融业增加值 3268.43 亿元，比上年增长 14%。

全年新增各类金融单位 96 家。其中，货币金融服务单位 37 家；资本市场服务单位 40 家。至年末，全市各类金融单位达到 1336 家。其中，货币金融服务单位 601 家；资本市场服务单位 292 家；保险业单位 363 家。

至年末，全市中外资金融机构本外币各项存款余额 73882.45 亿元，比年初增加 4612.96 亿元；贷款余额 47915.81 亿元，比年初增加 3424.23 亿元。

全年通过上海证券市场股票筹资 3962.59 亿元，比上年增长 57.5%；发行公司债 2955.2 亿元，比上年下降 5.6%。至年末，上海证券市场上市证券 3758 只，比上年增加 972 只，其中股票 1039 只，增加 42 只。

全年金融市场（包括外汇市场）交易总额达到 786.66 万亿元，比上年增长 23.2%。上海证券交易所各类有价证券总成交金额 128.15 万亿元，增长 48.1%，其中，股票成交金额 37.72 万亿元，增长 63.8%。上海期货交易所总成交金额 126.47 万亿元，增长 4.7%。中国金融期货交易所总成交金额 164.02 万亿元，增长 16.3%。银行间市场总成交金额 361.51 万亿元，增长 27.0%。上海黄金交易所总成交金额 6.51 万亿元，增长 24.7%。

106、2014 年，上海市全年新增货币金融服务单位在当年新增的各类金融单位中占（ ）。

A、两成多 B、三成多 C、四成多 D、五成多

107、2014 年间，上海市中外资金融机构本外币存贷款差（ ）。

A、增加了 1 千多亿元 B、增加了 2 万多亿元 C、减少了 1 千多亿元 D、减少了 2 万多亿元

108、2014 年上海市股票成交金额比 2013 年增加约（ ）万亿元。

A、10 B、12 C、15 D、18

109、以下金融市场中，2014 年成交金额同比增量最高的是（ ）。

A、上海证券交易所 B、中国金融期货交易所 C、上海黄金交易所 D、上海期货交易所

110、能够从上述资料中推出的是（ ）。

A、2013 年全年，上海市实现金融业增加值 3000 多亿元

B、2013 年上海市证券交易所各类有价证券总成交额中，股票成交金额占比高于 2014 年

C、2014 年末，上海市资本市场服务单位数量不到货币金融服务单位数量的一半

D、2014 年间，上海市银行间市场月均成交金额超过 31 万亿元

（六） 2012 年全年货物进出口总额 38668 亿美元，比上年增长 6.2%。其中，出口 20489 亿美元，增长 7.9%；进口 18178 亿美元，增长 4.3%。

2012 年主要商品进口数量、金额及其增长速度

商品名称	数量（万吨）	比上年增长%	金额（亿美元）	比上年增长%
谷物及谷物粉	1398	156.7	48	134.2
大豆	5838	11.2	350	17.6
食用植物油	845	28.7	97	25.6
铁矿砂及其精矿	74355	8.4	956	-15.0
氧化铝	502	165.1	18	133.3
煤（包括褐煤）	28851	29.8	287	20.2
原油	27102	6.8	2207	12.1
成品油	3982	-1.9	330	0.6
初级形状的塑料	2370	2.9	462	-2.2
纸浆	1646	14.0	110	-7.5
钢材	1366	-12.3	178	-17.5
未锻造的铜及铜材	465	14.1	386	4.9

2012 年我国对主要国家和地区货物进出口额及其增长速度

单位：亿美元

国家和地区	出口额	比上年增长 （%）	进口额	比上年增长 （%）
美国	3518	8.4	1329	8.8
欧盟	3340	-6.2	2121	0.4
中国香港	3235	20.7	180	15.9
东盟	2043	20.1	1958	1.5
日本	1516	2.3	1778	-8.6
韩国	877	5.7	1686	3.7
印度	477	-5.7	188	-19.6
俄罗斯	441	13.2	441	9.2
中国台湾	368	4.8	1322	5.8

111、表中 2012 年进口数量最高的商品，其当年进口额占全国进口总额的比重为（ ）。

- A、2% B、5% C、8% D、12%

112、2012 年我国的进口数量和金额都比去年增长的有（ ）种。

- A、5 B、6 C、7 D、8

113、2012 年间我国的贸易顺逆差关系与上年不同的国家或者地区的是（ ）。

- A、东盟 B、日本 C、美国 D、欧盟

114、表中 2012 年对华进出口贸易额最高的国家或者地区，其贸易额是表中 2012 年对华贸易额最低的国家或地区的（ ）倍。

- A、5.5 B、7.3 C、8.2 D、12.8

115、能够从上述资料推出的是（ ）

- A、2012 年我国全年货物进出口顺差额低于上年水平 B、2011 年我国煤（包括褐煤）进口量高于原油进口量
C、2012 年日本对华货物贸易额高于上年水平 D、2012 年我国进口钢材的平均每吨价格超过 1000 美元

（七） 某年度某机构关于中国宠物主人消费行为及倾向调查回收的 10680 份有效问卷显示：女性养宠者占 58.1%，宠物主人为“80—90 后”占 79.5%。将宠物定义为“孩子”“亲人”“朋友”和“宠物”的分别为 54.5%、33.4%、7.7%和 3.2%。8.9%的人月开销在 100 元以内，49.4%的人开销在 101 至 500 元之间，而花费在 501 至 1000 元之间的达到 25%，月消费 1000 元以上的人群达到 16.4%。在购买物品方面，购买宠物食物的人数达到有效问卷总人数的

94.5%，其次为药品、保健品，以及日用品、玩具、服饰五项，均接近60%。宠物主人外出时，四成“委托亲朋照顾”，三成“一起带走”，委托寄养还不到20%。在训练方面，99%的宠物处于自主训练或放任生长的状态，但近一半人希望爱宠得到专业训练。在购买渠道方面，74%的被访问者选择综合电商平台，选择线下综合商店或专卖店者为53.3%，选择宠物类垂直电商平台的占33.6%，但其复购率更高。值得注意的是，目前宠物主人对购物类O2O服务有选择意向的不足4.0%。

116、问卷中，男性养宠者占养宠人群的比重为：

- A、58.1% B、51.9% C、41.9% D、40.9%

117、问卷中对宠物没有花费的人数约为：

- A、38 B、36 C、34 D、32

118、问卷中，选择综合电商平台和选择购物类O2O服务的消费者人数之比为：

- A、小于2.2：1 B、大于2.2：1 C、小于18.5：1 D、大于18.5：1

119、问卷中，在药品、保健品，以及日用品、玩具、服饰方面有花销的总人次最可能有：

- A、6408 B、9612 C、16020 D、32040

120、根据问卷，下列判断错误的是：

- A、只有1%的宠物接受过训练，专业训练消费潜力巨大 B、绝大部分宠物主人对宠物的定义超越了宠物本身
C、月均消费在101—1000元的是宠物消费的主流 D、购物类O2O服务的市场还有待培育