

2020年下半年中小学教师资格考试

历史学科知识与教学能力试题(初级中学)(精选)

编者注:本试题包括单项选择题25道、简答题3道、材料分析题3道、教学设计题1道。以下为精选试题部分。因收录不全,有部分题目缺失,以“缺”来标示这类题目。

注意事项:

- 1.考试时间为120分钟,满分为150分。
- 2.请按规定在答题卡上填涂、作答,在试卷上作答无效,不予评分。

一、单项选择题(本大题共25小题,每小题2分,共50分)

- 1.在我国新石器时期,人们使用的工具是什么? ()
A.打制石器
B.磨制石器
C.青铜器
D.铁器
- 2.《史记》记载,秦始皇曰:“天下共苦战斗不休,以有侯王。赖宗庙,天下初定,又复立国,是树兵也,而求其宁息,岂不难哉!”为了“求其宁息”,秦始皇采取了哪项措施? ()
A.修建长城
B.统一度量衡
C.焚书坑儒
D.推行郡县制
- 3.北魏孝文帝改革当中采取的关于税收制度的改革措施是()。
A.两税法
B.租调制
C.户调制度
D.摊丁入亩
- 4.根据某史料记载,某水利工程“北通涿郡之渔商,南运江都之转输,其为利也博哉”。这句话描述的水利工程是()。
A.灵渠
B.郑国渠
C.都江堰
D.隋朝大运河
- 5.日本的奈良城中有一条朱雀大街,此外还有东市、西市两个商业区,它仿照的是中国古代的哪个城市? ()
A.汉代的洛阳城
B.唐代的长安城
C.宋朝的东京城
D.明朝的北京城

6.某史料记载：“上既削平诸国（女真各部），每三百人设一牛录额真，五牛录设一甲喇额真，五甲喇设一固山额真。”“上”指的是（ ）。

- A.成吉思汗
- B.努尔哈赤
- C.忽必烈
- D.皇太极

7.从明朝万历时期开始，北京的戏曲形成了“四方歌者皆宗吴门”的现象。“吴门”指的是（ ）。

- A.乐府
- B.京剧
- C.昆曲
- D.评弹

8.张之洞认为：“棉布本为中国自有之利，自有洋布洋纱，反对外洋独擅之利。耕织交病，民生日蹙，再过十年，何堪设想，今既不能禁其不来，惟有购备机器，纺花织布，自扩其工商之利，以保利权。”为此他建立了（ ）。

- A.湖北织布局
- B.上海机器织布局
- C.机器织呢局
- D.华盛纺织总厂

9.下列条约当中，和香港有关的是（ ）。

- ①《南京条约》
- ②《北京条约》
- ③《天津条约》
- ④《马关条约》
- A.①②
- B.①③
- C.②③
- D.②④

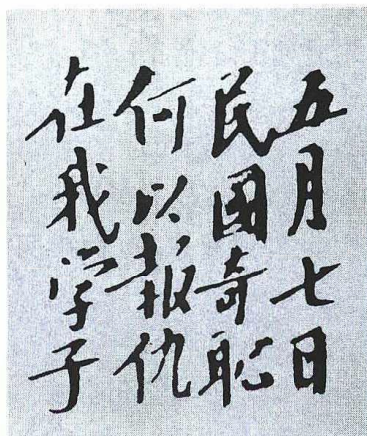
10.近代中国的一篇文章在开篇提道：“长梦千年何日醒，睡乡谁造警钟鸣。”这篇文章的作者是（ ）。

- A.章太炎
- B.陈天华
- C.邹容
- D.黄兴

11.孙中山曾说：“万户涕泪，一人冠冕，其心尚有共和二字存耶？即忘共和，既称民贼，戮此民贼，以拯吾民。”他所描述的是哪一历史事件？（ ）

- A.武昌起义
- B.二次革命
- C.护国战争
- D.护法战争

12.下图是1915年毛泽东手书的一句话，其中有“五月七日，民国奇耻”一句，这句话反映的历史事件是（ ）。



- A.沙俄侵占我国北方大量领土
- B.北洋舰队全军覆没

- C.袁世凯政府签订“二十一条” D.五四运动时期北洋军阀政府逮捕学生

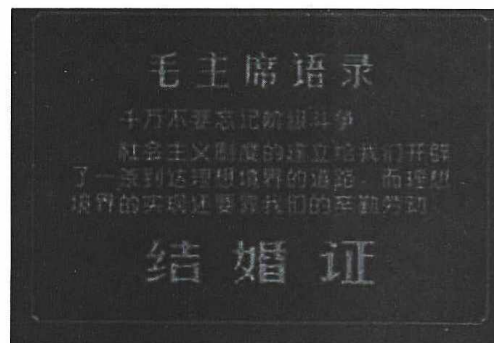
13.下列选项中属于我国第一部无声电影的是()。



14.与1952年相比,1957年中国的钢产量增长了296%,煤炭产量增长了96%,该现象和下列哪一历史事件有关?()

- A.全国土地改革的完成 B.“大跃进”运动的开展
C.抗美援朝战争的胜利 D.第一个五年计划的实施

15.下图是一对夫妻结婚时领取的结婚证。根据图片信息判断这对夫妻可能是什么时候结婚的?()



- A.解放战争时期 B.新中国建立初期
C.“文化大革命”时期 D.改革开放时期

16.《梨俱吠陀》记载,当诸神分割原人普鲁沙的时候,普鲁沙的口产生了婆罗门,手臂产生了刹帝利,腿产生了吠舍,脚产生了首陀罗。下列和该记载有关的文明是()。

- A.古印度文明 B.古埃及文明
C.古巴比伦文明 D.古希腊文明

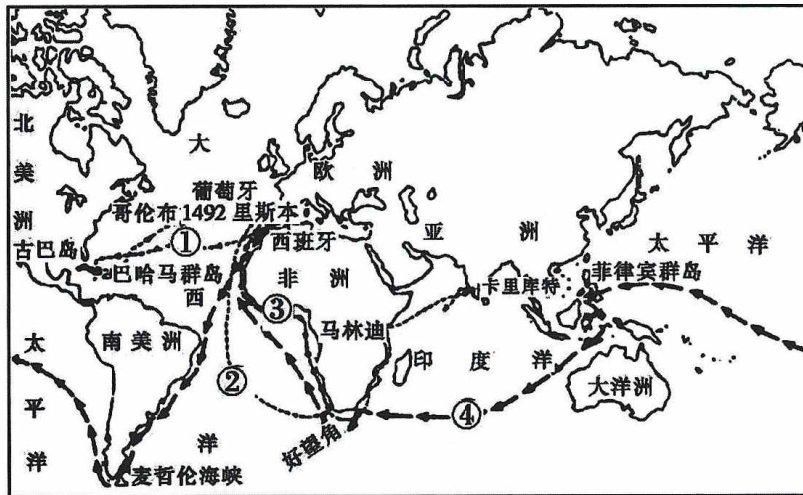
17.唐朝时期,西方有一个地跨亚、欧、非三洲的大帝国,它是哪个国家?()

- A.阿拉伯帝国 B.罗马帝国
C.亚历山大帝国 D.奥斯曼土耳其帝国

18. 中世纪的晚期, 以手工业享誉欧洲的城市是()。

- A. 热那亚 B. 巴黎
C. 威尼斯 D. 佛罗伦萨

19. 下列航线中反映麦哲伦船队的是()。



- A. ① B. ②
C. ③ D. ④

20. 下列思想家属于英国启蒙思想家的有()。

- ① 卢梭 ② 洛克
③ 霍布斯 ④ 斯宾诺莎
A. ①② B. ②③
C. ③④ D. ②④

21. 下图中的人物是美国《独立宣言》的起草者, 他是()。



- A. 华盛顿 B. 杰斐逊
C. 林肯 D. 富兰克林

22. 1943年12月发表的《开罗宣言》称, 三大盟国此次进行战争之目的, 在于制止及惩罚日本的侵略, 决不为自己图利, 亦无拓展领土之意。三大盟国指的是哪三个国家? ()

- A. 中国、美国、英国 B. 中国、苏联、印度
C. 英国、法国、埃及 D. 美国、苏联、法国

23. 下列与《布雷顿森林协定》相关的是哪个组织? ()

- ① 国际货币基金组织 ② 世界贸易组织
③ 国际复兴开发银行 ④ 亚太经合组织
A. ①② B. ①③
C. ②④ D. ③④

24.《史记》当中记录西周诸侯各国历史的是()。

- A.本纪
- B.列传
- C.世家
- D.书

25.运用史料之前要辨别史料,为了考查史料的准确性,可以()。

- ①考查史料的来源
 - ②依据官方的文件
 - ③比较史料的异同
 - ④考究史料的真伪
- A.①②③
 - B.①②④
 - C.①③④
 - D.②③④

二、简答题(本大题共3小题,每小题10分,共30分)

26.简述遵义会议的内容和历史意义。

27.简述历史教学中复习的意义。

28.历史教师在教学中应该如何突出重点?

三、材料分析题(本大题共3小题,每小题16分,共48分)

29.阅读下列材料并回答问题。

材料:

贞观十一年七月一日,……洛水暴涨,漂六百余家。……十三日,诏曰:“暴雨为灾,……诸司供进(进奉财物),悉令减省。凡所力役,量事停废。遭水之家,赐帛有差。”……九月黄河泛滥,……太宗幸白马坡以观之。

——摘自《旧唐书》

问题:

- (1)唐太宗对待灾情的态度是什么?(4分)
- (2)他所做的救灾措施是什么?(6分)
- (3)结合所学知识说出这些救灾措施的意义是什么。(6分)

30—31. 缺

四、教学设计题(本大题共1小题,共22分)

32. 根据下列材料,按要求完成教学设计任务。

材料一:

《义务教育历史课程标准(2011年版)》规定:讲述开国大典,认识新中国成立的意义。

材料二:

课文摘录:

开国大典

1949年10月1日下午3点,毛泽东等国家领导人登上天安门城楼,首都30万军民齐集天安门广场,隆重举行开国典礼。毛泽东向全世界庄严宣告:“中华人民共和国中央人民政府今天成立了!”他按动电钮,中华人民共和国国旗——五星红旗冉冉升起。乐队奏起了《义勇军进行曲》,54门礼炮齐鸣28响。广场上响起暴风雨般的欢呼声,欢庆新中国的诞生。毛泽东宣读了中央人民政府公告,宣布本政府为代表中华人民共和国全国人民的唯一合法政府。

随后,盛大的阅兵式开始。朱德任检阅司令员,聂荣臻任阅兵总指挥。人民海军和陆军部队在《中国人民解放军进行曲》的乐曲声中,以整齐的步伐由东向西通过主席台;人民空军的飞机编队飞过天安门上空,接受检阅。

3小时的阅兵式结束后,举行了盛大的群众游行。天安门广场成为欢乐的海洋,庆祝活动一直持续到晚上9点半。

中华人民共和国的成立,开辟了中国历史的新纪元。中国人民经过一百多年的英勇斗争,终于推翻了帝国主义、封建主义和官僚资本主义的统治;中国真正成为独立自主的国家,占人类总数四分之一的中国人从此站起来了。新中国的成立,壮大了世界和平民主和社会主义的力量。

要求:根据《义务教育历史课程标准(2011年版)》要求和课文内容,设计出相关的教学过程,包括教学环节、教师活动和学生活动,并说明设计意图。