

2022年下半年中小学教师资格考试

历史学科知识与教学能力试题(初级中学)(精选)

编者注：本试题包括单项选择题25道、简答题3道、材料分析题3道、教学设计题1道，以下为精选试题部分。因收录不全，有部分题目缺失，以“缺”来标示这类题目。

注意事项：

1. 考试时间为120分钟，满分为150分。
2. 请按规定在答题卡上填涂、作答，在试卷上作答无效，不予评分。

一、单项选择题(本大题共25小题，每小题2分，共50分)

1.《汉书·地理志》记载：“秦遂并兼四海，以为周制微弱，终为诸侯所丧，故不立尺土之封，分天下为郡县。”材料中的“周制”是指()。

- A. 王位世袭制
- B. 分封制
- C. 礼乐制
- D. 郡县制

2.里耶秦简中记载了迁陵县东成里一户人家的人口情况：“东成户人士五夫，妻大女子沙，子小女子泽若，子小女子伤。”其中，“大”与“小”为课役的身份标志。这一记载反映的历史现象是()。

- A. 建立乡里制度维持治安
- B. 登记户籍以便征发赋役
- C. 实行户籍分类登记制度
- D. 通过察举选任地方官吏

3.《旧唐书·崔融传》记载：“天下诸津，舟航所聚，旁通巴汉，前指闽越，七泽十薮，三江五湖，控引河洛，兼包淮海，弘舸巨舰，千舳万艘，交贸往还，昧旦永日。”材料反映的现象是()。

- A. 物品种类丰富
- B. 江南经济繁荣
- C. 商品贸易发达
- D. 民族交融广泛

4.北宋大臣范镇指出：“今中书主民，枢密院主兵，三司主财，各不相知。故财已匮而枢密院益兵不已，民已困而三司取财不已。”这一论述反映的历史状况是()。

- A. 中央机构权力过于分散
- B. 藩镇割据影响中央集权
- C. 战事不断导致军费匮乏
- D. 据“量出以制入”征税

5.《元史·百官志七》记载：“行中书省……，掌国庶务，统郡县，镇边鄙，与都省互为表里。”材料中的“都省”指的是()。

- A.尚书省
- B.门下省
- C.中书省
- D.内史省

6.明朝政府规定了地方举行“乡饮酒礼”的内容与程序，既宣讲“为臣竭忠，为子尽孝，长幼有序”等内容，也安排“为民读律”。此举目的是()。

- A.总结礼仪制度并编制法典
- B.完善地方官吏的考核标准
- C.鼓励宗族内部的扶贫济困
- D.将礼法结合进行基层教化

7.清朝乾嘉时期，洪吉亮在其著作《治平篇》中写道：“田与屋之数常处其不足，而户与口之数常处其有余”“为农者十倍于前而田不加增，为商贾者十倍于前而货不加增”。该文章论述的是()。

- A.人口问题
- B.边疆问题
- C.中学西渐
- D.闭关自守

8.下表反映了中国近代新式学堂对应的建立时期。表中信息反映的是()。

时期	学堂名称
洋务运动	京师同文馆
甲午中日战争	天津北洋大学堂 上海南洋大学堂
百日维新	京师大学堂

- A.科举制度已经被废除
- B.新式教育取代儒学地位
- C.教育逐渐走向近代化
- D.西方文化成为社会主流

9.1937年7月7日夜，日本驻扎在北京丰台的军队在卢沟桥附近举行军事演习，这表明日本早已在中国驻扎军队。这一情况是根据晚清时期一个不平等条约的规定出现的。该不平等条约是()。

- A.《南京条约》
- B.《北京条约》
- C.《马关条约》
- D.《辛丑条约》

10.20世纪前期，《上海学联告同胞书》中写道：“学生罢课半月，政府不惟不理，且对待日益严厉。乃商界罢市不及一日，而北京被逮之学生释；工界罢工不及五日，而曹、章、陆去。”材料中提到的历史事件是()。

- A.五四运动
- B.京汉铁路工人大罢工
- C.五卅运动
- D.一二·九运动

11.1924年创办的黄埔军校，设置的课程包括“苏联研究”“各国革命史”“帝国主义”“射击教范”“实地测图”“野外勤务”等。据此可知，黄埔军校的特点是()。

- A.强调政治教育与军事训练并重
- B.注重历史课程与地理课程整合

C.注重与工农群众运动紧密联系

D.将军队建设与政权建设相结合

12.在对中国革命新道路的艰苦探索中，毛泽东先后发表《中国的红色政权为什么能够存在》《井冈山的斗争》等文章，创造性地提出符合中国国情的“农村包围城市，武装夺取政权”的革命理论。下列选项中，与这一理论的形成直接相关的史事是()。

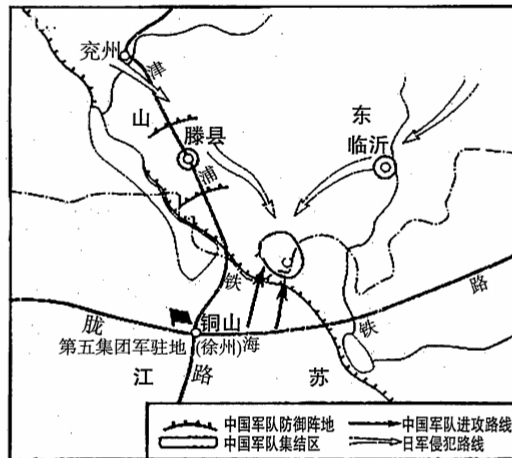
A.北伐的胜利进军

B.井冈山革命根据地的建立

C.红军长征的结束

D.中共七届二中全会的召开

13.下图所示的战役，是抗战以来中国军队在正面战场取得的最大的一场胜仗。下列选项中与这场胜仗相关的会战是()。



A.淞沪会战

B.徐州会战

C.武汉会战

D.长沙会战

14.1957年，中华人民共和国主要工业品产量与旧中国主要工业品产量的最高年份相比，钢产量相当于5倍多，原煤产量相当于2倍多，机床产量相当于4倍多。1957年与1949年相比，原油产量产量相当于12倍，发电量相当于4.5倍，新增工业固定资产214亿元。导致这些变化的主要原因是()。

A.土地改革解放了农村生产力

B.米棉之战和银元之战的胜利

C.第一个五年计划的顺利完成

D.家庭联产承包责任制的推广

15.1978年，我国国有企业所占比重为77.6%，集体企业所占比重为22.4%。2002年年底，国有企业所占比重为40.8%，集体企业所占比重为8.7%，城市个体及其他企业所占比重为50.5%。材料反映的变化是()。

A.市场经济取代计划经济

B.现代企业制度逐步建立

C.所有制形式趋向多样化

D.对外开放带动经济发展


16. 亚历山大东征将古希腊文化逐渐传播到中东地区，形成了一种被称为“希腊化时代”的新文明。下列选项对这一新文明表述准确的是()。

- A. 东西方文明碰撞和交融的产物
- B. 对欧洲古典文化的复制和移植
- C. 伴随亚历山大帝国分裂而消亡
- D. 促进亚欧大陆东西两端的交流

17. 在欧洲殖民者到达美洲前，印第安人已经创造了灿烂的文明。在这灿烂的文明中，知道零的概念，采用二十进制，使用象形文字，修筑金字塔庙宇的是()。

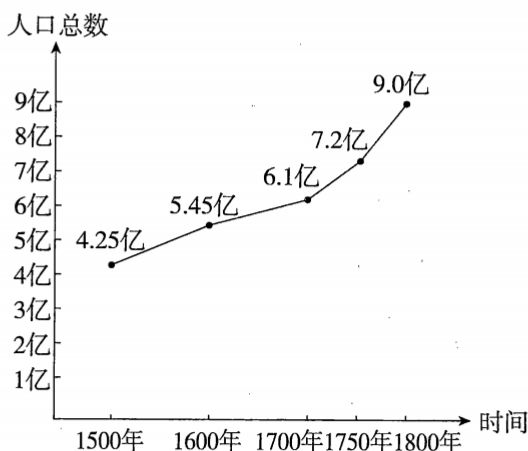
- A. 阿兹特克文明
- B. 印加文明
- C. 克里特文明
- D. 玛雅文明

18. 下图是卢卡斯·克拉纳赫于1521年绘制的有关天主教会兜售赎罪券的漫画。学生解读这组漫画的关键词是()。



- A. 文艺复兴
- B. 宗教改革
- C. 科学革命
- D. 启蒙运动

19. 下图反映了1500—1800年世界人口数量变化情况。造成图中数据变化的原因是()。



- A. 世界范围内动植物大交流
- B. 欧洲人在美洲的殖民扩张
- C. 商业革命促进贸易中心转移
- D. 价格革命推动资本积累

20.1689年,英国议会通过了《叛乱法案》,规定国王必须经过议会同意才能征集和维持军队,而且这支军队只能保持一年。这一法案的作用是()。

- A.确立君主立宪制
- B.限制国王的权力
- C.导致国王统而不治
- D.保障议会的立法权

21.斯塔夫里阿诺斯在《全球通史》中说:“第一次世界大战后,殖民地地区出现了革命的浪潮,虽然这些革命的根源可以追溯到1914年以前的那些年里,但正是战争本身直接促进了革命。”根据上述内容可知,这一革命浪潮带来的影响是()。

- A.直接推动了世界殖民体系的崩溃
- B.促进了殖民地民族民主意识的萌发
- C.改变了以欧洲为中心的格局
- D.削弱了帝国主义和殖民主义的力量

22.1933年,美国总统罗斯福发表讲话,指出“3月3日下午,全国几乎没有一家银行开门营业,几乎全国各州的州长都发布通告暂时全部或局部地关闭了银行”。造成这一现象的原因是()。

- A.经济大危机
- B.国家实行干预政策
- C.推行福利国家制度
- D.广泛建立证券交易所

23.1965年,联合国大会将安理会的非常任理事国从原来的6个增加到10个,经济及社会理事会的理事国从1973年起增加到54个。这些增加的名额,大多数给了亚、非、拉国家。这一调整反映的是()。

- A.社会主义阵营的力量不断壮大
- B.大国主宰联合国的局面被打破
- C.新兴民族国家的影响力逐渐上升
- D.两极格局瓦解导致世界政治多极化

24.李大钊认为:“历史的真实,有二意义:一是说曾经遭遇过的事情的记录是正确的,一是说关于曾经遭遇过的事情的解喻是正确的。前者比较的变动少,后者则时时变动。”下列选项中关于这一论述说法正确的是()。

- A.“历史的真实”就是不确定的主观性
- B.历史学家总是带着主观因素阐述历史
- C.历史解释越正确越接近历史真实
- D.“历史的真实”还包含解释的真实性

25.历史教师引导学生在具体的时空条件下用当时人的眼光去思考历史。这种教学策略的主要目的是()。

- A.生成历史概念
- B.建构知识体系
- C.培养历史意识
- D.促进历史理解

二、简答题(本大题共3小题,每小题10分,共30分)

26.列举19世纪中期至20世纪初欧洲社会主义运动的主要事件。

27.教师观察是初中历史学习评价的方法之一。请指出教师在观察时应关注哪些方面?

28.简述历史年表在历史教学中的作用。

三、材料分析题(本大题共3小题,每小题16分,共48分)

29.阅读下列材料并回答问题。

材料:

革命是解放生产力,改革也是解放生产力,推翻帝国主义、封建主义、官僚资本主义的反动统治,使中国人民的生产力获得解放,这是革命,所以革命是解放生产力。社会主义基本制度确立以后,还要从根本上改变束缚生产力发展的经济体制,建立起充满生机和活力的社会主义经济体制,促进生产力的发展,这是改革,所以改革也是解放生产力。过去,只讲在社会主义条件下发展生产力,没有讲还要通过改革解放生产力,不完全。应该把解放生产力和发展生产力两个讲全了。

要坚持党的十一届三中全会以来的路线、方针、政策,关键是坚持“一个中心、两个基本点”。不坚持社会主义,不改革开放,不发展经济,不改善人民生活,只能是死路一条。基本路线要管一百年,动摇不得。只有坚持这条路线,人民才会相信你,拥护你,谁要改变三中全会

以来的路线、方针、政策，老百姓不答应，谁就会被打倒。所以，军队、国家政权，都要维护这条道路、这个制度、这些政策。……

在这短短的十几年内，我们国家发展得这么快，使人民高兴，世界瞩目，这就足以证明三中全会以来路线、方针、政策的正确性，谁想变也变不了。说过去说过来，就是一句话，坚持这个路线、方针、政策不变。……

改革开放胆子要大一些，敢于试验，不能像小脚女人一样。看准了的，就大胆地试，大胆地闯。深圳的重要经验就是敢闯。没有一点闯的精神，没有一点“冒”的精神，没有一股气呀、劲呀，就走不出一条好路，走不出一条新路，就干不出新的事业。……

计划多一点还是市场多一点，不是社会主义与资本主义的本质区别。计划经济不等于社会主义，资本主义也有计划；市场经济不等于资本主义，社会主义也有市场，计划和市场都是经济手段。社会主义的本质，是解放生产力，发展生产力，消灭剥削，消除两极分化，最终达到共同富裕。……

——摘编自1992年邓小平“南方谈话”内容

问题：

(1) 根据材料，概括“南方谈话”的主要内容。(6分)

(2) 结合所学知识，简要评价“南方谈话”。(10分)

30. 阅读下列材料并回答问题。

材料：

统编版义务教育历史教科书七年级上册在《远古的传说》一课中有如下栏目。

相关史事

彩陶最早流行于河南西部、陕西关中地区、山西南部接壤的区域。到距今5300年左右，彩陶文化影响范围达到黄河上游和下游、长江上中下游和辽河流域。这是中原地区的史前文化第一次向周围地区施加强烈的影响。中原地区彩陶向周围地区施加影响的年代和达到的区域，与黄帝和炎帝部落联盟兴盛的时间、空间一致。有不少学者认为，这是炎黄部落联盟实力强大、向周围地区施加文化影响的结果。

材料研读

华夏民族，非一族所成。太古以来，诸族错居，接触交通，各去小异而大同，渐化合以成一族之形，后世所谓诸夏是也。

——梁启超《饮冰室合集》

从材料中可以看出华夏民族的形成有什么特点？

问题思考

传说中炎帝和黄帝有很多发明创造,你认为这些发明创造反映出当时人们生活的哪些变化?有关先民的传说是否有科学根据?

问题:

(1)简要说明“相关史事”“材料研读”“问题思考”三个栏目在教科书中的地位及各自作用。(10分)

(2)回答材料中“材料研读”所提问题,并说明教师在本课应该如何教学生用好“材料研读”。(6分)

31. 缺

四、教学设计题(本大题共1小题,共22分)

32. 缺