

2022年下半年中小学教师资格考试

历史学科知识与教学能力试题(高级中学)(精选)

编者注：本试题包括单项选择题25道、简答题3道、材料分析题3道、教学设计题1道，以下为精选试题部分。因收录不全，有部分题目缺失，以“缺”来标示这类题目。

注意事项：

1. 考试时间为120分钟，满分为150分。
2. 请按规定在答题卡上填涂、作答，在试卷上作答无效，不予评分。

一、单项选择题(本大题共25小题，每小题2分，共50分)

1. 《汉书·地理志》记载：“秦遂并兼四海，以为周制微弱，终为诸侯所丧，故不立尺土之封，分天下为郡县。”材料中的“周制”是指()。
 - A. 王位世袭制
 - B. 分封制
 - C. 礼乐制
 - D. 郡县制
2. 里耶秦简中记载了迁陵县东成里一户人家的人口情况：“东成户人士五夫，妻大女子沙，子小女子泽若，子小女子伤。”其中，“大”与“小”为课役的身份标志。这一记载反映的历史现象是()。
 - A. 建立乡里制度维持治安
 - B. 登记户籍以便征发赋役
 - C. 实行户籍分类登记制度
 - D. 通过察举选任地方官吏
3. 北宋大臣范镇指出：“今中书主民，枢密院主兵，三司主财，各不相知。故财已匮而枢密院益兵不已，民已困而三司取财不已。”这一论述反映的历史状况是()。
 - A. 中央机构权力过于分散
 - B. 藩镇割据影响中央集权
 - C. 战事不断导致军费匮乏
 - D. 据“量出以制入”征税
4. 《元史·百官志七》记载：“行中书省……，掌国庶务，统郡县，镇边鄙，与都省互为表里。”材料中的“都省”指的是()。
 - A. 尚书省
 - B. 门下省
 - C. 中书省
 - D. 内史省
5. 明朝政府规定了地方举行“乡饮酒礼”的内容与程序，既宣讲“为臣竭忠，为子尽孝，长幼有序”等内容，也安排“为民读律”。此举目的是()。
 - A. 总结礼仪制度并编制法典
 - B. 完善地方官吏的考核标准
 - C. 鼓励宗族内部的扶贫济困
 - D. 将礼法结合进行基层教化

6.1871年,严复在《与嘉乐尔》的信中写道:“推同治五年(1866年),闽浙总督大人左(左宗棠)奏请设船政局,以为强国之一法。建立一所海军学堂,招收一批学生,聘请英国绅士James Carroll先生为教师,授航海原理。迄今五载,生等已修完了功课,即将航海,一试本领。”下列选项中,与这封信所述直接相关的是()。

- A.时务学堂
- B.轮船招商局
- C.福州船政局
- D.江南制造总局

7.1937年7月7日夜,日本驻扎在北京丰台的军队在卢沟桥附近举行军事演习,这表明日本早已在中国驻扎军队。这一情况是根据晚清时期一个不平等条约的规定出现的。该不平等条约是()。

- A.《南京条约》
- B.《北京条约》
- C.《马关条约》
- D.《辛丑条约》

8.下表是晚清期中国翻译西方各类书籍比例表。表格中的数据变化能够反映的历史现象是()。

时期	社会科学(政治学、经济学和法学等)	自然科学(物理学、化学和生物学等)	应用科学(医学、机器制造等)	其他
1860—1899年	22.16%	29.19%	40.54%	8.11%
1902—1904年	61.02%	21.09%	10.55%	7.34%

- A.洋务派学习西方先进的科学技术
- B.民众的社会生活变得日益西化
- C.知识分子更加关注社会制度变革
- D.新文化运动提倡民主和科学

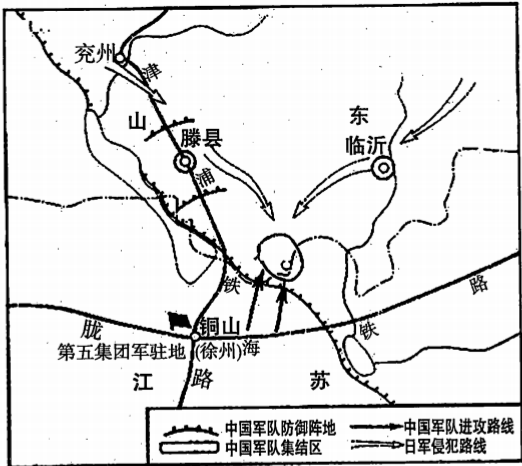
9.1924年创办的黄埔军校,设置的课程包括“苏联研究”“各国革命史”“帝国主义”“射击教范”“实地测图”“野外勤务”等。据此可知,黄埔军校的特点是()。

- A.强调政治教育与军事训练并重
- B.注重历史课程与地理课程整合
- C.注重与工农群众运动紧密联系
- D.将军队建设与政权建设相结合

10.在对中国革命新道路的艰苦探索中,毛泽东先后发表《中国的红色政权为什么能够存在》《井冈山的斗争》等文章,创造性地提出符合中国国情的“农村包围城市,武装夺取政权”的革命理论。下列选项中,与这一理论的形成直接相关的史事是()。

- A.北伐的胜利进军
- B.井冈山革命根据地的建立
- C.红军长征的结束
- D.中共七届二中全会的召开

11.下图所示的战役,是抗战以来中国军队在正面战场取得的最大的一场胜仗。下列选项中与这场胜仗相关的会战是()。



- A. 淞沪会战
- B. 徐州会战
- C. 武汉会战
- D. 长沙会战

12.1957年，中华人民共和国主要工业品产量与旧中国主要工业品产量的最高年份相比，钢产量相当于5倍多，原煤产量相当于2倍多，机床产量相当于4倍多。1957年与1949年相比，原油产量产量相当于12倍，发电量相当于4.5倍，新增工业固定资产214亿元。导致这些变化的主要原因是()。

- A. 土地改革解放了农村生产力
- B. 米棉之战和银元之战的胜利
- C. 第一个五年计划的顺利完成
- D. 家庭联产承包责任制的推广

13.下面的两个表格显示了我国1965年国民经济的发展状况，其出现的主要原因是()。

1965年比1957年增长的比列		1965年国民经济中农、轻、重的比列	
工农业总产值	59.9%	农业	37.3%
农业	9.9%	轻工业	32.3%
工业	98.1%	重工业	30.4%

- A. 全行业公私合营
- B. “一五”计划的实施
- C. 国民经济的调整
- D. 经济体制的改革

14.根据下表内容可以看出，我国在20世纪90年代实行的国家战略是()。

时间	文件名称
1992年	《国家中长期科学技术发展纲领》
1993年	《中华人民共和国科学技术进步法》
1993年	《中国教育改革和发展纲要》
1995年	《关于加速科学技术进步的决定》
1995年	《中华人民共和国教育法》
1997年	《国家重点基础研究发展计划》

- A. 科教兴国
- B. 可持续发展
- C. 西部大开发
- D. 对外开放“走出去”

15.2016年,浙江省湖州市安吉县蔓塘里村进行整村改造,居住环境大幅度改善,干净整洁,自来水管、电力线、电视光纤、通信电缆、排污管道埋入地下,实现“五线下地”。下列内容对此解释准确的有()。

- ①居民生活水平得到提高
- ②信息化影响深入农村
- ③美丽乡村建设成效突出
- ④城镇化建设迅速发展

A. ①②③

B. ①②④

C. ①③④

D. ②③④


16.亚历山大东征将古希腊文化逐渐传播到中东地区,形成了一种被称为“希腊化时代”的新文明。下列选项对这一新文明表述准确的是()。

- A. 东西方文明碰撞和交融的产物
- B. 对欧洲古典文化的复制和移植
- C. 伴随亚历山大帝国分裂而消亡
- D. 促进亚欧大陆东西两端的交流

17.在欧洲殖民者到达美洲前,印第安人已经创造了灿烂的文明。在这灿烂的文明中,知道零的概念,采用二十进制,使用象形文字,修筑金字塔庙宇的是()。

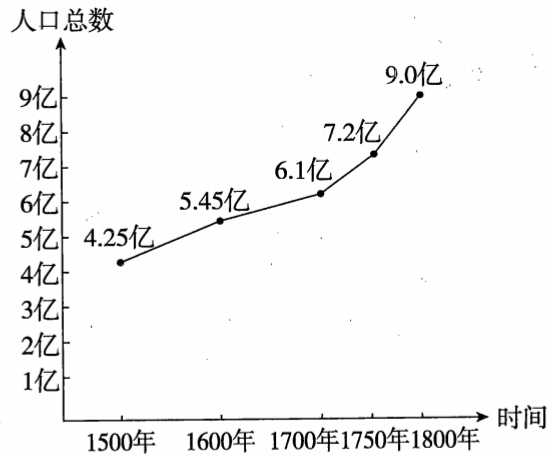
- A. 阿兹特克文明
- B. 印加文明
- C. 克里特文明
- D. 玛雅文明

18.下图是卢卡斯·克拉纳赫于1521年绘制的有关天主教会兜售赎罪券的漫画。学生解读这组漫画的关键词是()。



- A. 文艺复兴
- B. 宗教改革
- C. 科学革命
- D. 启蒙运动

19.下图反映了1500—1800年世界人口数量的变化情况。造成图中数据变化的原因是()。



- A. 世界范围内动植物大交流
B. 欧洲人在美洲的殖民扩张
C. 商业革命促进贸易中心转移
D. 价格革命推动资本积累

20. 1689年，英国议会通过了《叛乱法案》，规定国王必须经过议会同意才能征集和维持军队，而且这支军队只能保持一年。这一法案的作用是（ ）。

- A. 确立君主立宪制
B. 限制国王的权力
C. 导致国王统而不治
D. 保障议会的立法权

21. 斯塔夫里阿诺斯在《全球通史》中说：“第一次世界大战后，殖民地地区出现了革命的浪潮，虽然这些革命的根源可以追溯到1914年以前的那些年里，但正是战争本身直接促进了革命。”根据上述内容可知，这一革命浪潮带来的影响是（ ）。

- A. 直接推动了世界殖民体系的崩溃
B. 促进了殖民地民族民主意识的萌发
C. 改变了以欧洲为中心的格局
D. 削弱了帝国主义和殖民主义的力量

22. 1933年，美国总统罗斯福发表讲话，指出“3月3日下午，全国几乎没有一家银行开门营业，几乎全国各州的州长都发布通告暂时全部或局部地关闭了银行”。造成这一现象的原因是（ ）。

- A. 经济大危机
B. 国家实行干预政策
C. 推行福利国家制度
D. 广泛建立证券交易所

23. 1965年，联合国大会将安理会的非常任理事国从原来的6个增加到10个，经济及社会理事会的理事国从1973年起增加到54个。这些增加的名额，大多数给了亚、非、拉国家。这一调整反映的是（ ）。

- A. 社会主义阵营的力量不断壮大
B. 大国主宰联合国的局面被打破
C. 新兴民族国家的影响力逐渐上升
D. 两极格局瓦解导致世界政治多极化

24. 李大钊认为：“历史的真实，有二意义：一是说曾经遭遇过的事情的记录是正确的，一是说关于曾经遭遇过的事情的解喻是正确的。前者比较的变动少，后者则时时变动。”下列选项中关于这一论述说法正确的是（ ）。

- A. “历史的真实”就是不确定的主观性
B. 历史学家总是带着主观因素阐述历史

C.历史解释越正确越接近历史真实

D.“历史的真实”还包含解释的真实性

25.历史教师引导学生在具体的时空条件下用当时人的眼光去思考历史。这种教学策略的主要目的是()。

A.生成历史概念

B.建构知识体系

C.培养历史意识

D.促进历史理解

二、简答题(本大题共3小题,每小题10分,共30分)

26.简述《共产党宣言》的主要内容并说明马克思主义诞生的历史意义。

27.在历史教学过程中,教师应如何进行单元教学设计?

28.教师在解释和反馈学生的历史学习评价结果时应注意哪些问题?

三、材料分析题(本大题共3小题,每小题16分,共48分)

29.阅读下列材料并回答问题。

材料一:

下面是汉初吕后当政时颁布的有关惩罚盗铸钱币的法令内容,括号中的数字为竹简编号。

(202)盗铸钱及佐者,弃市。……

(203)智(知)人盗铸钱,为买铜、炭,及为行其新钱,若为通(指通钱)之,与同罪。

(205)捕盗铸钱及佐者死罪一人,予爵一级。……

(208)诸谋盗铸钱,颇有其器具未铸者,皆黥以为城旦舂(刑罚名)。智(知)为及买铸钱具者,与同罪。

——摘编自《张家山汉墓竹简:247号墓(释文修订本)》

材料二：

(汉武帝)令县官销半两钱，更铸三铢钱，文如其重。盗铸诸金钱罪皆死，而吏民之盗铸白金者不可胜数。

有司言三铢钱轻，易奸诈，乃更请诸郡国铸五铢钱，周郭其下，令不可磨取铍焉。

郡国多奸铸钱，钱多轻，而公卿请令京师铸钟官赤侧，一当五，赋官用非赤侧不得行。……

其后二岁，赤侧钱贱，民巧法用之，不便，又废。于是悉禁郡国无铸钱，专令上林三官铸。……

——摘编自《史记·平准书》

问题：

(1)分别指出材料一、材料二的史料类型。(4分)

(2)依据材料并结合所学知识，概括西汉对货币管理采取的措施。(6分)

(3)依据材料并结合所学知识，分析汉武帝时期货币政策的实施造成的历史影响。(6分)

30.阅读下列材料并回答问题。

材料：

某教师在讲授《三国至隋唐五代的文化》一课的科技内容时，制作了下面的表格。

历史时期	具体领域	科技成果
魏晋南北朝	数学	祖冲之精确地算出圆周率是在3.1415926~3.1415927之间
	农学	贾思勰著述的《齐民要术》，是中国现存最早、最完整的农书
	地理	裴秀绘制《禹贡地域图》，并提出绘制地图的方法
唐朝	印刷	唐朝已经有了雕版印刷的佛经、日历和书籍
	军事	唐中期的书籍记载了火药的配方。唐末，火药开始用于战争，火箭是最早的火药武器
	天文	天文学家僧一行，是世界上用科学方法实测地球子午线长度的创始人
	医学	医学家孙思邈完成医学名著《千金方》。唐高宗时编修的《唐本草》，是世界上最早由国家颁行的药典

问题：

(1) 根据材料，该教师制作的表格有哪些优点？（8分）

(2) 教师在处理有关中华优秀传统文化的教学内容时，应该注意哪些问题？
（8分）

31. 缺

四、教学设计题（本大题共1小题，共22分）

32. 缺